

经全国中小学教材审定委员会2008年审查通过
九年义务教育小学实验教科书
JIUNIANYIWUJIAOYUXIAOXUESHIYANJI AOKESHU

数 学

● 二年级 下册 ●



浙江教育出版社

责任编辑: 何黎峰
责任印务: 陆 江
责任校对: 陈云霞
装帧设计: 李 珺

九年义务教育小学实验教科书

数 学

二年级 下册

-
- 主 编: 张天孝
○ 出版发行: 浙江教育出版社
(杭州市天目山路40号 邮编310013)

-
- 印 刷: 杭州富春印务有限公司
○ 开 本: 890 × 1240 1/32
○ 印 张: 3.875
○ 字 数: 77 500
○ 版 次: 2009年1月第1版
○ 印 次: 2010年12月第3次
○ 标准书号: ISBN 978-7-5338-7759-0
○ 定 价: 4.48元

联系电话: 0571-85170300-80928

e-mail: zjyy@zjcb.com

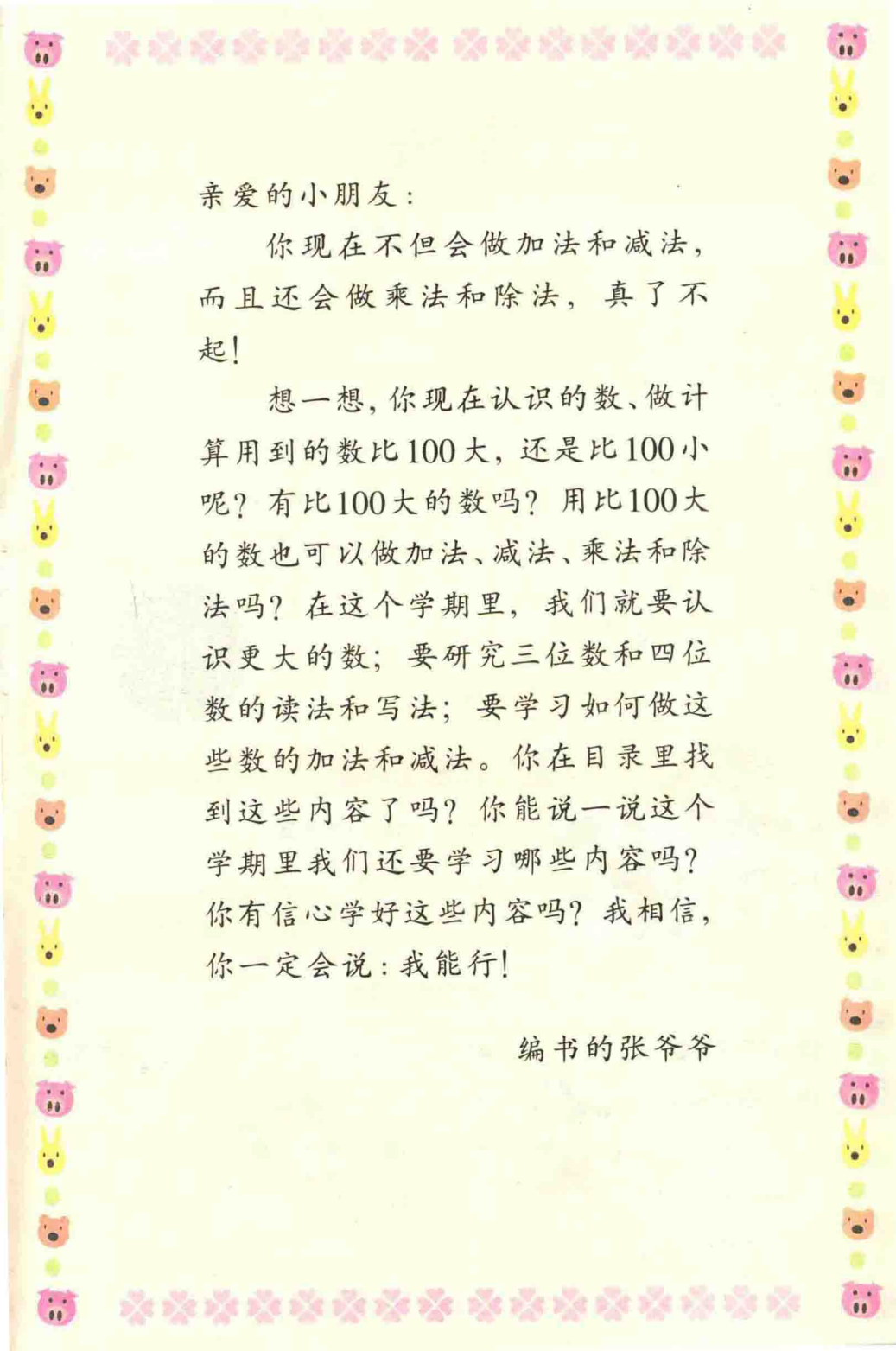
网址: www.zjeph.com

主 编：张天孝

副主编：朱乐平

编 写：张天孝 朱乐平 唐彩斌

任敏龙 姜荣富 陈 敏



亲爱的小朋友：

你现在不但会做加法和减法，而且还会做乘法和除法，真了不起！

想一想，你现在认识的数、做计算用到的数比100大，还是比100小呢？有比100大的数吗？用比100大的数也可以做加法、减法、乘法和除法吗？在这个学期里，我们就要认识更大的数；要研究三位数和四位数的读法和写法；要学习如何做这些数的加法和减法。你在目录里找到这些内容了吗？你能说一说这个学期里我们还要学习哪些内容吗？你有信心学好这些内容吗？我相信，你一定会说：我能行！

编书的张爷爷

目录

一 绿化家园

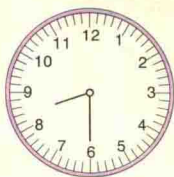
… 2

1. 时与分 … 4

2. 经过时间 … 6

3. 认识秒 … 8

练一练一 … 10



4. 乘除与加减混合运算 … 12

5. 有小括号的运算 … 14

练一练二 … 16

练一练三 … 18

6. 应用问题 … 20

练一练四 … 22

7. 辨认方向 … 24

8. 认识路线 … 26

整理与应用一 … 28

智慧乐园一 … 32



二 图形工作室

… 33

9. 找位置 … 33

10. 拼图 … 35



11. 观察物体 … 37

智慧乐园二 … 39



三 绿色饲养场

… 40

12. 认识三位数 … 42

13. 三位数的读写 … 44

练一练五 … 46

14. 数的大小比较 … 48

15. 不进位加与不退位减 … 50



练一练六 … 52

练一练七 … 54

16. 1000 与 10000 … 56

17. 四位数的读写 … 58

练一练八 … 60

18. 找规律计算 ...62

练一练 九 ...64


19. 认识克与千克 ...66

练一练 十 ...69

练一练 十一 ...71

整理与应用 二 ...73

智慧乐园 三 ...77



四 阅览室里的书 ...78

20. 三位数进位加法 ...80

练一练 十二 ...82

练一练 十三 ...84

练一练 十四 ...86

21. 三位数退位减法 ...88

练一练 十五 ...90

练一练 十六 ...92

练一练 十七 ...94

22. 加减法估算 ...96

练一练 十八 ...98

练一练 十九 ...100

23. 简便计算 ...102

练一练 二十 ...104

整理与应用 三 ...106

智慧乐园 四 ...108



五 总复习 ...109

[1] ...109

[2] ...111

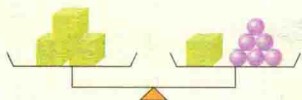


[3] ...113

[4] ...114

[5] ...116


[6] ...117



经全国中小学教材审定委员会2008年审查通过
九年义务教育小学实验教科书
JIUNIANYIWUJIAOYUXIAOXUESHIYANJIAOKESHU

数 学

• 二年级 下册 •



_____ 年级 _____ 班

姓名 _____

浙江教育出版社

一 绿化家园



看一看，问一问。



去湖滨社区植树，
什么时候出发，什
么时候返回？

从学校到
湖滨社区
怎么走？



树苗价目表 (单位: 元/棵)

桂花树	黄杨	雪松	樟树
7	5	8	()

大 街

医院

广场

电视台

湖

东湖

东湖亭

街

滨

湖滨社区

路


博物馆

街



菊花
每盆8元

郁金香
每盆9元



桂花树树苗每棵7元，
买3棵要多少元？再
买1棵8元的雪松树
苗，一共要多少元？



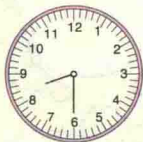
你还能提出哪些
数学问题？



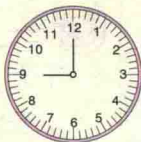
看图提出问题。




集合



出发



返回

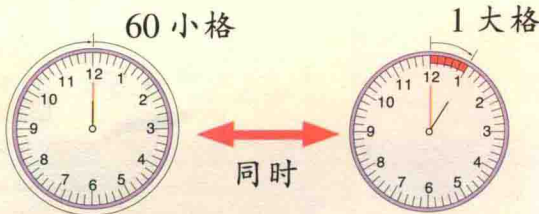


钟面上是几时几分？

钟面上共有几个小格？分针走1小格是几分？



1. 在钟面上拨一拨，分针走60小格，时针走几大格？你发现了什么？



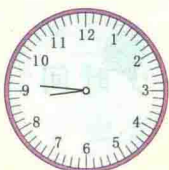
分针走1圈，即□小格，表示□分。
时针走1大格，表示□时。

$$1 \text{ 时} = \square \text{ 分}$$


2. 读出下列钟面上显示的时刻。



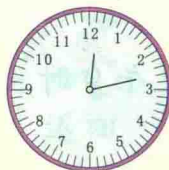
1. 写出下面每个钟面上的时刻。



□ : □



□ : □



□ : □

2. 写出电子表显示的时刻。



10 时 25 分



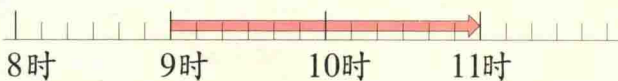

□ 时 □ 分



□ 时 □ 分



绿化小分队去植树。

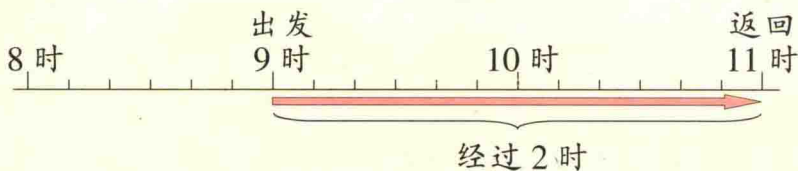


哪一段表示经过的时间？

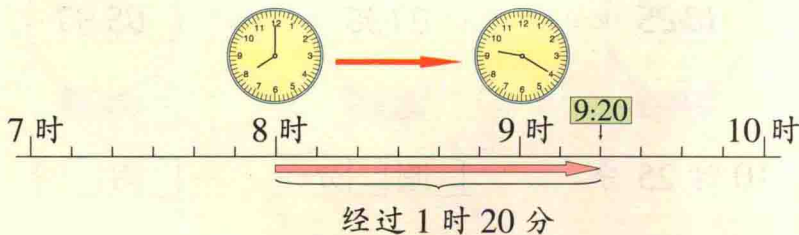
从9时到11时
经过多少时间？



1. 上午9时出发，11时返回，经过多少时间？




2. 8时开车出发，9时20分到达目的地，路上用了多少时间？






1.




从 时 分 到 时 分 经过了 时 分。

2. 同学们去远足。



出发



返回

从出发到返回经过了多少时间？

3. 整理房间。



开始

时 分



完成

时 分



用了 时。



跑60米的成绩。



佳佳	16秒
迪迪	12秒
强强	13秒



16秒是什么意思？

1分有多少秒？




走得最快的是秒针。
秒针走1小格的时间是1秒。
秒是常用的最小时间单位。



1. 数一数。分针走1小格的时间，秒针正好走()小格。

1分 = 60秒

2. 读出下面的时刻。





10:25:08

3. 做一做用了多少时间。

(1) 深呼吸 1 次。

(2) 脉搏跳动 10 下。



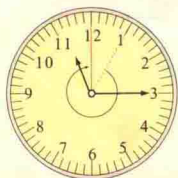
(3) 10 秒你能写多少个字？

(4) 你还想做哪些事？试一试。

活动	时间
跳绳 10 下	




1. 观察钟面上的秒针。



1 → 12 经过

□ 秒。



3 → 11 经过

□ 秒。

2. 四位小朋友进行 25 米游泳比赛，下面记录了他们到达终点所用的时间。谁得第一名？

1 号  31 秒	2 号  26 秒	3 号  28 秒	4 号  30 秒
--	--	--	--

练一练一

1. 连一连。



8:00

2:20

7:30

4:40

4:10


2. 按照每个钟面上所指的时刻讲故事。



时 分



时 分




时 分

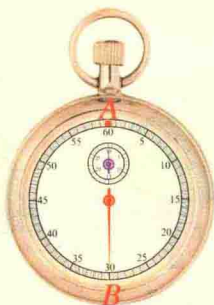


时 分

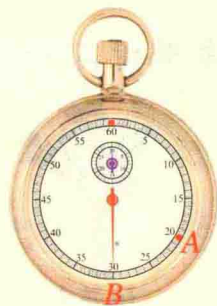
3. 在秒表中，秒针从A点走到B点，用了多少秒？填一填。



秒



秒



秒

4. 看钟面，填一填。



现在是 时 分，
再过 分是 3 时。



准确时间是
 时 分。

这个时钟比
准确时间快
10 分。



5. 佳佳爸爸每天上午 7 时 30 分上班，下午 5 时下班。她爸爸从上班到下班一共经过多少时间？

