

经全国中小学教材审定委员会2008年审查通过
九年义务教育小学实验教科书
JIUNIANYIWUJIAOYUXIAOXUESHIYANJI AOKESHU

数学

● 一年级 上册 ●



浙江教育出版社

责任编辑: 何黎峰
责任印务: 陆江
责任校对: 池清
封面设计: 李珺

九年义务教育小学实验教科书

数 学

一年级 上册

○ 主 编: 张天孝
○ 出版发行: 浙江教育出版社
(杭州市天目山路40号 邮编310013)

○ 印 刷: 浙江全能印务有限公司
○ 开 本: 890 × 1240 1/32
○ 印 张: 3.875
○ 字 数: 77 500
○ 版 次: 2008年7月第1版
○ 印 次: 2011年5月第4次
○ 印 数: 54 401-72 900
○ 标准书号: ISBN 978-7-5338-7523-7
○ 定 价: 4.48元

联系电话: 0571-85170300-80928

e-mail: zjjy@zjcb.com

网址: www.zjeph.com

主 编：张天孝

副主编：朱乐平

编 写：张天孝 朱乐平 唐彩斌

姜荣富 邵 虹 陈 敏

亲爱的小朋友：

你会 1, 2, 3, … 这样数数吗？

你能在一堆积木中，挑出哪一个是球吗？

当你在数数，在想哪一个是球时，你就在学数学。学数学是一件很有趣味的事噢。

在这个学期里，我们将走进数学这个大花园中，一起来游玩，一起来学习，你一定会感到生活中处处都有数学。看看这本书的目录，你会发现“小动物上学”中有数学，“我们去郊游”中也有数学。它们中到底有什么样的数学呢？只要在学习时积极动脑筋，就一定会清楚的。你相信自己能够学好数学吗？我相信你一定行！

编书的张爷爷

目 录

一 走进数学乐园

… 2

1. 立体图形 … 4



练一练二 … 21

8. 认识6与7 … 23

9. 认识8与9 … 25

2. 平面图形 … 7

10. 几与第几 … 27

练一练一 … 9

练一练三 … 29

3. 9以内的数 … 11

练一练四 … 31

4. 认识1~5 … 13

整理与应用一 … 34

5. 数的合与分 … 15

智慧乐园一 … 37

6. 认识0 … 17



7. 比多少 … 19

二 小动物上学

… 38

11. 比长短、比高低 … 40

16. 统计 … 52

12. 比轻重 … 42

17. 学看钟表 … 54

13. 大于、小于和等于 … 44


练一练六 … 56

练一练五 … 46

整理与应用二 … 58

14. 认识10 … 48

15. 10与几 … 50



三 我们去郊游

…60

18. 9 以内的加法 …62



19. 十几加几 …64

20. 9 以内的减法(一) …66

21. 9 以内的减法(二) …68

22. 十几减几 …70

练一练 七 …72

练一练 八 …74

23. 加法与减法 …76

24. 和是 10、10 减几 …78

25. 三个数的加减 …80

练一练 九 …82

练一练 十 …84

整理与应用 三 …86



四 森林运动会

…90

26. 20 以内进位加法(一) …92



练一练 十一 …94

练一练 十二 …96

27. 20 以内进位加法(二) …98

练一练 十三 …100

练一练 十四 …102

整理与应用 四 …104

智慧乐园 二 …108



五 总复习

…109

[1] …109


[2] …110

[3] …112

[4] …114

[5] …116

[6] …117



经全国中小学教材审定委员会2008年审查通过
九年义务教育小学实验教科书
JIUNTANYIWUJIAOYUXIAOXUESHIYANJIAGESHU

数 学

● 一年级 上册 ●



姓名 _____

_____ 年级 _____

_____ 班

浙江教育出版社

走进数学乐园



看一看，问一问。



你能说出哪些
积木的形状？

蝴蝶多还是
蜻蜓多？





有几只猴子？

跑步谁得了
第一名？



你还能提出哪些数学问题？



看一看，问一问。

搭的像什么？

你会玩积木吗？




用了哪些积木？

还能怎么玩？



1. 你认识这些积木吗？连一连。



球


圆柱

长方体

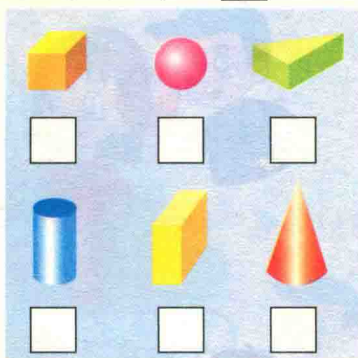
立方体

2. 玩一玩，说一说。

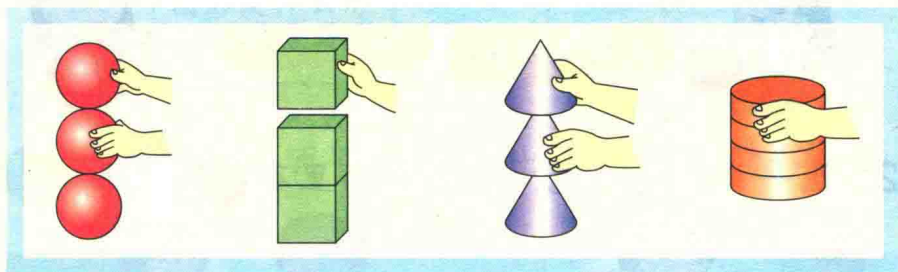
滚一滚



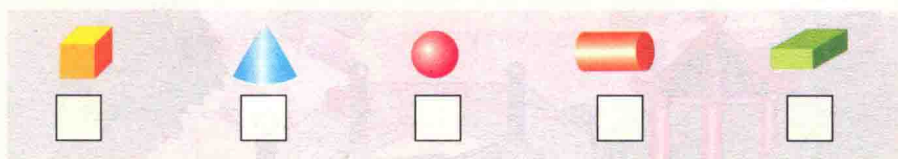
容易滚的画 。



叠一叠



容易叠的画 。



摸一摸

尖尖的。

方方的。

圆圆的。





1. 找一找，连一连。

我找球。




我找圆柱。








我找立方体。

我找长方体。



2. 找一找，说一说，下图中哪里有 、 和  ?





3. 说一说，你在哪里见到过 、、 和  ?

平面图形


2

看一看，问一问。




 印出来的图形是什么形状的？



 是由哪个积木印出来的？


1. 先描一描，再说一说描出来的图形的形状。



2. 说一说下面平面图形的形状。



长方形




圆



三角形



正方形





1. 连一连。



长方形

正方形

三角形

圆



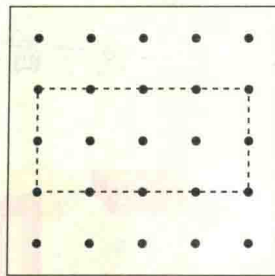

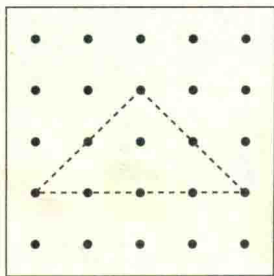
2. 你能用长短一样的小棒围成 \triangle 、 \square 和 \diamond 吗?

能围成 \bigcirc 吗?



3. 说一说。你在哪里见到过 \bigcirc 、 \square 、 \square 和 \triangle ?

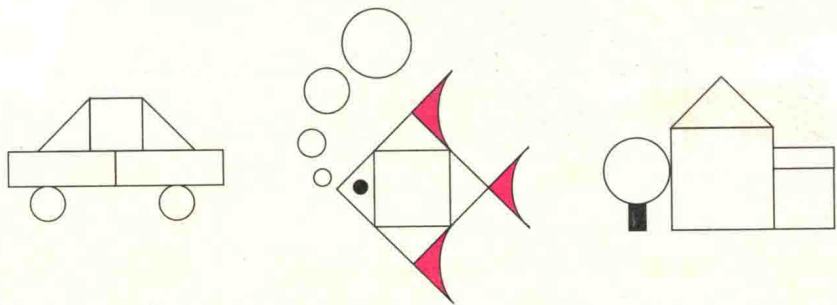
4* 涂色描出 \triangle 、 \square 和 \square 。




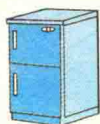
带*的题目是选做题。

练一练一

1. 把形状相同的图形涂上相同的颜色。

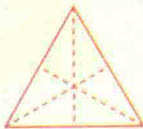


2. 把形状相近的物体用线连起来。

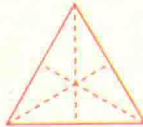


3. 在下面的右图中描出左图的形状。

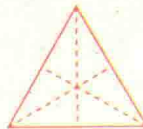
(1)




(2)



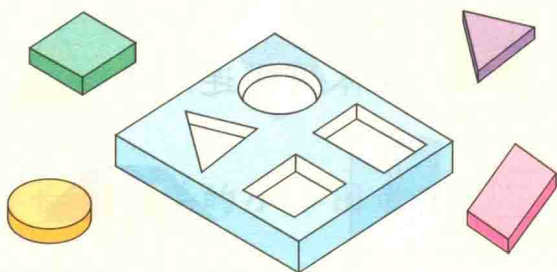
(3)



4. 请你帮小熊按照□、○、△的路线走回家。




5. 立体图形应分别放在盒子哪里？用线连一连。



6. 做一做，说一说。





用  折出正方形。

用  折出一样大的三角形。



选几块拼成长方形或正方形。



选几块拼成圆。



看一看，问一问。




有几只动物在跑步？



1. 排一排，说一说。

谁得第一名？



下面怎么排？

