

全日制十年制学校小学课本

数 学

SHUXUE

第 二 册



人民教育出版社

目 录


一	100 以内的加法和减法	1
1.	两位数加一位数、整十数	1
2.	两位数减一位数、整十数	9
3.	两位数加两位数	23
4.	两位数减两位数	30
5.	连加、连减和加减混合	37
6.	复习	45
二	市尺、市斤的认识	49
三	表内乘法和相应的除法(一)	55
1.	乘法的初步认识	55
2.	2—6 的乘法口诀	58
3.	除法的初步认识	75
4.	用 2—6 的乘法口诀求商	77
5.	复习	89
四	总复习	92

分
类
号
Q2
40

100 以内的加法和减法

1. 两位数加一位数、整十数

例 1



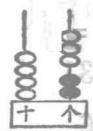
$$\begin{array}{r} 7 \\ \overline{21 + 6 = 27} \end{array}$$

加数 加数 和

例 2

老师 2 人、同学 43 人一起去看电影，老师和同学一共去了多少人？

$$\begin{array}{r} 2 + 43 = 45 \text{ (人)} \\ \underline{\quad 5} \end{array}$$



口答：一共去了 45 人。

练习一

1.



+ =

001759

2. $3+4$ $6+2$ $14+3$ $90+8$
 $13+4$ $46+2$ $35+2$ $87+1$

3. 在图上表示 23 加 5, 再写出算式。



4. 一个加数是 71, 另一个加数是 8, 和是多少?

5. $5+3$ $2+7$ $12+4$ $36+1$
 $5+43$ $2+87$ $4+12$ $1+36$

6. $\boxed{24} \xrightarrow{+3} \square$ $\boxed{2} \xrightarrow{+73} \square$
 $\boxed{58} \xrightarrow{+1} \square$ $\boxed{6} \xrightarrow{+40} \square$
 $\boxed{30} \xrightarrow{+9} \square$ $\boxed{7} \xrightarrow{+51} \square$

7. 看谁口算得又对又快。

$13+6$ $4+50$ $7+31$ $30+5$
 $3+15$ $84+4$ $93+6$ $10+80$

8. 卡片上的每个数加 3, 各得多少?

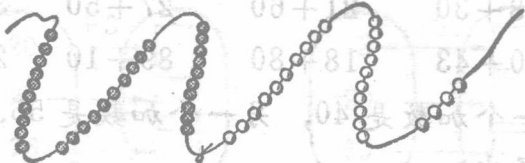
13	80	92	24	51	60	35	76
----	----	----	----	----	----	----	----

2 加卡片上的每个数, 各得多少?

9. 一年级原来有 42 个同学, 又来了 3 个, 现

$\square =$ 在有多少个同学? $\square = \square + \square$

例 3



$$\begin{array}{r} 30 + 24 = 54 \\ \hline 50 \end{array}$$

例 4 木工组第一天做了 35 张课桌，第二天做了 40 张课桌，两天共做了多少张？


35	+	40	=	75	(张)
		<u>70</u>			

$$\begin{array}{r} 35 + 40 = 75(\text{张}) \\ \hline 70 \end{array}$$

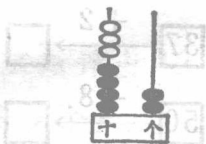
口答：两天共做了 75 张。

练习二

1.



$$(\quad) + (\quad) = (\quad)$$



$$(\quad) + (\quad) = (\quad)$$

- | | | | |
|------------|---------|---------|---------|
| 2. 30 + 10 | 20 + 70 | 60 + 23 | 40 + 54 |
| 30 + 12 | 20 + 77 | 50 + 35 | 30 + 19 |

3. $28+30$ $21+60$ $27+50$ $36+40$

$50+43$ $18+80$ $89+10$ $24+70$

4. 一个加数是 40, 另一个加数是 55, 和是多少?

5. $31+5$ $57+20$ $3+46$ $10+87$

$31+50$ $57+2$ $30+46$ $1+87$

6. 把得数填在空格里。

加数	36	48	70	4	60	90	23	9
加数	2	50	29	81	15	7	40	20
和								

7. 看谁口算得又对又快。

$5+6$ $69+20$ $82+6$ $8+7$

$7+41$ $10+85$ $30+50$ $26+10$

$50+6$ $40+38$ $5+60$ $13+4$

8. $\boxed{37} \xrightarrow{+2} \square$

$\boxed{7} \xrightarrow{+9} \square$

$\boxed{50} \xrightarrow{+8} \square$

$\boxed{3} \xrightarrow{+46} \square$

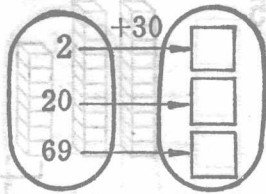
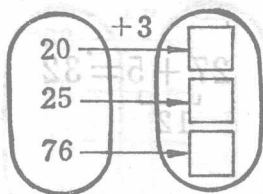
$\boxed{65} \xrightarrow{+20} \square$

$\boxed{9} \xrightarrow{+50} \square$

$\boxed{80} \xrightarrow{+19} \square$



$\boxed{4} \xrightarrow{+71} \square$

9



10. $5 + 33$ $20 + 50$ $80 - 10$ $34 + 60$
 $13 - 8$ $17 - 9$ $90 + 8$ $87 - 7$
 $40 + 16$ $72 + 3$ $11 - 9$ $9 + 70$

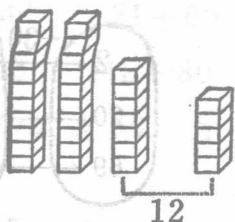
11. 算出李村生产队养猪、养羊的总数。

	52头
	30头
一共	头

	40只
	36只
一共	只

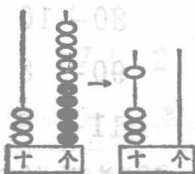
12. 二班图书箱有书 70 本，借出 40 本，还剩多少本？
13. 一班评出 10 个三好生，二班评出 12 个三好生，两个班一共评出多少个？
14. 积肥小组第一周积了 18 筐肥，第二周积了 20 筐肥，_____？（口头提出问题，再算出来。）

例 5



$$\begin{array}{r} 27 + 5 = 32 \\ \underline{\quad 5} \\ 12 \end{array}$$

例 6



$$\begin{array}{r} 5 + 35 = 40 \\ \underline{\quad 5} \\ 10 \end{array}$$

练习三

1.



$$(\text{共}) + (\quad) = (\quad)$$

2. $7 + 3$ $9 + 5$ $6 + 4$ $8 + 6$

$27 + 3$ $39 + 5$ $6 + 54$ $8 + 46$

3. $15 + 5$ $9 + 62$ $75 + 7$ $59 + 9$

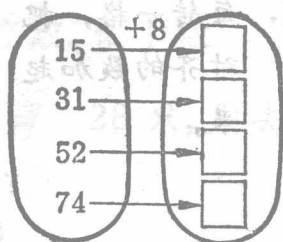
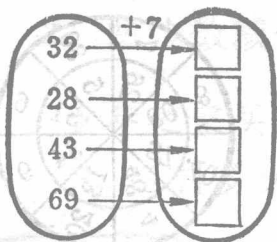
$23 + 8$ $2 + 48$ $4 + 89$ $6 + 35$

4. 一个加数是 67, 另一个加数是 9; 求和。

5. 在图上表示 25 加 6, 再写出算式。



6.



7.



8. 看谁口算得又对又快。

$57 + 8$ $6 + 54$ $2 + 95$ $7 + 62$

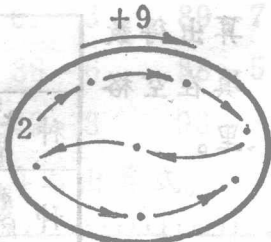
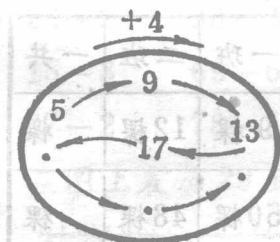
$43 + 6$ $74 + 9$ $8 + 77$ $87 + 3$

$65 + 5$ $9 + 31$ $52 + 2$ $8 + 24$

9. 8 连续加 8, 每次加得的和写在横线上。

$8 \quad 16 \quad \underline{\hspace{1cm}} \quad \underline{\hspace{1cm}} \quad \underline{\hspace{1cm}} \quad \underline{\hspace{1cm}} \quad \underline{\hspace{1cm}}$

10.



11. 每转一格, 把对齐的数加起来。



12. 听老师读题, 很快口算出得数。

$57 + 8$

$6 + 56$

$25 + 70$

$9 + 62$

$43 + 6$

$71 + 9$

$7 + 80$

$83 + 7$


$80 - 60$

$68 + 5$


$15 - 9$

$40 + 32$



13. 从小明家到小红家, 要走多少分钟?




14. 从小星家到春生家, 要走多少分钟?

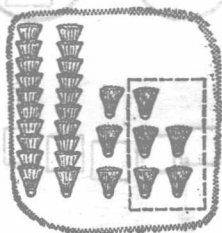


15. 算出得数
填在空
格
里。

	一班	二班	一共
种 	9棵	12棵	棵
种 	50棵	48棵	棵

2. 两位数减一位数、整十数

例1 少年之家买来  28只, 用去5只, 还剩多少只?



$$\begin{array}{r} 28 \\ - 5 \\ \hline 23 \end{array} \quad (只)$$

被减数 减数 差

口答: 还剩23只。

练习四

1.



() - () = () () - () = ()

2. $6 - 2$ $8 - 4$ $7 - 3$ $9 - 7$

$26 - 2$ $38 - 4$ $67 - 3$ $89 - 7$

3. $15 - 3$ $69 - 6$ $36 - 6$ $88 - 5$

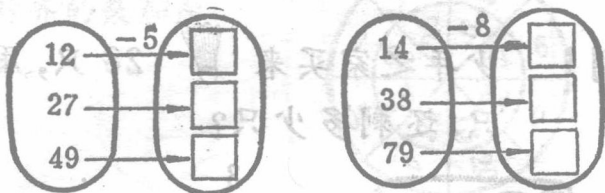
$27 - 2$ $78 - 5$ $49 - 8$ $93 - 3$

4. 在图上表示29减7, 再写出算式。



5. 被减数是 57, 减数是 5, 求差。

6.



7.





8. 看谁算得又对又快。

$18 - 5$ $49 - 3$ $39 - 8$ $90 - 40$

$18 + 5$ $65 + 4$ $52 + 9$ $88 - 6$

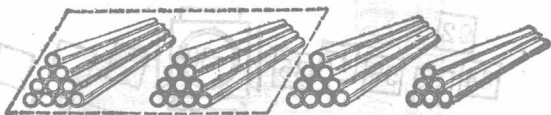
$18 + 50$ $47 - 7$ $28 + 30$ $60 - 60$

9. 算出得数
填在空格
里。

	原有	用去	还剩
	28 桶	4 桶	桶
	16 袋	5 袋	袋

10. 《雷锋叔叔的故事》有 37 页, 小军读了 6 页, 还有多少页没读?

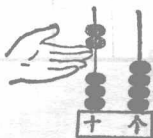
例 2



$$\begin{array}{r} 36 - 20 = 16 \\ \underline{\quad 10 \quad} \end{array}$$

练习五

1.



$$(\quad) - (\quad) = (\quad)$$

2. $30 - 10$ $50 - 20$ $70 - 40$ $80 - 80$

$38 - 10$ $57 - 20$ $76 - 40$ $89 - 80$

3. $58 - 20$ $81 - 70$ $47 - 30$ $34 - 30$


$29 - 10$ $78 - 60$ $65 - 40$ $92 - 50$

4. 被减数是 56, 减数是 50, 差是多少?

5. 把得数填在空格里。

被减数	48	64	75	37	86	58	99
减数	3	40	20	30	50	8	70
差							

6.



7. 把差填在空格里。


71 - \rightarrow

10	20	30	40	50	60	70

8. 看谁口算得又对又快。

- 78 - 40 80 - 60 34 - 4 49 - 6
 69 - 5 57 - 50 98 - 80 27 + 9
 86 + 3 36 + 20 30 + 53 65 - 60

9. 王老师领到 32 元，给学校买足球用去 30 元，还剩多少元？

10. 田师傅要做 84 个 ，已经做了 60 个，还要做多少个？

11. 第一生产队评模范社员 25 人，第二生产队评模范社员 30 人，两队一共评多少人？

12. 红星生产队要种豆 63 亩，已经种了 40 亩，
 _____？（口头提出问题，再算出来。）

例 3



$$30 - 6 = 24$$

$$\begin{array}{c} 20 \quad 10 \\ \swarrow \quad \searrow \\ 30 \end{array} \quad \begin{array}{c} \uparrow \\ 4 \end{array}$$

例 4

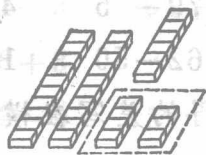


$$23 - 8 = 15$$

$$\begin{array}{c} 10 \quad 13 \\ \swarrow \quad \searrow \\ 23 \end{array} \quad \begin{array}{c} \uparrow \\ 5 \end{array}$$

练习六

1.



$$(\quad) - (\quad) = (\quad)$$

2. $10 - 4$ $10 - 7$ $12 - 5$ $16 - 9$

$20 - 4$ $50 - 7$ $32 - 5$ $46 - 9$

3. $24 - 6$ $40 - 9$ $54 - 7$ $31 - 2$

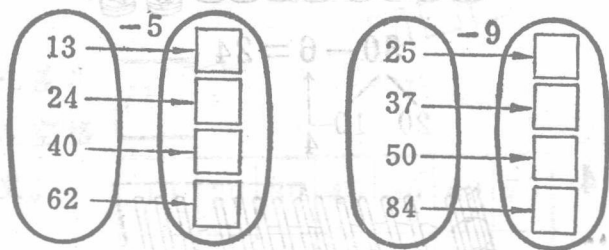
$73 - 8$ $81 - 4$ $60 - 3$ $94 - 5$

4. 被减数是 83, 减数是 6, 求差。

5. 在图上表示 31 减 8, 再写出算式。



6.



7.



8. 看谁口算得又对又快。

$70 - 6$

$51 - 2$

$90 - 4$

$26 - 9$

$36 - 8$

$80 - 3$

$79 - 5$

$45 - 7$

$38 - 6$

$46 + 8$

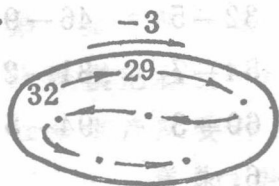
$62 - 50$

$14 + 70$

9. 70 连续减 7, 每次减得的差写在横线上。

$70 - 7 = 63$

10.



11. 每转一格，
把对齐的数
相减。



12. $20 + 11$ $80 - 20$ 31 45 60
 $53 - 8$ $25 + 20$ 20+11
 $75 - 30$ $40 - 9$
 $54 + 6$ $38 + 7$
 $39 - 8$ $64 - 4$

13. 听老师读题，很快口算出得数。

$41 - 2$	$65 + 7$	$70 - 4$	$47 - 6$
$26 + 3$	$38 - 4$	$16 + 80$	$56 - 30$
$53 - 9$	$82 - 50$	$20 + 39$	$95 - 8$

14. $6 + () = 26$ $40 + () = 51$
 $20 + () = 50$ $() + 30 = 39$
 $() + 10 = 40$ $() + 31 = 37$

15. 少先队员抬水浇树，一共要浇 45 棵，已经浇了 30 棵，还要浇多少棵？