



爱问熊·德国启蒙益智金奖丛书

# 数字数一数

[德] 维拉·罗曼 贝特·费斯 著  
[德] 贝特·费斯 绘 杨丽静 译

让孩子快乐的眼闪闪发光  
让父母惊讶的眼神洋溢赞叹



接力出版社  
Publishing House

全国百佳图书出版单位  
Top 100 Publishing Houses in China

适合2-6岁


爱问熊·德国启蒙益智金奖丛书

# 数一数

SHUZI SHU YI SHU

[德] 维拉·罗曼 贝特·费斯 著

[德] 贝特·费斯 绘 杨丽静 译



接力出版社  
Publishing House

桂图登字：20-2011-251

Title of the original edition: Fragenbär – Zahlenspiele und erstes Rechnen  
Author: Vera Lohmann, Bengt Fels  
Copyright © Spielend Lernen Verlag, Germany  
Chinese language edition arranged through  
HERCULES Business & Culture GmbH, Germany

#### 图书在版编目(CIP)数据

数字数一数 / (德) 罗曼, (德) 费斯著; 杨丽静译. — 南宁: 接力出版社,  
2013.6

(爱问熊·德国启蒙益智金奖丛书)

ISBN 978-7-5448-2983-0

I. ①数… II. ①罗… ②费… ③杨… III. ①算术课—学前教育—教学  
参考资料 IV. ①G613.4

中国版本图书馆CIP数据核字(2013)第102105号

---

责任编辑: 曲少云 美术编辑: 刘力文 责任校对: 张琦锋  
责任监印: 刘元 版权联络: 董秋香 媒介主理: 耿磊  
社长: 黄俭 总编辑: 白冰  
出版发行: 接力出版社 社址: 广西南宁市园湖南路9号 邮编: 530022  
电话: 010-65546561 (发行部) 传真: 010-65545210 (发行部)  
<http://www.jielibj.com> E-mail: [jieli@jielibook.com](mailto:jieli@jielibook.com)  
经销: 新华书店 印制: 北京地大天成印务有限公司  
开本: 889毫米×1194毫米 1/16 印张: 3.25 字数: 30千字  
版次: 2013年6月第1版 印次: 2013年6月第1次印刷  
印数: 00 001—12 000册 定价: 20.00元

---

版权所有 侵权必究

质量服务承诺: 如发现缺页、错页、倒装等印装质量问题, 可直接向本社调换。

服务电话: 010-65545440 0771-5863291




每个周末，爱问熊都要和爸爸妈妈一起去超市，买来全家下周需要的各种用品和食物。在选择东西时，爸爸妈妈会先看一看商品的价钱，然后再看一看生产日期，这些都是由数字0—9组成的。

这10个看起来简单的数字，在生活中的用处可大了：商品的价钱是数字，汽车的车牌号是数字，学校里学生的学号也是数字……学会这10个数字，就能用它们组成好多好多其他的数字，数字之间再相加或相减，还会有更多的数字，这就是数字的奥妙和乐趣。


小朋友，一起去学一学数字吧。



# 算术鼠数到1。




以下哪张图画显示的是1呢？请勾出正确的答案。



你可以在这里练一练怎么写1。




老鼠一家为自己的T恤染上了漂亮的彩色斑点。下面哪一件T恤上只有一个斑点呢？请把你最喜爱的颜色涂在符合条件的T恤上吧。




算术鼠数到2。



以下哪张图画显示的是2呢？请勾出正确的答案。



你可以在这里练一练怎么写2。



皮特和皮迪非常喜欢集邮，他们有很多漂亮的邮票，有些邮票一模一样。小朋友，请用相同的颜色标出相同的邮票吧。






算术鼠数到3。

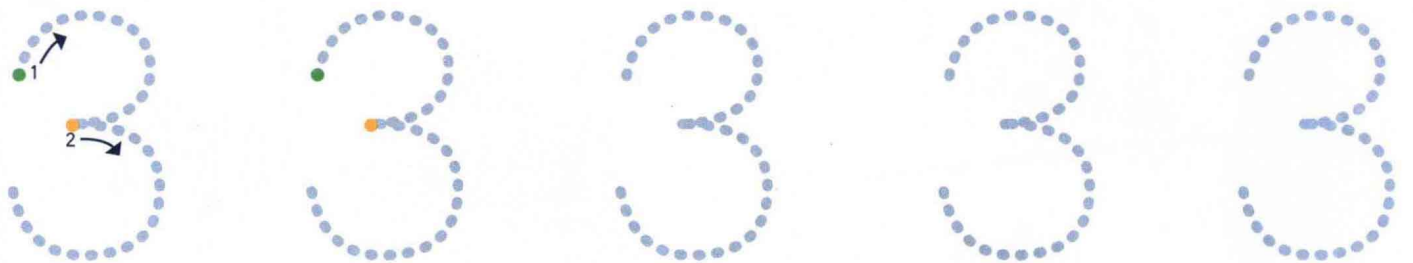
# 3






以下哪张图画显示的是3呢？请勾出正确的答案。



你可以在这里练一练怎么写3。



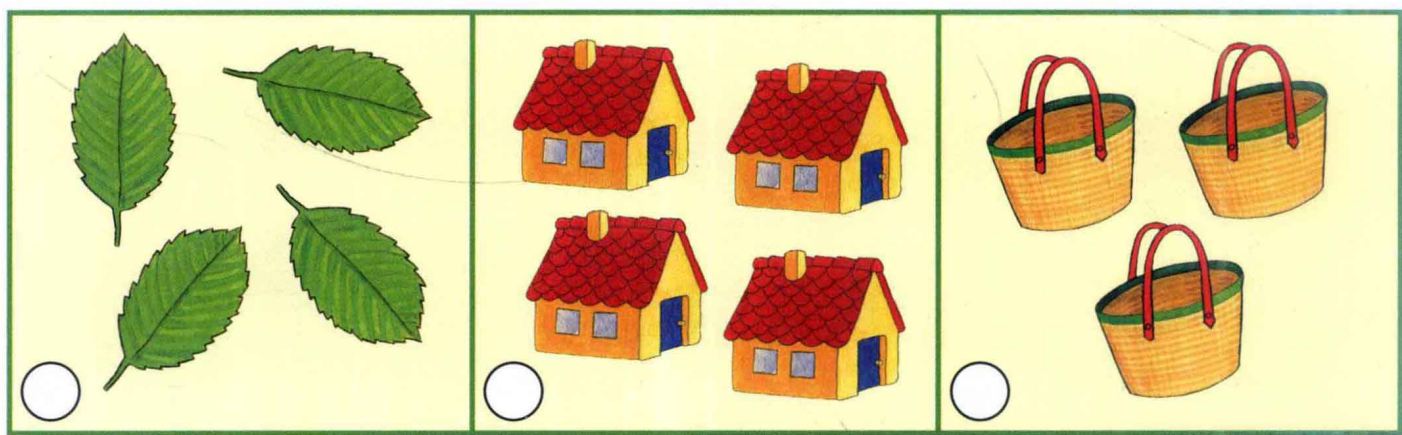
下面的图案大小不同。请你帮帮忙，由小到大依次用 I, II, III 标出顺序。




算术鼠数到4。











以下哪张图画显示的是4呢？请勾出正确的答案。



你可以在这里练一练怎么写4。




爱问熊知道，很多动物有4条腿，很多东西也有4条腿。聪明的小朋友，你肯定也知道！请在下面图画中勾出有4条腿的动物或东西。




算术鼠数到5。

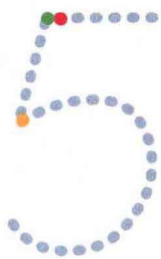
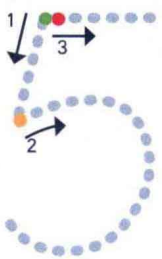
# 5





以下哪张图画显示的是5呢？请勾出正确的答案。



你可以在这里练一练怎么写5。



秋天到了，栗子树结果了。爱问熊喜欢去捡熟透的栗子，还喜欢用树叶来装饰栗子。小朋友，请你勾出用5片树叶装饰的栗子。



昨天晚上下了很多很多雪，爱问熊只能开飞机去送信。这真是一件挺不容易的事！如果每栋房子都收到一封信，请为每一组信找到对应的住宅区，并用线把它们连接起来。



提示：每页上的信只能与这一页上的房子对应连线。





爱问熊每天都去游泳，他很喜欢五颜六色的鱼。今天，爱问熊遇到了更多的鱼和他们的鱼宝宝。请你数一数，每一种鱼宝宝分别有多少条呢？请在左边的框中分别写出每一种鱼宝宝的数量。

