

基礎經濟學習自作簿



會考版下冊

會榮光 · 梁少卿

基礎經濟學習自作簿



會考版下冊

曾榮光·梁少卿

鳴謝

本書在編寫過程中，承蒙以下機構提供寶貴資料及圖片：

香港上海滙豐銀行

渣打銀行

香港恒生銀行

而書內所有香港中學會考試題承蒙香港考試局批准翻印，謹以致謝。

書內或有部分圖片、資料因來源難以確定，以致可能觸犯他人版權，我們在此謹致歉意，並敬請有關人士致函本出版社，俾能作出適當的修訂和安排。

基礎經濟學習作簿 會考版下冊

作者：曾榮光・梁少卿 出版及發行：星島教育出版社

地址：香港鰂魚涌華蘭路益新工業大廈十五樓

承印：樹人印刷植字製作有限公司

一九八九年初版 版權所有 不得翻印

ISBN 962-348-072-5

目 錄

第十二章	貨幣與銀行	1
第十三章	國民所得	15
第十四章	通貨膨脹與通貨緊縮	28
第十五章	公共財政	35
第十六章	國際貿易	47
第十七章	人口	60

12 貨幣與銀行

I 簡答題

1 貨幣的功能與種類

同學學習了[12.1——貨幣的功能與種類]後，便可試做第1題，看看是否明白這節的內容。

1.1 (a)右圖是哪一類型的經濟體系？


(b)在這類經濟體系中，交換活動進行時可能會遇到甚麼困難？試舉出其中三項。




1.2 為了解決上述交換活動的困難，_____便漸漸發展起來。以定義來說，這種交換媒介是指_____

1.3 在現代經濟中，貨幣有四種主要功能，試分別寫出右圖所顯示的貨幣功能。

貨幣的功能：_____




貨幣的功能：_____





貨幣的功能：_____



貨幣的功能：_____



1.4 試指出下面哪一種物品是較佳的貨幣材料，並解釋原因。




2 貨幣的發展

同學學習了[12.2——貨幣的發展]後，便可試做第2題，看看是否明白這節的內容。

下圖顯示了人類歷史中貨幣演進的一些形式。試寫出每一階段所使用的貨幣形式，並指出它們可能出現的兩項缺點。

貨幣形式：_____

缺點：_____



貨幣形式：_____

缺點：_____

標準：_____



3 商業銀行的定義及服務

同學學習了[12.3——商業銀行的定義及服務]後，便可試做第3題，看看是否明白這節的內容。

3.1 試寫出下列各項的定義：

(a)銀行：_____

(b)法定準備比率：_____

(c)銀行乘數：_____

(d)信用證服務：_____

(e)貼現：_____

3.2 (a)信用貨幣是指_____

(b)下表是某經濟內銀行體系的總資產及負債狀況：

資產	負債
現金 1 000元 放款 4 000元	存款 5 000元

(i)如果銀行沒有持有超額準備，則該銀行體系的法定準備比率為何？

(ii)設現在的法定準備比率改為10%，試計算銀行乘數的最大數值。

(iii)在上述b(ii)中，該銀行體系對公眾的貸款最多可增加多少？

(c)為甚麼銀行制度創造信用的實際乘數效果常低於理論上計算得到的數值？試列舉兩個原因。

4 香港的貨幣供給制度

同學學習了[12.5——香港的貨幣供給制度]後，便可試做第4題，看看是否明白這節的內容。

4.1 何謂「貨幣供給」？

4.2 (a)試寫出本港貨幣供給 M_1 、 M_2 及 M_3 的定義。

$M_1 =$ _____

$M_2 =$ _____

$M_3 =$ _____

(b)下面是有關貨幣供給的一些資料：

(單位：百萬元)

商業銀行發行的貨幣	1 000
政府發行的貨幣	50
持牌銀行持有的貨幣	100
存於持牌銀行的活期存款	1 200
存於持牌銀行的儲蓄存款	800
存於持牌銀行的定期存款	400
存於接受存款公司的存款	200
銀行發出的可轉讓存款證	150
接受存款公司發出的可轉讓存款證	30

根據本港貨幣供給的定義，計算：

(i) M_1 的數量 = _____

(ii) M_2 的數量 = _____

(iii) M_3 的數量 = _____


4.3 (a)外匯基金是一個怎樣的組織？

(b)略述香港法定紙幣發鈔的過程。

5 香港的銀行制度

同學學習了[12.6——香港的銀行制度]後，使可試做第5題，看看是否明白這節的內容。

5.1 右圖的銀行在香港具有哪些中央銀行的功能？



5.2 (a)填寫下表：

一九八一年開始實行的金融三級制		新的金融三級制	
金融機構名稱	最低資本額 (億元)	金融機構名稱	最低資本額 (億元)

(b)香港政府為甚麼要實施金融三級制？新的金融三級制與一九八一年實施的金融三級制有何主要分別？

6 香港的金融市場

同學學習了[12.7——香港的金融市場]後，便可試做第6題，看看是否明白這節的內容。

6.1 解釋名詞：

(a)貨幣市場：_____

(b)初級市場：_____

(c)外匯市場：_____

(d)期貨市場：_____

6.2 香港的貨幣市場包括_____和_____。

6.3 香港證券交易活動受_____和_____監管，而政府亦成立了_____，負責監察香港的證券買賣事宜。此外，政府也成立了_____，賠償給因證券交易所會員欺騙而蒙受損失的投資者。

II 選擇題

1. 港府成立了下列何項作為法定貨幣價值的保證？

- A 負債證明書
- B 聯繫匯率制度
- C 香港政府鑄幣局
- D 外匯基金



2. 下列何項是良好的貨幣材料必須具備的性質？
- (1) 價值穩定
 - (2) 供給數量充裕
 - (3) 難於分割
 - (4) 被公眾接受
 - (5) 難於冒充
- A 只有(1)、(2)及(3)
B 只有(1)、(4)及(5)
C 只有(2)、(3)及(4)
D 只有(3)、(4)及(5)
3. 物物交換制最可能出現甚麼困難？
- A 缺乏雙重需求的偶合
 - B 具價值而可供交換的物品數量有限
 - C 人們沒有交換的動機
 - D 沒有中央機構監管交換活動的進行
-
4. 如果銀行體系的法定準備比率為100%，期初存款為2 000元，則透過銀行體系創造信用貨幣的能力，總存款額為：
- A 0
 - B 1 000元
 - C 2 000元
 - D 20 000元
-
5. 上述第4題中的銀行如何能獲利？
- A 透過放款以賺取放款與存款利息的差額
 - B 降低存款利息
 - C 收取更高的放款利息
 - D 提供保險箱服務收取費用
-
6. 資本市場是指：
- A 買賣資本物品的地方
 - B 買賣證券的地方
 - C 買賣港元及外幣存款證的地方
 - D 銀行同業進行資金放貸的地方
-

7. 下列何項是本港現時唯一合法進行證券買賣的地方？

- A 香港證券交易所
- B 遠東證券交易所
- C 香港聯合交易所有限公司
- D 香港商品交易所

8. 認購新發行股票，期待股價上升的投機者稱為：

- A 牛
- B 熊
- C 馬
- D 鹿

9. 如果股票市場內「牛」多於「熊」，股價將會怎樣？

- A 下跌
- B 上升
- C 保持不變
- D 先升後跌

10. 香港持牌銀行的存款利率受下列何項的協議影響？

- A 香港銀行公會
- B 香港銀行總會
- C 銀行監理專員及其辦事處
- D 銀行條例

11. 下列哪類人士需要銀行提供信用證服務？

- A 存款人
- B 借貸者
- C 出入口商
- D 樓宇按揭人士

12. 下列何項在香港執行部分中央銀行的職責？

- (1) 香港上海滙豐銀行
- (2) 外滙基金
- (3) 稅務局
- (4) 中央政策研究組

- A 只有(1)及(2)
- B 只有(1)及(4)
- C 只有(2)及(3)
- D 只有(3)及(4)



III 問答題

(這四題為一九八八年香港中學會考經濟科試卷一第2題)

1. 下列哪表顯示(i)資本市場及(ii)貨幣市場的資料？

<u>銀行同業拆息率</u>	
一個月	0.25%
六個月	2.35%
⋮	⋮

表(-)

<u>香港股票</u>	<u>價格</u>
滙豐銀行	\$7.5
置地	\$7.6
⋮	⋮

表(二)

