

R

浙江省品牌教辅

浙江考题

近几年浙江省各地期末统考题、
中考模拟题、中考题分类精选汇编

全力突出高频考点

重点关注必考题型或常考题型

特别重视易错易失分题



孟建平

系列丛书

历史与社会
思想品德

九年级(全)

西泠印社出版社

浙江省品牌教辅

浙江考题

近几年浙江省各地期末统考题、
中考模拟题、中考题分类精选汇编

全力突出高频考点
重点关注必考题型或常考题型
特别重视易错易失分题



历史与社会
思想品德

九年级(全)

(人教版)

图书在版编目(CIP)数据

浙江考题. 九年级历史与社会·思想品德:全一册/《浙江考题》编委会编. —杭州:西泠印社出版社, 2011. 3
ISBN 978-7-5508-0019-9

I. ①浙… II. ①浙… III. ①历史课—初中—习题②
社会科学课—初中—习题 IV. ①G634

中国版本图书馆 CIP 数据核字(2011)第 029755 号

浙江考题历史与社会·思想品德九年级全

责任编辑 杨舟
责任出版 李兵
出版发行 西泠印社出版社
社址 杭州市西湖文化广场 32 号 5 楼 邮编 310014
经销 新华书店
印刷 杭州华艺印刷有限公司
排版 杭州星云光电图文制作工作室
开本 787×1092 1/16
印张 67.5
字数 2025 千字
版(印)次 2011 年 6 月第 1 版 2011 年 6 月第 1 次印刷
书号 ISBN 978-7-5508-0019-9
总定价 129.00 元

如有质量问题,请与印刷厂联系调换

编写问答

问：孟老师，你们为什么要编这套《浙江考题》？

答：由本人策划、主编的《各地期末试卷精选》自2006年出版以来，深受广大师生的喜爱。之所以受欢迎，是因为这样的考卷原创题较多、好题也很多。考前进行这种试卷的强化训练，针对性特别强，能极大地帮助提高期末考试成绩。因为广大师生迫切希望平时也能做这种针对性特别强的好题，为此我们特策划编写这套《浙江考题》。

问：孟老师，这套书为什么取名叫《浙江考题》？

答：首先，这套书上所有的题目都是县市（区）一级以上的期末统考题、中考模拟题及中考题，是真正的考题。每个学期的期末统考和中考模拟考是所有学生、老师及家长都非常关注的大事，统考成绩和模拟考试成绩也是保送重点高中的重要条件。另一方面，一份期末统考卷或模拟考卷，从某种程度上也反映了一个地方的教学水平。因此对于期末统考卷和模拟考卷，每个地方都会抽调当地多位名师与教研员一起精心编制，这样的考题，其质量自然是非常高的。其次，因为我们浙江的教学水平在全国是领先的，高考又是浙江省自己命题的，因此我们把选题范围确定在浙江省，故叫《浙江考题》。

问：孟老师，与一般的同步练习相比，这套《浙江考题》有什么特别的地方？

答：一般的同步练习都是按照教学大纲、教学计划，大多按课时编写，每课时的题量、难度大致相当。不管这个课时的内容在考试中重要不重要，都是要教给学生的，要让学生做的。这里体现的是“要教什么，然后做什么”。而《浙江考题》体现的是另一个角度，即“要考什么，然后做什么”。这几年，为了编写《各地期末试卷精选》，我们每年都要花大量的精力去收集省内各地的考卷，经过对这几年收集到的几百套试卷的分类、统计、研究、分析，我们能清晰地看到哪些是高频考点，哪些是必考题型或常考题型，哪些是易错易失分题。为此，《浙江考题》全力突出的是高频考点，重点关注的是必考题型或常考题型，特别重视的是易错易失分题，亦即“要考什么，就做什么”。

问：孟老师，你策划主编的教辅图书在省内已有较高的知名度，今后你们的目标是什么？


答：质量成就品牌，品牌代表质量。我们一直在努力，我们努力的目标是——我们的品牌成为浙江省知名度非常高的著名教辅品牌，不求销量最多，但求质量最好，对师生的帮助最大。

《孟建平系列丛书》总书目

- 各地期末试卷精选 (小学 初中)
- 教案·学案(教用、学用) (初中)
- 浙江考题 (小学 初中)
- 单元同步测试 (小学 初中)
- 同步 A+B (小学 初中)
- 错题本 (初中)
- 名校考卷 (初中)
- 中考一号(教用、学用) (初中)
- 各地中考模拟试卷精选 (初中)
- 小考一号 (小学)
- 小升初名校招生(分班)考试卷 (小学)
- 培优一号 (初中)
- 奥数培优教程与测试 (初中)
- 寒假乐园 (初中)
- 寒假作业本 (小学)
- 暑假乐园 (初中)
- 暑假作业本 (小学)
- 语文晨读 (初中)
- 作业辅导 (小学 初中)

目录

CONTENTS



第一部分 历史与社会

第一单元 充满机遇与挑战的时代	(1)
第二单元 建设可持续发展的社会	(21)
第三单元 走向新世纪的政治文明	(48)
第四单元 与经济成长、科技进步同行	(55)
第五单元 生活在国际社会	(63)
第六单元 面向未来,扬帆远航	(77)
历史与社会综合题	(84)

第二部分 思想品德

第一单元 承担责任 服务社会	(103)
第二单元 了解祖国 爱我中华	(110)
第三单元 融入社会 肩负使命	(143)
第四单元 满怀希望 迎接明天	(170)
思想品德综合题	(180)
参考答案	(191)

第一部分 历史与社会

第一单元 充满机遇与挑战的时代

一、选择题

1. (温州市期末统考)战后世界“两极”走向终结的标志性事件是 ()
A. 北约、华约的建立 B. “铁幕演说”“杜鲁门主义”
C. 东欧剧变、苏联解体 D. 纳米比亚的独立
2. (杭州·拱墅区期末统考)声明美国负有“领导世界”责任,运用自己强大的实力援助“自由”国家,遏止共产主义“扩张”的这一政策被称为 ()
A. 杜鲁门主义 B. 马歇尔主义
C. 北大西洋公约组织章程 D. 华沙条约组织章程

3. (温州市期末统考)二战后,世界格局出现了“两极”与“冷战”。下列图片能体现“冷战”特征的是 ()



①柏林墙



②古巴导弹危机



③美国入侵越南



④“9·11”事件

- A. ①②③ B. ①②④ C. ①③④ D. ②③④
4. (宁波·余姚市期末统考)标志着东西方对峙格局形成的是 ()
A. 北大西洋公约组织的建立 B. 华沙条约组织的建立
C. 北约和华约两大集团的出现 D. “杜鲁门主义”的提出
5. (宁波·余姚市期末统考)美国一位将军说:“这是一场在错误的时间,错误的地点与错误的对手打的一场错误的战争。”这场战争在中国被称为 ()
A. 朝鲜战争 B. 朝韩战争 C. 抗美援朝战争 D. 抗日战争

2009年是共和国60华诞,60年风雨历程,几多曲折,几多辉煌!据此回答第6题。

6. (台州·临海市期末统考)1949年至1952年,新中国在巩固新生政权方面,取得了哪些成就 ()
①取得了抗美援朝战争的胜利 ②大陆基本完成土地改革 ③超额完成第一个五年计划 ④恢复和发展了国民经济
A. ①②④ B. ②③④ C. ①②③ D. ①②③④

7. (温州市期末统考)完成了对农业、手工业和资本主义工商业的社会主义改造,表明了中国进入了 ()
A. 工业化社会 B. 社会主义社会 C. 农业合作化社会 D. 资本主义社会



8. (宁波·余姚市期末统考)社会主义初级阶段起止时间 ()
 A. 从新中国成立到基本实现现代化 B. 从新中国成立到三大改造完成
 C. 从三大改造完成到基本实现现代化 D. 从三大改造完成到全面建成小康社会
9. (湖州·长兴县期末统考)之所以把 20 世纪 50 年代称为激情燃烧的年代,主要是由于 ()
 A. 第一个五年计划的胜利完成
 B. 有社会主义国家苏联的支持
 C. 工业生产超过了历史最高水平
 D. 社会主义制度的建立,极大地鼓舞了中国人民创造新生活的热情
10. (湖州·长兴县期末统考)下列事件不属于生产资料私有制向生产资料公有制过渡的是 ()
 A. 社会主义工业化 B. 农业合作化
 C. 手工业合作化 D. 资本主义工商业改造
11. (台州·黄岩区期末统考)1952 年,我国粮食产量达到 1.6 亿吨,比 1949 年增长了 42%,比历史最高产量增长 11.3%。你认为取得如此成就的主要原因是 ()
 A. 社会主义改造完成后,生产迅速发展 B. 土地改革以后,农民生产积极性高涨
 C. 第一个五年计划超额完成 D. 抗美援朝战争胜利的鼓舞作用
12. (宁波·余姚市期末统考)下列建设成就属于“一五”期间取得的是 ()
 ①中国第一辆国产汽车诞生 ②川藏、青藏、新藏公路的修建 ③中国原子弹爆炸成功 ④中国最大钢铁公司——鞍钢恢复并扩建
 A. ①③④ B. ①②④ C. ②③④ D. ①②③④
13. (台州·临海市期末统考)这幅作于 1955 年的油画反映的历史事件是 ()
 A. 土地改革
 B. 农业社会主义改造
 C. 农村人民公社化运动
 D. 家庭联产承包责任制



14. (宁波·北仑区期末统考)与右图漫画所反映的历史事件相符的是 ()
 A. 大生产运动
 B. 对农业的社会主义改造
 C. 大跃进运动
 D. 人民公社化运动



图 1




图 2



图 3

15. (台州·临海市期末统考)“大跃进”运动给我们的教训是 ()
 ①对国情要有清醒的认识 ②搞建设要遵循经济发展的客观规律 ③既要发展经济又要保护自然 ④要相信“不怕做不到,只怕想不到”
 A. ①②④ B. ②③④ C. ①②③ D. ①③④
16. (台州·临海市期末统考)若对下列历史事件进行归类划分,最为合理的应是 ()
 ①“大跃进”运动 ②农村人民公社化运动 ③“文化大革命” ④我国第一颗原子弹爆炸成功
 A. ①②④ B. ②③④ C. ①②③ D. ①③④
17. (嘉兴市期末统考)下列有关“文化大革命”的说法,错误的是 ()
 A. “文化大革命”给国家和各族人民带来了严重灾难
 B. “文化大革命”不是任何意义上的革命和社会进步



- C. 如果没有“文化大革命”，中国必然会取得更大的成就
D. “文化大革命”的目的是为了传承中华优秀传统文化
18. (杭州·拱墅区期末统考)1952年，著名油画家董希文创作了巨型油画《开国大典》。该作品曾有两次改动，其中一次改动是去掉刘少奇的画像。这次改动可能发生在 ()
A. 大跃进期间 B. 一五计划期间 C. 文化大革命期间 D. 社会主义建设期间
19. (温州市期末统考)2008年，中央领导视察安徽省凤阳县小岗村，犹如三十年前那场变革一样这里又成为全国关注的焦点。30年前，这里曾率先实施了 ()
A. 减租减息制 B. 税收减免制 C. 对外开放政策 D. 家庭联产承包责任制
20. (金华·婺城区期末统考)十一届三中全会实现了新中国成立以来我们党历史上具有深远意义的伟大转折，开启了我国改革开放历史新时期。改革开放是新时期 ()
A. 最鲜明的特点 B. 最显著的成就 C. 最突出的标志 D. 最基本的要求
21. (台州·椒江区期末统考)中国经济体制的改革首先从哪里开始 ()
A. 农村 B. 城市 C. 沿海 D. 南方
22. (湖州·长兴县期末统考)今年是改革开放三十周年。某班将举行“改革开放三十周年”为主题的征文比赛，征文要求体现这三十年所取得的丰硕成果。下列史实不能列入征文范畴的是 ()
A. 超额完成一五计划，向社会主义工业化迈进 B. 加入世界贸易组织，使中国经济走向世界
C. 以多种形式吸收各国资本，扩大对外贸易 D. 业余文化生活日益丰富，展现出多样化风采
23. (嘉兴市期末统考)中共十一届三中全会召开，打开了中国尘封已久的大门，最早打开大门是在 ()
A. 农村 B. 城市 C. 沿海地区 D. 内地地区
24. (衢州市期末统考)1978年召开的中共十一届三中全会是中国历史的一个伟大转折。因为会议 ()
①决定把党和国家的工作重心转移到经济建设上来 ②邓小平成为中国共产党第二代领导集体的核心 ③中国从此进入改革开放新时期 ④决定设立经济特区
A. ①③④ B. ①②④ C. ①②③ D. ②③④
25. (台州·临海市期末统考)中国农村改革的发祥地是 ()
A. 深圳 B. 珠海 C. 厦门 D. 凤阳小岗
26. (绍兴·上虞市期末统考)十一届三中全会以后，我国农村“放活”开始于 ()
A. 设立经济特区 B. 实行家庭联产承包责任制
C. 兴办乡镇企业 D. 允许非公有制经济的发展
- 2008年11月海峡两会成功举行会谈与协商，使两岸同胞翘首以盼30年的直接通航、通邮变成现实。据此回答第27~28题。
27. (绍兴·诸暨市期末统考)两会商谈结硕果，两岸“三通”终实现。达成这一共识的前提和基础是 ()
A. 遵循和平共处五项原则 B. 坚持一个中国的原则
C. 贯彻“一国两制”的方针 D. 遵守合作共赢原则
28. (绍兴·诸暨市期末统考)有人评价说：“两岸‘三通’缩短了空间的距离，更缩短了心灵的距离。”这是因为“三通”的实现 ()
①达成了两岸同胞的根本目标 ②推动了两岸关系的和平发展 ③增进了两岸人民的相互了解 ④结束了两岸敌对状态，实现了统一
A. ①②③ B. ②③ C. ②③④ D. ①④



2009年12月20日是澳门回归10周年纪念日,在10年前中国和葡萄牙两国政府在澳门举行了政权交接仪式,江泽民同志在仪式上庄严宣告:中国政府对澳门行使主权。据此回答第29~30题。

29. (宁波·镇海区期末统考)我国政府之所以能够在10年前恢复对澳门行使主权的各种因素中,最为主要的是 ()

- A. 新中国已成为独立的主权国家 B. 国家统一是中华民族的共同愿望
C. 改革开放使中国综合国力大大增强 D. “一国两制”构想为有关各方接受

30. (宁波·镇海区期末统考)中国对澳门行使主权 ()

- ①是中国共产党对中华民族的历史性贡献 ②标志着在中国国土上彻底结束了外国列强的占领
③意味着中华民族统一大业的顺利完成 ④为国际社会以和平方式解决历史遗留问题提供新范例

- A. ①②③ B. ①②④ C. ②③④ D. ①③④

2001年,中国、俄罗斯、哈萨克斯坦等六国成立了上海合作组织。2008年,该组织认为阿富汗局势在恶化,毒品走私规模扩大,跨国组织犯罪猖獗,因此成员国必须加强合作。据此回答第31~32题。

31. (温州市期末统考)2001年,“上海合作组织”的成立对我国具有的意义是 ()

- ①它是我国综合国力提高的标志 ②我国与发达国家的关系进一步加强
③进一步加强了我国与周边国家的联系 ④我国在国际事务中发挥着越来越重要的作用

- A. ①②③ B. ①②④ C. ①③④ D. ②③④

32. (温州市期末统考)阿富汗局势仍不稳定,上海合作组织认为各成员国应加强合作,共同应对恐怖主义危险。这体现了该组织旨在关心世界的 ()

- A. 发展问题 B. 和平问题 C. 人口问题 D. 资源问题

33. (金华·婺城区期末统考)党的十一届三中全会以来,我国提出了_____的新战略,赋予独立自主的和平外交政策以新的内容。 ()

- A. 和平共处五项原则 B. 不与任何大国结盟 C. 不干涉别国内政 D. 独立自主,自力更生

34. (宁波·奉化、象山、宁海三县期末统考)下列四幅图中反映我国20世纪70年代外交成就的有 ()



①



②



③



④

- A. ①③④ B. ②③④ C. ③④ D. ①②③④

35. (杭州·拱墅区期末统考)“这是人类有史以来第一次有色人种的洲际会议”,周恩来总理在此次会议上提出了“求同存异”的方针,并引申和发展了和平共处五项原则。这次会议是 ()

- A. 雅尔塔会议 B. 亚非会议 C. 十一届三中全会 D. 第26届联全国大会

36. (杭州·拱墅区期末统考)总体和平,局部战乱,是当今世界的基本态势。而威胁世界和平的主要因素有 ()

- ①恐怖主义 ②霸权主义、强权政治有新的表现 ③南北贫富差距有所扩大 ④不合理的国际经济秩序没有改变

- A. ①② B. ②③ C. ①③ D. ①④

37. (台州·路桥区期末统考)对当今复杂多变的国际形势,判断正确的是 ()

- A. 恐怖袭击频繁发生,强权政治仍然存在,和平与发展已不再是世界主题



- B. 美苏争霸的两极格局已经被美国称霸的单极世界所取代
C. 和平与发展仍然是当今的主题,但是世界并不太平
D. 国际竞争的实质是军事实力的竞争

新年前夕,国家主席胡锦涛发表了题为《共创世界和平与发展的美好未来》的新年贺词。据此回答第 38~39 题。

38. (衢州市期末统考)新年贺词体现了当今世界的主题是 ()
A. 和平与发展 B. 战争与革命 C. 合作与交流 D. 发展与战争

39. (衢州市期末统考)解决和平与发展问题的根本途径是 ()
A. 发展中国家结成军事同盟 B. 建立公正合理的国际政治经济新秩序
C. 打击恐怖主义 D. 发达国家减免发展中国家的债务

40. (宁波·镇海区期末统考)2009年7月5日,新疆乌鲁木齐发生打砸抢烧严重暴力犯罪事件,7·5暴力事件是以热比亚为首的境外“疆独”组织、具有强烈暴力色彩和恐怖主义性质的“东突”组织指挥煽动的。7·5暴力事件表明 ()
A. 世界形势总体趋向动乱
B. 霸权主义、强权政治又有新的表现
C. 恐怖主义是威胁世界和平与发展的主要根源
D. 恐怖主义是影响世界和平与发展、中国稳定与发展的公害

41. (台州·黄岩区期末统考)2008年10月,第七届亚欧首脑会议召开,围绕“对话合作、互利共赢”的主题,各成员国领导人就应对国际金融危机等挑战和深化亚欧合作交换了意见。会议的举行 ()
①符合世界人民的共同利益 ②有利于世界的和平与发展 ③拉大了南北差距 ④有利于推动南北对话
A. ①③④ B. ②③④ C. ①②③ D. ①②④

经济发展是全人类共同关注的问题。据此回答 42 题。

42. (金华·东阳市期末统考)据统计,世界上有 20%~35%的人处在饥饿之中,目前还有 8 亿多人面临着饥饿。这些人口主要分布在发展中国家。造成这一问题的主要根源是 ()
A. 国际局势总体和平,局部战乱 B. 自然灾害比较严重
C. 不公正不合理的国际经济旧秩序 D. 霸权主义强权政治

20世纪60年代始,在独立后的广大亚非拉国家强烈要求下,联合国提出4个10年国际发展战略,通过了《联合国千年宣言》,旨在敦促发达国家通过减债、给予发展中国家援助等方式,以减少贫困,帮助发展中国家获得真正意义上的独立。据此回答第 43~44 题。

43. (绍兴·绍兴县期末统考)联合国通过《联合国千年宣言》,敦促发达国家帮助发展中国家减少贫困,使发展中国家获得真正意义上的独立。这从一个侧面说明了发展中国家贫困的历史根源在于 ()
A. 长期受西方殖民者的掠夺统治 B. 本地发展经济的自然条件较恶劣
C. 独立后长期的不稳定和战乱 D. 国民素质低,不懂经济发展规律

44. (绍兴·绍兴县期末统考)据世界银行统计,2005年全球贫困人口由2000年10亿增加到了15亿。其中,因中国2007年提前实现贫困人口减半目标,整个亚太地区可望至2015年使贫困人口减半;撒哈拉以南的非洲和西亚因政局动荡贫困人口还在增加;独联体和东南欧上世纪90年代的动荡使贫困人口上升,目前仍处于缓慢恢复阶段。这再次提醒我们 ()
A. 世界和平是当今时代主题之一 B. 南北关系的形势总体趋向紧张
C. 经济贫困引发的内乱,使世界动荡 D. 政局动荡和战乱是造成贫困的原因



地处“非洲之角”的索马里从1991年起内战不休,一直缺乏一个能有效控制国内局势及自己海域的中央政府。在无政府状态、战争和饥荒的影响下,索马里的海盗活动越来越猖狂。遵照联合国安理会有关会议精神,我国海军舰艇编队于2008年12月26日前往这一海域执行护航任务,履行国际人道主义义务。据此回答第45~47题。

45. (金华·金东区期末统考题)以上材料反映了 ()

- ①世界格局走向多极化 ②争取世界和平是当今时代主题之一 ③发展问题仍然是当今世界的另一个主题 ④霸权主义和强权政治有新的表现

A. ①② B. ③④ C. ②③ D. ①④

46. (金华·金东区期末统考题)要解决上述材料反映的问题,要从以下几个方面努力 ()

- ①建立公正合理的国际政治经济新秩序 ②维护国家内部的稳定 ③坚持以经济建设为中心 ④发达国家的无偿援助

A. ①②③ B. ②③④ C. ①③④ D. ①②④

47. (金华·金东区期末统考题)材料中我国的做法体现了中国是 ()

- A. 促进世界发展的中坚力量 B. 推动世界经济的重要力量
C. 维护世界和平与稳定的中坚力量 D. 世界上最强大的发展中国家

48. (绍兴·诸暨市期末统考题)右图《逐一修理》的寓意在于 ()

- A. 实现大中东计划推进了两伊的民主进程
B. 美国在帮助中东地区摆脱经济落后状况
C. 竞争与合作是当今时代的主题
D. 霸权主义、强权政治是危及世界和平与发展的主要根源



49. (金华·婺城区期末统考题)西方媒体对北京奥运的蓄意抹黑,充分暴露了_____行径。 ()

- A. 霸权主义、强权政治 B. 维护世界和平 C. 促进全球经济发展 D. 恐怖主义

50. (宁波·奉化、象山、宁海三县期末统考题)2008年12月8日下午,朝核问题六方会谈团长会在北京钓鱼台国宾馆开幕。这是时隔5个月后六方会谈团长会再次在北京举行,得到了国际社会的普遍关注。国际社会之所以赞同和平解决朝鲜核问题,是因为 ()

- ①世界人民普遍爱好和平 ②这符合联合国的宗旨和原则 ③有利于维护东北亚地区的和平与稳定 ④朝鲜没有和平利用核能的权利

A. ①②③ B. ②③④ C. ①②④ D. ①③④

冷战结束以后,美国为了争夺21世纪的战略制高点,在军事战略上进行了一系列调整。推出反导条约,引发了科索沃、阿富汗、伊拉克战争。据此回答第51~52题。

51. (宁波·余姚市期末统考题)上述材料表明 ()

- A. 全球发展最突出问题是南北发展不平衡 B. 霸权主义是当今世界和平的障碍
C. 美国实力强大,希望维护世界和平 D. 恐怖主义对世界和平构成严重威胁

52. (宁波·余姚市期末统考题)面对上述形势,作为发展中国家的中国应 ()

- A. 以经济建设为中心,增强综合国力 B. 优先发展教育事业
C. 以军事为中心,提高国防实力 D. 联合起来建立军事集团,与美国抗衡

53. (绍兴·诸暨市期末统考题)当今世界南北差距日益扩大。下列事件有利于缓解南北问题的是 ()

- A. 巴以重启和谈,和平曙光初现 B. 印度总理访华,龙象同舞共繁荣
C. 朝核会谈继续,半岛局势缓和 D. 欧盟非洲携手,建平等伙伴关系

54. (温州市期末统考)漫画《大国和小国的对话》意蕴了威胁当今世界和平的主要因素之一是 ()

- A. 国际恐怖主义
- B. 核导弹扩散
- C. 霸权主义和强权政治
- D. 区域武力冲突



55. (杭州·拱墅区期末统考)右图是中非合作论坛会徽,左边为字母“C”,红色,代表中国,整个标志是字母“a”代表非洲,绿色,寓意中非团结与合作,绿色象征和平与发展,红色表示活力与繁荣。其中的寓意是 ()

- ①中非合作是推进南北对话的一次全新尝试
- ②和平发展合作应成为当今世界的时代潮流
- ③中非合作有助于推动广大发展中国家团结
- ④中非合作有利于建立国际政治经济新秩序



- A. ①②③
- B. ①②④
- C. ①③④
- D. ②③④

对中国而言,2008年是不寻常的一年。天灾与人祸同发,挑战和机遇并存。据此回答第56~57题。

56. (绍兴·诸暨市期末统考)2008年上半年“不管是天灾还是人祸,都未能阻挡中国和平崛起的脚步”。从根本上讲,这得益于我国 ()

- A. 坚持以经济建设为中心,大力发展生产力
- B. 奉行独立自主的和平外交政策,维护世界和平与发展
- C. 贯彻落实科教兴国战略和人才强国战略
- D. 积极实施保护资源和环境的基本国策

57. (绍兴·诸暨市期末统考)为抢抓机遇、应对挑战,以实现中华民族的和平崛起,党和国家在文化上必须 ()

- A. 坚持依法治国方略
- B. 提高国际政治地位
- C. 加强与第三世界的合作
- D. 大力发展先进文化

58. (绍兴·上虞市期末统考)在全面建设小康社会进程中,我国外贸成就显著。据海关统计,2008年我国外贸总值达25616.3亿美元,比上年增长17.8%。该成就的作用主要在于 ()

- A. 使经济更加发展
- B. 使民主更加健全
- C. 使文化更加繁荣
- D. 使科教更加进步

59. (宁波·奉化、象山、宁海三县中考模拟题)下列有关发展问题的叙述正确的有 ()

- ①发展问题的历史根源是帝国主义对亚非拉广大地区的殖民侵略
- ②建立公正、合理的国际经济新秩序是解决这一问题的根本途径
- ③冷战结束后,随着世界经济的发展,南北差距已经开始缩小,但仍存在严重问题
- ④发展问题突出表现为发达国家和发展中国家之间的关系问题

- A. ①②④
- B. ②③④
- C. ①③④
- D. ①②③④

60. (湖州·吴兴区中考模拟题)导致我国的社会性质发生根本性改变的历史事件是 ()

- ①鸦片战争
 - ②辛亥革命
 - ③中华人民共和国成立
 - ④社会主义三大改造的基本完成
- A. ①②④
 - B. ①③④
 - C. ①④
 - D. ②③

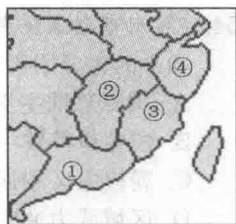
2010年2月19日是我国改革开放总设计师逝世13周年纪念日,今年又逢深圳经济特区成立30周年。“寒天雨天也难阻我们给邓公献花拜年!”深圳民众自发敬献鲜花缅怀伟人。据此回答第61~62题。

61. (湖州·南浔区中考模拟题)材料中的伟人是 ()

- A. 毛泽东
- B. 邓小平
- C. 邓世昌
- D. 林则徐



62. (湖州·南浔区中考模拟题)我国最早设立经济特区的是图中哪两个省份 ()



- A. ①②
B. ②④
C. ①③
D. ③④

63. (宁波·镇海区中考模拟题)中国是一个负责任的国家。中国参与全球央行联手降息,出台4万亿经济刺激计划,更是令全世界“狂喜”。右图漫画中的“这里安全,准备着陆”说明了 ()



- ①中国一心一意致力于维护世界和平与稳定 ②改革开放30年来,中国的经济实力显著增强 ③因闭关自守,世界经济危机对中国的影响不大 ④中国的经济增长为世界经济的发展作出了贡献

- A. ①② B. ②③ C. ①④ D. ②④

64. (绍兴·上虞市中考模拟题)德国媒体在发表的一篇文章中说:“没有中国的参与,任何世界重大议题均无法获得解决,从气候保护、伊朗核问题、朝核问题到联合国的改革等等。”这说明 ()

- A. 中国是最大的发展中国家
B. 中国在世界上的影响力最大
C. 中国反对霸权主义、强权政治
D. 中国是维护世界和平、促进共同发展的重要力量

65. (绍兴市中考题)面对危机,国际社会加强合作,共渡时艰,亚欧首脑峰会、20国集团峰会等全球高峰论坛相继召开,这一事实表明 ()

- A. 发展是当今世界的主题
B. 国家间资源争夺日益激烈
C. 发达国家经济发展缓慢
D. 维护和平的力量日益壮大

66. (金华市中考题)2009年5月25日,朝鲜民主主义人民共和国无视国际社会普遍反对,再次进行核试验,中国政府对此表示坚决反对。这表明 ()

- ①我国奉行独立自主和平外交政策 ②国际经济旧秩序没得到根本改变 ③要不断推进南北对话和南南合作 ④争取世界和平是当今世界的主题

- A. ①② B. ③④ C. ①④ D. ②③

67. (杭州市中考题)下列选项能够说明“中国综合国力日益增强,国际地位不断提高”事实的是 ()

- ①我国的铁路营运里程和已建成的高速公路公里数量居世界第二 ②我国科技人力资源已达世界第一 ③我国出生人口男女性别比约为120:100 ④建国初期,只有18个国家同我国建交,现在已达171个

- A. ①②③ B. ①③④ C. ②③④ D. ①②④

68. (绍兴市中考题)实现好、维护好广大农民群众的根本利益历来是中国共产党农村工作的重中之重。下列标志着我党已实现彻底消灭封建土地制度,真正解决农民问题这一目标的事件是 ()

- A. 土地改革的完成
B. 对农业的社会主义改造
C. 人民公社化运动的开展
D. 家庭联产承包责任制的推行

69. (湖州市中考题)下列事件反映发展主题的是 ()

- ①美国政府向阿富汗增兵 ②G20峰会商讨应对金融危机
③中国—东盟自由贸易区全面启动 ④胡锦涛与奥巴马共同出席核安全峰会

- A. ②③ B. ②④ C. ①③ D. ①④



70. (丽水市中考题)2009年,全球饥饿人口数量达到10.2亿,平均每6秒钟就有一个孩子饿死,非洲大陆仍然是饥饿的重灾区。这说明 ()
- A. 南北贫富差距是世界不安宁的根源
B. 发展中国家都分布在非洲
C. 发展仍然是当今世界的一大主题
D. 和平问题依然没有得到解决

二、材料分析题

1. (杭州·拱墅区期末统考题)2008年,电视连续剧《金婚》在全国热播。《金婚》以编年体的形式描写了一对普通的中国夫妇(佟志和文丽)50年的婚姻生活,同时也折射出新中国半个世纪以来的社会变迁。请从下列镜头回放中,挖掘出相关历史信息,回答问题。

镜头一:《金婚》第4集中,1958年,庄嫂生下儿子取名“跃进”。

- (1) 庄嫂给儿子取名“跃进”,你可以从中推断出当时全国正在掀起的运动是_____。这一运动的主要失误之处在于_____。

镜头二:《金婚》第12集中,男主角佟志和造反派小将们有这样一段对话,佟志说:最高指示,要文斗不要武斗!造反派小将们将佟志和文丽背靠背推向墙边站着,一边喊着:最高指示,打倒一切反动派!

- (2) 请问:这一场景发生在哪一历史时期?

镜头三:《金婚》第36集中,1991年,工厂要和港商合资,动员职工买股票。

- (3) 镜头三反映了改革开放后的社会现象,改革开放开始的标志是什么?从衣、食、住、行、用等方面的变化中任选一例,说明改革开放对人们生活方式产生的影响。

- (4) 以上三组镜头反映了新中国的历史变迁,我们可以从中得到哪些有益启示?

2. (宁波·奉化、象山、宁海三县期末统考题)阅读材料,回答问题。

材料一:从农村到城市,从经济领域到其他各个领域,全面改革的进程势不可挡地展开了;从沿海到沿江沿边,从东部到中西部,对外开放的大门毅然决然地打开了。这场历史上从未有过的大改革大开放,极大地调动了亿万人民的积极性,使我国成功实现了从高度集中的计划经济体制到充满活力的社会主义市场经济体制、从封闭半封闭到全方位开放的伟大历史转折。今天,一个面向现代化、面向世界、面向未来的社会主义中国巍然屹立在世界东方。

材料二:中国共产党一贯重视农村、农业和农民问题,新中国成立以来我国农村进行了多次成功的变革,2008年10月举行的中共十七届三中全会再次将改革目标定位于农村。全会审议通过的《中共中央关于推进农村改革发展若干重大问题的决定》,是当前和今后一个时期全党全国推进农村改革发展的指导性文件。

- (1) 请引用材料一说明我国的开放是全面的开放。



(2) 材料二中加点字指哪些历史事件? 被称为“中国农民的伟大创造”的是指什么?

(3) 中国农村的改革对建设中国特色的社会主义产生了什么影响?

(4) 请你谈谈怎样才能更好促进农村的生产发展, 让农民共享改革开放成果?

3. (宁波·余姚市期末统考题) 中国共产党第十七届中央委员会第三次全体会议通过了《中共中央关于推进农村改革发展若干重大问题的决定》, 认为在改革开放三十周年之际, 要系统回顾总结我国农村改革发展的光辉历程和宝贵经验, 进一步统一全党全社会认识, 加快推进社会主义新农村建设, 大力推动城乡统筹发展……

(1) 改革开放始于哪一历史事件?


(2) 列举新中国成立后的几次农村改革。

(3) 材料中大力推动城乡统筹发展体现了《思政》、《社会》中哪些观点?

(4) 请你为家乡的新农村建设出谋划策?

4. (湖州·长兴县期末统考题) 材料解析题。

材料一: 下面是与周恩来总理有关的两幅老照片



照片 1

照片 2

材料二: 同中国建交国家数字统计

年代	1970 年底	1980 年底	1992 年底	2002 年
建交国家数目(个)	55	124	151	165

请回答:

(1) 照片 1 反映的是哪次国际会议? 周恩来总理提出的什么方针打破了会议僵局, 推动了会议圆满成功?



(2) 照片 2 称为“历史性的握手”，这指的是什么历史事件？请再举出发生在上个世纪 70 年代中国外交史上的两件大事。

(3) 材料二反映了怎样的历史史实？你能分析其中的原因吗？


5. (绍兴·诸暨市期末统考题) 2009 年，是我们的祖国母亲诞生 60 周年。某校九年级学生进行以“奋进中的中国”为主题开展的研究性学习活动。请你一起参与。

【成就篇】◆第一组同学收集到下面图表。请你运用所学知识简要说明图表反映的成就及取得这些成就的根本原因。

新中国成立以来主要国民经济与社会发展指标

指标	单位	1952 年	2008 年	增长倍数
国内生产总值	亿元	679.0	300670.0	441.8
外汇储备	亿美元	1.39	19460.3	13999.2
城乡居民销售存款年底余额	亿元	8.6	217885.4	25334.5

【挫折篇】◆第二组同学展示了两幅漫画。请说明漫画一、二分别反映了共和国历程中的什么历史事件。这对我们今后的现代化建设有何启示？



漫画一 《一路高歌》



漫画二 《乘风破浪》

【感悟篇】◆回顾共和国的风雨历程，无论面对什么挑战，承受多大压力，经历多少挫折，新中国都会奋然前行。反思这 60 年历史，险象环生、峰回路转，令人扼腕，也令人振奋。请你结合所学知识简析共和国 60 年风雨历程而依然前行的依靠。

6. (宁波·镇海区期末统考题) 中国身影，中国声音。

金秋时节，国庆前后，国家主要领导人频频出访。中国理念，传遍世界；中国作用，世界期待。下面为国家主席胡锦涛、国务院总理温家宝出访期间的一些片段。

片段一：胡主席 2009 年 9 月 22 日，参加联合国气候变化峰会，发表了题为《携手应对气候变