



严格依据最新江苏省公务员考试大纲编写

# 江苏省

## 公务员录用考试专用教材

### 历年真题及华图名师详解合订本

(行政职业能力测验+申论+公共基础知识)

编著：伍景玉

审定：华图公务员考试研究中心

2013  
最新版

#### 本书特色

- ① 精编历年真题 资深名师权威解读
- ② 挖掘题目深意 把握命题思路动向
- ③ 重点难点精讲 归纳总结快解技巧
- ④ 夯实考生能力 备考效率稳固提升



360元网络课程+39元网课代金券



严格依据最新江苏省公务员考试大纲编写

# 江苏省

## 公务员录用考试专用教材

### 历年真题及华图名师详解合订本

(行政职业能力测验+申论+公共基础知识)

编著：伍景玉

审定：华图公务员考试研究中心

2013  
最新版

图书在版编目(CIP)数据

历年真题及华图名师详解合订本:行政职业能力测验+申论+公共基础知识/伍景玉编著. —北京:北京理工大学出版社,2012.5

江苏省公务员录用考试专用教材

ISBN 978-7-5640-5901-9

I. ①历… II. ①伍… III. ①公务员—招聘—考试—中国—题解 IV. ①D630.3-44

中国版本图书馆 CIP 数据核字(2012)第 087564 号

---

出版发行/北京理工大学出版社

社 址/北京市海淀区中关村南大街 5 号

邮 编/100081

电 话/(010)68914775(办公室) 68944990(批销中心) 68911084(读者服务部)

网 址/http://www.bitpress.com.cn

经 销/全国各地新华书店

印 刷/三河市冠宏印刷装订厂

开 本/850 毫米×1168 毫米 1/16

印 张/24.75

字 数/792 千字

版 次/2012 年 5 月第 1 版 2012 年 5 月第 1 次印刷

定 价/50.00 元

责任校对/周瑞红

责任印制/边心超

# 前 言

## Foreword

国家公务员录用考试制度的建立,在国家公务人员的录用和考核中发挥了巨大的作用,为国家各级党政机关和行政部门发掘及培养了大批急需人才,也给致力于成为公务员的人们提供了在平等的基础上凭真才实学竞争上岗的机会,为造就一支高素质、专业化的国家公务员队伍奠定了坚实的基础。

本套教材遵循最新的命题趋势与规律,解析中提供命题规律分析,有针对性地对重点、难点的真题进行应试训练,是一套能够切实提高广大报考者应试能力的经典教材。本套教材秉持“一切以真题为本”原则,具有极高的参考价值。

### 一、本套教材的特点

**极强的代表性和时效性。**《行政职业能力测验》部分:精选 2010—2012 年江苏 A、B、C 类真题 9 套。《申论》部分:精选 2010—2012 年江苏真题 3 套。《公共基础知识》部分:精选 2010—2012 年江苏 A、B、C 类真题 9 套。紧跟最新命题思路,针对江苏公考量身打造。

**权威专家综合论证,答案精准。**本教材各套试题题目均经过众多权威专家论证分析,答案精准。考生可以以答案为标准,在做完题目之后进行逆向思维,揣摩专家命题思路,这对考生提高答题的速度和准确性非常有帮助。

**剖析精辟,具有高度的指导性。**目前,公务员图书市场许多所谓的“专家”编写的不负责任的答案、解析,错误百出,漏洞重重,不仅曲解了考题思路和答题策略,而且给考生以错误的引导,导致考生考场失利。本教材中收集的每套试题后均配有详尽的解析,以及诸位老师的论证精华,对相关的考题通过全新的视角重新讲解,技巧灵活实用,指点快速解题思路,拓展考生思维。

### 二、本教材主要作用

**体验命题思路,掌握答题技巧。**考生可以以本真题为教材,配合悉心总结,熟悉和把握各种题型命题思路及答题技巧。其中 2012 年江苏真题代表最新的命题方向,对江苏的备考非常有参考价值。真题因其绝对的权威性和高质量而成为公考考生复习的第一选择。反复推敲方能达到融会贯通的效果,因此要借助历年真题体验命题思路,掌握答题技巧。

**总结命题规律,进行预测分析。**有些考生认为命题者会极尽所能刁难考生,所以考试命题无章可循;有些考生认为规律没有必要自己总结,培训老师或者网

友会提供解答思路。而事实上,除了别人的帮助,更需要自己总结。

由于时间所限,可能会有未尽之处,敬请各位读者、报考者以及从事同类课题研究的专家学者提出宝贵意见,本教材的编者衷心期盼广大考生能够借助本教材的帮助,在将来的考试中取得满意的成绩!

图书内容答疑:htbjb2008@163.com

代金券及网络授课:400-678-1009

编者

2012 月 5 月

# 目 录

# Contents

## 上篇 行政职业能力测验

2012 年江苏省公务员录用考试《行政职业能力测验》A 类试卷(精选) .....	1
参考答案及华图名师详解 .....	14
2011 年江苏省公务员录用考试《行政职业能力测验》A 类试卷 .....	20
参考答案及华图名师详解 .....	39
2010 年江苏省公务员录用考试《行政职业能力测验》A 类试卷 .....	49
参考答案及华图名师详解 .....	67
2012 年江苏省公务员录用考试《行政职业能力测验》B 类试卷 .....	77
参考答案及华图名师详解 .....	97
2011 年江苏省公务员录用考试《行政职业能力测验》B 类试卷 .....	105
参考答案及华图名师详解 .....	127
2010 年江苏省公务员录用考试《行政职业能力测验》B 类试卷 .....	137
参考答案及华图名师详解 .....	159
2012 年江苏省公务员录用考试《行政职业能力测验》C 类试卷(精选) .....	166
参考答案及华图名师详解 .....	179
2011 年江苏省公务员录用考试《行政职业能力测验》C 类试卷 .....	185
参考答案及华图名师详解 .....	201
2010 年江苏省公务员录用考试《行政职业能力测验》C 类试卷 .....	210
参考答案及华图名师详解 .....	227

## 中篇 申论

2012 年江苏省公务员录用考试《申论》试卷 .....	234
参考答案 .....	239



2011 年江苏等十七地联考《申论》试卷 .....	241
参考答案 .....	246
2010 年江苏等十一地联考《申论》试卷 .....	248
参考答案 .....	253

### 下篇 公共基础知识

2012 年江苏省公务员录用考试《公共基础知识》A 类试卷(精选) .....	255
参考答案及华图名师详解 .....	264
2011 年江苏省公务员录用考试《公共基础知识》A 类试卷 .....	269
参考答案及华图名师详解 .....	279
2010 年江苏省公务员录用考试《公共基础知识》A 类试卷 .....	286
参考答案及华图名师详解 .....	296
2012 年江苏省公务员录用考试《公共基础知识》B 类试卷(精选) .....	304
参考答案及华图名师详解 .....	311
2011 年江苏省公务员录用考试《公共基础知识》B 类试卷 .....	316
参考答案及华图名师详解 .....	324
2010 年江苏省公务员录用考试《公共基础知识》B 类试卷 .....	330
参考答案及华图名师详解 .....	338
2012 年江苏省公务员录用考试《公共基础知识》C 类试卷(精选) .....	346
参考答案及华图名师详解 .....	353
2011 年江苏省公务员录用考试《公共基础知识》C 类试卷 .....	358
参考答案及华图名师详解 .....	367
2010 年江苏省公务员录用考试《公共基础知识》C 类试卷 .....	373
参考答案及华图名师详解 .....	380

# 上篇 行政职业能力测验

## 2012 年江苏省公务员录用考试 《行政职业能力测验》A 类试卷(精选)

### 第一部分 言语理解与表达

(共 15 题 参考时限 15 分钟)

一、片段阅读。每道题包含一段文字,要求你从四个选项选出最恰当的一项,你的选择必须与题干要求相符合。

请开始答题:

1. 制度的监管离不开法律的依据。微博营销也一样,只有触犯了法律的行为才会启动相关的法律程序。遗憾的是,目前对于微博营销中出现的不正当竞争或者恶意诋毁的现象,并没有相对应的明确的法律条文。  
作者通过这段文字意在强调( )。  
A. 规范微博营销必须加强制度方面的监管  
B. 应坚决制止微博营销中的不正当竞争  
C. 应尽快出台规范微博营销的法律法规  
D. 微博营销一旦违法就应启动法律程序
2. 文字批评中有句老话叫“知人论世”,也就是说,论其世,才能知其人其文。接受美学有条重要原则叫“视野融合”,只有读者的期待视野和文学文本相融合时,才谈得上理解接受,而读者的期待视野因时而异,故讨论作品的接受就不能不牵涉到时事变迁。  
作者通过这段文字重在说明( )。  
A. 讨论作品的接受必须考虑读者所处的时代因素  
B. 不同时期的读者对于作品的理解是不一样的  
C. 不同人生阶段对于同一作品的理解也可能不同  
D. 讨论作品必须考虑作者所处时代及作者的经历
3. 世界气象组织的最新报告显示,在全球最热年份榜单上,前 13 位都出现在过去 15 年中。因全球变暖,北极冰盖仍在退缩。多数气象学家认为,全球变暖在时间上是不均匀的,有相对的冷期,也有相对的暖期,但气温总体呈上升趋势。因此,一些阶段性低温不能说明气候变暖的停滞或减缓;部分地区的寒冷,也不能阻止其他地区的变暖。世界气象组织预测,随着全球变暖,今后极端天气现象的发



生将更为频繁,强度更大,影响地区更广。

从这段文字不能得出的结论是( )。

- A. 最近十多年全球气温整体升高  
B. 今后几年全球气温将越来越高  
C. 近年世界各地气温并不均为上升  
D. 极端寒冷天气与全球变暖相关
4. 很多技术类创业的公司并没有想明白这个问题。他们往往有了一个自以为很牛的技术,就认为有了市场,其实市场需求和技术领先不领先是两回事。很多看上去很炫的技术,几乎是没有市场的。你去看看科研院所和大学里的实验室的那些科研成果,大多数看上去都很炫,但能够转化为市场需求的产品,不到10%!这也是很多技术类创业的公司容易失败的原因。

上述文段中的“这个问题”是指( )。

- A. 他们自以为很牛的技术实际并不如此  
B. 技术和市场之间并不能简单地画等号  
C. 能够转化为产品的技术所占比例很低  
D. 技术类创业公司根基在市场而非技术
5. 许多调查显示,实现了地域转移的农村劳动力,绝大部分集中在20—35岁之间,其中男性的比重大大高于女性,且受教育程度高于农村劳动力的平均水平。从迁移者的家庭经济状况来看,通常在其家乡处于中上等水平。和这些已经走出去的人相比,还留在农村的劳动力素质相对偏低,要实现向外转移,需要克服文化、年龄以及经济条件等方面的限制。

这段文字主要说明的问题是( )。

- A. 农民具备什么条件才较易外出务工  
B. 已外出务工的农村劳动力的主要特点  
C. 农村劳动力留守家乡的具体缘由  
D. 农村劳动力实现经济状况改善的途径

二、文章阅读。阅读下面文章,回答问题。本题共有五个小题,每道小题提供四个选项,要求你从中选出最恰当的一项,你的选择必须与题干要求相符合。

### 请开始答题:

我们将“衰老”\_\_\_\_\_为:机体的各个“组件”,特别是DNA,某些特殊蛋白质,碳水化合物和脂质(脂肪)所受到的随机损伤的大量累积,这一累积在生命初期就已经开始,并最终达到机体自我修复的极限。这种伤害会逐渐削弱细胞、组织、器官和系统的效能,使机体更易患病,且呈现出衰老的特征,比如肌肉损失、骨质疏松、反应迟缓、听力和视力降低等。

这些累积损伤有不同的来源,其中甚至还包括我们生存所必需的将食物转化为可被我们使用的能量的过程。在线粒体(将糖转化为能量的细胞器)工作的时候,它们会同时制造出具有破坏性的氧化分子——自由基。这种活性分子所造成的大多数损伤都能得到修复,但是不乏漏网之鱼。生物学家怀疑,正是这些自由基的氧化侵蚀最终造成了线粒体的永久性损伤,让细胞不能继续保持诸多分子的结合,而这是维持机体正常工作的重要因素。除此之外,自由基也可能会对细胞的其他部分造成直接破坏。

固然衰老让我们更易患上心脏病、阿兹海默氏症、中风或癌症之类的疾病,但这些和衰老有关的疾病只是叠加于衰老之上的不幸事件,而并非等同于“衰老”本身。所以,即使科学能够消灭当今老人的头号杀手,衰老依旧会发生,它迟早也会让别的疾病有隙可乘。另外,衰老也会让我们的某个关键部位(比如说心血管系统)最终面临灾难性的衰竭。现在,人类比他们的祖先在过去任何时期都要活得更久,有些国家男女平均寿命分别是75岁和80岁,而过去他们祖先的平均寿命只有25岁。这一切都是因为人类的智慧和创造给我们带来了卫生系统以及疫苗、抗生素等,成功地消除了造成很多人早夭的因素,比如感染和寄生虫病。但“衰老”本身并非是一个按照既定的详细时间表严格执行的基因“程序”。演化没有给予我们任何专门用于激发机体衰竭的基因,让我们能够调控它,从而控制我们的寿命。毫无疑问,一些基因

确实影响了我们的衰老过程,但是这种影响是间接的,是在生长,发育和维持健康和活力的过程中无心产生的副产品。我们并没有控制衰老和死亡的基因程序,这意味着我们无法像治愈疾病一样治愈衰老。

7. 下列说法中与文意不符的是( )。
- A. 人体患病说明机体已有衰老的特征  
B. 人的机体具有自我修复随机损伤的功能  
C. 人体累积的损伤达到机体自我修复的极限后会导致衰老  
D. 人的机体所受的随机损伤累积从生命初期就已经开始

8—10. 缺

三、选词填空。从题后所给的四个选项中选出最符合文意的一项。

请开始答题:

11. 在一个开放竞争的市场环境中,不会有永远的垄断巨头。市场竞争永远\_\_\_\_\_,无论你是百年老店,还是在市场份额中占据绝对的优势,都不可能在竞争中\_\_\_\_\_。
- 依次填入画横线处最恰当的一项是( )。
- A. 刀光剑影 屹立不倒  
B. 危机四伏 稳操胜券  
C. 此起彼伏 稳如磐石  
D. 此消彼长 一劳永逸
12. 多年前,中国有位著名的能源技术科学家曾多次为相关领导\_\_\_\_\_地介绍了通过科学技术提高能源利用效率的基础知识,他所表述的观点直到今天仍然能够让我们有\_\_\_\_\_之感。
- 依次填入画横线处最恰当的一项是( )。
- A. 郑重其事 振聋发聩  
B. 不遗余力 豁然开朗  
C. 深入浅出 茅塞顿开  
D. 语重心长 耳目一新
13. 这也正是苏州古城的气质,一定要经历过变迁与\_\_\_\_\_,见证过繁华与\_\_\_\_\_,在一次次历史的锻打中,愈发地沉稳和\_\_\_\_\_,不动声色的沧桑背后,孕育了对风雨袭来时的从容,对世俗快乐的追求。
- 依次填入画横线处最恰当的一项是( )。
- A. 动荡 落败 淡泊  
B. 漂泊 破落 淡定  
C. 飘摇 落魄 淡然  
D. 动乱 破败 淡雅
14. 药品招标制度本应是对平抑药价起到\_\_\_\_\_的作用,但在“芦苇片事件”中,我们看到,它对推高药价起到了\_\_\_\_\_的作用。
- 依次填入画横线处最恰当的一项是( )。
- A. 约束监管 推波助澜  
B. 控制打压 助纣为虐  
C. 调控监督 出尔反尔  
D. 监督操纵 适得其反
15. 人类应该有所敬畏。对敬畏感的褒扬并非意味着宣传愚昧和迷信,抹杀人的主体性,\_\_\_\_\_主张对人的主体性加以适度限制,即对人的自负浅薄、妄自尊大、不自量力等予以合理规约。这种限制和规约,可以使人类\_\_\_\_\_毫无顾忌地为所欲为,\_\_\_\_\_得以拥有自己的自然和精神家园,这有助于人类心灵的净化、人格的完善。
- 依次填入画横线处最恰当的一项是( )。
- A. 而且 无法 进一步  
B. 而是 难以 况且  
C. 却是 不能 并且  
D. 而是 不至于 进而

第一部分结束,请继续做第二部分!

## 第二部分 数量关系

(共 25 题 参考时限 25 分钟)

一、数字推理。给你一个数列,但其中缺少一项,要求你仔细观察数列的排列规律,从四个选项中,选择最合适的一项,使之符合原数列的排列规律。

请开始答题:

16. 2, 6, 11, 18, 29, ( )。  
 A. 41                      B. 48                      C. 45                      D. 59
17. 1, 1, 2, 8, 64, ( )。  
 A. 1024                      B. 1280                      C. 512                      D. 128
18. 5, 9, 19, 37, 75, ( )。  
 A. 79                      B. 100                      C. 149                      D. 150
19. 212, 424, 234, 446, 658, ( )。  
 A. 245                      B. 267                      C. 233                      D. 212
20. 8, 4, 8, 10, 14, ( )。  
 A. 22                      B. 20                      C. 19                      D. 24
21. 0, 2, 6, 12, ( ), 30。  
 A. 14                      B. 16                      C. 26                      D. 20
22. -26, -6, 2, 4, 6, ( )。  
 A. 16                      B. 12                      C. 14                      D. 6
23. 4, 7, 12, 20, 33, ( ), 88。  
 A. 54                      B. 42                      C. 49                      D. 40
24. 6, 10, 16, 24, 32, ( )。  
 A. 29                      B. 31                      C. 33                      D. 32
25.  $\frac{1}{3}$ , 1, 1,  $\frac{13}{17}$ , ( ),  $\frac{21}{65}$ 。  
 A.  $\frac{17}{33}$                       B.  $\frac{15}{33}$                       C.  $\frac{17}{53}$                       D. 1

二、数学运算。通过运算,选择最合适的一项。

请开始答题:

26. 小李乘公共汽车去某地,当行至一半路程时,他把座位让给一位老人后一直站着,离终点还有 3 千米时,他又坐下。在这次乘车过程中,他站的路程是坐的路程的三分之一,则小李这次乘车全程为( )。  
 A. 8 千米                      B. 12 千米                      C. 9 千米                      D. 14 千米
27. 某项工程,小王单独做需 15 天完成,小张单独做需 10 天完成。现在两人合做,但中间小王休息了 5 天,小张也休息了若干天,最后该工程用 11 天完成。则小张休息的天数是( )。

- A. 6                      B. 2                      C. 3                      D. 5
28. 长方体棱长的和是 48,其长、宽、高之比为 3:2:1,则长方体的体积是( )。
- A. 48                      B. 46                      C. 384                      D. 3072
29. 已知: $\sqrt{x}=\sqrt{a}-\frac{1}{\sqrt{a}}$ ,则  $x+2+\sqrt{x^2+4x}=( )$ 。
- A.  $\frac{1}{a}$                       B.  $a$                       C.  $2a$                       D.  $\frac{2}{a}$
30. 甲、乙、丙三人的月收入分别是 6000 元、3000 元、1000 元。如果保持三人月收入比值不变而使平均月收入达到 4000 元,则丙的月收入增加了( )。
- A. 400 元                      B. 200 元                      C. 300 元                      D. 350 元
31. 在数列 2,3,5,8,12,17,23,⋯中,第 2012 个数被 5 除所得余数为( )。
- A. 1                      B. 3                      C. 2                      D. 4
- 32—40. 缺

第二部分结束,请继续做第三部分!

## 第三部分 判断推理

(共 40 题 参考时限 35 分钟)

### 一、类比推理。

(一)先给出一组有某种关系的词或词组,请你从四个选项中选出正确的一项,其关系与题干给出的词或词组的关系最为相似。

请开始答题:

41—42. 缺

43. 雪中送炭:火上浇油

- A. 家喻户晓:默默无闻  
C. 胸有成竹:不知所措

- B. 凤毛麟角:多如牛毛  
D. 锦上添花:落井下石

44. 缺

(二)请从四个选项中选出正确的一项,使得该项的两个词或词组依次代入题干的括号中,能够最大限度地满足题干所表达的类比关系。

45. ( ) 之于 蜜蜂 相当于 花草 之于 ( )

- A. 昆虫——兰花                      B. 蜂蜜——草木  
C. 园丁——园艺                      D. 花粉——蝴蝶

46. 三角形 之于 平面 相当于 ( ) 之于 ( )

- A. 菱形——四面体                      B. 棱柱——空间  
C. 点——直线                      D. 曲线——椭圆

47. 光辉 之于 ( ) 相当于 正义 之于 ( )

- A. 太阳——法制                      B. 恒星——民生

C. 自然——义务

D. 光明——圣人

(三)请从三个选项中选出正确的一项,其特征或规律与题干给出的一串符号的特征或规律最为相似。

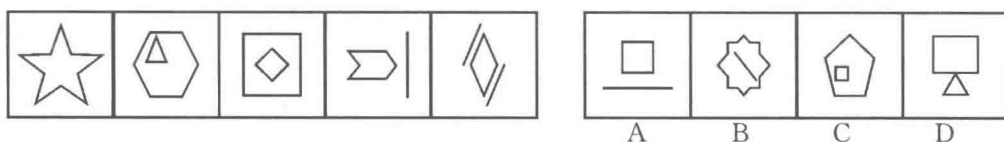
48—50. 缺

二、图形推理。本部分共 10 题,包括三种类型的题目。

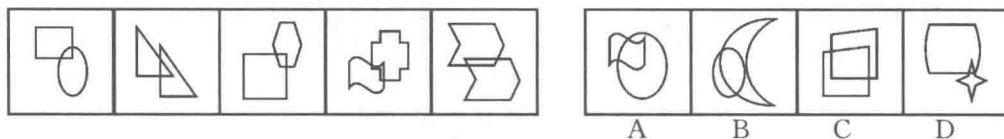
请开始答题:

(一)每道题在左边的题干中给出一套图形,其中包括五个图,这五个图呈现一定的规律性。在右边给出一套图形,其中有四个图,从中选出唯一的一项作为保持左边五个图规律性的第六个图。

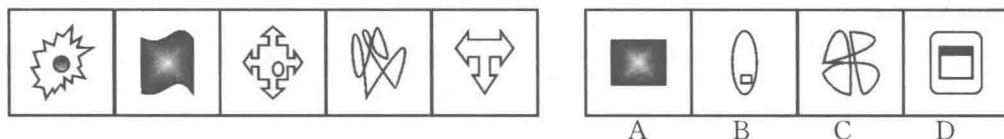
51.



52.




53.



54—57. 缺

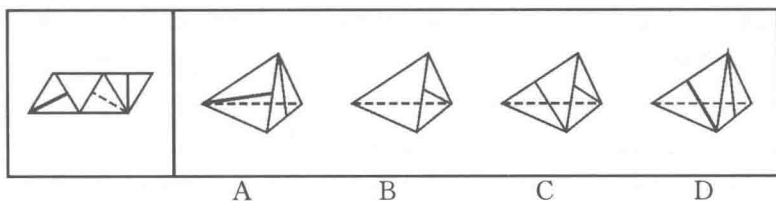
(二)请从所给的四个选择项中,选择唯一的一项填在问号处,使之呈现一定的规律性。

58.

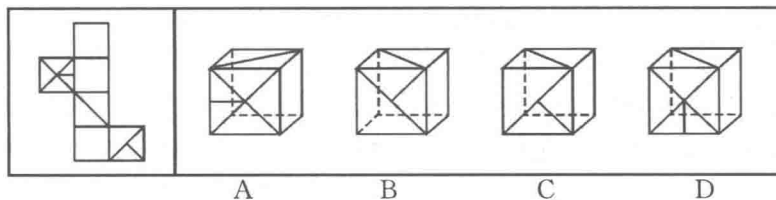


(三)左边给定的是纸盒外表面的展开图,右边哪一项能由它折叠而成?请把它找出来。

59.



60.



三、逻辑判断。每题给出一段陈述,这段陈述假设是正确的、不容置疑的。请你根据这段陈述,选择一个答案。注意:正确的答案不需要任何附加说明即可以从陈述中必然推出。

请开始答题:

61. 人类的到来着实给这个世界的某些自然法则带来了不少挑战。比如说,植物的果实味道鲜美,就是因为它需要吸引动物前来将它的果实附赠的种子带往更远的地方,当然同时也将富含大量营养物的果实作为对传播种子的动物的报酬。这是一桩完美的公平交易。可是人类对于果实中的种子要么集中处理成垃圾,要么干脆集中种植成果园。

据此,可以推断( )。

- A. 人类违背自然法则就是为了改造自然
- B. 动植物之间的公平交易总能完美地实现
- C. 人类有时对植物果实中的种子展开科学研究
- D. 人类有时会破坏自然界完美的公平交易

62. 菠菜一年四季都有,但以春季为佳,其根红叶绿,鲜嫩异常,尤为可口。春季上市的菠菜,对解毒、防燥颇有好处。中医认为,菠菜性甘凉,能养血、止血、敛阴、润燥,因菠菜含草酸较多,有碍机体对钙和铁的吸收,因而吃菠菜时宜先用沸水烫软,捞出再炒。

以下各项判断如果为真,则哪项最能支持以上论证?( )

- A. 草酸容易溶解于沸水之中
- B. 在炒菠菜时加少许白酒,可以减少草酸的涩口感,增加一种清香感
- C. 食用含草酸较多的食物,尿中草酸含量明显增多,尿路结石的危险性可能随之增加
- D. 春天的菠菜比冬天的菠菜更加可口

63. 有专家指出,“科学结论总会有某些不确定性,科学永远不能绝对地证明任何事物。当有人说社会应该等到科学家能绝对肯定时再采取行动,这等于说社会永远不应该采取行动,对于像气候变化,这种可能造成大灾难的问题而言,不采取行动就是让我们的星球冒险。”

据此,以下哪项论断一定是上述专家所同意的?( )

- A. 如果采取行动,就不会让我们的星球冒险
- B. 只有采取行动,才不会让我们的星球冒险
- C. 只有等到科学家完全确信之后,社会才应该采取行动

- D. 如果科学家不能绝对肯定什么, 社会就不应该采取行动
64. 据悉, 科学家已在肝脏中找到了真正清除炎症细胞的“功臣”之一——LSECtin。LSECtin 能选择性地识别出被激活的炎症细胞, 有效制止它们繁殖并抑制它们产生炎症因子。科学家利用最尖端的基因剔除技术, 从动物机体内完全去掉 LSECtin, 发现机体内的炎症细胞明显增多, 炎症因子也会随之急剧增加。人们由此推测, LSECtin 很有可能发展成为治疗肝脏炎性疾病的特效药物。
- 以下各项判断如果为真, 则哪项最能支持上述推测? ( )
- A. 给患有急性肝炎的动物注入 LSECtin 后, 发现其肝脏内的炎症因子明显减少
- B. 肝脏能清除不断从血液中循环到肝脏内的炎症细胞
- C. LSECtin 是迄今为止第一个被发现的在肝脏中特异表达的免疫调控分子
- D. 这项重要的研究成果进一步丰富了肝脏免疫学理论
65. 如果生命的进化一直稳步向前。未尝经历任何挫折或提供了特殊机会的时期, 要划分地质年代将非常困难, 能够轻易地分辨出地质年代, 是因为地质学家们所说的“动物群演替”, 也就是物种突然出现或消失的时期, 我们可以将这些事件看做时间的关口——在那一刻, 一个时期, 通常代表着一种气候, 让位于一个新的时期, 一种新的气候。只有三种变化因素, 强大到能够开启时间的关口——大陆漂移、星系碰撞和诸如温室气体等气候变化动力, 所有这些因素的运作方式都不同, 但他们通过同样的办法来推动进化——即死亡和机遇。
- 据此, 可以推断( )。
- A. 地质学家分辨地质年代未曾遭遇过任何挫折
- B. 气候的变化并不一定带来物种的变化
- C. “动物群演替”是划分地质年代的主要依据
- D. 只有大陆漂移才能开启时间的关口
66. 年轻人小王是一位新人, 刚到某处级单位上班。处长鼓励他说: “我们单位所有的年轻人事业上都取得了很大的进步。”副处长则告诫他: “我们单位有的年轻人事业上并没有取得很大的进步!” 科长对小王表示欢迎, 并介绍说: “我们科所有的年轻人都很勤奋敬业。” 同一科的老乡小李则告诉小王: “我们科长为人很勤奋敬业但不太诚实。” 经过一段时间的工作相处, 小王发现上述四人的话中只有一句是假话。
- 据此, 可以推断小王单位里( )。
- A. 有的年轻人很勤奋敬业
- B. 所有的年轻人都是很勤奋敬业
- C. 科长并不勤奋敬业但很诚实
- D. 科长很勤奋敬业又很诚实
67. 贪腐者都是智商有问题的, 他们没有算清人生的经济账、事业账、家庭账。弄得经济受损、事业失败、众叛亲离。而清廉者都是具有大智慧的, 他们守住底线, 虽两袖清风, 却赢得了人生的幸福和圆满, 甲的智商是有问题的, 而乙是具有大智慧的。
- 据此, 可以推断( )。
- A. 甲是贪腐者, 乙是清廉者
- B. 甲是清廉者, 乙是贪腐者
- C. 甲不是贪腐者, 乙不是清廉者
- D. 甲不是清廉者, 乙不是贪腐者
68. 某单位共有 18 名员工, 因缺乏科学管理, 人浮于事和分配不合理的现象十分严重, 工资只分高、低两类。单位中不干事的比干事的还多, 干事者中工资低的人比不干事者中工资低的人还多。令人稍感欣慰的是, 在不干事的人中, 工资高的只占少数, 另外, 毕竟还有工资不低的不干事者。最近, 小张和小王离开了这个单位, 但是该单位人员的上述结构并未因此而改变。
- 据此, 可以推断小张或小王原来在单位中不可能是( )。
- A. 工资高的不干事者
- B. 工资低的不干事者
- C. 工资高的干事者
- D. 工资低的不干事者





- B. 某市开发区党工委、管委会办公室先后下发文件,将“雄鹰”牌矿泉水列为辖区指定饮用水之一,授权辖区各乡镇自主选择
- C. 某化肥厂保卫科科长李某患病,经医生诊断需在家休息。经厂领导同意,李某指定小王为保卫科临时负责人
- D. 某县政府办公室王秘书接到乡政府李主任电话,称该乡居民喂养的上千只鸭子突然死亡,疑因禽流感所致。王秘书委托李主任立即采取措施,以免造成更大的损失
74. 绿色公关:指企业为避免在环境问题上的失误、造成自己的公众形象被损害而预先针对公关开展传播、沟通和协调工作。
- 下列属于绿色公关的是( )。
- A. 某化工企业就污水排放引起的环境污染,向当地居民解释,赔偿经济损失
- B. 某电信公司组织“倡导绿色、传递爱心”公益短信大赛,筹集善款赈灾
- C. 某制造公司认养城市绿地、郊区林地,提升了公司形象和公众的认同度
- D. 某食品企业注重厂区景观和绿化工作,向上级部门申报“绿色厂区”的称号
75. 行为感染:指人群中的行动从一个人传向另一个人,直至一群人一致行动起来的过程。
- 下列涉及行为感染的是( )。
- A. 一个人偶然抬头望天,后面的人以为天空有什么异常,也都跟着抬头望天
- B. 李熏在会议上号召大家视厂为家,群策群力,共同渡过难关,大家一致鼓掌赞同
- C. 大专生求职更加务实了,纷纷前往劳动力市场寻机会
- D. 老李、老王在一起闲聊,结果发现大家均对选秀节目层出不穷感到吃惊
76. 思维定势:指根据已有的知识、经验,在头脑中形成的一种固定的思维模式。遇到问题,会自然地沿着固有的思维模式进行思考。
- 下列认识不包含思维定势的是( )。
- A. 纨绔子弟少伟男
- B. 万般皆下品,唯有读书高
- C. 螳螂捕蝉,黄雀在后
- D. 汉字读半边,不会错上天
77. 社会保障:指国家或社会根据一定的法律和条件,通过国民收入的再分配,对社会成员的基本生活权利给予物质保障的一系列社会安全制度。
- 下列不属于社会保障的是( )。
- A. 国家对发展滞后地区给予财政补贴
- B. 社会给公民提供最低生活保障
- C. 国家向生活有困难者提供物质补助
- D. 社会给退休职工提供生活保障
78. 功能性文盲:指那些受过一定教育,会基本的读、写、算,却不能识别现代信息符号、图表,不能应用计算机进行信息交流与管理,无法利用现代化生活设施的人。
- 下列不涉及功能性文盲的是( )。
- A. 李教授只会用手机打电话,但不会发短信
- B. 律师老冯不会使用自家的音响
- C. 白领小丹对自家小汽车陷入泥坑束手无策
- D. 大学生小邵在银行自动取款机前不知如何操作
79. 印象管理:指一个人通过一定的方式影响别人对自己印象的过程,也包括了与他人的社会互动,是自我调节的一个重要方面。
- 下列不涉及印象管理的是( )。
- A. 小李没有按时完成任务,他立即向经理表示歉意,并做出适当的解释