

策划：申文怡
责任编辑：杜维
封面设计：怡辰



公安录用警察考试预测试卷

GONGAN LUYONG JINGCHA KAOSHI YUCESHIJUAN

- ▶ 公安基础知识
- ▶ 行政职业能力测验
- ▶ 申论
- ▶ 公共基础知识

ISBN 7-80211-091-2



9 787802 110915 >

ISBN 7-80211-091-2/C·99

定价：66.00元(共四册) 本册定价：16.50元

公安录用警察考试预测试卷

行政职业能力测验



中央编译出版社

公安机关录用人民警察考试用书

公安录用警察考试预测试卷 行政职业能力测验

中国人民公安大学 王存奎 博士 主编




中央编译出版社
CENTRAL TRANSLATION & PUBLISHING HOUSE

公安机关录用人民警察考试用书

公安录用警察考试预测试卷 行政职业能力测验

主编 中国人民公安大学 王存奎 博士

编委 王存奎 朱晓兰 李光源 郎 芳
夏 天 马海英 宋彦娜

 中央编译出版社
CCTP CENTRAL COMPILED & TRANSLATION PRESS

图书在版编目(CIP)数据

公安警察考试预测试卷/王存奎主编.

—北京:中央编译出版社,2005.3

公安机关录用人民警察考试教材

ISBN 7-80211-091-2

I. 公…

II. 王…

III. 警察-招聘-考试-中国-习题

IV. D631.13-44

中国版本图书馆CIP数据核字(2005)第020769号

公安警察考试预测试卷

出版发行:中央编译出版社

地 址:北京西城区西直门内冠英园西区22号(100035)

电 话:66560272(编辑部) 66560273 66560299(发行部)

h t t p://www.cctp.com.cn

E - mail:edit@cctpbook.com

经 销:全国新华书店

印 刷:北京朝阳印刷厂印刷

开 本:787×1092毫米 1/8

字 数:468千字

印 张:40

印 数:1—5000册

版 次:2005年4月第1版第1次印刷

定 价:66.00元(共四册)

前 言

公安机关是人民民主专政的重要工具，是武装性质的国家治安行政力量和刑事司法力量。建设高素质的公安机关人民警察队伍是依法治国、实现国家长治久安的重要保证。自2000年5月，人事部、公安部联合下发《关于地方公安机关录用人民警察实行省级统一招考的意见》，正式建立了省级统一招考公安民警制度。

为了提高人民警察的素质和战斗力，帮助广大考生在较短的时间内高效、便捷、准确地把握公安机关录用人民警察考试脉络，快速地融入人民警察的行列。我编写组根据《考试大纲》的要求，特组织中共中央党校、国家行政学院、中国人民公安大学、北京教育学院、北京师范大学等单位多年来从事公安机关录用人民警察考试命题研究方面的专家、教授、学者反复酝酿编写了本套预测试卷。本套试卷深入分析研究公安机关录用人民警察考试历年真题和大量题库，充分吸收多年来公安机关录用人民警察考试的成功经验，严格按照《考试大纲》要求的内容、题例、题量和难度系数拟定命题思路、把握最新命题趋势。本套预测试卷具有以下特点：

一、紧扣大纲、把握准确

本套试卷紧扣大纲，结构科学合理，内容详略得当、不重不漏，全面复习，力求为广大考生在进行系统的模拟训练。

二、内容全面、题型新颖

本套试卷涵盖面广，包括《考试大纲》所新增的“数字推理”、“事件排序”等内容，“常识判断”部分侧重“法律常识”；“图形推理”部分呈现“新题型”，在题型选择上突出了重点、难点、考点，并且在编排形式上充分汲取了大量题库的精华，科学预测，权威模拟，使广大考生复习起来事半功倍。

三、针对性强、切题率高

本套试卷按照《考试大纲》的要求，对公安机关录用人民警察考试的命题范围、命题重点、命题理念、命题思路、命题角度及命题原则等进行了系统的研究。并且为广大考生提供了针对性较强的预测试卷，以便让考生“知己知彼，百战不殆”。

四、系统训练、注重能力

本套试卷都详细阐述了行政职业能力测验考试所应具备的知识点，其中各种题型都具体体现了人民警察对实际公务活动分析和处理的能力，以便广大考生通过对本套预测试卷的复习，真正做到有的放矢，有效提高系统测试能力。

在编写过程中，若有疏漏之处，恳请社会各界人士和广大考生批评指正。

编写组

目 录

《行政职业能力测验》预测试卷(一)	(共 24 页)
《行政职业能力测验》预测试卷(二)	(共 24 页)
《行政职业能力测验》预测试卷(三)	(共 24 页)
《行政职业能力测验》预测试卷(四)	(共 24 页)
《行政职业能力测验》预测试卷(五)	(共 24 页)
《行政职业能力测验》预测试卷(六)	(共 24 页)
(每套预测试卷都附有参考答案)	

注意:

因以下项目填写不清
而影响成绩责任自负
准考证号

--	--	--	--	--	--	--	--	--	--

姓名

--	--	--	--	--

考试
地址

--	--	--	--	--

考场 号

--	--

归属
区县

--	--	--	--

(准考证的区县)

（密
封
线
内
不
要
答
题）

《行政职业能力测验》预测试卷(一)

说明

这项测验共有五个部分,135 道题,总时限为 120 分钟。各部分不分别计时,但都给出了参考时限,供你参考以分配时间。

请在机读答题卡上严格按照要求填写好自己的姓名、报考部门,涂写准考证号。请仔细阅读下面的注意事项,这对你获得成功非常重要:

1. 题目应在答题卡上作答,不要在题本上作任何记号。
2. 监考人员宣布考试开始时,你才可以开始答题。
3. 监考人员宣布考试结束时,你应立即放下铅笔,将试题本、答题卡和草稿纸都留在桌上,然后离开。

如果你违反了以上任何一项要求,都将影响你的成绩。

4. 在这项测验中,可能有一些试题较难,因此你不要在一道题上思考时间太久,遇到不会答的题目,可先跳过去,如果有时间再去思考。否则,你可能没有时间完成后面的题目。

5. 试题答错不倒扣分。

6. 特别提醒你注意,涂写答案时一定要认准题号,严禁折叠答题卡!

停!请不要往下翻!听候监考老师的指示。

否则,会影响你的成绩。

第一部分 言语理解与表达

(共 25 题,参考时限 25 分钟)

言语理解与表达着重考查考生对语言文字的综合分析能力。所给的文字材料较长,主要是对词和句子一般意思和特定意义的理解;对比较复杂的概念和观点的准确理解;对语句隐含信息的合理推断;在干扰因素较多的情况下,能比较准确地辨明句义,筛选信息。

例题:钢铁被用来建造桥梁、摩天大楼、地铁、轮船、铁路和汽车等,被用来制造几乎所有机械,还被用来制造包括农民的长柄大镰刀和妇女的缝衣针在内的成千上万的小物品。这段话主要支持了这样一种观点,即()。

- A. 钢铁是一种反映物质生活水平的金属
- B. 钢铁具有许多不同的用途
- C. 钢铁是所有金属中最坚固的
- D. 钢铁是唯一用于建造摩天大楼和桥梁的物质

【解答】 正确答案为 B。片段主要叙述的是钢铁的不同用途。

请开始答题:

1. 一些学者说,人的大脑通过中枢神经传导的信号,首先到达身体左侧,然后才到达身体右侧。因此,左撇子人的反应有可能比右撇子人的反应快千分之几秒。

这段话支持的一个论点是()。

- A. 左撇子反应慢
- B. 人的大脑控制人的思想
- C. 左撇子比较聪明
- D. 左撇子的反应更灵敏

2. 佛教虽提倡超尘脱俗,四大皆空,但到底不能离开人间,所以它也并不能完全免俗。佛教中也有不少财神爷,看来,爱财之心,根除也难。据佛经上讲,佛祖释迦牟尼曾接受过龙女的布施——一颗价值 3000 大千世界的珠宝!释迦牟尼就马上让她立地成佛。

对这段话最准确的复述是()。

- A. 佛教也不能免俗
- B. 爱财之心,人之常情
- C. 提倡四大皆空的佛教也有爱财之心
- D. 面对财宝,提倡四大皆空的佛教也不能完全免俗

3. 在中世纪的欧洲,宗教婚姻是当时主要的、占统治地位的婚姻方式。教会不仅握有婚姻家庭领域的立法权,而且操纵婚姻家庭的司法权。结婚必须严格遵守教会法的有关规定。

最能准确复述这段话主要意思的是()。

- A. 宗教婚姻流行于欧洲中世纪
- B. 教会在婚姻中占有主导地位
- C. 宗教婚姻是中世纪的欧洲占统治地位的婚姻方式
- D. 在中世纪的欧洲结婚必须遵守教会法的规定

4. 植物农药又称生物农药,是利用有毒植物中的多种杀虫成分,经过提炼后生产的农药。

由于它们的杀虫有效成分为天然物质,因而施用后较易分解为无毒物质,对环境无污染。

下列对植物农药概述正确的一项是()。

- A. 是提炼有毒植物中能有效杀虫的对环境无污染的无毒物质制造的
 - B. 是提炼有毒植物中多种杀虫有效的天然物质制造的
 - C. 是利用多种有毒植物的杀虫成分,经过提炼后制造的
 - D. 是利用有毒植物中使害虫不能产生抗药性的多种杀虫成分,经提炼后制造的
5. 正确的观点是从哪里来的呢?是从客观实际中来的。我们在研究任何一个问题的时候,都要从客观存在着的事物出发,详细地占有材料,在马克思主义的基本原理的指导下,给以科学的分析,然后才能在这个问题上形成正确的观点。因此,我们要把正确的观点传达出来,也是离不开材料的。

对这段最准确的复述是()。

- A. 正确的观点是从实际材料中得出来的
 - B. 正确的观点是经科学分析得出来的
 - C. 正确的观点是通过材料传达出来的
 - D. 正确的观点是在马克思主义原理指导下,对实际材料进行科学分析得出来的
6. 如果从伦理的角度着眼,两极分化是一种悲剧性的社会现实。面对落入破产者行列的许多小生产者和劳动者,我们不能不寄予深切的同情。但是从生产力的角度着眼,两极分化是商品经济的价值规律发生作用后的必然经济结果,它发挥着约束和激励的功能,使人力资源和物质资源都趋于更合理的配置。

对这段话理解正确的一项是()。

- A. 我们应该既要经济学的角度考虑问题,也要从伦理学的角度考虑问题
- B. 我们应该对落入破产者行列的小生产者和劳动者寄予深切的同情
- C. 我们不应该对落入破产者行列的小生产者和劳动者寄予太多的同情
- D. 从发展商品经济学的角度看,两极分化具有一定的积极意义

7. 爱情这东西是有的。它像春天的花,夏天的雨,雨后的虹,孩子的游戏。它可以是婚姻的基础和台阶,也可以不是。

这段话告诉我们爱情()。

- A. 不是婚姻中的惟一的東西
- B. 是婚姻的基础
- C. 是一种浪漫美丽的东西,可以有不同理解
- D. 对婚姻来说极其重要

8. 不发达国家粮食仍要靠进口,在自然灾害面前无能为力。农牧业、矿业是主要经济部门,劳动人口主要在这类部门工作。文化教育水平和人们的生活水平都很低。

这段话主要支持了这样一种观点,即不发达国家()。

- A. 与发达国家的差距仍然很大
- B. 只有农牧业和矿业两个经济部门
- C. 人们生活水平很低,文盲很多
- D. 仍处于极端落后的农业或农牧业阶段

9. 中国的小说,也和世界各国一样,是从神话传说开始的;有人说我国小说有很多起源,如

寓言、史传、诸子散文等等。其实,源只有一个,那就是神话传说。神话是把人神化,传说是把人神化。这两者之间的界限很难确切划分。

下列陈述,符合文意的是()。

- A. 中国和各国的小說,发展历程是一样的
 - B. 神话传说是中国小说的起源,寓言等不是起源
 - C. 神话写神,小说写人,所以二者是源流关系
 - D. 神话和传说界限不分明,小说都从这儿开始
10. 森林是人类文明的摇篮,是最直接影响人类能否生存下去的生态因子。森林吸收 CO₂, 释放 O₂, 以此平衡着大气中 CO₂ 的比例。据统计,世界上的森林和植物每年生产 4000 亿吨 O₂。森林是造雨者,不但影响降水量,而且减缓山坡上的土壤侵蚀。

这段话主要支持了这样一种观点,即森林()。

- A. 是造雨者
- B. 吸收 CO₂
- C. 产生大量 O₂
- D. 是最直接影响人类生存的生态因子

11. 融电子写作、电子编辑、电子检索、阅读与电传网络于一体的电子期刊网络出版的兴起,加快了“无纸信息社会”的进程,从根本上改变了原有的期刊出版模式。在信息技术发达的国家,阅读电子出版物已成为人们日常生活的一部分,随着我国信息高速公路建设的推进,电子出版也将逐渐取代传统的期刊出版方式,以适应信息社会发展的趋势。

这段话主要支持的一种论点是()。

- A. 电子期刊网络出版的兴起,加快了“无纸信息社会”的进程
- B. 阅读电子出版物将成为世界潮流
- C. 电子期刊网络出版的兴起对传统期刊提出了新的挑战
- D. 电子期刊网络较传统期刊更有生命力

12. 市场作为资源配置的方式和手段不是万能的,无缺陷的。市场配置,一般是由看不见的手,即价值规律、供求规律和竞争规律的作用来进行自发的调节,而且这种调节带有滞后性,就是说从价格形成到信号反馈再到产品产出效应,有一定的时滞。

在这段话中,作者认为,“市场作为资源配置”的“缺陷”是指()。

- A. 自发性和竞争性
- B. 滞后性和调节性
- C. 滞后性和自发性
- D. 竞争性和调节性

13. 创造,是毫无遗憾的贡献毕生的精力,不断扩大自我生命作用的一曲凯歌,是用汗和泪浇灌成的结晶。

对上述话理解不正确的一项是()。

- A. 创造的价值在于自我价值的实现
 - B. 创造是全身心的投入,毫不后悔
 - C. 创造好比是一种赌注,押上了全部的青春
 - D. 创造就是事业,是生存的手段
14. 在城市规划和建设中,一定要把环境效益摆在首位,同时兼顾经济效益。当二者发生矛盾时,应坚决服从前者。因为城市建设是百年大计,城市环境一旦遭到破坏就很难恢

复,甚至无法恢复,而造成长期的灾难性后果。

下列陈述,符合文意的是()。

- A. 城市建设要体现以发展经济为中心
- B. 一般来说,城市不宜作为经济中心
- C. 在城市建设中,环境效益是第一位的
- D. 经济建设破坏城市环境,将无法避免

15. 抽象思维又叫逻辑思维,它以抽象的概念判断和推理作为思维的基本形式,以分析、综合、比较、概括作为思维的基本过程。抽象思维能够揭示事物的本质特征和规律性的联系。

这句话的主题思想是说明了()。

- A. 抽象思维又叫逻辑思维
- B. 抽象思维的概念
- C. 抽象思维的作用
- D. 抽象思维的概念和优点

16. 虽然希腊不是欧洲足球强国,但众所周知,希腊不乏有实力的足球俱乐部和球队,也有不少有水平的教练和球员。希腊的足球很普及,观众很有激情,主力球员像电影明星和大政治家一样是公众崇拜的偶像。

这段话直接支持的观点是()。

- A. 希腊足球水平很高
- B. 希腊足球水平在欧洲不算很高
- C. 希腊足球俱乐部实力较强
- D. 希腊足球很普及,很受欢迎

17. 研究人员设法将花粉蛋白固定在试管壁上,先注入抗体(IgG4),让它与花粉蛋白结合;洗去多余的IgG4后,再加入用放射性碘标记的螨虫蛋白,最后再用水漂洗。结果发现,有放射性标记的螨虫蛋白粘在试管壁上,这意味着抗体结合了两个不同的抗原。

下列陈述,符合以上文意的是()。

- A. 给螨虫蛋白加放射性碘,是为了加快其与抗体IgG4的结合
- B. “多余的IgG4”是指注入试管后没有与花粉蛋白结合的IgG4
- C. 花粉蛋白固定在试管壁上,有助于稳定其与IgG4的结合
- D. 第二次漂洗,是为了洗去多余的螨虫蛋白和多余的IgG4抗体

18. 中国的书法能够成为民族美感的工具,是因为书法家用这支笔创造了世界上独一无二的书法艺术。

下列理解不正确的一项是()。

- A. 中国的书法是民族美感的工具
- B. 中国的书法是世界上独一无二的艺术
- C. 中国的书法家贡献最大
- D. 中国的书法全靠笔来支撑,艺术家本人无能为力

19. 在“永恒”变化的过程中,有的东西是要永恒坚持的,那就是学习方法论和领悟性,还有“做人”。

上面这段话主要支持了这样一种观点,即()。

- A. 永恒变化着的某些东西需要永恒坚持
- B. 有些东西只有永恒地坚持,才会永恒“变化”
- C. 有些东西不应随着永恒的“变化”而丢弃
- D. 永恒的“变化”是绝对的,静止是相对的

20. 建设有中国特色社会主义理论是一个完整、统一的马克思主义科学体系。那种只见树木、不见森林,甚至望文生义、断章取义的学风,永远也达不到真正的建设有中国特色社会主义理论的境界。

上面这段话主要支持了这样一种观点,即()。

- A. 建设有中国特色社会主义的理论是一项严肃的工作
- B. 只有经过全面系统的研究,才能创立这一理论
- C. 必须全面系统地钻研,才能把握这一理论的精神实质
- D. 掌握马克思主义的科学体系,才能达到这一理论的境界

21. 在中国传统道德的发展中,虽然出现过许许多多的道德规范,价值体系也是多元取向,十分复杂,但仁、义、礼、智总是主体,贯穿于整个中国伦理学的发展史中。四者之中,“仁”是核心,其他诸德都是“仁”的运作与体现。可以说,仁、义、礼、智就是“中国四德”,体现了中国古代传统的民族精神。

这段话说明了()。

- A. 中国传统道德是一个多元化体系
- B. 仁、义、礼、智的主体价值体系始终贯穿于中国伦理学的发展中
- C. 在四德当中,“仁”是最重要的,是核心和基础
- D. “中国四德”是我们民族精神的灵魂

22. 最初推出创新教育遭遇的质疑,引起的争论,甚至遭到非常不客气的指责,都说明了社会容忍创新的空间有多大,而创新实验最后的获奖,同样说明了这一点。

下列对文意理解正确的一项是()。

- A. 创新教育最初受到的质疑反映社会容忍创新的空间很小
- B. 创新教育最后获奖反映社会容忍创新教育的空间很大
- C. 由于把握了社会容忍度,创新教育才获得了奖项
- D. 社会容忍创新的空间可小可大

23. 在中国历史上曾经出现过成康之治、文景之治、贞观之治、康乾之治等所谓盛世。盛世的出现是和法制的相对健全分不开的,法制是推动盛世出现的条件,又是盛世的外在标志。从来没有无法制的盛世,也从来没有盛世而法制衰微的现象。即使是人主中原的少数民族,在立定脚跟之后也急于立法,以适应统治广大汉族地区的需要。

最能准确复述这段话意思的是()。

- A. 中国历史上曾经出现过四大盛世
- B. 中国历史上出现的盛世是与法制的健全分不开的
- C. 盛世需要法制,法制促成盛世,这是一条必然规律
- D. 少数民族统治者在入主中原以后总会受到很大程度的汉化

24. 长沙马王堆汉墓的发掘,是我国考古工作的一项重要收获,其具体年代清晰,死者见于史书记载,它为汉初这个重要历史时期的考古资料的研究,提供了可靠的断代标尺。

本段文字主要说明了()。

- A. 长沙马王堆汉墓的历史意义
- B. 历史记载了长沙马王堆汉墓
- C. 马王堆汉墓的发掘有重要的科研价值
- D. 它是考古工作的重要收获之一

25. 尽管新儒家学者无一例外地夸大了儒家哲学的精神义理在现代社会中可能发生的作用

和影响,因而是需要否定和批判的;但此种影响的实际存在倒确乎是毋庸置疑的。这段话中的“此种影响”是指()。

- A. 儒家哲学的精神义理可能对社会产生的影响
- B. 对儒家哲学作用的夸大所造成的影响
- C. 新儒家学者对人类社会发展的影响
- D. 儒家哲学在过去发生过的实际影响

第一部分结束,请继续做第二部分!

第二部分 数量关系

(共 25 题,参考时限 20 分钟)

本部分包括两种类型的试题:

一、数字推理:给你一个数列,但其中缺少一项,要求你仔细观察数列的排列规律,然后从四个供选择的选项中选择你认为最合理的一项,来填补空缺项,使之符合原数列的排列规律。

例题:

1, 3, 5, 7, 9, ()

- A. 7
- B. 8
- C. 11
- D. 未给出

【解答】正确答案是 11。原数列是一个等差数列,公差为 2,故应选 C。

请开始答题:

26. 6, 6, 4, 0, ()。

- A. -1
- B. -4
- C. -6
- D. -8

27. 3, 7, 10, 17, ()。

- A. 19
- B. 27
- C. 31
- D. 42

28. 3, 7, 11, 15, ()。

- A. 17
- B. 18
- C. 19
- D. 20

29. 1, 2, 8, 28, ()。

- A. 65
- B. 77
- C. 83
- D. 100

30. 1, 11, 121, 1331, ()。

- A. 14441
- B. 14141
- C. 14641
- D. 15551

31. 3, 6, 18, 108, ()。

- A. 302
- B. 672
- C. 809
- D. 1944

32. 1, 5, 13, 25, ()。

- A. 41
- B. 32
- C. 27
- D. 36

33. $\frac{1}{4}, \frac{7}{29}, \frac{5}{22}, ()$ 。

- A. $\frac{1}{9}$
- B. $\frac{3}{17}$
- C. $\frac{1}{6}$
- D. $\frac{1}{5}$

34. $\frac{1}{72}, \frac{1}{36}, \frac{1}{12}, \frac{1}{6}, ()$ 。

- A. $\frac{2}{3}$
- B. $\frac{1}{2}$
- C. $\frac{1}{3}$
- D. 1

35. 5, 10, $\frac{1}{2}, 20, ()$ 。

- A. 0.25
- B. 0.5
- C. 0.75
- D. 0.025

二、数学运算:你可以在草稿纸上运算。遇到难题,可以跳过暂时不做,待你有时间再返回解决它。

例题:

甲、乙两地相距 42 公里, A、B 两人分别从甲乙两地步行出发, A 的步行速度为 3 公里/小时, B 的步行速度为 4 公里/小时, 问 A、B 两人步行几小时后相遇? ()

- A. 3
- B. 4
- C. 5
- D. 6

【解答】正确答案为 D。你只要把 A、B 两人的步行速度相加, 然后被 A、乙两地间距离相除即可得出答案。

请开始答题:

36. $890 - 327.42 - 372.58$ 的值是()。

- A. 562.58
- B. 190
- C. 190.58
- D. 180

37. $125 \times 32 \times 250$ 的值是()。

- A. 800000
- B. 100000
- C. 1200000
- D. 1000000

38. $829 \times 0.348 - 830 \times 0.347$ 的值是()。

- A. 0.482
- B. 826.482
- C. 4.482
- D. 830.482

39. $100 \times \sqrt{0.0361}$ 的值是()。

- A. 1.9
- B. 0.19
- C. 19
- D. 8.9

40. 最大的四位数与最小的四位数的差是()。

- A. 8999
- B. 8888
- C. 9998
- D. 8998

41. 某数的小数点向右移动两位后, 与 9 的 13 倍相等。这个数是()。

- A. 117
- B. 11.7
- C. 1.17
- D. 0.117

42. 中午 12 点整时, 钟面上时针与分针完全重合。那么到下次 12 点时, 时针与分针重合了()次。

- A. 10
- B. 11
- C. 12
- D. 13

43. 某种股票在 6 月份跌了 20%, 到 6 月 30 日收盘时为每股 12 元, 那么该股票 5 月 31 日收盘时的价格是()元。

- A. 14
- B. 15
- C. 18
- D. 21

44. 小张上早班, 上午 5:45 上班, 下午 2:15 下班, 其间休息半小时, 他共上了()的班。

- A. 9 小时 50 分
- B. 9 小时 30 分
- C. 8 小时 30 分
- D. 8 小时

45. 把 130 支钢笔平均分给若干个部门, 每个部门所分到的钢笔既要多于 4 支, 又不能超过 20 支, 共有()种分法。

- A. 5
- B. 4
- C. 3
- D. 2

46. 一根木棍插入水中,浸湿的部分是 1.8 米,再掉过头把另一端插入水中,这时这根木棍还有比一半多 1.2 米是干的,则这根木棍长()米。
 A. 4.8 B. 6 C. 9.8 D. 9.6
47. 小李家有 3 口人,3 人年龄之和是 74 岁,妈妈比爸爸小 2 岁,妈妈的年龄是儿子的 4 倍,爸爸今年()岁。
 A. 34 B. 36 C. 38 D. 40
48. 一辆汽车 10 分钟行驶 20.6 千米,照这样行驶 1 小时 20 分钟可行驶()千米。
 A. 206 B. 156.6 C. 164.8 D. 154.8
49. 在 1 张桌子上有 47 本书,其中 27 本是小说,32 本是红色的封面,6 本既不是小说也不是红色的封面。则桌子上有()本带红色封面的小说。
 A. 18 B. 17 C. 16 D. 15
50. 某种产品的价格从 1980 年至 1990 年的增长幅度与从 1990 年到 2000 年的增长幅度相同。如果它 1990 年的价格为 1.2 元,相当于 1980 年的 150%,那么 2000 年时的价格是()元。
 A. 1.8 B. 2 C. 2.4 D. 2.7

第二部分结束,请继续做第三部分!

第三部分 判断推理

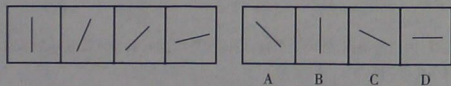
(共 45 题,参考时限 45 分钟)

本部分包括四种类型的题目:

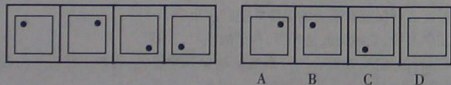
一、图形推理(共 10 题):包括三种类型的题目。

1. 每道题目的左边 4 个图形呈现一定的规律性。你需要在右边所给出的备选答案中选出一个最合理的正确答案。每道题只有一个正确答案。

例 1:



例 2:



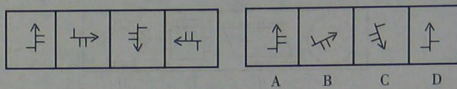
【解答】在图例 1 中,最左边的图形中的直线是向上直立的,其后图形中直线逐渐向右

(行政职业能力测验)预测试卷(一) 第 9 页(共 24 页)

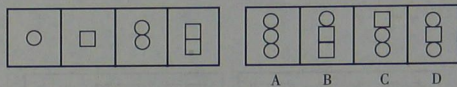
倒下。第 5 个图形中的直线应该恰好倒下。因此,正确的答案是 D。在图例 2 中,黑点在正方形中顺时针移动。在第 5 个图形中,应该正好移动到左上角。因此,正确答案是 B。

请开始答题:

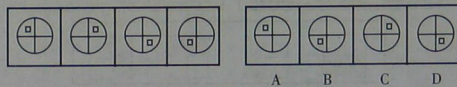
51.



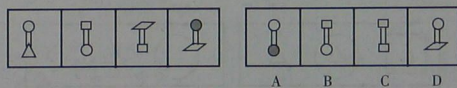
52.



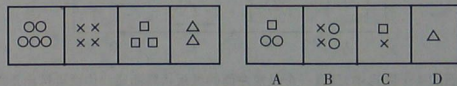
53.



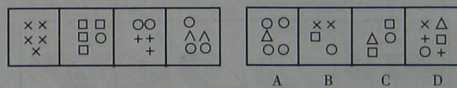
54.



55.



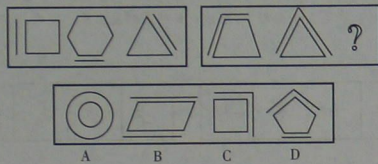
56.



2. 每道题包含两套图形和可供选择的 4 个图形。这两套图形具有某种相似性,也存在某种差异。要求你从四个选项中选择你认为最适合取代问号的一个。正确的答案应不仅使两套图形表现出最大的相似性,而且使第二套图形也表现出自己的特征。

(行政职业能力测验)预测试卷(一) 第 10 页(共 24 页)

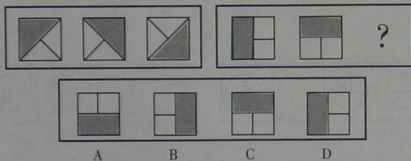
例题:




【解答】正确答案为C。因为在第一套图形中多边形均有一条边是双线,在第二套图形中均有二条相邻的边是双线。

请开始答题:

57.

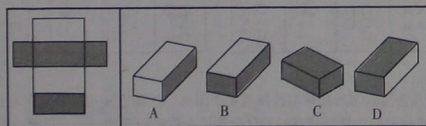


58.



3. 在右面的4个图形中,只有一个是左面的纸板折叠而成。你需要选出正确的一个。

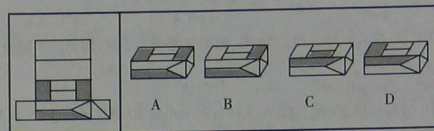
例题:



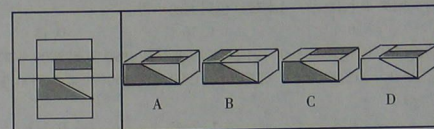
【解答】只有D可以由左边的纸板折叠而成。因此,正确答案是D。

请开始答题:

59.



60.



二、演绎推理(共15题)。这种题型考察考生的逻辑推理能力。在每道题中给出一段陈述,这段陈述被假设是正确的,不容置疑的。要求考生根据这段陈述,选择一个备选答案。正确的答案应与所给的陈述相符合,应不需要任何附加说明即可以从陈述中直接推出。

例题:彭平是一个计算机编程专家,姚欣是一位数学家。其实,所有的计算机编程专家都是数学家。我们知道,今天国内大多数综合性大学都在培养着计算机编程专家。据此,我们可以认为:

- A. 彭平是由综合性大学所培养的
- B. 大多数计算机编程专家是由综合性大学所培养的
- C. 姚欣并不是毕业于综合性大学
- D. 有些数学家是计算机编程专家

【解答】观察A、B、C、D四个选项,似乎都有一定道理。只有结论D是由陈述“所有的计算机编程专家都是数学家”直接推出来的,是不需要附加任何假设和补充而得出的结论,因此,D是正确答案。

请开始答题:

61. 事物的发展,内因是根据,外因是条件,内因和外因同时具备才能使事物发生质的飞跃。因此下列不正确的是()。
- A. 石头是不可能孵出小鸡的
 - B. 好人是不可能变坏的
 - C. 有鸡蛋还必须保证有适当的温度才能孵出小鸡
 - D. 学生在学习中,老师的教是外因,自己的学习是内因
62. 根据股市运行的规律,投资者的资金数量越少风险越大,越难于获得平均收益;资金数量越大风险越小,越易于获得超额收益。因此()。
- A. 中小投资者不会获得平均收益

- B. 中小股民总是赔
C. 中小投资者在股票市场上更易于受到伤害
D. 如有大量资金,则在股市上稳赚
63. 信仰支配着人生,对人生起着重要作用,它是人生杠杆的支点,杠杆离不开支点,没有支点,杠杆也就起不到作用。所以()。
A. 人生也必须有支点
B. 杠杆离不开支点
C. 没有信仰,人生也就失去了意义
D. 人人都有自己的信仰
64. 几年前,还有许多人从事铅字排印、电报发送和机械打字工作,也有一些人是这些职业领域中的技术高手。今天,这些职业已经从社会上消失了。由于基因技术的发展,可能会帮助人类解决“近视”的问题,若干年后,今天非常兴旺的眼镜行业也可能会趋于消失。据此我们知道()。
A. 由于技术的发展导致技术高手的消失
B. 一些人的职业变换与技术发展有关
C. 技术的发展是和教育分不开的
D. 终生教育是未来教育发展的大趋势
65. 当代青年应具有现代社会实践所要求的锐意进取、刻意创新等现代精神,又要有鲜明的传统文化的素养与个性。因此()。
A. 跨世纪青年要一切向西方看齐
B. 青年要厚古薄今
C. 青年既要继承民族文化的优良传统,又要具有时代精神
D. 青年要投身于社会实践
66. 机器人所表现的任何智能,都是人类智能活动的结果。没有科学家精心编制的程序,没有迅速发展电子技术,没有精密的机械加工,机器人是不可能表现出任何智能的。由此可知()。
A. 机器人没有智能
B. 机器人的智能是人类所赋予的
C. 机器人智能的发展有可能超过人类
D. 机器人在未来有着广泛的用途
67. 作为社会基础的生产过程是现实的,是以复杂的形式出现的,包括生产、分配、交换和消费的全过程。社会时代的特点是由主要的生产关系决定的,但是,以主要生产关系为中心还并存着其他附属的生产关系。因此()。
A. 只有存在纯粹的生产关系,才能使一个社会时代具有鲜明的特征
B. 经济基础是综合的,是一个社会全部生产关系的总和
C. 上层建筑与社会的生产关系是相辅相成的
D. 一个社会时代主要的生产关系决定着该社会的一切特点
68. 有 A、B、C、D、E 五位同学一起比赛五子棋,每两人之间只赛一盘,统计比赛的盘数知:A 赛了 4 盘,B 赛了 3 盘,C 赛了 2 盘,D 赛了 1 盘,则同学 E 赛的盘数是()。
A. 1 盘
B. 2 盘
C. 3 盘
D. 4 盘
69. 一天晚上,某仓库被盗。公安机关通过侦查,得出如下判断:(1)盗窃者或是甲,或是乙;(2)如果甲是盗窃者,那么作案时间就在零点之前;(3)零点时该仓库的灯光灭了,而此时甲已经回家;(4)如果乙的供述不属实,那么作案时间就不在零点之前;(5)只有零点时该仓库的灯光未灭,乙的供述才属实。由此可以推出本案的盗窃者是()。
A. 甲
B. 乙
C. 甲或者乙
D. 甲和乙
70. 1995 年,中国选手在世界性的重大比赛中,共夺得 103 个世界冠军,创造了 57 项世界纪录,为历史之最;1995 年,中国升入大学的高中生只有 15% 的人体检合格。因此我们可以得出的正确结论是:在 1995 年,()。
A. 中国并没成为世界的体育强国
B. 中国高中生的身体状况不容乐观
C. 中国的竞技体育达到了历史的最高峰
D. 大学入学体检标准提高了
71. 冬季,某市公交系统在许多线路上增加了临时公交车,以作为这些线路公交运输的补充。但是在一段时期内,原线路乘客拥挤的现象并未能得到缓解。下列陈述中,无助于解释上述现象的是()。
A. 这些线路的乘客中,在冬季突然增加了大量外地民工
B. 一段时期内人们对新增临时公交车的停车站、运行时间等还不清楚
C. 临时公交车在每日运行高峰期中增加的数量有限
D. 临时公交车的司机与售票员都与公司签订了承包合同
72. 根据边际收益递减规律我们可以知道,在其他投入不变的情况下,随着某一投入量的增加,我们获得的产出增量越来越小,但是在边际成本等于边际收益之前,都是有利可图的。作为一个厂商我们应当()。
A. 尽可能地减少投入,以保证最大的边际收益
B. 增加投入,直到边际成本等于边际收益
C. 不断增加投入就会获得最大利润
D. 维持一个固定投入量
73. 下列推理正确的一项是()。
A. 只有开启电源开关,电灯才亮,这盏电灯不亮,所以没有开启电源开关
B. 只有意思表示真实的行为才属于民事法律行为。李、刘二人的借贷行为是意思表示真实的行为,所以他们之间的借贷行为属于民事法律行为
C. 如果王某是本案的作案人,那么她就具有作案工具;如果王某是本案的作案人,那么她就有作案时间。王某既不具有作案工具,也没有作案时间,所以王某不是本案的作案人
D. 作案人是熟悉现场情况的人。这个公司的老员工是熟悉现场情况的人,所以这个公司的人是作案人

74. 语言是一种交流工具,不仅要会读会写,更要会听会说,否则即使掌握得再好也很难与人交流,发挥不了一种语言应有的作用。

由以上可以推出()。

- A. 中国人发挥不了英语应有的作用
 - B. 我们学英语一定要注意听说能力的训练
 - C. 现代中学生和大学生学习的都是“哑巴英语”
 - D. 语言的写作功能是很重要的
75. 学问不只是读书,而读书是学问的一个重要途径。因为学问不仅是个人的事而且是全人类的事,每科学回到了现在的阶段,是全人类分工努力日积月累所得到的成就,而这些成就还没有湮没,就全靠有书籍记载流传下来。书籍是过去人类精神遗产的宝库,也可以说是人类文化学术前进轨迹上的里程碑。这意味着()。

- A. 有的书是很难读懂的
- B. 流传下来的书是非常珍贵的
- C. 做学问就必须读书
- D. 我们应该珍惜每一本书

三、定义判断(共10题)。运用标准进行判断,是公务员一项基本的职业要求。在每一个问题中,先给考生一个概念的定义,然后再给一组事物或行为的例子,要求考生从中选出最为符合或最不符合该定义的典型事物或行为。这里假设这个概念的定义是正确的,不容置疑的。

例题:

健康:指一个人智力正常,行为合乎情理,能够适应正常工作、社会交往或者学习,能够抵御一般疾病。根据健康的定义,下列属于健康的是:

- A. 大学教授老李,虽然五十多岁但工作起来仍然精力充沛,在今年春天患流感
- B. 张婶十九岁的儿子肖聪,读书十一年还是小学二年级水平,但是从小到大没生过什么大病,体力活可以干得很好
- C. 小胡硕士毕业后,工作表现一直很优秀。自一次事故后,当工作压力比较大的时候就会精神失常
- D. 小刘身体很好,工作非常努力,孝敬父母,但是很多同事说他古怪,不愿与其交往

【解答】此题的正确答案为A。

请开始答题:

76. 社会保障:依据一定的法律和规定,为保证社会成员的基本生活权力而提供的救助和补贴。

根据以上定义,下列不属于社会保障的是()。

- A. 某单位对内部职工中的军烈属提供的特殊物质待遇
 - B. 依据法律离异父母一方必须承担的子女抚养费
 - C. 街道居委会对辖区内受灾居民通过募捐提供的经济支援
 - D. 国家和社会组织为保证全民义务教育设立的专项基金或工程
77. 隐私权是在不违反法律的情况下,为了保护个人的名誉和形象,个人对其个人行为和个人材料保密,不让他人非法获知的权利。

下而属于隐私权的是()。

- A. 某明星拒绝向司法机关透露和某涉嫌贪污犯之间交往细节的权利
 - B. 犯罪嫌疑人在向司法机关保守自己在案发时间的行为秘密的权利
 - C. 某涉嫌贪污犯向媒体保守自己收入来源秘密的权利
 - D. 某已婚官员对新闻媒体不承认和某女之间存在婚外恋的权利
78. 马太效应:指社会对已经出名(得到社会承认)的人才,给予的愈来愈多,而对不出名的人才,则连应该给予的也不给予的现象。

下列不属于马太效应的是()。

- A. 社会对已经成名的科学家,不断地加给他们各种头衔、名誉和各种优厚待遇
 - B. 某院士成名后仍刻苦求进,不断攻克科学难题,获得很大成功
 - C. 许多科学家没有成名以前,论文无处发表、成果无人承认,甚至生活没有着落
 - D. 当一个知名教授与一个学生争执不下时,人们总是相信教授是对的
79. 起诉:是指公民、法人或其他组织认为自己的民事权益受到他人的侵犯或者与他人发生争议,以自己的名义,请求人民法院依法审理,确认民事权利义务关系,制裁对方的民事违法行为,保护自己的合法权益的一种诉讼行为。

根据上述定义,下列情况属于起诉的是()。

- A. 某人因家中被抢而报告公安机关
 - B. 某人因不服判决而向高级人民法院递交上诉状
 - C. 某企业因对方不履行合同而将其告上法庭
 - D. 被告因发现原告侵犯自己的版权而在诉讼过程中反诉原告
80. 调解:人民法院在处理民事案件过程中,在审判员的主持下,对当事人进行思想政治工作,说服教育,由双方当事人自愿协商、互相谅解、达成协议的基础上解决民事纠纷的一种诉讼方式。

根据上述定义,下面属于调解的选项是()。

- A. 王某与胡某因小事而打架,王某在打架中吃了亏,为了报复,请其朋友刘某帮忙。而刘某恰好认识胡某。在刘某的劝说下,王某和胡某都同意言归于好
 - B. 甲、乙两家为房屋地界纠纷诉至法院,经过法院同志的耐心工作,双方同意了法院提出的解决方案
 - C. 甲、乙两人是兄弟,分家时因财产分配问题而反映到了村委会,通过村委会耐心做工作,矛盾得到了妥善解决
 - D. 某夫妻俩关系不好,欲离婚,后经居委会同志反复做工作,终于重归于好
81. 攀比效应:指社会经济活动中某些相关的经济变量之间或经济利益主体在利益分配方面存在的相互影响,轮番推进的现象。

下列属于攀比效应的一项是()。

- A. 甲和乙在比谁的妻子漂亮,并约定输者请对方喝酒
 - B. 企业职工在工资收入方面互相对比,并要求本单位上调工资,增加收入
 - C. 甲公司技术人员到乙公司车间参观,暗下决心要向乙公司学习
 - D. 省公安厅比较两县公安局抓获小偷数量后,认为甲县治安良好
82. 贪污贿赂罪:是指贪污、挪用、私分公共财物、索取、收受贿赂,或者以国家工作人员、国

有单位为对象进行贿赂,收买公务行为,破坏公务行为廉洁性的行为。根据上述定义,下列属于贪污贿赂罪的是()。

- A. 某个体老板崔某携巨款到澳门进行豪赌,三天输掉公司的 40 万元
 B. 某单位出纳刘某从公款中借给其叔叔 300 元去治疗腰伤病
 C. 某二级单位私设“小金库”,并经常用“小金库”的钱买东西发给职工
 D. 某财务人员甲认为炒股能赚大钱,苦于自己无本,就从单位拿了 3 万元作本金,两天后股市大跌。半年后还未还清“借”单位的钱

83. 劳动争议:指在劳动者和劳动力使用者之间因劳动权利与义务发生分歧而引起的争议。根据以上定义,下列行为属于劳动争议的是()。

- A. 职工小张因工伤未能获得保险赔偿而与公司争执
 B. 甲企业与乙企业之间因借调某一职工而产生矛盾
 C. 职工小张因工作调动而与当地的劳动部门发生争执
 D. 某厂职工小张与职工小李因工作意见不一而产生矛盾

84. 共同犯罪:是指二人以上共同故意犯罪。

根据以上定义,下列行为属于共同犯罪的是()。

- A. 甲欲杀乙,故意将装好子弹的枪交给丙,并骗丙说是空枪,叫丙向乙瞄准恐吓乙,结果乙中弹身亡。甲与丙构成共同犯罪
 B. 王某之妻提出离婚,王坚决反对,并与其好友李某商量对策。李某说,想办法把她脸弄伤,让她不能再嫁人。于是两人合谋买了一瓶强酸装入喷雾器内,并约定某晚一起去王某娘家,毁其妻的容貌。当晚,李某的小孩患急性痢疾,李失约未去,王独自一人毁了其妻的容貌。王某与李某构成共同犯罪
 C. 甲将其依法持有的猎枪寄存乙处,某日甲至乙处,对乙讲明,要用该猎枪杀丙,请乙交还猎枪,甲遂持枪杀丙。甲乙构成共同犯罪
 D. 王某、孙某经共谋后于深夜蒙面携带管制刀具进入一狭窄街巷抢劫。王叫孙把住街口,防止他人进来,自己深入街巷,持刀抢劫了一妇女现金 3000 元。王欲独吞此款,对李讲该妇女身上一分钱都没有,孙信以为真。王、孙的行为属于共同犯罪

85. 新兴产业革命:亦称第四次产业革命,指从 20 世纪 50 年代开始的一场以信息技术为核心,包括微电子技术、通信技术、生物工程、激光、光纤纤维、机器人和新的合成材料以及海洋开发等新的技术革命。

下列改革属于新兴产业革命的是()。

- A. 北京大学总结以前三次教学改革的经验,从今年秋季开始第四次教学改革
 B. 全国农村电网改造
 C. 为了公司能通过 ISO9002 质量体系认证,公司员工努力工作,创造佳绩
 D. 随着电子技术的发展,我国各大城市都基本上普及了宽带网络

四、事件排序(共 10 题)。每道题给出五个事件,每个事件都是以简短语句表述的,接着给出表示事件的四种假定发生顺序的数字序列,请选择其中最合乎逻辑的一种事件顺序。

例题:

- (1)收集书籍 (2)购买材料
 (3)打渔书架 (4)雇用木工

(5)排列书籍

- A. 4—3—1—2—5
 C. 4—3—2—1—5
 B. 1—4—2—3—5
 D. 3—2—1—4—5

【解答】此题的正确答案为 B。收集书籍(1)——雇用木工(4)——购买材料(2)——

打渔书架(3)——排列书籍(5),这一顺序相对于其他顺序而言最为合理。

请开始答题:

86. (1)现场考察 (2)通过鉴定
 (3)争取项目 (4)模拟实验
 (5)查阅资料

- A. 5—3—1—4—2
 C. 3—1—5—4—2
 B. 3—5—1—4—2
 D. 3—5—4—1—2

87. (1)拍下宰杀被保护动物的镜头

- (2)登出新闻照片
 (3)餐馆受到查处
 (5)路过一家餐馆

- A. 5—1—2—4—3
 C. 2—4—5—3—1
 B. 1—2—4—5—3
 D. 5—1—4—3—2

88. (1)唱起生日祝福歌

- (3)买来生日蛋糕
 (5)大家热情地为寿星祝福
 A. 4—3—5—2—1
 C. 1—4—3—2—5
 B. 3—4—2—1—5
 D. 3—1—2—5—4

89. (1)许多明星正在表演

- (3)化妆师首先给明星们化妆
 (5)电视台播放了晚会节目
 (2)女主持人宣布晚会开始
 (4)小宛看到了自己的演出效果
 B. 5—2—3—1—4
 D. 3—5—2—1—4

90. (1)检验行李

- (3)办理登机手续
 (5)临时改变主意
 A. 2—3—1—5—4
 C. 1—2—5—3—4
 B. 2—3—4—1—5
 D. 2—1—3—5—4

91. (1)立案侦查

- (3)撬开金库保险柜
 (5)盗走巨额现金
 A. 4—2—5—1—3
 C. 2—3—4—1—5
 B. 1—2—4—3—5
 D. 2—3—5—1—4

92. (1)打针服药

- (3)大汗淋漓
 (5)发烧感冒
 (2)下水游泳
 (4)嬉闹游戏

- A. 2—3—4—5—1
C. 4—2—3—1—5
93. (1)市民自发看护鸽子
(3)有人偷捕鸽子
(5)对城市放养鸽子的利弊作了研究
A. 4—3—1—2—5
C. 3—2—5—1—4
94. (1)商家承认错误
(3)商店拒不赔偿
(5)消费者协会受理
A. 4—5—2—3—1
C. 1—3—2—5—4
95. (1)某公司发现其商标被盗用
(3)法院受理了此案
(5)被告请求协商解决
A. 1—4—3—5—2
C. 1—5—4—3—2
- B. 5—1—4—2—3
D. 4—3—2—5—1
- (2)对不文明行为进行“曝光”
(4)放养一批广场鸽
B. 4—3—5—2—1
D. 5—4—3—2—1
- (2)向消费者协会投诉
(4)购买到假冒商品
B. 3—4—2—1—5
D. 4—3—2—5—1
- (2)撤销起诉
(4)提出起诉
B. 1—2—5—4—3
D. 4—5—1—3—2

第三部分结束,请继续做第四部分!

第四部分 常识判断

(共 20 题,参考时限 10 分钟)

常识判断部分涵盖法律、政治、经济、管理、人文、科技等方面,主要侧重考查考生的法律知识运用能力,涉及宪法、行政法、经济法、民法等内容。

根据题目要求,在 4 个选项中选出一个正确答案。

例题:

下列属于地方性法规的是()。

- A. ××省人大常委会通过的《××省人才市场管理暂行条例》
B. ××省人事厅颁布的《××省人才流动管理暂行办法》
C. ××省人民政府制定的《××省城市供水管理办法》
D. ××省人事厅转发人事部制定的《公务员录用面试考官管理暂行办法》

【解答】根据《中华人民共和国立法法》第六十三条“省、自治区、直辖市的人民代表大会及其常务委员会根据本行政区域的具体情况和实际需要,在不同宪法、法律、行政法规相抵触的前提下,可以制定地方性法规。较大的市的人民代表大会及其常务委员会根据本市的具体情况和实际需要,在不同宪法、法律、行政法规和本省、自治区的地方性法规相抵触的前提下,可以制定地方性法规,报省、自治区的人民代表大会常务委员会批准后施行”的规定,

《行政职业能力测验》预测试卷(一) 第 19 页(共 24 页)

正确答案为 A。

请开始答题:

96. 在社会主义市场经济条件下,计划手段()。
A. 应该取消
B. 仍是宏观调控的重要手段之一
C. 仍是资源配置的主要手段
D. 基本上不再发挥作用
97. 行政许可法自()起施行。
A. 2004 年 1 月 1 日
C. 2004 年 7 月 1 日
B. 2004 年 5 月 1 日
D. 2004 年 12 月 1 日
98. 我国行政处罚包括警告、罚款、没收财物、()、暂扣或吊销许可证和执照、行政拘留等。
A. 责令赔偿
B. 责令悔过
C. 责令停产停业
D. 限期整改
99. 我国南方的梅雨属于()。
A. 地形雨
B. 对流雨
C. 锋面雨
D. 雷阵雨
100. 办公室更改电话号码,可用()公布周知。
A. 通知
B. 通告
C. 启事
D. 公告
101. 《丧钟为谁而鸣》写的是发生在西班牙人民反法西斯战争时期的故事,其作者是()。
A. 乔治·桑
B. 莫泊桑
C. 海明威
D. 雨果
102. 国务院总理温家宝在十届全国人大二次会议上作政府工作报告时说,除()外,取消农业特产税,每年可使农民减轻负担 48 亿元。
A. 茶叶
B. 烟叶
C. 蚕丝
D. 水产
103. 商业保险建立的基础和体现的是()。
A. 自愿原则,投保人意志
B. 互惠互利原则,投保人与保险人的意志
C. 平等原则,参与保险人个人意志
D. 商业原则,参与保险人个人意志
104. 社会主义金融市场的基础是()。
A. 资金市场
B. 证券市场
C. 外汇市场
D. 期货市场
105. 我国的《高技术研究发展计划纲要》又称()。
A. “火炬”计划
B. “长城”计划
C. “863”计划
D. “信息”计划
106. 一天之中气温最高值出现在()。
A. 正午 12 点左右
B. 午后 2 时前后
C. 上午八九点钟
D. 日落之时
107. 根据被管理者的成就需要、权利需要和合群需要对其进行管理,其出发点是将被管理者视为()。
A. 经济人
B. 社会人
C. 决策人
D. 文化人

《行政职业能力测验》预测试卷(一) 第 20 页(共 24 页)

108. 中国古代封建统治者实行的“重本抑末”的政策是()。
- A. 加强中央政府,削弱地方势力的政策
B. 强化皇权,削弱宰相和百官权力的政策
C. 重视农业,轻视和限制商业、手工业的政策
D. 强调以儒家学说为本位,压制和排斥其他学说的政策
109. 我国行政诉讼法的标志是()。
- A. 抽象行政行为
B. 具体行政行为
C. 行政立法行为
D. 行政处理决定
110. 我国现行《宪法》规定,全国人民代表大会常务委员会的组成人员中,应当有适当名额的()。
- A. 少数民族代表
B. 港澳台代表
C. 华侨代表
D. 军队代表
111. 国务院总理温家宝在十届全国人大二次会议上作政府工作报告时说,2004年中央财政投入()亿元用于加强义务教育特别是农村教育。
- A. 120
B. 100
C. 160
D. 300
112. 1997年2月,来自苏格兰的一条新闻消息引起了全世界的震惊,英国爱丁堡罗斯林研究所于1996年7月5日成功地培育出“克隆羊”多莉。希腊文“Clone”的原意是用苗或嫩枝,通过营养繁殖的一些植物。
- 根据你所了解的,你认为“克隆”技术是一种()。
- A. 基因重组繁殖
B. 是一种人工诱导下的无性繁殖
C. 是一种自然的无性繁殖
D. 是一种较低级的无性繁殖
113. 同级人民法院之间在各自辖区内受理第一审案件的分工和权限是()管辖。
- A. 级别
B. 地域
C. 指定
D. 移送
114. 地质工作者常常要到山里寻找矿藏,原因是()。
- A. 矿藏只能存在于山里
B. 矿藏是石头的伴生物
C. 矿藏是由树木衍生而来的
D. 矿藏在地壳起褶隆起时从岩浆里分离出来
115. 党的十六大报告指出,发展社会主义民主政治,最根本是把党的领导、()和依法治国有机统一起来。
- A. 以德治国
B. 经济建设
C. 四项基本原则
D. 党的建设

第四部分结束,请继续做第五部分!

第五部分 资料分析

(共20题,参考时限20分钟)

所给出的图、表或一段文字均有5个问题要你回答。你应根据资料提供的信息进行分析、比较、计算和判断处理。

请开始答题:

一、根据下表回答第116~120题。

项目	班别	课次	总课时	学费
单科基础班 5~8月	数学班	30	120	1500元
	英语班	20	80	1200元
全科强化班 9~11月	业余班	50	200	2000元
	脱产班	50	200	2000元
全真模考班 12月,1月	模考一班	24	96	1200元
	模考二班	16	64	800元

116. 全科强化班共有()课时。
- A. 400
B. 200
C. 160
D. 80
117. 全真模考班比单科基础班少()节课。
- A. 34
B. 40
C. 10
D. 20
118. 在5~11月共有()课次。
- A. 40
B. 50
C. 100
D. 150
119. 数学班比英语班多()课时。
- A. 8
B. 10
C. 32
D. 40
120. 模考一班比模考二班贵()元学费。
- A. 400
B. 500
C. 300
D. 250

二、根据以下资料回答第121~125题。

据2003年9月某报载:作为中国最大的上市公司,中国石化近年来风光尽显,在国内外各种企业排名中经常脱颖而出。

在拓展市场方面,中国石化抢占先机,大力收购社会加油站和储运设施,获得了一大批位居重要位置的加油站和储运设施。一系列的有效运作,使中国石化的资产和实力大幅度提升,截止到2002年12月31日,中国石化合并总资产由1999年12月31日的2769.1亿元增长到3758.81亿元,股东权益从871.2亿元增长到1544.85亿元,资本负债率从33.01%下降到约26.01%。2000年、2001年和2002年分别向股东分红8分/股、8分/股和8分/股,累计派发红利人民币205.8亿元。总之,中国石化的资本结构合理,财务状况稳健,现金流比较充裕,整体竞争力突出。

121. 从以上资料中可以看出,自1999年12月31日至2002年12月31日,中国石化合并总资产已由2769.1亿元增长至()。
- A. 3758.81亿元
B. 3700.00亿元
C. 3800.75亿元
D. 3901.85亿元
122. 在2000年,中国石化向股东分红()。
- A. 6分/股
B. 7分/股
C. 8分/股
D. 9分/股
123. 在2000年、2001年和2002年,中国石化向股东分红数额是()。
- A. 不同的
B. 一致的
C. 呈递增状
D. 呈递减状
124. 2000年、2001年和2002年,累计派发红利人民币()亿元。
- A. 200.50
B. 215.30
C. 205.80
D. 230.45
125. 从以上资料可以分析出,以下判断中不正确的是()。
- A. 中国石化资本结构不合理
B. 中国石化财务状况稳健
C. 中国石化现金流比较充裕
D. 中国石化竞争力突出

三、根据下面图表回答第126—130题。



126. 从上图可以看出,某企业的人力资源自2001—2004年呈()趋势。
- A. 下降
B. 增长
C. 不增不降
D. 锐降
127. 从图中可以看出,在2001年时,该企业的人力资源为()人。
- A. 16000
B. 12000
C. 14000
D. 9300
128. 从图中可以分析出,以下判断错误的是()。
- A. 自2001年以来,该企业的人力资源呈现下降趋势
B. 自2001年以来,该企业的本科以上的高素质人才呈增长趋势
C. 在2004年时,该企业的人力资源为14000人
D. 在2003年时,该企业的人力资源为13000人
129. 从图中可以看出,在2002年时,该企业的人力资源数量为()。
- A. 9300人
B. 12000人
C. 13000人
D. 14000人
130. 从图中可以看出,在2003年时,该企业的人力资源数量比2002年多()人。
- A. 800
B. 900
C. 1000
D. 2000

四、根据下面资料回答第131—135题。

- 经过新中国成立后40多年的建设,我国以教育、科研、文化、卫生为主体的事业单位得到了蓬勃发展。据1992年末的初步统计,我国各类事业单位已经达到120万个,从业人员已发展到2533.5万人,约相当于全民所有制工业、建筑业企业职工总数的一半,占第三产业从业人员总数的30%左右。其中,直接隶属于中央国家机关的有3500个单位,240.8万人,占事业单位总人数的9.48%;省、自治区、直辖市党政群机关各部门所属事业单位21322个,244.9万人,占总人数的9.67%;地、州、盟、市所属事业单位130186个,542.8万人,占总人数的21.42%;县、旗、市所属事业单位341200个,740.2万人,占总人数的29.23%;乡、镇事业单位703587个,764.8万人,占总人数的30.20%。
131. 1992年末,我国全民所有制工业、建筑企业职工约为多少人?()。
- A. 2533.5万人
B. 5067.0万人
C. 7600.5万人
D. 无法确定
132. 1992年末,在不直接隶属于中央国家机关的事业单位中工作的人占事业单位总人数的多少?()。
- A. 30%
B. 9.48%
C. 90.52%
D. 30.20%
133. 下列事业单位中,哪一类从业人员最多?()。
- A. 直接隶属于中央国家机关的事业单位
B. 省、自治区、直辖市党政群机关各部门所属事业单位
C. 县、旗、市所属事业单位
D. 乡、镇事业单位
134. 1992年末,地、州、盟、市所属事业单位人员占事业单位人员总数的()。
- A. 9.67%
B. 21.42%
C. 29.23%
D. 30.20%
135. 1992年末,乡、镇事业单位数比县、旗、市所属事业单位数多多少?()。
- A. 24.6万人
B. 24.6万
C. 362387个
D. 362385个

全部测验到此结束。

注意：
因以下项目填写不清
而影响成绩责任自负
准考证号

--	--	--	--	--	--	--	--	--	--

姓名

考试
地址

考
场
号

归属
区县

(领准考证的区县)

(密封线内不要答题)

《行政职业能力测验》预测试卷(二)

说 明

这项测验共有五个部分,135道题,总时限为120分钟。各部分不分别计时,但都给出了参考时限,供你参考以分配时间。

请在机读答题卡上严格按照要求填写好自己的姓名、报考部门,涂写准考证号。仔细阅读下面的注意事项,这对你获得成功非常重要:

1. 题目应在答题卡上作答,不要在题本上作任何记号。
2. 监考人员宣布考试开始时,你才可以开始答题。
3. 监考人员宣布考试结束时,你应立即放下铅笔,将试题本、答题卡和草稿纸都留在桌上,然后离开。

如果你违反了以上任何一项要求,都将影响你的成绩。

4. 在这项测验中,可能有一些试题较难,因此你不要在一道题上思考时间太久,遇到不会答的题目,可先跳过去,如果有时间再去思考。否则,你可能没有时间完成后面的题目。

5. 试题答错不倒扣分。

6. 特别提醒你注意,涂写答案时一定要认准题号,严禁折叠答题卡!

停! 请不要往下翻! 听候监考老师的指示。
否则,会影响你的成绩。

第一部分 言语理解与表达

(共25题,参考时限25分钟)

言语理解与表达着重考查考生对语言文字的综合分析能力。所给的文字材料较长,主要是对词和句子一般意思和特定意义的理解;对比较复杂的概念和观点的准确理解;对语句隐含信息的合理推断;在干扰因素较多的情况下,能比较准确地辨明句义,筛选信息。

例题:钢铁被用来建造桥梁、摩天大楼、地铁、轮船、铁路和汽车等,被用来制造几乎所有机械,还被用来制造包括农民的长柄大镰刀和妇女的缝衣针在内的成千上万的小物品。这段话主要支持了这样一种观点,即()。

- A. 钢铁是一种反映物质生活水平的金属
- B. 钢铁具有许多不同的用途
- C. 钢铁是所有金属中最坚固的
- D. 钢铁是唯一用于建造摩天大楼和桥梁的物质

【解答】 正确答案为B。片段主要叙述的是钢铁的不同用途。

请开始答题:

1. 各种思想按一定的时间顺序进入思想史的历程,却仅仅改换着空间的位置,并倾向于无时间性地并存,因此无法具有历史性的结构。

下列理解有误的一项是()。

- A. 思想史的历程按时间排序
- B. 历史性的结构是有时间性的
- C. 具有历史性的结构则不能有空间的改换
- D. “各种思想”在空间位置方面是符合历史性结构的

2. 爱因斯坦的意义不只在于他是一位伟大的物理学家,更在于他是一个曾经生活过、爱过、思考过、获得过思想乐趣的人。

下列理解最符合原意的一项是()。

- A. 爱因斯坦作为一位伟大的物理学家是没有什么意义的
- B. 爱因斯坦是一个家喻户晓的科学家
- C. 爱因斯坦作为一个伟人,其更受人景仰的是他作为普通人的一面
- D. 爱因斯坦比较少思考别的东西

3. 早在3000多年以前,我国就有了世界上最早的文字。这些文字是刻在乌龟和扁平的骨头上的,所以叫做甲骨文。这些文字,直到1898年才发现。

对这段话最准确的概括是()。

- A. 我国在1898年出现了世界上最早的文字——甲骨文
- B. 早在3000多年前就发现了世界上最早的文字——甲骨文
- C. 1898年在我国发现了3000多年前出现的世界上最早的文字——甲骨文
- D. 甲骨文是3000多年前我国刻在乌龟和扁平的骨头上的最早的文字

4. 自然界中微观客体一般指空间尺寸小于 10^{-6} 厘米,质量小于 10^{-6} 克的粒子,包括分子、原子、原子核、基本粒子等物质层次。微观粒子在极其微小的空间范围内的各种现象,一般称为微观现象。微观粒子和微观现象总称微观世界。微观世界的运动服从量子力学和量子电动力学所反映的规律。

最能准确复述这段话主要意思的是()。

- A. 什么是微观客体
- B. 微观客体由哪些组成
- C. 什么是微观现象
- D. 什么是微观世界

5. 如果说过去参加继续教育是为了谋求职业和更换工作,或者是为了满足文化追求的精神寄托的需要,那么以后参加继续教育更多是为了在职进修,进一步提高专业水平。这段话主要表明了这样一种观点,即()。

- A. 继续教育就是在职进修
- B. 继续教育为没有获得学历文凭的人提供了良好的机会
- C. 继续教育的主要目的是为了提高专业水平
- D. 参加继续教育是未来人们谋求职业和更换工作的重要途径

6. 人大代表在选举的基础上产生。根据选举法规定,中华人民共和国年满18周岁的公民,不分民族、种族、性别、职业、家庭出身、宗教信仰、教育程度、财产状况和居住期限,都有选举权和被选举权;但是依照法律被剥夺政治权利的人没有选举权和被选举权。

这段话可以理解为()。

- A. 人大代表的产生方式是选举
- B. 选举法规定年满18周岁的中华人民共和国公民享有选举权
- C. 选举权的行使不受任何非法限制和剥夺
- D. 选举权的行使受到政治、法律等方面的限制

7. 任何一门理论科学中的每一个新发现——它的实际应用也许还根本无法预见——都使马克思感到喜悦,但是当有了立即会对工业,对一般历史发展产生革命影响的发现的时候,他的喜悦就非同寻常了。

最能准确概括这段话意思的是()。

- A. 马克思对与实践紧密相关并能对他产生重大影响的科学发现,兴趣甚为浓厚
- B. 马克思高度重视理论学科中的每一个新发现,因而对任何一个新发现都感到由衷的喜悦
- C. 马克思十分重视他的发现对工业以及一般历史发展产生的革命影响
- D. 马克思有着非凡的预见性,因而对理论科学中的新发现特别敏感

8. DNA的分子结构并不是一成不变的,在各种理化因素或环境因素的影响下,DNA上碱基排列顺序即遗传密码可能发生改变,从而引起基因突变。即使在正常情况下,DNA复制过程中也会发生频率极低的突变。

这段话主要支持的论点是()。

- A. DNA分子结构的可变性很强
- B. DNA可能发生变异
- C. DNA非常容易产生基因突变
- D. DNA只有在特殊情况下才能变异

9. 环境是一个复杂的大系统。一旦发生问题,再来治理,非但费事、费时、劳民伤财,而且有些环境问题难以逆转,甚至是不可逆转的。因而,“先发展,后治理”的观点不仅是片面

的,而且是危险的。

这段话主要支持的观点是()。

- A. 环境问题是一个复杂的大问题
- B. 对于环境问题必须是防治结合,以防为主
- C. 环境问题是一个费事、费时、劳民伤财的事,而且是不可逆转的
- D. “先发展,后治理”的观点也不是没有道理的

10. 招生计划不科学,就会影响生源质量,影响培养质量和就业质量。而生源质量低,就业难,反过来不仅影响招生,而且会严重影响学校的整体形象,形成恶性循环。下列理解有误的一项是()。

- A. 招生计划不科学将导致恶性循环
- B. 学校整体形象往往取决于生源质量,而培养质量和就业质量无关紧要
- C. 搞好招生,有利于提高培养质量和就业质量
- D. 招生计划不科学最终结果是影响招生

11. 科学界一向认为,行星本身是没有能源的。虽然在夜间我们能看到行星,但行星发光只不过是反射了太阳光的结果。然而,最近报道,木星放射出来的能量却明显地多于它从太阳吸收的能量。木星这种异乎寻常的现象,不由得使人产生许多问题:木星有热核能源吗?这种能源是在大气层里,还是在它的内部?经过进一步的研究,人们已探明木星大气层的成分,并得出在那里不可能产生热核能量的结论。

这段话主要表明的观点是()。

- A. 木星发光是反射太阳光的结果
- B. 木星内部有可能产生热核能源
- C. 木星不可能产生热核能源
- D. 木星是颗行星

12. 调查报告,不是单纯写的问题,调查研究工作没有做好,用什么样的办法也写不出好的调查报告。

这段话支持了这样一种观点,即()。

- A. 调查研究工作比写调查报告更重要
- B. 调查研究工作是写好调查报告的前提
- C. 调查报告不是一个单纯的写作问题
- D. 调查报告写不好的人,调查研究工作也做不好

13. 现代科学技术开始于19世纪末,当时出现了有组织的、规模较大的科学技术研究单位,这有内在的和外部的原因。内在原因是科学技术到这一时期比较复杂,专业、专科很多。外部原因是当时出现的一场技术革命。

这段话主要支持了这样一个论点,即现代科学技术()。

- A. 发展比较迅速
 - B. 是内外两种因素作用的结果
 - C. 产生的外因大于内因
 - D. 使出现的科学技术研究单位变得有组织有规模
14. 储蓄是经济增长的资源基础,但最大限度的储蓄增长率绝不是最优的经济增长率,只有适度的储蓄增长率才容易带来较大的经济增长率。对这段话理解正确的一项是()。