

中华人民共和国职业技能鉴定辅导丛书

工具钳工职业技能鉴定

机械工业部人事劳动司教育司 审定

中华人民共和国职业技能鉴定辅导丛书编审委员会 编

指南



62
2
机械工业出版社

中华人民共和国职业技能鉴定辅导丛书

工具钳工职业技能鉴定指南

机械工业部人事劳动司教育司 审定
中华人民共和国职业技能鉴定辅导丛书编审委员会 编



机械工业出版社

本书是根据劳动部和机械工业部联合颁发的《中华人民共和国职业技能鉴定规范(考核大纲)工具钳工》中的鉴定内容编写的。内容包括:初级、中级、高级工具钳工应掌握的基本知识、专业知识、相关工种的工艺知识;各等级典型工件(工作项目)的考核实例。

本书可供参加国家职业技能鉴定的本工种工人和职业学校本专业毕业生考前准备参考,也可供技能培训部门和考核工作人员参考。

图书在版编目(CIP)数据

工具钳工职业技能鉴定指南/中华人民共和国职业技能鉴定辅导丛书编审委员会编. —北京:机械工业出版社, 1996
(中华人民共和国职业技能鉴定辅导丛书)
ISBN 7-111-05130-0

I. 工… II. 中… III. 钳工-技术等级标准-资格考核-指南
IV. TG9-62

中国版本图书馆CIP数据核字(96)第04711号

出版人:马九荣(北京市百万庄南街1号 邮政编码100037)
责任编辑:朱华 版式设计:霍永明 责任校对:袁凤霞
封面设计:郭景云 责任印制:路琳
北京市房山区印刷厂印刷·新华书店北京发行所发行
1996年12月第1版第1次印刷
787mm×1092mm^{1/16}·17.75印张·434千字
0 001—3 000册
定价:25.00元

凡购本书,如有缺页、倒页、脱页,由本社发行部调换

编审委员会名单

(以姓氏笔画为序)

主任	谷政协			
副主任	郝广发			
委员	于长安	于新民	王高潮	王 斌
	刘亚琴	孙 旭	杨国林	杨溥泉
	李认清	李超群	李震勇	吴天培
	余茂祚	张 岚	张忠吉	陈 伟
	房志凯	姜世勇	赵文建	阎惠琴
	康自发	董无岸	熊厚湘	

本书主编 孟宪纲 主 审 徐连珍

参加编审的人员 (以姓氏笔画为序)

于汇泉	王承尧	田力飞	付光达	冯文宏
孙 旭	李 力	张忠吉	陈 勇	陈之乾
陈荣秀	陈 颖	沈蓓蕾	何兆凤	余茂祚
荆宏智	梁志强	常国忠	盖海舟	崔 靖
蒋丽庆				

前 言

随着《中华人民共和国劳动法》的颁布和实施，我国将逐步对劳动者实行职业技能鉴定和职业技能资格证书制度。1995年4月由劳动部和机械工业部联合颁发的车工、镗工、铣工、磨工、钳工、工具钳工、机修钳工、铸造工、锻造工、热处理工、模样工、电焊工和电工等13个工种的《中华人民共和国职业技能鉴定规范(考核大纲)》(以下简称“考核大纲”)，是国家对从事机械行业上述工种(职业)的人员进行技能鉴定考核命题的依据。为了帮助参加技能鉴定的企业、学校和社会上有关人员了解、掌握考核的知识要求和技能要求，在完成职业培训或自学的基础上做好考前复习准备，我们组织机械行业有关专家、工程技术人员和职业培训教学人员根据“考核大纲”编写了这套辅导丛书。

丛书紧扣各工种“考核大纲”中对初级工、中级工、高级工的知识要求、技能要求两个方面的鉴定项目、范围及内容要求编写。知识方面的内容有基本知识、专业知识、相关工种工艺知识；技能方面则是列举了一系列代表不同等级水平的考核实例，并对其进行详细的分析讲解，以使读者更加熟练地掌握操作技能要求。丛书的内容简明扼要，通俗易懂，针对性强。

对丛书中的缺点和错误，衷心希望读者批评指正。

丛书编审委员会

1995年11月

目 录

前言

一、初 级 篇

1 知识要求	1	1.2.3 装配基本知识	91
1.1 基本知识	1	1.3 相关知识	92
1.1.1 识图知识	1	1.3.1 起重设备使用方法和安全 操作规程	92
1.1.2 量具与公差配合知识	11	1.3.2 机械加工常识	97
1.1.3 机械传动与液压传动一般 知识	19	1.3.3 切削刀具的名称及几何参数	106
1.1.4 金属切削和刀具夹具的一 般知识	22	1.3.4 选择机械加工余量的知识	108
1.1.5 电工常识	27	1.3.5 机械加工精度的一般概念	108
1.1.6 金属材料与热处理一般知识	30	1.3.6 切削用量的一般知识	110
1.1.7 专业数学计算	33	2 技能要求	111
1.2 专业知识	36	考核实例 1 制作开合夹板	111
1.2.1 工具钳工基本知识	36	考核实例 2 制作正六角样板	113
1.2.2 常用设备和工具使用维护 保养知识	85	考核实例 3 制作 T 形配合件	116
		考核实例 4 刮削直角铁	117
		考核实例 5 钻、铰等分孔	119

二、中 级 篇

1 知识要求	123	1.2.3 零件和工具的加工知识	166
1.1 基本知识	123	1.2.4 夹具、模具的加工和装 配知识	174
1.1.1 机械制图知识	123	1.3 相关知识	196
1.1.2 金属切削原理与刀具知识	137	1.3.1 电气传动基本知识	196
1.1.3 机制工艺基础与夹具知识	144	1.3.2 生产技术管理知识	200
1.1.4 液压传动基础知识	150	2 技能要求	204
1.2 专业知识	154	考核实例 1 刮削 350mm 方箱	204
1.2.1 复杂工件的划线与钻孔 知识	154	考核实例 2 加工钻模板	205
1.2.2 常用设备和工、夹、量 具及量仪的结构原理和 使用维护知识	159	考核实例 3 制作螺轴样板	207
		考核实例 4 锉配配合件	209
		考核实例 5 凸模与拼接凹模加工	212

三、高 级 篇

1 知识要求	217	1.1.1 液压传动知识	217
1.1 基本知识	217	1.1.2 机床电气控制知识	223

VI

1.1.3 机构与机械零件知识	235	1.3.1 提高劳动生产率的知识	263
1.2 专业知识	244	2 技能要求	265
1.2.1 精密量仪的结构原理和 应用知识	244	考核实例 1 制作等高 V 形架	265
1.2.2 精密夹具和冷冲模的装 配知识	252	考核实例 2 制作径向分度盘	267
1.3 相关知识	263	考核实例 3 制作 500mm 宽座角尺	269
		考核实例 4 加工组合件	271
		考核实例 5 加工配合件	274

一、初 级 篇

1 知识要求

1.1 基本知识

1.1.1 识图知识

1. 正投影的基本原理

(1) 正投影 当投影线互相平行，并与投影面垂直时，物体在投影面上所得的投影，称为正投影，见图 1-1。

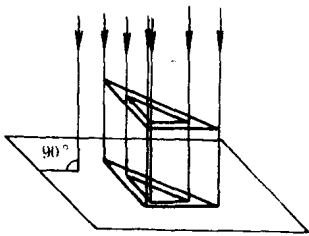


图 1-1 正投影

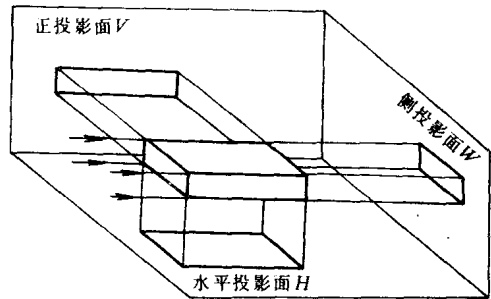


图 1-2 长方体在三个投影面上的投影

(2) 三视图 将长方体置于三个互相垂直的投影面体系中，使其底面与水平投影面平行，前面与正投影面平行，分别向三个投影面投影，可得到长方体的三个视图（见图 1-2）；将三投影面按图 1-3 中箭头所指的方向顺次旋转展开，即形成三视图，见图 1-4。

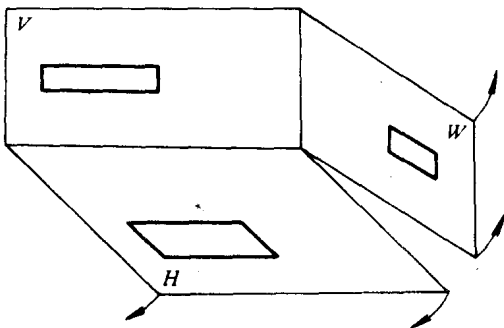


图 1-3 投影面的展开

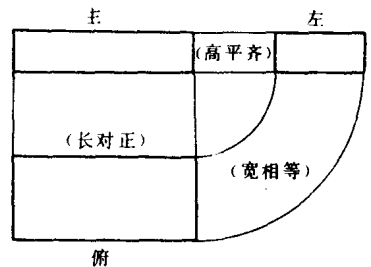


图 1-4 展开后长方体的三视图

以上所述三视图之间的关系是：

主、俯视图长对正；

主、左视图高平齐；

俯、左视图宽相等。

(3) 直线与平面的投影特性

1) 直线在三投影面中的投影 如图 1-5 所示。

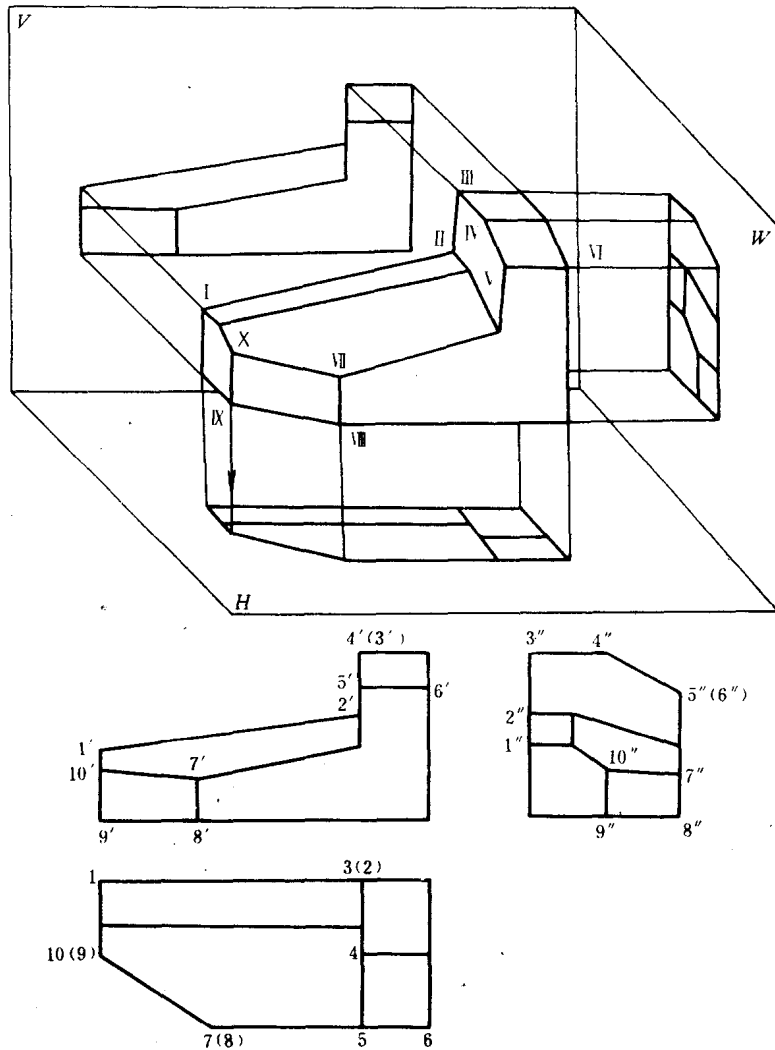


图 1-5 直线在三个投影面中的投影

① 一般位置直线 如 VII X 直线。投影特性是：在三个投影面上的投影均为倾斜的线，且线长小于实长。

② 投影面平行线 分三种：正平线，如 I II 直线；水平线，如 VIII IX 直线；侧平线，如 IV V 直线。投影特性是：在所平行的投影面上的投影是一条斜线，反映实长，其余两个投影是横平线竖直线，且不反映实长。

③ 投影面垂直线 分三种：正垂线，如 III IV 直线，铅垂线，如 VII VIII 直线；侧垂线，如 V VI 直线。投影特性是：在所垂直的投影面上的投影积聚成一点，其余两投影是横平线或竖直线且反映实长。

2) 平面在三投影面中的投影, 如图 1-6 所示。

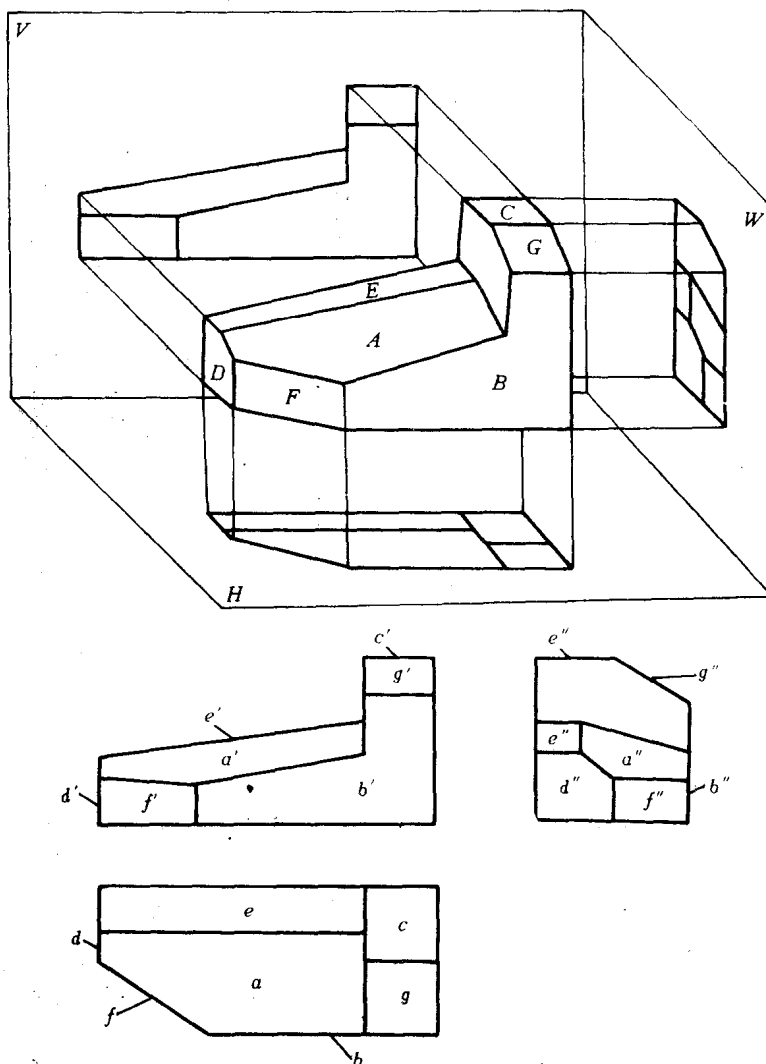


图 1-6 平面在三个投影面中的投影

① 一般位置平面 如 A 面。投影特性是: 在三个投影面上的投影均是与原形相类似的面形。

② 投影面垂直面 分三种: 正垂面, 如 E 面; 铅垂面, 如 F 面; 侧垂面, 如 G 面。投影特性是: 在与平面垂直的投影面上的投影积聚成一条斜线, 另两投影为缩小的类似形。

③ 投影面平行面 分三种: 正平面, 如 B 面; 水平面, 如 C 面; 侧平面, 如 D 面。投影特性是: 在与平面平行的投影面上的投影反映实形, 另两投影积聚成横平线或竖直线。

2. 简单零件剖视(剖面)的表达方法

(1) 剖视图

1) 剖视图的形成 当零件内部结构比较复杂时, 在视图上就会有较多的虚线(图 1-7a), 有时甚至与外形轮廓线相互重叠, 使图形很不清楚, 不利于看图。为了解决这个问题, 可假想用剖切面将零件剖开, 移去观察者和剖切面之间的部分, 将余下部分向投影面投影(图 1-

7b), 所得到的视图称为剖视图 (图 1-7c)。

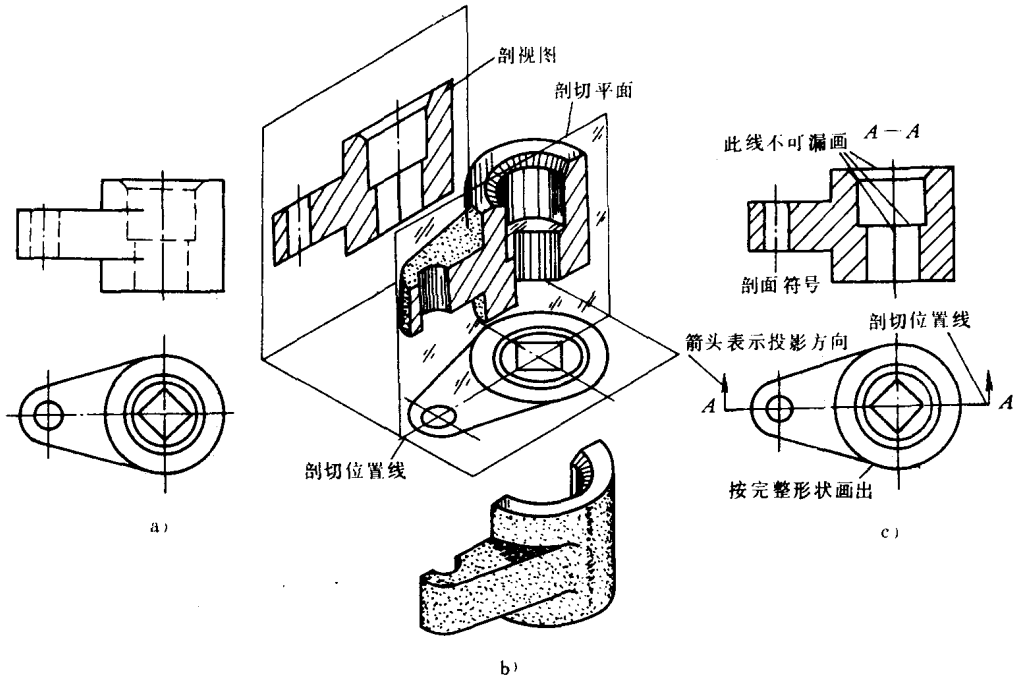


图 1-7 剖视图的形成画法








2) 看剖视图的要点

- ① 找剖切面位置。剖切面位置常常选择零件的对称平面或某一轴线, 如图 1-7c 中两端的两段粗实线。
- ② 根据剖切位置两端注的箭头指示方向及字母找对应的剖视图。
- ③ 明确剖视图是零件剖切后的可见轮廓线的投影。
- ④ 看剖面符号。当图中的剖面符号是与水平方向成 45° 角的细实线时, 则知零件是金属材料。常用材料的剖面符号见表 1-1。

表 1-1 常用材料的剖面符号 (摘自 GB4457.5-87)

金属材料 (已有规定剖面符号者除外)		木质胶合板 (不分层数)	
线圈绕组元件		基础周围的泥土	
转子、电枢、变压器和电抗器等的叠钢片		混凝土	
非金属材料 (已有规定剖面符号者除外)		钢筋混凝土	

(续)

型砂、填粉、粉末冶金、砂轮、陶瓷刀片、硬质合金刀片等			砖	
玻璃及供观察者用的其他透明材料			格网 (筛网、过滤网等)	
木材	纵剖面		液体	
	横剖面			

⑤ 剖视图上通常没有虚线，看图时不必奇怪，这是按规定处理的。

⑥ 识读剖视图时，可能会遇到剖视图与对应视图完全没有标注的情况。这说明剖切面位置所在视图与剖视图有直接影关系，且剖切面通过零件的对称平面。

(2) 剖面图

1) 剖面的概念 假想用—个剖切平面将零件某部分切断 (图 1-8a)，只画断面的真实形状，并画上剖面线，这个图形就叫剖面图，简称剖面 (图 1-8b)。

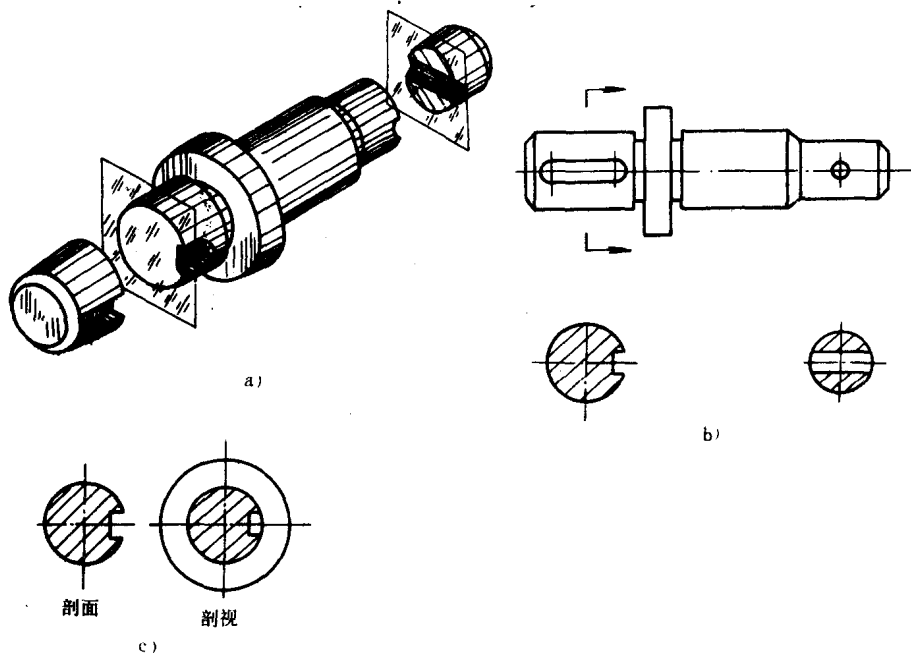


图 1-8 剖面

剖面只画断面形状，而剖视还必须画出断面能看见的轮廓的投影，如图 1-8c 所示。

2) 剖面的识读

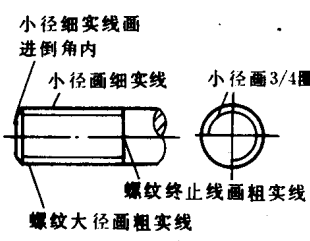
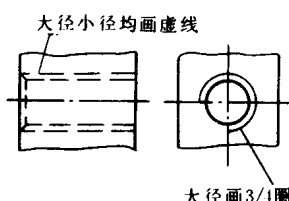
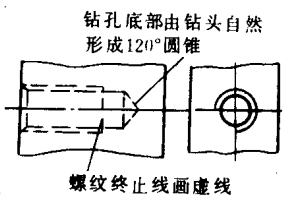
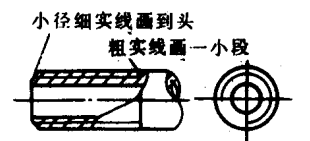
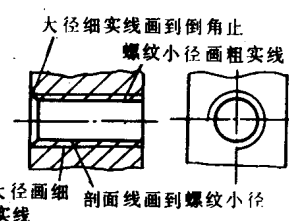
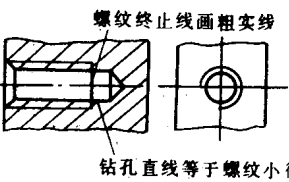
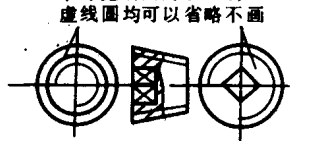
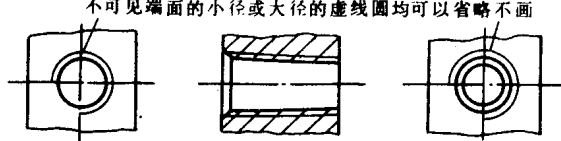
- ① 找剖切位置及字母，对应字母找剖面图。
- ② 不对称的剖面必须用箭头表示投影方向（图 1-8b）。
- ③ 画在剖切位置延长线上的剖面图，可不加标注，如图 1-8b 所示。
- ④ 当剖切平面通过回转面形成的孔或凹坑的轴线时，其结构是按剖视绘制的（图 1-8b），识读时应注意。

3. 常用零件的规定画法及代号标注方法

(1) 螺纹的规定画法及标注

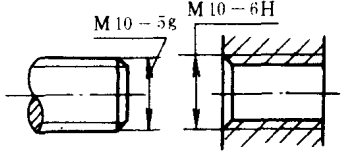
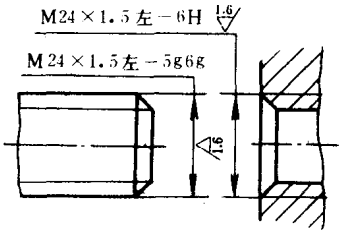
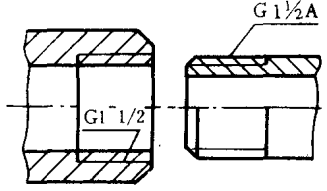
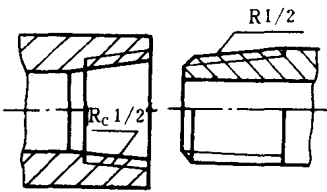
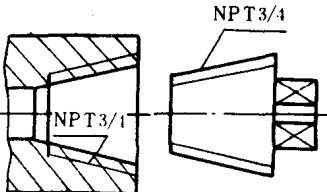
1) 螺纹的规定画法 见表 1-2。

表 1-2 螺纹的规定画法

各种情况	外螺纹的画法	内螺纹的画法	
		穿通的内螺纹	未穿通的内螺纹
不剖时	<p>小径细实线画进倒角内</p> 	<p>大径小径均画虚线</p> 	<p>钻孔底部由钻头自然形成120°圆锥</p> 
剖切时	<p>小径细实线画到头粗实线画一小段</p> 	<p>大径细实线画到倒角止 螺纹小径画粗实线</p> 	<p>螺纹终止线画粗实线</p> 
剖切时	<p>不可见端面的小径或大径的虚线圆均可以省略不画</p> 	<p>只画可见端面的螺纹小径(粗实线)及大径(细实线), 不可见端面的小径或大径的虚线圆均可以省略不画</p> 	

2) 螺纹的种类、代号和标注 见表 1-3。

表 1-3 螺纹的种类、代号和标注

螺纹种类	种类代号	代号标记方法及说明	代号标记应用示例
连 接 螺 纹	粗牙普通螺纹	M M10-5g M10-6H 公差带代号 公称直径 普通螺纹代号(粗牙不标螺距)	
	细牙普通螺纹	M M24×1.5左-5g6g 公差带代号 旋向 螺距 公称直径 普通螺纹代号(细牙标注螺距)	
	非螺纹密封的管螺纹	G G1/2A 公差等级代号(内螺纹不分等级) 尺寸代号 螺纹特征代号	
	用螺纹密封的管螺纹	R Rc Rp R1/2 尺寸代号 螺纹特征代号(圆锥外螺纹) Rc1/2 螺纹特征代号(圆锥内螺纹) Rp1/2 螺纹特征代号(圆柱内螺纹)	
60°圆锥管螺纹	NPT NPT 3/4 尺寸代号 螺纹特征代号		

螺纹种类	种类代号	代号标记方法及说明	代号标记应用示例
梯形螺纹	Tr	<p>Tr 40×10 (P5) -7H</p> <p>公差带代号</p> <p>螺距</p> <p>导程</p> <p>公称直径</p> <p>梯形螺纹代号</p>	
锯齿形螺纹	B	<p>B32×6 LH-7H</p> <p>内螺纹公差带代号</p> <p>左旋螺纹</p> <p>螺距</p> <p>公称直径</p> <p>锯齿形螺纹代号</p>	

(2) 键、销的画法和标记

- 1) 常用键的形式和标记 见表 1-4。
- 2) 矩形花键的形式和标记 外花键的画法见图 1-9, 内花键的画法见图 1-10。
外花键的代号标注示例如下:

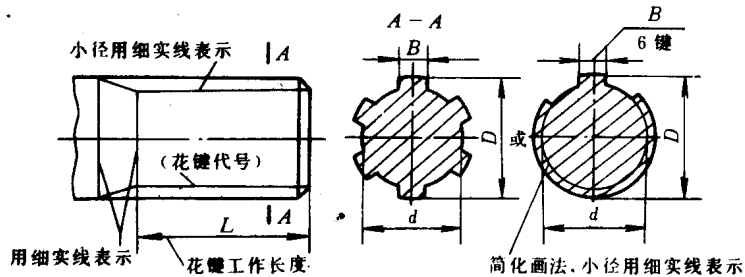


图 1-9 矩形外花键的画法和尺寸标注

表 1-4 常用

名称	标准号	形式	规定标记及示例
普通平键	GB1096-79	A型 	键 18×100 GB1096-79 表示 $b=18\text{mm}$, $h=11\text{mm}$, $L=100\text{mm}$ 的 圆头普通平键
半圆键	GB1099-79		键 6×10×25 GB1099-79 表示 $b=6\text{mm}$, $h=10\text{mm}$, $d_1=25\text{mm}$, $L=$ 24.5mm 的半圆键
钩头楔键	GB1565-79		键 18×100 GB1565-79 表示 $b=18\text{mm}$, $h=11\text{mm}$, $L=100\text{mm}$ 的 钩头楔键

表 1-5 销的形式和标记

圆柱销	GB119-86		公称直径 $d=5\text{mm}$, 长度 $l=18\text{mm}$ 的 A 型 圆柱销 销 GB119-86 A5×18
圆锥销	GB117-86		公称直径 $d=5\text{mm}$, 长度 $l=60\text{mm}$, 35 钢的 A 型圆锥销 GB117-86 A10×60
开口销	GB91-86		公称直径 $d=5\text{mm}$, 长度 $l=50\text{mm}$, 低碳钢 的开口销 销 GB91-86 5×50

6×23f7×26a11×6d10 GB1144-87

内花键代号及标注示例如下:

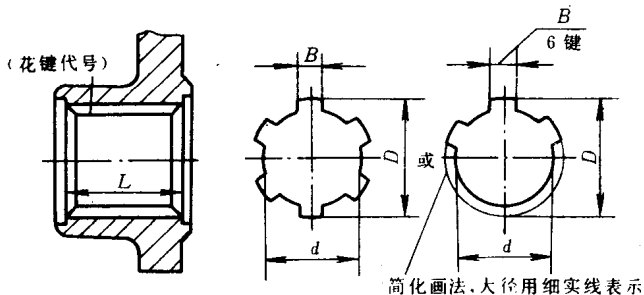


图 1-10 矩形内花键的画法和尺寸标注

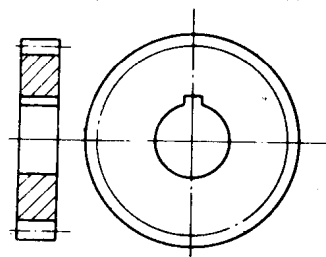


图 1-11 单个齿轮画法

6×23H7×26H10×6H11 GB1144-87

3) 销的形式和标记 见表 1-5。

(3) 齿轮的规定画法

1) 直齿圆柱齿轮的画法 齿顶圆和齿顶线用粗实线画；分度圆和分度线用点划线画；齿根圆用细实线画，也可省略不画。在剖视图中，齿根线用粗实线画，未剖的齿根线可省略不画，如图 1-11 所示。

2) 直齿锥齿轮的画法 见表 1-6。

表 1-6 直齿锥齿轮的画法

	<p>1) 画水平中心线，并过该线上的一点作与水平中心线对称的两个分度圆锥角 δ</p> <p>2) 作距水平线为 $d/2$ 的两平行线，分别与分度圆锥线相交得两点，连接这两点，得到分度圆直径线</p>
	<p>3) 过分度圆直径两端点作分度圆锥线的垂线（即背锥线），并在背锥线上量得距分度圆直径线端点分别为 h_a、h_f 的四点，再过这四点向锥顶连线</p> <p>4) 在分度圆锥线上，从背锥线起向锥顶方向量得齿宽 b。这样，轮齿部分就画好了</p>