

我要上学啦



Wo Yao Shangxue La

学前教育顾问 何秋光

数学

JINGHU
精华版

5-7
岁

真好玩

本社编

让孩子爱上学习

轻轻松松上小学



YZL10890110602

北京出版集团公司
北京少年儿童出版社

我要上学啦
Wo Yao Shangxue La

学前教育顾问 何秋光

数学

JINGHUABAN
精华版

5~7
岁

真好玩

本社编



北京出版集团公司
北京少年儿童出版社

图书在版编目 (CIP) 数据

数学真好玩 / 本社编. — 北京 : 北京少年儿童出版社, 2012. 1

(我要上学啦)

ISBN 978 - 7 - 5301 - 2834 - 3

I. ①数… II. ①本… III. ①数学课—学前教育—教学参考资料 IV. ①G613.4

中国版本图书馆 CIP 数据核字(2011)第 224062 号

我要上学啦
数学真好玩

SHUXUE ZHEN HAOWAN

本社编

*

北京出版集团公司 出版
北京少年儿童出版社

(北京北三环中路6号)

邮政编码:100120

网 址 : [www . bph . com . cn](http://www.bph.com.cn)

北京出版集团公司总发行

新华书店经销

北京市雅迪彩色印刷有限公司印刷

*

787 毫米 × 1092 毫米 16 开本 6 印张 30 千字


2012 年 1 月第 1 版 2012 年 1 月第 1 次印刷

ISBN 978 - 7 - 5301 - 2834 - 3

定价: 12.90 元

质量监督电话: 010 - 58572393

目录



10以内数概念



- ② 正确书写10以内的数字
- ④ 10以内数的组成
- ⑥ 10以内的加减法
- ⑧ 10以内数的应用题
- ⑩ 10以内的连加连减运算
- ⑫ 10以内的加减混合运算
- ⑭ 10以内数的综合练习

20以内加减法



- ⑯ 认识数字11~20
- ⑰ 认识数位
- ⑱ 20以内的不进位加法
- ⑳ 20以内的不退位减法

- 22 20以内的进位加法
- 24 20以内的退位减法
- 26 20以内数的综合练习
- 28 数字游戏

分类与排序



- 30 多角度分类
- 32 规律排序
- 34 规律排序游戏
- 38 分类思维训练游戏
- 40 排序思维训练游戏

图形



- 42 认识形体
- 44 数图形思维训练
- 46 数形体思维训练
- 48 拼合图形
- 50 选图填空

- 52 图形等分
- 54 图形推理
- 55 图形综合练习
- 58 图形思维训练游戏

判断和推理



- 60 量的推理
- 62 找不同
- 63 比较容积
- 64 判断与推理综合练习
- 66 判断与推理思维训练游戏

空间与时间



- 68 前后
- 69 左右
- 70 上下
- 71 里外
- 72 空间综合练习


- 74 空间思维训练游戏
- 76 认识钟表整点
- 77 认识钟表半点
- 78 会看图记录时间
- 79 认识日历
- 80 人民币的换算
- 82 空间练习
- 84 空间与时间综合练习
- 86 数学测试题

10以内数概念




正确书写10以内的数字


1. 写一写。

1 


1 1 1 1 1

2 


2 2 2 2 2

3 

3 3 3 3 3

4 

4 4 4 4 4


5 

5 5 5 5 5



几月几号星期一，爸爸妈妈带我去游乐园玩，玩得真开心。

6




6 6 6 6 6

7




7 7 7 7 7

8




8 8 8 8 8

9



9 9 9 9 9

10











10 10 10 10 10




10 以内数的组成

1. 按照小花的特征将下面的小花分成两组，想一想可以有几种分法，并说一说为什么这样分？



<p>分法一</p>   <p>_____</p>	<p>分法二</p>   <p>_____</p>
<p>分法三</p>   <p>_____</p>	<p>分法四</p>   <p>_____</p>

2. 把6条金鱼放在2个鱼缸里，可以怎么分？



分法一



分法二



分法三



分法四



分法五







3. 哪两个气球上的数字合起来是6，请你连一连。



4. 把上下两行可以组成7的花朵连起来。






5. 把两行中相加后得数是10的皮球连起来。











10以内的加减法




1. 在正确的算式后画“√”，错误的算式后画“×”。

 +  = 

 +  = 

 +  = 

 -  = 

 -  = 

2. 连一连。


 $8-2$  $5+3$  $2+7$  $1+3$



 $5+4$  $9-1$  $7-1$  $9-5$



3. 请帮助小树叶找到家。



4. “1、2、3”这组数字，可以列出2道加法算式和2道减法算式（见例子）。你能在1~6的数字中选出几组这样能列出4道算式的数字。将选出的数字填在“ ”上。


例：1+2=3 2+1=3 3-1=2 3-2=1




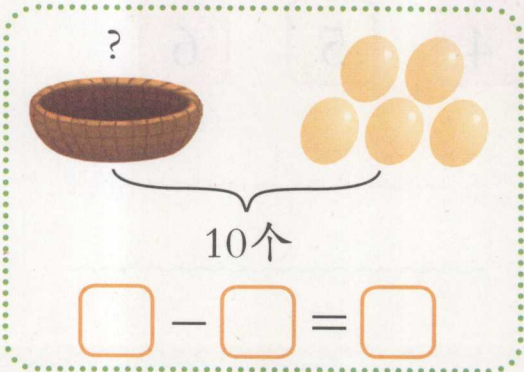

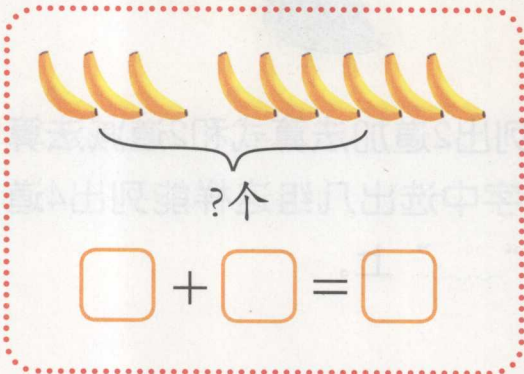


10以内数的应用题

1. 看图写算式。



2. 看图列式计算。





3. 连一连。



$6 + () = 8$
 $10 - () = 3$
 $() + 5 = 9$
 $() - 3 = 6$

4. 户外活动的时间到了，孩子们排成两队。老师请艾丽和菲尔去数一数，每队有多少人？



艾丽：_____人

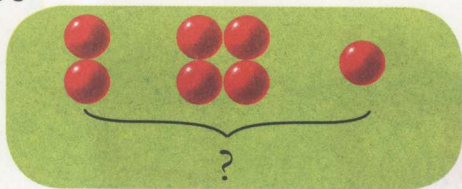
菲尔：_____人




10以内的连加连减运算

1. 看图列加法算式。


例：



$$2 + 4 + 1 = 7$$




$$\square + \square + \square = \square$$




$$\square + \square + \square = \square$$

2. 看图列减法算式。


例：



$$9 - 2 - 3 = 4$$



$$\square - \square - \square = \square$$



$$\square - \square - \square = \square$$

3. 连一连。

$$3+5+1$$

$$5+1+2$$

$$7-2-3$$

2

5

9

4

7

8

$$10-1-4$$

$$4+0+3$$

$$10-2-4$$