

☆ 培养孩子的思考能力、分析能力、动手能力、创造能力

4

岁

数学真好玩


童年美术设计有限公司 编绘 李一麟 著

3岁

4岁



5岁

6岁



幼儿园
学前班
家庭学习
适用

湖南少年儿童出版社
HUNAN JUVENILE & CHILDREN'S PUBLISHING HOUSE



幼儿园
学前班
家庭学习
适用

☆培养孩子的思考能力、分析能力、动手能力、创造能力


4



数学真好玩



童年美术设计有限公司 编绘 李一麟 著



图书在版编目(CIP)数据

数学真好玩·4岁 / 李一麟著. —长沙: 湖南少年儿童出版社, 2011.2

ISBN 978-7-5358-6181-8

I. ①数… II. ①李… III. ①数学课—学前教育—教学参考资料 IV. ①G613.4

中国版本图书馆CIP数据核字(2011)第002707号

数学真好玩·4岁

出版人: 胡 坚

质量总监: 郑 瑾

责任编辑: 谭菁菁 周亚丽

特约编辑: 谢建华

美术指导: 陈 怡

装帧设计: 徐剑莉 张春风

制 作: 童年美术设计有限公司 <http://www.yidubao.com>

出版发行: 湖南少年儿童出版社

地 址: 湖南长沙市晚报大道89号 邮 编: 410016

电 话: 0731-82196340 82196341 (销售部) 82196313 (总编室)

传 真: 0731-82199308 (销售部) 82196330 (综合管理部)

经 销: 新华书店

常年法律顾问: 北京市长安律师事务所长沙分所 张晓军律师

印 刷: 河源市天才印务有限公司

开 本: 889mm×1194mm 1/16

印 张: 5

版 次: 2011年6月第1版 印 次: 2011年6月第1次印刷

定 价: 18.50元

版权所有 侵权必究

质量服务承诺: 若发现缺页、错页、倒装等印装质量问题, 可直接向本社调换。



卷首语



众所周知，幼儿天性好奇、好动，容易被一些有趣、好玩的事物所吸引。心理学研究表明，3~6岁是幼儿学数学的敏感期。根据幼儿的成长特性和我国《幼儿园教育指导纲要》（试行）的要求，我们遵循“寓教于乐”“循序渐进”的原则，精心编制了这一套《数学真好玩》丛书，希望能激发幼儿的学习兴趣，让孩子从小就喜欢数学。本套丛书分为4册，适合3~6岁的幼儿选用。


《数学真好玩》不同于以往普通幼儿数学读物，它是一套有声图书。书中的角色能发出有趣、富有个性的声音，引领幼儿在“数”与“形”的活动平台上尽情地去“玩”数学。书中画面新颖、精美，造型活泼、可爱，内容丰富，贴近生活，游戏、猜谜、故事等穿插其中，使幼儿在玩乐中不知不觉进入五彩斑斓的数学王国。书中的数学问题给孩子留下了广阔的思维空间，能更好地激励幼儿独立思考、努力探究。通过“玩”数学，幼儿会逐渐从数学就在自己身边的体验中产生“数学真好玩”的感觉，在观察、类比、联想、归纳、演绎与猜想等活动中体会到数学思考也是一件很好玩的事情。

培根说过：“数学是科学的大门和钥匙。”期望有更多的小朋友能从“数学好玩”的体验中起步，掌握数学这把钥匙，不断地去感受数学殿堂的有趣和神奇。

数学特级教师 李一麟



乐器合奏



聪明的小朋友，请你把隐藏在森林音乐会里的数字全部找出来吧。






森林灯会

动物们拿着漂亮的彩灯参加灯会，请你数一数，彩灯共有几种款式？





数一数金鱼灯和莲花灯各有几个，然后把它们的数量分别写在对应的方框里吧。



--	--

--	--




数轮子

小动物们在赛车，请你数一下小动物的独轮车、自行车、三轮车和小汽车各有几个轮子，然后把数字写在相应的方框里。



数水果



小朋友，请你仔细观察，地上的香蕉，哪一串的个数最多，然后数一数，看看你观察的结果对不对。



数一数下图中4种水果的数量，把它们与对应的小圆圈及数字连起来。

	•		•		•	5
	•		•		•	6
	•		•		•	7
	•		•		•	8




小狒狒学数数

狒狒妈妈用手势教小狒狒数数。请你帮小狒狒数数竖起来的手指的数量，将它们与对应的数字连起来。

	•	• 9
	•	• 6
	•	• 10
	•	• 7
	•	• 8




拾松果



松鼠妈妈正带着2只小松鼠在林子里拾松果。请你仔细观察，并根据要求完成下列题目。

红衣松鼠要再拾几个松果，它篮子里的松果才会和松鼠妈妈的一样多？请把答案写在图一中的方框里。




松鼠妈妈要分给黄衣松鼠几个松果，2只小松鼠的松果才会一样多？请把你算出的答案写在图二中的方框里。






学习运算符号


小朋友,请你认一认下面的运算符号,然后一起来学习加法和减法吧。



我叫“等号”,表示两边的数一样大或两边的数经过运算后结果相同。





我叫“减号”,表示从一个数中去掉某一个数。



我叫“加号”,表示把两个数合在一起。

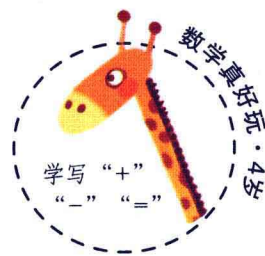
$$\begin{array}{ccccccc}
 \text{苹果} & \text{苹果} & \text{苹果} & + & \text{苹果} & = & \text{苹果} & \text{苹果} & \text{苹果} & \text{苹果} \\
 3 & & & & 1 & & & & & 4 \\
 \downarrow & & & & \downarrow & & & & \downarrow & \\
 \text{加数} & & & & \text{加数} & & & & \text{和} & \\
 \end{array}$$

加号
等号
↑
↑
+
=
↓
↓
加数
加数
和



$$\begin{array}{ccccccc}
 & & \text{减号} & & \text{等号} & & & & & \\
 & & \uparrow & & \uparrow & & & & & \\
 5 & - & 2 & = & 3 & & & & & \\
 \downarrow & & \downarrow & & \downarrow & & & & & \\
 \text{被减数} & & \text{减数} & & \text{差} & & & & & \\
 \end{array}$$

填符号



小朋友，请你在方框中学着写一写各种运算符号，然后再完成下面的题目吧。


	+			
	-			
	=			

请你在圆圈内填入“+”、“-”或“=”。



5 ○ 1 ○ 4 2 ○ 3 ○ 5

4 ○ 2 ○ 2 3 ○ 1 ○ 4




小猫咪找妈妈


2只小猫咪正在找妈妈。小猫咪身上的数字和妈妈身上的数字加起来得数是3，请你把小猫咪和它的妈妈用线连起来吧。




下图是由9根火柴棒摆出的一个错误的等式。你知道移动哪根火柴就可以使它变成一个正确的等式？请你把那根火柴找出来吧！



分烙饼

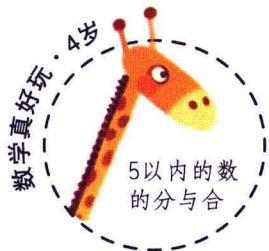


豆豆要把妈妈烙好的4块饼分别放进2个碟子里，你知道有几种方法吗？请你先想一想，然后在下列算式的方框中填入适当的数字吧。



$$\square + 1 = 4$$

$$2 + \square = 4$$



买面包

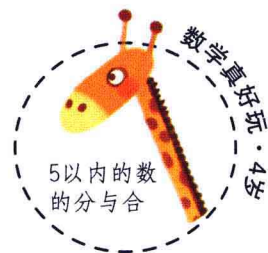
小林要去超市买5块面包，并把它们装进2个包装袋里。你知道应该怎么装吗？请在方框里填入正确的数字，用算式表达出来吧。



$$\square + \square = 5$$

$$\square + \square = 5$$

蒙眼拿花生



小林和妹妹在玩蒙眼拿花生的游戏。小林每次必须拿起5粒花生，并且每只手上都要有花生。他有几种拿花生的方法？请填一填吧。



左	右
5	

左	右
5	

左	右
5	

左	右
5	