



严格依据最新上海市公务员考试大纲编写

华智版
2013

上海市

公务员录用考试公共课突破系列

行测历年真题精解

陈五友 主编

华智公务员考试研究中心 审定

赠

200元
巨智学习卡

- ★ 历年真题全收录 考纲考点全覆盖
- ★ 多向思维全方位 实例点拨全角度
- ★ 解题快捷全速度 高分必备全盘赢

适用范围:

上海市公务员 | 事业单位 | 公安招警 | 干部考试等

团结出版社



严格依据最新上海市公务员考试大纲编写



华智版
2013

上海市公务员录用考试公共课突破系列

2012 年上海市录用公务员考试
《行政职业能力测验》A 卷

陈五友主编

华智公务员考试研究中心审定

团结出版社

图书在版编目(CIP)数据

行测历年真题精解 / 陈五友主编. -- 北京: 团结出版社, 2012.7

(上海市公务员录用考试公共课突破系列)

ISBN 978-7-5126-0849-8

I. ①行… II. ①陈… III. ①公务员—招聘—考试—中国—题解 IV. ①D630.3-44

中国版本图书馆CIP数据核字(2012)第067888号

出版: **团结出版社**

(北京市东城区东皇城根南街84号 邮编: 100006)

电话: (010) 65228880 65244790 (出版社)

(010) 65238766 85113874 65133603 (发行部)

(010) 65133603 (邮购)

网址: <http://www.tjpress.com>

E-mail: 65244790@163.com (出版社)

fx65133603@163.com (发行部邮购)

经销: 全国新华书店

印刷: 上海竟成印务有限公司

装订: 上海竟成印务有限公司

开本: 787×1092 毫米 1/16

印张: 31.5 印张

字数: 308 千字

版次: 2012年6月第1版

印次: 2012年6月第1次印刷

书号: 978-7-5126-0849-8/D.174

定价: 375.00 元 (全九册)

(版权所属, 盗版必究)

《行政职业能力测验》

考生须知

本测验共有五个部分，140 道题，总时限为 120 分钟。各部分不分别计时，但都给出了参考限，供你参考以分配时间。

请在题本、答题卡上严格按照要求填写好自己的姓名，填涂准考证号。

请仔细阅读以下注意事项：

1. 题目应在答题卡上作答，在题本上作答的一律无效。
2. 监考人员宣布考试开始时，你才可以开始答题。
3. 监考老师宣布考试结束时，你应立即停止作答，将题本、答案卡和草稿纸都翻过来留在桌上，待监考老师确认数量无误、允许离开后，方可离开。
4. 在这项测验中，可能有一些试题较难，因此你不要在一道题上思考时间太久，遇到不会答的题目，可先跳过去，如果有时间再去思考。否则，你可能没有时间完成后面的题目。
5. 试题答错不倒扣分。
6. 特别提醒你注意，填涂答案时一定要认准题号。
7. 严禁折叠答题卡！

目 录

2012年上海市公务员录用考试《行政职业能力测验》A卷参考答案及精解	1
2012年上海市公务员录用考试《行政职业能力测验》B卷参考答案及精解	19
2011年上海市公务员录用考试《行政职业能力测验》A卷参考答案及精解	38
2011年上海市公务员录用考试《行政职业能力测验》B卷参考答案及精解	54
2010年上海市公务员录用考试《行政职业能力测验》试卷参考答案及精解	71
2009年上海市公务员录用考试《行政职业能力测验》试卷参考答案及精解	90
2008年上海市公务员录用考试《行政职业能力测验》试卷参考答案及精解	107
2007年上海市公务员录用考试《行政职业能力测验》试卷参考答案及精解	124
2006年上海市公务员录用考试《行政职业能力测验》试卷参考答案及精解	138

2012 年上海市公务员录用考试

《行政职业能力测验》A 卷

第一部分 言语理解与表达能力

言语理解与表达能力部分包括三种类型的题目，均为单项选择题。每小题给出的 4 个选项中。只有 1 项是最符合题意的，请将正确选项选出，并在答题卡上将相应的字母涂黑。不选或错选，该题均不得分。（共 25 题）

一、选词填空(1—5 题)：根据题意，从所给的词语中选出最恰当的词语填入空格内。从而使句子的意思表达得最准确。

1. 依次填入下列横线处的词语，最恰当的一组是_____。

最好的和最宝贵的书，读了以后，会把你带入一个崭新的境界：这样的书会在我们心里唤起_____意识、_____渴望、_____感情；这样的书会从沉睡中把我们唤醒，使我们摆脱困惑的泥潭，引我们走上开拓生活之路的人生。

- ~~A~~. 强烈的，崇高的，纯洁的 B. 强烈的，纯洁的，崇高的
C. 纯洁的，崇高的，强烈的 D. 崇高的，强烈的，纯洁的

2. 依次填入下列各句横线处的成语，与句意最贴切的一组是 D 。

①《漫步华尔街》热销 30 余年仍经久不衰，很大程度上是因为本书构思新颖_____、
 创见频出而又资料翔实，它为投资者在险象环生的华尔街上引路导航。

②“晴天水潋潋，雨天山空蒙”的杭州西湖，无论雨雪晴阴早霞晚辉，还是春花秋月
 夏荷冬雪。都独具风韵。若想去“不雨山长润，无云山自阴”的十里梅坞品茶，更
 见山有美貌，坞有灵水，以茶生文，以文茗茶_____。

③人们选择和布置这么一个场面来作为迎春的高潮，真是_____。

④大家都很熟识的黄山谷的书法，在宋代要算是_____的了。

- A. 不落窠臼，匠心独运，独树一帜，别具一格
B. 独树一帜，匠心独运，不落窠臼，别具一格

- C. 独树一帜，别具一格，不落窠臼，匠心独运
D. 不落窠臼，别具一格，匠心独运，独树一帜
3. 能够欺骗你的，往往_____那些经不起理性检验的谎言和假象，_____那些被人刻意选择和过滤之后再告诉你的部分真相_____。
A. 不是，就是 B. 不是，而是
C. 不但是，而且是 D. 与其是，不如是
4. 人类赖以生存的地球，是一个“_____”的星球。它有着一道道的“防线”。尽管这些“防线”是天然的，但都像人为安排的那样_____。靠着这些铜墙铁壁般的天然_____, 地球才能抵挡多样的天外袭击，_____着地球上的生命。
A. 设防，巧妙，屏障，保护 B. 防卫，巧妙，屏障，保证
C. 防卫，奇妙，障碍，保证 D. 设防，奇妙，障碍，保护
5. 在生活中出现摩擦、不快和委屈是常有的事，我们不能以针尖对麦芒，因为怨恨就像是一只气球。越吹越大，最后膨胀到无法控制的地步。要消除怨恨，我们应该不念旧恶，不计新怨，_____。
A. 退一步海阔天空 B. 得饶人处且饶人
C. 偷得浮生半日闲 D. 直挂云帆济沧海

二、语句表达(6—10题): 从词语运用、语法结构等方面对给出的语句作出判断。

6. 下列句子中，划线的成语使用不恰当的一句是_____。
A. 2011 中国达人秀，有太多光芒四射的草根明星。他们翻手为云，覆手为雨，在现实与梦想中以绝伦的才艺和旺盛的生命力给人们惊叹与折服
B. 在这次全国性京剧大赛中，有不少青年演员已开始崭露头角，我们欣喜地发现京剧表演艺术之美必然会代代相传
C. 许多应试者都有一种考场经验和体会，那就是在临考前必须保持平和而放松的状态，那种连续开夜车疲劳驾驶的迎考方法常常会事倍功半
D. 十年的辛酸竟是为了赔一串假项链——《项链》出人意料的结尾，让读者不禁扼腕叹服大师的独具匠心
7. 下列句子中，“起来”的用法与其他三句不同的是_____。
A. 他早上爬起来喝了两杯牛奶。 B. 羚羊一听到动静就跑起来了。
C. 夏天六点钟，太阳升起来了。 D. 鲤鱼用力跳起来越过了堤坝。

8. 下面几个句子按顺序排列，语意最连贯的一项是_____。

①奖牌背面镶嵌玉璧

②即站立的胜利女神和希腊潘纳辛纳科竞技场全景

③奖牌正面使用国际奥委会统一规定的图案

④奖牌的挂钩由中国传统玉双龙蒲纹璜演变而成

⑤玉璧正中的金属图形上镌刻着北京奥运会的会徽

A. ③②①⑤④

B. ④③②①⑤

C. ③②④①⑤

D. ①⑤③②④

9. 下列四句话中有语病的是_____。

A. 日常饮食中有很多食物看似平常，其实对孕妇具有非常好的保健作用。

B. 随着救灾精神的发扬，越来越激发我思考一个问题：“咱当兵人应当承担怎样的社会责任？”

C. 如今在美国，宇航员仍然是最受人尊敬的职业之一，很多年轻人希望从事这一职业。

D. 中国环境保护部决定开展一项针对铅蓄电池行业的环保专项行动，以全面彻查环境违法问题。

10. 牙科医师经过化验发现，使用了3周的牙刷，细菌数量高达百万，等于超过9杯抹布水的细菌量以及29个一元硬币的细菌量，是马桶水细菌含量的80倍！

这段话的风格最有可能出自_____。

A. 散文

B. 科普文

C. 杂文

D. 议论文

三、阅读理解(11—25题)：下面给出一些语段和短文材料，仔细阅读分析，选出与所给语段或材料内容最相符合的选项。

11. 《古学汇刊》第一集记绛云楼买宋版《汉书》、《后汉书》的故事，据说初时缺《后汉书》两本，遍嘱书贾，大索天下，一直没有消息。一天傍晚，某书贾泊舟乌镇，买面作食，面店主人从败篋中取出旧书两本，将为包裹，微睨之，宋版《后汉书》也。书贾大喜，只是首页已缺，问之主人，知道刚为邻翁裹面以去，结果又把这一页也追了回来。

这段文字的内容可以概括为_____。

A. 踏破铁鞋无觅处，得来全不费工夫

B. 有心栽花花不发，无心插柳柳成荫

C. 山穷水尽疑无路，柳暗花明又一村

D. 书到用时方恨少，事非经过不知难

12. 我们有走向国际舞台的好导演，也有社会责任感较强的作家，但是世俗社会的艺术趣味并不如艺术家那般乐观，或者说饮食众生们对生活的诗意关怀还不够。这样的情形是否提示我们不妨多阅读点儿古典的东西，从本民族的优秀文化中汲取人文营养，即使对于那些专攻外语和计算机技术的人也是还是有意义的。想一想，人们除了吃喝拉撒的本能以外还是应该有些别的奇妙的东西，而这些，人们可以从经典的诗歌散文、优美的诗情画意中获得。

这段文字论述的核心观点是_____。

A. 人们应当多阅读点儿古典的东西，从本民族的优秀文化中汲取人文营养

B. 经典的诗歌散文、优美的诗情画意可以带给人们别的奇妙的东西

C. 不读诗和散文的人恐怕得不到奇妙的东西

D. 阅读诗和散文、品味诗情画意、能关注生存状态的人气质与众不同

13. 硅藻是南极浮游植物中最主要的成分，其繁衍能力极强。它的大量生长为海域内几十亿吨磷虾的生长提供了充足的条件。磷虾用途甚广，它将是人类大有希望的蛋白质的来源之一，也是南极生态中的一个关键性的生物，没有它就没有那么多的鲸类、企鹅和海豹等。于是，有人认为把磷虾作为南极生物的象征比起企鹅来说更为合适。

这段文字论述的中心是_____。

A. 把磷虾作为南极生物的象征最恰当

B. 磷虾的广泛用途和重要作用

C. 没有硅藻就没有磷虾、鲸类、企鹅和海豹

D. 硅藻的繁衍能力极强，是人类大有希望的蛋白质来源

14. 网络经济的特征是：信息产业将在世界范围内大大发展，以此为基础的各种服务行业将成为越来越多的国家的主导产业；世界经济全球化的进程大大加速，国际投资、国际贸易以及跨国生产进一步发展；跨国公司和跨国经营将在世界经济中占主导地位，其内部流通将在越来越大的程度上取代通常的国际投资和国际贸易，等等。这种趋势必将在更大程度上冲击国家经济主权和经济安全，从而使各国特别是发展中国家面临新的挑战。

根据这段文字的内容，下列关于“网络经济的特征”的说法中，错误的是_____。

A. 信息产业将在世界范围内大大发展

B. 世界经济全球化的进程大大加速

C. 跨国公司将在世界经济中占主导地位

D. 发展中国家的主权必将遭受更大冲击

15. 哲学是属于理智方面的事，文学是属于情感方面的事。我们研究哲学时，每须先将头脑放冷静了，然后才能寻究其中的道理。至读文学时，则宜带着兴奋的心灵，欣赏其一切。若读“哲理诗”，理智与感情并用，同时冷热，很觉不痛快。

这段文字的主要论题是_____。

A. 哲学与文学的差别

B. 研究哲学的方法

C. 哲理诗的缺点

D. 欣赏文学的方法

16. 人的天赋、知识、智慧和能力等等总是有区别的，所以不是每个人都能像比尔·盖茨一样伟大，但是只要我们不断努力，找准自己的定位，永不放弃，我们即使不能像太阳那样金光闪闪，我们也可能像月亮一样发出光芒。

对这段文字的概括最正确的是_____。

A. 天生我才必有用

B. 是金子总会发光

C. 人生贵在坚持

D. 成功源自勤奋

17. 老鼠是人人喊打的坏蛋，不过它可是草原生态系统中不可缺少的角色。如果鼠类数量过多，大量啃食草根，那就会使食物减少，鼠类死亡率增加，生殖力下降。同时，鼠类过多还会使它们的天敌——鹰、黄鼠狼等得以发展，反过来抑制鼠类的增加。等到鼠类减少到一定程度，草原生态系统才会恢复到原来的状态。

根据这段文字的内容，下列说法错误的是_____。

A. 老鼠是草原生态系统中不可缺少的角色

B. 鼠类越少越易恢复草原生态系统原状

C. 鼠类过多会使鹰和黄鼠狼等得以发展

D. 鼠类数量过多会间接导致其生殖力下降

18. 知识沟假设认为随着大众传媒向社会传播的信息日益增多，处于不同社会经济地位的人获得媒介知识的速度是不同的，社会经济地位较高的人将比社会经济地位较低的人以更快的速度获取这类信息，因此这两类人之间的知识差距将呈扩大而非缩小之势。

对这段文字的理解，不正确的是_____。

A. 知识沟和代沟一样是一种比喻的说法

B. 在现代知识沟扩张的速度会越来越快

C. 知识沟由社会经济地位的差距决定

D. 获得知识越快速的人知识沟就越深

阅读下面的文章，回答第 19—21 题。

在历法王国里，谁也没有我伟大，我就是历法之魁，通行全世界的公历。我的全名叫格里高利历，人们却喜欢叫我的小名，阳历，因为我是根据地球绕太阳公转一周的时间制定的。

我的父亲是儒略历，他也不愧为一代天骄。公元前古罗马人的历法一年有 365 天。可每两年就需增加 22 或 23 天，因此日期常常变换，老百姓经常弄不清日期。公元前 46 年，罗马统帅儒略·恺撒决定让我父亲掌管历法。父亲行使的权力主要有：一年分为 12 个月，单月 31 天，双月 30 天，唯有 2 月是 29 天。因为在罗马，2 月是行刑期，人们认为 2 月是个不吉祥之月，不能过得太长，所以从 2 月中减去一天，这样也符合当时测得地球公转 1 周的时间。

父亲上任不久，儒略·恺撒死了，他的侄子奥古斯都当上了罗马帝国的第一任皇帝。他征服埃及和结束国内战争是在 8 月，为了炫耀自己，奥古斯都给父亲动了个小手术：用自己的名字“August”作为 8 月的名称。他还嫌 8 月是小月，就从 2 月中抽出一天，加在 8 月上。又打乱 8 月后面大小月的顺序，因而，大月变小月，小月变大月。他的手术很成功，一直到现在还是 1、3、5、7、8、10、12 为大月，2、4、6、9、11 为小月。

父亲掌管历法一千多年，虽然工作认真、负责，但是由于过于年迈迂腐，跟不上科学技术的发展，到 1582 年，所显示的日期和实际的日期已经相差了 10 天。这样，罗马教皇格里高利十三世提出，让我接父亲的班。我上班后立即决定把这年的 10 月 5 日改为 10 月 15 日，纠正了父亲的误差。为了使自己更完善，我还规定每 400 年中取消 3 个闰日。这样平均年长为 365.2425 日，比太阳年的实际长度 365.24219 日仅差 26 秒，从此，我就登上了历法至尊的宝座。

我的优点很多，一上任就被当时的天主教国家，如罗马、意大利、法国、西班牙等国重用。中国一直到 1912 年才把我引进。

19. 下列对历法特征的表述，不正确的是_____。

- A. 儒略历一年分 12 个月，单月 31 天，双月 30 天，2 月 29 天
- B. 奥古斯都改订后的儒略历规定 1、3、5、7、8、10、12 为大月，2、4、6、9、11 为小月，2 月 28 天
- C. 公历在奥古斯都改订后的儒略历的基础上加 10 天
- D. 公历在奥古斯都改订后的儒略历的基础上规定每 400 年中取消三个闰日，年平均长度为 365.2425 日

20. 下列对本文写法的分析, 不准确的是_____。
- A. 用拟人手法、以自述形式介绍有关历法知识, 生动亲切, 构思奇特
 - B. 按罗马历法发展的时间顺序组织材料, 条理清楚
 - C. 使用大量确凿的数据, 保证了说明的准确性、科学性
 - D. 拟人说明与非拟人说明相结合是本文的特点
21. 这段文字主要说明的是_____。
- A. 世界历法的发展过程
 - B. 公历和公历的来历
 - C. 什么是儒略历和公历、奥古斯都改订后的儒略历和格里高利历
 - D. 公历的优点

阅读下面的文章。回答第 22—25 题。

(一)、辩证唯物主义的认识论, 把实践作为认识过程的基础, 这是它同以前的认识论相区别的一个根本标志。因此, 要全面关注孩子的素质, 首先必须关注他们的活动的发展和变化。

(二)、辩证唯物主义认为, 人的心理既不是由什么先天的遗传、先验的精神或图式决定的, 也不是由环境、由外界事物机械地决定的。人的心理, 包括儿童的心理, 并不是什么先天的东西预定的运动, 也不是对外界事物的直观的、机械的反映, 而是在人的积极活动中, 在主体和客体相互作用中的一种能动的反映。人的心理, 包括儿童的心理, 都是在活动中形成的, 也是在活动中表现的, 并且随着活动形态(游戏、学习、劳动)的不断发展而向前发展。这才是正确理解人, 包括儿童心理发展的正确的钥匙。

(三)、人的实践活动主要是认识世界和改造世界的活动。但从个体来说, 实践活动有一个形成和发展过程。儿童出生不久, 就产生了完整的有目的动作; 继而便出现了专门接受人类经验的学习活动; 最后, 出现了改造自然、改造社会的劳动生产和社会生活这一典型形态的实践活动。在这一过程中, 儿童从学会适应社会生活, 逐步发展到学会改造社会。这样, 他就成为一个独立的社会成员。

22. 这篇短文所讨论的主要问题是_____。
- A. 辩证唯物主义的认识论
 - B. 人的心理的形成过程
 - C. 实践活动与儿童心理发展
 - D. 实践活动的重要性
23. 根据全文内容, 第一段中说“要全面关注孩子的素质, 首先必须关注他们的活动的发展和变化”, 其原因在于_____。
- A. 孩子的素质只有在实践活动中才得以形成

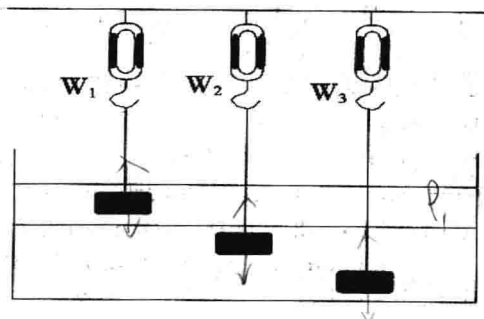
- B. 孩子的素质只有在实践活动中才得以发现
 C. 孩子的素质只有在实践活动中才得以认识
 D. 孩子的素质只有在实践活动中才得以检验
24. 根据第二段的内容, 下列说法中正确的是。
 A. 人的心理不是由任何事物决定的
 B. 人的心理不是任何事物的反映
 C. 人的心理是在活动中形成和发展的
 D. 人的心理是主体对外界事物的客观反映
25. 根据第三段的内容, 作者认为儿童“成为一个独立的社会成员”的标志是_____。
 A. 适应社会生活
 B. 接受人类经验
 C. 参加劳动生产
 D. 学会改造社会

第二部分 判断推理

判断推理能力部分包括四种类型的题目, 均为单项选择题。每小题给出的 4 个选项中, 只有一项是最符合题意的, 请将正确选项选出, 并在答题卡上将相应的字母涂黑。补选或错选, 该题均不得分。(30 题)

一、科学推理(26—30 题): 综合运用自然科学原理进行分析判断, 得出最符合题意的答案。

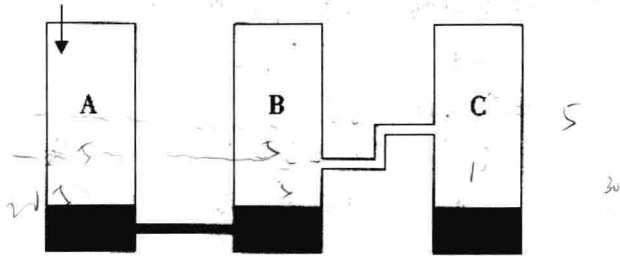
26. 如右图所示, 有一容器, 内装互不相溶的两种液体。现将质量及体积皆相同的三个铝块, 分别以细绳悬吊于弹簧秤下, 使静止于液体中。若弹簧秤的读数分别为 W_1 、 W_2 和 W_3 , 则下列关系正确的是_____ (细绳之重量及粗细不计)



- A. $W_1=W_2=W_3$
 B. $W_1>W_2=W_3$
 C. $W_1>W_2>W_3$
 D. $W_1<W_2=W_3$

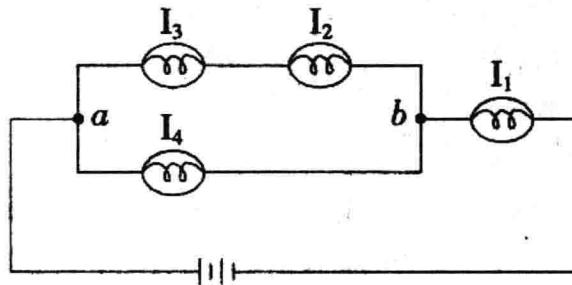
27. 如右图所示，三个相连的容器 A、B、C，容量都是 25 公升。每个容器里都有 5 公升水。

如果 45 公升水慢慢倒入容器 A，待稳定后，容器 C 里会有_____公升水。




- A. 20
- B. 10
- C. 15
- D. 5

28. 将四个相同的灯泡和两个相同的电池以导线联接。其电路如图。若通过各灯泡的电流分别为 I_1 、 I_2 、 I_3 和 I_4 ，假设电池供应的电压稳定，并联电路 a、b 间的电压维持在定值，则下列电流关系正确的是_____。

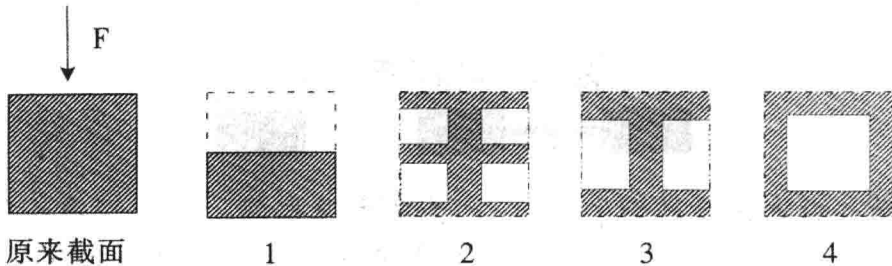


- A. $I_1 = I_2 + I_3$
- B. $I_2 = I_3$
- C. $I_1 = I_2 + I_3 + I_4$
- D. $I_2 = I_4$

29. 用一块凸透镜对着阳光，在透镜后面放一张白色纸屏，由于凸透镜对光线有会聚作用，纸屏上出现三个明暗不同的区域，如图所示。因阳光会聚中央区域最亮，其次是周围阳光直射的地方，两者之间有一个最暗的区域，那里既没有直射的阳光也没有折射的阳光。现将凸透镜换一块对光线有发散作用的凹透镜，那么明暗区域可能变成图中的_____。



30. 截面为方形的实心钢梁若受到压力发生形变，钢梁的上部呈压缩形变，越在上面的部分形变越大；钢梁的下部呈拉伸形变，越在下面的部分形变越大，钢梁的正中间无形变。形变越大的地方产生的回复力越大，抗弯曲（抗形变）的贡献也越大。为了将钢梁的重量减轻一半，现有四种方案，其截面图如下所示，减重后的钢梁抗弯性都要下降，但抗弯性相对较强的方案是_____。



- A. 1 和 2
B. 1 和 3
C. 2 和 3
D. 3 和 4

二、定义判断(31—35 题)：每道题先给出一个概念的定义，然后再给出一组事物或行为的例子，要求从中选出最符合或不符合该定义的典型事物或行为。假设给出的概念的定义是正确的，不容置疑的。

31. 麦加利地震烈度是一个量度地震对某一特定地点所受到的影响的量度单位。由地震时地面建筑物受破坏的程度、地形地貌改变、人的感觉等宏观现象来判定。麦加利地震烈度从感觉不到至全部损毁分为 1 至 12 度，5 度或以上才会造成破坏，烈度会因观测地点的不同而异。

根据上述定义，下面说法错误的是_____。

- A. 与震源越近的地区麦加利地震烈度肯定越大
B. 麦加利地震烈度并非地震之绝对强度
C. 麦加利地震烈度与地震区域的各种条件有关
D. 麦加利地震烈度是表示地震破坏程度的标度
32. 硬新闻是关系到国计民生以及人们切身利益的新闻，包括党和国家的重大方针、政策的制定和改变、市场行情、疾病流行、天气变化、重大灾难事故等。硬新闻为人们的政治、经济、工作、日常生活的决策提供依据。

根据上述定义，下面不属于硬新闻的是_____。

- A. 中国价值 5600 余万元救灾物资经上海口岸援助泰国
B. 北大硕士生回农村老家建设“立人”图书馆促教改

C. 上海今明两年各增 18 万新生儿，创十年来生育最高峰

D. “神八”追梦，中国实施首次空间对接

33. “图腾”一词来源于印第安语“totem”，意思为“它的亲属”、“它的标记”。在原始人信仰中，认为本氏族人都源于某种特定的物种，即与某种动物或自然物具有亲缘关系。于是。图腾信仰便与祖先崇拜发生了关系。“totem”的第二个意思是“标志”。图腾标志在原始社会中起着重要的作用，它是最早的社会组织标志和象征，具有团结群体、密切血缘关系、维系社会组织和互相区别的职能。

根据上述定义，下面不属于图腾现象的是_____。

A. 鄂伦春族称公熊为“雅亚”，意为祖父。称母熊为“太帖”。意为祖母

B. 侗族传说中，其始祖母与一条大花蛇交配，滋生繁衍而形成侗族

C. 古代朝鲜族每一村落村口都立一鸟杆。作为本氏族的象征

D. 蒙古族以“苍天”为永恒最高神，“成吉思汗”的含义就是“赖苍天之力而为汗者”

34. 所谓“同质化竞争”是指同一商品大类中不同品牌的商品在性能、外观甚至营销手段上相互模仿，以至逐渐趋同的现象。同质化竞争不利于消费者识别商品特点。若是知名品牌。尚有竞争力，若是一般品牌，免不了要进行残酷的价格战，市场前景不容乐观。

根据上述定义，下面属于同质化竞争的是_____。

A. 出版社跟风出版穿越小说

B. 农村兴起绿色有机种植业

C. 利用网络做宣传风行一时

D. 保健品行业虚假广告成风

35. “木马”程序是目前比较流行的病毒文件，与一般的病毒不同，它不会自我繁殖。也并不“刻意”地去感染其他文件，它通过将自身伪装成正常文件吸引用户下载执行。为施种木马者打开被种者电脑的门户，使施种者可以任意毁坏、窃取被种者电脑中的文件。甚至远程操控被种者的电脑。

根据上述定义，“木马”程序造成的最主要危害是_____。

A. 破坏系统文件

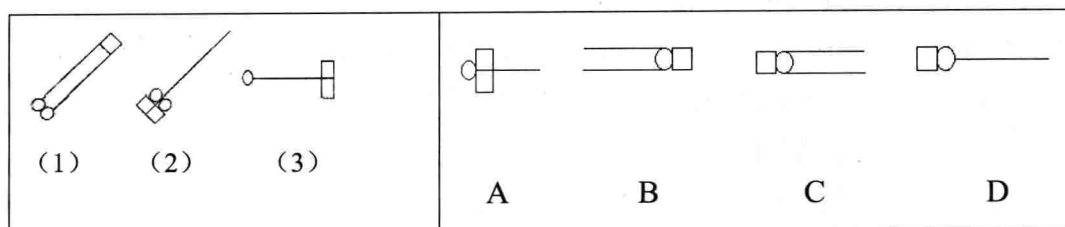
B. 降低运行速度

C. 窃取用户隐私

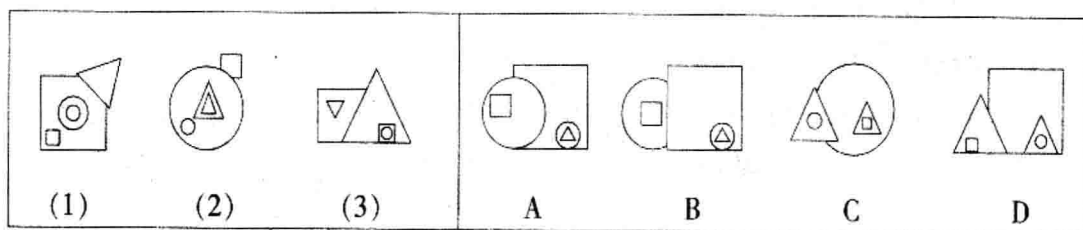
D. 伪装正常文件

三、图形推理（36—45 题）：仔细观察给出的图形，根据题意从备选项中选出满足要求的正确答案。

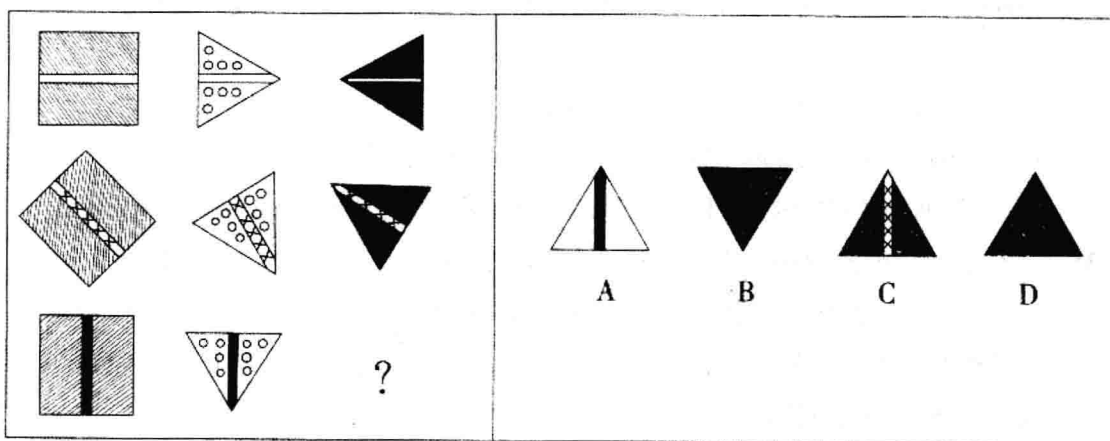
36. 根据(1)和(2)的变化规律, (3)与图_____对应。



37. 根据(1)和(2)的变化规律, (3)与图_____对应。



38. 根据左图的变化规律, 得到的图形是_____。



39. 将下列右边的折叠图_____展开后, 可以得到左边的图。

