

成都四中 七中 九中

# 2007 天府秘卷

四川高考全真模拟试题

文科综合能力测试

成都第七中学 编



四川出版集团  
四川教育出版社

2007 天府秘卷

四川高考全真模拟试题

文科综合能力测试

成都第七中学 编

四川出版集团·四川教育出版社  
成都

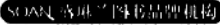
**图书在版编目 (CIP) 数据**

2007 天府秘卷. 文科综合能力测试: 四川高考全真模拟试题/成都市第七中学编. —成都: 四川教育出版社, 2006. 12

ISBN 7-5408-4423-X

I. 2... II. 成... III. 文科(教育)—课程—高中—习题—升学参考资料 IV. G634

中国版本图书馆 CIP 数据核字 (2006) 第 139036 号

策 划 编辑三部  
责任编辑 苟世建  
版式设计 王 凌  
封面设计  四川考试院图书品牌机构  
责任校对 严道丽  
责任印制 黄 萍  
出版发行 四川出版集团 四川教育出版社  
(成都市槐树街2号 邮政编码610031)  
出 版 人 安庆国  
印 刷 成都市辰生印务有限责任公司  
版 次 2006 年 12 月第 1 版  
印 次 2006 年 12 月第 1 次印刷  
成品规格 285mm × 420mm  
印 张 5.5  
字 数 136 千  
定 价 8.00 元

如发现印装质量问题, 请与本社调换。电话: (028) 86259359  
编辑部电话: (028) 86259381 邮购电话: (028) 86259694  
本书无激光防伪标志不得销售。

## 出版说明

2006年，四川省高考实施了自主命题。四川教育出版社适时推出了2006版《天府秘卷·四川高考全真模拟试题》，在全川60万考生中引起了极大的反响。高考实战中，使用了《天府秘卷》丛书的各地考生均受益匪浅，纷纷来电来函，对我们表示感谢。

为了更好地为2007年全省考生和高三指导老师服务，作为享誉国内的教育专业出版机构，四川教育出版社会同成都石室中学（四中）、成都第七中学、成都树德中学（九中），组织众多命题专家、高考阅卷指导委员、高三年级金榜状元指导老师，在认真研讨了四川省自主命题思路、命题特色、考试应对策略的基础上，隆重推出了《2007天府秘卷·四川高考全真模拟试题》丛书。这套丛书体现了四川省高考自主命题的新思路、新观念、新特点，达到了我省高中教育和高考复习训练的顶级水平。

本丛书区别于其他类似图书的特点有以下几方面：

第一，权威性。丛书是由四川教育出版社与四川省顶级名校成都四、七、九中官方合作，共同倾力打造的品牌教辅，其权威性是那些只有几位名校教师挂名编写的图书不能相提并论的。

第二，实用性。该套丛书所选试题，均是各校为适应四川高考自主命题新形势而全力打造的原创性试题，是名校的“独门秘笈”。从命题的选材、试题的遴选、答案的解析，都经过众多专家多轮的评估和讨论。丛书出版后，首先在四、七、九中高三毕业班总复习中全面使用。

第三，前瞻性。和其他一些试题汇编不同的是，本套丛书不是汇集既往试题的“陈年旧酒”，来装自主命题的“新瓶”，而是对2007年四川高考作全面前瞻性的判断和预测。特别是文科题目，紧扣社会热点，体现了时代性。

第四，地方性。四川是一个历史悠久、人文荟萃、自然环境丰富多样的西部大省。该套丛书所编试题在考试大纲要求范围内，特别选择了适量

与四川历史、文化、地理相关的题目，以贴近四川考生所熟悉的生活环境，有利于考生充分发挥运用所学知识解决实际问题的能力。

### 《文科综合能力测试》分册

主 编：成都第七中学 王志坚（校长） 江华国（副校长）

统 稿：王开元 李 萍 任旭东

参加编写：王开元 周 红 邱兴华 王才金 李 萍 阳 达

何 静 游 梅 曾贤明 任旭东 蔡泽勇 龙亚男

李 杰

### 使用建议：

1. 丛书从试题的排版格式、字体、字号到答题留空都尽量和高考试卷保持一致，但是，为了节约版面，同高考真卷采用的版式仍有一些区别，敬请考生注意。但这丝毫无损这套丛书的全真性质和一流水平。

2. 2007年2月底，我们还将第一时间推出更具针对性的“文科冲刺卷”和“理科冲刺卷”，敬请关注、期待！

3. 丛书共分语文、数学（文科）、数学（理科）、英语、文科综合能力测试、理科综合能力测试（以上6册均含6套全真模拟试题）、文科冲刺卷、理科冲刺卷（以上2册各学科含3套冲刺试题）八个分册，活页装订，答案可拆，既适合考生自我练习、检测之用，又能满足老师组织专题复习、强化模拟训练的要求。“全真模拟试题”适合二轮复习使用，“冲刺卷”适合三轮复习使用。我们还采纳了广大考生、老师、家长的意见，答案内容更加准确详尽。

祝愿广大考生用好《天府秘卷》，考出理想成绩，考上心仪的大学！

读者对本丛书有何使用感想、建议，诚挚欢迎致函或电邮本书编辑部。

邮政编码：610031 成都市槐树街2号四川出版大厦10楼四川教育出版社编辑三部。

电话：028-86259383 86259384；E-mail: hxcryf@sina.com QQ: 85088765

发行热线：028-86259605 13981733303 13908006405

四川教育出版社

2006年12月

## 2007 天府秘卷·四川高考全真模拟试题

## 文科综合能力测试(一)

说明:本试卷分为第Ⅰ卷(选择题)和第Ⅱ卷(非选择题)两部分,共300分,考试时间150分钟。

## 第Ⅰ卷(选择题 共140分)

本卷共35小题,每小题4分,共140分。在每小题给出的四个选项中,只有一项是符合题目要求的。

图1为某区域等高线地形图,图中有三处水面。读图回答1~3题。

- ①沿岸的植被特征是 ( )
  - 叶片宽大、柔嫩,根系十分发达
  - 终年常绿,高大茂密,形成板状根
  - 叶质坚硬,叶面有蜡质,根系深
  - 叶片宽厚,夏季葱绿,冬季落叶
- ②至③之间位于 ( )
  - 生长边界
  - 消亡边界
  - 造山地带
  - 板块内部
- 甲城发展起来的主导区位因素是 ( )
  - 水源
  - 政治
  - 宗教
  - 军事

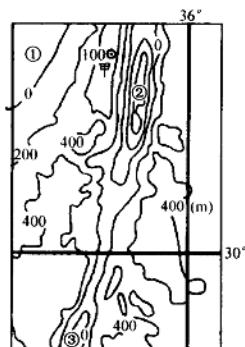


图1

比较“1990年和2004年我国农业产值构成图”,回答4、5题。

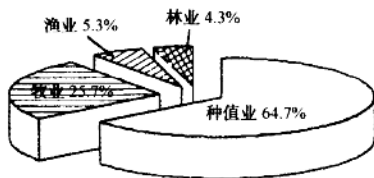


图2 1990年我国农业产值构成




图3 2004年我国农业产值构成

- 2004年与1990年比较,种植业所占比例明显减小,其主要原因有 ( )
  - 耕地面积有所减少
  - 自然灾害造成减产
  - 单位面积产量减少
  - 农业结构的调整
  - ①④
  - ②③
  - ②④
  - ①②
- 根据我国的国情,比较合理的农业产值构成应该是 ( )
  - 扩大林业的比例,保持种植业的比例
  - 适当缩小种植业的比例,扩大林、牧、渔业的比例
  - 保持种植业的比例,扩大渔业的比例

D. 继续扩大种植业的比例

图 4 为某海域的表层盐度 (‰) 分布图, 读图回答 6、7 题。

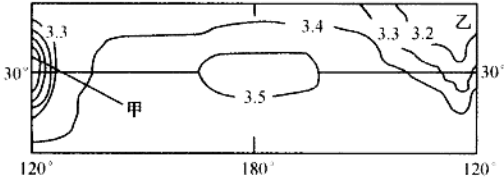


图 4

6. 造成甲处盐度等值线密集的主要原因是 ( )
  - A. 降水量大
  - B. 海区封闭
  - C. 受暖流影响
  - D. 位于大河入海口附近
7. 乙处盐度等值线弯曲的主要原因是 ( )
  - A. 受地中海气候影响
  - B. 受加利福尼亚寒流影响
  - C. 受秘鲁寒流影响
  - D. 沿岸沙漠分布, 从陆地汇入的淡水很少

图 5 中 a、b 为某日两地的太阳视运动路线, 地平图分别与 a 或 b 相对应, 读图回答 8~11 题。

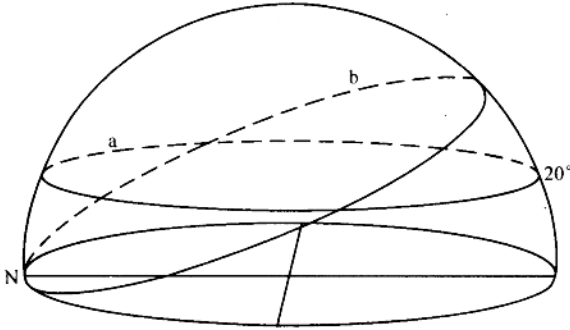


图 5

8. a、b 的运动路线是 ( )
  - A. a 为顺时针, b 为逆时针
  - B. a 为逆时针, b 为顺时针
  - C. a、b 均为顺时针
  - D. a、b 均为逆时针
9. a、b 对应的两地地理纬度分别是 ( )
  - A. 90°N, 70°N
  - B. 90°N, 60°N
  - C. 90°S, 70°S
  - D. 20°N, 30°N
10. 该日可能是 ( )
  - A. 1 月 1 日前后
  - B. 6 月 22 日前后
  - C. 7 月 5 日前后
  - D. 12 月 22 日前后
11. 此季节 ( )
  - A. 乌拉尔河河面封冻, 凌汛泛滥
  - B. 阿根廷正忙碌收割小麦
  - C. 川西满山红叶, 华北秋高气爽
  - D. 最宜观赏黄山云海

解决台湾问题, 完成祖国统一大业, 是中华民族的根本利益所在。据此回答 12~14

题。

12. 元朝时管辖台湾的机构是 ( )  
A. 宣政院 B. 理藩院 C. 澎湖巡检司 D. 枢密院
13. 晚清政府被迫将台湾割让与日本的不平等条约是 ( )  
A. 《天津条约》 B. 《北京条约》  
C. 《马关条约》 D. 《辛丑条约》
14. 西方大国首次明确承认台湾是中国领土组成部分的国际会议是 ( )  
A. 德黑兰会议 B. 开罗会议  
C. 雅尔塔会议 D. 波茨坦会议

中国共产党充分认识到党风建设的重要作用,在不同历史时期进行了一系列党风建设,这是党健康发展的重要保证。据此回答 15~17 题。

15. 1942 年延安整风运动取得的最重要的成果是 ( )  
A. 从军事、组织上纠正了博古等人的“左”倾错误  
B. 确立了以毛泽东为核心的党中央的领导  
C. 确立了毛泽东思想为党的指导思想  
D. 形成了全党空前的团结和统一
16. 1949 年中共七届二中全会在党的建设方面作出的突出贡献是 ( )  
A. 宣布中国共产党即将成为执政党  
B. 妥善处理了党内存在的分歧和矛盾  
C. 要求全党抵制腐朽思想的侵蚀,继续保持党的优良传统  
D. 在全党范围内进行了一次普遍的马克思主义教育
17. 1957 年整风运动的目的是 ( )  
A. 为中共“八大”确定正确的方针  
B. 完成三大改造  
C. 有利于第一届全国人大的召开  
D. 有利于社会主义经济建设

近现代史上,日本与西方资本主义国家多次结盟,对其自身发展及周边影响巨大。据此回答 18~20 题。

18. 1902 年有利于日本在东亚侵略扩张的同盟条约是和下列哪个帝国主义国家签订的 ( )  
A. 美国 B. 英国 C. 沙俄 D. 意大利
19. 下列历史事件发生在 20 世纪 30 年代德日签署《反共产国际协定》之后的是 ( )  
A. “九一八事变” B. “一二八事变”  
C. 华北事变 D. “七七事变”
20. 二战后日本经济高速发展的最重要外部因素是 ( )  
A. 苏联占领日本北方四岛 B. 中国大陆形势的变化  
C. 美国的大力扶植 D. 联邦德国迅速崛起的榜样

全球一体化和区域集团化是当今世界发展的主要趋势,而这一趋势正从政治、经济、军事等各个方面对世界产生着广泛而又深刻的影响。据此回答 21~23 题。

21. 经济全球化发展历程在 19 世纪中期表现出的最大特点是 ( )  
A. 以英国为中心的世界市场初步形成  
B. 资产阶级革命时代的出现



县(区)

学校

考场

序号

姓名

准考证号

·

·

·

答题不得超过此密封线

C. 社会主义运动的兴起

D. 亚洲革命风暴的爆发

22. 二战后至20世纪80年代后半期, 欧洲经济在发展中表现出明显的“区域割据”状态, 没有形成全欧洲的紧密联系, 其主要原因是 ( )

- A. 欧共体集团排外性的影响
- B. “冷战”格局下意识形态对峙的影响
- C. 欧洲各国之间经济竞争加剧的影响
- D. 欧洲各国经济发展不平衡因素的影响

23. 中国为适应世界经济全球化和经济区域化趋势而采取的主要措施不包括 ( )

- A. 恢复在联合国的合法席位
- B. 建立社会主义市场经济体制
- C. 加入亚太经合组织
- D. 加入世界贸易组织

24. 中共领导的多党合作和政治协商制度作为我国的一项基本政治制度: ①是由中共的性质决定的②多党合作和政治协商以邓小平理论和“三个代表”重要思想为指导③各民主党派也要把发展作为参政议政的第一要务④政治协商有利于调动各方面的积极性 ( )

- A. ①②③
- B. ②③④
- C. ①②④
- D. ①②③④

25. 2005年10月财政部发布公告, 决定发行2005年国债500亿元, 其中3年期350亿元, 票面年利率3.24%; 5年期150亿元, 票面年利率3.60%。我国政府债券的特点是 ( )

- A. 信用度高, 收益较高
- B. 流动性弱, 收益最高
- C. 风险居中, 流通性差
- D. 期限较长, 收益率低

26. “神舟”六号载人飞船飞行的圆满成功告诉世界, 中国不是一个只能生产鞋、袜子、打火机的国家, 还可以制造宇宙飞船。“中国制造”在世界市场上的底气也因此而变强。由此可以反映出来的经济学道理是 ( )

- A. 科技创新有利于提高我国商品在国际市场上的竞争力
- B. 科学技术水平的高低决定一个国家的国际地位
- C. 科技的发展增强了民族自信心和自豪感
- D. 高科技的发展对人们的消费和投资信心起决定作用

27. 有关调查机构最新研究显示, 60%以上的中国网民曾在网上购物。随着网民数量的急剧增长, 中国正成为网上购物的大市场。网络购物市场属于 ( )

- A. 无形市场
- B. 狭义市场
- C. 有形市场
- D. 信息市场

28. 2005年以来, 福建遇到了包括“海棠”台风在内的几次特大自然灾害, 但由于建立了全社会的预警体系和应急机制, 该省成功地抵御了这些自然灾害。这一事例主要说明 ( )

- A. 原因和结果是引起和被引起的关系
- B. 因果联系具有客观性
- C. 正确把握事物的因果联系, 可以提高人们实践活动的预见性
- D. 原因和结果在一定条件下可以相互转化

29. “紧握人民的手, 管理官员的手”体现了中国共产党 ( )

- A. 坚持对人民负责
- B. 加强思想建设
- C. 是社会主义事业的领导核心
- D. 立党为公、执政为民

30. “打造无形的手, 强化服务的手”要求政府 ( )

- A. 进一步完善社会主义市场经济体系
- B. 弱化对国民经济的宏观调控

- C. 按市场规律办事  
D. 大力发展非公有制经济
31. “缔造和平的手”表明我国 ( )  
A. 促进世界和平与发展的基本立场  
B. 坚持和平外交政策  
C. 维护我国的国家利益  
D. 通过友好结盟增强维护和平的力量
32. 图6漫画《无处可逃》所体现的监督方式有 ( )



图6

- ①权力机关监督 ②舆论监督 ③人民群众监督 ④法律监督  
A. ①②③ B. ①②④ C. ①④ D. ②③
- 我国目前储蓄率高达46%，居民储蓄存款14万亿元，企业存款10万亿元。这些触目惊心的数字引起了金融界的普遍关注，储蓄的高增长加大了银行的压力，极易形成和加剧银行的系统性风险。专家指出：高储蓄率与中国传统文化、社会结构、家庭观念等诸多因素有关，但社会保障体系的不健全使老百姓不敢花钱是重要原因，政府应该通过建立新型的社会保障制度，减少居民的“预防性储蓄”。据此回答33~35题。
33. 下列对居民的“预防性储蓄”认识错误的是 ( )  
A. 个人投资行为 B. 计划消费的行为  
C. 信用行为 D. 投保行为
34. 储蓄的高增长会加大银行的压力和加剧银行的系统性风险。是因为 ( )  
①银行吸收存款要支付一定的利息  
②适量的存款储蓄才能有效地调节货币流通，稳定币值  
③商业银行是以利润为主要经营目标的企业法人  
④消费是生产的动力，储蓄的高增长会抑制消费，会阻碍生产的发展  
A. ①②③ B. ①②④ C. ①③④ D. ②③④
35. 针对上述问题，政府在建立健全新型的社会保障制度时，应加大 ( )  
A. 社会福利 B. 社会救济 C. 社会保险 D. 社会优抚

## 第II卷 (非选择题 共160分)

本卷共4大题，共160分。

36. (36分) 图7是两个地点的气候资料图，图8为世界上某两个地区的示意图，读图回答下列问题。

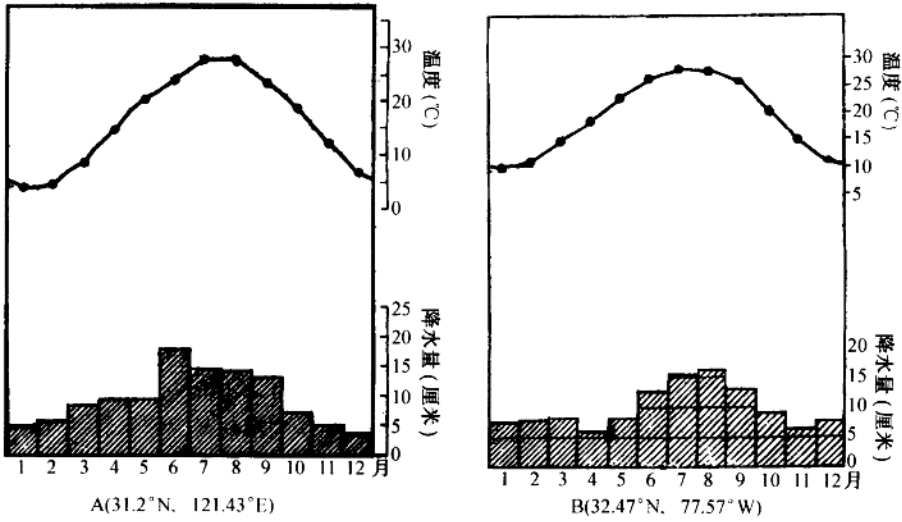


图7

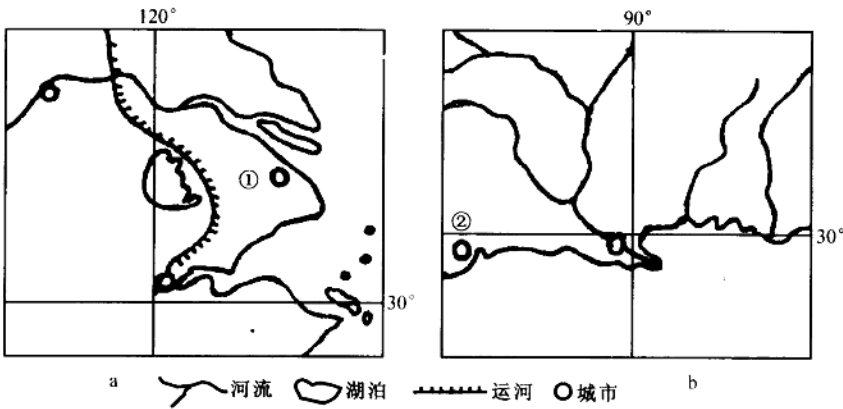


图8

(1) 根据图7和图8, 结合所学知识, 说出a、b两地区气候类型的名称, 分析两地区气候特点的差异及其成因。(18分)

(2) 影响①、②两城市形成和发展的区位因素中不同的主要有哪些?(8分)

(3) 依次写出从 a 地区至 b 地区最近航海线经过的板块名称。(2分)

(4) a、b 两地区都有大面积的水稻种植业，简要分析影响两地区水稻种植业区位因素的显著差异。(8分)

37. (32分) 儒学是中国传统文化的主干，在中国已有 2500 余年的发展史。儒学曾长期被统治阶级推为“独尊”的国家学术思想，与佛教、道教呈三足鼎立之势。

结合所学知识，回答：

(1) 儒学是何时(朝代)由谁创立的?(2分) 他的思想体系的核心是什么?(1分)

(2) 儒学是何时怎样成为“独尊”的国家学术思想的?(6分)

(3) 中国传统文化中的儒学、佛教、道教在东晋南朝时是怎样相互影响的?(4分)

(4) 明清两代儒学面临怎样的遭遇? (6分) 最终结局怎样? (2分) 导致这一结局的原因有哪些? (6分)

(5) 近年来我国出现了一股国学热 (主要指以儒学为主体的传统文化)。你对儒学重新受到重视有何见解? (5分)

38. (32分) 2006年胡锦涛在全国科学技术大会上的讲话中指出, 自主创新能力是国家竞争力的核心, 是我国应对未来挑战的重大选择, 是统领我国未来科技发展的战略主线, 是实现建设创新型国家目标的根本途径。世界科技发展的实践告诉我们: 一个国家只有拥有强大的自主创新能力, 才能在激烈的国际竞争中把握先机、赢得主动, 才能提高国家竞争力, 为全面建设小康社会提供强有力的支撑。

根据材料分析以下问题:

(1) 从经济学角度看, 为什么增强自主创新能力是调整产业结构、转变经济增长方式的中心环节? (10分)

县(区) \_\_\_\_\_ 学校 \_\_\_\_\_ 考场 \_\_\_\_\_ 序号 \_\_\_\_\_ 姓名 \_\_\_\_\_ 准考证号 \_\_\_\_\_  
密 ..... 封 ..... 答题不得超过此密封线

准考证号

姓名

序号

考场

学校

县(区)

密封线  
不得  
超过  
此线

(2) 运用唯物辩证法的相关原理, 分析我国为什么要建设自主创新型国家。(10分)

(3) 运用政治常识, 说明提高自主创新能力的意义。(12分)

39. (60分) 资源的可持续利用是实现经济社会可持续发展极为重要的保证。阅读下列图文材料, 回答问题。

材料一

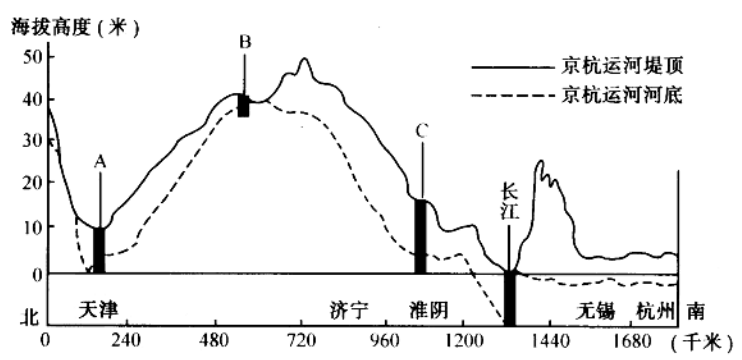


图9 京杭运河地势剖面图

(1) A、B、C 三条河流中, 含沙量最大的是\_\_\_\_\_河, 年径流量最大的是\_\_\_\_\_河。(2分)

(2) 简要说明 C 河为界的京杭运河南段沿线的资源优势。(12 分)

材料二

对隋运河的开凿，评价不一。下面是四位古代诗人对隋朝开凿大运河的评价：

胡曾曰：“千里长河一旦开，亡隋波涛九天来。锦帆未落干戈起，惆怅龙舟更不回。”

宗元鼎曰：“帝业兴亡世几重？风流犹自说遗踪。但求死看扬州月，不愿生归驾九龙。”

李敬之曰：“汴水通淮利最多，生人为害亦相知。东南四十三州地，取尽膏脂是此河。”

皮日休曰：“尽道隋亡为此河，至今千里赖通波。若无水殿龙舟事，共禹论功不较多。”

阅读材料二，结合所学知识，回答：

(3) 此“长河”从北至南划分为哪四段？(2 分) 它连接了包括海河在内的哪几大水系？(从北至南)(2 分)

(4) 诗中“锦帆未落干戈起”反映的是什么历史事实？(4 分)

(5) 材料一中呈现出了哪两种不同的观点?(4分) 你对此有何看法?(8分)

材料三

表1 我国主要资源的储量情况表

我国一些主要资源的人均储量占世界人均水平的百分比							
石油	天然气	水	耕地	森林	煤	铁矿石	铜
11%	4.5%	25%	33.3%	16.5%	79%	42%	18%

注:到2010年我国现有的45种主要矿产中可以满足社会经济发展需要的仅有21种。

表2 我国资源消费情况表

2004年我国单位GDP能耗为发达国家的倍数			2004年我国经济总量为全球的4%，消耗了全球			
美国	德国	日本	钢材	水泥	石油	煤
3倍	5倍	6倍	54%	32.1%	8.1%	30%

材料四

2006年3月的十届全国人大四次会议《政府工作报告》强调加大资源节约、环境保护的力度,是建设资源节约型、环境友好型社会的需要。

2006年10月召开的十六届六中全会指出,构建社会主义和谐社会,要求做到并实现人与自然的和谐,这主要是通过建立环保长效机制来加以实现的。这需要做到:大力发展循环经济。

根据以上材料分析回答下列问题:

(6) 材料三反映了我国自然资源利用上存在什么问题?(6分)



(7) 运用哲学常识，分析我国建设资源节约型、环境友好型社会的原因。(10分)

(8) 运用政治常识，说明党和政府如何加大资源节约、环境保护的力度。(10分)

县(区) \_\_\_\_\_ 学校 \_\_\_\_\_ 考场 \_\_\_\_\_ 序号 \_\_\_\_\_ 姓名 \_\_\_\_\_ 准考证号 \_\_\_\_\_  
密 封 线  
答 题 不 得 超 过 此 密 封 线