

课  
改  
三  
年

# 中考 考什么

全国百余个省、市、自治区三年中考试题分类精选

审阅 杨跃

政治

吉林大学出版社

中考分类

课改  
三年

# 中考 考什么

全国百余个省、市、自治区三年中考试题分类精选

审阅 杨跃

政治

吉林大学出版社

**图书在版编目 (CIP) 数据**

中考考什么·中考分类·政治 / 苗玉荣主编. —长春: 吉林大学出版社, 2006.8

ISBN 7-5601-3510-2

I. 中... II. 苗... III. 政治课 - 初中 - 升学参考资料  
IV. G634

中国版本图书馆 CIP 数据核字 (2006) 第 095830 号

---

**出 版** 吉林大学出版社  
**经 销** 全国新华书店  
**印 刷** 沈阳市第二印刷厂  
**开 本** 880×1230 毫米 1/16  
**印 张** 11  
**版 次** 2006 年 8 月第 1 版  
**印 次** 2006 年 8 月第 1 次印刷  
**责任编辑** 张显吉  
**封面设计** 王 琦

---

**全套定价** 135.00 元 / 套

(如发现本书有印刷问题,印刷厂负责调换)

# 前 言

自 2004—2006 年课改试验区三年中考依据新课程标准命题以来，依据课标命制的中考题成为学生、教师、命题人员学习、辅导、研究的宝贵资料。每年中考结束后，中考研究组的专家都会对各地近 200 套的试卷进行认真地总结分析，综合多方面的意见，从中精选出最具代表性的试题，配合解析答案，按课标要求知识分类、按教材顺序呈现给大家，深受广大读者的喜爱。课改三年试题分类精选已经成为师生课内、课外练习和中考复习的必备资料。正是在众多教师、家长和考生的信赖之下，由资深教研人员和有中考命题经验的优秀一线教师组成的研究组将课改三年来各地中考试题进行比较研究，在精选之上系统归类，让师生能站在更宽阔的视角下纵观各地中考的进程和变化，这是中考试题汇编的一个创举。力求《课改三年中考考什么》能给考生复习备考最大程度的帮助。

编者

# 目 录

专题一：我国的基本国情 .....	1	专题十一：共同理想 历史责任 .....	91
单项选择题 .....	1	单项选择题 .....	91
分析说明题 .....	4	分析说明题 .....	92
专题二：基本国策与发展战略 .....	14	专题十二：当今时代的主题 .....	98
单项选择题 .....	14	单项选择题 .....	98
多项选择题 .....	19	分析说明题 .....	99
分析说明题 .....	19	专题十三：法律和性质、作用 .....	100
专题三：“三个代表”重要思想 .....	30	单项选择题 .....	100
单项选择题 .....	30	多项选择题 .....	105
多项选择题 .....	32	分析说明题 .....	105
分析说明题 .....	53	专题十四：宪法是国家的根本大法 .....	106
专题四：建设中国特色的社会主义经济 .....	34	单项选择题 .....	106
单项选择题 .....	34	分析说明题 .....	109
多项选择题 .....	36	专题十五：权利与义务 .....	110
分析说明题 .....	37	单项选择题 .....	110
专题五：建设中国特色的社会主义政治 .....	40	分析说明题 .....	119
单项选择题 .....	40	专题十六：法律对青少年的特殊保护 .....	126
多项选择题 .....	44	单项选择题 .....	126
分析说明题 .....	44	分析说明题 .....	129
专题六：建设中国特色的社会主义文化 .....	47	专题十七：依法维护合法权益 .....	132
单项选择题 .....	47	单项选择题 .....	132
多项选择题 .....	53	多项选择题 .....	134
分析说明题 .....	53	分析说明题 .....	134
专题七：全面建设 和谐发展 .....	64	专题十八：法不可违 违法必究 .....	139
单项选择题 .....	64	单项选择题 .....	139
多项选择题 .....	65	分析说明题 .....	141
分析说明题 .....	65	专题十九：防微杜渐 防患于未然 .....	143
专题八：民主监督 建言献策 .....	73	单项选择题 .....	143
分析说明题 .....	73	分析说明题 .....	144
专题九：艰苦创业 开拓进取 .....	79	专题二十：自我保护 健康成长 .....	146
单项选择题 .....	79	单项选择题 .....	146
多项选择题 .....	80	分析说明题 .....	146
分析说明题 .....	80	专题二十一：品德修养 心理健康 .....	148
专题十：和平统一 一国两制 .....	86	单项选择题 .....	148
单项选择题 .....	86	分析说明题 .....	150
多项选择题 .....	88	参考答案 .....	156
分析说明题 .....	88		

# 专题一：我国的基本国情

## 单项选择题

1. 我国的国内生产总值 2001 年已接近 11 万亿元, 到 2005 年则超过了 18 万亿元。五年迈过 8 个万亿元台阶。这一辉煌成就的取得, 集中到一点, 就是毫不动摇地坚持了( )

- A. 党在社会主义初级阶段的基本路线
- B. 科教兴国和人才强国战略
- C. 计划生育的基本国策
- D. 走和平发展的道路

(2006 年常德市)

2. 当代中国最基本的国情是( )

- A. 我国是人民当家作主的法治国家
- B. 我国社会生产力水平还比较低
- C. 我国是世界上人口最多的国家
- D. 我国现在处于并将长期处于社会主义初级阶段

(2006 年沈阳市)

3. 我国第 13 亿位小公民于 2005 年 1 月 6 日零时 2 分诞生, 标志着我国 13 亿人口推迟 4 年到来。至此中国人口已达 13 亿, 比世界上现有的所有发达国家和地区人口总量还多 1 亿。下列说法不正确的是( )

- A. 我国面临严峻的人口形势
- B. 全面建设小康社会必须严格控制人口数量的增长
- C. 实行计划生育已取得一定的成效, 我国应把控制人口数量作为一切工作的中心
- D. 虽然我国的计划生育工作取得了较大成绩, 但人口问题仍是我国经济社会发展的沉重包袱

(2006 年佛山市)

4. “九五”期间, 我国社会主义建设取得了辉煌成就, 国内生产总值已跃居世界第七位。但我国人均国内生产总值只有 800 多美元, 而发达国家人均国内生产总值已超过 1 万美元, 我国的综合经济实力与发达国家相比尚有很大的差距。这说明( )

- A. 人口过多是我国最基本的国情
- B. 我国开始进入社会主义社会
- C. 我国还处在社会主义初级阶段
- D. 我国已基本实现社会主义现代化

(2006 年佛山市)

根据右图回答 5—6 题。

5. 右图表明, 我国目前的小康是( )

- ①低水平的
  - ②发达水平的
  - ③不全面的
  - ④发展很不平衡的
- A. ①③④
  - B. ①②③
  - C. ②③④
  - D. ①②④

(2006 年厦门市)



6. 要解决右图反映的问题, 根本的途径是( )

- A. 开展扶贫救助
- B. 控制人口增长
- C. 发展社会生产力
- D. 减少消费需求

(2006 年厦门市)

2006 年 3 月 5 日, 温家宝总理在十届全国人大四次会议作政府工作报告时指出: 抓好资源节约, 建

设环境友好型社会。回答7—8题。

7. 为抓好资源节约,建设环境友好型社会,我们中学生在日常生活中应做到( )

- ①节约用水、用电  
②少用或不用一次性木筷等日用品  
③学习先进科技,关心环保产业  
④尽可能少消费
- A. ①②③  
B. ①②④  
C. ①③④  
D. ②③④

(2006年连云港市)

8. CCTV-2近来强档推出专题节目“节约中国”,引起全国观众的高度关注,全国兴起一股加快建设节约型社会的热潮。对这一行动认识错误的是( )

- A. 符合我国的基本国情  
B. 体现了可持续发展战略的要求  
C. 符合我国保护资源和环境的国策  
D. 能从根本上解决我国资源短缺问题

9. 目前,世界上可被人类利用的150多种矿产中,我国已初步探明储量的就有137种,许多矿产储量位居世界前列,但各类主要自然资源的人均占有量,大都低于世界平均水平。这一事实表明我国( )

- A. 自然资源浪费严重  
B. 环境形势严峻  
C. 自然资源既有优势又有劣势  
D. 自然资源分布不平衡

(2006年天津市)

10. 我国现在处于并将长期处于社会主义初级阶段,这是当代中国最基本的国情。贯穿我国社会主义初级阶段的整个过程和社会生活的各个方面的主要矛盾是( )

- A. 经济发展与人口众多的矛盾  
B. 经济建设与环境污染的矛盾  
C. 人民日益增长的物质文化需要同落后的社会生产之间的矛盾  
D. 人民日益增长的物质资源需要同快速的发展状况之间的矛盾

(2006年天津市)

11. 贯穿于我国社会主义初级阶段的整个过程和社会生活各个方面的主要矛盾是( )

- A. 社会主义物质文明建设与精神文明建设的矛盾  
B. 人口众多与经济发达的矛盾  
C. 人民日益增长的物质文化需要同落后的社会生产之间的矛盾

(2006年武汉市)

12. 在建设中国特色社会主义的伟大实践中,制定一切路线、方针、政策都必须从中国的实际出发。当前我国最大的“实际”是( )

- A. 我国人民生活已达到发达国家水平  
B. 我国正处在社会主义初级阶段  
C. 多种所有制经济已经成为社会主义经济制度的基础

(2006年武汉市)

13. 我国社会现阶段主要矛盾决定了国家的根本任务是( )

- A. 集中力量,发展社会生产力  
B. 引导人民群众降低物质文化需求  
C. 实现人口资源环境和谐发展  
D. 处理好改革、发展与稳定的关系

(2006年南京市)

14. 建设有中国特色社会主义的首要问题是( )

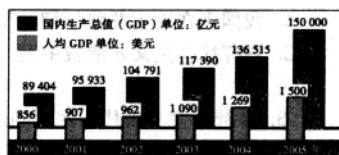
- A. 维护安定团结的政治环境和社会秩序  
B. 快速建立完善的社会主义市场经济体制  
C. 全面落实“十一五”规划和科学发展观  
D. 正确认识我国社会现在所处的历史阶段

(2006年南京市)

阅读下边图表,结合有关材料回答16,17题。

15. 图表数据变化说明( )

- ①我国“十五”期间经济迅猛发展,人民生活水平不断提高  
②我国社会主要矛盾已完全解决  
③社会主义在中国显示出蓬勃生命力  
④我国已进入世界发达国家之列



A. ①②③

B. ②③④

C. ②④

D. ①③

(2006年威海市)

16. 针对中国的发展和崛起,一位外国领导人曾指出,我们担心的不是一个强盛的中国,而是一个贫穷的中国。中国要是乱了,对世界都是灾难。这说明( )

- ①加快经济发展已成为各国政府施政的首要目标  
②发展是维护和平的坚实基础  
③当今世界各国相互依存的程度日益加深  
④发展是硬道理

A. ①②③

B. ②③④

C. ①②④

D. ①③④

(2006年威海市)

17. 建设中国特色社会主义伟大实践的经验,集中到一点,就是要毫不动摇地坚持( )

- A. 以经济建设为中心,解放和发展生产力  
B. 党在社会主义初级阶段的基本路线  
C. 四项基本原则  
D. 走中国特色的社会主义道路

(2006年莆田市)

18. “十一五”期间,我国将投资1 377亿元继续实施退耕还林工程,从根本上扭转水土流失和土地沙化严重的局面。实施退耕还林工程( )

- ①有利于再造秀美山川,从根本上解决荒漠化扩展之势  
②表明我国坚持保护资源环境的基本国策  
③是实施可持续发展战略的具体体现  
④有利于解决我国人均耕地面积不足的问题

A. ②③

B. ②③④

C. ①②④

D. ①③③④

19. 保护环境是中学生应尽的责任。下列属于对保护环境有利的行为有( )

- ①将废旧电池扔进生活垃圾箱内  
②使用一次性木筷  
③少寄纸贺卡  
④保护野生动物

A. ①②③④

B. ①③

C. ①②④

D. ③④

20. 阅读下表:

年份	国内生产总值	进出口贸易总额	外汇储备
1978	1 473 亿美元	206 亿美元	167 亿美元
2005	22 400 亿美元	14 200 亿美元	8 189 亿美元

以上事实说明

- A. 我国已不再处于社会主义初级阶段  
B. 改革开放是强国之路  
C. 我国已进入中等发达国家的行列  
D. 我国已建成全面小康社会

(2006年成都市)

21. 我国开始进入社会主义初级阶段的时间是( )

- A. 1949年中华人民共和国的成立  
B. 1953年我国开始实施第一个五年计划  
C. 1956年底我国社会主义基本制度的建立  
D. 1978年召开的中共十一届三中全会

(2005年河南省)



22. 下列对我国最基本国情表述正确的是( )

- A. 我国现在处于并将长期处于社会主义初级阶段  
 B. 社会主义必然代替资本主义  
 C. 只有社会主义才能救中国  
 D. 社会主义根本任务是解放和发展生产力

(2004年江西省)

23. 在社会主义现代化建设的进程中, 制定一切方针、政策的依据是( )

- A. 《中华人民共和国宪法》  
 B. 社会主义初级阶段的基本国情  
 C. 党在社会主义初级阶段的基本路线  
 D. 生产关系一定要适应生产力发展的规律

(2004年辽宁省)

24. 坚持以经济建设为中心是党的基本路线的核心内容之一, 从根本上说, 这是由\_\_\_\_\_决定的。

( )

- A. 我国社会主义初级阶段的基本国情  
 B. 巩固和发展社会主义制度  
 C. “三个代表”的重要思想  
 D. 坚持四项基本原则这个立国之本

(2004年四川省)

25. 下图从一个侧面反映了我国生态环境( )

- A. 恶化的趋势得到遏制  
 B. 部分地区有所改善  
 C. 形势依然相当严峻, 不容乐观  
 D. 没有威胁到人类生存



(2004年辽宁省)

26. 对我国基本国情和党的基本路线之间的关系, 正确的认识是( )

钓鱼奇遇

- ①基本国情是制定基本路线的依据  
 ②基本路线是确立基本国情的依据  
 ③基本路线决定了基本国情  
 ④基本路线符合基本国情
- A. ①②  
 B. ②③  
 C. ③④  
 D. ①④

(2004年广东省)

**分析说明题**

1. 材料一: 目前, 我国在校学生共有2.2亿人。按每人每年课本平均重2500克计算, 我国每年中小學生使用的教科书需消费纸张达55万吨之多。而生产1吨纸要用20多棵大树, 55万吨纸就要砍伐大树1100多万棵。对此, 有人提出: 教科书循环使用。

材料二: 党的十六届五中全会强调, 要加快建设资源节约型、环境友好型社会, 大力发展循环经济。

阅读材料后, 运用所学知识回答:

- (1) 如果“教科书循环使用”, 你认为这有什么现实意义?(3分)  
 (2) 党中央提出建设资源节约型、环境友好型社会, 这是由什么决定的?(4分)

(2006年常德市)

2. 材料一: 据统计, 沈阳市人均水资源占有量为341立方米, 约是全省人均占有量的2/5, 是全国人均占有量的1/6, 是世界人均占有量的1/17, 是全国40个严重缺水的城市之一。

材料二: 据统计, 我国每年生产衬衫12亿件, 包装盒用纸量就达24万吨, 相当于砍掉了168万根碗口粗的树。我国每年要用掉450亿双一次性筷子, 要生产出这些筷子, 需要砍掉2500万棵树。

材料三: 温家宝总理在全国建设节约型社会电视电话会议上说, 建设节约型社会要在全社会树立节

约意识，形成“节约光荣、浪费可耻”的社会风尚，从现在做起、从我做起、从点滴做起，节约每一度电、每一滴水、每一张纸、每一粒粮。

(1) 沈阳市的水资源状况在一定程度上反映了我国的资源国情。那么，我国的资源国情是怎样的？

(2) 材料二所反映的问题是造成我国资源形势严峻的原因之一，请概括出这个原因。(1分)

(3) 请你就日常生活中节电、节水、节约粮食、节约纸张、减少使用一次性用品、垃圾分类回收等方面，提出一种具体可行的做法，并说明理由。(3分)

(2006年沈阳市)

### 3. 一张令人汗颜的罚单

到达德国港口城市汉堡，公派的驻地同事为我们接风洗尘。同事看到大家饥饿的样子，就多点了些菜。这一餐很快就结束了，还有三分之一没有吃掉，剩在桌面上。

出门没走几步，餐馆里就有人叫我们：“是谁的东西落下了？”刚才临桌的几个白人老太太也追出来，说我们剩的菜太多了，太浪费了。

“我们吃饭买单，剩多少，关你老太太什么事？”同事阿桂站出来说。听到这话，为首的老太太马上掏出手机拨打电话，叫来了社会保障机构的工作人员。

问清情况后，这位工作人员开出了50马克的罚单，并郑重地对我们说：“需要吃多少，就点多少！钱是你自己的，但资源是全社会的，世界上有很多人还缺少资源，你们不能够也没有理由浪费！”

——摘自《教师博览》

(1) 当前，在日常生活中还存在着不少浪费资源的现象。请你观察生活，至少列举出三种现象。

(2) 结合我国国情，说明“钱是你自己的，但资源是全社会的”这句话包含的道理。

(3) 生活中，为了节约资源，人们想出了许多好办法，如生活垃圾分类回收、使用节水龙头等。针对节约资源，你有什么好的创意？请说出一个，与大家分享。

(2006年山东省)

### 4. 阅读“纸笔对话”，回答问题。

(1) 纸诉说的现象会带来哪些问题？

(2) 笔的话告诉我们，该怎样解决上述问题？

(3) 在日常生活中，类似纸的命运变化的例子还有许多，请再举一个实例加以说明。



(2006年浙江省)

5. (1) 用最简练的语言概括出两幅图画所反映的问题。

(2) 为了解决图1中的问题，我国应该实施的发展战略是什么？应该坚持什么样的基本国策？

(3) 列举出一例日常生活中常见的浪费水资源的现象。结合实际谈一谈青少年能为节约用水做什么？(答出两点即可)



图1

(4) 请以节约用水为主题,设计一则公益广告。

(2006年吉林省)

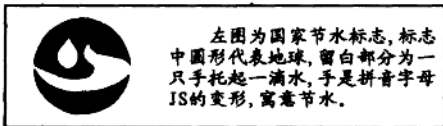


图2

6. 观察漫画《压力》,回答下列问题。

(1) 当前,我们面临着怎样的压力?

(2) 针对上述压力,我们国家应该如何应对?

(3) 为缓解上述压力,我们青少年学生应该怎么做?(至少从两方面回答)

(2006年陕西省)



压力

7. 材料一:广西恭城瑶族自治县是“全国生态农业示范县”和联合国“发展中国家农村生态经济发展典范”。恭城县从推广沼气开始,逐步完善生态链条,创造了以养殖为重点,以沼气为纽带,以种植为龙头的“猪—沼—果”的“恭城模式”,走出了一条富裕路。

材料二:恭城县大岭山自然环境恶劣,山上都是石头,很荒凉。1991年,不向命运低头的大岭山村民开始在乱石荒山上尝试撬石挖坑种桃树。邻村的人取笑他们说:“大岭人穷疯了,连石缝也去撬。”可大家没有退缩,甚至大年三十还在山上苦干。如今,大岭山人在山上种下1200多亩桃树,水果总产量达80多万公斤,2005年,全屯人均纯收5900元。

请你运用所学知识,从建设社会主义新农村的角度,谈谈上述材料给你的启示。

(2006年南宁市)

8. 在南京某家电商场冰箱柜台前,有一对母女在讨论:

母:就买这台冰箱吧,它价格比较便宜。

女:这是有氟冰箱,会破坏环境,还是买那台无氟冰箱吧,价格虽然贵了点。

母(生气):你就知道大手大脚花钱,不懂节俭,我不同意。

女:……

请运用所学知识,帮助女儿劝说母亲。

(2006年南京市)

9. 瑞士是世界上的富国,人均年收入高达三万多美元,可富裕的瑞士人又是十分的“小气”,甚至“小气”的不肯多用一张纸,所有大学的纸都是正反面书写的。那里的餐馆不允许顾客浪费,否则处以罚款。

然而在我国晋北某产煤县,为庆祝元宵节,竟然在县城里建造了10座6至10米高的煤炭“大旺火”,每座“大旺火”需要50至100吨优质煤炭和为数不少的木材;沈阳市某酒店耗资20万元制作的“满汉全席”,展出三天后变废倒掉,196道菜肴和124道茶点没有食用就变成了垃圾……

看了上述故事，小明所在的初三（3）的同学们展开了热烈讨论，并形成两种截然相反的观点。

A方认为：现在经济发展了，人们收入增加了，浪费一点也没什么！

B方认为：钱是自己的，但资源是全社会的，我们没有理由浪费！

假如你是他们其中的一员，你赞同哪种观点？请做出你的选择并结合我国的国情简要说明理由。

(2006年济宁市)

10. 材料一：目前，我国中小学生的课本基本上都是一次性使用，每到期末，都有大量使用后的旧课本被废弃。

材料二：据统计，我国目前约有在校中小学生2.2亿人，按每人每期课本重1.5公斤算，如果每本课本连续使用五年，就可以节约300万亩的木材，52800万吨水和633.5万吨煤。

请根据材料回答：

- (1) 材料一说明了什么？
- (2) 请举出两条课本循环使用的好处。
- (3) 请你为学校提出两条循环使用课本的合理化建议。

(2006年眉山市)


11. 2006年3月5日，温家宝总理在《政府工作报告》中指出，要在全社会广泛持久地开展资源节约活动，使建设资源节约型社会深入人心，蔚然成风。

- (1) 说一说我国的资源现状。
- (2) 谈一谈我国建设节约型社会的现实意义。（不少于3点）
- (3) 想一想科学合理利用资源的好办法。（两点即可）

(2006年十堰市)

12. 材料一：前几年，长春市人民广场、经济开发区和铁北等7个地区的地下水被过度开采，形成了“漏斗”。目前，长春市人均占有水资源量为380立方米，还不到全国人均水资源量的1/6。长春市已属极度缺水地区。

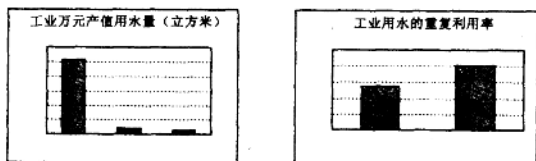
材料二：身边的现象



- (1) 根据上述两则材料,分别概括长春市水资源短缺的原因。
- (2) 长春市正在建设节水型城市,这是在坚持什么样的发展观?
- (3) 节约用水,人人有责。请你写出两项节水的做法。

(2006年长春市)

13. 材料一



材料二:今年召开的“两会”出现了节约新气象:代表、委员们用上了纸制铅笔,用网络提案代替纸制提案,会议用纸大大减少。会务工作人员采用“阶梯式开关灯”办法,做到人到灯开,人走灯关。节电20%。

根据材料,结合所学知识回答:

- (1) 材料一反映了我国在资源利用方面存在什么问题?
- (2) 你认为解决我国资源问题必须贯彻的方针是什么?
- (3) 材料二中“两会”出现的节约新气象体现了我国哪一个发展战略?
- (4) 请你写出一种生活中的浪费行为,并提出具体的改进意见。

(2006年温州市)

14. 材料一:我国部分资源消耗和主要工业污染物排放情况表(2004年数据)

我国部分资源消耗 占世界消费量的比例			我国主要工业污染物年排放量	
煤	石油	二氧化硫	化学需氧量	
38%	7.4%	46%	2200多万吨	1300多万吨

注:①我国经济总量占全球的4%左右。②我国二氧化硫排放量、化学需氧量均居世界第一。

材料二:胡锦涛在2006年度全国科学技术大会上指出,建设创新型国家,就是要增强自主创新能力作为发展科学技术的战略基点,走出中国特色自主创新道路,建设资源节约型、环境友好型社会,把增强自主创新能力作为国家战略,贯穿到现代化建设各个方面,不断巩固和发展中国特色社会主义伟大事业。

- (1) 材料一说明我国经济建设中存在什么问题?
- (2) 自主创新重在科技创新。请指出科技创新对建设资源节约型、环境友好型社会的重要性。
- (3) 结合自己的消费行为,谈谈我们青少年能为建设资源节约型、环境友好型社会做些什么?

(2006年南通市)

## 15. 寓言故事

老山羊夫妇在水草丰茂的地方无所顾忌地繁衍生息。一天，他们自豪地对黑熊说：“你看我们‘羊’丁兴旺，不断为人类带来滚滚财源，我们的价值可真大。”黑熊一听，不服气地说：“人类取我们的皮制衣，用熊胆入药，熊掌又是美味佳肴，我们对人类的价值更大。”他们为“谁对人类最有价值”的问题争论起来……

请你对他们的观点发表看法。

（友情提示：请根据我国基本国情，运用教材相关知识问答。）

（2006年福州市）

16. 材料一：2005—2006 学年《时事》第 3 期刊载：我国用近 50 亿吨的自然资源创造了 1.6 万亿美元 GDP（国内生产总值），而日本只用 20 亿吨却创造出 5 万亿美元；不到 50 年，韩国人均 GDP 由 87 美元跃升至 1.4 万多美元。靠的是技术进步和创新。中央提出，未来 15 年建成创新型国家，走中国特色自主创新道路。

材料二：温家宝总理在十届人大四次会议上指出，要把节约资源作为基本国策，大力发展循环经济，提高资源利用效率。面对当前严峻的资源形势，要突出抓好三个方面，其中一个重要方面就是加快建设资源节约型社会。

阅读上述材料，结合所学知识，完成下列问题：

（1）上述材料反映我国面临的现实问题是什么？（至少写出 2 个方面）

（2）请列举几个利用创新技术节约资源的事例。（至少 2 个）

（3）某校初三年（6）班决定组织一次以“节约资源从我做起”为主题的社会实践活动。深入社区走访，收集相关材料，最后形成调查报告。请你帮助完成以下调查报告。

#### 关于节约资源的调查报告

为响应国家提出建设资源节约型社会的号召，提高同学们的节能意识，我们以周边资源节约与浪费情况，开展了一次调查活动。调查结果表明，总体情况比较好，也发现存在一些问题。主要问题表现在：资源节约意识不强，资源利用率不高；不爱惜粮食，餐桌浪费严重；不随手关灯、关水的现象屡见不鲜……

为此，我们建议：\_\_\_\_\_

\_\_\_\_\_

\_\_\_\_\_

\_\_\_\_\_

××中学初三年（6）班全体同学

2006 年×月×日

（2006 年泉州市）

17. 为了建设节约型社会,促进可持续发展,近日,中央电视台推出了“我为节约献计策”征集活动和“建设节约型社会公益广告征集比赛”。获奖作品将在中央电视台播出。


请展示你的素质和才华:

- (1) 请你贡献两条有关“节约”的锦囊妙计。
- (2) 请展示一条你的“建设节约型社会公益广告”杰作。

(2006年荆门市)

18. 材料一:

嘉兴市人均可用水量变化状况



材料二:

嘉兴市河道总长度达到13800千米,近年来河道淤积,蓄容量剧减,污染严重,水质恶化。为此,政府组织实施了“万里清水河道工程”,大力整治水环境。

注:2001年世界人均水资源拥有量9200立方米。

请回答:

- (1) 材料一和材料二分别反映了什么?
- (2) 两则材料反映的内容之间存在怎样的联系?
- (3) 整治水环境,表明政府对市场经济发挥了什么作用?

(2006年嘉兴市)

19. 2006年5月14—20日,我市开展节水宣传周活动,旨在推行循环用水,创建节水型城市。

请你参与:

(1) 目前,在我市居民缴纳的自来水水费中,包括1.15元/m<sup>3</sup>的排污费。有市民对此感到不解,请你解释一下为什么要收取该项费用。

(2) 拧紧水龙头,用洗脸水洗脚等,这些都是举手之劳,但天长日久就能够节约许多水资源。

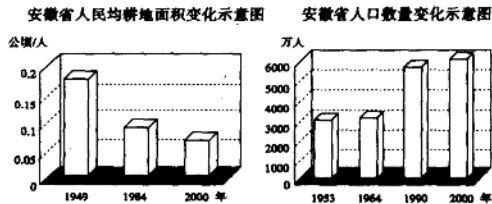
请你结合生活实际,再提出3种节水方法。

(2006年常州市)

20. 读图回答问题:

(1) 图①、图②分别反映了什么变化趋势?

(2) 结合图②, 简要分析图①中发生这种变化的原因是什么?



1949年至2000年安徽省人口数及人均耕地面积的变化示意图

(2006年安徽省)

21. 据报载, 今年“五一”黄金周期间, 天安门广场日产垃圾达到19吨, 清理口香糖、小广告仍是“老大难”。另据中科院测算的数据, 环境污染使我国的发展成本比世界的平均水平高了7%, 环境污染和生态破坏造成的损失占到国内生产总值的15%。

(1) 上述材料反映了哪些问题?

(2) 针对上述问题, 请说说我们该怎么办?

(2005年南通市)

22. 材料一: 国务院决定从2004年至2006年在全国开展资源节约活动。这一活动的总体目标是, 经过三年努力, 使全民的资源意识和节约意识显著增强, 部分行业盲目发展、低水平重复建设和严重浪费资源的现象得到有效遏制。

材料二: 据水利部统计, 由于缺水, 我国每年工业总产值损失大约2000亿元, 农业损失大约1500亿元。

材料三: 资源紧张, 对于老百姓来说最直接的感受就是缺水缺电。资料显示, 我国有三分之二的城市缺水, 六分之一的城市严重缺水。去年用电高峰期, 全国电力缺口为2500万千瓦, 今年预计电力缺口约3000万千瓦。然而, 日常生活中, 水电资源的浪费、资源环境的破坏还十分严重。

依据材料, 结合所学知识回答下列问题:

(1) 国务院为什么要在全国开展资源节约活动?

(2) 我们都是国家的小主人, 为保护资源与环境献计献策是我们的责任。请你就如何增强我市居民的资源意识和节约意识向市长提建议。(要求指出建议的具体做法。)

(3) 节约资源需要我们每个公民的具体行动, 请你根据自己的生活经验提出节水、节电的具体方法。(要求不少于三点。)

(2005年湘潭市)



23. 为了解我国资源状况, 某班综合实践活动小组开展了一次调查, 通过查阅图书资料和网上搜索, 他们获取了如下资料:

资源类别	淡 水	森 林
人均占有量	世界平均水平的 24%	世界平均水平的 13%
利用情况	城市卫生间水箱漏水每年耗费上亿立方米; 生产每公斤粮食耗水量是发达国家的 2~3 倍	每年仅生产一次性筷子就要砍伐 2500 万棵树

(1) 上述材料反映了什么问题?

在调查中, 同学们还发现了一些与日常生活密切相关的数据: 洗澡擦肥皂时关水龙头, 可节约水 20 升。用口杯接水刷牙, 只耗水 0.5 升, 开着水龙头刷牙, 则耗水约 15 升。回收 1 吨废纸能生产 0.8 吨再生纸, 等于少砍 17 棵树。

(2) 看了上述数据, 你有何启发?

(3) 也有一些同学看到上述数据后不屑一顾, 他们认为, 现在生活水平都提高了, 还为一张纸、一杯水计较, 太小气。你如何看待这一观点?

(2005 年安徽省)

24. 为了宣传河南省委、省政府提出的奋力实现中原崛起的战略决策, 某中学学生会正在举办系列板报, 新一期板报的主题是节约资源, 请你参加进来, 完成下列任务:

(1) 请为本期板报设计一个标题。(要求: 观点正确, 语言简洁。)

(2) 本期板报“前言”中有关于我国资源形势的内容, 请你来完成。(两个方面即可)

(3) 请结合实际, 就节约资源问题提出三条合理化建议, 作为板报的结尾。

(2005 年河南省)

25. 阅读材料: 温家宝总理说: “人多, 不发达, 这是中国的两大国情。中国有 13 亿人口, 不管多么小的问题, 只要乘以 13 亿, 那就成为很大很大的问题; 不管多么可观的财力、物力, 只要除以 13 亿, 那就成为很低很低的人均水平。这是中国领导人任何时候都必须牢牢记住的。” 据此回答:

(1) 根据上述材料的意思, 在下面算式的括号内填上适当内容 (一个具体问题或现象, 也可各举一例说明算式的含义)。

① [ ] × 13 亿 = 很大很大的问题

② [ ] ÷ 13 亿 = 很低很低的水平

(2) 同时影响两道算式结果的主要是什么问题? 为此, 我国应坚持什么基本国策?

(3) 材料表明我国社会发展处于什么阶段? 制定这一阶段的路线方针政策应如何与我国国情相联系?

(4) 中国的崛起、发达之路任重道远。在本世纪头 20 年, 我们的奋斗目标是全面建设更高水平的小康社会。请问: 这个目标中最关键的目标是什么? 实现这一关键目标最根本的要求是什么? 为什么?

(2005 年甘肃省)