

根据科学应考“差距理念”指导创作



荣德基 CETC

No.1

# 高考攻略



# 第一卷

第11期—2006年高考揭密

## 湖北 专版卷

湖北名校名师 **押题**

## 文科综合

内蒙古少年儿童出版社

## 图书在版编目(CIP)数据

荣德基 CETC 高考攻略第一卷. 专版卷. 2. 文科综合 / 荣德基主编. —通辽:  
内蒙古少年儿童出版社, 2006. 4  
ISBN 7-5312-1915-8

I. 荣... II. 荣... III. 文科(教育)-课程-高中-习题-升学参考资料 IV. G634

中国版本图书馆 CIP 数据核字(2006)第 026550 号

### CETC 的目标——消灭差距

**C - comprehension:** 听老师讲课, 读教材, 看教辅, 不懂的地方——差距。(为什么不懂, 有差距)

**E - exercise:** 做练习题时做错的题——差距。(练习时为什么会错, 有差距)

**T - test:** 各种考试中做错的题——差距。(考试时为什么会错, 有差距)

**C - countermeasure:** 应对措施——没有差距。

锁定差距: C、E、T

缩小差距与消灭差距: C

**CETC 循环学习法, 锁定差距、缩小差距、消灭差距, 轻松上阵!**

**高考近在咫尺, 考验就在眼前。**

**揭密卷, 消灭高考差距的最后一搏!**

责任编辑/包连喜

装帧设计/典点瑞泰

出版发行/内蒙古少年儿童出版社

地址邮编/内蒙古通辽市霍林河大街西 312 号(028000)

经 销/新华书店

印 刷/北京印刷集团有限责任公司印刷一厂

总 字 数/534 千字

规 格/880×1230 毫米 1/16

总 印 张/22.25

版 次/2006 年 4 月第 1 版

印 次/2006 年 4 月第 1 次印刷

总 定 价/30.00 元(全 6 册)

版权声明/版权所有 翻印必究

# 《荣德基 CETC 高考攻略第一卷》

## 超级 PK 的幕后台前

**海选** 2005年7月2日《中国教育报》第4版文章——荣德基教育研究中心“面向全国教育系统倾力征集原创高(中)考模拟试卷”——感动了中国数百万教师的拳拳诲人之心。同时荣德基教育研究中心与教育发达地区教研室、教科所、一流名校等建立互动助教的合作关系,鼎力打造教育资源共享的大教育环境,研制、共享各种试题。至此,《第一卷》原创试题全国海选活动拉开帷幕!!!

**建库** 征集、合作、特约,荣德基教育研究中心通过各种可行途径,与全国各地顶级高考命题研究专家建立了战略合作伙伴关系,本着“海量搜集、微量斟选”的宗旨,经全国范围内的全力海选后,建立了《第一卷》命题题库。

**精编** 《第一卷》是中国顶级高考命题研究专家、一线教育教学精英、一流教学名校、教研室、教科所等等权威力量集体智慧的结晶,强强联手,志在助考。各地名校名师此时齐聚《第一卷》创作团队,特别有北京海淀区、东城区教研室,湖北黄冈中学、华师一附中,湖南雅礼中学,江苏启东中学、南京教研室,浙江杭州二中、杭州学军中学,重庆巴蜀中学,四川成都树德中学、石室中学、绵阳教科所,天津宝坻一中,福建漳州一中,山东高密一中,合肥市教研室等教育教学机构,让全国备考师生一睹名师们的风采,人心大快,信心倍增。

**首发** 2005年6月,酷暑炎炎,《第一卷》专题卷创作工作如火如荼进行中。荣德基教育研究中心联合清华北大高考状元、全国高考一线教学精英、全国高考创升学率新高名校、高考判卷老师、资深高考命题研究专家倾力打造试卷精品。《第一卷》之专题卷于2005年7月全国首发,深受广大师生的喜爱!

**铸造** 荣德基教育研究中心、《第一卷》创作团队根据《第一卷》整体方案设计,依据备考复习的规律和要求,对通过海选后的试卷进行加工、整理、完善,陆续推出了评估卷、诊断卷、上线卷、模拟卷等各期试卷精品。揭密卷、冲刺卷更是06年高考命题的绝妙展现!!!

### 湖北专版卷巅峰创作团队(排名不分先后)

湖北黄冈中学名师	程 然(语文高级)	王先生(数学特级)	熊新华(英语高级)	丁汝辉(物理高级)
	熊全告(化学高级)	汪芳慧(生物高级)	熊银忠(历史高级)	余利平(政治高级)
	张齐宇(地理高级)			
华师一附中名师	肖 扬(语文高级)	张 丹(数学高级)	邓北平(英语高级)	袁书荣(物理高级)
	白和平(化学特级)	魏 威(生物高级)	杨俊明(历史高级)	王铁松(政治高级)
	龙 泉(地理高级)			
孝感实验高中名师	陈胜华(语文高级)	杨国初(数学高级)	童克平(英语高级)	
天门张港高中名师	刘光海(语文高级)	陈勤芳(数学高级)	吴家成(英语高级)	
谷城县一中名师	申群章(语文高级)	胡卫军(语文高级)	高金铭(数学高级)	
湖北襄樊四中名师	朱希扬(语文高级)	戴浩仁(英语高级)		
襄樊襄阳一中名师	徐 敏(英语高级)		大悟楚才高中名师	郭 强(数学特级)
天门渔薪高中名师	田安贵(英语高级)		枣阳师苑高中名师	阮世豪(数学高级)
随州第一中学名师	赵黎明(英语高级)		随州曾都四中名师	熊贵忠(语文高级)

# 你笑在最后了吗？

男儿何不带吴钩，  
收取关山五十州，  
请君暂上凌烟阁，  
若个书生万户侯。  
乘风破浪会有时，  
直挂云帆济沧海。

同学们，高考是一场赢得辉煌人生的挑战！迎接决定人生的挑战是一种乐趣。然而，却有很多同学在长时间的备战中身心疲惫，在高考的关键阶段懈怠下来，“帆破浪没，沧海难济”、“强弩之箭，未能穿帛！”

怎样披荆斩棘，为千万学子的生命奋斗之舟导航？我们一直思索着……

《荣德基 CETC 高考攻略第一卷》之湖北专版卷于 2006 年高考备考最后关头，厚积薄发，锋芒尽露。它将“超个性化”与“强针对性”融合于一体，为湖北学子量身定做，是专门适于 2006 年高考湖北考生使用的教辅宝典。

荆风楚韵，湖北是中华民族和中国古代文化的发祥地之一。光辉灿烂的楚文化使湖北省享誉国内外。这里既有古人类长阳人遗址、屈家岭文化遗址，又有众多的古三国胜迹和楚都遗址“纪南城”；既有辛亥革命遗址起义门、阅马场，又有中央农民运动讲习所旧址及“八七会议”会址。

我们相信，历史文化的熏陶使得湖北学子对文化有着一种更多的信仰，对知识有着更深一层的渴求！

押题，一个很敏感的词语，尤其对于即将面对考试的你来说，更是触目惊心。

大家都希望可以在这次战斗中，没有硝烟便占领到了最近的山头，夺下第一块阵地，正所谓占尽先机，成功自然多了一份把握，应考自然多了一份泰然自若。

押题有一定的偶然性，使得很多人认为它是一种侥幸心理，运气所致。而事实上湖北专版卷凭借其科学性、权威性、前瞻性和实用性已经证明：押题，并不是碰来的运气，而是高考命题研究专家们用多年命题研究经验为你赢得了一次成功机会。

高考的神秘，就在于它的不可预知，也正因为如此，才能显出高考的正规与公平，因此，在尊重这种教育体制的同时，专家们用自己多年积累的高考命题研究经验，为应考学生们提供了更多、更科学、更有价值的备考依据。无限度靠近高考试卷的题型、选材、命题角度、考查范围等各方面因素，即便不能让你百发百中，也会让你体会到最贴近高考实践的强化练兵。

而这种预测，靠的不是赌注式的歪打正着，它需要对高考命题进行研究，对考试形式、命题素材等进行深入了解，它的价值在于争取最高的几率，而不是最幸运的运气。

《荣德基 CETC 高考攻略第一卷》为湖北学子增添笑容！笑在最后！笑得最美！

在此套试卷研发过程中，湖北地区的教育界同仁给予了荣德基教育研究中心大力的支持和帮助，在此对业内同志们表示深深的感谢，顺祝身体健康，工作顺利！

同学们，湖北专版卷是一套集百家之长和精妙题解于一身的试卷精品，也许这其中正有你所尊敬的某位名师的墨迹，希望它亦能如你的师长一样，伴你度过高考这最后一道关，并顺祝同学们在 2006 年高考中大鹏展翅，蟾宫折桂！

2006 年 4 月初于北京



荣德基 CETC 高考攻略

# 第一卷

第11期 2006年 高考湖北专版卷

## 文科综合

目

录

命题研究专家 2006 年高考揭密卷(1) .....	1
命题研究专家 2006 年高考揭密卷(2) .....	9
命题研究专家 2006 年高考揭密卷(3) .....	17
命题研究专家 2006 年高考揭密卷(4) .....	25
命题研究专家 2006 年高考揭密卷(5) .....	33
命题研究专家 2006 年高考揭密卷(6) .....	41
参考答案及点拨 .....	49

内蒙古少年儿童出版社

# 命题研究专家 2006 年高考揭密卷(1)

## 文科综合能力测试

命题组长:龙 泉、余利平 命题成员:熊银忠、张齐宇、杨俊明、王铁松

本试卷分第 I 卷(选择题)和第 II 卷(综合题)两部分。满分 300 分,考试时间 150 分钟。

### 第 I 卷(选择题 共 140 分)

图 1-1 表示世界四个地点的气温降水情况,回答 1~3 题。

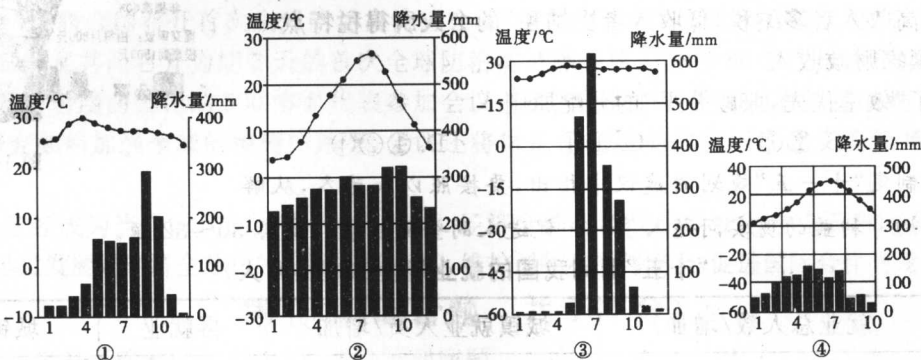


图 1-1

- 图中①②③④与所对应的城市依次是 ( )  
 A. 孟买、伦敦、曼谷、武汉  
 B. 曼谷、东京、孟买、上海  
 C. 曼谷、新加坡、孟买、北京  
 D. 广州、巴黎、巴马科、乌兰巴托
- 形成上述四地气候类型的共同原因是 ( )  
 A. 洋流  
 B. 纬度  
 C. 海陆位置  
 D. 大气环流
- 图中四地适宜大范围种植棉花的是 ( )  
 A. ①  
 B. ②  
 C. ③  
 D. ④

2005 年 2 月 18 日,国家发改委批复首钢分阶段压缩北京地区钢铁生产能力并最终把涉钢系统全部迁出北京的方案。结合图 1-2,完成 4~5 题。



图 1-2

- 首钢分阶段压缩北京地区钢铁生产能力,其主要目的是为了 ( )  
 A. 压缩企业用地规模,平抑北京土地价格不断上涨的趋势  
 B. 降低生产性耗水,彻底解决北京地区水资源紧张的矛盾  
 C. 减少大气污染物的排放,推动北京城区环境质量的进一步改善  
 D. 减少生产中的运输成本,提高企业的经济效益
- 首钢将新址选在曹妃甸,考虑的有利区位因素是 ( )  
 A. 更加方便钢材出口  
 B. 进一步降低劳动力费用  
 C. 新址周围环境清新优美  
 D. 接近原料产地,海运便利

下表为某四个地区的国内生产总值,三大产业产值比重,人均国内生产总值比较表。阅读分析,回答6~7题。

地区	国内生产总值(亿元)	三大产业产值比重(%)			人均国内生产总值(元)
		第一产业	第二产业	第三产业	
①	5108.8	1.6	47.4	51.0	40627
②	11674.4	8.8	50.2	41.0	14908
③	4340.9	19.0	40.5	40.5	6565
④	1180.0	23.8	40.2	36.0	3140

6. 表中四个地区中,农业从业人员数量占总人口比例最大的是 ( )  
 A. ①                      B. ②                      C. ③                      D. ④
7. 关于①所代表地区的说法,正确的是 ( )  
 A. 第一产业不发达      B. 是传统的农业区域      C. 城市化水平较高      D. 经济发展水平较低

读图 1-3,回答 8~11 题。

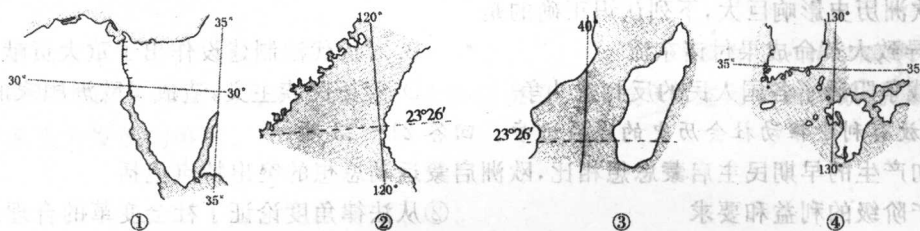


图 1-3

8. 图示区域,农业地域类型主要是热带种植园农业的是 ( )  
 A. ①                      B. ②                      C. ③                      D. ④
9. 台湾海峡是图 1-3 中的 ( )  
 A. ①                      B. ②                      C. ③                      D. ④
10. 近年来,台商在大陆投资的速度明显加快,涉足的领域越来越广,其主要原因是 ( )  
 A. 劳动力素质提高      B. 矿产资源丰富      C. 经济全球化战略      D. 巨大的消费市场
11. 台湾民众非常关注赠台大熊猫——团团和圆圆,更多的人是在电视等媒体感受到相关熊猫文化的丰富多彩知识,这种文化传播方式属于 ( )  
 A. 迁移扩散              B. 传染扩散              C. 等级扩散              D. 刺激扩散

自古以来,我国历代政府都重视边疆地区的保卫和开发。回答 12~15 题。

12. 下列管辖新疆地区的行政机构按设立时间先后顺序排列正确的是 ( )  
 ①西域都护 ②伊犁将军 ③安西都护府 ④北庭都护府  
 A. ①③④②              B. ②①③④              C. ①④③②              D. ③①④②
13. 明朝对西藏地区的管理进一步加强,其表现是 ( )  
 ①在西藏地区设立卫所 ②确立册封制度 ③建立僧官制度 ④实行土司制度  
 A. ①②                      B. ③④                      C. ①③                      D. ①②③
14. 清朝统一台湾时,“国家初设郡县,管辖不过百余里,距今未四十年,而开垦流移之众,延袤二千里,糖谷之利甲天下”(《台湾府志》卷 21)。以上材料说明 ( )  
 ①台湾府的设置促进了台湾经济的发展      ②大陆移民是清朝开发台湾的重要力量  
 ③清朝时台湾主要出产食糖和粮食              ④国家统一是台湾发展繁荣的保证  
 A. ①②③                      B. ①③④                      C. ①②④                      D. ①②③④
15. 民族区域自治制度是我国的一项重要政治制度,下列说法中不正确的是 ( )  
 A. 十一届三中全会以后我国开始实施民族区域自治制度  
 B. 到 90 年代初我国已建立五个省级自治区,一百多个自治县  
 C. 实行民族区域自治制度的目的是实现各民族共同发展繁荣  
 D. 民族区域自治制度在少数民族聚居地区实行

诗歌能反映出一定的历史和时代风貌,“以诗证史”是史学研究手段之一。回答16~18题。

16. “汴水东流无限春,隋家宫阙已成尘”,悠悠运河,千里碧波,见证了历史的兴衰。隋朝灭亡给我们最大的启示是 ( )
- A. 以德治国,以民为本    B. 反腐倡廉,以法治国    C. 勤俭节约,清静无为    D. 科教兴国,持续发展
17. 柳亚子《题太平天国战史》:“楚歌声里霸图空,血染胡天烂漫红。煮豆燃萁谁管得,莫将成败论英雄。”其中“煮豆燃萁”是指 ( )
- A. 北伐失利    B. 永安建制    C. 安庆保卫战失利    D. 天京变乱
18. 清末诗人丘逢甲有诗:“春愁难遣强看山,往事惊心泪欲潸。四万万人同一哭,去年今日割台湾。”该诗写于 ( )
- A. 1894年    B. 1895年    C. 1896年    D. 1897年

客观公正地评价历史人物的功与过,是历史学科的一项重要任务。回答19~20题。

19. 秦始皇对中国古代的政治、经济和文化有极其重大的影响。以下对秦始皇的评价不正确的是 ( )
- A. 完成统一,使人民生活安定,经济发展繁荣
- B. 建立了中央集权制的国家,对中国封建政治制度影响深远
- C. 统一了度量衡、货币和文字,有利于全国经济文化的发展
- D. 修筑长城,虽对游牧民族的进攻有防御作用,但也妨碍了正常的交流
20. 拿破仑对近代欧洲历史影响巨大,下列认识正确的是 ( )
- A. 重建君主制导致大革命成果付诸东流    B. 对近代法制建设作出了重大贡献
- C. 发动的对外战争阻碍了各国人民的反封建斗争    D. 宣扬民族主义,造成了欧洲国家的分裂

思想观念的解放有利于推动社会历史的发展进步。回答21~23题。

21. 与中国明末清初产生的早期民主启蒙思想相比,欧洲启蒙运动思想的突出特点包括 ( )
- ①代表早期资产阶级的利益和要求    ②从法律角度论证了社会变革的合理性
- ③反对君主专制    ④强调“公民”意识
- A. ①②③④    B. ②③④    C. ①③④    D. ①②④

22. 1915年新文化运动与资产阶级维新派和革命派的思想相比,主要“新”在 ( )
- A. 传播达尔文的进化论    B. 传播资产阶级民权和平等思想
- C. 比较彻底地批判封建正统思想    D. 深入研究和传播了马克思主义

23. 1978年关于真理标准问题的讨论是中国共产党历史上一次深刻的思想解放运动,这里的“思想解放”指的是 ( )
- A. 在思想上清算了“左”倾错误    B. 为现代化建设奠定思想基础
- C. 重新确立了马克思主义思想路线    D. 打破了个人崇拜和教条主义的束缚

电视娱乐节目丰富了百姓的文化生活,功莫大焉。一路风雨一路歌的“超级女声”节目更是赢得了空前的收视率。但如何使这类节目保持健康的品格,通俗而不低俗,以便更好地服务于群众,成为摆在人们面前的一个重要课题。回答24~26题。

24. 目前,我国一些电视台已经走上了过度运用收视率指标的道路,把收视率抬升到了至高无上的地位,以收视率论英雄,以收视率来决定节目的存亡。这种观点 ( )
- A. 坚持了群众的观点    B. 坚持了一切从实际出发的观点
- C. 抓住了主要矛盾    D. 是形而上学的片面观

25. 电视是一个文化平台,它的职责就是满足群众精神需要和提升情感的要求,即传承文明,进行文化教化。中国电视在产业化、市场化过程中,要遏制电视娱乐节目的低俗化趋势,保证其健康发展,这主要依靠 ( )
- A. 电视工作者的自律    B. 社会大众素质的提高
- C. 国家强有力的宏观调控    D. 改变现有的电视节目评估体系

26. 好的电视娱乐节目能让人释放个性,宣泄情绪,传达主流价值观念,促进社会健康发展。但如果电视节目坠入了低俗化的泥潭,一味追求感官刺激,宣泄错误的价值观念,就会成为一种精神污染,对广大受众尤其是未成年人产生不良影响。这就要求 ( )
- A. 必须加强人民民主专政    B. 必须强化国家文化建设职能
- C. 必须提高公民的权利和义务意识    D. 必须坚决防止和反对资产阶级西化和分化图谋

2005年8月23日,备受瞩目的个人所得税法修正案草案提交十届人大常委会第十七次会议审议。回答27~29题。

27. 就修改个人所得税法,全国人大常委会于2005年9月27日在北京举行关于个人所得税工薪所得减除费用标准听证会。这是国家最高立法机关首次举行立法听证会。这一崭新现象表明 ( )



- A. 我国的真正权力属于人民,而不是国家机关  
 B. 我国的民主政治建设不断走向完善  
 C. 立法听证会已成为我国立法机关立法的主要途径  
 D. 对人民负责是我国立法机关的组织与活动原则

28. 从图 1-4(《半月谈》2005/17)中可知,我国修改个人所得税起征点的哲学原因是

- A. 事物是变化发展的  
 B. 社会存在的变化决定社会意识的变化  
 C. 事物发展是内外因共同作用的结果  
 D. 事物运动是有规律的,规律是客观的

29. 图 1-4 中涉及个人所得税修正的两项内容共同说明,我国这次个人所得税改革

- ①更加注重社会公平,促进社会和谐  
 ②真正体现了“高收入者多纳税,低收入者少纳税”的个人所得税特点  
 ③必然会减少国家财政收入  
 ④进一步完善了“效率优先,兼顾公平”的分配原则

- A. ①②③④      B. ②③      C. ①④      D. ①②④

中共中央关于制定“十一五”规划的建议中指出,要按照以人为本,从解

决关系人民群众的切身利益的现实问题入手……促进人的全面发展。回答 30~32 题。

30. “十五”期间我国的就业规模(单位:万人)

年份	就业总人数/增加	城镇就业人员/增加	再就业	城镇登记失业率
2001 年	73025/940	23940/789	227	3.6%
2002 年	73740/715	24780/840	410	4%
2003 年	74432/692	25639/859	440	4.3%
2004 年		/980	510	4.2%

上表显示,“十五”期间

- A. 我国是一个人口大国,发展水平比较低,等待就业的人口数量巨大  
 B. 城镇新增就业人员不断扩大,再就业数量逐年增加,就业压力缓解的速率加快了  
 C. 我国失业登记方面做得还不够完善,不能反映真实的失业人群数量和比例的变化  
 D. 我国经济水平的不断提高和政府相关政策力度的加大,是“十五”期间我国就业规模扩大的根本原因

31. 2005 年 10 月 20 日上午 10 时国新办举行新闻发布会,国家统计局新闻发言人郑京平表示,“是部分城市房价上涨过快,并不是全国所有的城市。”“正是由于我们掌握了这样一些特点,所以房地产价格的涨幅是逐步回落的,房地产投资的增幅也是逐步回落的,这与政府所期望的要坚定不移地支持房地产业、促进房地产业健康发展的初衷是完全一致的。”这表明

- ①坚持从实际出发是我党制定正确政策的前提    ②实践是检验认识正确与否的唯一标准  
 ③正确把握事物的因果联系,能提高人们活动的自觉性和预见性    ④事物是普遍联系和变化发展的
- A. ①②③      B. ②③④      C. ①②④      D. ①③④

32. 2005 年 8 月 7 日,广东兴宁发生矿难,123 名矿工因透水事件遭活埋。事后调查显示,煤矿的 60 多位股东中,不少就是政府官员和公务员,矿主还是当地人大代表。随后,中纪委、监察部、国资委、国家安监总局联合发出通知,规定在 2005 年 9 月 22 日前,所有投资入股煤矿(依法购买上市公司股票除外)的国家工作人员、国有企业负责人必须撤出投资。这说明

- A. 治理“官煤勾结”,必须充分发挥中纪委、监察部、国资委、国家安监总局等国家司法机关的职能作用  
 B. “官煤勾结”不仅是一个涉及安全生产的问题,而且也是一个严肃的政治问题  
 C. 要彻底斩断“官煤勾结”的黑手,必须进一步加大责任追究力度,完善监管体制,落实监管责任,加大处罚力度,建立打击非法煤矿的长效机制  
 D. 政企不分是“官煤勾结”的体制根源

正值联合国成立 60 周年之际,2005 年 9 月 14 日至 16 日,历史上最大规模的联合国峰会通过了被外界称为“联合

### 我国修改法律拟将个税起征点提高到1500元



图 1-4

国历史上的里程碑”的有关联合国改革的《成果文件》。这标志着联合国改革的列车已经缓缓启动。回答33~35题。

- 33.《成果文件》是一个各方妥协后的折中文件。文件围绕发展与平与安全、人权以及联合国改革四大方面,提出了许多具有普遍原则性的改革建议,但在核不扩散、核裁军、扩大秘书长权限、恐怖主义的定义、扩大安理会等方面仍有巨大分歧。这表明 ( )
- A. 矛盾是普遍的、客观的  
B. 事物发展是前进性和曲折性的统一  
C. 世界上没有不可解决的问题,只有尚未被解决的问题  
D. 看问题要善于抓住主要矛盾
34. 在9月14日上午的联合国发展筹资高级别会议上,胡锦涛主席发表了《促进普遍发展实现共同繁荣》的讲话,呼吁联合国在发展领域应有更大作用,同时宣布了中国支持发展中国家加快发展的五项主要措施。这一讲话精神体现了 ( )
- A. 我国独立自主的外交立场  
B. 我国和平共处五项外交原则  
C. 我国促进世界和平与发展的外交目标  
D. 我国对外开放的基本国策
35. 2005年11月7日,联合国召开首次全球防治禽流感会议,世界卫生组织、联合国粮农组织、世界动物卫生组织和世界银行在日内瓦共同召开为期3天的首次全球防治禽流感会议。来自80多个国家的政府官员和专家、有关国际组织以及著名制药公司的500多名代表参加会议。这次会议将讨论如何有效控制病毒在禽类间以及向人的传播,并研究如何加强全球的检测体系等,会议还将讨论如何帮助贫穷国家建立禽流感的紧急应对机制。这表明 ( )
- A. 和平与发展已经成为当今时代的主题  
B. 经济全球化和政治多极化趋势不断加强  
C. 跨国公司的迅猛发展是经济全球化的主要表现  
D. 维护国际和平与安全,促进国际合作与发展是联合国的宗旨

## 第Ⅱ卷(综合题 共160分)

36. (36分)读“欧洲、北美洲部分图”(图1-5),回答下列问题。

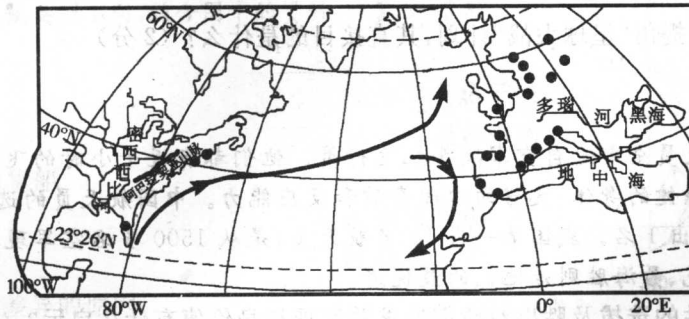


图 1-5

- (1)60°N以南的欧洲地区、美国的东北地区同为世界上城市密集地区。试从自然地理因素方面分析,其形成和发展的共同区位因素。(7分)
- (2)比较墨西哥湾暖流,北大西洋暖流对沿岸地区气候的影响有何不同。(15分)
- (3)分析外力作用对西欧平原和密西西比河平原的地形有何影响。(6分)
- (4)多瑙河和密西西比河为何航运价值大,试从社会经济条件方面分析。(8分)

37. (32分) 阅读下列材料, 回答问题:

材料一 自1789年起, 每逢总统就职典礼的全国性日子, 人们都要赋予“为合众国作出奉献”以新的意义。在华盛顿就职时, 人民的任务是创立和熔铸成为一个国家。在林肯就职时, 人民的任务是维护这个国家, 使它避免从内部发生分裂。

——罗斯福总统第三任就职演说(1941年1月20日)

(1) 依据材料和所学知识, 概括华盛顿、林肯就职时面对的重大政治任务分别是什么?(6分)

材料二 “分裂之家不能持久。”我相信我们的政府不能永远忍受一半奴役一半自由的状况。我不期望联邦解散, 我不期望房子崩溃, 但我却期望它停止分裂。它或者变成一种东西, 或者全部变成另一种东西。

——林肯1858年的一次演讲

这场战争最终清除了联邦只是一个各州的联盟, 而其成员可以随意退出的观念。如今成功地取代它的是另一种观念, 即美国不是由各成员州组成的, 而且一个不可改变的团结在一起的人民组成的一个整体, 即一个民族国家。

——摘自R·帕尔默等《近代现代世界史》

(2) 依据材料二分析, 内战中北方的胜利在政治上的重要意义。(5分) 简述与美国内战时间相近的欧洲大陆, 统一促进国家实力发展的事例。(5分)

材料三 邓小平说: “我们提出的大陆与台湾统一的方式是合情合理的。统一后, 台湾仍搞它的资本主义, 大陆搞社会主义, 但是是一个统一的中国, 一个中国, 两种制度。”《中华人民共和国宪法》第31条规定: “国家在必要时得设立特别行政区。在特别行政区内实行的制度按照具体情况由全国人民代表大会以法律规定。”

(3) 读材料三, 思考美国在建国初期曾存在的“南北两制”, 它与我国为实现祖国统一而实行的“一国两制”在实施的前提、依据和目的等方面有何相似之处?(9分)

(4) 依据以上材料和所学知识, 谈一谈你对于打击分裂势力、维护国家统一重要性的认识。(7分)

38. (32分) 2006年“两会”期间, 胡锦涛参加全国政协农业界联组讨论时指出, 建设社会主义新农村, 必须从农民群众最关心、要求最迫切、最容易见效的事情抓起, 不断让农民群众得到实实在在的好处。3月7日, 央视推出《岩松信箱》后, 许多读者朋友打来电话和发来短信, 其中看病难看病贵的问题, 是读者朋友最为关心的。有不少农民及农民工朋友也谈到了看病贵的问题。阅读下面的图表和材料, 回答问题。

材料一 一种常见的骨伤药, 成本仅3元, 到患者手中变成了36.8元, 涨了11倍之多。到底是什么吹鼓了药品价格的船帆? 阅读右侧漫画(图1-6)《药品销售“回扣链”》(含注)。

注: 据有关部门核算过, 在药品生产和销售的整个流程中如果没有各种回扣, 各个流程正常进行, 上述骨伤药到患者手中最多是22元。其中包含了药厂的正常利润、国家税收、医药公司的利润、各级营销人员的收入、医院的正常利润等。也就是说, 买这种药的患者所支付的36.8元中, 有14.8元进

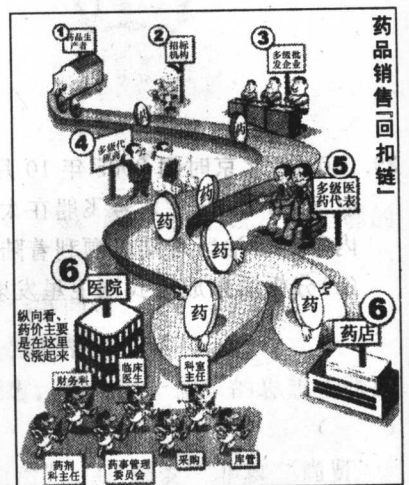


图1-6

入了私人的腰包。

材料二 2005年“两会”期间,卫生部一位负责人说,药价不合理首先是因为政府定价太高。政府定价包括了留给药厂的利润,留给流通环节的利润,留给医院的利润。所有的环节都考虑到了,就只是患者的利益没有充分考虑到。读图1-7:近年来我国医疗机构收入来源(含注)。

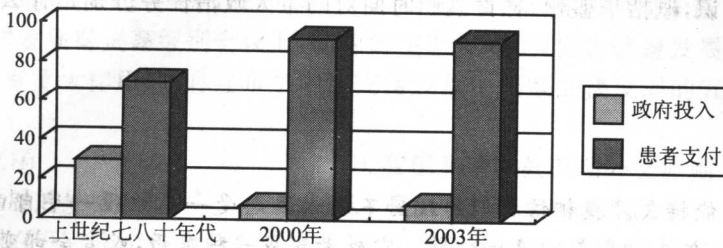


图1-7

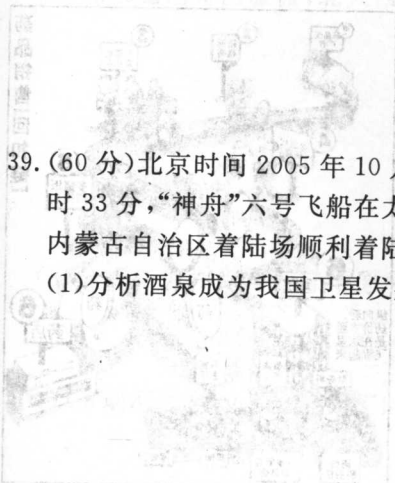
注:医疗机构属于公益性质,要降低其对药品的依赖程度,就必然通过其他途径补偿,使其基本收支平衡。

材料三 近年来,武汉、南京、西安、杭州等地出现过一些平价药店。虽然平价药店受到了老百姓的普遍欢迎,但平价药店治理药价虚高的作用却非常有限。首先,我国大多数医院的处方药不允许外流,有工职的医保人员也不可能拿着处方到平价药房去购药。同时,平价药房的处方药品比例也较低,可供选择量小。其次,平价药房绝大部分不是定点药店,它们最大的消费群体是自由职业者和下岗工人。

(1)上述图表和材料分别揭示了造成当前我国药价虚高的原因有哪些?(8分)

(2)结合上述图表和材料,试分析当前我国药价虚高的哲学警示。(12分)

(3)结合经济常识说明,你认为正常的药价应以什么为标准?结合问题(1)的结论说明,要解决虚高药价,应采取哪些切实可行的措施?(12分)



39. (60分)北京时间2005年10月12日9时整,中国成功发射了第二艘载人航天飞船“神舟”六号。17日凌晨4时33分,“神舟”六号飞船在太空运行5天,环绕地球飞行77圈后承载着航天员费俊龙和聂海胜在中国北部的内蒙古自治区着陆场顺利着陆,完成我国真正意义上有人参与的空间科学实验。回答下列问题:

(1)分析酒泉成为我国卫星发射中心航天城的区位优势。(10分)

(2)酒泉附近地区荒漠化强烈发展的原因。(10分)

(3)中国古代在天文方面取得了辉煌的成就,试举出春秋以来三项世界领先的成就。(6分)

(4)16世纪中期,欧洲天文学领域成就斐然,而中国天文学的领先地位却风光不再。试分析造成这种不同状况的原因。(6分)20世纪50~60年代,苏联人和美国人先后进入太空,而中国在这方面却相对滞后。请分析中国落后的历史原因。(6分)

(5)20世纪80年代,美国提出“星球大战”计划,其直接目的是什么?(2分)

**材料一** 我国第一代航天员全部选自空军战斗机飞行员。他们都有近千小时的飞行经历,具有高超的飞行技术,大学本科以上学历,强健的身体,良好的心理素质和反应能力。中国航天员的选拔极其苛刻,100名左右参选的飞行员中,才能挑选出1名。我国第一代14名航天员,是从1500多名空军现役飞行员中选拔而出的,堪称“万里挑一”。而费俊龙、聂海胜则是他们的最优者。

(6)航天员费俊龙、聂海胜的选拔及胜出对我们追求并实现自身价值有什么启示?(10分)

**材料二** “神舟”六号载人飞船所涉及的主要关键技术都是我国自主研发的,仅托举“神舟”六号上天的运载火箭,其故障检测和逃逸系统就采用了30多项具有自主知识产权的新技术。这表明我国在高新技术领域能够实现真正意义上的“中国制造”。

(7)提高我国科技创新能力需要政府的引导和扶持。请从政治常识的角度分析我国政府在促进我国科技自主创新能力中应发挥的作用。(10分)

# 命题研究专家 2006 年高考揭密卷(2)

## 文科综合能力测试

命题组长:龙 泉、余利平 命题成员:熊银忠、张齐宇、杨俊明、王铁松

本试卷分第 I 卷(选择题)和第 II 卷(综合题)两部分。满分 300 分,考试时间 150 分钟。

### 第 I 卷(选择题 共 140 分)

1. 图 2-1 分别表示三个不同地点的房屋某日日出日落时刻光照图,①~③图反映的时间可能是 ( )

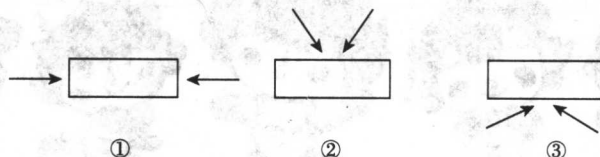


图 2-1

- A. 春分日、秋分日 秋分至春分 秋分至春分  
 B. 春分至秋分 秋分至春分 春分日、秋分日  
 C. 春分日、秋分日 春分至秋分 秋分至春分  
 D. 秋分至春分 春分日、秋分日 秋分至春分
2. 乙醇汽油的使用,可以适当降低各国对石油的依存度,如果能用生物能替代石油,从生态学的角度分析 ( )  
 A. 缓解温室效应 B. 降低石油价格 C. 改变世界能源结构 D. 改善环境质量

读图 2-2, M 地与 N 地气候类型不同,结合图中的资料,回答 3~5 题。

3. M 点的气候特点是 ( )  
 A. 终年高温多雨 B. 全年炎热干燥  
 C. 干湿两季 D. 全年温和多雨
4. 1 月份由 P 点驶向日本的货船 ( )  
 A. 顺风逆水 B. 顺风顺水  
 C. 逆风逆水 D. 逆风顺水
5. 影响 M 地与 N 地降水量差异的原因 ( )  
 A. 洋流地形 B. 离海远近  
 C. 纬度高低 D. 迎风坡与背风坡

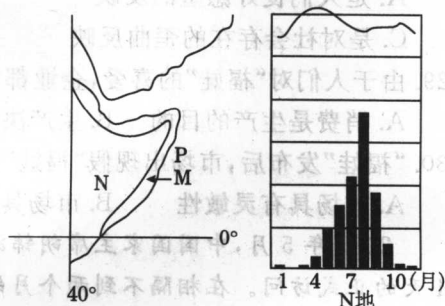


图 2-2

读下列四组“海陆分布轮廓图”(图 2-3),回答 6~8 题。

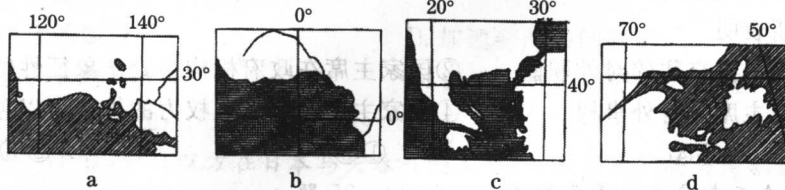


图 2-3

6. 由左到右四图分别代表的地区是 ( )  
 A. 日本及南部海区、几内亚湾、伊比利亚半岛、巴西东海岸  
 B. 大澳大利亚湾、几内亚湾、巴尔干半岛、加拿大东南沿海  
 C. 大澳大利亚湾,几内亚湾、亚平宁半岛、巴西东海岸  
 D. 日本及南部海区、非洲东部、巴尔干半岛、加拿大东南沿海
7. 对四图描述正确的是 ( )  
 A. a 图南部海湾有丰富的石油资源  
 B. b 图沿岸国家粮食产量大  
 C. c 图沿岸为温带海洋性气候  
 D. d 图东部沿海渔业资源丰富
8. 四图沿海地区气候类型相似的是 ( )  
 A. ab B. cd C. ac D. bd

读“全球大气臭氧分布图”(图 2-4),回答 9~10 题。

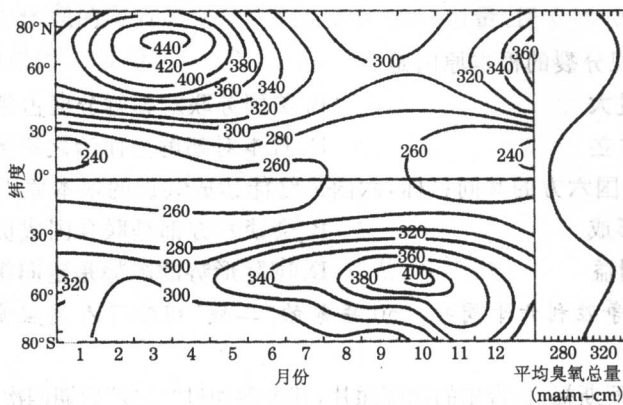


图 2-4

9. 图中臭氧分布规律描述准确的说法是
- A. 北半球臭氧春季含量最多, 50°N 含量最高
- B. 南北半球臭氧含量均是春季出现极大值
- C. 南半球臭氧秋季含量最多
- D. 全球臭氧含量最小值出现在极地, 最大值出现在副热带
10. 关于臭氧的说法不正确的是
- A. 臭氧在 20~30km 高度浓度达到最大值
- B. 不同高度形成条件不同, 臭氧含量多少不同
- C. 温室效应与大气中臭氧含量多少无关
- D. 大气层中的臭氧分布具有不连续或突变现象
11. 在党中央提出的“建设社会主义新农村”的方针指导下, 我国农村生产发展方向不合理的是
- A. 扩大耕地面积
- B. 调整产业结构, 发展多种经营
- C. 推动现代农业建设
- D. 大力提高农业科技创新和转化能力

2005 年 9 月 28 日全球联合祭孔活动在世界各地同时举行。这充分说明孔子博大精深的思想文化在全球影响深远。回答 12~16 题。

12. 下列各地的孔庙中, 最适合做“2005 年全球联合祭孔”活动主会场的是
- A. 中国曲阜
- B. 日本足利
- C. 美国纽约
- D. 韩国首尔
13. 孔子言必称三代(尧舜禹时期), 认为其时代为“大同世界”。下面对其分析不正确的是
- A. 孔子在思想上抵制急剧的社会变革
- B. 孔子的历史观违背了历史的潮流
- C. 孔子代表了当时奴隶主贵族的利益
- D. 孔子的思想深受当时的统治者赏识
14. 以下列著作、杂志为代表的历史运动中, 最为彻底地批判了封建正统思想, 动摇了封建统治思想基础的是

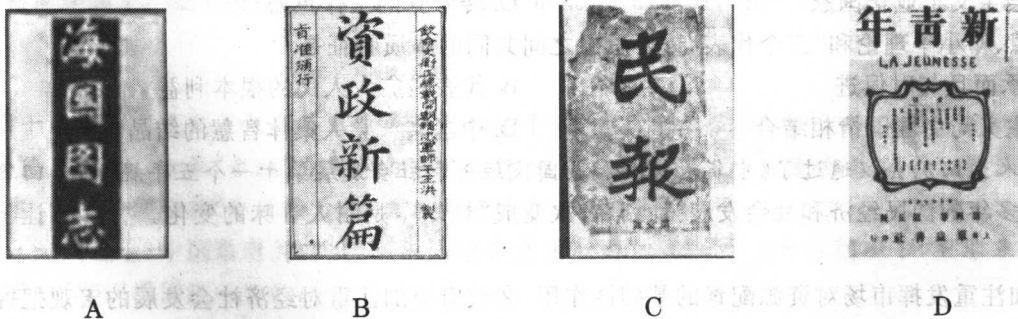


图 2-5

15. 儒家文化的思想精华对当今中华民族乃至全世界具有不可替代的影响力。下列对其“影响力”的说法不正确的是
- A. 增强海内外炎黄子孙的民族凝聚力
- B. 解决地区冲突、环境恶化等问题
- C. 给当今信仰危机、道德失衡以启迪
- D. 从仁爱、和谐等思想中寻找智慧
16. 下列先秦时期先贤大哲的思想中, 都体现了构建“和谐社会”、“和谐世界”的理想。其中属于儒家的思想主张的是
- ①“大道之行也, 天下为公” ②“选贤与能, 讲信修睦” ③“小国寡民, 无为而治” ④“兼爱”“非攻”“尚贤” ⑤“己所不欲, 勿施于人”
- A. ①②③
- B. ②③④
- C. ①②⑤
- D. ②④⑤

2005年11月11日朝核问题第五轮六方会谈以实际行动迈出了推动朝核问题从“承诺”到“行动”的第一步。回答17~18题。

17. “二战”后,导致朝鲜半岛出现分裂的根本原因是 ( )
- A. 南北经济发展水平差距过大 B. 美国苏联对朝鲜分区占领  
C. 南北两种社会制度根本对立 D. 日本对朝鲜分而治之所致
18. 实现朝鲜半岛无核化是与参会六方的共同目标,六国最终能达成共识的根本原因是 ( )
- A. 世界经济全球化局面的形成 B. 会谈六方都是联合国成员国  
C. 会谈六方存在着共同的利益 D. 国际形势的趋势是走向缓和

2005年是世界反法西斯战争胜利六十周年。60年前的“二战”留给了人类宝贵的精神财富和许多的历史启迪。回答19~21题。

19. 下列是二战“三巨头”斯大林、罗斯福、丘吉尔的四幅照片,其中参加过“二战”后期四次重要国际会议的是 ( )



图 2-6

20. 下列“二战”战役中具有相同作用的是 ( )

①中途岛战役 ②不列颠战役 ③阿拉曼战役 ④斯大林格勒战役 ⑤莫斯科战役

A. ①②③ B. ①③④ C. ②③④ D. ③④⑤

21. 1942年1月26日26个国家的代表齐集华盛顿,共同签署了《联合国家宣言》,宣言由中、美、英、苏四国领衔,其余22国按国名的字首英文顺序依次排列。对此下列说法不正确的是 ( )

A. 这是国际关系分化的结果 B. 反映了中国国际地位的提高  
C. 消除了反法西斯联盟内部的矛盾 D. 表明中国抗战得到了国际承认

加强党的先进性建设,是加强和改进党的建设的长期任务。回答22~23题。

22. 毛泽东在七届二中全会上提出务必保持谦虚、谨慎、不骄、不躁和艰苦奋斗的作风,其主要出发点是 ( )

A. 处理党内存在的分歧和矛盾 B. 增强党的执政能力  
C. 建设社会主义工业化国家 D. 转变党的工作重心

23. 毛泽东思想、邓小平理论和“三个代表”重要思想之间共同的本质特征是 ( )

A. 一脉相承而且与时俱进 B. 代表最广大人民的根本利益  
C. 马克思主义与中国国情相结合 D. 中国共产党人集体智慧的结晶

十届全国人大四次会议通过了《中华人民共和国国民经济和社会发展第十一个五年规划》。回答24~27题。

24. 延续了50多年的国民经济和社会发展“计划”首次变成“规划”,是耐人寻味的变化。“计划”让位于“规划”,说明了 ( )

①政府更加注重发挥市场对资源配置的基础性作用 ②政府更加注重对经济社会发展的宏观把握和调控  
③我国已步入发达的市场经济国家行列 ④政府职能转变将迈出新步伐

A. ①②③ B. ①②④ C. ②③④ D. ①③④

25. 根据我国社会经济的新发展,“十一五”规划提出建设“生产发展、生活宽裕、乡风文明、村容整洁、管理民主”的社会主义新农村的发展目标。从各国的现代经济发展过程来看,许多市场经济国家,如:日本、韩国等小农社会的国家,在工业化达到一定阶段时,都适时提出新农村建设问题。这段话说明 ( )

①不同的事物具有不同的特点 ②社会存在决定社会意识  
③矛盾特殊性中包含着矛盾普遍性 ④事物在不同发展阶段上具有不同的特点

A. ①②③④ B. ②③④ C. ③④ D. ④

26. “十一五”规划强调地区平衡,为扭转中国由东向西分梯度非均衡的发展格局,将建立东、中、西优势互补,良性互动的区域协调发展机制。国家从政策上、制度上为区域协调提供保障体现了在市场经济条件下 ( )



- A. 社会保障制度不断走向健全
- B. 加强和改善国家的宏观调控
- C. 我党的执政水平不断提高
- D. 政府自觉按市场规律办事

27. 在区域统筹方面,“十一五”规划将形成一个全面的区域发展战略构架,以此来调整区域发展的布局,分类指导和调控各地区发展,避免宏观调控中的“一刀切”。从辩证法的角度看,这主要体现了 ( )

- A. 从大处着眼,从小处着手
- B. 坚持一切从实际出发,做到主观与客观具体的历史的统一
- C. 既充分发挥主观能动性,又充分尊重客观规律
- D. 既着眼整体,又重视搞好局部

2005年11月11日,距北京奥运会开幕1000天的时刻,北京奥运会吉祥物造型——“福娃”(图2-7)集体亮相。

回答28~30题。



图2-7 北京奥运吉祥物“福娃”

28. “福娃”是五个可爱的亲密好伙伴,他们的造型融入鱼、大熊猫、藏羚羊、燕子以及奥林匹克圣火的形象,由此产生2008年北京奥运会吉祥物。这告诉我们,“福娃”的观念 ( )

- A. 是人们良好愿望的反映
- B. 其内容来源于客观世界
- C. 是对社会存在的歪曲反映
- D. 是由人们主观愿望决定的

29. 由于人们对“福娃”的喜爱,企业都争取通过合法途径在自己的商品上印上“福娃”图样。这是因为 ( )

- A. 消费是生产的目的
- B. 生产决定消费
- C. 收入水平决定消费水平
- D. 消费反作用于生产

30. “福娃”发布后,市场出现假“福娃”,这说明 ( )

- A. 市场具有灵敏性
- B. 市场具有盲目性
- C. 市场具有自发性
- D. 市场具有滞后性

2005年5月,中国国家主席胡锦涛出席俄罗斯纪念卫国战争60周年活动后,6月30日,又对俄罗斯进行为期4天的正式访问。在相隔不到两个月的时间里,中国国家主席两次踏上俄罗斯的土地,这在中俄交往史上还是第一次。回答31~32题。

31. 比较俄罗斯和中国,两国的相同点是 ( )

- A. 两国都是人民民主专政的国家
- B. 两国都实行单一制的国家结构形式
- C. 两国都实行民主共和制的政体
- D. 两国的国家元首都兼任政府首脑

32. 胡锦涛主席出访俄罗斯表明 ( )

- ①我国具有加强同世界各国交往的对外职能
  - ②国家主席在政府机构中处于象征性的首脑地位
  - ③中华人民共和国国家主席具有外事权
  - ④国家主席作为个人权力的体现可以独立行使国家元首职权
- A. ①②      B. ③④      C. ①③      D. ②③

儒家思想对后世乃至今天都产生着重要影响。回答33~35题。

33. 有人说:“儒家的‘民无信不立’、‘和而不同’等思想精华,对于实现中华民族的伟大复兴具有十分重要的现实意义。”这句话 ( )

- ①强调了意识的能动性
  - ②坚持了辩证法思想
  - ③说明意识是永恒的
  - ④表明价值观对实践活动起决定作用
- A. ①②      B. ①③      C. ②③      D. ①④

34. 儒家思想倡导人们追求“如乐之和,无所不谐”,“老吾老以及人之老,幼吾幼以及人之幼”的精神境界。这表明 ( )

- A. 要达到社会和谐就要消除一切矛盾
- B. 社会和谐需要在对立中把握统一
- C. 和谐相处成为人生的最高境界
- D. 人性本善,要趋利避害

35. 世界各国的文化建设既要坚持自己的特色,又应遵循文化发展的共同规律。建设中国特色的社会主义文化,就应该汲取世界各民族文化的精华。从哲学上看,这体现了 ( )

- A. 运动和静止的辩证统一
- B. 主流和支流的辩证统一
- C. 主观和客观的辩证统一
- D. 共性和个性的辩证统一