

资源策划：央教联高考研究中心
责任编辑：一笑
封面设计：王乙顺

数十位权威命题专家 一线特级教师倾心打造

新考
新题
新卷

黄冈重点中学
HUIYANG
KINGGUANG



黄冈重点中学高考专题测试卷

高考专题测试卷

语文 数学 英语
物理 化学 生物
政治 历史 地理

总主编 涂秉清（黄冈中学高级教师）

2007



2007

政治

ISBN 7-5075-2075-7



9 787507 520750 >

ISBN 7-5075-2075-7/G·337

定价：106.00 元(共九册)

华文出版社

数十位权威命题专家 一线特级教师倾心打造

2007年



黄冈重点中学

高考专题测试卷

总主编：深秉清（黄冈中学高级教师）



政治

2007

主 编： 涂振刚 彭 斌 黄 亮
副 编： 涂 勇 涂 勇 涂 勇
编 者： 涂 勇 涂 勇 涂 勇
编 者： 涂 勇 涂 勇 涂 勇

九五出版社

政治 07年高考什么?



2007年高考试题命题趋势不会发生实质性改变

纵观近三年的全国文科综合高考政治试题,可以看出命题者对《考试大纲》的要求、题型、分值不会发生大的变化,在2007年《考试大纲》发布之前,可以把2006年的《考试大纲》作为备考复习的指导性文件。

2007高考试题命题依然重视《考试大纲》中高考考查范围的阐释和把握

纵观近三年的全国文科综合高考政治试题,可知我们必须重视《考试大纲》以及考点,因为它是命题的主要依据,也是我们备考的主要依据。在复习中,考生需要以《考试大纲》为“纲”,明确每个考点的本质,了解这一考点的内外延伸,包括哪些几个具体知识点,与其他知识点有什么区别与联系,只有领悟高考考点的本质内容,将其变成鲜活的知识,才有生命力,才能有效地加以运用。

2007高考试题命题依然注重学科间综合,但以政治学科综合为主

纵观近三年的全国文科综合高考政治试题,可以判定政治、地理和历史学科的综合占5/2007年高考试题的一部分,学生应该给予一定的重视,但2007年高考试题更多的是政治学科内的综合,尤其是经济常识、哲学常识和政治常识知识点的综合,考生主要注意各科试题内的综合,然后是跨题目的综合、课标题目的综合,最后是全书的综合,其次要注意教材里的引言与小结,教材书上的图示,最好是自己根据教材内容编织网络图,或者根据主线和中心词把知识联系起来;另外也可以从时政专题入手,把经济常识、哲学常识和政治常识串联起来。

2007高考试题依然会以能力立意为主导,考查学生的思维能力

纵观近三年的全国文科综合高考政治试题,以能力立意为主导、考查学生解决问题的能力思维题,是其显著特点,考生要努力提高获取和解读信息、调动和运用知识、描述和阐释事物、论证和探讨问题的能力,其根本的方法就是进行“研究性学习”。“研究性学习”就是自主地研究考点本质,相互区别及其知识系统;自主地进行实践研究,不能认为有了答案就万事大吉,典型的试题一定要坚持笔答;自主地在中考模拟答案,然后参照标准答案进行比较研究,从中总结经验教训;自主地在中考时政问题,理出背景材料的关键词,找准背景材料与教材的结合点,经过这样的思考和实践,才能真正形成解决问题的思维能力。

2007高考试题命题依然会紧密联系实际,关注国内国际时政热点问题

纵观近三年的全国文科综合高考政治试题,可以看出政治试题具有强烈的时代烙印。在2007年的备考复习中,考生要以科学发展观为指导,以构建社会主义和谐社会和和谐世界为主线,关注党和国家的重大战略、方针和改革,了解党的会议精神,全国人大会议、中央经济工作会议,全面建设小康社会,建设社会主义新农村,建设创新型国家,建设创新型社会,科教兴国和人才强国战略等时政热点;要重视人文精神,关注国计民生,坚持物质文明、政治文明和精神文明协调发展;树立“八荣八耻”的社会主义荣辱观,重视社会主义民主的发展,缩小居民收入差距等问题;要以构建和谐社会为线索,关注我国的对外政策和外交活动,大国之间的战略关系,关注伊核问题等。

前言

十年风雨同舟，沧海桑田换容颜。
拼搏十年风雨同舟，他日青春展宏图！

《黄冈重点中学高中重点中学》教辅书一上市，得到了广大师生及家长的认可。基于此，我们教学研究 centers 重磅出击又推出了最新力作——《黄冈重点中学高中重点中学》教辅书。本书具备以下特色：

名师名师阵容，再展名师风采

本书各科的主编均为黄冈重点中学的特、高级教师，参加编写的老师都是近二三年届高三的一线精英、竞赛高考命题研究专家，他们有多年的高考命题研究经验，详备的高考复习资料，丰硕的研究成果，他们将这些宝贵的财富都融入到这套教辅用书之中，引导同学们明确高考复习方向及掌握正确的复习方法。

融入名校精神，理念新颖独特

本书以最新教学大纲和考试大纲为依据，与新课程标准接轨，融入最新课改精神，着眼三维目标，突出学科的特色理念，注重人文，情感、价值理念的渗透与融合，并把高考必考的知识考点按专题的形式进行归类、训练。对学生具有科学的指导作用。

注重精、全、新、准、练，确保合理有效

从选编来看，本书根据每一个专题及学科的特点，选用最新背景材料，融热点、创新题、预测题、热点演练题之精华于一体，涵盖高考考点，突出开放性、探索性、思辨性与创造性。从题目设计看，本书的试题难易程度、梯度合理，层次分明，循序渐进地引导学生夯实应考的基础，提升实战的能力。

注重实用、高效，准确锁定目标

本书的专题训练，话题与高考题型、分值、难度等方面都与高考试题一致，全面体现教育部以考定纲、准确锁定2007年高考目标，把握高考最新动态，深入研究，全新演绎。对于重点、难点、有针对性增加训练力度，对于新增考点，加以强调，引起关注，并有效训练。对于训练题的答案都给予详解，以便学生了解考查的意图，并能悟出值得对错的原因，有利于学生自主学习，使学生在省时高效、轻松备考。

《黄冈重点中学高中重点中学》系列丛书能成为学生成长道路上的良伴益友，关键时刻不可缺少的行动指南，将学子们一鼓作气、实现人生理想与重大跨越！本系列丛书在编写时尽管做到了逐字、逐句、逐段推敲、题题把关，反复修改，但难免有疏漏之处，恳请广大读者朋友批评指正，以便我们及时修正。

编委会

2006年8月于北京

黄冈重点中学高中重点中学

HUANGGANGZHONGYANZHONGXUEZHONGYANZHONGXUE

总主编 涂圣清

目录

专题1 商品和商品经济	(1)
专题2 社会主义初级阶段的经济制度和社会主义市场经济	(3)
专题3 企业和经营者	(5)
专题4 产业和劳动者	(7)
专题5 财政税收和纳税人	(9)
专题6 银行和储蓄者	(11)
专题7 商品服务和消费者	(13)
专题8 当代世界市场和我国的对外贸易	(15)
专题9 一切从实际出发	(17)
专题10 联系和发展地看待问题	(19)
专题11 坚持矛盾分析的方法	(21)
专题12 正确认识事物发展的原因、状态和趋势	(23)
专题13 透过现象认识事物的本质	(25)
专题14 坚持正确的价值取向	(27)
专题15 选择崇高的人生目标	(29)
专题16 自觉投身社会实践	(31)
专题17 我国的国家制度	(33)
专题18 我国的政党和政党制度	(35)
专题19 我国的民族和宗教	(37)
专题20 国际法和我国的对外政策	(39)

图书在版编目(CIP)数据

黄冈重点中学高中重点中学测试卷·政治 / 涂圣清总主编.
北京: 华文出版社, 2006.10
ISBN 7-5075-2075-7

I. 黄... II. 涂... III. 政治课—高中—习题—升学参考资料
IV. G·634

中国版本图书馆CIP数据核字(2006)第106793号

星光教辅系列

黄冈重点中学高中重点中学测试卷·政治

出版: 北京教育考试研究中心 编 辑: 薛立峰

封面设计: 王乙晴 责任编辑: 一笑

华文出版社出版发行
地址: 北京市宣武区广安门内大街305号B155号楼
邮编: 100055

版次: 2006年9月第1版
印次: 2006年9月第1次印刷
书号: ISBN 7-5075-2075-7/G·337
开本: 880×1230毫米 1/8
印张: 76
字数: 00.001-20.000册
定价: 106.00元(共九册)

质量投诉电话: 010-58627510-28 (28)

专题 1 商品和商品经济

本试卷合第 I 卷(选择题)和第 II 卷(非选择题)两部分,共 150 分,考试时间 120 分钟。

第 I 卷(选择题 共 65 分)

- 一、选择题(本大题共 25 小题,每小题 2.5 分,在每小题四个选项中,只有一项是符合题目要求的)
1. 近年来,人们越来越要求多买到一个企业日子好过不好过,关键是看它的产品是否符合社会需要,有没有销路。一个产品能第一个企业的事例屡见不鲜。一些企业因产品无销路而陷入停产、破产的困境,可谓严重。据此回答 1—2 题。
1. 这说明()
 A. 商品是使用价值和价值的统一体
 B. 商品价值是由使用价值决定的
 C. 商品的使用价值是商品价值的载体
 D. 要实现商品的价值,就必须让渡商品的使用价值
2. 一个好的产品之所以能赚钱,一个企业,是因为商品具有两重性,对此正确的理解是()
 A. 使用价值和价格 B. 价值的东西,不一定要有使用价值
 C. 没有使用价值的东西,就没有价值 D. 有价值的东西,就一定有使用价值
3. 货币商品和贵金属其他一切商品价值的不同,这是因为()
 A. 货币商品,具有价值 B. 货币的本质是一般等价物
 C. 货币是商品,具有使用价值 D. 货币是商品,具有价值
4. 中央财经工作会提出:在农业和农村经济结构调整,要面向市场,依靠科技……优化品种,提高质量,增加收益为中心,大力调整农产品结构。调整农产品结构之所以注重质量,是因为()
 A. 质量意味着高科技含量
 B. 质量意味着高科技含量
 C. 商品的使用价值决定于质量
 D. 商品的使用价值是价值的物质承担者
5. 中国人民银行召开新闻发布会,经国务院批准,改进后的 2005 年第五套人民币 100 元、50 元、20 元、10 元、5 元纸币和 1 角硬币将于 8 月 31 日发行流通,现行人民币具有相同货币功能。由上述材料可知,国家可以()
 A. 决定发行纸币 B. 决定纸币的价值
 C. 决定纸币的发行数量 D. 决定纸币的发行总量
6. 对货币的认识,正确的观点是()
 A. ①②③ B. ②③ C. ①②③ D. ①②③④

- ①货币的基本职能是流通手段和支付手段 ②货币是从商品中分离出来,固定充当一般等价物的商品 ③货币是商品交换发展到一定阶段的产物 ④货币与商品、商品生产和商品交换同时产生
7. 2005 年发行建设国债 600 亿元,比上年减少 300 亿元。国家发行的国债到期是要还本付息的。“还本付息”是货币在履行()
 A. ①② B. ③④ C. ②③ D. ①④
8. 下列属于货币的职能
 A. 价值尺度的职能 B. 流通手段的职能
 C. 支付手段的职能 D. 贮藏手段的职能
9. 巧地运用价格杠杆,有可能遏制热市场的进一步升温。据此回答下列各题。
9. 之所以运用价格杠杆制衡市场,是因为()
 A. 供求变化会引起价格的波动
 B. 价格的波动会影响供求关系
 C. 商品价格的波动与商品供求关系密切相关
 D. 商品价格的波动与商品供求关系成正比
10. 价格杠杆的作用,从根本上说是()起作用的。
 A. 价格规律 B. 供求关系 C. 供求关系 D. 宏观调控
11. 近年来,我国商品的价格有了较大变化,如彩电、微波炉等价格骤降,钢材、铜板等原材料价格有所上升。这种有升有降的价格波动会导致()
 A. 供求矛盾进一步激化
 B. 企业重组,产业结构调整加速
 C. 城乡差距进一步扩大
 D. 政府宏观调控能力减弱
12. 2005 年 5 月 1 日,北京晚报报道,海尔集团在去年营业收入达到 1016 亿元,已超越德国西门子的 900 亿欧元,海尔集团在德国市场占有率也稳步提高。会上推出了符合中国个性化需要的“大家系列网络彩电”,包括网络、变频、网络冰箱在内的 10 大门类 28 个规格品种,加上其产品零售过程,在获得套上引起众多经销商的极大反响,订货的客商络绎不绝。据此回答 11—12 题。
11. 上述材料中的“大家系列网络彩电”()
 A. 使用价值和交换价值的统一 B. 使用价值和价值的统一
 C. 使用价值和价格的统一 D. 使用价值和价值的统一
12. 生产适合市场需要的个性化的商品()
 A. ①② B. ③④ C. ②③ D. ①④
13. 则“产品质量过硬”这句话的正确理解是()
 A. ①② B. ③④ C. ①③④ D. ②③④
- ①产品质量过硬,说明产品的质量是最好
 ②产品质量过硬,一定会受到消费者的青睐
 ③产品质量过硬,说明产品的质量是最好
 ④产品质量过硬,说明产品的质量是最好
- 因为使用价值是价值的物质承担者

- A. ①② B. ③④ C. ①④ D. ②③
14. 杭州钱江水利枢纽工程,水利部用现代企业制度,建立有限责任公司,采用市场运作方式“筹资”。即由国家发改委,成立一个由曹渭、曹渭、曹渭等单位及部门参加的有限责任公司,再由江苏成立合伙企业,两个公司签订合同,确立买卖关系,分不同的时间,来购水量,确定不同价格。上述问题的经济学依据是()
 A. 水是自然资源,非排他性使用,不能成为商品 B. 南水北调的长江水凝结了人类劳动,因此是商品 C. 在市场经济条件下,雨水是商品 D. 雨水是商品,因此是商品
15. 目前,家长普遍重视对孩子的智力开发,玩具厂根据这一情况,研制出生产儿童智力玩具的玩具将畅销,于是新玩具厂,引进技术,设备,生产出有利于儿童智力开发的玩具,销量剧增,这()
 A. ①② B. ③④ C. ①③ D. ②④
- ①价值规律刺激技术进步的生产和生产率的提高 ②价值规律有调节生产资料和劳动力在各生产部门的分配的作用 ③产品必须经过商家或生产经营者,才能在市场上实现其使用价值 ④产品必须经过商家或生产经营者,才能在市场上实现其使用价值
16. “入世”后,汽车销售量大幅度增长,原因有另外 WTO 后,天降低价不能有利可图,应该()
 A. ①② B. ③④ C. ①③ D. ②④
- ①不断提高商品生产率,降低成本 ②不断调整产品结构,加强管理,提高商品质量 ③主要依靠国家的政策支持 ④进一步提高技术和体制创新,提高自身素质
- A. ①②③ B. ①②④ C. ①③④ D. ②③④
17. 十多年前,消费者之所以对“温州鞋”不屑一顾,是因为()
 A. 质的劣等商品是为质的低劣商品的使用价值
 B. 质的劣等商品是为质的低劣商品的使用价值
 C. 质的劣等商品是为质的低劣商品的使用价值
 D. 质的劣等商品是为质的低劣商品的使用价值
18. 温州皮鞋业因技术创新,表明()
 A. 商品生产者必须根据市场需求来生产
 B. 任何商品生产者都会受到利益驱动
 C. 商品生产者都会受到利益驱动
 D. 高新技术才能提高商品竞争力
19. 温州的皮鞋上“生产者”之所以用品牌经营,是因为它()
 A. 能更好地满足消费者需要
 B. 有利于提高市场占有率,获取较好经济效益
 C. 有利于提高生产率
 D. 产品产量高
20. 要制造出名品牌产品,就必须做到()

第Ⅱ卷(非选择题 共85分)

①树立品牌的良好信誉 ②增加产品的价值 ③降低生产成本 ④创造优质产品
A. ①② B. ②③ C. ③④ D. ①②④

(经济生活) 材料三: 电信部门启动转变观念, 以更好地结合价值规律的要求, 改变长期以来形成的习惯做法, 这样, 具体的受惠者不仅为消费者, 而且包括电信经营者本身, 据此回答21—22题。

21. “要‘更加符合价值规律’。”
①是因为价值规律是商品经济的基本规律 ②意味着电信业务普遍降价
③是发展市场经济的客观要求 ④就是要尽量减少收费
A. ①②③ B. ①②④ C. ①③④ D. ②③④

22. 市场经济平等的定价, 关键问题在于不断革新技术, 提高质量和降低生产成本, 做到物美价廉, 这样才能长期赢得广大消费者的喜爱, 为自己的商品不断创造有效需求, 永葆其名牌的地位。可见()
①物美其值其价是价值的表现形式 ②价格可以影响产量 ③只要是优质商品就可以高价售出 ④商品价格要在产品的质量、技术水平和成本上下功夫
A. ①②③ B. ①②④ C. ②③④ D. ①③④

23. 纸币发行量超过流通中实际需要的货币量时, 会引起通货膨胀, 这是因为()
A. 纸币是货币符号, 代替金属货币执行流通手段的职能
B. 纸币发行多了其自身价值也就小了
C. 纸币的发行量多少是由国家决定的
D. 纸币的发行量由生产纸币的社会必要劳动时间决定, 决取决于纸币价格

24. 在我国经济发展, 社会稳定的同时, 当前国际、国内犯罪活动比较猖獗。为此, 国务院部署必须“千万”提高人民群众的防范意识, 有效打击“出境犯罪团伙”。要打击和遏制出境犯罪团伙必须()
A. 强化居民身份证在我国的法定地位
B. 强化居民身份证在我国的法定地位
C. 居民身份证是公民行使社会权利、承担社会责任的法定证明
D. 居民身份证是公民行使选举权、罢免权、质询权、监督权的法定证明

25. 在文化产业的浪潮中, 一些媒体为了迎合大众, 迎合市场, 将低俗文化产品和文化信息传播开来, 低俗文化造成的文化污染, 将比环境污染更可怕。从经济学的角度看, 低俗文化泛滥()
①是市场经济盲目性的体现 ②是建立社会主义市场经济的必然结果
③要求国家必须加强对文化消费市场的引导 ④要求文化行政管理部门加强对文化市场的直接管理
A. ①②③ B. ①②④ C. ①③④ D. ①②④

26. 之所以要建立和加强社会主义文化强国, 是因为先进文化()
①是可持续发展的强大动力 ②有利于增强国家的综合国力 ③有利于促进生产力的发展 ④是经济建设的根本动力和智力支持
A. ①② B. ③④ C. ②③ D. ①②③④

二、非选择题(本大题共4个小题)
27. 山东五支完全队同名, 坐落在全国五个不同省份不同村落的第四支完全队是章丘, 山东的“章丘”, 价格能比别的大高两成。但首先他支部书记认为, 新鲜材料又在市场上卖已经赚了。他说: “土地的成本就是被控制了, 一套线上, 达到4000元到5000元之后, 就会降得不行, 我们得到限制了。”

阅读材料, 运用经济常识回答问题:
(1)章丘因万新村村中租的富源大盖为什么价格能比别的大高两成?
(2)为什么村支部书记说“新鲜材料又在市场上卖已经赚了”, 就会降得不行, 我们得到限制了?
(3)你认为应该怎么办?(8分)

28. 1993年到1997年治理通货膨胀的阶段, 实行适度从紧的财政货币政策, 即紧缩性财政政策, 和货币政策, 1998年以来是应通货紧缩而采取的阶段, 实施了积极的财政政策和货币政策(即扩张性财政政策和货币政策, 2005年度实行稳健的财政政策和货币政策(中性的财政政策和货币政策), 上述三种政策是否矛盾? 为什么?(20分)

29. 近年来, 随着科学技术的进步和社会生产力的提高, 汽车、家电、手机等商品价格不断下降, 价格越跌越猛, 生产企业面临着生产与销售两难, 根据材料, 回答问题:
(1)从经济学上看, 上述商品价格不断下降的根本原因是什么?(8分)
(2)从理论上讲, 运用所学知识, 说明企业怎样才能使商品的市场竞争力中求得生存和发展。(8分)

30. 材料一: 我国汽车工业走过一段“黄金时期”, 奇瑞云贵, 广商云贵, 然而, 奇瑞风云突变, 2004年我国汽车业更是价格战全线打响, 汽车行业平头车, 进入保本保利时期。2005年, 中国取消汽车进口许可证和进口配额后, 我国汽车行业将面临新的挑战。
材料二: 2005年3月28日, 中国民族品牌汽车企业奇瑞公司拥有自主知识产权, 自主研发的汽车发动机一次性点火成功。奇瑞公司于2004年, 投资30亿元用于研发出符合欧盟排放标准的0.8—1.6升系列发动机。这是中国汽车核心部件的“零的突破”。奇瑞公司成立以来, 重视质量及客户至上, 不断推出新产品, “奇瑞标志”、“奇瑞东风之子”等销量大增。该公司大力提高生产效率, 科学管理和经营, 其年度销售“奇瑞QQ”价格降至1万元以下, 盈利丰厚, 在我国汽车企业中不断脱颖而出。

运用经济学知识并结合材料和实际分析回答:
(1)目前我国汽车(新车)价格下降原因有哪些?(10分)
(2)奇瑞公司要发展壮大哪些经济举措?(15分)

专题 2 社会主义初级阶段的经济制度和社会主义市场经济

本卷共分为 A 卷(选择题)和 B 卷(非选择题)两部分,共 150 分,考试时间 120 分钟。

第一卷(选择题 共 65 分)

一、选择题(本大题共 25 小题,每小题 2.6 分,在每小题给出的四个选项中,只有一项是符合题目要求的。)

1. 我国公有制经济已占 GDP 的一半以上。因此,国家在制定任何一项重要经济政策时,都应将非公有制经济作为重要考虑对象。这是因为()
A. 公有制经济是社会主义经济的重要组成部分
B. 公有制经济是社会主义初级阶段的主要矛盾
C. 非公有制经济是促进社会主义生产力的重要力量
D. ①②③
E. ③④
2. 在我国,发展股份制经济()
A. 有利于增加就业岗位
B. 有利于增强企业的经济实力
C. 有利于实现共同富裕
D. 有利于技术创新的一体化
E. ①②③④
3. “沿海开放开发”是方加快速度振兴,充分发挥江苏沿海优势,使沿海地区实现“四个率先”而提出的发展战略。不符合这一思想的是()
A. 有利于实现共同富裕
B. 有利于提高综合国力
C. 有利于实现社会公平
D. 有利于实现共同富裕
E. ①②③④
4. 中共中央关于完善社会主义市场经济体制若干问题的决定,要“适应经济市场化不断发展的趋势,进一步增强公有制经济的活力,大力发展股份制经济,健全现代企业制度,优化配置和合理利用国有资本”。这一思想()
A. 明确了公有制经济的主体地位
B. 明确了公有制经济的基本特征
C. 明确了公有制经济的重要组成成分
D. 明确了公有制经济实现形式多样化而产生的
E. 2005 年,某省有制钢企业改制安置下岗失业人员 6.7 万人。上述材料主要说明,发展个体经济和私营经济,可以()
A. 有效吸收劳动就业
B. 保持和发展传统技艺
C. 增加国家财政收入
D. 使劳动者获得多种收入
E. 北京青年报报道,北京市个体私营经济在市场主体增长上超过了“半边天”。据此回答 5~6 题。
6. 截至 2002 年末,北京市私营个体业已达 15.1 万户,个体工商户达到 31.3 万户,分别比两年前增长了 45.2% 和 29.2%。个体私营经济迅速发展的原因()

A. 个体私营经济体制创新,有活力,适应市场需求
B. 个体私营经济是国民经济的重要组成部分
C. 个体私营经济是适应社会主义市场经济发展的要求
D. 个体私营经济是适应社会主义市场经济发展的要求
E. 2002 年,北京市共有市场主体 77.9 万户,而私营企业、个体工商户占 31.5%,个体私营经济占北京市经济增长的贡献率已超过 60%。这是符合 14~15 题。

14. 上述材料说明()
A. 在现代商品经济条件下,资源的配置主要是通过市场实现的
B. 在市场经济条件下,市场调节资源配置起着基础性作用
C. 宏观调控应以经济手段为主,以法律、行政手段为辅
D. 经济的正常运行,离不开市场对资源配置的一体化形式
E. 国家在宏观调控中,主要体现了()

15. 国家在宏观调控中,主要体现了()
A. 市场经济的平等性
B. 市场经济的竞争性
C. 市场经济的法制性
D. 市场经济的开放性
E. ①②③④

16. 宏观调控,必须遵循,确保在改革中实现()
A. 宏观调控的平等性
B. 宏观调控的竞争性
C. 宏观调控的法制性
D. 宏观调控的开放性
E. ①②③④

17. 该事件表明宏观调控必须体现()
A. 公平
B. 效率
C. 合法
D. 平等
E. ①②③④

18. 煤矿实行工人自主,2005 年“帮困”煤款被工人们买走的做法,由于受利益的驱使,一些企业不顾安全条件,违法、违规、违章生产,造成煤矿事故频发,这说明()
A. 市场经济的盲目性和滞后性导致资源的浪费
B. 市场经济是追求利润最大化的经济
C. 非公有经济具有自主经营的权利
D. 市场经济具有自主经营的权利
E. 中国共产十六届五中全会通过了《中共中央关于制定国民经济和社会发展第十一个五年规划的建议》,总结了 50 多年的国民经济发展和社会发展的经验,首次提出“规划”一词。据此回答第 19 题。

19. 从 1953 年开始的“一五”计划期间,中国制定实施国民经济和社会发展规划,使我国在较短的时间内,基本建立了社会主义工业体系和国民经济体系,为全面建设小康社会打下了坚实的基础,为改革开放和社会主义现代化建设积累了宝贵经验。这说明()
A. 我国建立了完善的市场经济体制
B. 政府完全发挥了宏观调控的作用
C. 我国不断提高对外开放的水平
D. 我国不断提高对外开放的水平
E. ①②③④

20. 十六届五中全会在制定国民经济和社会发展的“十一五”规划时,提出“五个统筹”,即在统筹城乡发展、统筹区域发展、统筹经济社会发展、统筹人与自然和谐发展、统筹国内发展和对外开放方面,要取得重大进展。这说明()
A. 统筹城乡发展,是统筹区域发展的前提
B. 统筹区域发展,是统筹经济社会发展的基础
C. 统筹经济社会发展,是统筹人与自然和谐发展的前提
D. 统筹人与自然和谐发展,是统筹国内发展和对外开放的基础
E. ①②③④

21. 收入分配制度改革是宏观调控的重要内容()
A. 收入分配制度改革是宏观调控的重要内容
B. 收入分配制度改革是宏观调控的重要内容
C. 收入分配制度改革是宏观调控的重要内容
D. 收入分配制度改革是宏观调控的重要内容
E. ①②③④

22. 坚持优化收入分配,既要调整分配政策,又要反对平均主义,要防止收入悬殊,体现了()
A. 国家、集体、个人利益的统一
B. 生产和消费的统一
C. 效率和公平的统一
D. 效率和公平的统一
E. ①②③④

23. 生产要素按贡献参与分配,体现了()
A. 生产要素按贡献参与分配,体现了()
B. 生产要素按贡献参与分配,体现了()
C. 生产要素按贡献参与分配,体现了()
D. 生产要素按贡献参与分配,体现了()
E. ①②③④

24. 实现共同富裕,是社会主义的根本原则()
A. 实现共同富裕,是社会主义的根本原则
B. 实现共同富裕,是社会主义的根本原则
C. 实现共同富裕,是社会主义的根本原则
D. 实现共同富裕,是社会主义的根本原则
E. ①②③④

25. 个体私营经济是社会主义市场经济的重要组成部分()
A. 个体私营经济是社会主义市场经济的重要组成部分
B. 个体私营经济是社会主义市场经济的重要组成部分
C. 个体私营经济是社会主义市场经济的重要组成部分
D. 个体私营经济是社会主义市场经济的重要组成部分
E. ①②③④

26. 我国在制定任何一项重要经济政策时,都应将非公有制经济作为重要考虑对象()
A. 我国在制定任何一项重要经济政策时,都应将非公有制经济作为重要考虑对象
B. 我国在制定任何一项重要经济政策时,都应将非公有制经济作为重要考虑对象
C. 我国在制定任何一项重要经济政策时,都应将非公有制经济作为重要考虑对象
D. 我国在制定任何一项重要经济政策时,都应将非公有制经济作为重要考虑对象
E. ①②③④

27. 我国在制定任何一项重要经济政策时,都应将非公有制经济作为重要考虑对象()
A. 我国在制定任何一项重要经济政策时,都应将非公有制经济作为重要考虑对象
B. 我国在制定任何一项重要经济政策时,都应将非公有制经济作为重要考虑对象
C. 我国在制定任何一项重要经济政策时,都应将非公有制经济作为重要考虑对象
D. 我国在制定任何一项重要经济政策时,都应将非公有制经济作为重要考虑对象
E. ①②③④

28. 我国在制定任何一项重要经济政策时,都应将非公有制经济作为重要考虑对象()
A. 我国在制定任何一项重要经济政策时,都应将非公有制经济作为重要考虑对象
B. 我国在制定任何一项重要经济政策时,都应将非公有制经济作为重要考虑对象
C. 我国在制定任何一项重要经济政策时,都应将非公有制经济作为重要考虑对象
D. 我国在制定任何一项重要经济政策时,都应将非公有制经济作为重要考虑对象
E. ①②③④

29. 我国在制定任何一项重要经济政策时,都应将非公有制经济作为重要考虑对象()
A. 我国在制定任何一项重要经济政策时,都应将非公有制经济作为重要考虑对象
B. 我国在制定任何一项重要经济政策时,都应将非公有制经济作为重要考虑对象
C. 我国在制定任何一项重要经济政策时,都应将非公有制经济作为重要考虑对象
D. 我国在制定任何一项重要经济政策时,都应将非公有制经济作为重要考虑对象
E. ①②③④

30. 我国在制定任何一项重要经济政策时,都应将非公有制经济作为重要考虑对象()
A. 我国在制定任何一项重要经济政策时,都应将非公有制经济作为重要考虑对象
B. 我国在制定任何一项重要经济政策时,都应将非公有制经济作为重要考虑对象
C. 我国在制定任何一项重要经济政策时,都应将非公有制经济作为重要考虑对象
D. 我国在制定任何一项重要经济政策时,都应将非公有制经济作为重要考虑对象
E. ①②③④

31. 我国在制定任何一项重要经济政策时,都应将非公有制经济作为重要考虑对象()
A. 我国在制定任何一项重要经济政策时,都应将非公有制经济作为重要考虑对象
B. 我国在制定任何一项重要经济政策时,都应将非公有制经济作为重要考虑对象
C. 我国在制定任何一项重要经济政策时,都应将非公有制经济作为重要考虑对象
D. 我国在制定任何一项重要经济政策时,都应将非公有制经济作为重要考虑对象
E. ①②③④

④为温州所有者取得出租房屋的社会收入 ⑤为私营企业对外资企业中的劳动者取得的工资收入
A. ①② B. ③④ C. ④⑤ D. ①⑤

若开办一家用于染色加工的工厂,研究人员发现它可能比人类其他细胞 DNA 更稳定,可能致癌,肯德基等很多国内品牌的商品都检测含有这一成分。日前,美国农业部全面查处沙门氏菌污染食品。据此回答 14~15 题。

14. 上述材料说明()
A. 在现代商品经济条件下,资源的配置主要是通过市场实现的
B. 在市场经济条件下,市场调节资源配置起着基础性作用
C. 宏观调控应以经济手段为主,以法律、行政手段为辅
D. 经济的正常运行,离不开市场对资源配置的一体化形式
E. 国家在宏观调控中,主要体现了()

15. 国家在宏观调控中,主要体现了()
A. 市场经济的平等性
B. 市场经济的竞争性
C. 市场经济的法制性
D. 市场经济的开放性
E. ①②③④

16. 宏观调控,必须遵循,确保在改革中实现()
A. 宏观调控的平等性
B. 宏观调控的竞争性
C. 宏观调控的法制性
D. 宏观调控的开放性
E. ①②③④

17. 该事件表明宏观调控必须体现()
A. 公平
B. 效率
C. 合法
D. 平等
E. ①②③④

18. 煤矿实行工人自主,2005 年“帮困”煤款被工人们买走的做法,由于受利益的驱使,一些企业不顾安全条件,违法、违规、违章生产,造成煤矿事故频发,这说明()
A. 市场经济的盲目性和滞后性导致资源的浪费
B. 市场经济是追求利润最大化的经济
C. 非公有经济具有自主经营的权利
D. 市场经济具有自主经营的权利
E. 中国共产十六届五中全会通过了《中共中央关于制定国民经济和社会发展第十一个五年规划的建议》,总结了 50 多年的国民经济发展和社会发展的经验,首次提出“规划”一词。据此回答第 19 题。

19. 从 1953 年开始的“一五”计划期间,中国制定实施国民经济和社会发展规划,使我国在较短的时间内,基本建立了社会主义工业体系和国民经济体系,为全面建设小康社会打下了坚实的基础,为改革开放和社会主义现代化建设积累了宝贵经验。这说明()
A. 我国建立了完善的市场经济体制
B. 政府完全发挥了宏观调控的作用
C. 我国不断提高对外开放的水平
D. 我国不断提高对外开放的水平
E. ①②③④

20. 十六届五中全会在制定国民经济和社会发展的“十一五”规划时,提出“五个统筹”,即在统筹城乡发展、统筹区域发展、统筹经济社会发展、统筹人与自然和谐发展、统筹国内发展和对外开放方面,要取得重大进展。这说明()
A. 统筹城乡发展,是统筹区域发展的前提
B. 统筹区域发展,是统筹经济社会发展的基础
C. 统筹经济社会发展,是统筹人与自然和谐发展的前提
D. 统筹人与自然和谐发展,是统筹国内发展和对外开放的基础
E. ①②③④

21. 收入分配制度改革是宏观调控的重要内容()
A. 收入分配制度改革是宏观调控的重要内容
B. 收入分配制度改革是宏观调控的重要内容
C. 收入分配制度改革是宏观调控的重要内容
D. 收入分配制度改革是宏观调控的重要内容
E. ①②③④

22. 坚持优化收入分配,既要调整分配政策,又要反对平均主义,要防止收入悬殊,体现了()
A. 国家、集体、个人利益的统一
B. 生产和消费的统一
C. 效率和公平的统一
D. 效率和公平的统一
E. ①②③④

23. 生产要素按贡献参与分配,体现了()
A. 生产要素按贡献参与分配,体现了()
B. 生产要素按贡献参与分配,体现了()
C. 生产要素按贡献参与分配,体现了()
D. 生产要素按贡献参与分配,体现了()
E. ①②③④

24. 实现共同富裕,是社会主义的根本原则()
A. 实现共同富裕,是社会主义的根本原则
B. 实现共同富裕,是社会主义的根本原则
C. 实现共同富裕,是社会主义的根本原则
D. 实现共同富裕,是社会主义的根本原则
E. ①②③④

25. 个体私营经济是社会主义市场经济的重要组成部分()
A. 个体私营经济是社会主义市场经济的重要组成部分
B. 个体私营经济是社会主义市场经济的重要组成部分
C. 个体私营经济是社会主义市场经济的重要组成部分
D. 个体私营经济是社会主义市场经济的重要组成部分
E. ①②③④

26. 我国在制定任何一项重要经济政策时,都应将非公有制经济作为重要考虑对象()
A. 我国在制定任何一项重要经济政策时,都应将非公有制经济作为重要考虑对象
B. 我国在制定任何一项重要经济政策时,都应将非公有制经济作为重要考虑对象
C. 我国在制定任何一项重要经济政策时,都应将非公有制经济作为重要考虑对象
D. 我国在制定任何一项重要经济政策时,都应将非公有制经济作为重要考虑对象
E. ①②③④

27. 我国在制定任何一项重要经济政策时,都应将非公有制经济作为重要考虑对象()
A. 我国在制定任何一项重要经济政策时,都应将非公有制经济作为重要考虑对象
B. 我国在制定任何一项重要经济政策时,都应将非公有制经济作为重要考虑对象
C. 我国在制定任何一项重要经济政策时,都应将非公有制经济作为重要考虑对象
D. 我国在制定任何一项重要经济政策时,都应将非公有制经济作为重要考虑对象
E. ①②③④

28. 我国在制定任何一项重要经济政策时,都应将非公有制经济作为重要考虑对象()
A. 我国在制定任何一项重要经济政策时,都应将非公有制经济作为重要考虑对象
B. 我国在制定任何一项重要经济政策时,都应将非公有制经济作为重要考虑对象
C. 我国在制定任何一项重要经济政策时,都应将非公有制经济作为重要考虑对象
D. 我国在制定任何一项重要经济政策时,都应将非公有制经济作为重要考虑对象
E. ①②③④

29. 我国在制定任何一项重要经济政策时,都应将非公有制经济作为重要考虑对象()
A. 我国在制定任何一项重要经济政策时,都应将非公有制经济作为重要考虑对象
B. 我国在制定任何一项重要经济政策时,都应将非公有制经济作为重要考虑对象
C. 我国在制定任何一项重要经济政策时,都应将非公有制经济作为重要考虑对象
D. 我国在制定任何一项重要经济政策时,都应将非公有制经济作为重要考虑对象
E. ①②③④

30. 我国在制定任何一项重要经济政策时,都应将非公有制经济作为重要考虑对象()
A. 我国在制定任何一项重要经济政策时,都应将非公有制经济作为重要考虑对象
B. 我国在制定任何一项重要经济政策时,都应将非公有制经济作为重要考虑对象
C. 我国在制定任何一项重要经济政策时,都应将非公有制经济作为重要考虑对象
D. 我国在制定任何一项重要经济政策时,都应将非公有制经济作为重要考虑对象
E. ①②③④

31. 我国在制定任何一项重要经济政策时,都应将非公有制经济作为重要考虑对象()
A. 我国在制定任何一项重要经济政策时,都应将非公有制经济作为重要考虑对象
B. 我国在制定任何一项重要经济政策时,都应将非公有制经济作为重要考虑对象
C. 我国在制定任何一项重要经济政策时,都应将非公有制经济作为重要考虑对象
D. 我国在制定任何一项重要经济政策时,都应将非公有制经济作为重要考虑对象
E. ①②③④

材料一 针对大煤矿企业生产事故频发的现象,某报社记者对大煤矿企业经营者进行专项采访。某问,该经营者说:“作为企业负责人,我只关心企业利润。”

- (1)根据1、图2分别反映了什么经济现象?(7分)
 (2)请从经济学角度,分析图1、图2之间有何内在联系。(6分)
 (3)请运用哲学有关知识,评析A煤矿企业经营者的做法。(10分)



图1 2002-2004年中国国内生产总值与能源消费

材料二 目前,我国经济增长中存在高投入、高产出、高能耗、高污染现象。能源紧张、环境污染等严重问题已成为全社会关注的重点。为此,中央、国务院和有关部门把提高自主创新能力,调整经济结构,转变经济增长方式,作为当前和今后一个时期我国全面建设小康社会的重大任务。

- (1)分析图8显示的经济信息。(6分)
 (2)结合材料一、二,运用经济常识分析在建设资源节约型、环境友好型社会的进程中,企业应采取怎样的措施。(10分)
 (3)在经济增长的同时要注意节能减排和环境保护,这是实现可持续发展的重要要求。试运用客观规律性与主观能动性关系原理加以说明。(10分)



图8 2002-2004年某地区原煤价格、钢铁价格、水泥价格和有色金属价格

材料三 2004年12月8日,我国的联想集团以17.5亿美元的价格收购了美国IBM全球PC业务。2005年3月,美国政府批准了这起跨国并购。联想集团志在通过收购完成其全球品牌战略的部署,发展计划,提高品牌成为全球第三大PC厂商,跻身世界500强。

- 运用经济常识的有关知识,说明联想的并购行为对我国企业发展的启示。(20分)

材料二 物质决定意识的原理告诉我们,目前,中国制造业的总体情况是,已经具有相当强的规模,占GDP的45%以上,从业人员2000万人。但是多数制造业企业的劳动生产率,低水平生产能力强,大部分是劳动和机械设备的进口。高附加值产品多由合资企业生产,中国制造业大而不强,在一定层面上“中国制造”意味着低附加值的产品。

- (1)材料一反映了什么经济现象?材料一和材料二之间有何关系?(6分)
 (2)结合材料,分析应怎样振兴我国的制造业,营造“中国制造”品牌。(8分)



图9: A煤矿企业生产状况

图例: A煤矿企业生产状况

图例: A煤矿企业生产状况

图例: A煤矿企业生产状况

图例: A煤矿企业生产状况

图例: A煤矿企业生产状况

29. 为响应党中央、国务院提出的“建设资源节约型、环境友好型社会”的号召,与市某校高二社会实践小组就该市A煤矿企业的生产现状,等进行调查,现将调查结果如下:




图10: A煤矿企业安全投入与利润情况

注:2002年该地区原煤价格300元/吨;2004年该地区原煤价格300元/吨。

21. 该企业的优点是()
 A. 该企业还保留着现代企业制度
 B. 该企业发行的股票可上市交易
 C. 该企业是一个国有控股企业
 D. 该企业是一个国有制企业

22. 从材料中可以看出()
 A. 股份制有利于实现政企分开
 B. 股份制是我国所有企业改革的方向和目标
 C. 股份制具有公有性、要大力利用
 D. 降低生产成本是企业兼并和收购的主要动力之一,某行业,如钢铁业

23. 降低生产成本是企业兼并和收购的主要动力之一,某行业,如钢铁业,企业正在初步四个兼并方案进行讨论,从图9中可以看出,哪个方案最佳()
 A. 兼并一家年产量为200万吨的企业,使总产量为400万吨
 B. 兼并一家年产量为100万吨的企业,使总产量为300万吨
 C. 兼并一家年产量为400万吨的企业,使总产量为400万吨
 D. 兼并一家年产量为300万吨的企业,使总产量为400万吨

2006年3月5日,温家宝总理在十届全国人大四次会议上所作的政府工作报告中指出,今年在全面取消农业税,标志着在我国实行了长达2500年的这个古老税种中必退出历史舞台,这是具有划时代意义的重大改革。据此回答24-29题。

24. 从经济学常识可知,彻底取消农业税有利于()
 ①加强农村的基础地位 ②减轻农民负担,增加农民的经济利益 ③调动和保护农民生产积极性 ④杜绝乱摊派、乱收费、乱集资
 A. ①②③④ B. ②③④ C. ①③④ D. ①②④

25. 农民负担过重是党和政府急于解决的头等大事,从根本上讲,这是因为()
 A. 农民问题关系到党的性质
 B. 农业是国民经济的基础,是党和政府经济工作的中心
 C. 农民负担过重是中国共产党和各級政府国家政策的根本宗旨
 D. 农民是市场的主体

26. 关于“强”与“弱”问题的判断,下列说法正确的是()
 A. 二者都有强制性,无强制性是国定性的特点
 B. 都是由国家和强制力保障
 C. 前者是取之于民,用之于民,后者是取之于民,用之于民
 D. 前者具有强制性,后者具有一定的强制性

第Ⅱ卷(非选择题 共85分)

二、非选择题(本大题共4小题)

27. 材料一 各发展工所占比例(%)

国家	初级技工	中级技工	高级技工
中国	85	23	2
发达国家	15	30	30

28. 结合材料,分析应怎样振兴我国的制造业,营造“中国制造”品牌。(8分)

图例: A煤矿企业生产状况

图例: A煤矿企业生产状况

图例: A煤矿企业生产状况

图例: A煤矿企业生产状况

图例: A煤矿企业生产状况

图例: A煤矿企业生产状况

专题 4 产业和劳动者

本试卷第 I 卷(选择题)和 II 卷(非选择题)两部分,共 150 分,考试时间 120 分钟。

第 I 卷(选择题 共 65 分)

一、选择题(本大题共 25 小题,每小题 2.5 分,每小题的四个选项中,只有一项是符合题目要求的)

党的十六届五中全会指出,建立社会诚信体系是构建社会主义和谐社会的重要任务。据此回答 1—2 题。

1. 建立和健全社会信用体系,要求我国的社会保障制度必须建立在()
 - A. 劳动者自愿的基础上
 - B. 我国现阶段的生产力发展水平上
 - C. 权利和义务的统一上
 - D. 维护劳动者合法权益上
2. 建立和健全与社会主义市场经济相适应的社会保障制度,必须坚持的原则是()
 - A. 权利和义务相统一
 - B. 坚持和完善公有制为主体、多种所有制经济共同发展的基本经济制度
 - C. 坚持和完善社会主义市场经济体制
 - D. 坚持和完善按劳分配为主体、多种分配方式并存的分配制度

国际货币基金组织 2005 年 7 月 6 日在华盛顿举行的第 117 次年会上投票通过,将 2012 年奥运会申办城市,由 2005 年,伦敦胜出北京,成为 2012 年奥运会主办城市。据此回答 3—4 题。

3. 体育产业已成为世界支柱产业。目前,全球体育产业每年产生的价值已达 1250 亿美元,占 GDP 的 2%。目前,全球体育产业每年产生的价值已超过 4500 亿美元,由此可见()
 - A. 体育产业已成为世界各国民众经济的基础
 - B. 第三产业的发展是世界各国民众经济的基础
 - C. 第三产业的发展是世界各国民众经济和社会进步的重要条件
 - D. 第三产业的发展是世界各国民众经济和社会进步的重要条件
4. 2005 年奥运会筹备工作的全面展开,使北京()
 - A. 发展第三产业,可以扩大内需,促进经济繁荣
 - B. 发展第三产业,可以扩大内需,促进经济繁荣
 - C. 第三产业的发展可以促进国民经济的全面发展
 - D. 第三产业的发展可以促进国民经济的全面发展

5. 下列属于商业保险的险种,有正确的是()

- A. 商业火灾
- B. 商业盗窃
- C. 商业意外伤害
- D. 商业货物运输

6. 我国为发展农村教育,决定从 2008 年起对农村义务教育阶段的贫困学生免除学杂费,其中中的贫困学生免除课本费。据此回答 7—8 题。

7. 诺贝尔经济学奖获得者罗素指出,在解释农业生产的增长时,土地的质量比数量更重要,物质资本的质量差别比重要的,农民的能力差的差别比数量更重要。据此回答 9—10 题。

9. 下列有关土地所有权的表述,正确的是()

- A. 土地所有权归国家所有
- B. 土地所有权归集体所有
- C. 土地所有权归农民所有
- D. 土地所有权归国家、集体、农民共同所有

10. 下列有关土地所有权的表述,正确的是()

- A. 土地所有权归国家所有
- B. 土地所有权归集体所有
- C. 土地所有权归农民所有
- D. 土地所有权归国家、集体、农民共同所有

11. 下列有关土地所有权的表述,正确的是()

- A. 土地所有权归国家所有
- B. 土地所有权归集体所有
- C. 土地所有权归农民所有
- D. 土地所有权归国家、集体、农民共同所有

12. 下列有关土地所有权的表述,正确的是()

- A. 土地所有权归国家所有
- B. 土地所有权归集体所有
- C. 土地所有权归农民所有
- D. 土地所有权归国家、集体、农民共同所有

13. 下列有关土地所有权的表述,正确的是()

- A. 土地所有权归国家所有
- B. 土地所有权归集体所有
- C. 土地所有权归农民所有
- D. 土地所有权归国家、集体、农民共同所有

14. 下列有关土地所有权的表述,正确的是()

- A. 土地所有权归国家所有
- B. 土地所有权归集体所有
- C. 土地所有权归农民所有
- D. 土地所有权归国家、集体、农民共同所有

15. 下列有关土地所有权的表述,正确的是()

- A. 土地所有权归国家所有
- B. 土地所有权归集体所有
- C. 土地所有权归农民所有
- D. 土地所有权归国家、集体、农民共同所有

16. 下列有关土地所有权的表述,正确的是()

- A. 土地所有权归国家所有
- B. 土地所有权归集体所有
- C. 土地所有权归农民所有
- D. 土地所有权归国家、集体、农民共同所有

17. 下列有关土地所有权的表述,正确的是()

- A. 土地所有权归国家所有
- B. 土地所有权归集体所有
- C. 土地所有权归农民所有
- D. 土地所有权归国家、集体、农民共同所有

18. 下列有关土地所有权的表述,正确的是()

- A. 土地所有权归国家所有
- B. 土地所有权归集体所有
- C. 土地所有权归农民所有
- D. 土地所有权归国家、集体、农民共同所有

19. 下列有关土地所有权的表述,正确的是()

- A. 土地所有权归国家所有
- B. 土地所有权归集体所有
- C. 土地所有权归农民所有
- D. 土地所有权归国家、集体、农民共同所有

20. 下列有关土地所有权的表述,正确的是()

- A. 土地所有权归国家所有
- B. 土地所有权归集体所有
- C. 土地所有权归农民所有
- D. 土地所有权归国家、集体、农民共同所有

21. 下列有关土地所有权的表述,正确的是()

- A. 土地所有权归国家所有
- B. 土地所有权归集体所有
- C. 土地所有权归农民所有
- D. 土地所有权归国家、集体、农民共同所有

22. 下列有关土地所有权的表述,正确的是()

- A. 土地所有权归国家所有
- B. 土地所有权归集体所有
- C. 土地所有权归农民所有
- D. 土地所有权归国家、集体、农民共同所有

23. 下列有关土地所有权的表述,正确的是()

- A. 土地所有权归国家所有
- B. 土地所有权归集体所有
- C. 土地所有权归农民所有
- D. 土地所有权归国家、集体、农民共同所有

24. 下列有关土地所有权的表述,正确的是()

- A. 土地所有权归国家所有
- B. 土地所有权归集体所有
- C. 土地所有权归农民所有
- D. 土地所有权归国家、集体、农民共同所有

25. 下列有关土地所有权的表述,正确的是()

- A. 土地所有权归国家所有
- B. 土地所有权归集体所有
- C. 土地所有权归农民所有
- D. 土地所有权归国家、集体、农民共同所有

26. 下列有关土地所有权的表述,正确的是()

- A. 土地所有权归国家所有
- B. 土地所有权归集体所有
- C. 土地所有权归农民所有
- D. 土地所有权归国家、集体、农民共同所有

27. 下列有关土地所有权的表述,正确的是()

- A. 土地所有权归国家所有
- B. 土地所有权归集体所有
- C. 土地所有权归农民所有
- D. 土地所有权归国家、集体、农民共同所有

28. 下列有关土地所有权的表述,正确的是()

- A. 土地所有权归国家所有
- B. 土地所有权归集体所有
- C. 土地所有权归农民所有
- D. 土地所有权归国家、集体、农民共同所有

29. 下列有关土地所有权的表述,正确的是()

- A. 土地所有权归国家所有
- B. 土地所有权归集体所有
- C. 土地所有权归农民所有
- D. 土地所有权归国家、集体、农民共同所有

30. 下列有关土地所有权的表述,正确的是()

- A. 土地所有权归国家所有
- B. 土地所有权归集体所有
- C. 土地所有权归农民所有
- D. 土地所有权归国家、集体、农民共同所有

31. 下列有关土地所有权的表述,正确的是()

- A. 土地所有权归国家所有
- B. 土地所有权归集体所有
- C. 土地所有权归农民所有
- D. 土地所有权归国家、集体、农民共同所有

32. 下列有关土地所有权的表述,正确的是()

- A. 土地所有权归国家所有
- B. 土地所有权归集体所有
- C. 土地所有权归农民所有
- D. 土地所有权归国家、集体、农民共同所有

劳动者的合法利益。①订立劳动合同有利于促进劳动力资源的合理配置。②订立劳动合同有利于劳动者的积极性和创造性的发挥。③订立劳动合同有利于劳动者与用人单位的相互合作。④订立劳动合同有利于劳动者与用人单位的相互合作。⑤订立劳动合同有利于劳动者与用人单位的相互合作。⑥订立劳动合同有利于劳动者与用人单位的相互合作。⑦订立劳动合同有利于劳动者与用人单位的相互合作。⑧订立劳动合同有利于劳动者与用人单位的相互合作。⑨订立劳动合同有利于劳动者与用人单位的相互合作。⑩订立劳动合同有利于劳动者与用人单位的相互合作。

2004 年 9 月 17 日新华社报道,劳动保障部对 40 个企业的抽样调查显示,我国劳动合同签订率呈逐年上升趋势,目前已达到 70%。据此回答 14—16 题。

14. 我国技术工人短缺的主要原因是()

- A. 我国技术工人的数量不足
- B. 我国技术工人的素质不高
- C. 我国技术工人的待遇不高
- D. 我国技术工人的培训不足

15. 劳动合同制度对劳动者和用人单位都具有保护作用。据此回答 17—18 题。

17. 劳动合同制度对劳动者和用人单位都具有保护作用。据此回答 17—18 题。

18. 劳动合同制度对劳动者和用人单位都具有保护作用。据此回答 17—18 题。

19. 劳动合同制度对劳动者和用人单位都具有保护作用。据此回答 17—18 题。

20. 劳动合同制度对劳动者和用人单位都具有保护作用。据此回答 17—18 题。

21. 劳动合同制度对劳动者和用人单位都具有保护作用。据此回答 17—18 题。

22. 劳动合同制度对劳动者和用人单位都具有保护作用。据此回答 17—18 题。

23. 劳动合同制度对劳动者和用人单位都具有保护作用。据此回答 17—18 题。

24. 劳动合同制度对劳动者和用人单位都具有保护作用。据此回答 17—18 题。

25. 劳动合同制度对劳动者和用人单位都具有保护作用。据此回答 17—18 题。

26. 劳动合同制度对劳动者和用人单位都具有保护作用。据此回答 17—18 题。

27. 劳动合同制度对劳动者和用人单位都具有保护作用。据此回答 17—18 题。

28. 劳动合同制度对劳动者和用人单位都具有保护作用。据此回答 17—18 题。

29. 劳动合同制度对劳动者和用人单位都具有保护作用。据此回答 17—18 题。

30. 劳动合同制度对劳动者和用人单位都具有保护作用。据此回答 17—18 题。

31. 劳动合同制度对劳动者和用人单位都具有保护作用。据此回答 17—18 题。

32. 劳动合同制度对劳动者和用人单位都具有保护作用。据此回答 17—18 题。

33. 劳动合同制度对劳动者和用人单位都具有保护作用。据此回答 17—18 题。

34. 劳动合同制度对劳动者和用人单位都具有保护作用。据此回答 17—18 题。

35. 劳动合同制度对劳动者和用人单位都具有保护作用。据此回答 17—18 题。

专题 5 财政税收和纳税人

本试卷分第 I 卷(选择题)和第 II 卷(非选择题)两部分,共 150 分,考试时间 120 分钟。

第 I 卷(选择题 共 65 分)

一、选择题(本大题共 20 小题,每小题 2.5 分,在每小题的四个选项中,只有一项是符合题目要求的。)

2005 年,我国继续实施了积极的财政政策,以减轻结构性调整、治理通货紧缩和解决美国问题制造必要的宏观调控。据此回答 1—3 题。

1. 目前的财政政策属于()
A. 扩张性政策 B. 紧缩性政策 C. 中性政策 D. 行政命令
2. 我国财政收入去年大幅增长,这客观地支持了国家重点建设和西部大开发战略。财政收入包括()
A. 税收收入、外汇收入、国有企业上交的利润收入
B. 税收收入、外汇收入、国有企业在上交的利润收入
C. 国有企业、外汇收入、国有企业在上交的利润收入
D. 税收收入、外汇收入、国有企业在上交的利润收入
3. 近年来,我国为了扩大内需,执行了积极的财政政策,财政支出逐年增加,财政赤字也有所上升。下面关于财政赤字的确切认识是()
A. 任何时候都不应出现财政赤字
B. 不需要对财政赤字加以控制
C. 发行国债是弥补财政赤字的主要方法
D. 发行国债是弥补财政赤字的主要方法
4. 有人说:“我国财政‘官’唱了重头。”这句话的含义是()
A. 财政收入、支出太大 B. 财政支出结构不合理
C. 行政开支超过了财政收入 D. 财政支出结构不合理
5. 面对若干国家经济体的设计分析发现,随着人均收入的水平的提高,收入分配呈现平均化的趋势。这说明()
A. 经济增长会自发导致收入分配的改善
B. 经济增长会自发实现收入分配的改善
C. 市场经济体制会自发实现收入分配的改善
D. 市场经济体制会自发实现收入分配的改善

2005 年 10 月,全国人大常委会审议通过,将个人所得税起征点由现在的 800 元调整为 1600 元,决定从 2006 年 1 月 1 日起执行。改革开年后,我国 80 年代引进了美国发明的个人所得税收入 90 年代,实行新税制时又普遍推行了起源于英国的增值税,建立了以增值税为主体的,在商品流通过环节征收的流转税制。据此回答 4—6 题。

4. 我国引进个人所得税,是因为()
A. 它是国家调节个人收入分配的一种手段
B. 它是国家调节个人收入分配的一种手段
C. 它是国家调节个人收入分配的一种手段
D. 它具有“高收入者多纳税,低收入者少纳税”的特点

7. 上述材料中“实行新税制时又普遍推行了起源于法国的增值税”,其原因在于()
A. 它是经济活动的重要标志
B. 它是调节经济活动的重要手段
C. 它能体现一个国家的综合国力
D. 它可以避免对一个国家重复征税,有利于促进社会分工和专业生产的发展

8. 美国,美国的饭店有一个“怪现象”,消费者吃完晚餐要交两份账目(即菜不要发票,可以得到饭店赠送的饮料一瓶,饭店的这种做法涉嫌()
A. 骗税 B. 欠税 C. 偷税 D. 抗税

9. 去年我国财政收入完成 5718 亿元(不包括债务收入),比上年增长 25.7%,增收 925.6 亿元,总收入增收额双双实现历史新纪录。这原因()
A. 我国宏观经济持续增长
B. 税务部门积极推进依法治税和征管
C. 财政收入具有结构性、固定性、无弹性的特征
D. 我国的财政收入有了大幅度的增长

10. 为了纠正当前由于 GDP 的片面追求,我国政府将转移财政支出,切实关注和解决就业、教育、卫生、生态、医疗、公共卫生以及社会公正等问题。这体现()
A. 财政对资源配置起着重要作用
B. 财政对资源配置具有调节作用
C. 财政对资源配置具有分配作用
D. 财政对资源配置具有控制作用

11. “财政”之词源于()
A. 调整分配关系,提高财政收入在 GDP 中的比重
B. 强化税收管理,提高财政收入
C. 减少财政支出,增加国债
D. 发展生产,增加财政收入

12. “财政”之词在于()
A. 财政收入的增加与国民收入同步
B. 财政收入的增加高于国民收入的增幅
C. 财政收入的增长与生产发展和人民生活水平提高相协调
D. 避免财政赤字的出现

据天津市地方统计局调查,目前个人所得视中报的税率还不免 10%。高收入阶层的税率所占比例同美国,工薪阶层的税率占到 40% 左右。目前天津市个人所得视中报的税率高于工薪阶层的税率,中报的代扣代缴。据此回答 13—14 题。

13. 国家征收个人所得税()
A. 有利于增加国家的财政收入
B. 有利于调节个人收入分配
C. 有利于调节个人收入分配
D. 有利于调节个人收入分配

①可以对个人收入进行调节 ②有利于增加国家的财政收入 ③表明我国坚持兼顾公平的原则 ④有利于个人收入实现同步富裕
A. ①②③ B. ②③④ C. ①②④ D. ①②③④

14. 上述材料表明()
①公民自觉履行纳税义务 ②每个公民都应自觉具有“纳税人”意识
③公民应珍惜自己的合法权利 ④税务机关要依法治理,严格落实催、追、罚等程序
A. ①② B. ②③ C. ①②③ D. ①②④

2005 年 12 月 29 日,十届全国人大常委会第十九次会议决定自 2006 年 1 月 1 日起,将个人所得税起征点由每月 800 元调整为每月 1600 元。这体现了()
A. 国家宏观调控 B. 国家宏观调控 C. 国家宏观调控 D. 国家宏观调控

15. 防止收入分配领域()
A. 税收对收入不再具有调节作用
B. 税收对收入不再具有调节作用
C. 税收对收入不再具有调节作用
D. 税收对收入不再具有调节作用

16. 下列能体现收入再分配的举措是()
A. 国家通过个人所得税调节收入
B. 国家通过个人所得税调节收入
C. 国家通过个人所得税调节收入
D. 国家通过个人所得税调节收入

17. 国家发改委在 2006 年政府工作报告中指出,2005 年投入国债资金 182 亿元,主要用于()
A. 农村义务教育 B. 农村义务教育 C. 农村义务教育 D. 农村义务教育

18. 为迎接 2008 年奥运会,北京奥运会场馆建设正在加紧进行。2005 年 11 月 25 日,备受关注的奥运场馆主体开工暨奠基,国家用多个会场场馆建设()
A. 属于消费基金 B. 属于消费基金 C. 属于消费基金 D. 属于消费基金

19. 我国每年用于国防行政管理的财政支出已经超过了 7000 亿元人民币,正在依据国家支出,使得我们能够避免获得政府超过的国防,而且,国防等公共事务,政府用于国防、司法、治安等方面的财政支出高低及反映了财政具有()
A. 经济调节作用 B. 经济调节作用
C. 收入分配作用 D. 收入分配作用

自 2006 年 4 月 1 日起,我国电信资费调整,手机及长途资费进行调整,新增高、中、低端及特殊、高端手机、降频,本制一次性话费,基本话费等等。据此回答 20 题。

20. 我国调整电信资费()
A. 体现了国家宏观调控 B. 体现了国家宏观调控
C. 体现了国家宏观调控 D. 体现了国家宏观调控

21. 2005 年,中央财政用于“三农”的支出超过了 3000 亿元,比 2002 年增长了()
A. 10% B. 10% C. 10% D. 10%

30. 以上, 中央财政加大对“三农”投入的力度, 有利于 ()
 ① 加强我国经济形势 ② 促进我国经济的平衡发展 ③ 维护农民切身利益的生
 活水平 ④ 发展粮食生产 ⑤ 提高城镇化水平

A. ①②③ B. ①②④ C. ①③④⑤ D. ②③④⑤

22. 税收具有固定性, 这同时的“固定性”是指 ()

A. 征税的征收对象、范围、比例等固定不变的

B. “固定”并非一成不变, 需要变更, 在法律允许作的范围内即可随时改变

C. 征收税款必须以法律形式为依据, 税率必须依法确定, 不得擅自变更

D. 税率是固定不变的

23. 郑州市委市政府财政收入三、四百亿元, 确保街办基层自治工作的顺利开展, 这部分资金属于 ()

A. 积累基金的扩大再生产部分

B. 积累基金的生产性基本建设部分

C. 积累基金的非生产性基本建设部分

D. 社会公共消费基金部分

24. 村财台账制成的严重后果, 国家民政部、财政部紧急安排资金用于拨款、

拨款, 这部分资金属于村民收入中用于 ()

A. 公共消费的社会福利部分

B. 积累基金的生产性基本建设部分

C. 积累基金的非生产性基本建设部分

D. 积累基金的扩大再生产部分

25. 青藏铁路是世界巨川河的发源地, 生态环境脆弱, 建设难度大

及高原生态保护问题, 政府曾考虑铁路建设用于环保的投资大

约 11 亿元人民币, 这 11 亿元的投资 ()

① 属于积累基金 ② 属于公共消费支出 ③ 反映了政府的政策和活动方

向 ④ 属于社会福利支出

A. ①③ B. ①④ C. ②③ D. ②④

26. 从 2005 年起, 我国实行稳健的财政政策和紧缩的货币政策, 这两项政策

共同实现我国主要的宏观调控政策, 其基础是 ()

① 健全市场经济的财政政策 ② 保持我国财政收支平衡

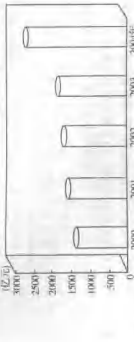
③ 有利于市场经济持续健康发展 ④ 可有控制地调整财政收支

A. ①②③ B. ①③④ C. ②③④ D. ②④⑤

第 II 卷(非选择题 共 85 分)

二、非选择题(本大题共 1 小题)

27. 图 8-5 中共财政收入“三奈的海军”



注: 2005 年我国财政收入实现“双增”, 取得“开门红”, 增幅达农民负担 23.83 亿元;

“十五”期间, 中央财政收支差额达 11800 多亿元, 平均增幅 17%。

—— 政治, 10

图 8-2 我国农民人均纯收入增长情况

年份	2001	2002	2003	2004	2005
农民人均纯收入(元)	2367	2477	2822	2936	3430
比上年实际增长	4.2%	4.8%	4.3%	6.8%	11.5%
农村居民消费价格指数	47.7	46.2	45.6	47.2	45.5

注: 恩格尔系数表明生活富裕程度的指标, 国际上公认的标准是, 恩格

尔系数 50%~60% 者为温饱, 40%~50% 者为小康, 30%~40% 者为富裕

③ 所以以下答案为富裕。

材料: 农业不发达, 农民不富裕, 农村不繁荣, 是我国目前面临的突出问

题和矛盾。建设“生产发展, 生活富裕, 乡风文明, 村容整洁, 管理民主”的

社会主义新农村是构建现代和谐社会中的重要工作任务。

根据上述材料回答下列问题:

(1) 图表一和图表二之间有什么内在经济联系? (6 分)

(2) 图表一和图表二之间有什么内在经济联系? (6 分)

(3) 综合上述图表和材料, 运用有关知识, 谈谈如何实现社会主义新农村

建设的目标。(10 分)

政。(15 分)

29. 材料一 某女企业老板在权益地之外创办多间连锁店的假账时, 不但没

有逃税, 还向国家官员行贿了兩名税务人员。

材料二 某企业在想不仅个人身体损害健康, 而且教育子女等其他工作

人员主动纳税。几年来, 见一人行贿, 逃税。

(1) 上述两则材料各反映了什么问题? (8 分)

(2) 国家应如何发挥税收的作用, 性质, 并用其他义务的关系分析依法纳税的

必要性。(12 分)

30. 我国于 1980 年开征个人所得税, 当时规定工薪所得扣除费用标准为 800 元/月。那时, 我国城镇职工平均月工资在 40 元左右, 能达到个人所得税扣除费用标准的人数很少。1993 年, 我国城镇职工平均月工资为 375 元, 达到扣除费用标准的人数占职工总人数的 1%。2004 年, 我国城镇职工平均月工资达到 1310 元, 达到扣除费用标准的人数上升到 60% 以上。同时, 月收入 800 元在我国许多地方只相当于温饱的水平。2005 年 9 月, 全国人大常委会首次召开第三次听证会, 与会代表对个人所得税扣除费用标准的修改提出了各种不同的意见。2005 年 10 月, 全国人大常委会第二次审议个人所得税法修正草案, 在充分吸收公众意见的基础上, 将个人所得税法新所得税扣除费用标准提高到 1600 元。据初步测算, 提高扣除费用标准后, 个人所得将一年要减少 200 多亿元。

(1) 依据税收的作用, 结合材料说明如何正确体现个人所得税扣除费用标准的修订。(6 分)

(2) 有人认, 个人所得税扣除费用标准越高越好, 这种看法是否正确? 请从国家利益与个人利益关系的角度加以说明。(12 分)

31. 根据材料回答下列问题:

材料一 2005 年政府工作报告指出: “继续加强‘三农’工作, 25 个省

(区、市) 全部实施了农业补贴, 全国取消了粮食税, 增加种粮农民的直接

补贴和种粮大户的种粮补贴”, 2005 年“中央财政用于‘三

农’的支出达到 2975 亿元, 比上年增加 439 亿元。粮食总产量在上年大

幅度增长的基础上, 又增产 1153 万吨, 达到 10411 万吨。农业综合生产

能力得到加强, 粮食稳定增产和农民持续增收。”2006 年“中央财政用于

‘三农’支出达到 4397 亿元, 比上年增加 422 亿元。”

材料二 据业内人士分析, 化肥、农药、农膜等农资价格基本上

保持平稳, 农资价格至少使农民亩均增收 10 元以上, 农民人均纯收入 3900 多

元, 粮食平均每亩物质收入达 2003 年增加 20 多元。

—— 半月谈 2005 年第 1 期

(1) 运用认识论原理, 说明我国现阶段加大中央财政支出这一决策的合理

性。(11 分)

(2) 运用经济学原理, 说明如何保证中央财政支出功能的实现, 提出措施及理

专题7 商品服务和消费者

本试卷分第I卷(选择题)和第II卷(非选择题)两部分,共150分,考试时间120分钟。

第I卷(选择题)共65分

一、选择题(本大题共20小题,每小题2.5分,在每小题的四个选项,只有一项是符合题目要求的)

1. 无信不立,无信不兴。这说明我国要树立社会主义市场经济的信用体系,必须()
 ①树立以诚实守信为核心的民法原则 ②把社会信用与企业的信誉结合起来
 A. ①② B. ③④ C. ①③ D. ②④
2. 近年来,商家竞相为吸引顾客,推出“买一赠一”“两物送一件”等促销活动,但一些商家的赠送往往是把过期过长的商品,甚至变质变质的劣货。据此回答3—5题。

3. 商家促销送的赠品()
 A. 不是商品,是商家送给消费者的
 B. 不是商品,因为商家送的赠品都不是正品
 C. 是商品,因为商家送的赠品和商品“放在一起出售的”
 D. 是商品,因为它具有一定的使用价值
4. 部分商家以次充好,将次品作为赠品送给消费者,这种做法违背了()
 A. 法律原则 B. 自愿原则 C. 诚实守信原则 D. 平等原则

5. 近年来,大学生消费盲目跟风引起人们关注,在校园里存在“一簇”和“簇一”的现象。商家也已经开始关注这一问题。这说明()
 A. 消费是事关个人和社会的大事
 B. 国家通过引导消费手段调整社会的消费习惯
 C. 商家通过降价手段调整社会的消费习惯
 D. 国家通过引导消费手段调整社会的消费习惯

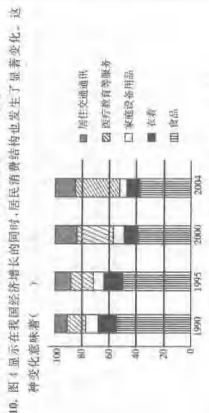
6. 部分学生热衷炫耀消费方式的主要危害是()
 A. 导致社会群体贫富分化
 B. 不利于促进生产发展
 C. 养成嗜赌嗜玩、挥霍浪费的坏习惯
 D. 影响家庭消费的正步升级
7. 鲁人鲁的(用布或纸做的)鞋子,普遍织成(白色的)绢,而做于越、或荆之(于)必穷矣。鲁人曰:“何也?”曰:“越之所长,而鲁人不行;鲁之所长,而荆人(鲁)发。”以之所长,游于不取之国,欲使无功,其可得乎?”鲁人曰:“鲁人虽具‘能于越’,使越人不得‘彼行’。”
 A. 不创造消费需求,生产才有发展
 B. 不创造消费需求,生产才有发展

8. 在市场经济条件下,生产什么就消费什么,环境的变化决定着需求的变化,需求引导生产,有什么需求才生产什么。
 7. 目前,市场上部分食品保质期令人担忧,为此,我国一些知名企业将推出“食品工业是道德工业”的理念,在业内引起强烈反响。这一理念表明()
 ①诚信是现代市场经济交易的基本精神 ②食品工业是道德道德,关系到消费者的生命安危
 ③企业经营者必须具备具备良好的职业道德 ④产品工业是道德是经济竞争的法宝
 A. ①②③ B. ②③④ C. ①②④ D. ①②③④

8. “八荣八耻”原则我们在当前形势下明显最应、最要、分要,其中“以崇尚科学为荣,以愚昧无知为耻,以辛勤劳动为荣,以好逸恶劳为耻”这两句广大青年学生的启示有()
 ①努力学习科学文化知识,不断提高自身的科学文化素质 ②发扬艰苦奋斗精神,刻苦参加社会实践 ③培养自己以前的好习惯,重新养成良好的行为习惯 ④反对一切陋习和坏习惯
 A. ①② B. ③④ C. ①②③ D. ①②③④

9. 参加2006年“两会”的代表委员们指出,任何一个社会都有其特定的宗旨,任何一种经济体制都有其与其相联系的价值导向,市场经济本身是道德经济、社会主义市场经济更要有道德。这是因为,只有有()
 ①才能造就诚实守信的市场交易原则 ②才能培养集体主义、集中力量办大事 ③才能健全法制,以更好地发挥市场对资源配置的基础性作用 ④才能发挥行政手段这个宏观调控的主要手段的作用
 A. ①②③ B. ①②④ C. ①②③④ D. ①③④

10. 图1显示了我国经济增长的同时,居民消费结构也发生了显著变化。这种变化表现在()



- 图1 1980—2004年我国居民人均消费支出结构(%)
 A. 我国居民的收入水平提高 B. 物质消费支出位于精神消费
 C. 享受资料消费的重要品牌低 D. 消费支出与收入同步提高
 11. 近年来,越来越多的日本车东在驾车时用手机发短信,三台汽车事件,引起了强烈的社会反响,中国消费者要求日方采取必要措施的措施。这

- 不良后,这是基于消费者的()
 A. 自主选择权 B. 知情权 C. 自主选择权 D. 质量监督权
 12. “地沟回锅”、“假肉”的曝光,这是在我国不少农贸市场广告资料上经常可以看见的一部分。这说明()
 A. 假肉广告具有欺骗性,因为假肉的成本低,所以假肉的价格也低
 B. 假肉广告具有欺骗性,因为假肉的成本低,所以假肉的价格也低
 C. 假肉广告具有欺骗性,因为假肉的成本低,所以假肉的价格也低
 D. 假肉广告具有欺骗性,因为假肉的成本低,所以假肉的价格也低

13. 根据我国相关部门的资料,平均来说,在1985—1990年间,100元能够买到的商品,到2005年大约需要353元才能买到。上述材料说明()
 A. 人民币升值导致黄金价格走低
 B. 市场上消费品的价格走低
 C. 物价水平高时消费品价格走低
 D. 消费者在花钱方面变得越来越不理性

14. 社会上普遍存在非一件一件回家花钱,回家还贷,甚至回家借钱消费的习惯。这告诉我们()
 A. 消费对生产发展具有促进作用
 B. 凡是合理的消费都是值得提倡的
 C. 国家应不恰当地加大开展限制消费的力度
 D. 要树立科学、健康、合理的消费观念

15. 目前,世界各国贸易和消费品的贸易额分别是20%和65%左右。我国分别为43%和83%左右。因此,要调整投资和消费的比例,改变消费偏低的情况,扩大内需,发挥消费在经济活动中的作用,主要措施是()
 A. 发展经济,增加社会财富
 B. 扩大生产,增加社会财富
 C. 扩大生产,增加社会财富
 D. 扩大生产,增加社会财富

16. 大量存在的“霸王条款”阻碍了市场的健康发展,一位消费者在花了60元买了一件衣服后,获赠一盒月饼。由于对获赠的月饼不太满意,第二天选择退货,商家却不同意,但必须交25元损失费。下列行为,商场对退货拥有“最终解释权”。商场的做法违背了市场交易活动原则()
 A. 自愿原则 B. 平等原则 C. 诚信原则 D. 法制原则

17. 国家工商行政总局颁布了关于处理侵害消费者权益行为的若干规定,规定经营者不得利用“霸王条款”,否则判令其改正,并在市场主体信用信息公示系统中予以记录,违反记录()
 A. 工商部门可以取消经营者营业执照和营业执照
 B. 公民的合法权益和自由由法律保障
 C. 公民的合法权益和自由由法律保障
 D. 公民的合法权益和自由由法律保障

18. 规范市场秩序的治本之策是()
 A. 加强国家宏观调控
 B. 建立社会信用体系
 C. 完善我国的基本法律法规
 D. 坚持依法治国与以德治国相结合