


- 着眼前后联系
- 加强系统整理
- 分类开放拓展
- 实现全面提高

配**国**标苏教版



ZOUJINZONGFUXI

走进总复习

基础性

开放性

灵活性

综合性



小学数学

一年级上册



江苏教育出版社
JIANGSU EDUCATION PUBLISHING HOUSE

前 言

随着当前课程改革的不断深入,教学思想、教学内容与教学方法均发生了深刻的变化。为了适应教育教学改革发展的最新要求,对学生进行扎实的双基训练,切实减轻学生过重的课业负担,把学生从茫茫的题海中解放出来,我们组织了一批教学一线的优秀教师精心编写了这套新颖、实用的丛书。

这套丛书与市场上同类书籍相比,具有以下几方面的显著特点。

一、依照课标,立足双基训练。

本丛书紧密围绕国家教育部颁发的《基础教育课程标准》,全面梳理教学内容,单元复习题力求体现教学重点,并通过典型训练题拉动前后知识的联系,培养学生应用知识、解决实际问题的能力。拓展练习既照整册教材,统筹安排各知识点,力求融会贯通,形成整体。丛书题目具有很强的系统性、灵活性。

二、循序渐近,注重拓展创新。

题目的编写由易到难,循序渐近。既有基础题,又有能力题;既有标准化的客观题,又有体现学生个性化的主观题。所有题目既紧扣教材,又不照搬教材;既博采众长,又力求创新;既重视思维的由因索果,又体现打破常规的逆向思维训练。

三、覆盖面广,适合各类学生。

本丛书内容覆盖各册教材中所有的知识点和能力训练点,同时强化了知识、技能的整合,题目难易适中,不出偏题、怪题,但也有一定数量的提高题,以满足不同层次学生的需要。

我们相信,这套丛书一定会成为教师教学的得力助手,学生复习的知心朋友,家长家教的好帮手。

书 名	走进总复习·小学数学一年级上册			
总体评价	<input type="checkbox"/> 优	<input type="checkbox"/> 良	<input type="checkbox"/> 中	<input type="checkbox"/> 差
具 体 意 见				

本书编写组
2006年6月

目 录


一年级数学上学期总复习(一)	1
一年级数学上学期总复习(二)	5
一年级数学上学期总复习(三)	9
一年级数学上学期总复习(四)	13
一年级数学上学期总复习(五)	17
一年级数学上学期总复习(六)	21
一年级数学上学期总复习(七)	25
一年级数学上学期总复习(八)	29
一年级数学上学期总复习(九)	33
一年级数学上学期总复习(十)	37
一年级数学上学期总复习(十一)	41
一年级数学上学期拓展练习(一)	45
一年级数学上学期拓展练习(二)	49
一年级数学上学期拓展练习(三)	53
一年级数学上学期拓展练习(四)	57

一年级数学上学期总复习(一)

(配合第一、二、三单元复习)

班级 _____ 姓名 _____ 学号 _____ 得分 _____

一、请你数一数，画一画。 9%



二、比一比谁大，在□里画“√”。 9%



三、你能找出最重、最轻的吗？试一试。在最重的旁画“√”，最轻的旁画“○”。 6%



- 1 -

四、找一找，请你把不同类别的物体圈起来。 10%

1.



2.



五、小朋友，请找出同类的物体圈起来。 10%

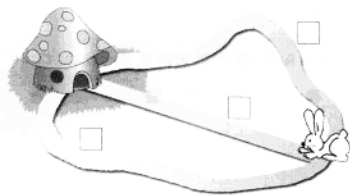
1.



2.

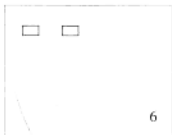


六、送小兔回家，走哪条路最近？在路边□里画“√”。 5%




- 2 -

七、你能根据□里的数补图形吗？ 16%



八、找一找，填一填。 9%



梨有 个，
 苹果有 个，
 香蕉有 个。
 _____ 比 _____ 多，
 _____ 比 _____ 少。

九、动动你的小脑筋，把下面的图形分一分。 12%



十、该怎样放才合适呢？小朋友，请用线连一连，好吗？ 14%



智慧七巧板。 10%

1. 你知道右图的空盘里应该放几个苹果吗？请你画一画。



2. 你能判断出下面的几种小动物谁最重，谁最轻吗？（最重的在下面的□里画“☆”，最轻的画“△”）



一年级数学上学期总复习(二)

(配合第四、五单元复习)

班级 _____ 姓名 _____ 学号 _____ 得分 _____

一、请你看图写数。9%

qǐng nǐ kàn tú xiě shù













二、数一数，填一填。8%

shù yì shù tián yì tián



- 一共有()盆花。从左边数起,花开得最多的是第()盆,开了()朵。
- 从右边数起,第5盆开了()朵,它左面一盆开了()朵,右面一盆开了()朵。
- 在左起第5盆下画“√”,从右数,它是第()盆。

- 5 -

三、你能在○里填上“>”或“<”吗?试一试。9%

$8 \bigcirc 3$

$0 \bigcirc 1$

$6 \bigcirc 4$

$10 \bigcirc 9$

$5 \bigcirc 2$

$3 \bigcirc 7$

四、想一想,画一画。6%

xiǎng yì xiǎng huà yì huà



五、比一比,填一填。8%

bǐ yì bǐ tián yì tián



$8 \bigcirc 6$



$() \bigcirc ()$

六、请你按要求画○。9%

qǐng nǐ àn yāoqiú huà

1. 比☆少3个。



2. 和□同样多。



3. 比△多2个。



- 6 -

shù yì shù lián yì lián
七、数一数，连一连。 9%



2



5



4



10



7



6

nǐ néng shù chū 10 gè, bìng quān yì quān ma?
八、你能数出10个，并圈一圈吗？ 8%




dòng nǎo jīn tián yì tián
九、动脑筋，填一填。 13%



比7大的数有()，比4小的数有()。这些数中，最大的数是()，()最小。

zǐ xì kàn tí zǐn yì tián
十、仔细看题，填一填。 14%



1. 这幢楼有()层，每层有()间屋。

2. 和 住在最高层，是第()层。

3. 住在()层()室。

4. 住在()层()室。

5. ()层()室的窗台上有一个 。

6. ()层()室的窗台上停着 。

qǐng nǐ zài li tiánshàng hé shì de shù
十一、请在 里填上合适的数。 7%

$6 < \square$ $\square > 2$ $10 > \square$
 $\square = \square$ $\square > 7$ $\square < 3$

zhì huì qí qiǎo bǎn
智慧七巧板。 10%

1. $\triangle \star \square \triangle \star \square \square \triangle \star \square \square$

(1) 先找规律，接着再画10个图形。

(2) 加上你画的图形， \star 有()个，它和()同样多。

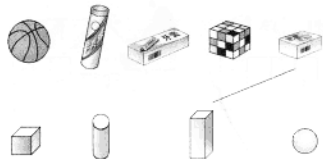
2. 小动物排队做操， 的前面有4只小动物，后面有3只小动物，一共有()只小动物。 排在第()个。

一年级数学上学期总复习(三)

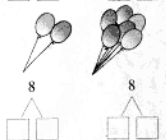
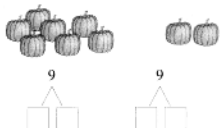
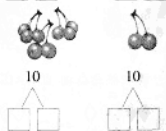
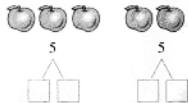
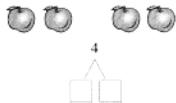
(配合第六、七单元复习)

班级 _____ 姓名 _____ 学号 _____ 得分 _____

一、请你连一连。 10%



二、请你看图填一填。 11%




三、你能把组成 10 的两个数用线连起来吗? 10%




四、数一数, 填一填。 10%



1. 上面一共有()个物体。从右数起, 第()个是 , 第()

个是 .

2.  有()个, 分别排在从左边起第(), 第()和第(); 从

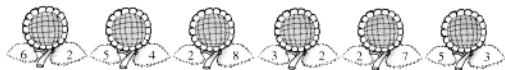
右边起排在第()和第()的是 .

3.  比  _____,  比  _____.

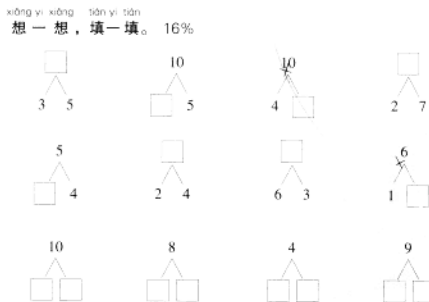
五、请你根据卡片上的数字圈一圈。 8%



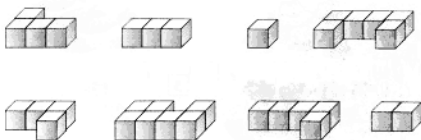
六、每朵花应栽在哪个花盆里？请你用线连一连。 12%



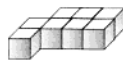
七、想一想，填一填。 16%



八、哪两个图形可以拼成 ？连一连。 8%



九、仔细数一数，每个图是由几个小正方体组成的？ 6%

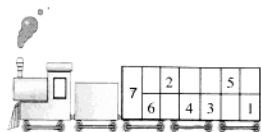
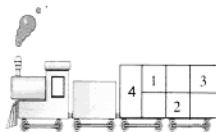


() 个



() 个

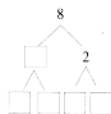
十、你会开火车吗？试一试。 9%



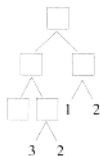
十一、智慧七巧板。 10%

1. 填一填。

(1)



(2)



2. 请你接着在图上涂上颜色。

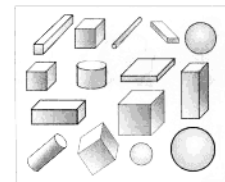


一年级数学上学期总复习(四)

(配合第八、九单元复习)

班级 _____ 姓名 _____ 学号 _____ 得分 _____

一、请你数一数，填一填。 6%



有()个,

有()个,

有()个,

有()个.

比 少()个, 比 多()个.

二、看图写算式。 24%



?个

$$\square \bigcirc \square = \square$$



?个

$$\square \bigcirc \square = \square$$



$$\square \bigcirc \square = \square$$



$$\square \bigcirc \square = \square$$



?个

9个

$$\square \bigcirc \square = \square$$



$$\square \bigcirc \square = \square$$



$$\square \bigcirc \square \bigcirc \square = \square$$



$$\square \bigcirc \square \bigcirc \square = \square$$



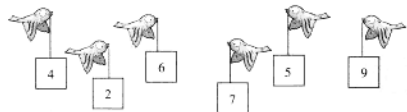
$$\square \bigcirc \square = \square$$

$$\square \bigcirc \square = \square$$

$$\square \bigcirc \square = \square$$

$$\square \bigcirc \square = \square$$

三、帮小鸟送信。 10%



$8+()=10$
 $()-5=2$
 $6-()=1$
 $()+3=9$
 $()-4=5$

四、请在○里填上“>”“<”或“=”。8%

$4 + 3 \bigcirc 5 + 4$

$7 - 1 \bigcirc 4 + 2$

$3 + 6 \bigcirc 2 + 5$

$9 - 8 \bigcirc 10 - 7$

$8 - 2 \bigcirc 7 - 4$

$6 + 0 \bigcirc 6 - 0$

$0 + 3 \bigcirc 5 - 3$

$9 - 4 \bigcirc 10 - 6$

五、你能在□里填上合适的数吗？16%

3			7
	5		9
7	+	=	8
			10

9		2	
7			6
8	-	=	5
10		4	

六、找规律填数。11%

$8 \square \square \square 5 \square \square 3 \square \square \square \square$

$0 \square 2 \square \square 6 \square \square \square \square$

$9 \square 7 \square \square 3 \square \square$

七、比一比，看谁算得又快又对。18%

$8 - 3 =$

$6 - 5 =$

$10 - 7 =$

$5 + 4 =$

$5 + 5 =$

$9 - 6 =$

$0 + 7 =$

$2 + 8 =$

$4 - 0 =$

$5 - 5 =$

$7 - 1 =$

$6 + 4 =$

$8 - 5 + 4 =$

$9 - 3 - 4 =$

$2 + 5 - 3 =$

$4 - 2 + 3 =$

$0 + 2 + 6 =$

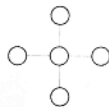
$4 - 1 + 5 =$

八、小蜜蜂应到哪朵花上采蜜？请你连一连。7%



智慧七巧板。10%

1. 你能把1-5填入○里，使横向、竖向上三个数的和都是9吗？试一试。



2. 请你把0-9这十个数填在□里，使等式成立，每个数只能使用一次。

$\square + \square = \square + \square = \square + \square = \square + \square = \square + \square$

一年级数学上学期总复习(五)

(配合第十、十一单元复习)

班级 _____ 姓名 _____ 学号 _____ 得分 _____

qǐng nǐ kàn tú xiě shù

一 请你看图写数。6%



()



()



()



()



()



()

xiān quān chū gè zài xiě shù

二、先圈出10个，再写数。8%



()



()



()



()

-17-

nǐ néng xiě chū xià mian zhōng biao shàng biǎo shì de shí jiān ma? 8%

三、你能写出下面钟表上表示的时间吗? 8%



()时



()时



()时



()时

kàn tú xiě suàn shì

四、看图写算式。12%

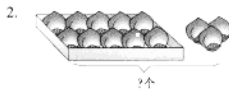


$$\square \bigcirc \square = \square$$

$$\square \bigcirc \square = \square$$

$$\square \bigcirc \square = \square$$

$$\square \bigcirc \square = \square$$



$$\square \bigcirc \square = \square$$



$$\square \bigcirc \square = \square$$

qǐng nǐ yòng xiàn lián yì lián

五、请你用线连一连。6%



-18-

zài li tián shàng hé shì de shù 。 16%

六、在()里填上合适的数。16%

- 1个十和8个一合起来是()。
- 12里面有()个十和()个一。
- 2个十是()。10里面有()个()。
- 十位上是1,个位上是9,这个数是()。
- 小明今年的岁数比13大,比18小,他今年可能是()岁。
- 比19多1的数是(),比19少1的数是()。
- 15和17中间的一个数是()。
- 14后面的第4个数是()。
- ()个十和()个一合起来是()。
- 3个一和1个十组成()。



qǐng nǐ zài li tián shàng > < 或 = 。 12%

七、请在○里填上“>”“<”或“=”。12%

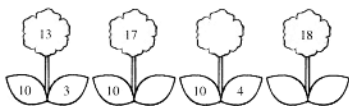
- | | | |
|-----------------|-------------|-----------------|
| 20 ○ 19 | 12 ○ 17 | 15 ○ 5 |
| 9 ○ 10 | 15 ○ 13 | 14 ○ 16 |
| 10 + 3 ○ 13 | 18 - 8 ○ 11 | 10 - 6 ○ 16 |
| 7 + 10 ○ 10 + 7 | 12 ○ 10 + 1 | 10 + 5 ○ 6 + 10 |

nǐ néng zhǎo chū guī lǜ bìng tián shàng hé shì de shù ma ? shì yì shì 。 11%

八、你能找出规律并填上合适的数吗?试一试。11%

1. 
2. 

3.



gěi xià miàn de zhōng miàn bǔ shàng shí zhēn huò fēn zhēn 。 6%

九、给下面的钟面补上时针或分针。6%



3时



10时



大约8时

bǐ yì bǐ kàn shuí shì kǒu suàn xiǎo néng shǒu 。 15%

十、比一比,看谁是口算小能手。15%

- | | | |
|--------------|--------------|-----------|
| 6 + 3 = | 7 + 10 = | 15 - 5 = |
| 10 - 2 = | 13 - 10 = | 4 + 10 = |
| 10 + 9 = | 10 + 6 = | 18 - 10 = |
| 3 + 7 + 1 = | 16 - 6 - 8 = | |
| 8 + 10 - 2 = | 10 - 4 + 3 = | |



zhī huì qǐ qiao bǎn 。 10%

智慧七巧板。10%

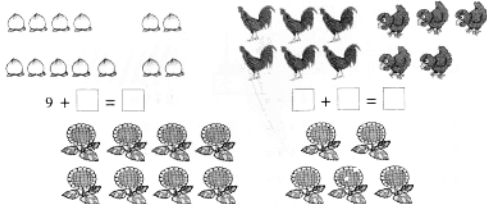
1. ○ + 4 = 14 ○ = ()
☆ + ○ = 17 ☆ = ()
△ + ☆ = 10 △ = ()
2. 在1的后面添写一个0后,这个数比原数大()。

一年级数学上学期总复习(六)

(配合第十二单元复习)

班级 _____ 姓名 _____ 学号 _____ 得分 _____

xián quān chū gè zài liè shì jì suàn
一、先圈出10个,再列式计算。5%



$9 + \square = \square$

$\square + \square = \square$

$\square \bigcirc \square = \square$

zài liàn shàng hé shì de shù
二、在□里填上合适的数。12%

1.				
原有	10把	15只	□条	14个
卖出	9把	□只	5条	4个
还剩	□把	5只	5条	□个

$2. \square + 4 = 12$

$\square + 6 = 15$

$7 + \square = 16$

$8 + \square = 11$

$4 + \square = 14$

$\square + 5 = 13$

zài liàn shàng huà
三、在○里填上“>”“<”或“=”。10%

$6 + 9 \bigcirc 15$

$9 \bigcirc 18 - 8$

$9 + 4 \bigcirc 13$

$14 \bigcirc 6 + 7$

$5 + 6 \bigcirc 12$

$15 \bigcirc 8 + 6$

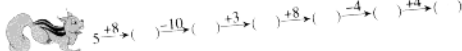
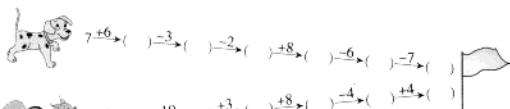
$8 + 4 \bigcirc 6 + 6$

$7 + 3 \bigcirc 2 + 9$


$8 + 7 \bigcirc 10$

$5 \bigcirc 3 + 9 - 10$

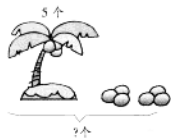
duō hóng qí
四、夺红旗。12%



kàn tú xiě suàn shì
五、看图写算式。28%



$\square \bigcirc \square = \square$



$\square \bigcirc \square = \square$



16块

$\square \bigcirc \square = \square$



13只

$\square \bigcirc \square = \square$



$$\square \bigcirc \square = \square$$

$$\square \bigcirc \square = \square$$



$$\square \bigcirc \square = \square$$

$$\square \bigcirc \square = \square$$

nǐ néng bù jì suàn zài měi zǔ zhǐ dà de suàn shì hòu miàn huà "√" ma? 3%

六、你能不计算，在每组得数大的算式后面画“√”吗？3%

$$8 + 7 ()$$

$$14 - 4 ()$$

$$9 + 4 ()$$

$$7 + 6 ()$$

$$14 - 5 ()$$

$$5 + 9 ()$$

rèn zhēn dú tí hòu liè shì jì suàn

七、认真读题后列式计算。12%

1.



我跳了7下。



我跳的和你一样多。

他们两人一共跳了多少下？

$$\square \bigcirc \square = \square$$

2.



你们借走了后，
还剩8个。

篮 球



我们借走了5个。

原来有多少个？

$$\square \bigcirc \square = \square$$

3.



小红

小明

小红、小明一共有多少张邮票？

$$\square \bigcirc \square = \square$$

bǐ bǐ shuí suàn de yòu duì yòu kuài

八、比比谁算得又对又快。18%

$$7 + 5 =$$

$$4 + 9 =$$

$$8 + 9 =$$

$$3 + 9 =$$

$$5 + 6 =$$

$$3 + 8 =$$

$$8 + 6 =$$

$$6 + 9 =$$

$$4 - 4 =$$

$$8 + 7 =$$

$$5 + 9 =$$

$$8 + 4 =$$

$$9 - 2 + 5 =$$

$$10 + 8 - 8 =$$

$$10 - 6 + 5 =$$

$$5 + 7 - 2 =$$

$$3 + 8 - 10 =$$

$$10 - 4 + 7 =$$



zhì huì qī qiǎo bǎn

智慧七巧板。10%

1.



7元

9元

4元

小华要买其中两件不同的物品，他最多要花()元，最少要花()元。

2. 看谁写的算式多。

$$() + () = 14$$

$$() + () = 14$$

$$() + () = 14$$

$$() + () = 14$$

$$() + () = 14$$

$$() + () = 14$$

$$() + () = 14$$

$$() + () = 14$$

一年级数学上学期总复习(七)

班级 _____ 姓名 _____ 学号 _____ 得分 _____

qing ni san yi san

一、请你填一填。40%

1. 看图写数。



()



()



()

2. 在□里填上合适的数。



3. ()个十和()个一合起来是16。 2个十是()。

18 里面有()个一和()个十。 10个一是()。

4.



上图中一共有()种水果,从左边起你最喜欢吃第()个,并在它上面画图。从右边起第()个是草莓,第5个是()。

5. 在13、6、1、7中选三个数,写出两道加法算式和两道减法算式。

6. 在○里填上">" "<"或"="。

$18 \bigcirc 18 - 8$

$4 + 6 \bigcirc 5 + 3$

$8 + 6 \bigcirc 7 + 9$

$5 + 9 \bigcirc 15$

$7 + 5 \bigcirc 16 - 6$

$6 + 8 \bigcirc 5 + 9$

7. 比一比,填一填。



♡比□少()个;

○比△多()个;

□比♡多()个。

△比○少()个。

gii xia mian de zhong mian bu shang shi zhen mu fen zhen

二、给下面的钟面补上时针或分针。5%



8时整



大约4时

ni xi huan chi shui guo ma

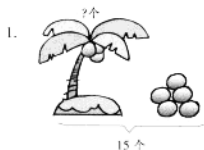
三、你喜欢吃水果吗?

ba xia mian de shui guo quan chu lai

把下面的水果圈出来。5%



四、看图写算式。20%



五、小红家来了16个客人，每人发一个苹果，你认为买下面哪盒比较合适，在下面的()里画“√”。5%



()



()



()

六、比一比，看谁算得又对又快。25%

$8 + 7 =$

$17 - 10 =$

$9 - 3 =$

$6 + 9 =$

$7 + 4 =$

$10 + 1 =$

$6 + 2 =$

$8 + 0 =$

$6 + 4 =$

$14 - 4 =$

$9 - 9 =$

$15 - 10 =$

$10 - 5 =$

$1 + 7 =$

$2 + 8 =$

$0 + 7 =$

$13 - 8 =$

$3 - 2 =$

$7 + 6 =$

$4 + 4 =$

$19 - 9 =$

$20 - 10 + 6 =$

$8 - 6 + 7 =$

$18 - 8 - 2 =$

$5 + 3 + 8 =$




智慧七巧板。10%

1. 按规律，接着画一画，画满20个。



2.



一年级数学上学期总复习(八)

班级_____ 姓名_____ 学号_____ 得分_____

qǐng nǐ tián yì tián

一、请你填一填。46%

1. 按规律填数。

15 > () > 13 > () > 11 > 10 > () > ()

0	5	15	
---	---	----	--

1	3	7			13	17
---	---	---	--	--	----	----

2. 最大的一位数是(), 最小的两位数是(), 它们的和是()。
 3. 一个数的后面是16, 前面是14, 这个数是()。13的相邻数是()和()。
 4. 8个一和1个十是()。20里面有()个一。
 17里面有()个一和()个十。
 14、16这两个数,()接近20,()接近10。

5. 在3、14、9、0、7、17、5、19中, 一共有()个数。从左边起第3个数是(), 从右边起第5个数是(), 请把这些数按从大到小的顺序排列: _____

6.



圆柱	正方体	球	长方体
()个	()个	()个	()个

圆柱比正方体(), 球比长方体()。


7. 估一估, 在每组得数小的算式后面的□里画“√”。

$17 - 10$ □	$8 + 9$ □	$10 + 4$ □
$16 - 10$ □	$8 + 8$ □	$4 + 9$ □

8. 在()里填上合适的数。

$13 - () = 3$ $7 + () = 14$ $() + 2 = 10$
 $8 + () = 8$ $10 = 6 + ()$ $12 = () - 2$

9.



10. 你知道下列钟面上表示的时刻吗?



()时



()时



大约()时

二、请你照样子连一连。4%

$15 - 10$	$8 + 2$	$14 - 10$	$3 + 4$
$9 + 4$	$9 - 4$	$10 - 3$	$10 + 2$
$20 - 10$	$10 + 3$	$8 + 4$	$10 - 6$