

DONGSHOU DONGNAO  
XUE SHUXUE

# 动手动脑 学数学

中班（秋季本）

ZHONGBAN QIUJI BEN

主编 何春美 干红梅



DONGSHOU DONGNAO  
XUE SHUXUE



# 动手动脑 学数学

中班（秋季本）

ZHONGBAN QIUJI BEN

主编 何春美 干红梅



姓名

.....



ZHEJIANG UNIVERSITY PRESS  
浙江大学出版社



# 一、小兔吃萝卜 (感知5以内的数量)

兔宝宝爱吃萝卜，但是它们可以吃的萝卜数量与胸口的数字是一致的。根据兔宝宝胸口的数字，为兔宝宝选择萝卜数量相同的盘，用连线表示。


兔宝宝胸口的数字	盘子里的萝卜数量
5	3
2	4
3	5
4	2











## 二、妞妞种花 (感知5以内的数量)

妞妞种了许多花，请你给数量是“3”的花涂上红色，数量是“4”的花涂上黄色，数量是“5”的花涂上蓝色。









### 看一看，比一比 (感知5以内的数量)

看一看，比一比，下面每张卡片上的两种东西一样多吗？请你给数量多的画“√”。

 ( )	 ( )	 ( )
 ( )	 ( )	 ( )

下列各图中的物体谁多谁少，怎样使它们一样多？



### 三、小猫送鱼干 (点数6以内的数量)



小猫钓了许多条鱼，打算晒成鱼干送给朋友。请你数一数它送给每个朋友的鱼干数量，在图片的右边空白处画上同样多的“☺”。






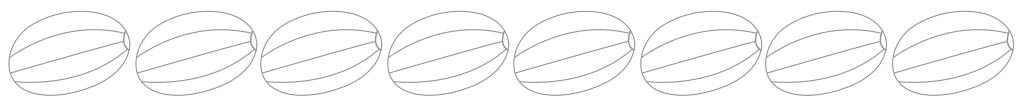


# 四、瓜瓜种瓜 (感知6以内的数量, 认识数字6)

瓜瓜种瓜, 种的啥瓜? 南瓜、西瓜和黄瓜……请在数量是6的瓜旁画上笑脸; 给下面的方框里数量是“6”的星星和瓜涂上颜色。















6











# 五、亮眼睛 (学习6以内的数量对应)

你能一眼看出每组物品的数量吗? 请在圆圈里画上相应的圆点。

下面图中的小动物与它上面的●数量一样多吗? 想一想怎样使小动物与各自●的数目相同。



## 六、小猴摘香蕉 (复习6以内的数量对应)

果园里的香蕉熟了，小猴们去果园摘香蕉喽！请你根据小猴手上的香蕉数找到相应的筐子，用连线表示。








## 七、小鸡出壳 (6以内的数量分类)

“小小鸡，钻出壳，小翅膀，扑一扑，小眼睛，骨碌碌，乐得妈妈咯咯咯。”请帮鸡妈妈数一数各种小鸡有多少，圈起来，并与数字进行连线。

2	3	4	5	6
---	---	---	---	---



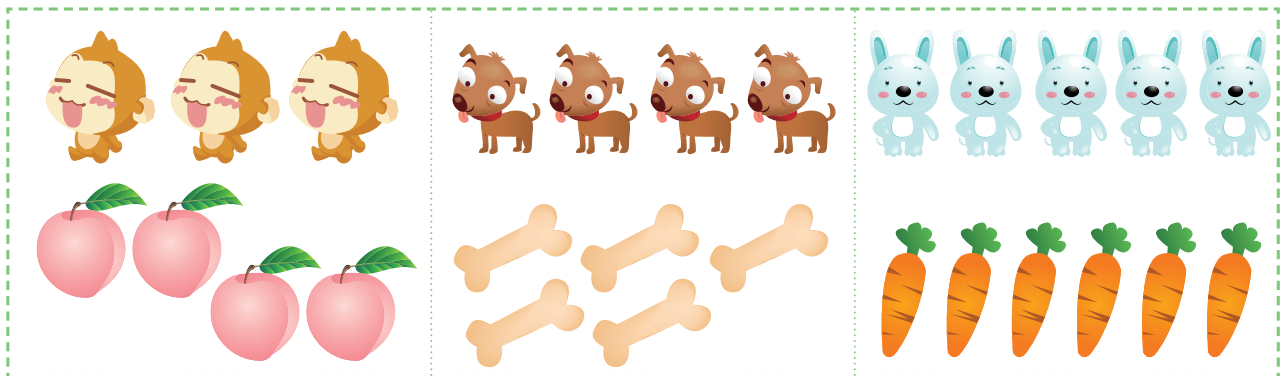


# 八、小猪住新房 (比较6以内两组物体的多少)

猪妈妈带着猪宝宝要住新房了，每只小猪1座，请你数一数，新房够住吗？



搬进新房，猪妈妈请了许多好朋友来做客。请你看一看猪妈妈准备的点心够吗？有什么办法使客人和点心的数量一样多？





## 九、青青草地 (感知7以内的数量, 认识数字7)

草地上真热闹。那里有什么? 哪些可以用数字“7”表示? 请你将能用“7”表示的物体数出来, 并做上自己喜欢的标记。给下面方框里能代表数量是“7”的刺猬和蛋宝宝涂上颜色。















7




# 十、熊妈妈买水果 (感知7以内的数量)



熊妈妈去超市买了许多水果，你能看出每个格子里的水果有多少吗？请你在小方格里画上与水果同样多的圆点。

 <input type="text"/>	 <input type="text"/>	 <input type="text"/>
 <input type="text"/>	 <input type="text"/>	 <input type="text"/>
 <input type="text"/>	 <input type="text"/>	 <input type="text"/>
 <input type="text"/>	 <input type="text"/>	 <input type="text"/>



# 十一、小老鼠吃饼干 (点数7以内的数量)

小老鼠吃了许多饼干，请说说这些饼干分别是什么形状，每种形状的饼干各有几块。请你用相应的圆点画在饼干旁的格子里。


Legend:






## 十二、小鱼游游 (7以内的数量统计)

河里小鱼游呀游，快快乐乐做朋友。请你仔细数一数，不同的小鱼各有多少，分别在方框内做上相同数量的标记。




# 十三、妞妞来摘果 (比较7以内两组物体的多少)

“一二三四五六七，七六五四三二一。七个妞妞来摘果，花花篮子手中提，好吃果子中间摆，看你会摆不会摆！”妞妞摘果，篮子够用吗？想办法让篮子和水果一一对应。





# 十四、天上星星亮晶晶 (感知8以内的数量)

天上星星亮晶晶，一闪一闪眨眼睛。红星、黄星和蓝星，请你好好数一数，到底天上有多少星？在每个星星后面画上相同数量的“●”。



# 十五、森林运动会 (感知8以内的数量, 认识数字8)

森林里真热闹, 小动物们纷纷赶来参加森林运动会。谁来参加啦? 请你数一数。哪些能用数字“8”表示, 请把它找出来, 并用记号表示出来。给下面方框里数量是“8”的蘑菇和笑脸涂上颜色。



8

