

DONGSHOU DONGNAO
XUE SHUXUE

动手动脑 学数学

大班（秋季本）

DABAN QIUJI BEN

主编 何春美 励发珍

DONGSHOU DONGNAO
XUE SHUXUE

动手动脑 学数学

大班（秋季本）

DABAN QIUJI BEN

主编 何春美 励发珍




姓名



一、小鸟排队 (学习10以内相邻数)

红鸟、黄鸟、绿鸟、蓝鸟，大家三个一组，五个一群来排队。你知道小鸟是按什么规律排队的吗？请将正确的数字填上去。




聪明题考考你：头戴皇冠的蓝鸟  站在第 () 排第 () 个？



三、拔河比赛 (巩固对相邻数的认识)

海底世界的拔河比赛马上就要开始了，每个家庭都在积极准备。数一数，每个家庭的参赛选手的数量，并圈出它们的相邻数。



4 5 6 7




6 8 9 10



6 7 8 9




4 5 6 7



6 7 8 9



7 8 9 10









4 6 7 9



四、老鼠外婆的花园 (相邻数的具体运用)




老鼠外婆的花园可真漂亮，数一数其中每种花各有几朵，画出相应点数，写出它们的相邻数。





五、小猫晒鱼干 (相邻数的实际运用)

天气晴朗，阳光明媚，小猫乐呵呵地开始晒鱼干。猜一猜，小猫想按照什么规律晒鱼干，帮忙晒好一排排鱼干（在图中画上相应数量的鱼干），写出相应的数字，并找出规律。



写一写数字“2”。











2	2	2	2																	
---	---	---	---	--	--	--	--	--	--	--	--	--	--	--	--	--	--	--	--	--



六、水果聚会 (认识单数和双数)

两个两个地数，正好数完的数就是双数；两个两个地数，数完后还剩一个的数就是单数。“1”不能两个两个地数，“1”是单数。

数一数，每种水果各有多少，用圆点表示出来，填上数字。再学习两个两个地数，找出单数和双数，用自己喜欢的标志把单数水果和双数水果区别开来。

 □ □	 □ □	 □ □	 □ □	 □ □
 □ □	 □ □	 □ □	 □ □	 □ □

趣味延伸活动：每个人都从自己身上找一找，说说哪些东西是单数？哪些东西是双数？为什么？比一比，看谁找得又快又多。





七、数字王国 (复习单数和双数)

数字王国中数字的样子可真多啊！请你把属于单数的数字画上“○”，属于双数的数字打上“√”，并数数每个数字都有几个不同的样子。





八、熊大叔的度假村 (单数和双数的运用)



度假村里造了四排房子，分两种式样，每种式样两排，每间一模一样，赶快帮熊大叔做上标记吧，记住，每种式样的第一排房子的门牌号是从小到大的单数，第二排则是从大到小的双数，可别搞错了。





九、弯弯曲曲的小路 (单数和双数的实际运用)

小蛇准备独自外出玩耍，正好，蜗牛妈妈带着小蜗牛也准备去野炊。可是它们走的路线却很不一样，小蛇要沿着单数走，蜗牛则按双数走，才能顺利到达它们各自的目的地，请你帮它们涂出两条不同颜色的路吧！





十、寻找与众不同的数字 (巩固对单双数的认识)


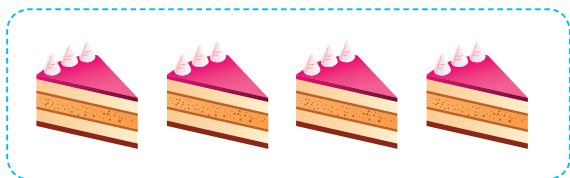
仔细观察下面几列数字，快速找出并圈出其中与众不同的一个，说说为什么。





十一、馋嘴小猪 (4以内数的组成)

看到这么多好吃的，小猪的口水都快流下来了。看一看，每一种都有多少，把这些东西分成两份，应该怎么分？可以用图画表示，也可以用点数表示，还可以用数字表示。




写一写数字“3”。

3	3	3	3																
---	---	---	---	--	--	--	--	--	--	--	--	--	--	--	--	--	--	--	--




十二、红苹果绿苹果 (5以内数的组成)

请把每行苹果涂上红绿两种颜色，要求每一行红苹果的数量必须不一样。并把红苹果和绿苹果的数量用圆点表示出来，再用数字写出来。



4			



5			



脑筋急转弯考考你：想一想，在什么游戏中，5比0大、0比2大、2比5大？



十三、好吃的巧克力 (复习5以内数的组成)

小乐太高兴了，因为他有很多巧克力，各种图案，各种颜色，他想把每一种都画线分成两部分，然后用数字表示。你能帮帮他吗？有多少种分法？怎样分既快又不会遗漏？

5



4

3



聪明题考考你：什么数字颠倒后会增加一半？



十四、伤脑筋的猪小弟 (复习5以内数的分解、组合)

猪小弟每天不是吃就是睡，看到这么多数字，又是分解，又是组合，真把它给弄糊涂了。看清分解符号和组合符号，帮助猪小弟填上合适的数字。

2

4

3

5

4

5

3

5

5

2

3

4



十五、唱歌比赛 (5以内数的加法)

唱歌比赛非常有意思，有闭着眼睛唱的，有打着灯笼唱的，有抱着肚子唱的，有戴着眼镜唱的……每一组都有几个参赛者呢？请列出加法算式。

