



河北省公务员录用考试指导用书

2013年最新版



# 河北省公务员考试 历年真题汇编及解析

行政职业能力测验+申论

本书编写组

适用范围：河北省市乡四级联考 选调生考 大学生村官 事业单位考试 招警考试

河北出版传媒集团  
河北人民出版社



河北省公务员录用考试指导用书

2013年最新版



# 河北省公务员考试 历年真题汇编及解析

行政职业能力测验+申论

本书编写组

适用范围：河北省市乡四级联考 选调生考 大学生村官 事业单位考试 招警考试

河北出版传媒集团  
河北人民出版社

### 图书在版编目(CIP)数据

河北省公务员考试历年真题汇编及解析 / 《河北省  
公务员考试历年真题汇编及解析》编写组编著. —石家庄:  
河北人民出版社, 2013. 1

ISBN 978 - 7 - 202 - 06956 - 1

I. ①河… II. ①河… III. ①公务员 - 招聘 - 考试 -  
中国 - 题解 IV. ①D630.3 - 44

中国版本图书馆 CIP 数据核字 (2013) 第 009313 号

---

书 名	河北省公务员考试历年真题汇编及解析
著 者	本书编写组
责任编辑	王云弟
美术编辑	吴书平
出版发行	河北人民出版社 (石家庄市友谊北大街 330 号)
印 刷	保定市时代印刷厂
开 本	787 × 1092 毫米 1/16
印 张	25.5
字 数	638 000
版 次	2013 年 1 月第 1 版 2013 年 1 月第 1 次印刷
印 数	1 - 2 000
书 号	ISBN 978-7-202-06956-1/C · 248
定 价	52.00 元
版权所有	翻印必究

---

## 前 言

公务员考试的历年试题是每个考生在复习的过程中一定和必须利用到的资料,每一年公考,不论试题如何变换,不论题型如何微调,国家公务员考试命题的基本思想和思路是不变的,具有持续连贯性的。但是很多考生在利用这些资料的时候,往往不太明白利用这些资料的意义,也不太明白应当如何利用这些资料。

河北省四级联考以及选调生村官考试、河北省事业单位考试、河北省基层政法招录等等考试试题都具有十分鲜明的“河北特色”。通过做真题,首先可以感性认识河北省公务员考试的题型、命题风格、各学科分值分布、考查的重点及难易程度,熟悉考卷的题型组成和考试重点内容范畴,针对性更强。其次感悟河北省公务员考试命题侧重点和命题技术的变化。作为考生,通过历年真题的学习,可以发现每年题型、侧重点的变化,而这些变化仅靠语言往往难以表述清楚,只有通过做不同年份的历年真题,才能非常直观地感受其变化,才真正做到更有针对性。然后通过设置时限练习不同年份的历年真题,可以快速增加你的考试经验,形成自己的考试时间分配表,避免参加考试时发生由于时间分配不合理而丢失本可以稳拿的得分。最后可以通过做真题掌握解题思路,总结答题技巧,提高应试技能。真题解析部分是就各题目的命题思路和意图,让考生明白题目的关键点,了解相关内容的意义,学会从命题者的角度分析问题,读懂考题意图,运用掌握的方法和技巧,快捷得出正确答案,节省时间赢得考分。

本书在编写过程中,始终把考试和做题思维当作立足点和出发点,内容上严格按照最新考试大纲的要求,紧紧把握河北省公务员考试的时代脉搏,形式上在知识体系方面不断完善,求新求变。高效的解题思路、最优化的解题技巧和经典真题三位一体,考点知识与公务员考试实务相结合,能切实帮助考生提高解题的速度和准确性,同时提升考生的实际思维能力。

### 本书具有以下特点:

#### 权威专家编写

本书由河北省多次参加公务员阅卷工作,长期从事公务员培训教育工作,具有丰富经验的考试实战专家编写。专家从考生作答的角度全面分析河北省公务员考试题型特点、命题思路及解答过程,使考生真正了解作答过程,快速提高成绩。

#### 答案精准 解析详尽

本书每套试卷所给答案准确、权威。每道真题的解析,都充分体现了实战解题技巧的应用,有助于考生拓宽解题思路。在本书的阅读过程中,考生可先按照真题的相关要求进行实战演练,然后根据参考答案及解析查找疏漏之处,归纳、总结不足之处,以便在系统复习过程中有的放矢、对症下药。

#### 真题最全面 数量最多

本书每套真题试卷是图书市场上最全面覆盖真题原样的试卷真题汇编,并且收录了河北省选调生单独考试2010年、2009年、2008年等年份考试真题。

让那些刚开始准备或已经准备了多年的考生得到我们的帮助,一直是我们出版人的梦想。本书凝结了河北省公务员考试的各位专家和老师的智慧和心血,我们的目标是编写出符合广大考生需求的高水平教材。由于时间所限,书中难免有未尽之处,欢迎各位读者提出宝贵意见。我们将及时进行补充修订,不断完善,为考生朋友提供更高品质的服务。

## 河北省公务员录用考试《行政职业能力测验》真题汇编

2012 年河北省公务员录用考试《行政职业能力测验》试卷 .....	1
2011 年河北省公务员录用考试《行政职业能力测验》试卷 .....	19
2010 年河北省公务员录用考试《行政职业能力测验》试卷 .....	36
2009 年河北省公务员录用考试《行政职业能力测验》试卷 .....	52
2008 年河北省公务员录用考试《行政职业能力测验》试卷 .....	73
2007 年河北省公务员录用考试《行政职业能力测验》试卷 .....	94
2006 年河北省公务员录用考试《行政职业能力测验》试卷 .....	114

## 河北省选调生录用考试《行政职业能力测验》真题汇编

2010 年河北省选调生录用考试《行政职业能力测验》真题(精选) .....	135
2009 年河北省选调生录用考试《行政职业能力测验》真题(精选) .....	145
2008 年河北省选调生录用考试《行政职业能力测验》真题(精选) .....	150
2005 年河北省选调生录用考试《行政职业能力测验》真题(精选) .....	170

注:2012 年、2011 年、2007 年、2006 年与河北省公务员同期同卷考试

## 河北省公务员录用考试《申论》真题汇编

2012 年河北省公务员录用考试《申论》试卷	1
2011 年河北省公务员录用考试《申论》试卷	7
2010 年河北省公务员录用考试《申论》试卷	13
2009 年河北省公务员录用考试《申论》试卷	19
2008 年河北省公务员录用考试《申论》试卷	26
2007 年河北省公务员录用考试《申论》试卷	32
2006 年河北省公务员录用考试《申论》试卷	38
2005 年河北省公务员录用考试《申论》试卷	42
2004 年河北省公务员录用考试《申论》试卷	46

## 河北省选调生录用考试《申论》真题汇编

2010 年河北省选调生录用考试《申论》试卷	51
2009 年河北省选调生录用考试《申论》试卷	53
2008 年河北省选调生录用考试《申论》试卷	60
2005 年河北省选调生录用考试《申论》试卷	66
2012 年中央、国家机关公务员录用考试《申论》试卷(副省级)	69
2012 年中央、国家机关公务员录用考试《申论》试卷(市地以下)	75
2012 年 4.12 多省联考公务员录用考试《申论》试卷	82
2013 年中央、国家机关公务员录用考试《申论》试卷市(地)以下综合管理类和行政执法类	89
2013 年国家公务员考试《申论》真题(副省级)综合管理类试卷	96

注:2012 年、2011 年、2007 年、2006 年与河北省公务员同期同卷考试

## 2012 年河北省公务员录用考试《行政职业能力测验》试卷

### 说 明

这项测验共有五个部分,125 道题,满分 100 分,总时限为 90 分钟。各部分不分别计时,但都给出了参考时限,供你参考以合理分配时间。请在答题卡上严格按照要求填写自己的姓名,涂写准考证号。请仔细阅读下面的注意事项,这对你获得成功非常重要。

1. 题目应在答题卡上作答,在题本上作答一律无效。
2. 监考人员宣布考试开始时,你才可以开始答题。
3. 监考人员宣布考试结束时,你应立即放下笔,将答题本、答题卡和草稿纸都翻过来留在桌上,待监考人员确认数量无误后,方可离开。如果你违反了以上任何一项要求,都将影响你的成绩。
4. 在这项测验中,可能有一些试题较难,因此你不要在一道题上思考时间太久,遇到不会答的题目,可先跳过去,如果有时间再回去思考。否则,你可能没有时间完成后面的题目。
5. 试题答错不倒扣分。
6. 特别提醒你注意,涂写答案时一定要认准题号,严禁折叠答题卡。

停! 请不要往下翻! 听候监考老师的指示。否则,会影响你的成绩。

## 第一部分 常识判断

(共 25 题,参考时限 20 分钟)

一、阅读理解。每道题给出一段文字,请你通过阅读理解,在四个选项中选出一个最恰当的答案。

请开始答题:

- 有的人有一个轰轰烈烈的生,却留下一个默默无闻的死;有的人有一个默默无闻的生,却有一个轰轰烈烈的死。有的人显赫一时,却只能成为匆匆过客;有的人潦倒终生,却成为历史天空闪亮的星斗。这段话谈的是:( )。  
A. 人的生命价值      B. 人的生活方式      C. 人的地位区别      D. 人生变幻无常
- 古语云:“疾风知劲草。”经历严峻的考验,方可知晓谁才是真正坚强的人。那么,换在一个顺风顺水的环境里,难道就无法试炼出一个人的意志、品格吗?这段文字表述的观点是:( )。  
A. 顺意的环境很难考验一个人的意志      B. 关键时刻才能识别谁是真正的强者  
C. 日常工作照样能够考验一个人的意志      D. 平淡的生活也能了解一个人的品格
- 辛亥年到来的时候,似乎没有迹象表明,这将是这个铁血帝国的最后一年。这一年是从隆裕皇太后万寿圣节(正月初十)的歌舞升平开始的,而在这一年行将结束的十二月二十五(公元 1912 年 2 月 12 日),隆裕却颁布了一纸退位诏书,中国的封建政权就此曲终人散。历史的急转直下,在当时绝大多数人(包括革命领袖)看来,都是不可思议的。上面一段文字,意在说明:( )。  
A. 大清帝国何以灭亡      B. 历史潮流不可阻挡      C. 辛亥革命何以成功      D. 历史发展有其规律
- 在社会生活中,每一个人都渴望得到别人的欣赏,同样,每一个人也要学会欣赏别人。欣赏与被欣赏是一种互动的力量源泉,欣赏必然具有愉悦之心、仁爱之怀、成人之美之善念;被欣赏必然产生自尊之心、奋进之力、向上之志。因此,让我们在生活中多一些欣赏。  
最能概括这段文字的是:( )。  
A. 欣赏与被欣赏      B. 欣赏是一种善良      C. 欣赏是一种理解      D. 我们要学会欣赏
- 经度差异是影响物候的一个因素。凡是近海的地方,比同纬度的内陆,冬天温和,春天反而寒冷。所以沿海地区春天的来临比内陆要迟若干天,如大连在北京以南约一度,但在大连,连翘和榆叶梅的盛开都比北京要迟一个星期。又如石家庄苹果开花在四月中或谷雨节,沧州要到立夏。两地纬度相差无几,但沧州靠海,春天便来得迟了。这段文字说明的内容是:( )。  
A. 相同纬度沿海地区比内陆春天来得晚      B. 经度差异不是影响物候的主要因素  
C. 凡是近海地方的春天都比内地要迟      D. 沿海地区的春天一般会比内地要迟
- 生活中,一个好的心态,可以使你乐观豁达;一个好的心态,可以使你战胜面临的苦难;一个好的心态,可以使你淡泊名利,过上真正快乐的生活。人类几千年的文明史告诉我们,积极的心态能帮助我们获取健康、幸福和财富。上面这段文字告诉我们:( )。  
A. 人与人之间千差万别,但心态决定人生      B. 一个人成功与否,主要取决于他的心态  
C. 一个健全的心态,比一百种智慧更有力量      D. 你不能控制环境,你可以调整自己的心态
- 孤独是一个人的狂欢,是心灵的独舞。能够忍受孤独、勇于享受孤独的人并不多,在孤独中有大成

者就更少。面对孤独,尤其是长时间的孤独,是需要很大的勇气的。所以,孤独是勇敢者的专利。小说家赫胥黎说:“越伟大、越有独创精神的人越喜欢孤独。”因为人可以在社会中学习,灵感却只有在孤独的时候才会涌现出来。最适合这段文字的标题是:( )。

- A. 孤独是勇敢者的专利
- B. 孤独需要勇气
- C. 伟大的心灵需要独舞
- D. 孤独激发灵感

8. 大爆炸模型已被科学界广泛接受,但它没有解决宇宙起源的问题。宇宙起源的学说有若干,但只有霍金的量子宇宙学是既自给又自足的。宇宙的边界条件是它没有边界,这样就把宇宙的量子态确定下来,赋予宇宙学以可预见性。霍金和他的合作者利用费恩曼的路径积分给出宇宙的波函数,人们可以将宇宙视为演化的过程,也可以认为整个演化就是存在。

这段文字主要介绍的是:( )。

- A. 科学家是如何解决宇宙起源问题的
- B. 量子宇宙学如何描述宇宙的存在
- C. 霍金是个伟大的宇宙科学家
- D. 霍金和他的合作者一起创立了量子宇宙学

9. 关于贫困,巴菲特是这样看待的:“对于一个人的成长来说,贫困可以磨砺一个人的志气,可以使人养成吃苦耐劳的品质,知道更加珍惜现有的一切,从这个角度讲贫困是事业成功的推动器。贫困就像深埋在地下的煤炭,能挖掘出来就是财富,挖不出来,还是贫困。而要把潜在财富变为现实财富,则取决于多种因素,环境机遇、人的能力品质、正确判断、奋斗精神,缺一不可。贫困是财富还是苦难,关键在于我们自己,有人被贫困压倒,一辈子窝窝囊囊,有人则在贫困面前崛起,终究成就了一番大事业,强者与弱者的区别仅此而已。”上面这段文字意在强调:( )。

- A. 贫困可以使人养成吃苦耐劳的品质,是事业成功的推动器
- B. 把潜在的贫困挖掘出来变成财富取决于多种不可或缺的因素
- C. 强者与弱者的区别就在于是否被贫困压倒
- D. 贫困可以是财富,也可以是苦难,关键是看你怎么去对待

10. 蚂蚁大抵不会欣赏猎豹,也无法欣赏猎豹,因为两者之间的距离相去甚远。蚂蚁在地上爬,猎豹一掠而过,蚂蚁从何欣赏起呢?就算蚂蚁有幸爬上了猎豹的身子,它能欣赏到的也只是猎豹的皮毛,怎能欣赏到猎豹的矫健?再幸运一些,蚂蚁上了树,自上而下看猎豹,能看到些什么呢?也一样什么都看不到,既然无法欣赏,也就绝对无从知道猎豹是什么样的动物。

对这段文字的正确理解是:( )。

- A. 蚂蚁和猎豹是两种差别很大的动物
- B. 蚂蚁不知道猎豹是什么样的动物
- C. 蚂蚁不具备欣赏猎豹的基本能力
- D. 蚂蚁的欣赏能力与自身的条件有关

阅读下面的文字,完成 11 ~ 15 题。

按照人的自我的发展历程、实现人生价值和精神自由的高低程度,人生境界可分为四个层次,即欲求境界、求知境界、道德境界和审美境界。

最低的境界为“欲求境界”。人生之初,在这种境界中只知道满足个人生存所必需的最低欲望,故以“欲求”称之,当人有了自我意识,并且生活于越来越高级的境界时,此种最低境界仍潜存于人生之中。现实中也许没有一个成人的精神境界会低级到唯有“食色”的欲求境界,而丝毫没有一点高级境界。以欲求境界占人生主导地位的人是境界低下而“趣味低级”的人。

第二种境界为“求知境界”。在这一境界,自我作为主体,有了进一步认知作为客体之物的规律

和秩序的要求。有了知识,掌握了规律,人的精神自由程度、人生的意义和价值就大大提升了一步。所以,求知境界不仅从心理学和自我发展的时间进程来看在欲求境界之后,而且从哲学和人生价值、自由之现实的角度来看,也显然比欲求境界高一个层次。

第三种境界为“道德境界”。它和求知境界的出现几乎同时发生,也许稍后。就此而言,把道德境界列在求知境界之后,只具有相对的意义。但从现实人生意义与价值的角度和实现精神自由的角度而言,则道德境界之高于求知境界,是不待而言的。发展到这一水平的“自我”具有了责任感和义务感,这也意味着他有了自我选择、自我决定的能力,把自己看作是命运的主人,而不是听凭命运摆布的小卒。

人生的最高精神境界是“审美境界”。这是因为此时审美意识超越了求知境界的认识关系,它把对象融入自我之中,而达到情景交融的意境;审美意识也超越了求知境界和道德境界中的实践关系,这样,审美境界既超越了认识的限制,也超越了功用、欲念和外目的以及“应该”的限制,而成为超然于现实之外的自由境界。

在现实的人生中,这四种境界错综复杂地交织在一起。很难想象一个人只有其中一种境界而不掺杂其他境界,只不过现实的人,往往以某一种境界占主导地位,其他次之。于是我们才能在日常生活中区分某人是低级境界、低级趣味的人,某人是高级境界、高级趣味的人,某人是以道德境界占主导地位的道德家,某人是以审美境界占主导地位的艺术师……

11. 关于“人生境界”的理解,符合原文意思的一项是:( )。

- A. 它存在于人的自我发展历程中,体现着实现人生价值和精神自由的高低程度
- B. 它由四个层次组成,从幼年到成人,人的每一个时期都要经历这四个层次
- C. 现实生活中,人生境界是由从低到高的四种境界错综复杂地交织在一起的
- D. 人生境界表现错综复杂,不同层次的人生境界分别主导着人生的不同阶段

12. 对于“求知境界”与“道德境界”关系的表述,不符合原文意思的一项是:( )。

- A. 把“道德境界”列在“求知境界”之后,并不意味着前者比后者出现得晚
- B. 到了“求知境界”,人具备了知识,为“道德境界”的产生创造了条件
- C. 责任感与义务感使“道德境界”不同于“求知境界”,并高于“求知境界”
- D. “道德境界”中的“自我”已经根本不同于“求知境界”中的“自我”

13. 下列表述,符合原文意思的一项是:( )。

- A. “欲求境界”是人生的最低境界,是具有高级境界的人所极为排斥的
- B. “求知境界”中的“自我”已不再满足于个人生存所必需的最低欲望
- C. “道德境界”中的人具有了责任感和义务感而有意识地不再关注自我
- D. “审美境界”是人生最高的精神境界,这是一种超自然的自由境界

14. 原文中低级境界、低级趣味的人是指:( )。

- A. 具有动物本能行为的人
- B. 由于生活原因而缺乏求知欲望的人
- C. 欲求境界占人生主导地位的人
- D. 低级趣味在所有趣味中所占比例较大的人

15. 下列各项中,对全文理解概括比较准确的一项是:( )。

- A. 人不仅要生活,而且要活出较高层次的境界来
- B. 人生的最高境界是超越功用、欲念等世俗的限制
- C. 人的自我的发展历程就是由低级到高级的演变过程
- D. 在现实的人生中,四种境界错综复杂地交织在一起

作用。

- A. 制订 必须 方可    B. 决定 只能 才会    C. 明确 只要 就能    D. 确定 只有 才能

三、语句表达。请根据题目要求,从词语、语气、语序、语法结构等方面对有关语句作出正确的判断。

请开始答题:

26. 下面各组词语中加点字的读音,完全正确的一项是:

- A. 宽恕(shù)    涟漪(yī)    根深蒂固(tì)  
B. 炽痛(chì)    朔方(shuò)    锲而不舍(qiè)  
C. 阔绰(chuò)    诘责(jí)    即物起兴(xìng)  
D. 颌首(hán)    不逊(xùn)    广袤无垠(mào)

27. 下列每组词语中都有一个错别字,它们是:( )。

- ①荒诞不经    合辙押韵    形消骨立    祁寒溽暑  
②如愿以偿    股肱之臣    甚嚣尘上    推心至腹  
③众志成城    鸠形鹄面    慷慨大方    张皇失措  
④风餐露宿    重峦叠障    形影相吊    瞻前顾后

- A. 溽至皇吊    B. 经肱鹄瞻    C. 辙器诚瞻    D. 消至诚障

28. 下列句子中括号中的词语运用有误的一项是:( )。

- A. 禾苗把鸦鹊湖(伪装)成无边的草原,一条机耕道在稻田间蜿蜒着没入远方。  
B. 我们阅读名著不仅能得到艺术的享受,而且能获得人生的(启迪)。  
C. 大街小巷,人头攒动,大家(望眼欲穿),期盼着奥运冠军凯旋归来。  
D. 站在山顶四处眺望,只见经过退耕还林的山区风景秀丽,(进退维谷)。

29. 下列各组词语中,没有错别字的一组是:( )。

- A. 驰骋    掉书袋    讪然成章    文过饰非    有志者事竟成  
B. 寒暄    俯卧撑    慷慨悲歌    披肝历胆    事实胜于雄辩  
C. 因循    故纸堆    兢兢业业    稗官野史    英雄所见略同  
D. 安详    连锁店    故名思义    轻歌曼舞    万变不离其宗

30. 下列各句中,括号中成语使用恰当的一项是:( )。

- A. 这些福娃形象可爱(栩栩如生),是最受欢迎的奥运纪念品。  
B. 在“五个一工程”的推动下,基层群众的文艺创作热情(水涨船高)。  
C. 蛙鸣像波浪一样在夜色里此起彼伏,(络绎不绝)。  
D. 罗浮宫里那精美的室内装修和古典家具真让人(流连忘返)。

31. 下列句子中,没有语病的一句是:( )。

- A. 法制的漏洞、体制的弊端和政策的不完善,导致贫富差距拉大到世界公认的警戒线,从而导致了一系列的社会影响。  
B. 我们要把改善民生、保障民生、关注民生作为一切工作的目的和出发点。  
C. 能否积极利用和有效管理互联网,关系到社会主义文化事业和文化产业的健康发展,是国家文化信息安全和国家长治久安的有力保障。  
D. 要建立出租车运价与油价联动机制,就是当油价上升突破一定界限时,相应加收燃油附加费;当油价回落时,下调或停收燃油附加费。

32. 下列句子中,有语病的一句是:( )。
- A. 构建和谐社会,光靠行政命令与严厉的执法是不行的。以和为贵的思维与长期不懈促进互信的举措,都是值得大力鼓励的。
- B. 在就业难的大环境下,相当多的应届毕业生认同“先就业再择业”,先抢到一个“饭碗”工作几年后,再换一份待遇更高的新工作。
- C. 许多城市的限购政策到期之后是否持续,一些地方政府态度暧昧,三缄其口,骨子里所想的,无非是取消“限购令”,迎接房地产业所谓的“春天”。
- D. 周立波在他主持的节目《壹周立波秀》里批评了很多人。他的言辞虽然尖刻甚至偏激,但是谁又能否认他说的有道理呢?
33. 下列各句中,语意明确的一句是:( )。
- A. 他背着总经理和副总经理偷偷地把这笔钱分别存入了两家银行。
- B. 这次考试不难,但由于他准备得不够充分,差点儿就没及格。
- C. 祁爱群看见组织部新来的援藏干部很高兴,于是两人亲切地交谈起来。
- D. 因患病住院,83岁高龄的黄昆和正在美国的姚明没能到场领奖。
34. 为下列句子排列顺序,使其意思连贯。正确的一项是:( )。
- ①他最初的职能与一个看管自行车的大爷没什么两样  
②事实上,世界上最早的金匠银行家是只存不贷的  
③时间长了,他开始考虑如何盘活这些沉睡的资产,于是就有了放贷和利息  
④存户有了零散的金子就存到他那里,他收取一定的管理费
- A. ④①③②                      B. ②④③①                      C. ②④①③                      D. ④①②③
35. 为下列句子排列顺序,使其意思连贯。正确的一项是:( )。
- ①面对身边诸多纠结,多一点智慧和勇气,保持一份平和心态,可助我们削弱“纠结”的纠缠  
②随着现代生活节奏的加快,生活压力的增大,“纠结”的事越来越多  
③如今,随着信息技术的快速发展,“纠结”一词率先在网络上爆红,不但使用率颇高,而且使用更加广泛灵活  
④纠结的本意就是“相互缠绕”,常作动词用。语出唐代诗人李白的《古意》一诗:“枝枝相纠结,叶叶竞飘扬。”
- A. ③②④①                      B. ③④①②                      C. ②①④③                      D. ②④③①

## 第二部分 数量关系

(共 15 题,参考时限 10 分钟)

一、数字推理。每道试题给出一个数列,请你依照数列的排列规律从四个选项中选出最合理的一项。  
请开始答题:

36. 4, 11, 27, 61, ( )
- A. 106                      B. 117                      C. 131                      D. 163

37.  $1+3, 2+2, 1+1, 2+3, 1+2, 2+1, ( \quad )$   
 A.  $2 \times 2$                       B.  $2+3$                       C.  $3 \times 1$                       D.  $1+3$
38.  $224, 194, 168, 146, 128, ( \quad )$   
 A. 116                      B. 114                      C. 102                      D. 98
39.  $1, 2, 8, ( \quad ), 1024$   
 A. 64                      B. 176                      C. 682                      D. 988
40.  $0, 2, 4, 3, 8, 6, ( \quad )$   
 A. 9                      B. 12                      C. 14                      D. 15

**二、数学运算。**每道试题呈现一个算式或一段表述数量关系的文字,请你迅速、准确地计算出正确答案。

**请开始答题:**


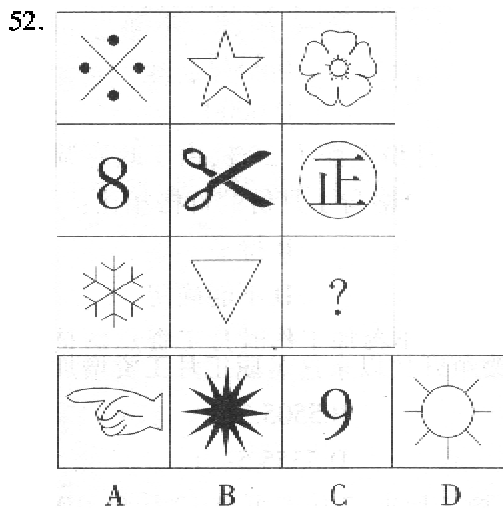
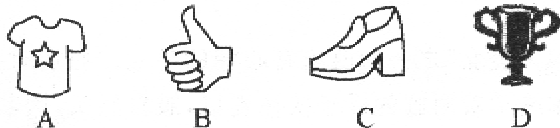

41.  $292929 \div 161616 \times 112 = ( \quad )$ 。  
 A. 174                      B. 190                      C. 203                      D. 206
42. 要把 21 棵桃树栽到街心公园里 5 处面积不同的草坪上,如果要求每块草坪必须有树且所栽棵数要依据面积大小各不相同,面积最大的草坪上至少要栽几棵? ( )。  
 A. 7                      B. 8                      C. 10                      D. 11
43. 某乡镇对集贸市场 36 种食品进行检查,发现超过保质期的 7 种,防腐添加剂不合格的 9 种,产品外包装标识不规范的 6 种。其中,两项同时不合格的 5 种,三项同时不合格的 2 种。问三项全部合格的食品有多少种? ( )。  
 A. 14                      B. 21                      C. 23                      D. 32
44. 某通讯公司对 3542 个上网客户的上网方式进行调查,其中 1258 个客户使用手机上网,1852 个客户使用有线网络上网,932 个客户使用无线网络上网。如果使用不只一种上网方式的有 352 个客户,那么三种上网方式都使用的客户有多少个? ( )。  
 A. 148                      B. 248                      C. 350                      D. 500
45. 一直角三角形的两直角边的长度之和为 14,假如这个三角形的周长与面积数值相等,那么该三角形的面积为:( )。  
 A. 20                      B. 22.5                      C. 24                      D. 24.5
46. 某单位发当月的工资,已知甲的工资为 4500 元,若甲取出工资的 75%,乙取出工资的三分之一,则甲的工资余额是乙的工资余额一半,那么乙当月的工资是多少元? ( )。  
 A. 1125                      B. 3375                      C. 4500                      D. 6000
47. 某商品 2 月份价格较 1 月份上涨了 20%,由于政府调控政策的出台,3 月份该商品价格又降了 20%,问该商品 3 月份的价格与 1 月份的价格相比:( )。  
 A. 涨高了                      B. 持平                      C. 降低了                      D. 不能确定
48. 一名事业单位职工 1978 年参加工作时月工资总额是 49.5 元,2012 年其年工资是 1978 年的 112 倍且每月还多 11 元,改革开放以来这名职工月工资增加了多少元? ( )。  
 A. 5050                      B. 5505.5                      C. 5545                      D. 5555.5
49. 一个农贸市场 2 斤油可换 5 斤肉,7 斤肉可换 12 斤鱼,10 斤鱼可换 21 斤豆,那么 27 斤豆可换几斤油? ( )。  
 A. 3                      B. 4                      C. 5                      D. 6

50. 某草莓种植基地利用恒温库储存草莓准备反季节销售。据测算,每储存1斤草莓可增加收入2.5元。小王去年收获草莓5吨,当时市场价为每斤3元,如果都利用恒温库储存,小王的草莓收入可以达到:( )。
- A. 27500元      B. 32500元      C. 45000元      D. 55000元

### 第三部分 判断推理

(共35题,参考时限20分钟)

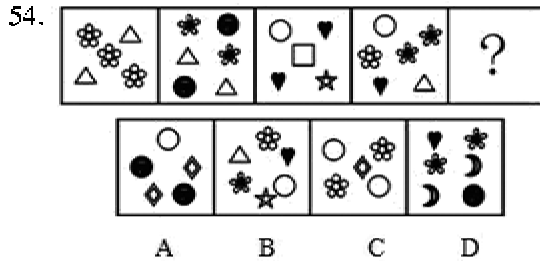
一、图形推理。请从所给的四个选项中,选择最合适的一个填在问号处,使之呈现一定的规律性。  
请开始答题:



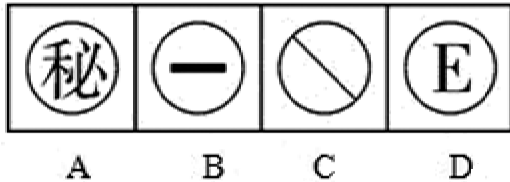
二、逻辑填空。每道题给出一个不完整的句子,请你从所给的四个选项中选出最恰当的一项填在横线处,使句子表达的意思完整、准确。

请开始答题:

16. 倘只见阳光,不见\_\_\_\_,只见愉悦欢笑,不见\_\_\_\_,那么这不是生活的本意。  
A. 阴霾 悲伤泪泣    B. 云雾 悲哀伤痛    C. 阴云 悲痛伤感    D. 云雾 哀痛忧伤
17. 当讲述自己幼年读书的时光时,作者\_\_\_\_的叙事,使人有如临其境之感,好像也回到了童年读书时代,并从中受到了强烈的\_\_\_\_。  
A. 惟妙惟肖 震撼    B. 娓娓动听 感染    C. 活泼俏皮 触动    D. 精辟深刻 感动
18. ①穿越灾难,我们更加懂得,人类是自然之子,在大自然的怀抱中孕育、进化、生长,我们\_\_\_\_要认识自然,还要敬畏自然、善待自然。  
②网络使现代人的阅读行为发生了革命性的变化:眼睛常常在网上快速、便捷地“暴走”,\_\_\_\_才进行一次细嚼慢咽式的传统纸质阅读。  
A. 不光 有时    B. 不只 偶尔    C. 必须 偶然    D. 不仅 碰巧
19. 有道是“无欲则刚”,一个人只有\_\_\_\_私欲,一切从大局出发,才能得到人们的理解与尊重。这样一个拥有无私境界的人,他所说的话,能不让人\_\_\_\_吗?  
A. 抛弃 相信    B. 放弃 佩服    C. 摒弃 信服    D. 丢弃 信任
20. ①虽然他尽了最大的努力,还是没能\_\_\_\_住对方凌厉的攻势,痛失奖杯。  
③能源短缺,加上恶劣的自然条件,极大地\_\_\_\_着这个小镇经济的发展。  
③那些见利忘义的人,不仅为正人君子所\_\_\_\_,还可能滑向犯罪的深渊。  
A. 抵挡 限制 不耻    B. 遏止 束缚 不容    C. 阻止 约束 厌恶    D. 遏制 制约 不齿
21. ①虚心接受批评的人,不为眼前的一时之气所累,他们有着常人所不及的目光和气度,在生活中往往显得\_\_\_\_,拥有更高的威望。  
②在人际交往中,每个人的言谈举止所传递出的信息如同密码一样纷乱,需要我们用敏锐的目光去发现,用睿智的心智去破译,正所谓察言观色、\_\_\_\_。  
A. 卓尔不群 见微知著    B. 鹤立鸡群 鉴往知来  
C. 曲高和寡 见始知终    D. 独占鳌头 见仁见智
22. ①追求成熟,已经成为当今社会的一种\_\_\_\_;尤其是涉世不深的年轻人,更想以老到、\_\_\_\_的面孔引起别人对自己的注意和重视。  
②事物的发展一旦停滞 \_\_\_\_ 趋于保守,就将走向灭亡,\_\_\_\_为新生事物所取代。  
A. 时髦 深刻 或 而    B. 时尚 深刻 和 从而    C. 时尚 深沉 或 从而    D. 时髦 深沉 和 而
23. 文学如泉,越品越见\_\_\_\_;文学如茶,越品越觉\_\_\_\_;文学如酒,越品越感\_\_\_\_。在文学的陶冶下,你会发现自己少了一份浮躁,多了一份宁静;少了一份庸俗,多了一份雅致;少了一份世故,多了一份纯真。  
A. 清冽 芳香 醇美    B. 清香 醇厚 醇美    C. 醇厚 清冽 甘美    D. 清冽 幽香 醇厚
24. 现代社会,科学传播不可能起到\_\_\_\_的效果,如果谁这样想,谁就会\_\_\_\_科学,最终将会危害科学。  
A. 立竿见影 误解    B. 马到成功 误会    C. 一蹴而就 曲解    D. 立见成效 歪曲
25. ①建设文明单位,首先要\_\_\_\_文明单位的量化指标,再按指标对单位进行考评。  
②培养公民的法制观念是一个长期过程,\_\_\_\_从学生时代就进行法制教育\_\_\_\_起到潜移默化的



55. 下列哪个图有别于其他三个? ( )



二、定义判断。每道题先给出一个概念的定义,请你从列出的四个选项中选出一个最符合或最不符合该定义的答案。注意:假设这个定义是正确的,不容置疑的。

请开始答题:

56. 东施效颦:中国历史上“四大美女”之一的西施有心痛的毛病。犯病时手扶住胸口,皱着眉头,比平时更美丽。同村女孩东施学着西施的样子扶住胸口,皱着眉头,因其本来就长得丑,再加上刻意地模仿西施的动作,装腔作势的怪样子,让人更加厌恶。用下面哪个词来解释成语东施效颦最合适? ( )。
- A. 独辟蹊径      B. 标新立异      C. 盲目模仿      D. 照猫画虎
57. 心理防御机制是指个体面临挫折或冲突的紧张情境时,在其内部心理活动中具有的自觉或不自觉地解脱烦恼,减轻内心不安,以恢复心理平衡与稳定的一种适应性倾向。根据上述定义,下列不属于心理防御机制范畴的是:( )。
- A. 学生考试不及格时就说教师评分不公或试题太偏  
B. 运动员在遇到自己力所不及的困难训练时,产生头痛、手足麻木等症状  
C. 某职工产生对上级的不满情绪,在家中对亲人发泄出来  
D. 某人因身体发育有缺陷而努力学习,以卓越成绩赢得别人的尊重
58. 暴力文化是反映暴力行为发生过程、后果及暴力行为规范的文化,属亚文化范畴。暴力文化是暴力犯罪的诱因,对于正处于社会化过程中的青少年影响尤为深刻,必须采取一系列的针对性措施抵御和消除暴力文化的不良影响。根据上述定义,下列不属于暴力文化范畴的是:( )。
- A. 乱起绰号,推举“最差”等玩闹      B. 宣扬所谓“狼道”的书报  
C. 以“野蛮”为审美时尚的影视剧      D. 具有“血腥”的网络游戏
59. 劳动纠纷是指劳动者与用人单位之间因执行劳动法律、法规或履行劳动合同、集体合同发生的争执。根据上述定义,下列行为属于劳动纠纷的是:( )。
- A. 因为不满装修质量,房主与装修工人发生纠纷  
B. 两家生产同种产品的企业因为工资存在差别而发生纠纷  
C. 工人因反对不发放加班工资而与用人单位发生的争执  
D. 工人因不满经理的领导方式而与之发生争执
60. 快乐是人们主观感受到的愉悦的身心状态,也是一种由对存在世界认知与体验形成的幸福感、满

意状态带来的多个层次的体验过程。根据上述定义,下列不能称其为快乐的是:( )。

- A. 一个人从优质的食物、洁净的环境、宽敞的居所感受到的东西
  - B. 一个人对生活、社会、员工、收入、职业、社会和自然环境有最大的满足度
  - C. 一个人对健康、亲情、收入、职业、社会和自然环境有最大的满足度
  - D. 一个人从经济行为和活动中所获得的更多的福利
61. 地方性法规是指地方立法机关为贯彻执行宪法、法律、行政法规的规定所制定和颁布的规范性文件,它仅在其管辖的地区内具有效力。其前提是不违背宪法、法律、行政法规的规定。根据上述定义,下列属于地方性法规的是:( )。
- A. 甲村民委员会一致讨论通过的不得向河里乱扔垃圾的规定
  - B. 乙县政府办公室下达的关于饲养动物饲料配方的有关规定
  - C. 丙市政府颁布并从即日起实施的加强食品安全监管的十项措施
  - D. 丁省人大常委会发布的《丁省实施(中华人民共和国水法)办法》
62. 教育是培养人的活动。狭义的教育是指教育者根据一定的社会要求,有目的、有计划、有组织地对受教育者的身心施加影响,把他们培养成为社会所需要的人的活动。它可以分为学校教育、社会教育、家庭教育等类型。广义上讲,凡是增进人们的知识和技能、影响人们的思想品德的活动,都是教育。但是,教育有好差之分,培养人也有方向的区别。根据上述定义,下列不属于教育范畴的是:( )。
- A. 孩子们抢着看电视节目
  - B. 家长教孩子礼貌用语
  - C. 学校组织同学参观博物馆
  - D. 传销组织对新成员进行培训
63. 环境标准是指国家根据人体健康、生态平衡、社会经济发展对环境结构、状态的要求,在综合考虑本国自然环境特征、科技水平和经济条件的基础上,对环境要素间的配比、布局和各环境要素的组成及进行环保工作的某些技术要求加以限定的规范。根据上述定义,下列不属于环境标准的是:( )。
- A. 国家关于严禁使用大排气量轿车的规定
  - B. 国家关于评定卫生城市的标准细则
  - C. 有关部门严厉扫除“黄赌毒”的规定
  - D. 冶金设备烟尘排放量检测指标
64. 360 度考评也称 360 度反馈评价,是指对员工进行评价时由与被评价者有密切关系的人分别匿名对被评价者进行评价,包括被评价者对自己的评价。根据上述定义,下列哪些人不适合做 360 度考评的评价人?( )。
- A. 被评价者的上级
  - B. 被评价者的下属
  - C. 被评价者的客户
  - D. 被评价者的同行
65. 有价证券是指标有票面金额,证明持有人有权按期取得一定收入并可自由转让和买卖的所有权或债权凭证。有价证券是虚拟资本的一种形式,其本身没价值,但有价格。根据上述定义,下列不属于有价证券的是:( )。
- A. 印花税票
  - B. 银行定期存单
  - C. 承兑汇票
  - D. 增值税专用发票

三、类比推理。每题给出一组相关的词,请在四个选项中找到一组与之在逻辑关系上最为贴近、相似或匹配的词。

请开始答题:

66. 寥寥无几:屈指可数