

淘气
宝贝
小手描红

根据教育部最新颁布的
《幼儿园教育指导纲要（试行）》编写

主编 王锦党

学 前

学数学

xue shu xue

描红



浙江人民出版集团
浙江人民教育出版社
全国百佳图书出版单位

根据教育部最新颁布的
《幼儿园教育指导纲要（试行）》编写

淘气
宝贝
小手描红

学 前

学 数 学

xue

shu

xue

提高篇

时代出版传媒股份有限公司
安徽美术出版社
全国百佳图书出版单位

图书在版编目(CIP)数据

淘气宝贝小手描红. 学前学数学. 提高篇 / 王锦党
主编. —合肥: 安徽美术出版社, 2012. 8
ISBN 978-7-5398-3785-7

I. ①淘… II. ①王… III. ①数学课 — 学前教育 —
教学参考资料 IV. ①G613

中国版本图书馆 CIP 数据核字(2012)第 188687 号

学前学数学 · 提高篇 (Xueqian Xueshuxue · Tigaopian)

主 编: 王锦党

策划编辑: 张李松

责任编辑: 张艳新

责任校对: 司开江 林晓晓

出版发行: 时代出版传媒股份有限公司 安徽美术出版社

地 址: 合肥市政务文化新区翡翠路 1118 号出版传媒广场 14F

电 话: 0551-3533604(省内) 0551-3533607(省外)

邮政编码: 230071

网 址: <http://www.ahmscbs.com>

印 刷:

开 本: 787mm×1092mm 1/32

印 张: 2

版 次: 2012 年 10 月第 1 版

印 次: 2012 年 10 月第 1 次印刷

书 号: ISBN 978-7-5398-3785-7

定 价: 6.00 元

版权所有 翻印必究



淘气宝贝带你巩固 0—10 的练习

0

1

2

3

4

5

6

7

8

9

10

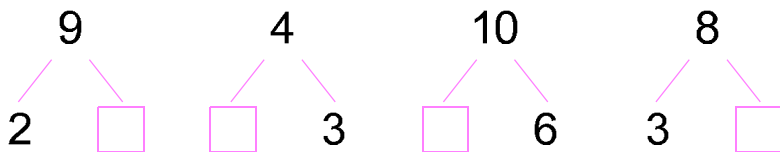
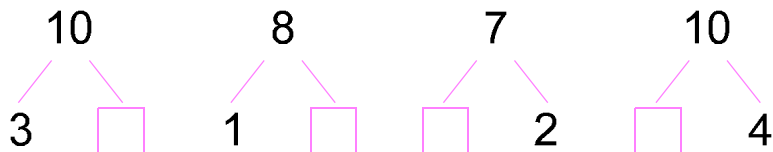
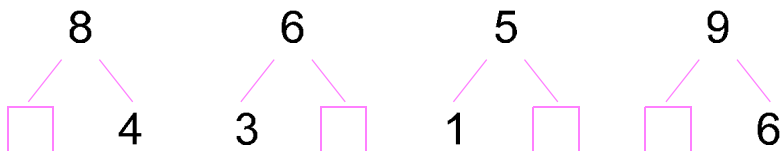
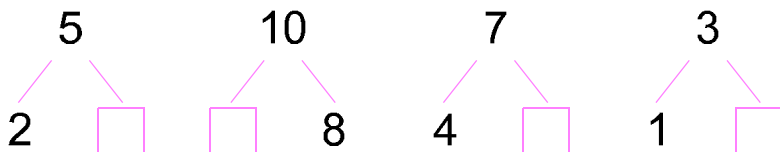
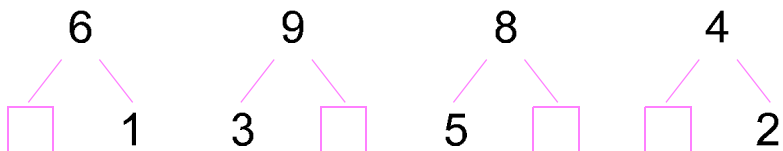
★ 年 月 日

真棒! 还不错! 加油哦!



分解填空

请在□内填写出正确的数字。



★ _____年____月____日

真棒! 还不错! 加油哦!



计算题

请小朋友写出正确的答案。

$7+3=$

$5+5=$

$4+6=$

$3+3=$

$10-5=$

$4+4=$

$8-6=$

$9-6=$

$10-8=$

$5+4=$

$2+7=$

$7-4=$

$3+6=$

$5-2=$

$9+1=$

$1+3=$

$8-4=$

$9-7=$

$3+4=$

$2+2=$

$8-7=$

$10-7=$

$8+2=$

$2+2=$

$5-4=$

$3+5=$

$7-7=$

$8-1=$

$10-2=$

$7-2=$



应用题

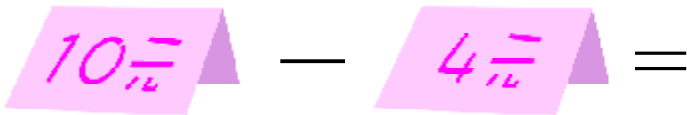
(1) 淘气宝贝得了 3 朵小红花, 老师又奖给他 2 朵小红花, 淘气宝贝一共得了几朵小红花?



$$\square \bigcirc \square = \square$$

淘气宝贝一共得了()朵小红花。

(2) 妈妈本来要带 10 元钱去买东西, 结果发现只带了 4 元钱, 妈妈少带了多少元钱?

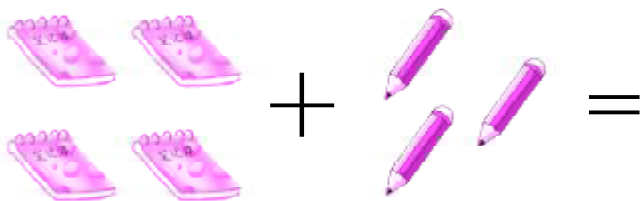


$$\square \bigcirc \square = \square$$

妈妈少带了()元钱。



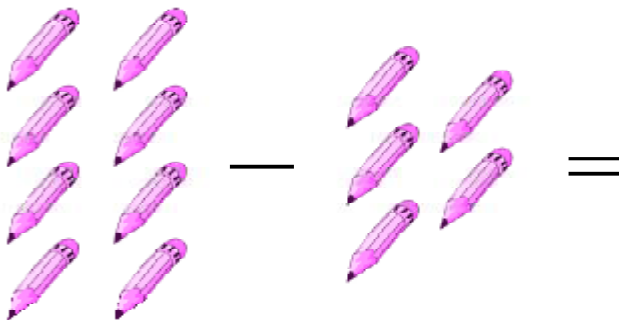
(3) 淘气宝贝买了4个本子和3支铅笔, 淘气宝贝一共买了多少件东西呢?



$$\square \bigcirc \square = \square$$

淘气宝贝一共买了()件东西。

(4) 小明有8支铅笔, 送给淘气宝贝5支后, 小明还剩几支铅笔?



$$\square \bigcirc \square = \square$$

小明还剩()支铅笔。



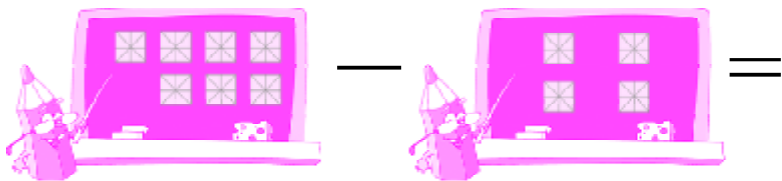
(5) 花园里有 2 朵玫瑰花、7 朵月季花, 花园里一共有多少朵花?



○ =

花园里一共有()朵花。

(6) 淘气宝贝上午学了 7 个字, 下午学了 4 个字, 淘气宝贝上午比下午多学几个字?

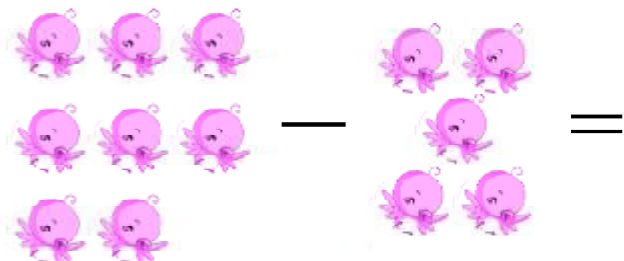


○ =

淘气宝贝上午比下午多学()个字。



(7) 树上有 8 只鸟, 后来飞走了 5 只鸟, 树上现在还有几只鸟?



$$\square - \square = \square$$

树上现在还有()只鸟。

(8) 有 3 只蜜蜂在花丛中采蜜, 后来又飞过来 6 只蜜蜂采蜜, 现在一共有多少只蜜蜂在采蜜?



$$\square + \square = \square$$

现在一共有()只蜜蜂在采蜜。



淘气宝贝带你学写 11—20

11

12

13

14

15

16

17

18

19

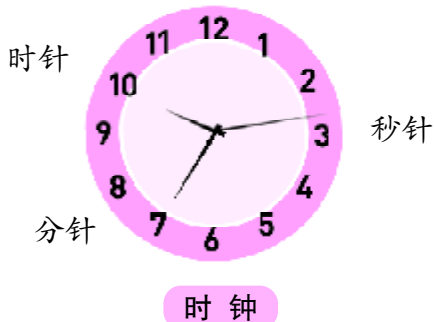
20

★ 年 月 日

真棒! 还不错! 加油哦!



淘淘宝贝教你看时钟



(一) 对时钟进行观察。

数一数上面的刻线，

钟面上有()根针。

最长的细针是秒针，较长的针是分针，最短的是时针。

秒针从1走到2，表

示时间过了5秒钟；秒针走一圈表示时间过了1分钟。

分针从1走到2，表示时间过了5分钟；分针走1圈，时间就过了1小时。

时针从1走到2，表示时间过了1个小时，也就是过了60分钟。

(二) 写出下列时钟分别表示什么时间。



()点()分



()点()分



()点()分



()点()分



()点()分



()点()分



()点()分

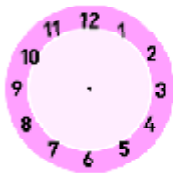


()点()分

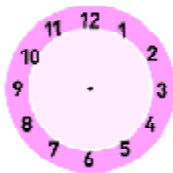


()点()分

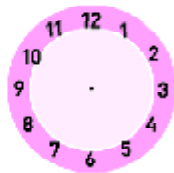
(三) 画时钟。



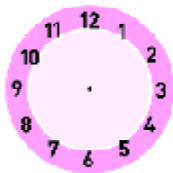
5点



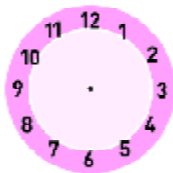
7点



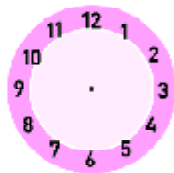
6点半



10点



3点



8点

★ _____年____月____日

真棒! 还不错! 加油哦!



淘淘宝贝带你学习大于号、小于号和等号

当两个数比较大小时,我们就要用大于号“ $>$ ”和小于号“ $<$ ”了。例如当2和3进行比较的时候,3比较大,我们就表示为 $3 > 2$ 或 $2 < 3$ 。

请记住,开口向后是小于号“ $<$ ”,开口向前是大于号“ $>$ ”。当两边的数字或结果相等时,用“ $=$ ”。

练习使用“ $<$ ”“ $>$ ”。

$5 \bigcirc 6$

$4 \bigcirc 6$

$9 \bigcirc 7$

$9 \bigcirc 8$

$1 \bigcirc 3$

$7 \bigcirc 4$

$3 \bigcirc 2$

$6 \bigcirc 10$

$8 \bigcirc 5$

$2+3 \bigcirc 1+7$

$4+3 \bigcirc 6+7$

$6+3 \bigcirc 4+2$

$5+2 \bigcirc 3+1$

$1+4 \bigcirc 3+3$

$10+4 \bigcirc 12+3$

$5+3 \bigcirc 8+1$

$11+3 \bigcirc 12+5$

$7+1 \bigcirc 5+6$

$15+13 \bigcirc 8+5$



淘气宝贝带你学写 21—30

21

22

23

24

25

26

27

28

29

30

★ 年 月 日

真棒! 还不错! 加油哦!



淘气宝贝带你学习进位加法

什么是进位加法?

进位加法是数学运算的一种,加法的一种。当两数相加时,某一位的结果大于等于10,则需要向上一位进1,这就是进位。

如: $12 + 9 = 21$

用竖式表示为

$$\begin{array}{r} 12 \\ + 9 \\ \hline 21 \end{array}$$

2+9 大于10,则向上一位(十位)进1。

而十位上的数只有1,进1后,则是 $1+1=2$,即 $12+9=21$ 。

练练看。

$$\begin{array}{r} 13 \\ + 8 \\ \hline \square \square \end{array}$$

$$\begin{array}{r} 18 \\ + 4 \\ \hline \square \square \end{array}$$

$$\begin{array}{r} 16 \\ + 5 \\ \hline \square \square \end{array}$$

$$\begin{array}{r} 17 \\ + 4 \\ \hline \square \square \end{array}$$

$$\begin{array}{r} 12 \\ + 13 \\ \hline \square \square \end{array}$$

$$\begin{array}{r} 19 \\ + 5 \\ \hline \square \square \end{array}$$



淘气宝贝带你学习退位减法

什么是退位减法?

退位减法也叫借位减法,是当两个数相减,被减数的个位不够减时,往前一位借位,相当于给这位数加上10,再进行计算。

如: $12 - 9 = 3$

用竖式表示为

$$\begin{array}{r} 12 \\ - 9 \\ \hline 3 \end{array}$$

2-9 小于0,这时,2就需要向前一位(十位)借位,变成12,此时 $12-9=3$ 。而此时十位只有1,当借位后变成 $1-1=0$,即 $12-9=3$ 。

练练看。

$$\begin{array}{r} 15 \\ - 8 \\ \hline \square \\ \square \end{array}$$

$$\begin{array}{r} 21 \\ - 13 \\ \hline \square \square \end{array}$$

$$\begin{array}{r} 24 \\ - 15 \\ \hline \square \square \end{array}$$

$$\begin{array}{r} 23 \\ - 14 \\ \hline \square \\ \square \end{array}$$

$$\begin{array}{r} 18 \\ - 9 \\ \hline \square \square \end{array}$$

$$\begin{array}{r} 25 \\ - 17 \\ \hline \square \square \end{array}$$

★ 年 月 日

真棒! 还不错! 加油哦!