


第一单元 综合测试(一)

年级_____ 班别_____ 姓名_____ 成绩_____



小试身手

1. 量一量,填一填。




() 厘米 () 毫米




() 厘米 () 毫米

2. 在()里填入合适的长度单位。



地毯长 40()

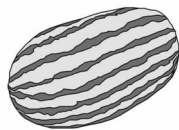


大厦高 64()

3. 在()里填入适当的质量单位。



重 3000()



重 10()



载重 20()


4. 填空。

2 千米 = () 米

30 毫米 = () 厘米

4 吨 = () 千克


500 千克 + 1500 千克 = () 吨



5 毫米 + 25 毫米 = () 厘米

5. 算一算。

(1)



() 筐苹果重 10 吨。

100 千克

(2)



() 只老虎重 2 吨。

400 千克

(3)



() 本书的长度是 1 米。

长 200 毫米

(4)



() 把尺子的长度是 1 米。

长 20 厘米



能力冲浪

6. 在○里填入“>”、“<”或“=”。

26 千克 ○ 26 克

5 吨 ○ 5000 千克

700 千克 ○ 7 吨


20 分米 ○ 25 毫米

65 毫米 ○ 7 厘米

1 米 ○ 100 厘米

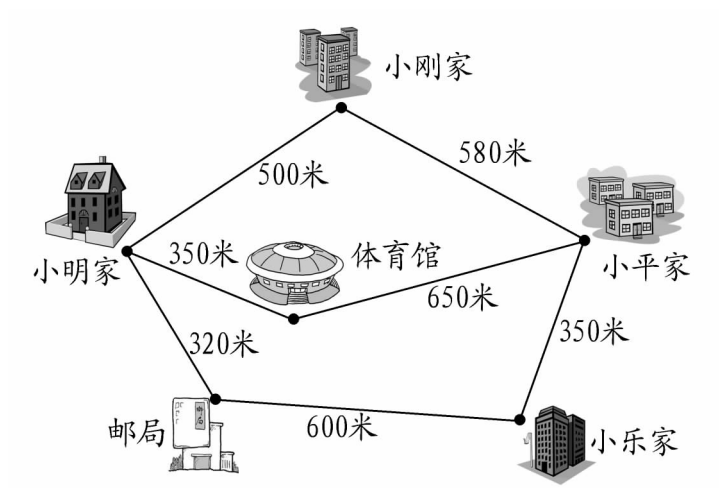
7. 画一画。

(1) 用尺子画一条长 25 毫米的线段。



(2) 用尺子画一条长 3 厘米的线段。

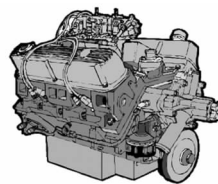
8. 看图回答问题。






(1) 小明家到谁家的最短路程恰好有 1 千米？

(2) 小明家到小乐家一共有几条路线？最短路程是多少米？

9.



(1) 每只  重 100 千克, 每台  重 600 千克, 这些物品一共重多少吨？



(2) 一台  比 1 只  重多少千克？

10. 估一估,连一连。



2吨

200克

20克

1千克

11. 运水果。



要运几次
才能运完？



共400吨

限载5吨



智力先锋

12. 水果店有苹果和梨共 30 千克,卖出一半苹果后,剩下的苹果和梨一样重,原有苹果和梨各多少千克？



第一单元 综合测试(二)

年级_____ 班别_____ 姓名_____ 成绩_____



开心数学

1. 在()里填入合适的单位名称。

(1)



重150()



重5()



载重5()



体重40()



长20()



长约6000()



长10()



身高1()

(2) 5() < 5() < 5()

2. 在○里填入“>”、“<”或“=”。

30吨○2900千克 300米○1千米 50千米○5米

2010克○2千克 99厘米○1米 6毫米○1厘米-4毫米


36分米+5分米○9米 4分米5厘米○40厘米

3. 判断,对的画“√”,错的画“×”。

(1) 3000米比3千米要长。 ()

(2) 妹妹的身高是130毫米。 ()

(3) 一头牛重500千克,两头牛重1吨。 ()



(4) 明明骑车每小时行 18 千米。 ()

(5) 回形针长 34 厘米。 ()

4. 想一想,回答下面的问题。

(1) 1 千克的铁和 1 千克的棉花相比,哪个更重一些?


(2) 10 吨泥土和 1000 千克泥土相比,哪个更轻一些?

(3) 70 毫米和多少厘米同样长?

(4) 把一根 9 米长的木头锯成同样长短的 3 根木头,每根的长度是多少?需要锯几次?



5. 小明家到学校有 5 千米,他已经骑自行车走了 2000 米,还要走多少米?



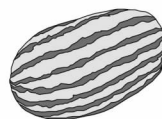
6. 下面哪种水果最贵？



2千克售价8元






4千克售价20元



1千克售价3元

7. 称一称,在()里填入合适的数。




 = () 个 



动脑筋


8. 用一个杯子向空瓶内倒水,如果倒 3 杯水,则连瓶带水重 300 克;如果倒 6 杯水,则连瓶带水重 540 克,你知道瓶子有多重吗?



9. 果园有 15 吨苹果要运往水果市场,租载重 4 吨的货车,运费是每辆 500 元,租载重 1 吨的货车,运费是每辆 150 元,你能帮果园的叔叔设计一个合算的租车方案吗?



10. 小明的生日到了,爸爸妈妈给他买了一个周长 160 厘米的大蛋糕,若沿着蛋糕的边缘每隔 4 厘米插 1 根小蜡烛,一共需要多少根蜡烛?



第二单元 综合测试(一)

年级_____ 班别_____ 姓名_____ 成绩_____



小试身手

1. 看谁算得又对又快。

$$53+72= \quad 65+30= \quad 98-48= \quad 28+36=$$

$$38-19= \quad 43-20= \quad 53-17= \quad 46-26=$$

2. 在○里填入“>”、“<”或“=”。

$$50+15 \bigcirc 50-15 \quad 75-20 \bigcirc 75-30 \quad 72-27 \bigcirc 72+27$$

$$43-21 \bigcirc 53+21 \quad 26-13 \bigcirc 30-13 \quad 36+63 \bigcirc 63-36$$

3. 填表。

加数	375	600	289	
加数	150	142	334	625
和				800

被减数	700	338	925	
减数	250	276	818	405
差				739


4. 你能用 163、252、415、659、1074 五个数中的四个数组成四个算式吗？试一试吧。

$$\square + \square = \square$$

$$\square + \square = \square$$

$$\square - \square = \square$$

$$\square - \square = \square$$



5. 下面哪两个数相加得 1000? 用线连一连。

922

78

434

749

566

251

208

792



能力冲浪

6. 列式计算。

(1) 432 比 600 少多少?

(2) 一个加数是 132, 另一个加数是 796, 和是多少?


(3) 比 500 多 160 的数是多少?

(4) 761 减去 232, 差是多少?

7. 用竖式计算, 并验算。

$$278 + 368 =$$

$$712 - 383 =$$



$735 - 348 =$

$842 + 295 =$

8. 兴宜百货商场的家电正在进行促销,请你算一下,它们分别比原来便宜了多少元。

(1)



原价:392 元

现价:347 元

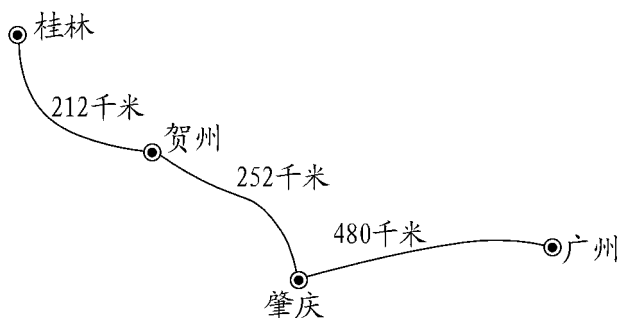
(2)



原价:820 元

现价:697 元

9. “桂林山水甲天下”——桂林是著名的旅游城市,从广州到桂林的旅游路线如下图所示。



(1) 从广州到桂林共有多少千米?

(2) 小明一家驾车从广州出发前往桂林,计划每天行驶 400 千米,两天内他们能到达桂林吗?

10. 植树。

每年的三月十二日是“植树节”。今年的“植树节”,中华小学三年级全体同学植树的数量如下表所示:

班别	三(1)班	三(2)班	三(3)班	三(4)班	三(5)班
数量	178	169	256	241	209



哪个班种的树最多?哪个班种的树最少?他们相差多少棵?



智力先锋

11. 动脑筋,算一算。

$$\begin{array}{r}
 (1) \quad \triangle \quad \bigcirc \\
 - \quad \bigcirc \quad \triangle \\
 \hline
 \triangle
 \end{array}
 \quad
 \begin{array}{l}
 \triangle = (\quad) \\
 \bigcirc = (\quad)
 \end{array}$$

$$\begin{array}{r}
 (2) \quad \quad \quad 4 \quad \triangle \\
 + \quad \triangle \quad 5 \quad 2 \\
 \hline
 \bigcirc \quad \square \quad \square \quad \bigcirc
 \end{array}
 \quad
 \begin{array}{l}
 \triangle = (\quad) \\
 \square = (\quad) \\
 \bigcirc = (\quad)
 \end{array}$$

第二单元 综合测试(二)

年级_____ 班别_____ 姓名_____ 成绩_____



开心数学

1. 口算。

$63 + 30 =$

$200 - 200 =$

$38 + 20 =$

$67 - 6 =$

$50 + 70 =$

$100 - 28 =$

$62 + 18 =$

$130 + 90 =$

$40 + 120 =$

2. 填一填。

	总人数	男生	女生
中华小学	928 人	649 人	() 人
兴宁小学	() 人	564 人	458 人
育才小学	805 人	() 人	377 人

3. 判断,对的画“√”,错的画“×”。

(1) $375 + 486 = 759$ ()

(2) $300 - 233 = 67$ ()

(3) $205 - 67 = 146$ ()

(4) $245 + 488 = 733$ ()

4. 列式计算。

(1) 被减数是 800,减数是 348,差是多少?

(2) 一个加数是 365, 另一个加数是 457, 和是多少?

(3) 比 203 多 279 的数是多少?



智慧乐园

5. 趣味算式。

$$\begin{array}{r}
 \square \square 2 \\
 + \quad \quad 4 \square \\
 \hline
 \square \square \square 1
 \end{array}$$

$$\begin{array}{r}
 \square 4 \square \\
 - \square \square 6 \\
 \hline
 6 5 8
 \end{array}$$

(3) 每个汉字代表一个数字, 你能把它们译出来吗?

$$\begin{array}{r}
 \text{去 桂 林} \quad \square \square \square \\
 - \text{桂 林 去} \quad \text{译出: } - \square \square \square \\
 \hline
 \text{去 桂} \quad \square \square
 \end{array}$$

6. 果园里的树。

果园里有梨树 700 棵, 桃树比梨树少 120 棵, 苹果树比桃树多 78 棵, 那么苹果树有多少棵?



梨树有 700 棵



桃树比梨树少 120 棵

7. 停车场一共有 342 辆汽车,其中大客车有 49 辆,小汽车有 136 辆,其余的都是货车,货车有多少辆?



8. 新民小学共有图书 845 本,其中故事书有 386 本,科技书比故事书少 93 本,其余都是连环画。

(1) 科技书有多少本?



(2) 连环画有多少本?



动脑筋

9. 明明在做一道加减法题时看错了题,将被减数个位上的 8 当作了 3,减数十位上的 2 当成了 5,这样算出的差是 305,那么正确的得数应是几?



10. 看图,你能提出并解答哪些数学问题?



松树有150棵。

柳树比松树多132棵。





第三单元 综合测试

年级_____ 班别_____ 姓名_____ 成绩_____



小试身手

1. 判断,对的画“√”,错的画“×”。

- (1) 封闭图形一周的长度就是它的周长。 ()
- (2) 平行四边形容易变形。 ()
- (3) 长方形的周长比正方形的周长要长。 ()
- (4) 有 4 个角的图形一定是四边形。 ()
- (5) 如果用一根绳子围成一个最大的正方形,再用它围成一个最大的长方形,围成的正方形和长方形的周长相等。 ()

2. 选一选,将正确答案的序号填在()里。

- (1) 两个完全一样的正方形,只能拼成一个()。
① 平行四边形 ② 长方形 ③ 正方形
- (2) 用 3 个边长是 2 厘米的正方形拼成一个长方形,这个长方形的周长是()。
① 24 厘米 ② 16 厘米 ③ 36 厘米
- (3) 比较下面两幅图的周长,发现()。

