

书 名 新课标一点通·地理(七年级上册)
编 者 本书编委会
出版发行 青岛出版社
社 址 青岛市徐州路 77 号(266071)
本社网址 <http://www.qdpub.com>
邮购电话 13335059110 (0532)85814750(兼传真) 85814611—8664
策划编辑 孟宪伟
责任编辑 刘耀辉 万延贵 E-mail:bolanggupku@163.com
责任校对 王凤波
封面设计 乔 峰
照 排 青岛正方文化传播有限公司
印 刷
出版日期 2006 年 8 月第 1 版 2006 年 8 月第 1 次印刷
开 本 16 开(787mm×1092mm)
印 张 9
字 数 135 千
书 号 ISBN 7 - 5436 - 3796 - 0
定 价 10.80 元
盗版举报电话 (0532) 85814926
青岛版图书售出后如发现印装质量问题,请寄回承印厂调换。

目 录

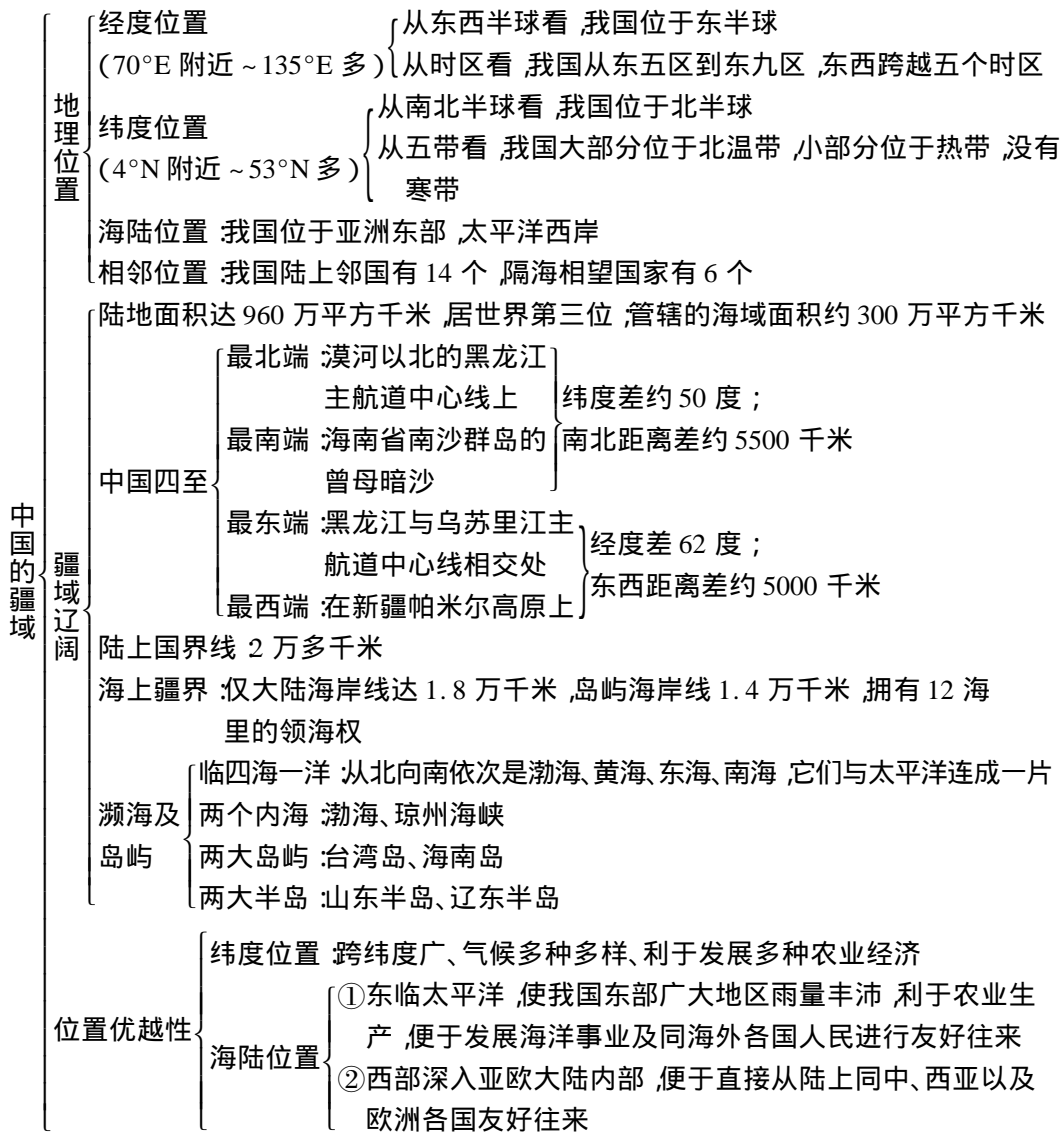
第一章 从世界看中国	[1]
第一章达标测试题	[19]
第二章 中国的自然环境	[22]
第二章达标测试题	[47]
期中综合检测题(一)	[50]
期中综合检测题(二)	[55]
第三章 中国的自然资源	[60]
第三章达标测试题	[86]
第四章 中国的经济发展	[91]
第四章达标测试题	[112]
期末综合检测题(一)	[117]
期末综合检测题(二)	[123]
期末综合检测题(三)	[128]
参考答案	[133]

第一章

从世界看中国



一、单元结构





中国行政区划

- 三级行政区划
 - 省:共有 34 个省级行政单位,包括 23 个省、5 个自治区、4 个直辖市、2 个特别行政区。
 - 县(自治州、自治县、市) 2000 多个
 - 乡(民族乡、镇) 数万个
- 各省级行政单位名称、简称、行政中心

中国的人口

- 人口大国
 - 人口总数:根据我国第五次人口普查,我国总人口数为 12.95 亿
 - 比例:我国人口占世界总人口 1/5 以上
 - 超过 5000 万人的省达 9 个,人口密度是世界的 3 倍多
- 人口分布不均
 - 东多西少
 - 东南部人口稠密,面积占全国 43%,人口却占 94%
 - 西北部人口稀疏,面积占全国 57%,人口只占 6%
 - 人口地理界线:黑龙江黑河市至云南省腾冲县
- 人口增长过快
 - 三个历史时期
 - 建国前:十分缓慢
 - 建国后:直线上升
 - 计划生育后:仍然很快
 - 最突出特点:人口基数大,人口增长快
 - 带来的问题:许多资源、环境、社会生活问题
- 人口政策
 - 基本国策:实行计划生育
 - 基本内容:控制人口数量,提高人口素质
 - 基本要求:晚婚、晚育、少生、优生

中国的民族

- 56 个民族组成大家庭
 - 汉族人口占全国总人口的 92% 多
 - 55 个少数民族,人口约占全国 8%
- 分布特点
 - 各民族大杂居、小聚居
 - 汉族遍及全国,主要集中在我国东部和中部
 - 少数民族主要分布在西南、西北、东北等边疆地区
- 民族政策:各民族无论大小,一律平等
- 自治区:西藏自治区、宁夏回族自治区、广西壮族自治区、内蒙古自治区、新疆维吾尔自治区
- 宗教信仰:回族、维吾尔族信仰伊斯兰教,蒙古族、藏族信仰喇嘛教(佛教的一个分支)等
- 风俗习惯:维吾尔族的手鼓舞、藏族的集体舞、朝鲜族的跳板、蒙古族的摔跤、傣族的泼水节等

二、图表指要

第一节 辽阔的疆域

1. 读“图 1.1 中国在地球上的位置示意”应掌握的知识点：

(1)两个紫色圆圈：一个是赤道，说明中国位于北半球；一个是东西半球分界线(20°W、160°E)，说明中国位于东半球。

(2)找出 30°N 和 60°N 纬线圈，说明中国大部分地区位于中纬度、北温带。

(3)找出亚欧大陆、太平洋，记住中国的海陆位置：亚欧大陆东部，太平洋的西岸。

2. 读“图 1.4 中国疆域示意”应掌握的知识点：

(1)我国濒临的海洋，从北向南依次是：渤海、黄海、东海和南海。主要的岛屿、海峡、半岛：台湾岛、海南岛、钓鱼岛、南沙群岛、舟山群岛，台湾海峡、琼州海峡，山东半岛、辽东半岛。

(2)量算出我国领土南北端距离约为 5500 千米，东西端距离约为 5000 千米。

(3)记住我国领土的四至及纬度或经度。

最北端——在黑龙江省漠河以北的黑龙江主航道的中心线上(53°N 多)。

最南端——在南海南沙群岛中的曾母暗沙(4°N 附近)。

最东端——在黑龙江与乌苏里江主航道中心线的相交处(135°E)。

最西端——在新疆帕米尔高原上(73°E 附近)。

(4)按逆时针方向沿着漫长的陆疆与宽阔的海域找出 14 个陆上邻国：朝鲜、俄罗斯、蒙古、哈萨克斯坦、吉尔吉斯斯坦、塔吉克斯坦、阿富汗、巴基斯坦、印度、尼泊尔、不丹、缅甸、老挝、越南；隔海相望的海上邻国自北向南：韩国、日本、菲律宾、马来西亚、文莱、印度尼西亚。

3. 读“图 1.7 中国政区图”应掌握的知识点：

(1)准确地记住我国 34 个省级行政单位的位置、轮廓。

(2)记住我国陆地相邻的 14 个国家、隔海相望的 6 个国家。

(3)我们所在的山东省毗邻的省区：河北省、河南省、安徽省、江苏省。另：山东省、辽宁省共同毗邻渤海、黄海。

(4)北回归线穿过的四个省区及简称：台湾(台)、广东(粤)、广西(桂)、云南(滇)。

(5)我国省区之最。

跨经度最广的省区：内蒙古自治区；

跨纬度最广的省区：海南省；

面积最大的省区：新疆维吾尔自治区；

人口最多的省区：河南省；

人口最多的直辖市：重庆市；

地处纬度最高的省区：黑龙江省；

纬度最低的省区：海南省；

人口最少的省区：澳门特别行政区；

大陆海岸线最长的省区：广东省；

沿海岛屿最多的省区：浙江省；

全部地处热带的省区：海南省；

邻国最多的省区：新疆维吾尔自治区。

(6)沿海省级行政单位：辽宁省、河北省、天津市、山东省、江苏省、上海市、浙江省、福建省、广东省、广西壮族自治区、海南省、台湾省、香港特别行政区、澳门特别行政区。

(7)西部地区 10 个省市自治区：陕西省、甘肃省、宁夏回族自治区、青海省、新疆维吾尔自治区、西藏自治区、四川省、贵州省、云南省、重庆市。

第二节 众多的人口

1. 读“图 1.9 我国人口的增长”应掌握的知识点：

(1)分析出我国在 1578 年后和 1949 年后的两个人口增长高峰，特别是 1949 年后的人口增长过快的特点。

(2)1600 年以前，我国人口增长缓慢的原因是：经济落后，战争频繁，疫病多，医疗技术水平低，死亡率高。





(3)1949年后我国人口增长快的主要原因是:经济文化发展,医疗卫生条件改善,人民生活水平提高,死亡率下降,平均寿命延长,同时人口出生率长期保持较高水平。

2.读“图1.11 我国人口密度图”应掌握的知识:

(1)我国人口分布特点:人口分布很不均匀,东部人口多,西部人口少。

(2)学会人口密度的计算:人口密度一般是指平均每平方千米的人口数(人/平方千米)。

(3)从自然条件和人文条件两方面分析东、西部地区人口分布不均的原因:东部耕地多,气候好,生产粮食多,能够养活的人口多,人口密度大;工商业、交通运输业发达,城镇多,城镇人口集中。

西部多为沙漠、草地、山地,耕地少,人口密度小;工商业、交通运输业不发达,城镇少,城镇人口也少。

第三节 多民族的大家庭

1.读“图1.14 多民族的大家庭”应掌握的知识:

(1)这幅图展现的是:在国庆期间,我国56个民族的代表各自身穿本族的民族服装,欢聚在首都北京天安门广场,为祖国的繁荣富强而欢呼的景象。

(2)这幅图形象地告诉我们:中华民族是一个和睦的、统一的多民族大家庭。

(3)从图中还应看出各民族在风俗习惯、文化艺术等许多方面具有各自不同的特点。

2.读“图1.17 我国民族的分布”应掌握的知识:

(1)汉族的分布遍及全国各地,东部和中部最为集中。

(2)少数民族主要分布在西南、西北和东北地区。

(3)各民族分布的特点是大杂居、小聚居。

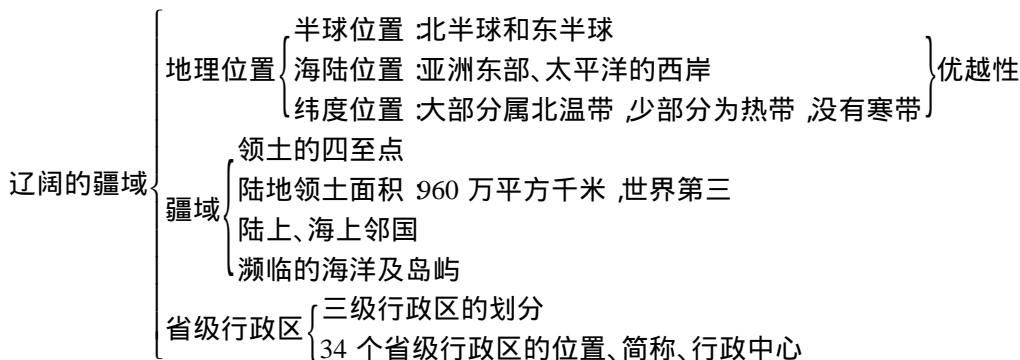
(4)我国少数民族最多的省区是云南省。

(5)我国没有一个县或者市的居民是单一民族的。

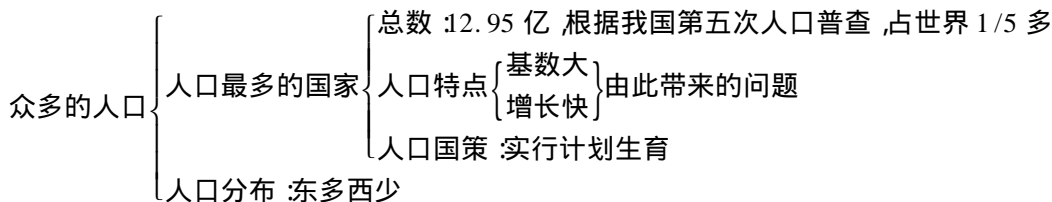


知识要点归纳

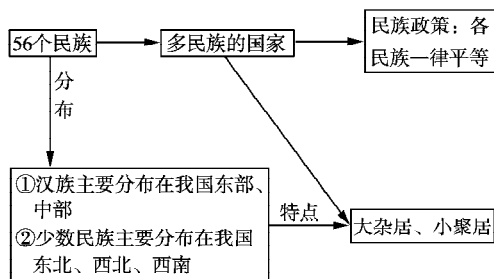
第一节 辽阔的疆域



第二节 众多的人口



第三节 多民族的大家庭



重点难点剖析

重点	1. 我国地理位置及优越性 2. 中国的疆域 3. 中国三级行政区: 省(自治区、直辖市、特别行政区)、县(自治县、市)、乡(镇)三级 4. 我国人口分布特点及其成因
难点	1. 我国 34 个省级行政区全称、简称、行政中心、位置轮廓 2. 我国人口增长及带来的人口问题



学习方法建议

1. 我国地理位置的优越性

读“中国政区图”, 认识我国的地理位置, 学会分析提取有关区域纬度位置、经度位置、海陆位置、半球位置等信息的读图析图能力。

我国的纬度位置: 位于 $4^{\circ}\text{N} \sim 53^{\circ}\text{N}$ 之间, 大部分处于北温带, 南部一小部分处在热带; 经度位置: 位于 $73^{\circ}\text{E} \sim 135^{\circ}\text{E}$ 之间, 东西跨经度 60 多度; 半球位置: 位于东半球和北半球; 海陆位置: 位于亚洲东部、太平洋西岸。

其中, 纬度位置和海陆位置对我国的地理环境和经济产生影响最大, 应重点掌握。

2. 我国人口分布特点及原因

我国人口分布不均, 东部地区人口稠密, 西部地区人口稀疏。因为东部地区耕地多、气候好, 生产粮食多, 能够养活的人口多, 人口密度大; 工商业、交通运输业发达, 城镇多, 城镇人口集中。西部多沙漠、草原、山地等, 耕地少, 人口密度少; 工商业、交通运输业不发达, 城镇少, 城镇人口也少。

3. 注意读图顺序, 提高读图能力

“中国的疆域”是中国地理的开篇。学习中国地理, 首先要了解中国在上世界上所处的位置, 以及中国的疆域情况。因此, 本节课从宏观角度讲述我国的疆域、面临的海洋和主要邻国等内容, 其核心是“地大”两个字。

地大

- 总面积大(陆地面积 960 万平方千米)
- 东西宽(最东端、最西端、所跨经度、所跨时区)
- 南北长(最南端、最北端、所跨纬度、纬度带)
- 边界长
 - 陆上疆界长(长度、15 个邻国)
 - 海岸线长(长度、海域、隔海相望的国家)

学习中国疆域应对照中国政区图, 找出我国领土的四端, 按照一定的顺序找出濒临的海洋和主要邻国。要注意读图的顺序, 这是记忆许多地理事物的前提, 如我国濒临的海洋可以按照从北到南或从南到北的顺序, 而主要邻国可以从某一个方位开始按照顺



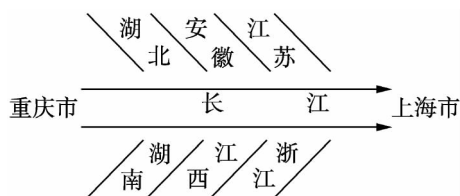


时针或逆时针的顺序依次找出。

4. 抓住规律记忆地理事物

记忆我国 34 个省级行政单位的名称、简称和行政中心是本章的重点和难点。

(1)找特征。查阅中国政区图,你会发现不少省区名称具有对称性特点,如河南、河北、山西、山东、湖南、湖北、广东、广西等。以长江为线,其中下游流经省市也具有对称特征:上海与重庆两直辖市东西对称,其他六省南北对称,如图:



(2)用线串。在阅读地图的时候,可用“线”(如河流、交通线、海岸线、边界线等)将各省、市、区串联起来以加强记忆,如长江、黄河流经的省区有哪些,北回归线自西向东依次穿过哪些省区,沿海岸线自北向南依次经过哪些省区(从辽宁或广西开始,分别按逆时针和顺时针的方向)。

(3)编歌谣。

中国省级行政区歌诀

两广两湖两河山,五江二宁青陕甘,
云贵西四北上天,海内重台福吉安,
香港澳门喜回归,祖国一片好河山。

注:五江指江苏、江西、浙江、黑龙江、新疆(“疆”是“江”字的谐音);二宁指宁夏、辽宁,其余大部分用省级行政区名称的首字。

我国省级行政区三字经

京津沪 黑吉辽 内蒙古 晋陕甘
青新宁 冀鲁豫 苏浙皖 湘鄂赣
川黔滇 桂粤闽 藏琼渝 台港澳
我祖国 好河山

(4)想轮廓。仔细观察中国政区图,你会发现各省区的轮廓与生活中的一些实物很相似,如山西和江苏像平行四边形,台湾

状似纺锤,云南像孔雀开屏,黑龙江似展翅欲飞的天鹅,青海省像一只奔跑的兔子,山东像一头骆驼的头和身,陕西则像一个屈腿而跪的兵马俑等。

5. 学会运用比较法和分析法

学习中国的人口时,运用比较法和分析法会加深理解,强化记忆。

(1)比较法。我国与其他国家面积和人口的比较,东西部人口密度的比较等。

(2)分析法。

例1:我国人口分布不均,能否采取人口迁移的办法使人口分布均匀?(不能,因为人口的分布与自然条件和经济发展关系密切,东部耕地多、气候好,生产的粮食多,能够养活的人口多,人口密度大,工商业、交通运输业发达,城镇多,人口集中。而西部自然条件恶劣,经济落后,能够养活的人也少。所以,不能将东部人口大量迁移过去。但我们可以通过改善西部条件、发展西部经济来吸引东部人口的迁移。)

例2:常言道:“人多力量大。”那么我国为什么要实行计划生育呢?(因为人既是生产者也是消费者。人口越多,需要耗用的产品、资源和占用的空间越多。如果人口的增长速度超过物质资料增长的速度,我们的生活水平不但得不到提高,反而会降低,生态环境也会恶化,进而给我们的子孙后代造成困难。)


6. 猜谜语。

谜语可以加深对地理知识的理解和认识,激发学习兴趣。

(1)行政中心谜语

银河渡口(天津)
圆规画圆(太原)
四季花开(长春)
船出长江口(上海)
俩胖子(合肥)
千里戈壁(长沙)

夸夸其谈(海口)
 久雨初晴(贵阳)
 萤火虫 亮晶晶(昆明)
 急来抱佛脚(拉萨)
 欧洲无战争(西宁)
 双喜临门(重庆)
 (2)省级行政单位名称谜语
 碧波万顷(青海)
 宝地(贵州)
 才开垦的土地(新疆)
 弯弯曲曲的河流(浙江)
 里面藏着文物(内蒙古)



人民币上的地理知识

中国是一个多民族的国家,人民币作为国家法定货币,与各族人民的生活息息相关。人民币上使用各民族的头像和少数民族的文字,对于促进民族团结、方便少数民族地区人民生活、促进少数民族地区经济的发展起到了重要作用。下面以1980年第四套人民币为例,介绍人民币上的少数民族和主要风景名胜。

壹角 正面是高山族和满族男子头像,币背为国徽。高山族主要分布在台湾省和福建省,人口只有三千多人。满族是我国目前第二个人口突破1000万的少数民族,主要分布在辽宁、黑龙江、吉林、河北、北京等省市。

贰角 正面是布依族和朝鲜族妇女头像,币背为国徽。布依族主要分布在贵州省,大约有250多万人口,朝鲜族主要分布在我国东北的吉林、黑龙江和辽宁等省,人口200万左右。

伍角 正面是苗族和壮族妇女头像,币背为国徽。苗族是我国人口比较多的少数

民族,共有近800万人,主要分布在贵州、云南、湖南、广西和四川等省区。壮族是我国人口最多的少数民族,有1600多万人,主要分布在广西和云南等省区。

壹圆 正面是侗族和瑶族妇女头像。侗族人口也有250多万,主要聚居在贵州、湖南和广西等省区。瑶族主要分布的省区是广西和湖南,人口有220多万。币背图案是万里长城。长城是中华民族的象征,它似一条巨龙,盘旋于起伏延绵的群山峻岭之巅,气势磅礴,雄伟壮观。

贰圆 正面是维吾尔族和彝族妇女头像。维吾尔族主要聚居在新疆维吾尔自治区,另外湖南省也有少量的分布,维吾尔族总人口接近800万,他们大多信仰伊斯兰教。彝族的总人口超过了700万,他们主要分布在四川省和云南省。币背面是海南的“南天一柱”景观。“南天一柱”位于海南省最南端的三亚市海边,面朝大海,背靠山岩,是著名的旅游胜地。

伍圆 正面是藏族和回族男子的头像。藏族群众大多信仰藏传佛教(又称喇嘛教),讲藏语,从事高原畜牧业。藏族总人口在550万左右。回族是我国分布最广的少数民族,主要分布在宁夏、甘肃、河南、新疆、青海、云南、河北、辽宁、北京、内蒙古、天津、山东和陕西等省区市,人口超过900多万,群众大多信仰伊斯兰教。币背图案是壮观的“长江巫峡”。巫峡全长45千米,从重庆巫山县的大宁河口,到湖北巴东县官渡口。船行其间,两岸青山连绵,群峰如屏。时而大山挡前,时而峰回路转,著名的巫峡十二峰中最美的为神女峰,亭亭玉立,令人神往。

拾圆 正面是汉族和蒙古族男子头像。汉族是我国人口最多的民族,人口占全国总人口的92%,汉族的分布遍及全国,主要集中在东部和中部。蒙古族的人口在500万以上,主要分布在内蒙古、辽宁、新疆、吉林、黑龙江和青海等省区;蒙古族的传统节日是





那达慕大会。币背为珠穆朗玛峰图。珠穆朗玛峰位于喜马拉雅山中部,海拔 8844.43 米,像座巨型金字塔,耸立在群峰之上,气势不凡,景象壮观,为世界第一名山。

伍拾圆 正面是工人、农民和知识分子头像。币背是黄河壶口瀑布。壶口位于山西吉县西南 25 千米处的九曲黄河河床中,是我国第二大瀑布。

壹佰圆 正面是四大伟人头像。币背是井冈山,在罗霄山脉中段,有大小峰峦 500 多座,最高山峰海拔 1841 米。井冈山集自然风光和革命纪念地于一体,有奇峰异石,流泉飞瀑,浮云薄雾,高山田园,更有很多革命遗址,形成了独特的旅游景观。

第四套人民币的币背下方中央,按蒙、藏、维、壮的顺序分别印制了“中国人民银行”四种少数民族文字。

几个少数民族的节日

壮族三月三 壮族三月三又叫歌圩节。节日这天,壮族青年男女都穿上节日的盛装,打扮得漂漂亮亮,云集到山坡旷野中,或竹林树荫下,对唱山歌,进行社交活动。

火把节 火把节是我国西南一些少数民族共有的古老节日,它主要盛行于彝族和白族,其次是纳西、布郎、佤、傣、拉祜、哈尼、基诺等族。每逢火把节,家家户户都要举行点火把的活动。每家点着火把照禾苗和室内屋角,据说可以祛灾逐疫,还可驱虫。有的村寨还举火把游行。晚上青年男女举行篝火晚会,男子们吹起芦笙,弹奏着月琴和三弦,姑娘们跳起优美的舞蹈,欢娱达旦。

“那达慕”大会 每年的七八月,蒙古族聚居的地方纷纷举行传统的“那达慕”大会,“那达慕”在蒙古语中是“娱乐”“游戏”的意思,它来源于摔跤、射箭和骑马三项游戏。每逢节日这天,从清晨开始,蒙古族男女老少,穿着色彩缤纷的新装,满怀着丰收的喜悦,骑马、乘车奔向会场。除了传统的三项

游戏之外,中华人民共和国成立以来,“那达慕”加入了下棋、拔河、打篮球、物资交流等新内容。大会已成为蒙古族人民喜闻乐见的体育、娱乐、物资交流的盛会。

开斋节和古尔邦节 开斋节和古尔邦节是我国回、维吾尔、哈萨克、乌兹别克、塔吉克、柯尔克孜、撒拉、东乡、保安等少数民族共同欢度的节日。开斋节之前,人们粉刷房屋,打扫庭院,理发洗澡等。节日期间,人们串亲访友,互赠油香、馓子等油炸食品。男女老幼成群结队游玩。在新疆,哈萨克、塔吉克、柯尔克孜等民族还举行叼羊、赛马、射箭、摔跤等活动。古尔邦节又称“宰牲节”。过节前,家家户户都把房舍打扫干净,忙着制作糕点。节日清晨,穆斯林要到清真寺去参加会礼。礼毕,屠宰牛羊,送给清真寺或用于招待亲友。节日里,人们访亲问友,互相馈赠香油。主人要按照传统的礼节,摆出丰盛的食品宴客。也有的祭坟扫墓,诵经祈祷,缅怀先人。新疆的维吾尔族在古尔邦节时,还要举行盛大的歌舞会。哈萨克、柯尔克孜、塔吉克、乌孜别克等民族节日期间还举行叼羊、赛马、摔跤等比赛活动。

人口列车的加速度

1999 年 10 月 12 日 0 点零 2 分,随着一声婴儿降生的啼哭,划破灾难深重的波黑共和国的夜空,地球迎来了它的第 60 亿个居民。满载着 60 亿人口的“列车”正高速驶向 21 世纪,其中 1/5 的乘客为中国人。“车厢”里端坐着黄、白、黑等不同肤色、操不同语言并少不了附加各种手势交谈的乘客。或许我们早已习惯于对自己历史起源称谓的“500 年前是一家”,在那“车厢”里还真能找到回音。

由工业革命启动的人口列车正以神话般的速度加挂车厢,试看:1650 年世界人口才有 5 亿,1830 年达到 10 亿,1930 年增到 20 亿,1975 年超过 40 亿,世界人口翻番的


时间迅速缩短,即由180年、100年降至45年。从1930年到1960年的30年间全球人口增长10亿,之后15年就又净增10亿,至1987年和1999年分别又净增10亿人,总数突破50亿和60亿大关仅用了12年时间。空前膨胀的人口早已使地球不堪重负。世界各国的人口学者均将其归结为工业革命的人口效应。因为工业革命引发了农业革命,使城乡人口交互增长,同时工业革命提高了劳动生产率并加速了技术进步,从而使人口死亡率大幅度下降。这正负相减无疑更加增大了人口基数。

中国人口列车的加速则比世界“提前启动”150年,18世纪30年代(清雍正、乾隆之交)突破1亿人,1835年超过4亿,100年间翻了两番。中华人民共和国成立之时约有5.4亿,1974年超过9亿,1981年过10亿,2000年达到12.95亿。我国人口净增1亿人所需的时间由100年(1840~1940)降至10年(1949~1960)、7年(1974~1981),人口膨胀呈不断加速的势头。虽然庞大的人口数量为工农业及各行各业带来了充足的人力资源,但却更加剧了资源和环境的压力。

虽然我国的国土面积、可耕种土地、可利用的草原以及主要矿产品的储量都居世界前列,但是迅速膨胀的人口数量使人均资源占有量直线下降,如我国的人均耕地面积自20世纪60年代的3.2亩降至1997年的1.15亩,人均森林面积至1997年仅剩0.11公顷。究竟中国生存环境能承受多大的人口压力呢?据测算,以淡水资源的储量和有效供应量为标准,我国人口不宜超过4.5亿;从能源储量和现实开采速度看,理想的负荷能力是11.5亿人;从粮食产量看,不应超过13亿;从土地资源看,不应超过10亿。总之,我国生存环境的理想人口负荷能力为7亿~10亿人。

百年来,我国人口总量增加了一倍半,

而资源总量基本没变,人口与资源的配置矛盾更加突出。著名地理学家胡焕庸先生提出的爱辉—腾冲人口地理界限,百年来基本格局未变,即该线西北占国土面积的52%,人口占5%;该线东南占国土面积的48%,人口却高达95%。人口的地区分布严重失衡,自西北向东南人口密度逐渐加大,如果用等值线图标画,则基本上与我国地势图相反。就是这一独特的“人口等高线”格局,形成了不同的经济、文化、民俗特征。这仍将是21世纪影响我国资源开发、环境保护、社会发展的重要因素。



课后习题解答

第一节 辽阔的疆域

活动一

1. 与俄罗斯、加拿大、巴西相比,我国的纬度位置有什么不同?说说我国纬度位置的优越性。

提示:俄罗斯和加拿大纬度较高,大部分位于北温带和北寒带地区,纬度较低的巴西,大部分位于热带。三者均由于其所处的温度带限制了农业的多种经营。而我国南北跨越的纬度近50度,大部分为温带,小部分在热带,没有寒带,气候差异大,为发展多种农业经济提供了有利条件。

2. 与蒙古、日本相比,我国的海陆位置有什么不同?说说我国海陆位置的优越性。

提示:蒙古是一个内陆国,不临海,在一定程度上限制了对外贸易的发展;日本是一个岛国,四面环海,限制了其领土范围,但沿海多港湾,海上交通便利,为该国对外开放提供了有利的位置条件。我国是一个海陆兼备的国家,东部濒临世界最大的大洋——太平洋,使我国东部广大地区在夏季风湿润气流的影响下,雨量充沛,有利于农业生产;沿海有许多优良港湾,便于发展海洋事业,





便于同海外各国交往,西部深入欧亚大陆内部,使我国陆上交通能与中亚、西亚、欧洲直接联系。

3. 综合以上的分析,补充下表,说明我国地理位置的优点。

提示:见下表。

发展农业生产	我国南北跨纬度广,气候差异大,为发展多种农业经济提供了有利条件。
对外交往与合作	沿海多港湾,有利于同海外各国交往,西部深入亚欧大陆内部,使我国陆上交通能与中亚、西亚、欧洲直接联系,有利于对外贸易。
发展海洋事业	海岸线曲折绵长,有富饶的海洋资源,有利于发展海洋事业和对外贸易。
其他	位于东亚季风区内,夏季风带来大量降水,有利于农业生产。

活动二

1. 阅读世界政治地图,按逆时针方向沿我国陆上疆界找出 14 个邻国,沿我国海上疆界,由南向北找出 6 个与我国隔海相望的国家。

提示:陆上的邻国:东部是朝鲜,东北是俄罗斯,北部是蒙古,西北是哈萨克斯坦、吉尔吉斯斯坦、塔吉克斯坦,自西部至南部依次是阿富汗、巴基斯坦(与巴基斯坦控制的克什米尔地区接界)、印度(其东部也有一部分与我国西藏东南部接界)、尼泊尔、锡金、不丹、缅甸、老挝、越南。

隔海相望的海上邻国自北向南有:韩国、日本、菲律宾、马来西亚、文莱、印度尼西亚。

2. 量算:根据比例尺,量算我国领土东西端距离约为 5000 千米;根据所跨纬度,计算我国领土南北端距离约为 5500 千米(纬

度相差 1° ,距离相差 110 千米)。

3. 阅读下图(图 1.5 和图 1.6),说说我国东西端的晨昏差异和南北部的季节差异,并解释原因。

提示:我国东西跨 60 多个经度,东西两端的晨昏差异主要是由经度差异造成的。

我国南北跨近 50 个纬度,南北部的季节差异主要是由纬度差异造成的。

4. 补充说明我国领土面积大的好处。

提示:领土面积大,资源丰富。

疆界长,邻国多,有利于发展对外贸易。

领土广阔,地形多种多样,有利于发展多种经济。

领土面积广大,气候复杂多样,使我国的农作物及各种动植物资源极其丰富。

活动三

1. 在图中找出我国 4 个直辖市、5 个自治区和两个特别行政区的名称、简称和省级行政中心。

提示:4 个直辖市:北京(京,北京)、天津(津,天津)、上海(沪,上海)、重庆(渝,重庆)。

5 个自治区:内蒙古自治区(内蒙古,呼和浩特)、广西壮族自治区(桂,南宁)、西藏自治区(藏,拉萨)、宁夏回族自治区(宁,银川)、新疆维吾尔自治区(新,乌鲁木齐)。

两个特别行政区:香港特别行政区(港,香港)、澳门特别行政区(澳,澳门)。

2. 找出本省(自治区、直辖市)的名称、简称、位置和行政中心,并找出相邻省级行政区的名称和简称。

提示:以山东省为例:山东省(鲁,济南)、河北省(冀,石家庄)、河南省(豫,郑州)、安徽(皖,合肥)、江苏省(苏,南京)。

3. 根据下列材料,按方位找出我国 34 个省级行政区的名称和简称。

提示:略。

4. 在中国政区填充图上填注我国 34 个省级行政区的名称或简称。



提示:可参照课本第7页“中国政区图”和第10页“我国省级行政单位的名称、简称和省级行政中心”表作答。

第二节 众多的人口

活动一

1. 我国人口数量过多,产生了哪些负面影响?请你参考下面的提示,列举实例说明。

提示:人均教育经费少,学校设施落后;交通拥挤,住房紧张;

人均资源占有量少,水电等资源紧张;教育负担过重,人口素质提高得太慢;

为了满足住房、食物等方面的需要,滥伐森林,滥垦草原,造成水土流失,土地沙化等许多生态问题。

2. 阅读下图(图1.10),说说晚婚晚育对人口增长有什么影响?

提示:晚婚晚育可以降低人口的增长速度。

活动二

1. 请利用图1.12,找出江苏、山东、新疆和西藏四省区的人口数和面积数,计算人口密度,并把查找和计算的结果填入下表。比较东部沿海两省和西部内陆两自治区人口密度的大小,试说明我国人口分布差异的特点,并简要分析其形成原因。

提示:江苏、山东、新疆、西藏四省区的人口数,面积数,人口密度见下表。

省区	江苏	山东	新疆	西藏
面积/万平方千米	10	15	160	120
人口/万人	7400	9000	1900	260
人口密度 人/平方千米	740	600	12	2

我国人口分布特点:我国人口分布不均,东部地区人口密度大,西部地区人口密度小。

形成原因:东部地区耕地多,气候好,生

产粮食多,能够养活的人口多,人口密度大;工商业、交通运输业发达,城镇多,城镇人口集中。西部多沙漠、草地、山地,耕地少,人口密度小;工商业、交通运输业不发达,城镇少,城镇人口少。

2. 对于下图中的不同观点,谈谈你的看法。请与同学们互相讨论、交流自己的观点。

提示:可以从自然条件、经济发展和人类生产方式等方面去思考人口分布的变化及人口的迁移。

第三节 多民族的大家庭

活动一

1. 联系世界地理已经学过的知识,比较我国与日本、美国的民族构成有何异同。

提示:我国是一个多民族国家,汉族占大多数,还有壮族等55个少数民族。

日本的主要民族是大和民族。

美国的居民是由欧、亚、非、拉丁美洲许多国家的移民及其后裔在美国定居后,共同接受了美国的生活方式,讲英语,统称为“美利坚族”。

2. 说一说,下面的图片分别反映的是哪个少数民族?你还了解哪些少数民族的哪些风俗习惯和文化传统,请你补充说明。

提示:图片反映的少数民族及其风俗习惯和文化传统如下:

集体舞——藏族

泼水节——傣族

长鼓舞——朝鲜族

干栏式竹楼——傣族等少数民族

摔跤——蒙古族

另外,还有

歌节——壮族

火把节——彝族和白族

“那达慕”大会——蒙古族

开斋节和古尔邦节——回族、维吾尔族、哈萨克族、塔吉克族等少数民族





3. 说说你所了解的少数民族的生活习俗。阅读下面的材料,并予以补充。

提示:少数民族的生活习俗:藏族人民喜爱藏药、藏医;回族、维吾尔族等民族大多信仰伊斯兰教。少数民族创造的乐器有蒙古族的马头琴、哈萨克族的冬不拉。补充:藏族和蒙古族信仰喇嘛教。

活动二

1. 在我国民族分布图(图 1.17)上,找出有多个少数民族居住的省、自治区。

提示:有多个少数民族居住的省、自治区:云南省、内蒙古自治区、新疆维吾尔自治区、西藏自治区、四川省、贵州省、青海等。

2. 同学中有哪些少数民族?请他们介绍自己民族的风俗习惯和生活变化。

提示:略。

3. 以“我国民族‘大杂居,小聚居’的分布特点会对地区经济发展和文化交融带来哪些好处”为题,展开讨论。

提示:可从民族的分布及其风俗习惯与地理环境的关系方面谈。

C. 我国地势落差大

D. 我国地形复杂多样

4. 我国位置最南的省级行政区是()

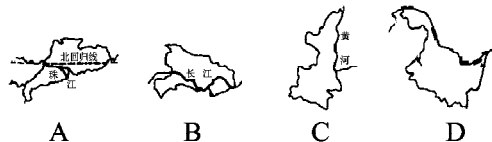
A. 黑龙江

B. 新疆

C. 台湾

D. 海南

5. 我国地理位置最东的省区是()



6. 我国有些省区简称的由来,与流经本省的主要河流有关,例如()

A. 湘、赣

B. 鲁、豫

C. 秦、陇

D. 苏、皖

7. 位于我国最南端的省区简称是()

A. 琼

B. 粤

C. 滇

D. 黑

8. 我国的省级行政区中跨经度和跨纬度最多的分别是()

A. 新疆、甘肃

B. 云南、陕西

C. 内蒙古、海南

D. 西藏、四川

9. 关于我国的疆域,下列说法正确的是()

A. 我国位于东半球、北半球,面积居世界第一位

B. 我国南北之间的最大距离长于东西间的最大距离

C. 我国大陆海岸线的长度大于陆上疆界的长度

D. 我国领土东西跨了五个时区,南北跨热带、温带、寒带三个温度带

10. 我国的四个直辖市位于西部大开发范围内的是()

A. 京

B. 津

C. 沪

D. 渝

11. 下列四组国家中,既是我国陆上邻国,又属于内陆国的是()



基础巩固练习

一、选择题

1. 属于我国内海的是()

A. 黄海和台湾海峡

B. 渤海和琼州海峡

C. 黄海和东海

D. 南海和琼州海峡

2. 当黑龙江省冰天雪地时,海南岛依然百花盛开。这是因为我国()

A. 跨纬度范围广

B. 跨经度范围广

C. 海陆差异大

D. 垂直差异大

3. 当乌苏里江上旭日东升时,帕米尔高原还是繁星满天。这是因为()

A. 我国纬度跨度大

B. 我国经度跨度大

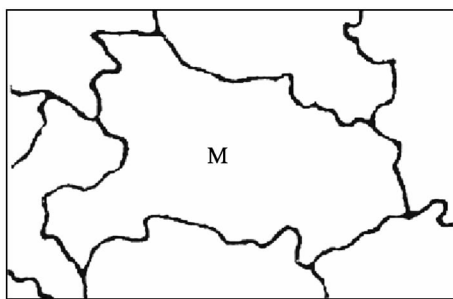
- A. 蒙古、阿富汗、越南
- B. 蒙古、阿富汗、老挝
- C. 蒙古、俄罗斯、哈萨克斯坦
- D. 哈萨克斯坦、泰国、老挝

12. 下列省份与濒临海洋的连线正确的是()

- A. 辽宁、河北——渤海
- B. 辽宁、山东——东海
- C. 江苏、安徽——黄海
- D. 浙江、广东——南海

读我国局部省区轮廓图,完成 13—14

题:



13. 图中字母 M 代表的省区的行政中心是()

- A. 西安
- B. 郑州
- C. 武汉
- D. 南京

14. 与 M 省相邻的省区中有两个简称的省区有()

- A. 1 个
- B. 2 个
- C. 3 个
- D. 4 个

15. 北回归线自东向西穿过的省级行政单位是()

- A. 福建、广东、广西、贵州
- B. 台湾、广东、广西、云南
- C. 台湾、福建、广东、广西
- D. 福建、江西、广东、云南

16. 泼水节是下列哪个少数民族的民俗?()

- A. 苗族
- B. 傣族
- C. 蒙古族
- D. 维吾尔族

17. 下列省区人口最稀疏的是()

- A. 新疆
- B. 湖南
- C. 江苏
- D. 黑龙江

18. 我国在人口方面的基本国策是()

- A. 不断增加人口数量
- B. 实行计划生育
- C. 不断减少人口数量
- D. 增加城市人口数量

19. 下列民族与民族风情连线,错误的是()

- A. 傣族—泼水节
- B. 回族和满族—芦笙节
- C. 蒙古族—“那达慕”大会
- D. 彝族—火把节

20. 下列有关我国人口的叙述,正确的是()

- A. 我国人口占世界人口总数的 30%
- B. 东部人口密度小,西部人口密度大
- C. 我国是人口增长速度最快的国家
- D. 实行计划生育是我国的基本国策

21. 下列民族与其主要聚居省的连线,正确的是()

- A. 朝鲜族—海南省
- B. 彝族—四川省
- C. 布依族—云南省
- D. 黎族—吉林省

22. 回族和维吾尔族主要信仰()

- A. 伊斯兰教
- B. 喇嘛教
- C. 基督教
- D. 天主教

23. 根据我国少数民族的分布,下列说法最可信的是()

- A. 黎族同胞说:“我们栽种的苹果个大香甜。”
- B. 朝鲜族同胞说:“我们种植的甘蔗,又获大丰收。”
- C. 藏族同胞说:“我们用青稞酒招待远方的来客。”





D. 壮族同胞说:“泼水节是我们的传统节日。”

24. 下列有关我国各民族的地区分布状况的叙述,正确的是()

- A. 汉族全部分布在东部
- B. 少数民族全部分布在西部
- C. 我国民族总的分布特点是大杂居、小聚居
- D. 各民族均匀分布

25. 中华人民共和国成立后,我国人口迅速增长的主要原因是()

- A. 商业贸易活动日益频繁
- B. 人口居住地的自然条件有很大改变
- C. 社会劳动力需求量大幅度提高
- D. 经济文化发展,医疗卫生条件明显改善

26. 我国人口数最多的省区是()

- A. 四川
- B. 河南
- C. 山东
- D. 江苏

27. “高空低瞰山成浪,个个峰蒙白玉中。大地苍茫如锦绣,宝藏开采待新民。”指的是()

- A. 蒙古族为主的内蒙古高原
- B. 彝族为主的云贵高原
- C. 回族为主的黄土高原
- D. 藏族为主的青藏高原

28. 关于我国民族的正确叙述是()

- A. 除汉族外的其他民族,统称少数民族
- B. 我国人口在 400 万以上的民族共 19 个
- C. 少数民族和汉族的分布界线都十分清楚
- D. 少数民族人口只占全国总人口的 7%,其分布约占全国面积的 19% 左右

29. 下列少数民族活动与其民族的对应排序,正确的是()



- A. 维吾尔族 朝鲜族 蒙古族 傣族
- B. 蒙古族 苗族 维吾尔族 傣族
- C. 维吾尔族 黎族 蒙古族 朝鲜族
- D. 壮族 高山族 蒙古族 傣族

30. 关于中国的民族政策的叙述,不正确的是()

- A. 各民族不论大小,一律平等
- B. 国家保障各少数民族的合法权利和利益
- C. 各少数民族都应使用汉语,不应该发展自己的语言文字
- D. 在各少数民族聚居的地方实行民族区域自治,设立自治机关,行使自治权

二、填空题

1. 从东面半球看,中国位于_____半球;从南北半球看,中国位于_____半球。

2. 我国陆地领土面积约_____平方米,居世界第_____位。

3. 我国大陆海岸线长_____多千米,面积最大的岛屿是_____。

4. 我国现有省级行政区_____个,其中最年轻的直辖市是_____。

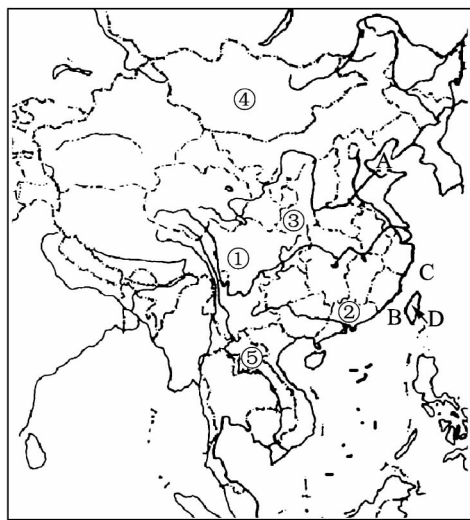
5. 我国省级行政区面积最大的省的简称是_____ 纬度位置最南的省的简称是_____



- _____。
6. 我国的人口分布大致以_____一线为界, _____多_____少。
7. 我国共拥有_____个民族, _____个少数民族。
8. 我国各民族中, _____族人口最多, 少数民族中, _____族人口最多。
9. 我国实行各民族不论大小, 一律平等的民族政策, 为了保障少数民族的合法权利, 我国在各少数民族聚居的地方实行_____ , 设立自治机关。
10. 我国各民族分布具有_____、_____的特点。

三、综合题

1. 读中国轮廓图, 按要求回答下列问题:

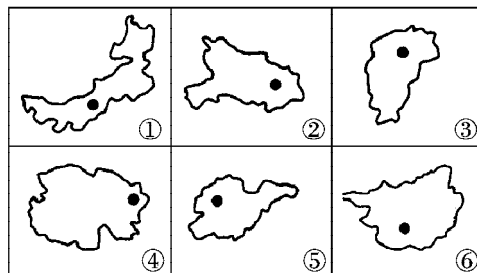


- (1) 写出图中数字代表的省级行政区的简称:
- ①_____ ②_____ ,
③_____。
- (2) 写出图中数字代表的陆上或海上邻国:
- ④_____ ⑤_____。

(3) 写出图中字母代表的海洋、海峡、岛屿名称:

A _____ B _____ ,
C _____ D _____。

2. 读下图, 完成下列表格:



图号	省区名称	简称	行政中心
①			
②			
③			
④			
⑤			
⑥			

3. 忆中国疆域政区图, 根据下列地理事物与地理位置特点的对应关系, 在空格内填上相应的内容:

地理事物(名称)	主要地理位置特点
	位于我国领土最北端的城镇
台湾省	
	陆上领土与我国广西壮族自治区接壤的临海国家
	位于我国西北内陆, 长江、黄河源头所在的省级行政区

