

天利38套

跳出题海

新课标

五年真题三年模拟

分类活页试题

本书编写组 编

2011 高考复习必备

专家名师选题

答案详细解析

合理划分专题

考点逐项过关

政治

西藏人民出版社

目录

- | | |
|-----------------------------|------------------------|
| 专题 1 生活与消费(一) | 专题 27 生活智慧与时代精神 |
| 专题 2 生活与消费(二) | 专题 28 探究世界的本质 |
| 专题 3 生产与基本经济制度 | 专题 29 把握思维的奥妙 |
| 专题 4 企业与劳动者 | 专题 30 探索真理的历程(一) |
| 专题 5 投资理财的选择 | 专题 31 探索真理的历程(二) |
| 专题 6 个人收入的分配 | 专题 32 唯物辩证法的联系观与发展观 |
| 专题 7 国家财政 | 专题 33 唯物辩证法的实质与核心 |
| 专题 8 征税和纳税 | 专题 34 创新意识与社会进步 |
| 专题 9 发展社会主义市场经济 | 专题 35 寻觅社会的真谛(一) |
| 专题 10 科学发展观和小康社会的经济建设 | 专题 36 寻觅社会的真谛(二) |
| 专题 11 经济全球化与对外开放 | 专题 37 实现人生的价值 |
| 专题 12 生活在人民当家作主的国家 | 专题 38 国家和国际组织常识 |
| 专题 13 我国公民的政治参与 | 专题 39 经济学常识 |
| 专题 14 我国政府是人民的政府 | 专题 40 公民道德与伦理常识、科学思维常识 |
| 专题 15 我国政府受人民的监督 | 政治参考答案及解题提示(另册) |
| 专题 16 我国的人民代表大会制度 | |
| 专题 17 我国的政党制度 | |
| 专题 18 我国的民族区域自治制度及宗教政策 | |
| 专题 19 当代国际社会 | |
| 专题 20 文化与社会 | |
| 专题 21 文化对人的影响 | |
| 专题 22 文化的多样性与文化传播 | |
| 专题 23 文化继承、发展与创新 | |
| 专题 24 中华文化与民族精神 | |
| 专题 25 走进文化生活、推动社会主义文化大发展大繁荣 | |
| 专题 26 文化发展的中心环节 | |

跳出题海

天利38套

新课标

五年真题三年模拟

分类活页试题

本书编写组 编

政治

西藏人民出版社

编写及使用说明

“选择一本好的试题集就好比选择众多优秀教师为你辅导,可起到事半功倍的效果”。一位高三复习选用“天利 38 套”的高考状元如此说。为帮助广大高三学生提高复习训练的效率 and 效果,我们特约请全国各地特级教师和高考状元,按照内容前瞻性、实用性和指导性并重的要求,编写了本书。

本书含语文、数学(文科)、数学(理科)、英语、物理、化学、生物、政治、历史、地理 10 科册。

本书的四大亮点:

内容实用 依高考考点设置专题,专题划分详细,大部分专题配有 1 套试题,重要专题配有 2 套或 2 套以上试题。每套试题有五年真题和三年模拟两部分三个题组,读者可根据自身需求,每天做 1~2 个题组,巩固知识体系,提高解题能力。

选题科学 试题均由全国资深的特级教师,依据最新考试大纲及自主命题省市的考试说明的要求,遵循“质量第一、科学搭配、实用为本”的理念,从最新的五年高考真题和三年模拟试题中遴选而出,充分体现了最新高考要求和命题思路。

名师详解 本书试题配有名师编写的参考答案与详解,有助于考生拓展解题思路,提升解题能力,可供读者自测自评时使用。

使用方便 为方便集体测试或者读者自测,本书试题采用活页装订。

参与本书编写的作者有,语文:武强、于迎春;数学:刘永旺;英语:王兆明;物理:吴宾;化学:罗建锋;生物:于泗勇;政治:崔保福;历史:宋景田;地理:李佳军。参与本书审稿的老师有:孙超、吴爱芳、孙玉红、刘翠芝、张从民、武小东、魏忠仁、侯建成等老师。

读者购书后可登录天利考试信息网(WWW.TL100.COM)查询本书解题心得、与全国各地名师进行交流、浏览最新高考信息等。愿本书能助你一臂之力,考上理想的大学。

本书编写组
2010 年 7 月

天利 38 套 系列图书
教育界、图书界公认的品牌书

参与本书审校的高考状元

陈璐(2009 年河北文科高考状元)	渠鹏(2009 年河北理科高考状元)
黄嫣(2009 年广西文科高考状元)	杜彦涛(2009 年宁夏理科高考状元)
杨改慧(2009 年河南理科高考状元)	沈凌波(2009 年浙江文科高考状元)
王可倚(2008 年四川理科高考状元)	代龙脊(2008 年辽宁理科高考状元)
刘超然(2008 年重庆文科高考状元)	钟华(2008 年天津文科高考状元)
赵婕(2008 年云南文科高考状元)	韩欢(2008 年河北文科高考状元)
林丽渊(2007 年广西文科高考状元)	林佳瑞(2007 年新疆理科高考状元)

报刊、网站报道选登

由于全国各地高考要求不尽相同,“天利 38 套”在及时准确地收集各地高考模拟试题方面做了大量工作,在此基础上他们组织专家精心测评挑选。

——《中国教育报》

很多学生就认准了“天利 38 套”,从初中升到高中,从《全国中考试题精选》用到《全国各省市高考模拟试题汇编》。

——《中国图书商报》

现在各地的学校和教研室有一些很好的试题,除此之外还有历年高考的真题,还有往年各地区的试题,这些在“天利 38 套”里面都有。

——新浪网

据了解,“天利 38 套”均由全国各地名校名师编写,在广泛征求各地教师意见基础上,由特级教师认真审稿,确保图书质量。

——《中学生科学报》

每一届都有 38 套。每个学校都同样要做 38 套。38 套太重要了……

——《小说月报》

图书在版编目(CIP)数据

五年真题三年模拟.4/《五年真题三年模拟》编写组编.

—拉萨:西藏人民出版社,2010.7

ISBN 978-7-223-02717-5

I. 五… II. 五… III. 课程—高中—习题—升学参考资料
IV. G634

中国版本图书馆 CIP 数据核字(2009)第 124542 号

五年真题三年模拟

——新课标分类活页试题(政治)

作者 本书编写组

责任编辑 李海平 杨鑫宇

装帧设计 王晓坤 余柯宇

出版社 西藏人民出版社

社址 拉萨市林廓北路 20 号

邮政编码 850000

北京发行部:100013 北京市东土城路 8 号林达大厦 A 座 13 层

电话:010-64466399(邮购)、64466473(批销)

打击盗版:13651009426

印刷 全国新华书店

开本 8 开(787×1092)

印张 20.5

版次 2010 年 7 月第 1 版第 2 次印刷

标准书号 ISBN 978-7-223-02717-5

定价 29.80 元

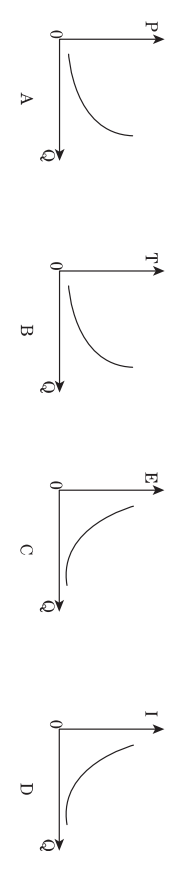
字数 610 千


五年真题

2010 年高考题组

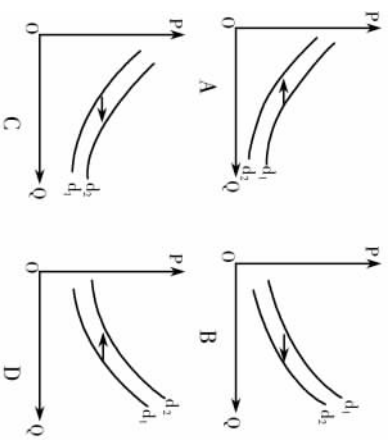
- (2010 四川)为克服当前金融危机的影响,许多国家实行宽松的货币政策,增加货币发行量,向金融机构注资,引发了人们对通货膨胀的担忧。是否发生了通货膨胀,必须看是否出现 ()
 ①流通中实际需要的货币量超过纸币的发行量
 ②商品价格总额超过价值总额,货币持续贬值
 ③国家发行的货币数量超过上一年发行的数量
 ④物价总水平不断上涨使居民购买力普遍下降
 A. ① B. ②④ C. ①②③ D. ②③④
- (2010 全国卷一)假设某国 2009 年甲产品的总产量是 100 万件,每件产品价值用货币表示为 10 元。2010 年生产甲产品的社会劳动生产率提高一倍,在货币价值不变和通货膨胀率为 20% 的不同情况下,甲产品 2010 年的价格分别是 ()
 A. 5 元,6 元 B. 10 元,12 元 C. 20 元,24 元 D. 8 元,16 元
- (2010 四川)20 世纪 90 年代初,某品牌移动电话每部售价 1 万多元人民币,年销售量不足 1 000 部;随着信息技术的发展,移动电话功能日益完善,2009 年该品牌移动电话平均每部售价不到 900 元人民币,年销售量达 100 万部。这说明 ()
 ①生产该商品的社会必要劳动时间缩短,商品价值降低
 ②生产该商品的劳动生产率提高,商品使用价值量增加
 ③该商品的市场售价不断降低,刺激了需求量不断上升
 ④该商品的使用价值不断增加,导致了其价值不断降低
 A. ①②③ B. ①②④ C. ①③④ D. ②③④
- (2010 重庆)下列违背价值规律的是 ()
 A. 钻石的稀缺程度比水高,因而钻石比水贵
 B. 古代少数民族用毛皮与汉族交换等价值的大米
 C. 甲用一块砖头充当秦代文物,换走一块黄金
 D. 制造火箭的成本比汽车高,因而火箭比汽车贵
- (2010 四川)人们通常把尽可能减少二氧化碳排放的生活方式称为低碳生活。低碳生活离我们很近,把白炽灯换成节能灯、使用环保购物袋、教材循环利用、废物再利用等都能减少二氧化碳排放。这说明 ()
 ①消费行为会对社会经济产生影响 ②家庭要超前消费,防止消费滞后
 ③要改变消费习惯,提倡绿色消费 ④低碳生活要导致消费水平的降低
 A. ①② B. ①③ C. ①④ D. ③④
- (2010 安徽)在“商品—货币—商品”的流通过程中,“商品—货币”阶段的变化“是商品的惊险的跳跃”。这个跳跃如果不成功,摔坏的不是商品,而是商品所有者。这说明 ()
 A. 商品生产者需要生产适销对路、质量上乘的商品
 B. 商品生产者生产的商品就失去了使用价值和价值
 C. 货币作为商品交换的媒介必须是观念上的货币
 D. 货币作为一般等价物在物物交换中起决定作用

2006—2009 年高考题组

- (2009 浙江)从历史发展的过程看,下列判断正确的是 ()
 A. 一切商品都能承担价值尺度职能
 B. 只有货币能承担价值尺度职能
 C. 凡是劳动产品都能承担价值尺度职能
 D. 仅仅金银能承担价值尺度职能
- (2009 四川)小张按 1 美元兑换 8 元人民币的汇率换得 1 000 美元,两年后美元兑换人民币的汇率下跌了 20%。小张又将 1 000 美元换回人民币。在不考虑其他因素的情况下,小张 ()
 A. 损失了人民币 1 600 元 B. 减少了人民币损失 1 600 元
 C. 损失了美元 160 元 D. 减少了美元损失 160 元
- (2009 广东)需求法则是指商品需求量随其价格上升而下降,随其价格下降而上升的一般规律。但生活中有时东西越贵越有人买,如天降大雨,小贩趁机提价推销雨伞,雨伞却卖得很不错。这表明此时 ()
 A. 需求法则不起作用 B. 处于卖方市场
 C. 处于买方市场 D. 雨伞的价值上升
- (2009 江苏)假定原先 1 台电脑与 4 部手机的价值量相等,现在生产电脑的社会劳动生产率提高一倍,而生产手机的社会必要劳动时间缩短到原来的一半,其他条件不变,则现在 1 台电脑与 _____ 部手机的价值量相等。 ()
 A. 2 B. 4 C. 8 D. 16
- (2009 天津)汽车需求量(Q)随着汽车价格(P)、汽车购置税(T)、汽油价格(E)、居民收入(I)的变动而变动。下列曲线图中正确反映其变动关系的是 ()


- (2010 课程标准)按照中国—东盟自由贸易协议,成员国 90% 的贸易商品实行零关税。如果以前一件 10 元人民币的 M 商品出口到某东盟成员国 N 国的关税为 5%,本外币间的汇率为 1:8。2010 年该商品实行零关税,中国生产 M 商品的劳动生产率提高 25%,其他条件不变,则一件 M 商品在实行零关税之前和之后出口到 N 国的价格用 N 国货币单位表示分别为 ()
 A. 80,84 B. 84,80
 C. 84,64 D. 84,100
- (2009 福建)周末,小陈同学陪妈妈逛商场,看到下图的情景,向妈妈解释了产生这一情景的下列几种原因,其中合理的是 ()

- (2008 重庆)如果你对大人们说:“我看到一幢用玫瑰色的砖盖成的漂亮的房子,它的窗户上有天竺葵,屋顶上还有鸽子……”他们怎么也想象不出这种房子有多么好。必须对他们说:“我看见了一幢标价十万法郎的房子。”那么他们就惊叫道:“多么漂亮的房子啊!”(选自自圣·德克旭贝里《小王子》)回答 8 题。
 8. 材料中提到的“十万法郎”是 ()
 ①房子的价格 ②房子的价值 ③房子的交换价值 ④在执行货币的价值尺度职能
 A. ①② B. ①④
 C. ②③ D. ③④
- (2008 海南)商品流通过程中实际需要的货币数量是受货币流通规律支配的。在一定时期内,流通中需要的货币数量 ()
 ①与货币价值成正比
 ②与货币流通速度成反比
 ③与商品价格水平成反比
 ④与流通中的商品数量成正比
 A. ①② B. ②③
 C. ②④ D. ③④
- (2006 江苏)下列有利于化解通货膨胀的措施是 ()
 A. 调整汇率 B. 降低利息
 C. 增发国债 D. 提高贷款利率
- (2007 海南)甲乙两企业生产同一种商品,并以相同的价格出售这一商品,甲企业盈利,而乙企业亏本。其原因是 ()
 A. 甲企业的商品比乙企业的商品更富有需求弹性
 B. 甲企业商品的价值大于乙企业商品的价值
 C. 甲企业工人的劳动强度低于乙企业工人的劳动强度
 D. 甲企业的劳动生产率高于乙企业的劳动生产率
- (2007 广东)近年来我国商品房价格上涨过快。为了抑制房价涨幅,政府可以选择的措施有 ()
 A. 增加商品房用地的供给
 B. 扩大商品房需求
 C. 规定商品房价格
 D. 减少商品房用地的供给
- (2008 山东)政府给农民一定的家电购置补贴,会影响农民对家电的市场需求量。下列曲线图(横轴为需求量,纵轴为价格, d_1 为补贴前市场需求曲线, d_2 为补贴后

市场需求曲线能正确反映这一信息的是



14. (2008 广东) 甲省和乙省的城镇居民恩格尔系数分别为 35.3% 和 36.1%, 这表明 ()

- A. 从收入水平来看, 甲省城镇居民略高于乙省城镇居民
- B. 从收入水平来看, 乙省城镇居民略高于甲省城镇居民
- C. 从生活水平来看, 甲省城镇居民略高于乙省城镇居民
- D. 从生活水平来看, 乙省城镇居民略高于甲省城镇居民

(2007 天津) 推广使用节能灯对节能降耗意义重大。如果我国所有家庭都将白炽灯替换为节能灯, 年节电总量接近三峡水库一年的发电量。由于节能灯的价格是白炽灯的数倍, 尽管全球 90% 以上的节能灯在我国生产, 我国居民节能灯的使用率却不到 20%, 这不利于缓解我国电力供应紧张的局面。回答 15 题。

15. 从材料看, 缓解我国电力供应紧张局的途径是 ()
- ① 居民提高消费的科学性
 - ② 节能灯生产企业降低成本
 - ③ 政府倡导节能消费方式
 - ④ 家庭消费从经济能力出发

- A. ①②③
- B. ②③④
- C. ①②④
- D. ①③④

16. (2009 海南) 阅读材料, 回答下列问题。

材料 近年来中国网络购物市场迅速发展。统计数据表明, 2008 年网络购物交易规模破千亿元, 增速超过 130%, 网购用户规模达 8 000 万, 近三成的网民成为网络购物用户; 网络购物占社会消费品零售总额的比重也首次突破 1%。

对 2007 年大城市网络购物人群调查显示, 上海的网络购物人群占上网总人数的 50.4%。上海的网络购物金额达到 118 亿元, 而全部连锁商业的零售总额是 1 362 亿元。
对消费者和企业而言, 与传统购物方式相比, 网络购物有何优势和局限性?

() 17. (2007 海南) 读图回答下列问题。

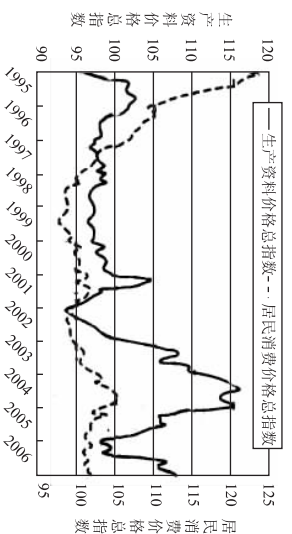


图 1 居民消费价格指数与生产资料价格指数走势

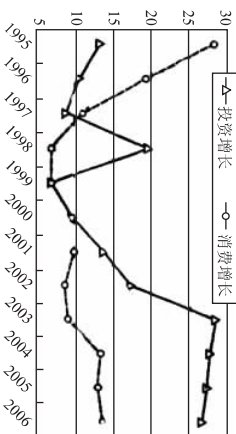


图 2 投资增长速度和消费增长速度

注: 一国总需求包括投资需求、消费需求等内容。

(1) 读图 1、2, 描述 2002 年以来我国物价水平和需求变化走势。

(2) 简要分析 2002 年以来图 1、图 2 所显示的需求和物价水平之间的关系。

★ 三年模拟 ★

2008—2010 年模拟试题组

1. (2010 广东惠州二调) 中国人民银行于 2009 年 9 月 16 日发行中华人民共和国成立 60 周年金银纪念币一套, 该套纪念币受到钱币收藏界的广泛关注。对此认识正确的是 ()
- A. 该纪念币只可用于收藏, 不可以市场上流通
 - B. 该纪念币有使用价值, 但没有价值
 - C. 该纪念币的本质是一般等价物
 - D. 该纪念币其实是一种价值符号

2. (2010 济南模拟一) 物联网是在互联网基础上进行信息交换和通信的一种网络, 是物物相连的互联网。小王同学通过“物联网”购买到了自己称心如意的学习用品。这一过程反映了“物联网”的使用 ()

- ① 丰富了商品交换的形式和手段
- ② 方便了消费者购物并减少了现金使用
- ③ 减少了商品的价值量
- ④ 促进了商品所有权和使用权的分离

3. (2010 南京调研) 上海世博局推出 55 条“世博之旅”专线, 其中“南京世博一日游”售价 300 元。这里的“300 元”体现的货币职能是 ()

- A. 价值尺度
- B. 流通手段
- C. 支付手段
- D. 世界货币

4. (2010 陕西宝鸡质检一) 小明用农行的金穗卡在学校的 ATM 机上取了 100 元钱, 下列认识正确的是 ()

- ① 小明的金穗卡属于银行信用卡
- ② 这说明存款业务是商业银行的主要业务之一
- ③ 小明办理的是活期储蓄
- ④ 小明还可以用金穗卡通过 ATM 机将钱随时存入和提取

- A. ①②④
- B. ①③④
- C. ②③④
- D. ②③④

5. (2010 北京海淀练习) 2009 年 11 月份 CPI (居民消费价格指数) 同比上涨 0.6%, 由负转正。有专家发出了通胀预警。一般来说, 通货膨胀发生时 ()

- ① 物价上涨
- ② 居民购买力提高
- ③ 影响人民的生活水平
- ④ 外汇汇率升高

- A. ①②③
- B. ②③④
- C. ①②④
- D. ①③④

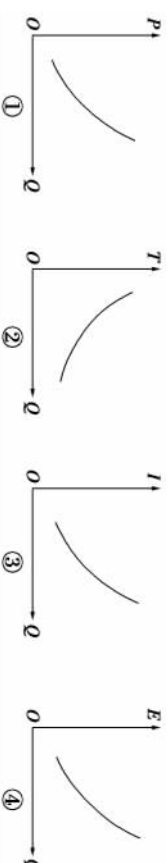
6. (2010 湖南四县调研) 假定某出口企业年生产出口商品 100 万件, 每件商品的成本为 10 美元, 每件商品的出口价格为 30 美元, 该年美元兑换人民币的平均汇率为 1 美元 = 8 元人民币。第二年由于受金融危机影响该出口企业劳动生产率下降 20%, 同时美元兑换人民币的平均汇率也变化为 1 美元 = 7.5 元人民币。在其他条件不变的情况下, 按人民币计算, 该企业第二年的利润比上年下降了 ()

- A. 3 200 万元
- B. 4 000 万元
- C. 1 000 万元
- D. 6 000 万元

7. (2010 东北三省四市联考) 2009 年 10 月, 受国际金融危机的影响, 我国开始复苏, 流通领域中货币流通次数增加了 10%, 政府加大宏观调控力度, 使流通领域货币量减少了 20%。在其他因素不变的情况下, 金融危机时售价 100 元的商品, 在经济开始复苏时的售价应该是 ()

- A. 72 元
- B. 77 元
- C. 88 元
- D. 108 元

8. (2010 安徽江南十校联考) 自 2009 年 11 月 10 日零时起全国汽柴油零售价格再次上调, 涨幅均为 480 元/吨, 这是国内成品油价格的第 5 次上调; 2009 年 12 月召开的中央经济工作会议发出的消息称, 车辆购置税优惠政策 2010 年还将继续实施。下列图中能正确反映汽车需求量(Q)、汽车价格(P)、购置税(T)、居民收入(D)、汽油价格(E)变动关系的是 ()

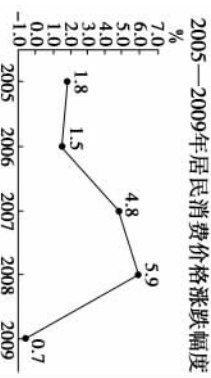


- A. ①②
- B. ②③
- C. ③④
- D. ①④


9. (2010 山东青岛 3 月模拟) 右图是 2005—2009 年居民消费价格指数涨跌幅度 2009 年我国居民消费价格指数涨跌幅度曲线图。

- 正确反映该图信息的是 ()
- ① 2008—2009 年经济增长滞缓, 消费价格下跌
 - ② 2007—2008 年需求不足, 消费价格上涨
 - ③ 2006—2008 年消费价格呈上升趋势
 - ④ 2008—2009 年居民消费水平下降

- A. ①②
- B. ②③
- C. ①③
- D. ③④

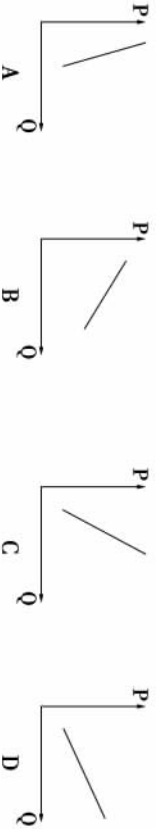


10. (2010 江苏南通一模) 建国六十年, 浓缩了人们太多的消费记忆。昔日的奢侈品, 今天已经进入寻常百姓家。从根本上说, 这是因为 ()
- A. 单位商品价值量增加 B. 社会劳动生产率提高
C. 供求关系发生变化 D. 经济全球化深入发展
11. (2010 长春一调) 经济活动应该自觉地遵循和利用价值规律。分析下图, 下列属于生产者自觉遵循和运用价值规律的是 ()



- ①跟着价格走, A 处扩大生产规模, B 处缩小生产规模
②无论在 A 处还是 B 处, 均需提高劳动生产率, 降低成本
③在 B 处停止该商品的生产, 转产其他产品
④在 B 处更要降低成本, 维持生存, 以便在价格上升时占据主动地位
- A. ①② B. ②③ C. ②④ D. ③④
12. (2010 北京海淀练习) 春节期间, 许多商场纷纷实行打折销售, 使得商品销售量较平时成倍增长, 利润也有所增加。这说明 ()
- ①商品价格变动可以引起其需求量的变动 ②商家利用消费者求实心理来引导其消费行为 ③降低成本是商家进行市场竞争的重要手段 ④降低商品的价值才能扩大其销售量
- A. ①②③ B. ①②④ C. ①② D. ③④

13. (2010 福建厦门质检) 福厦高速铁路正式通车后, 将使厦门至福州的时间缩短为 1.5 小时, 能很好地满足旅客对安全、舒适、便捷的要求, 方便人民群众出行。下列说法正确的是 ()
- A. 火车和汽车是互补商品, 可以相互补充
B. 火车票的价格会下跌, 铁路行业盈利上升
C. 形成火车运营垄断, 不利汽车运营行业的发展
D. 促使汽车行业改善经营管理, 提高竞争力
14. (2010 东北三校一模) 根据价格影响需求的理论, 不同商品对价格变动的反应程度不同。在下列图示中 (横轴 Q 为需求量, 纵轴 P 为价格) 能够反映价格变动对高档耐用消费品需求量影响的是 ()



15. (2010 辽宁大连双基) 假定当 A 商品的互补品价格下降 10% 时, A 商品需求变动量为 10 单位; 当 A 商品的替代品价格上升 10% 时, A 商品需求变动量为 20 单位。如果其他条件不变, 当 A 商品的互补品价格下降 10%、替代品价格上升 10% 同时出现时, 那么, A 商品的需求数量 ()
- A. 增加 30 单位 B. 减少 30 单位
C. 增加 10 单位 D. 减少 10 单位

16. (2010 福建厦门质检) 2009 年上半年我国汽车、国内旅游和商品房销售情况表

项目	数额(辆、亿元)	同比增长%(名次)
汽车	609.88 万辆	世界第一
旅游	4 979 亿元	同比增长 10.6%
商品房	15 800 亿元	同比增长 53%

- 表中汽车、旅游和商品房等一些新的消费热点升温的根本原因是 ()
- A. 近年来物价水平下降
B. 居民收入水平大幅度提高
C. 我国经济快速稳定发展
D. 国家实行刺激居民消费的政策

17. 山东《生活日报》主办的换物节活动日益受到人们的欢迎。居民进行闲置物置换, 以物易物, 使闲物发挥出更多的作用。这种以物换物活动 ()
- ①是人为地抑制消费的表现
②较大幅度地搞活了商品流通
③促进了资源的循环利用
④符合节约消费和绿色消费的理念
- A. ①② B. ③④ C. ②③ D. ②③④

18. 小冯一家是低收入家庭, 近日采用银行按揭贷款方式购买售价为 26 万元的经济适用房, 首付现金 6 万元, 然后在 20 年内付清银行贷款 20 万元及利息 3 万元。这里的 26 万元、6 万元、3 万元体现的货币职能分别是 ()
- A. 价值尺度、流通手段、支付手段
B. 价值尺度、支付手段、流通手段
C. 流通手段、支付手段、价值尺度
D. 流通手段、支付手段、贮藏手段

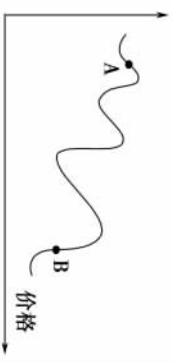
19. 看右边漫画, 人民币对美元汇率的变化是 _____。如果现在小明要去美国留学, 假如其他条件不变, 那么他留学费用的变化是 _____。
- A. 升高 增加
B. 升高 减少
C. 跌落 增加
D. 跌落 减少



20. 一般而言, 当一种商品的价格上涨至远离其基本价值, 或是远超国民的消费能力时, 其价格必然 _____。
- A. 最终上涨 B. 最终回落
C. 低于价值 D. 高于价值
21. 从《议价》可以看出, 商品的价格 ()



- A. 经常和价值不一致, 不能反映价值
B. 是由买卖双方讨价还价的能力决定的
C. 能灵活反映市场的供求关系
D. 是由生产商品所耗费的劳动时间决定的
22. 右图是某种商品从问世到退出市场的价格波动图。其中 A 点价格到 B 点价格变化的根本原因是 ()
- A. 劳动生产率的变化
B. 价格政策的变化
C. 供求关系的变化
D. 商品质量的变化



23. “3 000 双一次性筷子等于一棵 20 年的大树。”这句公益广告倡导我们要坚持 ()
- A. 量入为出, 适度消费 B. 避免盲从, 理性消费
C. 保护环境, 绿色消费 D. 勤俭节约, 艰苦奋斗

24. 材料一 年终盘点, 2009 年江苏城、乡两户居民收入与支出情况(单位: 万元) 如下表:

	总收入	总支出	食品支出	服装支出	教育医疗支出	交通通讯支出	其他支出
城市甲家庭	7.5	6	1.8	0.8	1	1.2	1.2
农村乙家庭	3	2.5	1	0.2	0.5	0.3	0.5

- 注: 甲、乙两户居民收入略高于江苏省城乡居民的平均收入水平。
材料二 2010 年甲、乙两户家庭都有自己的愿望: 城市甲家庭想花 15 万元购买一辆家用轿车; 农村乙家庭想花 3 万元购买一辆农用四轮车。
(1) 请计算甲、乙两户家庭的恩格尔系数, 并指出造成两户家庭恩格尔系数差异的主要原因。

- (2) 请运用《经济生活》知识, 分别从国家和家庭角度, 你认为这两户居民怎样才能实现自己的愿望。

25. (2010 北京西城 1 月抽样) 阅读下面两位同学的对话, 按对话框中的要求说明经济学道理。



甲: 考考你, 你能找出漫画中蒜价飙升的原因吗? 不许说“猪流感(甲流)”, 要用经济学术语哟。
乙: 使用价值吧。

(1) 判断: 乙说得对吗? 如果认为不对, 请指出蒜价上涨的原因。

甲: 据说, 大蒜涨价的原因挺多的。
乙: 我们家一般用蒜炒菜炆锅儿, 买葱姜也可以。

(2) 在这里, 蒜与葱姜这些商品是什么关系?

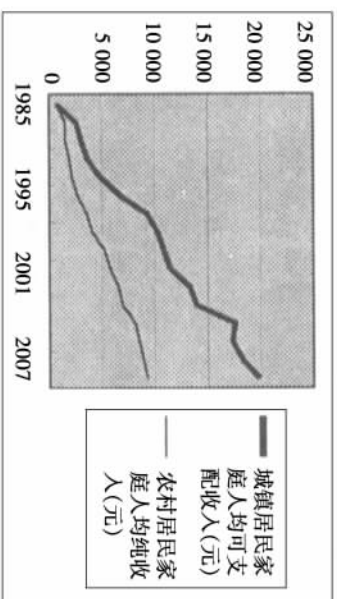
甲: 推荐一个预防感冒的配方, 叫“三辣饮”: 大蒜、葱白、生姜各适量, 煎汤, 趁热饮。买葱姜蒜的时候, 比例可得合适了。

(3) “三辣饮”中, 葱姜蒜三种商品又是什么关系?

乙: 好像最近姜感冒药的多了。
甲: 当然, 价值规律要发挥作用嘛。
乙: 我是说, 咱这儿没有无照行医的吧?

(4) 价值规律会产生什么作用?

26. 材料一 广东省某市城乡居民家庭人均可支配收入对比图



材料二

该市每百户城乡居民家庭生活消费品拥有量对比图

指标	单位	城市				农村			
		1985年	1995年	2001年	2007年	1985年	1995年	2001年	2007年
汽车	辆	5	16	24	26	0	6	9	12
电脑	台	10	48	86	96	1	13	21	37
洗衣机	台	18	52	96	108	3	14	51	63

根据上述材料, 运用《经济生活》知识回答:

(1) 材料一、材料二分别反映了什么经济现象?

(2) 运用《经济生活》相关道理简要分析材料一与材料二之间的内在联系。

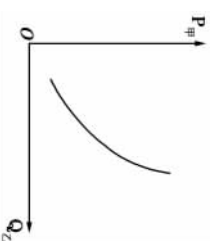
五年真题

2010 年高考题组

1. (2010 山东) 甲商品价格($P_{甲}$)与乙商品需求量($Q_{乙}$)之间存在如右图所示关系。在其他条件不变的情况下,下列判断正确的是 ()

- ①甲商品的需求量受乙商品价格的影响
- ②甲商品价格上升会使乙商品价格下降
- ③甲商品价值量降低时,人们对乙商品的需求增加
- ④人们的某一特定需要,甲乙两种商品都可以满足

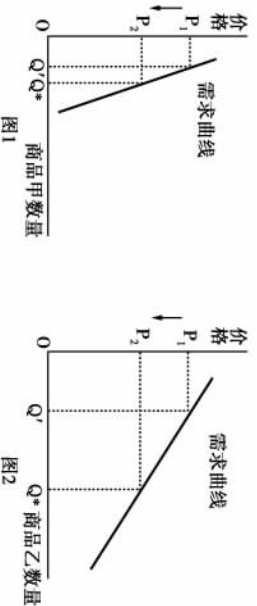
A. ①②
C. ②③



2. (2010 天津) 日前,天津板栗被国家质检总局批准为国家地理标志保护产品,成为受法律保护的原产地产品。以蓟县为主产区的天津板栗同静海独流老醋、蓟县盘山磨盘柿、汉沽茶淀玫瑰香葡萄、宁河七里海河蟹等土特产一起,有了品质和声誉的“身份证”。这使上述土特产 ()

- A. 扩大了品牌效应
- B. 增加了市场供给
- C. 提高了商品价值
- D. 提升了产品质量

3. (2010 广东) 图 1、2 中商品甲、乙是两种互不关联的普通商品。



当两商品的价格 P 均从 P_1 同幅下降到 P_2 时,对于需求量 Q 的变化,若有如下判断:

- ①两商品的需求量与价格同向变动
- ②两商品的需求量与价格反向变动
- ③两商品相比,商品甲是高档耐用品
- ④两商品相比,商品甲是生活必需品

A. ①③
C. ②③

B. ①④
D. ②④

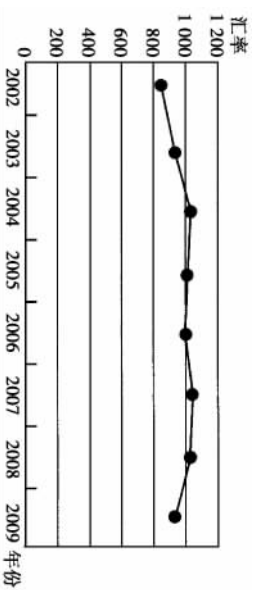
4. (2010 福建) 福州至厦门高速铁路客运专线(动车)开通后,福州的张先生和李先生在“乘坐动车还是汽车前往厦门”的讨论中,张先生说,我会选择动车,虽然它的价格高一些,但速度快,用时少。李先生说,我会选择汽车,虽然它的速度没有动车快,但价格低。由此可见 ()

- A. 商品价格的高低受供求关系影响
- B. 商品价格的高低反映商品质量的优劣
- C. 人们选择商品关注的是商品的有用性
- D. 人们选择商品关注的是使用价值与价值的统一

5. (2010 北京) 某商品的价格 p 变化 Δp 会引起其相关商品的需求量 x 变化 Δx , 这种变化可表现为两种关系: ① $\frac{\Delta x}{x} < 0$, ② $\frac{\Delta x}{x} > 0$ 。在其他条件不变的情况下, 下列描述正确的是 ()

- A. 汽油价格变化和柴油需求量变化之间的关系符合①
- B. 汽油价格变化和原油需求量变化之间的关系符合②
- C. 煤炭价格变化和原油需求量变化之间的关系符合①
- D. 煤炭价格变化和天然气需求量变化之间的关系符合②

6. (2010 北京) 2002—2009 年人民币对欧元的平均汇率(人民币元/100 欧元)



不考虑其他因素,上图中汇率变化产生的影响是 ()

- ①2002 至 2004 年,中国出口到法国的纺织品更具竞争力了
- ②2002 至 2004 年,德国出口到中国的机械设备变得便宜了
- ③2008 至 2009 年,中国企业赴欧元区国家投资设厂更有利
- ④2008 至 2009 年,法国学生来中国留学需要的费用减少了

A. ①③
B. ①④

C. ②③
D. ②④

7. (2010 全国卷二) 假设某企业 2008 年的生产条件属于社会平均水平,生产一件甲种商品的劳动耗费为 6 元,产量为 10 万件。2009 年该企业的劳动生产率提高 50%,其他条件不变,那么,该企业生产甲种商品的个别价值、社会价值和价值总量分别为 ()

A. 4 元、4 元、60 万元
C. 4 元、6 元、90 万元

B. 6 元、8 元、90 万元
D. 8 元、6 元、120 万元

2006—2009 年高考题组

1. (2009 安徽) 某商品生产部门去年的劳动生产率是每小时生产 1 件商品,价值用货币表示为 260 元。该部门今年的劳动生产率提高了 30%。假定甲生产者今年的劳动生产率是每小时生产 2 件商品,在其他条件不变的情况下,甲生产者 1 小时内创造的价值总量用货币表示为 ()

A. 364 元
C. 520 元

B. 400 元
D. 776 元

2. (2009 山东) 下表所示为某市政府制定的自来水价格。该价格的制定 ()

用水分类	价格(元/m ³)	备注
居民生活用水	1.03	
工业及行政事业用水	1.30	
经营服务及其他用水	1.50	洗车点如已安装并使用循环利用装置, 用水价格按每立方米 1.50 元执行
特种用水	2.50	
洗车用水	5.00	

自来水价格表(节略)

- ①利用了价值规律的调节作用
- ②发挥了政府宏观调控的职能
- ③表明价格形成应以政府定价为主
- ④有助于引导绿色消费观念的形成

A. ①②③
C. ①②④

B. ①③④
D. ②③④

(2009 浙江) 春秋时期,齐国国王命令大臣们必须穿丝制衣服,但国内只准种粮食而不准种桑树。齐国蚕丝需求量大,价格上涨,邻近的鲁、梁等国纷纷停止种粮改种桑树。几年后,齐王又命只准穿布衣,且不准卖粮食给其他国家。结果,鲁、梁等国因饥荒而大乱,不战而衰,齐国坐享其成,使疆土得以扩张。回答 3 题。

3. 上述故事中蕴涵的经济生活道理有 ()

- ①供求变化直接影响商品的价格
- ②价格变动对生产具有调节作用
- ③价格在本质上是供求决定的
- ④价格涨跌是通过行政手段实现的

A. ①②
C. ①④

B. ②③
D. ③④

4. (2009 海南) 十一届人大二次会议审议通过的 2009 年《政府工作报告》提出,要进一步提高居民的社会保障待遇。2009 年、2010 年我国企业退休人员基本养老金人均每年增长约 10%。如果其他条件不变,这一措施将 ()

- A. 缩小个人和家庭收入差距
- B. 提高企业吸引力和经济效益
- C. 刺激消费,促进社会稳定
- D. 实现养老金保值、增值

5. (2008 上海) 历史上,贝壳、粮食、皮革都曾充当过商品交换的媒介,但伴随着商品交换的发展,“贵金属”长期占据了货币的宝座。这是由于“贵金属” ()

- ①化学性质稳定、便于保存
- ②可用作装饰品
- ③具有很高的价值
- ④质地均匀、便于分割

A. ①②③
C. ①③④

B. ①②④
D. ②③④

(2006 全国卷一) 有一道趣味智力题: 某商店出售汽水,每瓶 1 元,每 2 个空汽水瓶可以换得 1 瓶汽水,但不可兑换现金。使用 10 元现金,通过购买、换领、借入汽水并归还等方式,最多可享用 20 瓶汽水。回答 6 题。

6. 在获取这 20 瓶汽水的过程中,出现的经济现象包括 ()

- ①商品流通
- ②易货交易
- ③货币支付
- ④货币借贷
- ⑤非现金结算

A. ①②③
C. ①②④

B. ①③⑤
D. ②③⑤

7. (2008 广东) 没有稳定收入的人士很难申请到银行发行的信用卡,因为银行信用卡是 ()

- A. 商业银行对年满 18 周岁的客户发行的一种信用凭证
- B. 商业银行对资信状况良好的客户发行的一种信用凭证
- C. 商业银行对拥有房、车等资产的客户发行的一种信用凭证
- D. 商业银行对喜欢提前消费的客户发行的一种信用凭证

8. (2008 天津) 天津“泥人张”彩塑形神毕肖,栩栩如生,被誉为民族艺术的奇葩,深受中外人士喜爱。如果该商品以人民币表示的出口价格上涨 5%,其他条件不变,美元贬值后该商品以美元标价应 ()

- A. 上涨不足 5%
- B. 上涨 5% 以上
- C. 下降不足 5%
- D. 下降 5% 以上

9. (2006 上海)我国改革人民币汇率形成机制后,人民币对美元有所升值。在其他条件不变的情况下,人民币升值会使 ()
 A. 出口商品的获益增加
 B. 同样数量人民币可兑换的美元更少
 C. 来华购物的外国游客增多
 D. 同样数量人民币能进口的商品更多

10. (2008 北京)稳定物价可采取调节利率、汇率和变动财政收支等多种手段。从防止物价过快上涨角度看,下列选项中正确的是 ()
 ①提高利率→投资下降→生产资料需求减少→商品价格水平下降
 ②本币升值→商品出口量增加→外汇流入减少→商品价格水平下降
 ③征收消费税→消费者税负增加→消费需求减少→商品价格水平下降
 ④扩大政府投资→生产规模扩大→单位商品价值量下降→商品价格水平下降
 A. ①③
 B. ①④
 C. ①③④
 D. ②③④

11. (2007 全国卷一)假定去年生产 1 克黄金的社会必要劳动时间是生产 1 克白银的社会必要劳动时间的 8 倍,且 5 件 A 商品=2 克黄金。如果今年全社会生产黄金的劳动生产率提高 1 倍,那么 5 件 A 商品的价格用白银表示为 ()
 A. 4 克
 B. 8 克
 C. 16 克
 D. 32 克

12. (2006 全国卷一)在同一市场中,等离子电视机这类高档商品的售价比阴极射线管电视机这类普通商品的售价要高,这是因为 ()
 A. 高档商品包含较多的社会必要劳动时间
 B. 高档商品包含较多的个别劳动时间
 C. 高档商品的使用价值比较大
 D. 高档商品的使用功能比较完善

13. (2008 海南)上个世纪 90 年代末,某国中西部出现了罕见的灾害天气,导致该地区玉米产量比预计下降了 53%,造成玉米价格大幅度上升。玉米价格的上升,不仅造成玉米需求小幅下降,还造成小麦需求上升。这说明 ()
 A. 玉米的需求弹性较小,且玉米和小麦是替代商品
 B. 玉米的需求弹性较大,且玉米和小麦是替代商品
 C. 玉米的需求弹性较小,且玉米和小麦是互补商品
 D. 玉米的需求弹性较大,且玉米和小麦是互补商品

14. (2007 海南)假定当 A 商品的互补品价格上升 10%时,A 商品需求变动量为 20 单位;当 A 商品的替代品价格下降 10%时,A 商品需求变动量为 30 单位。如果其他条件不变,当 A 商品的互补品价格上升 10%、替代品价格下降 10%同时出现时,那么,A 商品的需求数量 ()
 A. 增加 50 单位
 B. 减少 50 单位
 C. 增加 10 单位
 D. 减少 10 单位

15. (2008 上海)联合国对消费水平的规定标准:恩格尔系数在 59 以上为绝对贫困;50~59 为温饱水平;40~49 为小康水平;20~40 为富裕水平;20 以下为极度富裕。根据下表推断某市的消费水平已经达到 ()
 某年某市社会消费品零售额一览表

项目	吃	穿	用	其他	总计
金额(亿元)	1 700	500	1 700	100	4 000

- A. 温饱水平
 B. 小康水平
 C. 富裕水平
 D. 极度富裕

16. (2006 广东)漫画(见下图)旨在劝诫年轻人 ()



- ①要体谅父母的艰辛 ②应该依赖父母
 ③消费要量力而行 ④要尽情享受生活
 A. ①③
 B. ②④
 C. ①②
 D. ②③

17. (2007 山东)目前,我国的一些商品存在着“过度包装”问题。如果你针对其危害,向消费者写一份“倡导绿色消费,抵制过度包装”的倡议书,符合上述要求的选项是 ()
 ①商品包装质量是价格和消费的决定因素
 ②依法维护消费者的合法权益
 ③国家宏观调控在资源配置中起基础性作用
 ④消费对生产有重要的反作用
 A. ①②
 B. ②③
 C. ②④
 D. ③④

18. (2009 全国卷二)阅读材料,回答下列问题。

我国农村居民生活消费支出构成统计表

年份	家庭人均纯收入指数 (1978 年=100)	食品支出%	交通通讯支出%	文教娱乐用品及服务支出%
1985	268.9	57.79	1.8	3.9
1990	311.2	58.80	1.44	5.37
1995	383.6	58.62	2.58	7.81
2000	483.4	49.13	5.58	11.18
2005	624.5	45.48	9.59	11.56

资料来源:《中国统计年鉴 2006》

根据上表描述我国农村居民消费结构的变化,指出这一变化说明了什么问题。

19. (2008 天津)粮食问题引发全球广泛关注,我国高度重视粮食安全。阅读以下材料,回答问题。

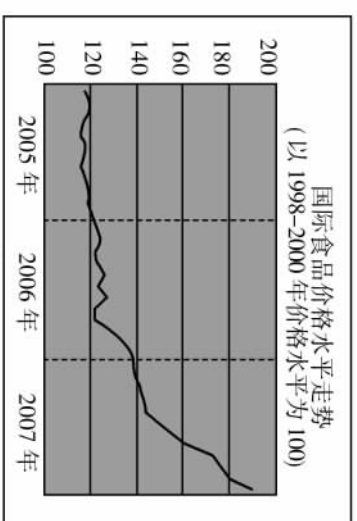


图 1

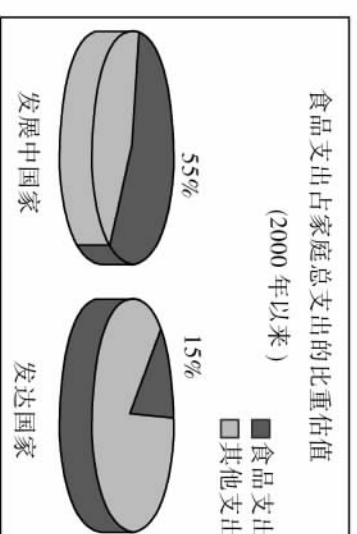


图 2

(1)指出图 1 和图 2 反映的经济现象及其联系。

(2)从供求与价格关系的角度,分析在材料一背景下我国粮食连续增产的经济影响。

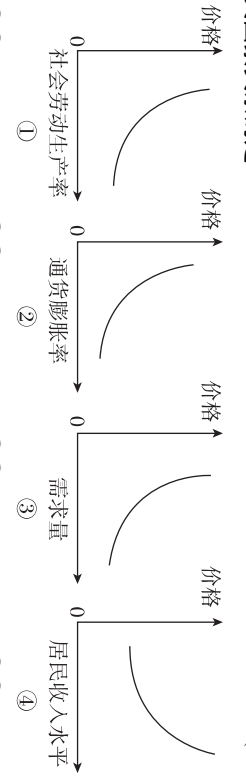
20. (2007 上海)十九世纪英国作家查尔斯·狄更斯在《大卫·科波菲尔》中写到:年收入二十镑,年支出十九镑十九先令六便士,结局是幸福;年收入二十镑,年支出二十镑零六便士,结局是痛苦。请运用所学消费的有关知识简要回答:

(1)狄更斯评价“幸福”和“痛苦”的依据是什么?

(2)同样是“年收入二十镑,年支出十九镑十九先令六便士”的人,获得“幸福”的程度也可能不同,为什么?

三年模拟

2008—2010年模拟试题组

- (2010 长春一调)2009年,某国待售商品2 000亿元,平均每件商品售价15元,该年度货币流通次数为3次,受金融危机冲击,该国政府多投入2 500亿单位,在其他条件不变的情况下,该国当年货币贬值和物价上涨的幅度分别是 ()
A. 20% 25% B. 20% 20% C. 80% 75% D. 25% 25%
- (2010 北京西城1月抽样)钱学森说过:“我姓钱,但我不爱钱。”我们认为,正确的金钱观应该是 ()
①取之有道 ②用之有益 ③承认财富 ④用之有度
A. ①②③ B. ①②④ C. ①③④ D. ②③④
- (2010 合肥一检)右图函数图象描述的是某商品在半年中的价格走势,对该图理解不正确的是 ()
A. 该商品很可能处于卖方市场
B. 生产该商品可能会付出更多的劳动
C. 该商品的市场需求量迅速下降
D. 生产者可能会调整该商品的生产规模
- (2010 辽宁大连双基)下列示意图反映的是通常情况下价格与相关因素的关系。其中①②④分别反映的是价格随社会劳动生产率、通货膨胀率、居民收入水平变化的曲线,③反映的是需求量随价格变化的曲线。这些示意图中正确反映价格与相关因素关系的是 ()


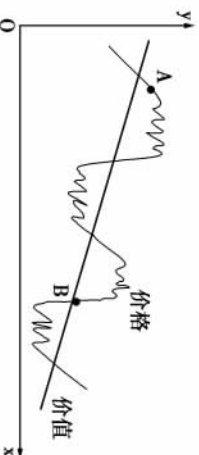
① ② ③ ④
- (2010 西安分科质检)2008年,某生产皮鞋的厂家生产皮鞋10万双,一双皮鞋的价值量为120元,假如2009年生产皮鞋的社会劳动生产率提高了20%,该生产者采用先进的工艺使劳动生产率提高了50%,同时又多雇佣了10%的劳动力。此时,一双皮鞋的价值量和该生产者创造的价值总量分别为 ()
A. 120元 1 980万元 B. 100元 1 650万元
C. 140元 2 310万元 D. 96元 1 584万元

6. (2010 陕西质检一)右图是两种商品的价格变动与市场需求量的变化情况。对此说法中正确的是 ()

- ①a商品需求弹性大,b商品需求弹性小
②a商品可能是大米类商品,b商品可能是项链类商品
③a商品互补性商品种类少,b商品互补性商品种类多
④a商品替代性商品种类少,b商品替代性商品种类多

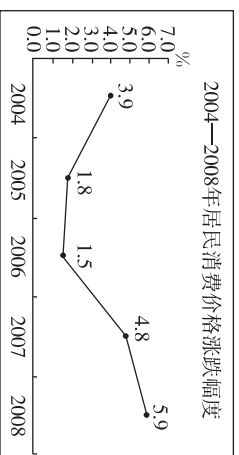
- A. ①② B. ②③
C. ②④ D. ③④

7. (2010 东北三省四市联考)近年来,市场上的电脑、汽车等商品不断降价,有些品种已经退出了市场。下图是某种商品从产生到退出市场的价格波动图,价格从A点运行到B点,说明 ()



- ①该商品的社会劳动生产率提高
②该商品的生产者从赚钱到保本经营
③该商品生产者的个别效率从高于到等于社会效率
④生产该商品的社会必要劳动时间减少,价值量降低
- A. ①② B. ①③
C. ①④ D. ②④

8. (2010 济南模拟一)物价被称做是国民经济运行与发展的“晴雨表”。下列对图表的解读不正确的是 ()



- A. 居民消费价格受多种因素影响呈现波动运行态势
B. 2006至2008年总体上处于卖方市场
C. 在收入不变条件下2008年居民消费水平会下降
D. 2006年物价水平低表明经济发展质量和效益好于其他年份
9. (2010 杭州一检)2009年我国许多城市上调了水价。对于调高水价,你认为其合理依据应该包括 ()

- ①供水企业的生产效率提高
②供水企业的生产成本增加
③我国人民收入水平提高
④资源配置要符合价值规律
- A. ①④ B. ①③
C. ②③ D. ②④

10. (2010 安徽蚌埠一检)根据有关资料显示,安徽省的居民恩格尔系数在2001年、2004年和2008年分别为47.5%、43.4%、41.7%。这一变化趋势表明我省居民 ()

- ①家庭食品支出额在减少 ②消费结构不断改善
③消费水平与生活水平提高 ④收入差距不断减小
- A. ①②③ B. ②③④
C. ②③ D. ①④

11. (2010 浙江金华十校期末)“因为房子,我们害怕事业,因为房子,我们不敢创业;因为房子,我们被迫啃老;因为房子,我们不敢养育下一代。”80后青年的自嘲表明 ()

- A. 我们的整体消费水平很低
B. 我们的整体物价指数很高
C. “被消费”成为主要的消费方式
D. 我国的消费结构很不合理

12. (2010 天津河西调查)下列关于绿色消费的说法,正确且全面的选项是 ()

- ①绿色消费以保护消费者健康和节约资源为主旨
②绿色消费的核心是可持续性消费
③绿色消费是符合人类健康和环境保护标准的各种消费行为的总称
④绿色消费就是消费绿色食品,就是理性消费和适度消费
- A. ① B. ①② C. ①②③ D. ①②③④

13. 据报道,近年来北京市食品垃圾呈现上升趋势,以至于垃圾分类站在回收类别中专门增加了“馒头类”。为此,北京市餐饮业积极倡导“均衡饮食、重质适量,剩饭打包,减少垃圾”的消费新理念。北京市餐饮业提出的消费新理念,其本质是 ()

- ①提倡多在家庭用餐,尽量不外出消费
②促使人们养成健康、文明的生活习惯
③要培养前卫的消费观念
④要求人们发扬艰苦奋斗、勤俭节约的精神
- A. ①② B. ②④ C. ③④ D. ②③

14. 浙江省近年来全面实施“一村(社区)一名大学生”计划,目前全省共招聘了9 400多名全日制大专以上学历普通高校毕业生到农村和社区工作。大学生参与基层民主管理的重要性在于 ()

- ①有利于以后仕途顺利升迁,实现升官发财的梦想
②有利于学习基层民主管理的知识和技能
③有利于体验基层民主管理的意义和价值,增强和提高政治参与的责任意识
④有利于在民主实践中提高自己政治参与的实际本领
- A. ①②③ B. ②③④
C. ①③④ D. ①②③④

15. 托·富勒有句名言:“财富和金钱是智者的奴仆,笨伯的主人。”对这一观点认识正确的是 ()

- A. 货币永远是财富的象征,其本质是一般等价物
B. 财富和金钱谁是奴仆谁是主人,取决于人的智慧
C. 财富和金钱的作用具有两面性,是魔鬼和天使的化身
D. 正确对待财富和金钱,妥善处理财富和金钱和人生的关系

16. 有学者认为,在严重金融风暴中,风眼是已经超级泡沫化的金融衍生品市场和美元体系,黄金和白银将是世界财富最安全的“诺亚方舟”。

这是因为

()

A. 国际市场只能由美元作为结算的工具

B. 作为财富的金银不存在任何市场风险

C. 金银作为特殊商品本身具有价值

D. 金银天然就是货币,货币天然就是金银

17. 在 2009 年年的北京春节庙会上,几款寓意“年年奋斗”的“牛粪”造型玩具十分畅销,有的“牛粪”上还画了可爱的笑脸。据了解,这些小玩意售价从十几元到两千元不等,价格虽然不便宜,但因富有创意,大受年轻人喜爱,成为今年北京庙会上一个亮点。“牛粪”造型玩具从十几元到两千元多的售价是货币在执行_____职能。

()

A. 流通手段

B. 支付手段

C. 价值尺度

D. 世界货币

18. 价格变动影响企业的生产和经营。面对商品降价,企业必须努力提高劳动生产率。其经济意义在于

()

①降低社会必要劳动时间,获得竞争优势

②降低个别劳动时间,减少生产成本

③提高单位商品的价值量,做到以质取胜

④提供产品降价空间,应对价格竞争

A. ②④

B. ②③④

C. ①③

D. ①②④

19. 假定去年生产 1 台彩电的社会必要劳动时间是生产 1 台 DVD 的社会必要劳动时间的 2 倍。如果今年生产彩电的社会必要劳动时间延长 1 倍,而生产 DVD 的社会劳动生产率提高 1 倍,那么下列说法正确的是

()

A. 1 台彩电 = 2 台 DVD

B. 1 台彩电 = 4 台 DVD

C. 1 台彩电 = 8 台 DVD

D. 1 台彩电 = 16 台 DVD

20. 在宁波工作的小李回江西探亲,但考虑飞机票价较贵,小李选择了乘火车回家。这说明

()

①人们对商品的消费,受相关商品价格的影响

②商品价格的变动会引起需求量的变动

③当某种商品价格较贵时,人们可以用替代产品满足自己的需求

④在有互补关系的商品中,一种商品的价格的上涨必然会使另一种商品的需求量增加

A. ①②③

B. ①③

C. ①④

D. ②③④

21. (2010 西安分科质检)某校高二、一班举行了一次有关中学生消费状况的调查,开展研究性学习活动。其中的一个小组收集到本班小王同学消费状况。

8 月家庭收入		8 月份该同学消费支出				8 月份该同学资金情况	
父亲工资	700 元	生日请同学吃饭	150 元	买个性化妆品	100 元	伙食费支出	220 元
母亲工资	500 元	同学送礼	60 元	买 MP4	300 元	向父母要	600 元
						向别人借	230 元

(1) 根据材料,分析判断小王同学可能存在什么样的消费心理?

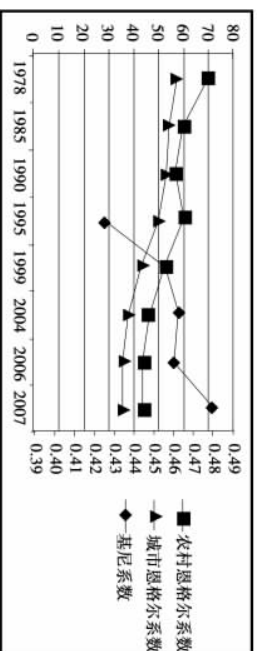
(2) 如果就小王同学的消费让你与他进行一次谈话,请写出你的谈话要点。

(1) 概括材料一蕴涵的经济信息,并结合材料二分析我国家庭消费占 GDP 比重低的原因。

(2) 提高我国家庭消费占 GDP 比重关键是提高农村家庭的消费水平。结合材料二从影响消费水平的因素和宏观调控的角度对我国提高农村家庭消费水平提出合理化建议。

22. 我国改革开放 30 年,大力推进农村改革发展。

材料一 1978—2007 年我国基尼系数和恩格尔系数变化表



注:联合国有关组织规定:基尼系数低于 0.2 表示收入高度平均;0.2~0.3 表示比较平均;0.3~0.4 表示相对合理;0.4~0.5 表示收入差距较大;0.6 以上表示收入差距悬殊。

材料二 在 20 世纪 80 年代,我国家庭消费占 GDP 的比重曾超过 50%,2007 年我国家庭消费占 GDP 的比重是 35.3%,大大低于世界平均水平和发达国家水平。2008 年 10 月 17 日国务院常务会议决定较大幅度提高粮食最低收购价格,制定并发布增加各项农业补贴的方案,11 月 5 日中央政府确定当前扩大内需的十项措施,推出 4 万亿元的投资计划,其中包括加快建设农村民生工程 and 农村基础设施约 3 700 亿元。

23. 2006 年的手机市场上,各个品牌的手机产品一直在性能价格比上寻找最佳市场定位,以吸引更多消费者。与此同时,先期进入市场的手机价格已有了相当幅度的下降。

(1) “各个品牌的手机产品一直在性能价格比上寻找最佳市场定位”体现了经济常识的哪些知识?

(2) 为什么“先期进入市场的手机价格已经有了相当幅度的下降”?

五年真题

2010 年高考题组

1. (2010 上海) 目前,我国非公有经济上缴国家的税收比重不断增加,95%中小企业是非公有制经济,私营企业和个体工商户从业人员共约 1.5 亿。这说明非公有制经济 ()
- A. 对国民经济起支配作用 B. 是支撑国民经济的主体
- C. 为国民经济注入活力 D. 主要分布在第三产业
2. (2010 江苏)《国务院关于鼓励和引导民间投资健康发展的若干意见》提出,要规范设置投资准入门槛,鼓励和引导民间资本进入市政公用事业、金融服务、石油产业等领域,不得单独对民间资本投资设置附加条件。这是为了 ()
- ①创造公平竞争的市场环境
②消除对非公有制经济的歧视性障碍
③取消不同所有制企业的投资准入门槛
④发挥市场在资源配置中的基础性作用
- A. ①③④ B. ①②③ C. ①②④ D. ②③④

2006—2009 年高考题组

1. (2009 浙江)手机的使用越来越普及,人们对手机的功能和通信服务的要求也越来越高,这使得 3G(第三代移动通信)应运而生。随着 3G 时代的到来,一个由设备生产、终端制造、信息服务等构成的庞大产业链正在壮大。这表明 ()
- ①消费对生产的调整和升级起着导向作用
②消费量的增加带来产品质量的提高
③消费热点的出现能带动相关产业的成长
④消费是社会再生产过程中起决定作用的环节
- A. ①② B. ①③ C. ②③ D. ③④
2. (2009 上海,不定项)建立以公有制为主体多种经济成分共同发展的所有制结构,是中国经济体制改革的重要成果。为了更加有利于发展生产力,公有制的具体实现形式应该而且可以是多样的。以下可作为公有制具体实现形式的是 ()
- A. 外商控股形式
B. 股份合作形式
C. 新型农村合作社形式
D. 国家控股形式
3. (2009 全国卷一)当下,我国很多地方摊贩经营非常活跃,但存在经营不规范现象。有的地方以建立固定经营场所的方式给小摊贩提供经营空间,加强市场管理,规范摊贩的经营行为。促进这类个体经济的发展有利于 ()
- ①实现按劳分配的收入分配原则
②扩大政府调控范围
③解决低收入群体的就业
④方便群众的日常生活
- A. ①③ B. ②③
C. ①④ D. ③④

(2009 海南)某奶牛养殖大县的一百多农户自发成立“奶联社”,将奶牛集中起来,由奶联社组织养牛能手对奶牛统一饲养、管理;每头牛作价 5 000 元入股,固定分红,5 年返利 6 000 元。入社后奶牛的饲养成本下降,牛奶的产量上升,奶价因原奶质量提高而上升。回答 4、5 题。

4. 奶联社经营模式的成功之处在于 ()
- ①积极发展规模化经营
②增加资金和物质投入
③降低农户的经营风险
④对奶价实施有效控制
- A. ①② B. ②③ C. ①③ D. ②④
5. 从所有制性质上看,奶联社属于 ()
- A. 个体经济、混合所有制
B. 集体经济、股份合作制
C. 混合经济、股份合作制
D. 私营经济、混合所有制
6. (2007 全国卷一)生产决定消费,消费对生产具有重要反作用。下列选项中,体现消费对生产具有重要反作用的是 ()
- A. 数字技术的发展,为人们提供了视听效果更完美的产品
B. 随着收入水平的不断提高,旅游成为人们生活的一部分
C. 网上购物方式不仅方便了消费者,而且降低了企业成本
D. 人们对健康的关注,推动了绿色食品业的迅速发展

7. (2007 广东)我国的基本经济制度是公有制为主体,多种所有制经济共同发展。对“公有制为主体”的正确理解是 ()
- A. 公有制在各个经济领域必须占支配地位
B. 在混合所有制经济中,公有制成分必须保持在 50% 以上
C. 公有制在各个地方都必须保持量和质的优势
D. 公有资产在社会总资产中占优势,国有经济要控制国民经济命脉
8. (2008 山东)从 1840 年被迫打开国门,到十一届三中全会后实行改革开放,中国的现代化经历了漫长而艰辛的历程,中国社会发生了天翻地覆的变化。阅读材料,回答问题。
- 改革开放使中国人民走上了富裕安康的广阔道路。下图是某市民在不同年份春节家庭消费的主要支出项目。

年份	支出项目	金额
1978 年	买面粉	18.7 元
	买肉	2.16 元
	买食盐	0.16 元
	买火柴	0.2 元
	买布	13 元
	买自行车	156 元
1992 年	买面粉	41 元
	买鱼、肉	57 元
	买衣服	104 元
	买磁带	12 元
	买报刊	3.8 元
	买彩电	2 600 元
2007 年	买面粉	28 元
	买肉、蛋、奶	185 元
	买花卉	70 元
	买话费	1 780 元
	买手机	56 元
	买数码相机	2 750 元


春节消费体现了不同年代生活消费的主要特征。根据上图,概括改革开放以来该市民在家庭消费方面发生的主要变化,并从经济制度和经济体制角度分析变化的原因。

三年模拟

2008—2010 年模拟题组

1. (2010 辽宁大连双基)2009 年 10 月 16 日,第十一届全国全运会在山东省济南市开幕。受全运会的影响,人们对济南市的旅游、商贸、通信、传媒、宾馆、餐饮等需求不断增长,带动了济南第三产业的发展。这体现的经济学道理是 ()
- A. 生产决定消费的水平 and 对象
B. 消费是生产的最终目的
C. 消费的增长促进生产的发展
D. 生产和消费都是社会再生产过程中的重要环节
2. (2010 湖南湘潭三模)一套住房所需要的钢材要远远多于服装、彩电、冰箱等产品,一部小汽车需要的材料和零件也远远多于自行车、手表、空调等产品。房地产和汽车工业的快速发展,往往带动重化工工业部门以超常的速度发展。这表明 ()
- A. 生产决定消费,生产结构决定消费结构
B. 企业生产必须节约资源,降低消耗
C. 企业面向市场,生产适销对路的产品
D. 消费结构的优化升级是推动经济增长的强大动力
- (2010 天津河西调查)2009 年 7 月 20 日,中华环保联合会在北京正式启动“2009 绿色家庭评选公益活动”,并发行绿色消费券,对在家庭环保方面有创意、有贡献的家庭进行表彰。回答 3 题。
3. 从生产和消费的关系看,倡导绿色消费的做法有利于 ()
- A. 引导消费者树立绿色消费观 B. 提高消费者的消费水平
C. 促进绿色产业的发展 D. 增强社会成员的环保意识
4. (2010 北京西城 1 月抽样)有经济学家担心,导致这场危机的巨大失衡——美国过多的债务和赤字与其他国家和地区过多的储蓄——对世界经济来说仍是一种危险。“除非世界出现不止一个消费大国,否则复苏将是乏力的。”这种说法体现的经济学道理是 ()
- A. 生产是消费的动力
B. 消费为生产创造动力
C. 债务与储蓄此消彼长
D. 赤字是引发金融危机的原因
5. (2010 山东潍坊 1 月抽样)2009 年 6 月 22 日,全国林业工作会议召开。会议强调,集体林权制度改革是农村经营制度的又一重大变革,实现了“山定权,树定根,人定心”,充分调动了农民造林、育林、护林的积极性。从根本上看,这是因为林权制度改革 ()
- A. 使林业生产关系更加适合林业生产力的发展
B. 是农村土地制度改革在林业上的拓展和延伸
C. 得到了林农的普遍欢迎,调动了林农的积极性
D. 是推进社会主义新农村建设的一个重大举措
6. 第二次全国经济普查数据显示,2005 年至 2008 年期间,我国国有和国有控股企业在单位数量、工业总产值、资产和利润总额、税金总额、从业人数等多项指标上,都在逐年下降,而非公有制经济的份额在节节攀升;同时,在某些重要的基础性行业中,国有经济比重有所上升。这表明,在我国 ()
- A. 公有制经济主体地位逐渐削弱
B. 非公有制经济更能适应市场竞争
C. 非公有制经济已成为社会主义市场经济重要组成部分
D. 国有经济控制国民经济命脉,对经济发展起主导作用

7. (2010 北京西城 1 月抽样)



上图反映了我国的个体经济和私营经济

- ()
- A. 在国民经济中起主导作用
B. 与其他所有制经济相互促进
C. 是促进经济发展的重要力量
D. 在所有制结构中处于主体地位

8. 消费对生产具有巨大的反作用。下列能直接提高消费对经济增长的贡献率的措施是 ()

- ①对农民实行粮食最低保护价
②提高居民最低生活保障标准
③提高房地产和证券交易税率
④某地政府向居民发放消费券

A. ①② B. ①③ C. ②③ D. ②④

9. 节俭是传统美德。经济学家凯恩斯则提出了节俭悖论,认为节俭对个人、家庭来说是美德,而对社会来说则意味着支出减少,导致有效需求不足,阻碍经济发展,造成失业增加,收入减少。这启示我们 ()

- ①个人要坚持节俭,社会要扩大消费
②消费决定生产,政府应适当刺激消费
③既要勤俭节约,又要适度消费
④应重视消费对生产的影响,积极引导消费

A. ①② B. ②③ C. ②④ D. ③④

10. 2009 年“3·15”国际消费者权益日的主题为“消费与发展”。消费的作用主要表现为 ()

- ①消费是社会再生产过程的重要环节
②消费是物质资料生产总过程的最终目的和动力
③消费拉动经济增长、促进生产发展
④消费对生产的调整和升级起着导向作用

A. ①②③ B. ②③④ C. ①②④ D. ①②③④

国务院总理温家宝 11 月 5 日主持召开国务院常务会议,研究部署进一步扩大内需促进经济平稳较快增长的措施。回答 11 题。

11. 国务院要求着力扩大消费需求特别是居民的消费需求。努力消除制约消费的制度和政策障碍,改善居民的消费预期,引导和促进居民扩大消费需求。这样要求的经济学依据是 ()

- ①消费制约着生产的发展 ②生产决定消费
③消费对经济发展有拉动作用 ④居民消费水平受未来收入预期的影响

A. ①②③④ B. ①③④ C. ①③ D. ③④

12. 2009 年圣诞节快到了。受国际经济形势影响,欧美地区的礼品市场显得有些沉寂,纸质、塑料圣诞礼物的订单今年大为减少。温州一家企业设计开发了玻璃圣诞礼物,很快打开了销路。企业在寒冬里创造了“礼品童话”主要说明 ()

- A. 生产决定消费的对象 B. 生产为消费创造动力
C. 消费对生产具有导向作用 D. 消费是生产发展的动力

13. 中共十七届三中全会通过的《中共中央关于推进农村改革发展若干重大问题的决定》指出,按照依法自愿有偿原则,允许农民以转包、出租、互换、转让等形式流转土地承包经营权。这一规定 ()

- A. 改变了农村土地集体所有的性质
B. 确认了集体经济是公有制经济的重要组成部分
C. 有利于土地适度规模经营,促进农村集体经济发展
D. 有利于发挥集体经济在国民经济中的主导作用,增加农民收入

14. 某地方政府重新审视摊贩经济的作用,划定区域和时段,让小摊贩有序经营;清理不合理的规章制度,放宽对他们的限制。该地政府这样做 ()

- ①有利于壮大公有制经济 ②有利于发展个体经济
③有利于搞活市场 ④有利于缓解地方就业压力

A. ①②③ B. ②③④ C. ①③④ D. ①②④

15. 据统计,广东民营经济由改革开放初期的“边缘的、填补空白的角色”发展到现在的“三分天下有其一”。2008 年,其增加值已占全省生产总值的 42.4%。这表明,民营经济已是广东省 ()

- A. 国民经济的主要支柱
B. 经济发展的最大推动力
C. 国民经济的重要组成部分
D. 财政收入的最主要来源

今明两年,国家将投资 4 万亿元用于加快民生工程、基础设施、生态环境建设和灾后重建,以扩大内需,保证经济增长。据此回答 16 题。

16. 国家的经济刺激计划不应遗忘非公有制经济。这是因为非公有制经济 ()

- A. 是社会主义经济的重要组成部分
B. 是促进我国社会生产力发展的重要力量
C. 拥有比公有制经济更多的数量
D. 更具有抵御金融危机的能力

17. (2010 浙江金丽衢十二校联考)阅读材料,回答问题。

低碳经济是以低能耗、低污染、低排放为基础的经济模式。中国提出的到 2020 年减少碳排放 40%~45% 的目标将引发经济、产业、科技以及生产、生活方式、消费观念等领域的一场深刻革命。推行低碳经济,需要生活方式的创新,在不降低生活质量的前提下,进行消费领域节能和减少碳排放。

结合材料,指出随着我国推行低碳经济,必须转变人们生活方式的经济学依据。

18. (2010 东北三校一模)阅读下列材料,回答问题。

吉林省发展文化产业的区位优势和资源优势并不明显,但吉林省“像抓玉米、抓汽车一样,大力支持文化产业”,他们努力整合吉林歌舞、影视剧、二人转等文化资源,获得巨大成功,被文化产业界誉为“吉林现象”。

吉林省之所以能让文化产业发出充沛的活力,一个重要原因是在文化体制改革与产业发展中抓住了关键环节;创造良好的政策环境和投融资环境;抓住人才这一发展文化产业的第一要素;依据文化市场运行特点,发挥有形手、无形手对价格的调节作用,制定文化发展战略,优先发展大众文化。

结合材料,简要回答文化产业保持大众价格对于社会再生产各环节的重要作用。

19. (2010 山东潍坊 1 月抽样)阅读材料,回答问题。

建国 60 年来,我国基本经济制度不断发展和完善。据工业和信息化部 2009 年 9 月 29 日消息,1997 年后,国有经济和国有资本逐步向关系国民经济命脉的重要行业和关键领域集中,国有经济总量进一步增加,经济效益、运行质量和竞争能力明显提高,控制力、影响力和带动力进一步增强。另外,非公有制经济占 GDP 的比重目前已超过 1/3,非公有制经济投资已占到全社会固定资产投资比重的 50%,形成了巨大劳动力需求,为人们提供了丰富的商品和服务。公有资产和非公有资产都在发展壮大,但没有改变和动摇公有资产在社会总资产中的优势地位。

结合材料,谈谈你对我国基本经济制度的认识。

★ 五年真题 ★

2010 年高考题组

(2010 重庆)受全球金融危机影响,2009 年以来我国经济出现困难,主要表现为外部需求下降、出口贸易不畅,经济增速放缓、失业增加,通货膨胀预期正逐步形成等。据此回答下题。

1. 在此背景下,作为微观经济活动主体的企业在短期内应 ()

- ① 加大营销力度,加速资金回流
- ② 采用先进技术,更新机器设备
- ③ 扩大生产规模,保证供应充分
- ④ 控制生产成本,改善财务状况

A. ①② B. ①④ C. ②③ D. ②④

2. (2010 重庆) 表 生产相同产品的甲乙两企业 2009 年的主要经济指标

企业名称	产量(万件)	职工人数(名)	总产值(万元)	总成本(万元)
甲	5	100	100	45
乙	4	100	80	60

由上表可知

- A. 甲的利润低于乙
- B. 甲的劳动生产率低于乙
- C. 甲的经济效益高于乙
- D. 甲的个别劳动时间多于乙

3. (2010 浙江)面对近年来原材料、劳动力等价格上升的压力,我国沿海某服装出口企业,把生产环节转移到劳动力、土地等生产要素具有优势的内地地区,并致力于产品研发、品牌设计和营销推广,从而大大提高了产品出口竞争力。该企业竞争力提高的因素有 ()

- ① 调整经营战略,利用资源优势
- ② 依靠技术创新,维持低价竞争
- ③ 加强品牌建设,拓展销售渠道
- ④ 调整产业结构,提高产品质量

A. ①② B. ②④ C. ①③ D. ③④

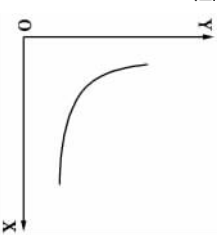
4. (2010 课程标准)在河北曹妃甸的矿石码头,铁矿石运输轮一靠岸,运输带就直接将铁矿石运往新首钢加工车间。经过若干道工序后,铁矿石变成钢材,又从成品码头重新装船销往世界各地。这种紧凑的“前港后厂”生产经营模式,缩短了流通时间,给新首钢带来了巨大的效益。这一效益的取得在于 ()

- ① 流通环节能够产生更大的利润
- ② “前港后厂”模式节省运输成本
- ③ 流通时间的缩短加快了资金的周转
- ④ “前港后厂”模式提高了社会劳动生产率

A. ①② B. ②③ C. ②④ D. ③④

5. (2010 福建)假定其他条件不变,在一般情况下,下列选项中与右图曲线反映的变动关系相一致的是 ()

- A. X 轴为税率 Y 轴为财政收入
- B. X 轴为居民收入 Y 轴为商品房价格
- C. X 轴为商品价格总额 Y 轴为流通中所需货币量
- D. X 轴为经济增长率 Y 轴为失业率



6. (2010 全国卷二)随着新能源汽车的快速发展,遍布城乡的加油站将不仅能为燃油汽车加油,还能为电动汽车充电或为天然气汽车充气。加油站的这种变化表明 ()

- A. 新技术改变人类生活方式
- B. 企业经营应适应市场需求
- C. “节能减排”是经济发展趋势
- D. 市场需求量变化决定产品供给

7. (2010 全国卷二)近年来,中国电影业推出了众多以儒家文化为主题的影片,实现了经济效益和社会效益的统一。如《孔子》在短短 40 天的贺岁档期,票房收入过亿元,助推了“国学热”。说明下表列举的相关因素促进电影业发展的经济学道理。

相关因素	经济学道理
儒家文化备受关注	例:社会的文化需求引导电影业挖掘儒家文化元素,推出适销对路产品,促进电影业发展
城乡居民收入显著增长	①
允许非公资本进入电影业	②
与国外开展电影技术合作	③

表

9. (2010 全国卷二)阅读材料,完成下列各题。

在国际金融危机的冲击下,2008 年宝钢遇到投产 30 年来最大的困难。宝钢认识到,必须依靠员工的共同努力才能战胜困难。为此,宝钢组织了全员参与的“最佳实践者”活动。这一活动激发了员工的智慧与活力,他们围绕节能降耗、优化生产工艺和流程等主题,自主确定技术创新课题 5 576 个,提出合理化建议 161 656 条,其中 142 380 条被采纳,实现经济效益 10. 588 亿元。2009 年 1 月至 5 月,宝钢销售收入 715 亿元,利润 27. 3 亿元,在国内钢铁业中收入和利润排名第一,实现了逆势而上。

宝钢总结这一活动的经验,认为最有力量的是四个字:“尊重劳动”。运用内外因辩证关系原理,说明宝钢为什么能在国际金融危机的冲击下逆势而上。

10. (2010 全国卷一)阅读材料,完成下列各题。

我国非常重视并积极推进节能减排工作,先后颁布实施节约能源法、可再生能源法、循环经济促进法等法律法规。“十一五”规划纲要提出,2006—2010 年单位 GDP 能耗要降低 20% 左右。为落实规划纲要,国务院制定节能减排综合性工作方案,由中央财政支持十大重点节能工程和重点工业污染治理项目;通过财政补贴方式实施节能产品惠民工程;国家发改委等部门联合举办 2009 年中国国际节能减排和新能源科技博览会。

作为十大重点节能工程之一的绿色照明工程,将逐步使用节能灯取代白炽灯和其他低效照明产品。通过对消费者的财政补贴,国家在 2009 年推广节能灯 1 亿只,直接拉动社会消费 10 多亿元。与此同时,我国绿色照明产业也得到长足发展。截至 2009 年 5 月,我国绿色照明企业总数已经突破 3 000 家,年产值近 700 亿元。

根据上述材料并结合所学知识,指出影响家庭购买和使用节能灯的主要因素。如果企业要生产节能灯,应考虑哪些因素?

2006—2009 年高考题组

1. (2009 天津)海尔集团在海外争创全球化品牌的同时,在国内抢抓“家电下乡”机遇,实施了“即需即供”的商业模式,建立了“销售到村”的营销网、“送货到门”的物流网、“服务到户”的服务网。目前,海尔集团“家电下乡”产品销量在全国已占到了 43% 的市场份额。海尔集团能取得上述业绩主要在于 ()

- A. 制定了正确的经营战略
B. 依靠科技进步,增强竞争力
C. 积极承担企业的社会责任
D. 诚信经营,树立良好企业形象
2. (2009 福建)近期,福建省对从事个体经营且符合条件的高校毕业生给予免收行政事业性收费、税收优惠、小额贷款贴息等政策扶持。这表明 ()
A. 实现就业必须通过市场竞争
B. 高校毕业生应树立平等就业观
C. 政府鼓励高校毕业生自主创业
D. 选择职业只能根据个人兴趣专长
3. (2009 江苏)实现和维护劳动者权益是社会主义制度的本质要求。劳动者获得权利、维护权益的基础是 ()
A. 依法签订劳动合同
B. 保障劳动者主人翁地位
C. 建立和谐的劳动关系
D. 自觉履行劳动者的义务
4. (2009 海南)在世界金融危机期间,一批依托科研机构进行技术研发的企业呈现逆势上扬的态势,新产品不断问世,企业的销售收入与利润也随之上升。这是因为 ()
① 产品创新增强了企业竞争优势
② 产研联合实现了双方优势互补
③ 新产品的新功能增大了其价值
④ 科技产品的需求弹性小利润大
A. ①② B. ②③ C. ③④ D. ①④
5. (2009 海南)1980 年至 1990 年,我国 GDP 保持每年 9.5% 的增长,就业人口年增长率 4.3%,就业弹性(就业人口年增长率/GDP 年增长率)为 0.453。1991 年至 2000 年,就业弹性下降至 0.11。2001 年至 2008 年,就业弹性下降到不足 0.1。下列措施中能有效提高我国就业弹性的有 ()
① 大力发展服务业 ② 保持经济快速增长
③ 支持中小企业发展 ④ 提高劳动者工资水平
A. ①② B. ①③ C. ②④ D. ③④
6. (2008 宁夏)甲经营两年的个人独资企业由于市场不景气而破产。对于企业债务,甲应 ()
A. 以个人财产承担无限责任
B. 以注册资本为限承担责任
C. 以法人资产为限承担责任
D. 承担无限连带责任
7. (2008 北京)某地采用工资集体协商制度,即由职工代表与企业代表依法就工资分配形式、支付办法和工资标准等进行平等协商,在此基础上签订工资协议。该制度 ()
① 提高了劳动者的竞争意识 ② 实现了劳动者权利和义务的统一
③ 保护了劳动者获得合法报酬的权利 ④ 体现了劳动关系双方当事人的意志
A. ①③ B. ②③ C. ②④ D. ③④
8. (2007 全国卷一)在我国社会主义市场经济中,企业间的竞争越来越激烈,企业的兼并和破产现象也越来越多。企业间的兼并和企业破产 ()
① 是价值规律作用的结果
② 是股份制改造的最佳途径
③ 是市场失灵的具体表现
④ 是优化资源配置的客观要求
A. ①② B. ②③ C. ③④ D. ①④

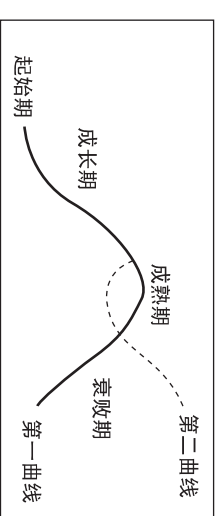
9. (2009 上海)为了支持与鼓励高校毕业生创业,国家在贷款、税收等方面推出了多项优惠扶持政策。

- (1) 经济常识告诉我们,“就业”是指“具有劳动能力的公民在法定的劳动年龄之内依法从事某种有报酬的社会职业”。请参照就业概念,谈谈什么是“创业”。
(2) 大学生创业对自己和社会有什么积极意义?
(3) 运用哲学常识回答,何谓“理想”及其与“创业”的联系。

10. (2007 海南)阅读材料回答下列问题。

H 企业利用资金优势和技术优势,有选择地兼并某些处于亏损状态的企业。实现了低成本扩张。目前,H 企业已经在湖北、广东、贵州等地建立起控股公司,产品涉及到家电、信息、生物工程等多个领域,真正收到了“1+1>2”的经济效果。根据材料,分析 H 企业能够实现“1+1>2”的经济学道理。

11. (2007 北京)一般地说,企业的发展都要经历一个从“起始期”“成长期”到“成熟期”“衰败期”的生命周期,其运动轨迹被称为“第一曲线”。为了能够实现持续发展,避免衰败,企业需要在高峰到来之前,开辟一条新道路,这条道路发展的轨迹被称为“第二曲线”。完成下列问题。



结合经济常识,分析下列案例中企业是如何从“第一曲线”向“第二曲线”转化的。

某市素有“中国锁都”之称。近年来,铜、锌等原材料价格大幅上涨,该市锁具企业加大研发投入,改变以模仿为主的制造工艺,使用新型、便宜的人工合成材料,使产品种类不断推陈出新,销售量持续上升。

分析:

某公司在 20 世纪 80 年代只是一个中型集团企业。1992 年,该公司任命新总裁。他敏感地意识到无线通讯产品在全球将有巨大的市场,果断决定放弃和压缩电缆、电视等原有的核心业务,集中资金和人力生产移动通信产品。适时的业务转变,使公司成为全球无线通讯市场的佼佼者。

分析:

甲乙两企业都是中国有影响力的家电销售企业,前者的全国整体实力优势较为明显,后者在长三角等地区具有较大市场份额。二者合并后,新集团保留原有品牌,进行双品牌经营,既保持了原有优势,又通过统一采购、物流和管理,形成全国“一盘棋”格局。

分析:

某语言培训学校在发展过程中不断突破,于2000年成立了投资有限公司,又于2006年在美国纽约证券交易所挂牌上市,最终从一个私人企业成长为国际化的教育科技集团。

分析:

12. (2006 广东) 公司作为现代市场经济重要的企业形式,其本质特征就在于出资者的人数较多。

2. (2010 广东惠州二调) 香港创新科技署署长在香港电子科技商会 2009 周年晚宴上表示:在这次金融风暴中体验到,从事高附加值高科技的企业,一般比其他企业拥有更强的逆境生存能力。这表明 ()

① 企业提高自主创新能力有利于形成自己的竞争优势 ② 企业应对金融危机的关键就在于加大科研的投入 ③ 科技创新让企业产品价值倍增,使企业拥有更强的逆境生存能力 ④ 提高自主创新能力,依靠技术进步,是现代企业发展的最重要的方法和途径

A. ①② B. ②③
C. ③④ D. ①④

3. (2010 南京调研) 某公司自主进行“速效救心丸对人类基因整体表达情况的影响”科研项目研究,并应用于生产,取得巨大经济效益。这表明,企业只有 ()

A. 提高自主创新能力,依靠技术进步,才能形成竞争优势

B. 诚信经营,才能树立良好信誉和形象

C. 保持一定盈利能力,才能开发技术、扩大规模

D. 制定正确经营战略,抓住机遇,才能加快发展

4. (2010 安徽蚌埠一检) 2009 年上半年,国家工信部发出《关于做好缓解当前生产经营困难,保持中小企业平稳较快发展有关工作的通知》,要求坚决贯彻落实党中央国务院关于扶持中小企业发展的一系列政策措施。面对全球金融危机,影响企业经营成败的主要因素包括 ()

① 制定正确的经营战略

② 自主创新,依靠科技进步和科学管理等手段,形成自己的竞争优势

③ 企业产品的广告宣传力度

④ 诚信经营,树立良好的信誉和形象

A. ①②③ B. ①②④ C. ①③④ D. ①②③④

5. (2010 西安分科检测) 2009 年 3 月 5 日,温家宝总理在《政府工作报告》中指出,要深化科技体制改革,发挥企业在技术创新中的主体作用。企业致力于技术的自主创新,其内在动力是 ()

A. 增加经济收益

B. 节约原材料,降低生产成本

C. 减少社会必要劳动时间 D. 创造和增加社会财富

6. (2010 长春一调) 企业应当承担社会责任的理念在国际上已经达成了广泛共识。下列选项中,能够反应企业承担社会责任的是 ()

① 维护劳动者的合法权益 ② 搞清洁生产,减少污染,保护环境

③ 加强企业管理,提高经济效益 ④ 采用科技,获取更多的利润

A. ①② B. ②③ C. ①④ D. ②④

7. (2010 东北三省三校一模) 小企业发展不足,是我国目前中等收入水平人口少、经济内生动力不足的主要原因。根据我国当前实际,推动小企业发展关键是 ()

A. 促进中小企业所有制改革

B. 以公有制为主体,多种所有制经济并驾齐驱

C. 鼓励、支持、引导中小企业的发展,放宽市场准入

D. 保证小企业在国民经济中地位平等,促进企业公平竞争

8. (2010 福州质检) 达维多定律:一家企业要在市场中总是占据主导地位,那么就要做到第一个开发出新一代产品,第一个淘汰自己现有的产品。该定律启示我们,成功的企业经营必须 ()

A. 不断改变经营战略 B. 保持产品的竞争力

C. 承担企业的社会责任 D. 树立良好的企业形象

(2010 天津河西调查) 2009 年 2 月 28 日,十一届全国人大常委会第七次会议表决通过了《中华人民共和国食品安全法》。该法规定:“食品、食品添加剂和食品相关产品生产者,应当依照食品安全标准对所生产的食品、食品添加剂和食品相关产品进行检验,检验合格后方可出厂销售。”回答 9、10 题。

9. 这一规定要求食品、食品添加剂和食品相关产品生产者必须 ()

A. 严格遵守市场规则

B. 转变企业经营方式

C. 明确企业经营战略 D. 提高自主创新能力

10. 食品、食品添加剂和食品相关产品生产者加强自律树立起良好的信誉和形象,对企业来说 ()

A. 能够不断提高商品的价值量和使用价值量

B. 能通过正当竞争提高其经济效益

C. 是一种无形资产决定着经济效益的高低

D. 能提供优质产品满足消费者各种需要

11. (2010 陕西宝鸡质检一) 小敏、小陈、小张、小李四人是同班同学,大学毕业后,不等不靠,自主创业,联合成立了“宝鸡特色食品”有限责任公司。可是,如何才能把公司经营好呢?四人正一筹莫展。现在请你给他们出谋划策,你认为下列哪些方法可以提供给他们 ()

① 公司要制定正确的经营战略 ② 公司要诚信经营,树立良好的信誉和形象

③ 公司要在激烈的市场竞争中站稳脚跟 ④ 公司要依靠技术进步、科学管理等手段,形成自己的竞争优势

A. ①②④ B. ①②③④

C. ②③④ D. ①②③

12. (2010 广东惠州二调) 2009 年我国就业形势依然严峻。一方面,新增劳动力、城镇就业困难人员和历年累计未就业人员,总计 2 400 万人需要就业。但另一方面,上海等地,中高级技术工人、专业人才则持续供不应求。这一矛盾表明 ()

A. 我国劳动力总量太大,国家应支持企业扩大用人规模

B. 我国的劳动力市场严重滞后

C. 我国目前解决就业问题最关键的是培养一大批中高级技术工人

D. 我国劳动力素质与社会经济发展的需要不完全适应

13. (2010 江苏南通一模) 当前在社会上,存在等饭碗、找饭碗、造饭碗等各种不同的就业理念。劳动者应树立的择业观念是 ()

① 根据个人兴趣、专长和条件,自主选择

② 社会主义国家,择业要靠政府

③ 工作一定要体面,不要让人看不起

④ 不断提高职业技能和素质,积极主动适应劳动力市场的需要

A. ①② B. ②③ C. ①④ D. ③④

14. (2010 浙江金丽衢十二校联考) 中国工人作为中国经济增长保八成功的功臣,入选美国《时代》2009 年度人物。据上海 4 000 户入户调查资料显示,被调查者中仅有 1% 的人愿意做工人。面对褒奖和现实的尴尬,需要给予工人这一群体更多关注 ()

A. 发展经济,扩大就业 B. 完善法律,保护权益

C. 地位平等,尊重劳动 D. 提高素质,再战未来

15. (2010 南京调研) 2009 年公务员考试中,竞争南京地区 500 多个职位的考生近 2 万人,某些职位报考出现“百里竞一”现象。这启示我们,要树立 ()

① 自主择业观 ② 竞争就业观 ③ 职业平等观 ④ 正确金钱观

A. ①② B. ②④ C. ②③ D. ③④

2008—2010 年模拟题组

三年模拟

1. (2010 浙江金华十校期末) 环保观念深入人心,企业对未来的把握尤显重要。如建材开发商不仅要关注材料的性价比,还要关注材料的碳排放指标。因为 ()

① 企业是以营利为目的 ② 企业生产要考虑到的市场需求

③ 供求决定价格的水平 ④ 商品是使用价值和价值的统一

A. ①②③ B. ①③④ C. ①②④ D. ②③④

16. (2010 辽宁大连双基) 2010 年国家公务员考试, 审查合理的报考人数历史性地达到了 146 万人。尽管公务员招录职位 2010 年比 2009 年增加了 1 000 多个, 但竞争的激烈程度并未削减, 招录比例甚至达到 93 : 1, 堪称“百里挑一”。材料告诉我们, 个人实现就业应该 ()

- ①将高薪作为重要的择业标准 ②通过市场竞争实现自主择业
③树立多种方式就业观 ④实施积极的就业政策, 多渠道扩大就业
- A. ①② B. ②④ C. ②③ D. ③④
17. (2010 福建厦门质检) 进入 2009 年 7 月以来, “民工荒”在东部沿海地区蔓延。8 月份深圳用工缺口达到 12 万, 11 月份厦门用工缺口 2 万。要解决“民工荒”现象, 最关键的是要 ()
- A. 切实保护劳动者的政治权利 B. 加强劳动者的技能培训
C. 提高劳动者的工资待遇 D. 增强劳动者维权意识

18. (2010 合肥一检) 2009 年 7 月河南省农民工张海超“开胸验肺”事件一经媒体披露就引起了广大网友的热议。“开胸验肺”事件: 农民工张海超为证明自己得了尘肺病, 更为冲破企业阻挠和权威鉴定机构的荒唐诊断, 他不惜以近乎自残的开胸验肺方式维权。) 为预防此类事件的发生 ()

①企业应积极承担社会责任 ②要健全社会保障制度
③劳动者应采取恰当的维权方式 ④政府应运用各种手段维护劳动者的合法权益

A. ①②③ B. ②③④ C. ①③④ D. ①②④

19. (2010 江苏南通一模) 实现和维护劳动者权益是社会主义制度的本质要求。维护劳动者合法权益的重要依据是 ()

A. 依法签订劳动合同 B. 自觉履行劳动者义务
C. 保障劳动者主人翁地位 D. 增强劳动者权利意识

20. 市场经济中的企业犹如社会中的人, 有生必有死, 有死方知生。《破产法》就是关于“死”的法律, 解决的是市场退出的问题。“有死方知生”说明, 企业破产 ()

A. 可以强化企业的风险意识 B. 导致的失业必然会引起社会的不稳定
C. 有利于减轻国家的财政负担 D. 会侵犯破产企业职工的正当权益

21. 就业是民生之本。目前我国继续实施扩大就业的发展战略, 提倡以创业带动就业, 对此理解正确的是 ()

A. 解决创业问题就能解决就业问题
B. 转变就业观念, 树立职业平等观
C. 要支持自主创业、自谋职业的政策
D. 积极的就业政策是社会主义的根本经济特征

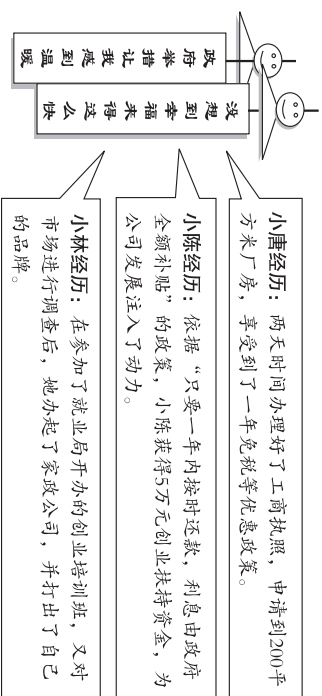
22. (2010 皖南八校联考) 阅读材料, 回答下列问题。

中国文房四宝文化旅游节、凤阳花鼓文化旅游节、2009 花亭湖金秋旅游节暨第八届皖西南山货节、2009 中国·合肥苗木花卉交易大会、第八届凤凰美食文化节、首届中国(安徽)国际酒店用品及设备博览会……今年以来, 我省各地政府、旅游主管部门、景区景点纷纷高举“节庆牌”, 精彩纷呈, 高潮迭起, 参加的企业收效明显。有关专家表示, 在通过打好节庆庆活动这张牌来有效促销方面, 安徽企业受益匪浅。

“一个地方发展旅游业需要很多载体, 节庆活动是其中之一。”专家认为, 旅游市场开发一定要强化“政府推手, 市场基础”的理念, 我省很多活动需要年年办, 但是在保持一定传统的基础上每年办得有点新意, 办得有新亮点, 让活动形成品牌, 形成影响力, 市场营销就会水到渠成, 能够收到事半功倍的效果。

有人认为, 旅游企业的成功经营主要靠节庆庆活动。请你运用《经济生活》有关知识并结合材料评析这一观点。

23. (2010 北京西城 1 月抽样) W 区建立大学生创业园, 在半年多的时间里, 落实大学生创业项目 83 个, 参与创业大学生 102 人。



结合材料, 分析 W 区创业乐园“好戏不断”的经济原因。

24. (2010 长春一调) 就业是民生之本, 某校高三(5)班学生分成若干小组围绕着就业问题开展了探究性学习, 同学们通过多种途径收集到以下资料, 现在请你参与其中, 并完成有关问题。

第二小组学生在走访时还见到了某公司拟定的这样一份劳动合同书:

劳动合同书	
甲方: 莫某公司	
乙方:	
甲、乙双方依法签订本劳动合同, 共同遵守本合同所列条款:	
一、乙方被甲方录用后, 需按时保质完成工作, 遵纪守法, 维护甲方的荣誉和利益。保守商业秘密。	
二、乙方如违反劳动纪律, 甲方可依章给予纪律处分, 直至解除本合同。乙方在生产过程中发生一切工伤事故一概由乙方本人负责。	
三、本合同期满后, 双方可以续签。如乙方违约, 则需承担违约责任, 给予甲方经济赔偿。	
四、本合同自签订之日起生效, 有效期两年。	
甲方(盖章)	乙方(盖章)
签订日期: 年 月 日	签订日期: 年 月 日

假如你是一位大学毕业生, 面对该合同, 你准备签吗? 请说明理由。

25. 结合所学知识, 回答下列问题:

材料一 受美国“金融风暴”引起的全球金融危机的影响, 我国一些外向型中小企业出口企业受到了一定的冲击, 订单减少, 开工不足, 被迫裁员, 致使员工出现了不安情绪, 部分民工提前返乡, 作为劳务输出大省的安徽, 面临着更大的就业压力。

材料二 据了解, 安徽省约有 1 100 万外出务工人员, 受金融危机影响, 我省外出务工形势面临着严峻的考验。虽然就业形势严峻, 但对我省企业发展也是一个契机, 有利于解决我省部分企业用工短缺问题。我省有关部门采取多种措施对返乡农民工的就业安置进行部署, 千方百计地解决农民工就业问题, 确保经济、社会稳定和人民群众的生活水平的提高。

如果你是我国某出口企业的负责人, 面对当前的国际国内形势, 你将如何调整企业的经营策略?