

经人民教育出版社授权

配人教版<sup>®</sup>



# 同步训练

八年级（上册）

# 地理




河北人民出版社组织编写

河北人民出版社

经人民教育出版社授权

配 人教版<sup>®</sup>



# 同步训练

# 地理

八年级（上册）

河北人民出版社组织编写

河北人民出版社

## 图书在版编目 (CIP) 数据

同步训练. 地理. 八年级:上册/河北人民出版社组织编写. —石家庄:河北人民出版社, 2012. 8  
ISBN 978-7-202-06401-6

I. ①同… II. ①河… III. ①中学地理课—初中—习题集 IV. ①G634

中国版本图书馆 CIP 数据核字 (2012) 第 151182 号

主 编 朱海阳  
作 者 赵琴琴 臧拥军 周英姿 张春毅 任春霞 王 伟 张 兴 刘 育  
崔桂兰 姜云霞 吴会玲 刘晓鹏 苏美荣 宋秀峰 刘亚琼 高 梅  
郭铁柱 赵 辉 沈立燕 吴会玲 杨俊巧 崔学军 崔艳军 郭秀更  
高 梅 贾银英 郝春勉 胡秀清 韩广娟 朱鸿雁

---

书 名 同步训练/地理/八年级上册/配人教版  
编 者 河北人民出版社组织编写

---

选题策划 荆彦周  
责任编辑 周建图 阴耀华  
美术编辑 李 欣  
封面设计 张智/动漫画屋  
责任校对 余尚敏

---

出 版 河北人民出版社 (石家庄市友谊北大街 330 号)  
发 行 河北省新华书店  
印 刷 河北新华第一印刷有限责任公司  
开 本 890 × 1240 毫米 1/16  
印 张 8  
字 数 179 000  
版 次 2012 年 8 月第 1 版 2012 年 8 月第 1 次印刷  
书 号 ISBN 978 - 7 - 202 - 06401 - 6/G · 2290  
定 价 10.40 元

---

版权所有 翻印必究

# 编 写 出 版 说 明

为了适应国家有关部门加强中小学教辅材料使用管理工作的需要，并为中小学生学习各科课程提供有益的指导和帮助，夯实学习基础，巩固重点知识，培养创新能力，激发探究兴趣，我们组织省内专家、教研人员和教学一线骨干教师共同编写了这套《同步训练》。

该套《同步训练》的内容配人教版教科书，紧扣教材，与课堂同步，便于学生课后巩固课本知识，主要包括基础训练、拓展提高、单元测试部分，并且编写了期中测试卷和期末测试卷，帮助学生自己检测学习效果。

该套《同步训练》具有以下鲜明特点：

**贯彻课标理念，提升学习能力。**根据新的课程标准，强调科学性、实用性和发展性，充分体现课改精神，侧重学习方法的改进和学习能力的提升。

**结合本身实际，适合学生使用。**在编写中我们充分考虑全省学生的实际需要，特别是照顾到城乡学生的共同需要，强调基础练习，加强基础知识训练，适合全省学生使用。

**编写阵容强大，作者队伍一流。**我们组织了教材原创人员和全省教学一线骨干教师编写，充分把握了教材内容精华。

**体例结构新颖，形式活泼多样。**在充分遵循不同学科规律的基础上，力争体例结构创新，形式活泼多样，适宜学生学习。

通过本书的自主学习，一定会使你更好地掌握基础知识，使你变得越来越聪明，希望你喜欢这本书。愿这本书成为伴你成长的好朋友！

河北人民出版社

2012年3月

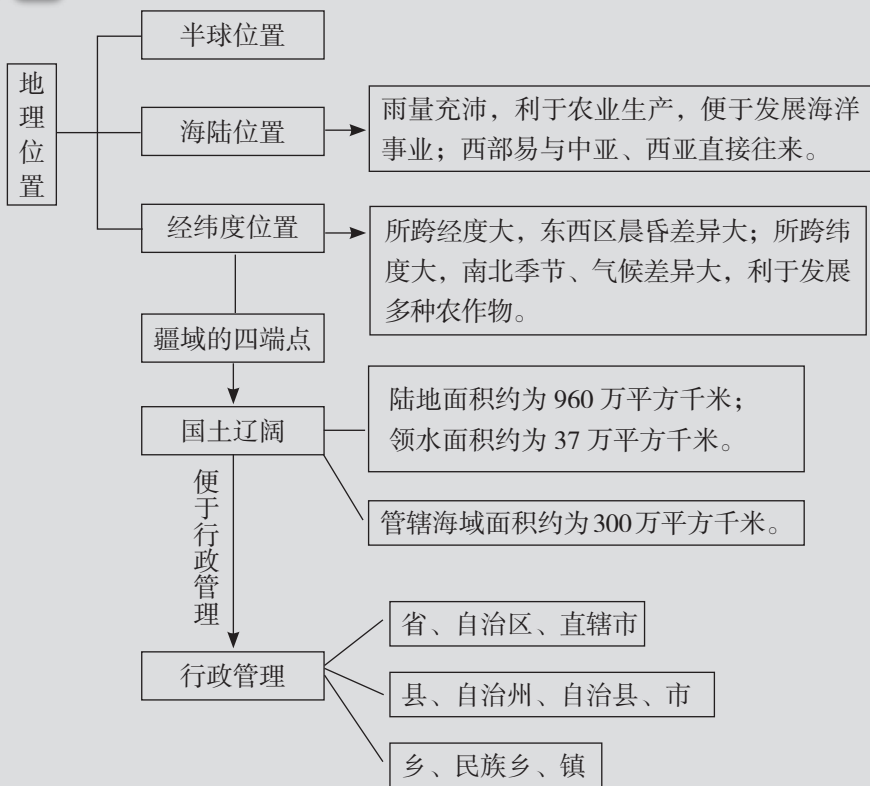
# 目 录

- 1** 第一章 从世界看中国
- 第一节 辽阔的疆域 / 1
  - 第二节 众多的人口 / 8
  - 第三节 多民族的大家庭 / 13
  - 单元检测一 / 16
- 20** 第二章 中国的自然环境
- 第一节 地势和地形 / 20
  - 第二节 气候多样 季风显著 / 27
  - 第三节 河流和湖泊 / 34
  - 单元检测二 / 42
- 46** 期中测试卷一
- 50** 期中测试卷二
- 54** 第三章 中国的自然资源
- 第一节 自然资源总量丰富  
人均不足 / 54
  - 第二节 土地资源 / 57
  - 第三节 水资源 / 62
  - 单元检测三 / 66
- 72** 第四章 中国的经济发展
- 第一节 逐步完善的交通运输网 / 72
  - 第二节 因地制宜发展农业 / 80
  - 第三节 工业的分布与发展 / 86
  - 单元检测四 / 91
- 96** 期末测试卷一
- 103** 期末测试卷二
- 110** 参考答案

# 第一章 从世界看中国

## 第一节 辽阔的疆域

### 知 识 要 点



### 课时 1

### 基 础 训 练

一、选择题（下列各题的四个选项中只有一个是正确的，请把正确答案的代号填在题后括号内）

1. 我国领土的最东端在（     ）
- A. 黑龙江与松花江的主航道中心线的相交处
- B. 乌苏里江与松花江的主航道中心线的相交处

- C. 黑龙江与乌苏里江的主航道中心线的相交处  
D. 黑龙江与嫩江的主航道中心线的相交处
2. 我国领土南北跨越的纬度近 ( )
- A.  $45^{\circ}$                       B.  $50^{\circ}$                       C.  $55^{\circ}$                       D.  $60^{\circ}$
3. 纬度相差  $1^{\circ}$  , 距离相差约为 110 千米。据此计算, 我国最北端与最南端的距离约为 ( )
- A. 5 500 千米                      B. 6 600 千米  
C. 4 000 千米                      D. 3 000 千米
4. 我国领土辽阔, 东西跨越 ( )
- A. 五个时区                      B. 六个时区  
C. 四个时区                      D. 三个时区
5. “北京时间”是 ( )
- A. 东五区区时                      B. 东七区区时  
C. 东八区区时                      D. 东九区区时
6. 我国领土大部分在 ( )
- A. 热带                      B. 温带                      C. 寒带                      D. 高山地区
7. 我国的领海, 是指从海岸基线向海上延伸到 ( )
- A. 10 海里的海域                      B. 12 海里的海域  
C. 15 海里的海域                      D. 20 海里的海域
8. 我国大陆海岸线长 ( )
- A. 2 万多千米                      B. 18 000 多千米  
C. 1 万多千米                      D. 8 000 多千米
9. 被辽东半岛和山东半岛所环抱的海区是 ( )
- A. 黄海                      B. 东海                      C. 南海                      D. 渤海
10. 琼州海峡位于 ( )
- A. 雷州半岛和海南岛之间                      B. 山东半岛和辽东半岛之间  
C. 台湾岛和澎湖列岛之间                      D. 中沙群岛和西沙群岛之间
11. 我国东部濒临的四个海自北向南依次是 ( )
- A. 渤海、东海、黄海、南海                      B. 渤海、黄海、东海、南海  
C. 黄海、渤海、东海、南海                      D. 渤海、南海、黄海、东海
12. 我国陆上国界线长达 ( )
- A. 18 000 多千米                      B. 25 000 多千米  
C. 2 万多千米                      D. 3 万多千米
13. 与我国陆地相邻的国家中, 位于我国东面的是 ( )
- A. 韩国                      B. 朝鲜                      C. 蒙古                      D. 日本

14. 同我国隔海相望的国家有 ( )
- A. 16个                      B. 15个                      C. 10个                      D. 6个
15. 同我国隔海相望的国家中, 纬度最高的是 ( )
- A. 韩国                      B. 菲律宾                      C. 俄罗斯                      D. 日本
16. 我国的内海有 ( )
- A. 台湾海峡和渤海                      B. 琼州海峡和黄海
- C. 渤海和琼州海峡                      D. 琼州海峡和黄海

二、综合题

17. 读图 1.1, 填出图中序号①~⑩代表的地理名称:

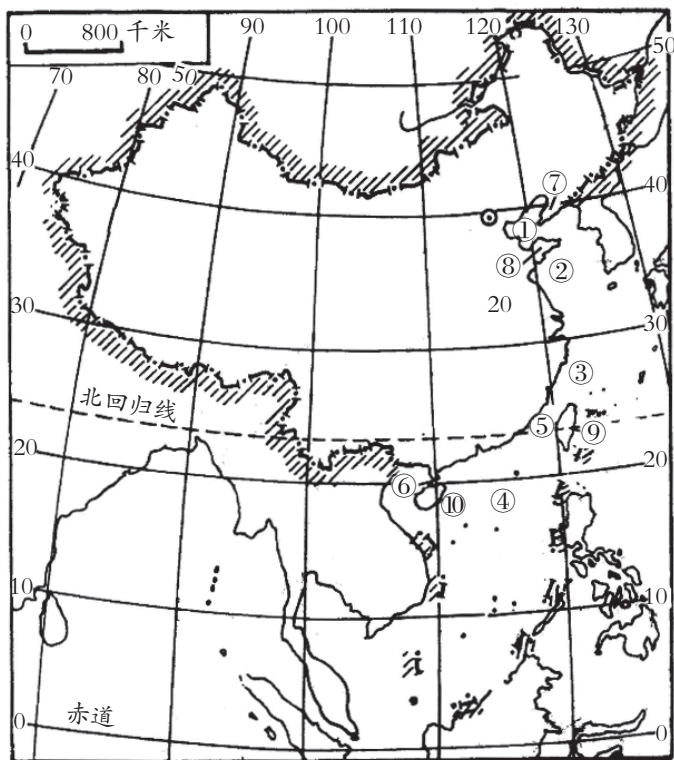


图 1.1

- |            |            |
|------------|------------|
| ① _____ 海  | ② _____ 海  |
| ③ _____ 海  | ④ _____ 海  |
| ⑤ _____ 海峡 | ⑥ _____ 海峡 |
| ⑦ _____ 半岛 | ⑧ _____ 半岛 |
| ⑨ _____ 岛  | ⑩ _____ 岛  |

18. 读图 1.2, 填出图中序号①~⑩代表的国家名称:

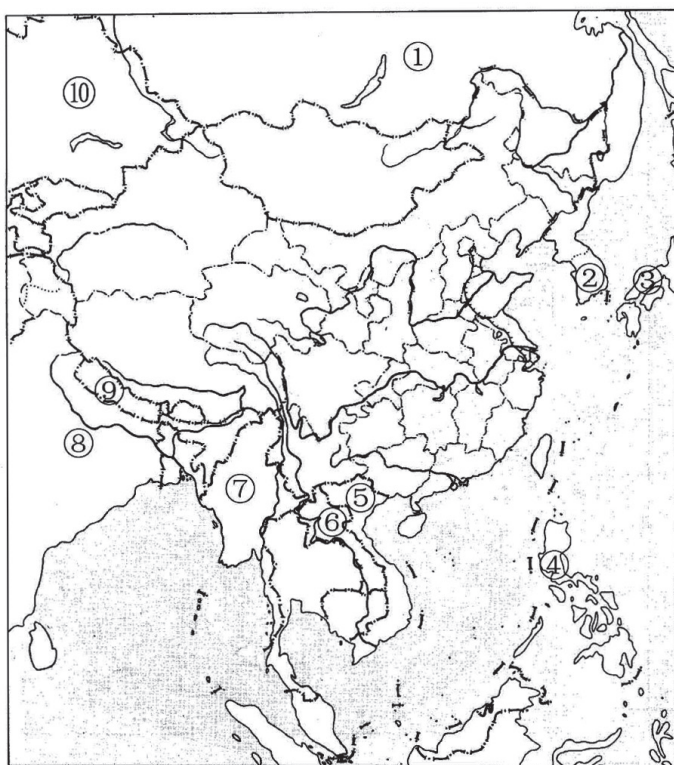


图 1.2

- |         |         |
|---------|---------|
| ① _____ | ② _____ |
| ③ _____ | ④ _____ |
| ⑤ _____ | ⑥ _____ |
| ⑦ _____ | ⑧ _____ |
| ⑨ _____ | ⑩ _____ |

19. 从海陆疆域方面，将中国分别同英国、蒙古、美国进行比较。

(1) 中国同英国的不同点：

(2) 中国同蒙古的不同点：

(3) 中国同美国的异同点：



## 课时 2

基

础

训

练

一、选择题（下列各题的四个选项中只有一个是正确的，请把正确答案的代号填在题后括号内）

- 我国的行政区划基本分为（ ）
  - 省、自治区、直辖市三级
  - 省、县、市三级
  - 县、乡、镇三级
  - 省、县、乡三级
- 目前我国省级行政单位共有（ ）
  - 23 个
  - 31 个
  - 28 个
  - 34 个
- 下列省级行政单位，位于东北的有（ ）
  - 山东省、辽宁省
  - 黑龙江省、吉林省
  - 河北省、吉林省
  - 天津市、辽宁省
- 我国跨经度最多的省级行政区是（ ）
  - 新疆
  - 内蒙古
  - 四川
  - 西藏
- 我国纬度位置最高的省（区）和最低的省（区）分别是（ ）
  - 新疆维吾尔自治区和云南省
  - 内蒙古自治区和广东省
  - 黑龙江省和海南省
  - 甘肃省和台湾省
- 河北省的简称是（ ）
  - 鲁
  - 冀
  - 豫
  - 晋
- 下列省区，采用本省区历史名称作为简称的是（ ）
  - 黑龙江省
  - 内蒙古自治区
  - 山东省
  - 湖南省
- 我国简称“鄂”的省区是（ ）
  - 湖北省
  - 湖南省
  - 广东省
  - 江西省
- 下列城市，纬度最高的是（ ）
  - 昆明
  - 成都
  - 兰州
  - 银川
- 下列省区，地跨热带和北温带的是（ ）
  - 海南
  - 贵州
  - 湖南
  - 广东
- 我国各省区中，用本省区主要河流名作简称的有（ ）
  - 湖南省
  - 山东省
  - 安徽省
  - 海南省
- 我国各省区中，东隔台湾海峡与台湾岛相望的是（ ）
  - 浙江
  - 福建
  - 广东
  - 海南

13. 下列各地, 6月22日最先迎来日出的是( )
- A. 西宁                      B. 兰州                      C. 西安                      D. 郑州
14. 下列我国省(区)与其简称组合, 正确的是( )
- A. 福建省——皖              B. 甘肃省——陇              C. 海南省——粤              D. 山西省——陕
15. 北回归线自西向东穿过的我国省区依次是( )
- A. 云、桂、粤、台              B. 桂、粤、闽、台
- C. 粤、琼、闽、台              D. 桂、粤、琼、台

二、综合题

16. 读图 1.3, 回答问题。

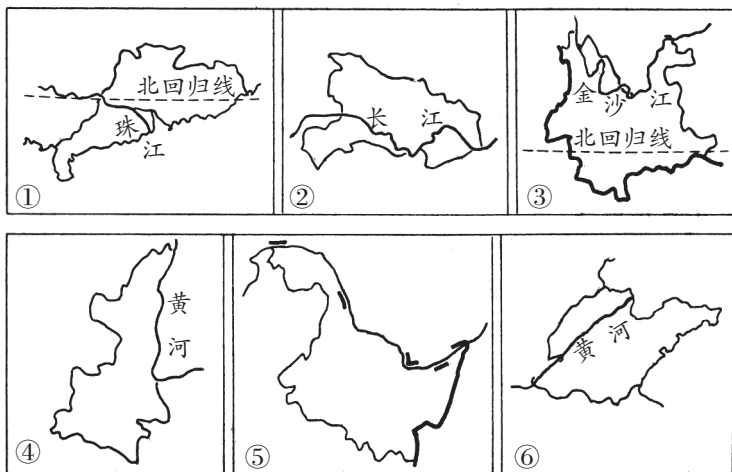


图 1.3 我国部分省区轮廓

(1) 在表中填出我国六省区的名称、简称, 及省级行政中心的名称。

图号	①	②	③	④	⑤	⑥
省区名称						
省区简称						
省级行政中心						

(2) 从地理方位看, 我国六省区中, 位于西北的是 \_\_\_\_\_, 位于东北的是 \_\_\_\_\_, 位于长江中下游的是 \_\_\_\_\_ (均填序号)。

(3) 从海陆位置看, 我国六省区濒临海洋的有 \_\_\_\_\_ 和 \_\_\_\_\_ (均填序号)。

17. 将下列我国省区与其方位用直线连接起来。


- |       |          |
|-------|----------|
| A. 辽宁 | a. 黄河中下游 |
| B. 山西 | b. 长江中下游 |
| C. 浙江 | c. 西北    |
| D. 甘肃 | d. 西南    |
| E. 贵州 | e. 南部沿海  |
| F. 广东 | f. 东北    |

## 拓展提高

18. 读图 1.4, 回答问题。




A



B



C



D

图 1.4

(1) 据四幅图所提供的信息, 判断有关这些图的叙述是否正确。正确的在题后括号内画“√”, 错误的画“×”。

- ① A 图反映了黑龙江省 7 月份的景色。( )  
 ② B 图反映了海南省 2 月份的景象。( )  
 ③ C 图反映了夏季北京时间 18 点时帕米尔高原上的情景。( )  
 ④ D 图反映了夏季北京时间 6 点时乌苏里江上的情景。( )

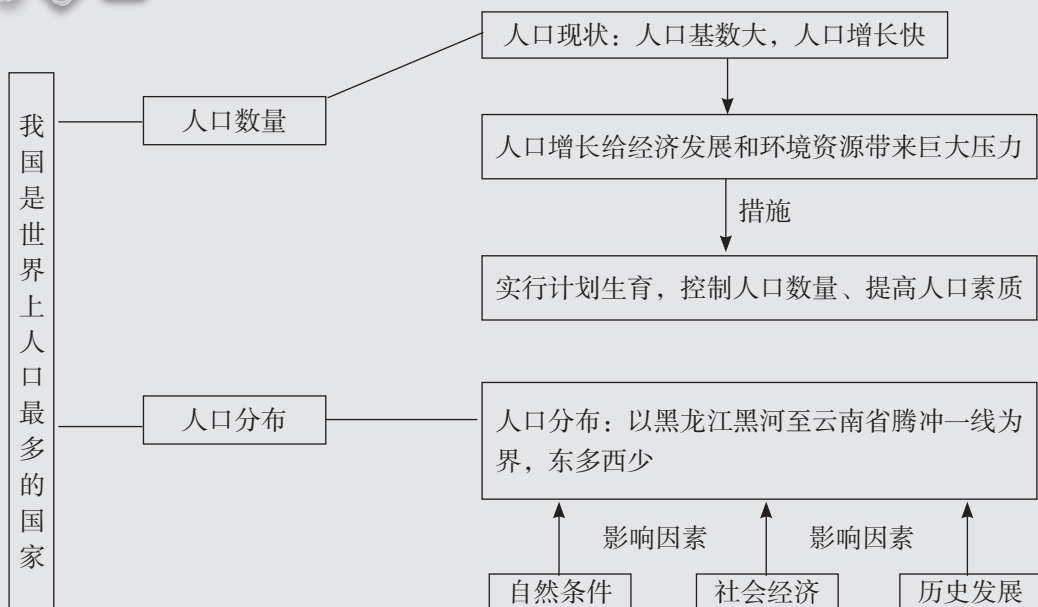
(2) A、B 两图反映了南北部的 \_\_\_\_\_ 差异。同一年, 海南省与黑龙江省相比, 先进入春耕时期的是 \_\_\_\_\_。

(3) C、D 两图反映了我国领土东西端的 \_\_\_\_\_ 差异。同一天, 帕米尔高原与乌苏里江相比, 先迎来日出的是 \_\_\_\_\_。

## 第二节

## 众多的人口

## 知识要点



## 课时 1

## 基础

## 训练

一、选择题（下列各题的四个选项中只有一个是正确的，请把正确答案的代号填在题后括号内）

- 我国人口在世界各国中居（ ）
  - 第一位
  - 第二位
  - 第三位
  - 第四位
- 到 2010 年，我国人口超过 5000 万的省级行政单位有（ ）
  - 7 个
  - 8 个
  - 9 个
  - 10 个
- 目前，我国人口最多的省（区）是（ ）
  - 山东省
  - 四川省
  - 河南省
  - 广东省
- 目前，我国每年新增人口数量很大，有 1 200 万左右，其原因是（ ）
  - 我国少数民族人口多
  - 我国人口基数大
  - 我国经济发展快
  - 我国还没有实行计划生育

5. 我国人口的突出特点是 ( )

- A. 人口基数大  
B. 人口的死亡率下降  
C. 人口增长率高  
D. 人口增长慢

6. 我国人口数量过多, 产生的负面影响有 ( )

- A. 劳动力资源丰富, 就业机会多  
B. 交通拥挤, 住房紧张  
C. 山地多, 平原少, 耕地少  
D. 降水的季节变化和年际变化大

## 二、综合题

7. 读图 1.5, 回答问题。

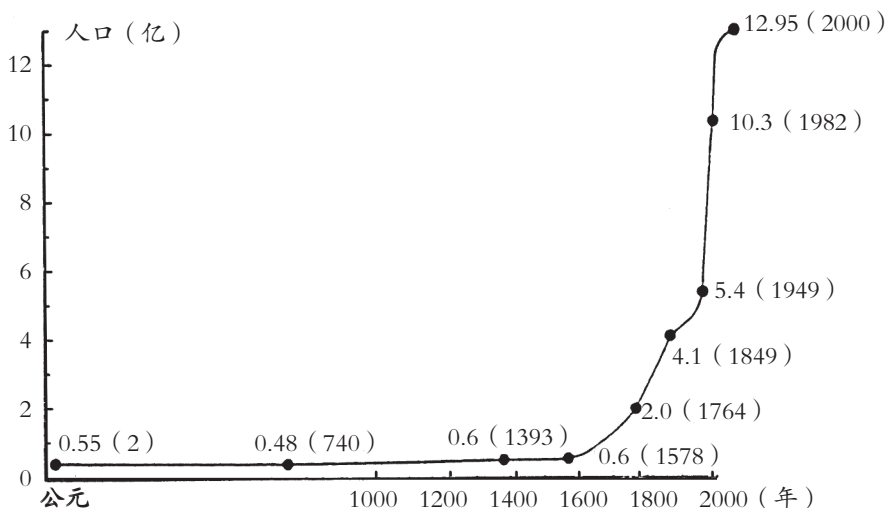


图 1.5

(1) 新中国成立以前, 我国人口增长 \_\_\_\_\_, 原因是什么?

(2) 新中国成立以后, 我国人口增长基本上呈 \_\_\_\_\_ 状况。

(3) 我国自 20 世纪 70 年代大力推行计划生育以来, 人口的 \_\_\_\_\_ 和 \_\_\_\_\_ 明显下降。但由于我国人口基数 \_\_\_\_\_, 每年净增人口数仍在 \_\_\_\_\_ 以上。

(4) 我国政府把实行计划生育作为一项基本国策, 控制人口 \_\_\_\_\_, 提高人口 \_\_\_\_\_ 是我国人口政策的基本内容。

8. 读图 1.6, 回答问题。

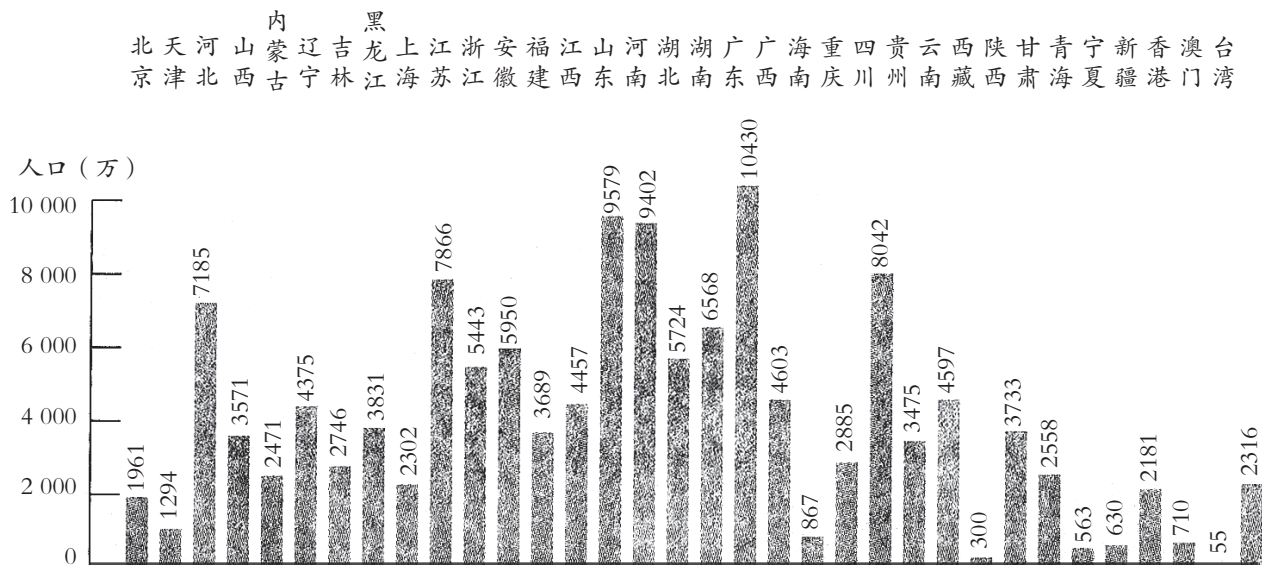


图 1.6 全国各省级行政区的人口数(2010年)

(1) 人口最多的省区是 \_\_\_\_\_, 人口最少的省区是 \_\_\_\_\_。

(2) 人口超过 5 000 万的省区有 \_\_\_\_\_、\_\_\_\_\_、\_\_\_\_\_、\_\_\_\_\_、\_\_\_\_\_、\_\_\_\_\_、\_\_\_\_\_、\_\_\_\_\_、\_\_\_\_\_、\_\_\_\_\_。

(3) 直辖市中人口最多的是 \_\_\_\_\_。



## 课时 2

基

础

训

练

一、选择题(下列各题的四个选项中只有一个是正确的,请把正确答案的代号填在题后括号内)

- 关于我国人口分布的叙述,正确的是( )
  - 我国人口总数多,但人口密度小
  - 我国人口分布较均匀
  - 我国平均人口密度小于世界平均人口密度
  - 我国东部人口密度大,西部人口密度小
- 我国人口稠密区与人口稀疏区的界线是( )
  - 黑龙江省的漠河到云南省的腾冲一线
  - 黑龙江省的黑河到云南省的腾冲一线
  - 黑龙江省的漠河到云南省的昆明一线

- D. 黑龙江省的黑河到云南省的昆明一线
3. 我国人口最稠密的地区有 ( )
- A. 华北平原                  B. 河套平原                  C. 东北平原                  D. 河西走廊
4. 下列省区中, 人口最多的是 ( )
- A. 河南                          B. 河北                          C. 四川                          D. 新疆
5. 我国人口密度最小的省级行政单位是 ( )
- A. 内蒙古                      B. 新疆                          C. 青海                          D. 西藏
6. 关于我国人口的叙述, 正确的是 ( )
- A. 因国土面积广大, 故人口密度小
- B. 人口密度与世界人口密度相差不大
- C. 我国人口居世界第二位
- D. 目前, 人口自然增长率较 20 世纪 70 年代前有了较大幅度的降低

二、综合题

7. 读图 1.7, 回答问题。

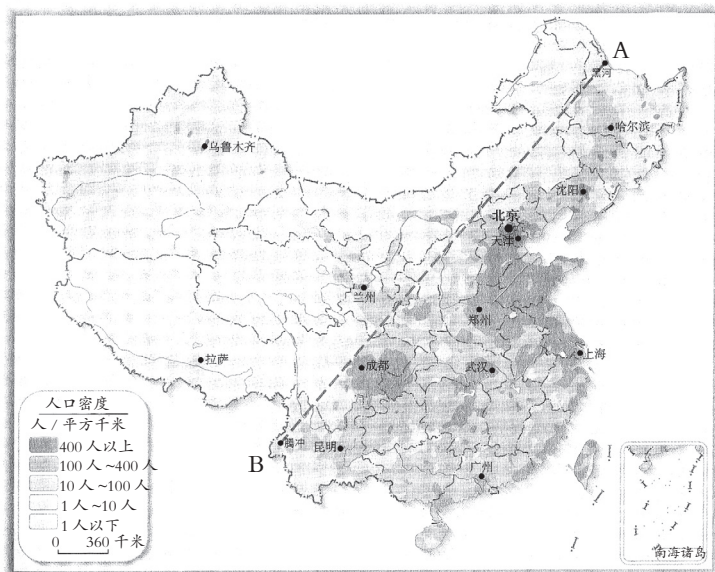


图 1.7 我国人口密度

(1) 填出图中字母代表的地名: A \_\_\_\_\_ B \_\_\_\_\_

(2) 图中虚线为一条人口界线, 此线东南部人口稠密, 面积仅占全国面积的 \_\_\_\_\_%, 人口却占全国人口的 \_\_\_\_\_% 以上; 西北部人口稀疏, 面积占全国总面积的 \_\_\_\_\_%, 人口还不到全国总人口的 \_\_\_\_\_%。

(3) 说明我国人口分布东西差异的形成原因。

8. 下表是根据某城市 2011 年人口调查情况绘制, 据此回答问题。

## 拓展提高

项目	总人口	市区人口	郊区人口	非农业人口	农业人口	男性人口	女性人口	当年出生人口	当年死亡人口
数量/人	2 101 495	1 408 407	693 088	968 229	1 133 266	1 104 003	997 492	25 205	9 539

- (1) 根据表中数据计算, 该城市农业人口在总人口中的比例约为 \_\_\_\_\_, 男女性别比例约为 \_\_\_\_\_。
- (2) 该城市的人口出生率为 \_\_\_\_\_, 死亡率为 \_\_\_\_\_, 自然增长率为 \_\_\_\_\_。
- (3) 该城市的人口有什么特点(各类人口所占比重)?

9. 下面四种观点(图 1.8), 你同意哪一种? 简要说明理由。




图 1.8