



总主编◎李朝东

SUODING 2012 GAOKAO

课时 训练

责任编辑: 杨 柳
超 楠
封面设计: 杭永鸿

锁定
高考

高考一轮总复习



课标人J版

政治



黄河出版传媒集团
宁夏人民教育出版社

定价: 71.00元(共三册)

图书在版编目(CIP) 数据

锁定高考·高考一轮总复习·政治/李朝东主编. —银川:
宁夏人民教育出版社, 2011. 1

ISBN 978 - 7 - 80764 - 394 - 4

I. ①锁… II. ①李… III. ①政治课—高中—习题—升学
参考资料 IV. ①G634

中国版本图书馆 CIP 数据核字(2011)第 014136 号

锁定高考·高考一轮总复习——政治(课标人J版)

李洪禹 主编

责任编辑 杨柳超楠

装帧设计 杭永鸿

黄河出版传媒集团 出版发行
宁夏人民教育出版社

地 址 银川市北京东路 139 号出版大厦(750001)

网 址 www.nxcbn.com

网上书店 www.hh-book.com

电子信箱 nxhhsz@yahoo.cn

邮购电话 0951 - 5014294

经 销 全国新华书店

印刷装订 江苏徐州新华印刷厂

开 本 880mm×1230mm 1/16 印 数 10000 册

印 张 28.75 字 数 575 千

版 次 2011 年 2 月第 1 版 印 次 2011 年 2 月第 1 次印刷

书 号 ISBN 978 - 7 - 80764 - 394 - 4/G · 1317

定 价 71.00 元(共两册)

版权所有 翻印必究

目 录

第一单元 生活与消费/001

第一课 神奇的货币/001

第二课 多变的价格/003

第三课 多彩的消费/005

第二单元 生产、劳动与经营/007

第四课 生产与经济制度/007

第五课 企业与劳动者/009

第六课 投资理财的选择/011

第三单元 收入与分配/013

第七课 个人收入的分配/013

第八课 财政与税收/015

第四单元 发展社会主义市场经济/017

第九课 走进社会主义市场经济/017

第十课 科学发展观和小康社会的经济建设/019

第十一课 经济全球化与对外开放/021

第五单元 公民的政治生活/023

第十二课 生活在人民当家作主的国家/023

第十三课 我国公民的政治参与/025

第六单元 为人民服务的政府/027

第十四课 我国政府是人民的政府/027

第十五课 我国政府受人民的监督/029

第七单元 发展社会主义民主政治/031

第十六课 我国的人民代表大会制度/031

第十七课 我国的政党制度/033

第十八课 我国的民族区域自治制度及宗教政策/035

第八单元 当代国际社会/037

第十九课 走近国际社会/037

第二十课 维护世界和平 促进共同发展/039

第九单元 文化与生活/041

第二十一课 文化与社会/041

第二十二课 文化对人的影响/043

第十单元 文化传承与创新/045

第二十三课 文化的多样性与文化传播/045

第二十四课 文化的继承性与文化发展/047

第二十五课 文化创新/049

第十一单元 中华文化与民族精神/051

第二十六课 我们的中华文化/051

第二十七课 我们的民族精神/053

第十二单元 发展中国特色社会主义文化/055

第二十八课 走进文化生活/055

第二十九课 推动社会主义文化大发展大繁荣/057

第三十课 文化发展的中心环节/059

第十三单元 生活智慧与时代精神/061

第三十一课 美好生活的向导/061

第三十二课 百舸争流的思想/063

第三十三课 时代精神的精华/065

第十四单元 探索世界与追求真理/067

第三十四课 探究世界的本质/067

第三十五课 把握思维的奥妙/069

第三十六课 求索真理的历程/071

第十五单元 思想方法与创新意识/073

第三十七课 唯物辩证法的联系观/073

第三十八课 唯物辩证法的发展观/075

第三十九课 唯物辩证法的实质与核心/077

第四十课 创新意识与社会进步/079

第十六单元 认识社会与价值选择/081

第四十一课 寻觅社会的真谛/081

第四十二课 实现人生的价值/083

→ 第一单元 生活与消费

第一课 神奇的货币

一、选择题

- 中国2010年上海世界博览会于2010年5月1日~10月31日举办。“手拉手迎接精彩世博,肩并肩保护知识产权”是2009年上海开展知识产权宣传周活动的主题,彰显了中国政府万众一心携手迎接2010年上海世博会、众志成城并肩协作保护知识产权的坚定决心。下列对知识产权认识正确的是 ()
 - 不是商品,因为它没有价值
 - 是商品,因为它是价值和交换价值的统一体
 - 不是商品,因为它看不见、摸不着
 - 是商品,因为它是使用价值和价值的统一体
- 中国人民银行公布的2010年贵金属纪念币发行计划显示,2010年我国将发行10个项目47种纪念币,其中金币25种,银币22种,题材包括熊猫币、水浒传、世博会等,这些贵金属纪念币均为中华人民共和国的法定货币。下列对货币的认识正确的是 ()
 - 货币是固定地充当一般等价物的商品,因此,货币的本质是商品
 - 货币是商品交换长期发展的产物,因此,货币与商品既不会同时产生,也不会同时消失
 - 货币就是一般等价物
 - 货币产生后,一切商品的价值都是由货币来表现的

在北京街头有一幅广告,画面中有许多人民币的图样。根据《中华人民共和国人民币管理条例》的有关规定,如果未经中国人民银行批准,在宣传品、出版物或其他商品上使用人民币图样,无论是放大、缩小还是同样大小人民币图样,都属于违法行为。据此回答3~4题。
- 下列对“人民币”理解错误的是 ()
 - 它是一种价值符号
 - 它能充当商品交换的媒介
 - 它是纸币,没有使用价值和价值
 - 它是我国的合法货币
- 国家禁止在广告中使用人民币图样,是因为 ()
 - 人民币是国家发行的,强制使用的价值符号
 - 在商业行为中使用人民币图样损害了人民币的形象
 - 人民币的形象和尊严必须得以有效维护

- 人民币是我国唯一合法的货币
- 小王采用银行按揭贷款的方式购买了价格为42万元的住宅商品房,其中首付现金12万元,在以后15年内分期付清银行贷款30万元以及利息8万元。这里的42万元、12万元、8万元分别执行了货币的_____职能。 ()
 - 价值尺度、流通手段、支付手段
 - 流通手段、价值尺度、支付手段
 - 价值尺度、支付手段、贮藏手段
 - 支付手段、流通手段、贮藏手段
 - 2010年8月,受国际金融危机影响的英国,经济开始复苏,流通领域中货币流通次数增加了10%,政府加大宏观调控力度,使流通领域货币量减少了20%。在其他因素不变的情况下,金融危机时售价100元的商品,在经济开始复苏时售价应该是 ()
 - 66元
 - 77元
 - 88元
 - 99元
 - 2010年11月15日广州亚运会开幕,广州亚运会产生47枚金牌。下列对亚运会奖牌的认识正确的是 ()
 - ①奖牌只要用于交换,就成为商品
 - ②奖牌属于贵金属货币,具有价值尺度职能
 - ③奖牌的价格由获得奖牌付出的劳动量决定
 - ④奖牌的价格只能通过拍卖体现出来
 - ①
 - ①②
 - ①②④
 - ①③④
 - 据国家统计局2009年12月11日发布数据显示,11月份中国居民消费价格总水平(CPI)同比上涨0.6%,10个月来首次由负转正。银河证券首席经济学家左小蕾说:“不能说CPI一正增长就是通胀,每个经济体都有可承受的范围。”对物价上涨与通货膨胀的关系认识正确的是 ()
 - ①通货膨胀是物价上涨的根源
 - ②通货膨胀必然引起物价上涨
 - ③物价上涨和通货膨胀都是由于供需不平衡所致
 - ④物价上涨和通货膨胀都表明货币贬值
 - ①②
 - ③④
 - ①③④
 - ②

国际金价目前稳居每盎司1100美元上方。截至2010年1月11日21点,伦敦黄金现货价格报于1157.05美元/盎司,创出了2009年12月8日以来的新高;11日上期所黄金期货1006合约收盘上涨2.77%,报收于256.85元/克。据此回答9~10题。

答案	题号	内容
	1	9. 作为货币的贵金属黄金 () A. 其本质是商品, 有其价值和价格 B. 其本质是一般等价物 C. 其价值的大小受美元贬值的影响 D. 其价值是固定的
	2	10. 受美国次贷危机等因素影响, 美元持续贬值, 不考虑其他因素, 美元贬值 () ①会导致以美元计算的黄金价格上涨 ②会导致以美元计算的黄金价格下跌 ③作为纸币, 美元在本质上仍然是一般等价物 ④在人民币升值的背景下, 美元贬值会导致美元对人民币的汇率跌落 A. ①④ B. ①② C. ②③④ D. ②④
	3	11. 2010年, 世界贸易博览会在上海举行。小张获得了一张参观券, 他将赴世博会参观。除了随身携带的零花钱, 你认为小张的最佳选择是带上 () A. 大量现金 B. 信用卡 C. 支票 D. 外汇
	4	12. “金钱是毒蛇, 是陷阱, 是一切罪恶的渊藪。”这一观点 () A. 是正确的, 因为它与金钱万能论是对立的 B. 是正确的, 因为它反映了货币的本质 C. 是错误的, 因为它夸大了货币的作用 D. 是错误的, 因为它否认了货币对社会发展和人民生活的作用
	5	2009年11月30日, 温家宝总理在第十二次中欧领导人会晤结束后的记者会上表示, 现在一些国家要求人民币升值, 实际上是限制中国的发展。中方将按照主动性、可控性和渐进性的原则, 不断完善人民币汇率形成机制, 保持人民币在合理、均衡水平上的基本稳定。据此回答13~15题。
	6	13. 人民币升值意味着 () ①100单位的外币可以兑换的人民币有所减少 ②100单位的外币可以兑换更多的人民币 ③外币汇率跌落, 人民币汇率升高 ④外币汇率升高, 人民币汇率跌落 A. ①③ B. ②④ C. ①④ D. ②③
	7	14. 人民币对美元升值后, 手里有美元存款的老百姓在下列哪种情况下可能有损失 () A. 把美元换成日元 B. 把美元用于出国旅游 C. 把美元用于出国购物 D. 把美元兑换成人民币
	8	15. 保持人民币币值稳定有利于 () A. 促进国民经济持续平稳发展 B. 降低物价 C. 物价水平与汇率稳定不变 D. 在国际贸易中收大于支
	9	
	10	
	11	
	12	
	13	
	14	
	15	

二、非选择题

16. (2010广东梅州模拟)2009年12月5~7日中央经济工作会议强调: 要处理好保持经济平稳较快发展、调整经济结构、管理通胀预期的关系, 巩固和增强经济回升向好势头。要继续实施积极的财政政策和适度宽松的货币政策。要突出财政政策实施重点, 加大对民生领域和社会事业支持保障力度, 增加对“三农”、科技、教育、卫生、文化、社会保障、保障性住房、节能环保等方面和中小企业、居民消费、欠发达地区支持力度, 支持重点领域改革。要保持投资适度增长, 重点用于完成在建项目, 严格控制新上项目。要加强税收征管和非税收入管理, 继续从严控制一般性支出。货币政策要保持连续性和稳定性, 增强针对性和灵活性。要密切跟踪国内外经济形势变化, 把握好货币信贷增长速度, 加大信贷政策对经济社会薄弱环节、就业、战略性新兴产业、产业转移等方面的支持, 有效缓解小企业融资难问题, 保证重点建设项目贷款需要, 严格控制对高耗能、高排放行业和产能过剩行业的贷款, 着力提高信贷质量和效益。要积极扩大直接融资, 引导和规范资本市场健康发展。

运用经济生活的知识思考, 在当前的经济形势下国家为什么要把握好货币信贷增长速度, 适度增加货币供应量?

17. 材料一 某农民企业家随着企业规模的扩大, 每年需要到各地办理的业务量也在不断增多。某银行向他推荐银行信用卡, 经过一段时间的试用后, 他逐渐习惯并离不开这个神奇的“卡片”了。他高兴地讲: “这真是一卡在手, 潇洒走神州。”

材料二 目前银行卡业务仍存在许多问题亟待解决。如卡的安全问题, 部分银行发放的信用卡虽有密码, 但结算5万元金额以下消费时, 持卡人不用输入密码, 仅凭签字就可以。若信用卡丢失又未及时挂失, 一旦被他人得到, 并模仿笔迹进行签单, 交易同样可以进行。

(1) 材料一和材料二分别表明经济生活的什么道理?

(2) 材料一和材料二共同给予我们什么启发?

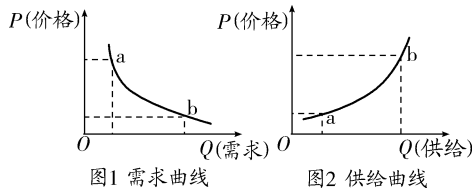
第二课 多变的价格

一、选择题

- 英国古典经济学家大卫·李嘉图认为：“具有效用的商品，其交换价值是从两个源泉得来的，一个是它们的稀缺性，另一个是获取时所必需的劳动量。”这段话中与商品价格相关的因素有 ()
①市场供求状况 ②货币流通量 ③商品自身价值量 ④价格政策
A. ①② B. ③④ C. ①③ D. ②④
- 受丰田“召回门”事件和其他事件的影响，国内国际汽车价格稳中有降。近年来，轿车价格明显下降的根本原因是 ()
A. 轿车生产企业数量剧增、竞争激烈
B. 轿车销售商薄利多销
C. 轿车生产企业劳动生产率的普遍提高
D. 轿车生产供过于求，处于买方市场
- 据山西省商务厅监测，2010年2月上半月该省煤炭、钢材、成品油、有色金属、化肥和水泥等六大类生产资料价格全面反弹。冬季煤炭需求快速上升，2009年12月下旬以来国内国际煤炭价格持续走强，带动山西省煤炭价格小幅上涨。12月上半月全省煤炭均价为640元/吨，较10月下半月上涨5.44%。材料中煤炭价格的上涨表明 ()
A. 商品的运输成本提高了商品价值
B. 商品销售环节创造了更大的价值
C. 地域的不同导致了商品的价格上涨
D. 商品的价格受供求关系影响
- (2010福建龙岩模拟)2009年11月3日，由中国互联网协会主办，“2009中国互联网大会”在北京国际会议中心隆重召开，大会将以“危机·转机·契机——金融危机下的中国互联网力量与信心”为主题展开研讨。2009中国移动互联网峰会同期举行，主题为“3G时代移动互联网的机遇与挑战”，CCTIME飞象网对此次大会进行全程直播。进入3G时代，2G手机的价格出现了不同幅度的下调，其市场价比去年12月份平均下调20%。影响2G手机价格下降的因素是 ()
A. 销售渠道，通过改变2G手机的需求来影响2G手机价格
B. 产品功能，通过改变3G手机的需求来影响2G手机价格
C. 产品升级，通过改变3G手机的需求来影响2G手机价格
D. 技术更新，通过改变2G手机的供给来影响2G手机价格
- (2010广东湛江模拟)智利是一个主要产铜国家，在智利地震消息刺激下，未来数周铜价仍将持续看涨，伦敦3个月期铜价格上周收报每吨7 195美元，未来数周最高可能上涨至7 800至8 000美元。从历史行情数据看，每次地震后国际铜价都会冲高，但地震一般不会影响铜价的趋势性走势。这说明 ()
①供求影响价格 ②价值决定价格 ③供求与价格相互决定 ④价格影响需求
A. ①② B. ②③ C. ③④ D. ②④
- 继2010年4月14日国务院常务会议提出用差别化的信贷、税收和土地政策为高烧不退的房地产市场降温的新“国四条”之后，4月17日，国办又发布了《国务院关于坚决遏制部分城市房价过快上涨的通知》。对新“国四条”进一步地细化、完善、部署，遏制高房价。针对高房价，下面相关认识正确的是 ()
①供不应求为房价过高的根本原因 ②建筑材料价格的上涨助长了房价的上扬 ③增加住房的供应量有利于抑制高房价 ④要抑制高房价就必须对炒房行为进行有效制约
A. ①②③ B. ①②④ C. ①③④ D. ②③④
- 假定生产一件M商品的社会必要劳动时间为4小时，价值为40元。如果甲生产者生产该商品的个别劳动时间为2小时，甲在4小时内生产的单位商品的价值量和使用价值总量分别是 ()
A. 40 80 B. 40 40
C. 20 40 D. 80 80
2010年6月13日以来，江西、福建、湖南、广东、广西、浙江、重庆、四川、湖北、贵州等10省区市因持续洪涝灾害，蔬菜生产和运输受到影响，灾区各地蔬菜及生鲜农产品市场供应受到严重影响，灾区各地蔬菜价格也有不同程度的上涨。据此回答8~9题。
- 通过上述材料可以看出 ()
A. 灾区蔬菜市场供不应求，处于卖方市场
B. 灾区蔬菜市场供求关系变化影响其价格水平
C. 灾区蔬菜的市场价格是由供求关系决定的
D. 灾区蔬菜价格不再围绕价值上下波动
- 蔬菜市场价格的上涨对当地居民的影响是 ()
①对蔬菜的需求量不会大幅减少 ②导致个别蔬菜互补商品需求量的增加 ③导致个别蔬菜替代商品需求量的增加 ④导致居民对蔬菜需求量的急剧减少
A. ①③ B. ②③
C. ②④ D. ①④

答案	题号
	1
	2
	3
	4
	5
	6
	7
	8
	9
	10
	11
	12
	13
	14
	15

价格是市场的信号灯,价格变化对人们的生活和生产带来深远影响。在假定其他因素不变的情况下,价格与需求、价格与供给关系可以用图1和图2表示。读图回答10~12题。



10. 由图可以看出 ()
 ①一种商品的价格越高,对这种商品需求越少 ②一种商品的价格上涨可以增加这种商品的供给 ③供给与需求之间没有任何关系 ④一种商品价格的高低根本上取决于该商品的供给和需求
 A. ①②③ B. ②③④ C. ①② D. ①②④
11. 图1需求曲线对生产者的启示是 ()
 A. 企业要减少商品生产,控制需求,从而获得高额价格
 B. 提高劳动生产率,降低成本和价格,扩大市场份额
 C. 以市场为导向,生产高质量的商品
 D. 加快产品结构的调整,适应市场需求的变化
12. 图2供给曲线突出反映了市场价格的变化,可以影响或引导 ()
 A. 居民的消费水平 B. 居民的消费结构
 C. 居民的消费时机 D. 企业投资方向
13. 面对金融危机的影响,以联想为主的电子产品,纷纷降价跳水促销以扩大市场占有率。降价可以扩大市场占有率,这是因为 ()
 A. 价格由价值决定,受供求关系影响
 B. 降价会导致商品供过于求
 C. 降价会增加市场对企业产品的需求量
 D. 降价会使商品价值量降低
14. 当钢材市场升温,价格上涨时,钢材生产经营者明显增多;而当钢材市场降温,价格行情进入下行通道后,钢材生产经营者又明显减少。这一现象 ()
 ①是价值规律作用的结果 ②反映了供求关系决定商品价格 ③表明价格变动引起需求量的变动 ④说明价格变动调节生产经营活动
 A. ①② B. ③④ C. ②③ D. ①④
15. 新华网报道,山东蒙阴棉纺织有限公司瞄准市场需求,研发出了高棉、纯棉品种和新型纤维、麻类混纺等三个系列的十几个新品种,产品一上市就迅速占领了市场。上述材料对商品生产者的启示是 ()
 ①要生产适销对路的产品 ②要不断开拓创新 ③必须垄断市场,才能提高企业经济效益 ④产品的种类越多,就越能够迅速占领市场
 A. ①② B. ②③
 C. ③④ D. ②④

二、非选择题

16. 最近食用油、粮食、猪肉涨价声频起。国家统计局日前发布的消息也证实,11月份CPI在连续9个月负增长后首次转正。11月CPI上涨主要是由食品价格推动。从11月份起,国内食品、产品价格便小步小步往上走,包括大米、小麦、糖、猪肉、食用油等价格均在批发市场出现上涨。

材料一 对于近期国内粮食价格持续上涨现象,有业内人士认为,这是由今年国家多次提高粮食收购价所致。业内分析师则指出,运输、水、电、煤等成本增加也促使粮食价格上升。食用油受国际大豆、豆油价格波动而波动。随着春节的临近,食用油需求旺盛,短期市场会存在一定的供应紧缺,因此此轮涨价将会延续到春节之后。

材料二 猪肉价格的上涨受诸多因素的影响:一是受雨雪天气影响,猪肉消费需求增加。据监测,2009年11月份第1周全国大中鲜猪肉批发价格较前一周下跌0.5%,之后连涨3周,涨幅分别为0.6%、0.8%和1%。二是受供需关系影响。从供给来看,由于前段时间北方部分地区发生猪病,导致存栏量有所下降,但由于南方生猪存栏量充足,使得猪价出现了“南北倒挂”的现象。据农业部畜牧业司监测,10月底全国生猪存栏46921万头,连续4个月小幅上升,比9月底增加0.87%。但随着消费旺季的到来,专家预测,猪价与肉价在春节前还会继续上涨。结合材料,运用经济生活知识,分析本次主要农产品价格上涨的原因以及可能带来的影响。

17. 2010年3月3日,国美电器、永乐电器、大中电器和中国电子商会中国家电市场联合调研课题组在广州召开会议,联合发布了《2010年空调市场趋势报告》。《2010年空调市场趋势报告》称,2010年,除高速高效空调,变频空调也首次进入家电下乡补贴的政策范畴,一些城市也在考虑推行地方版的变频空调补贴政策,同时10%的以旧换新补贴政策持续推行,在各种利好政策的推动下,高效、变频空调的销售价格下降幅度更大,有望达到20%。

(1)你认为引起我国空调价格下降的因素是什么?

(2)假如你是某一空调企业的生产者,你将如何应对这一局面?

第三课 多彩的消费

一、选择题

- 居民消费价格指数(CPI)是反映居民家庭购买生活消费品和支出服务项目费用价格变动趋势和程度的相对数,国家统计局2010年8月11日发布7月份国民经济运行数据,7月份全国居民消费价格指数(CPI)同比上涨3.3%,环比上涨0.4%。在不考虑其他因素的情况下,居民消费价格指数升高,意味着 ()
A. 居民收入减少 B. 居民购买力普遍提高
C. 居民购买力普遍降低 D. 居民间的收入差距加大
 - 2009年6月1日,国家规定商场实行有偿提供塑料袋。据调查,国家这一规定实行后,顾客购物使用塑料袋的数量明显减少。这反映了消费行为受 ()
①价格的影响 ②从众心理的影响 ③收入的影响
④国家宏观调控的影响
A. ①④ B. ②③ C. ①③ D. ②④
- 分析漫画《代价》,据此回答3~4题。



- 漫画中房子购买者的消费方式属于 ()
A. 钱货两清的消费 B. 贷款消费
C. 租赁消费 D. 绿色消费
 - 漫画所反映的经济现象给我们消费的启示是 ()
①要量入为出,适度消费 ②要避免盲从,理性消费
③要保护环境,绿色消费 ④要树立正确的消费观
A. ①②③ B. ②③④ C. ①③④ D. ①②④
- 进入2010年以来,我国居民消费重心继续向文化教育、旅游、医疗保健、交通通讯、住房等方面转移。据此回答5~6题。
- 上述材料表明 ()
①家庭消费是从低级逐步向较高层次递进发展的 ②我国居民消费水平有了较大提高
③随着人民生活水平的提高,生存资料的消费将被发展资料的消费所取代 ④当今社会多数人已具备进行享受性消费的条件
A. ① B. ①② C. ①②③ D. ①②③④
 - “吃穿”“文化消费”和“旅游”分别属于 ()
①有形商品消费、生存资料消费和劳务消费 ②有形商品消费、精神文化生活消费和劳务消费
③生存资料消费、发展资料消费和享受资料消费 ④发展资料消费、精神文

化生活消费和享受资料消费

- A. ①② B. ①④ C. ③④ D. ②③
7. 改革开放使中国人民走上了富裕安康的广阔道路。下表是某市民在不同年份春节家庭消费的主要支出项目。

买面粉:18.7元 买肉:2.16元 买盐:0.16元 买火柴:0.2元 买布:13元 买自行车:156元 1978年	买面粉:41元 买鱼肉:57元 买衣服:104元 买磁带:12元 买报刊:3.8元 买彩电:2600元 1992年	买面粉:28元 买肉蛋奶:185元 买花卉:70元 买手机话费:56元 买旅游:1780元 买数码相机:2750元 2008年
---	---	---

从上表可以看出该市居民在家庭消费方面所发生的变化是 ()

- ①恩格尔系数不断提高 ②消费结构不断优化 ③居民收入不断增加
④消费水平不断提高
A. ①④ B. ①② C. ③④ D. ②④

2010年《政府工作报告》指出,积极扩大居民消费需求,增强居民特别是中低收入者消费能力。只有使居民的消费结构不断升级,才能有力地推动我国经济持续平稳较快发展。据此回答8~9题。

8. 促使我国居民消费结构不断升级的原因有 ()
①国家经济的发展 ②居民收入的增加 ③商品价格的稳定
④商品价格的提升
A. ①② B. ②③ C. ①④ D. ②④
9. 居民的消费结构升级 ()
①意味着城乡恩格尔系数减小 ②表明人们的生活水平提高
③表明消费结构不是一成不变的 ④根本原因在于人们追求身心愉悦和全面发展
A. ① B. ①② C. ①②③ D. ②③④
10. 在消费活动中,有人花钱如流水,有人精打细算;有人对名牌趋之若鹜,有人注重实际,讲求实用;有人崇尚流行、赶时髦,有人在各种诱惑和压力下不受干扰,自主决定消费行为。这说明 ()
A. 人们的消费心理具有复杂性
B. 消费是由每个人的个性决定的
C. 消费需要社会作出统一的规定
D. 消费者要践行统一的消费观
11. 2009年9月6日,姚明获选中国60年历史上最具影响力的体育人物。正是抓住了这种心理,NBA将姚明变成了巨大的广告牌。人们为体育明星买单体现了 ()
A. 从众心理引发的消费 B. 求异心理引发的消费
C. 攀比心理引发的消费 D. 求实心理引发的消费

答案	题号
	1
	2
	3
	4
	5
	6
	7
	8
	9
	10
	11
	12
	13
	14
	15

12. 近年来,现代都市中出现了一类富有浓厚时代气息的特殊人群——“拼族”。“拼族”中出现了各种“拼消费”,“拼消费”让我们感受到什么是现代模式的“精打细算”——“拼车”“拼饭”甚至“拼房”。“拼车”可以节省50%以上的车费,“拼饭”可以品尝几倍于自己餐费的美味,等等。这种时尚 ()
- ①有助于发扬艰苦奋斗、勤俭节约的传统美德 ②应成为每个消费者追求的目标 ③有助于改变不良生活习惯、提高消费的科学性 ④不利于我国消费品市场的发展
- A. ①② B. ②③ C. ①③ D. ②④
13. 无锡市政府宣布从2010年3月1日起施行《无锡市排水管理条例》。无锡市政府指出,建设资源节约型和环境友好型社会,需要全社会共同努力,倡导健康合理的生活方式。为此,要求人们 ()
- ①养成艰苦奋斗、勤俭节约的生活习惯 ②抑制消费,由消费型社会向节约型社会转变 ③反对超越现实条件和盲目攀比的畸形消费 ④坚持科学消费、文明消费、绿色消费
- A. ①②③ B. ②③④ C. ①③④ D. ①②④
14. “百元消费周”是指在一周的生活消费期间,全部的餐饮、交通、娱乐等消费加起来,控制在100元之内。这引发了一场关于“节俭主义”的热议。赞同者认为该活动促使青年人反思形成合理科学的消费方式的必要性;反对者则认为这种行为不利于扩大内需、促进生产。你认为可以为双方提供的理论依据分别是 ()
- A. 建立健康消费方式;生产决定消费
B. 倡导适度消费的消费观;消费是生产的动力
C. 物质消费与精神消费协调发展;消费是生产的目的
D. 要发扬艰苦奋斗、勤俭节约的精神;生产为消费创造动力
15. 下表是某“月光族”年度内平均月收入情况简表。如果从健康、文明、科学的消费方式看,你认为最合理的删减方案是 ()

单位:元

收入	支出1	支出2	支出3
工资 1500	①日常饮食 500	④上网充电 120	⑦到体育场看球赛 150
借债 500	②房租、水电 300	⑤购置专业资料 120	⑧还债 300
	③交通、通讯 费 340	⑥吸烟 150	⑨凑份子 300

- A. 减少④⑤⑥支出,取消③⑦⑨支出
B. 压缩①②③支出,增加④⑤⑧支出
C. 取消⑥⑦支出,压缩②③⑨支出
D. 压缩⑥⑧⑨支出,取消②④⑦支出

二、非选择题

16. 材料一 2009年城镇居民人均可支配收入16787元,扣除价格因素,2005年至2009年年均增长9.8%,比1979年~2004年年均增速快3.1个百分点。随着支农惠农政策措施的逐步落实,农村居民收入出现了多年没有的连年快速增长势头。2009年农村居民人均纯收入5140元,扣除价格因素,2005~2009年年均增长6.8%。2009年底,城乡居民人民币储蓄存款余额达17.9万亿元,比2004年底增加8.6万亿元。

材料二 2009年城镇居民家庭恩格尔系数为38.7%,比2004年的39.3%下降0.6个百分点;农村居民恩格尔系数为44.1%,比2004年的47.2%下降3.1个百分点。城乡居民汽车、电脑和电话等耐用消费品拥有量大幅提高。城镇居民每百户拥有家用汽车由2004年末的1.4辆提高到2009年末的7.1辆。农村居民每百户拥有摩托车由2004年末28.8辆提高到2009年末的49.5辆。

(1)材料一、二分别反映了什么经济现象?

(2)运用所学经济生活知识,谈谈你对材料一、二之间关系的认识。

17. 材料一 2010年1月15日,国家发展和改革委员会、国家统计局发表调查结果,去年12月份,全国70个大中城市房屋销售价格同比上涨7.8%,涨幅比上月扩大2.1个百分点;环比上涨1.5%,涨幅比上月扩大0.3个百分点。据调查,我国31.9%的房贷一族,每月还贷占月收入的50%以上,是名副其实的“房奴”。其中,中低收入家庭一味追求住房的高档化也是导致“房奴”出现的重要原因。

材料二 国家发改委主任张平表示,2010年我国将完善住房消费和调控政策,增加中低价位和限价商品房的供应,抑制投机性购房。2010年6月12日,中国政府发布了《关于加快发展公共租赁住房的指导意见》。根据《指导意见》,政府将向城市中等偏下收入住房困难家庭提供公共租赁住房。有条件的地区,还可以将新就业职工和有稳定职业城市居住一定年限的外来务工人员纳入供应范围。公租房的实质是反映政府对民生问题的关注和政府公共职能的回归。

结合材料一、二运用经济生活知识回答:

(1)近年来我国出现“房奴”现象的原因是什么?

(2)你认为应该如何解决这一问题?

→ 第二单元 生产、劳动与经营

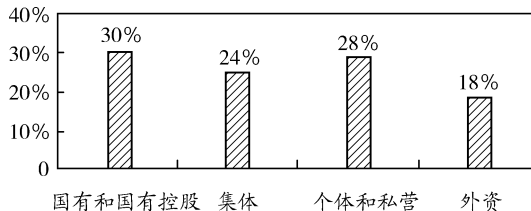
第四课 生产与经济制度

一、选择题

- 2009年12月26日,武汉至广州的动车组正式运营,武汉至广州只需180分钟。从绿皮车到空调车、动车组列车,铁路越来越“航空化”“宾馆化”,其设施、服务达到了较高水平。人们感受到了铁路的舒适、快捷、方便。这主要说明 ()
A. 生产决定消费的质量和水平
B. 生产是人类社会存在的基础
C. 生产决定消费对象
D. 生产为消费创造动力
- 十一届全国人大三次会议指出,2010年要提高宏观调控水平,保持经济平稳较快发展。在当前复杂的国内外经济环境下,扩大内需特别是扩大消费需求成为保证我国经济持续平稳较快发展的一剂良药。因为 ()
A. 消费结构决定生产结构
B. 消费对生产有重要的反作用
C. 生产水平决定消费水平
D. 消费方式决定生产方式
- 2009年9月11日,科技部部长万钢在2009夏季达沃斯论坛上表示,经历近一年的世界金融危机之后,一些新的经济领域正在发生变化,如随着人们对绿色食品和健康需求的增加,生物技术的发展、生物环保方面的应用等,都会是新的经济增长领域。材料说明 ()
A. 刺激经济发展必须扩大内需
B. 贷款消费反映了人们消费观念的转变
C. 生产决定消费对象
D. 新的消费热点能够带动相关产业的发展
- 2009年12月5~7日,中央经济工作会议在北京召开,明确提出了明年经济工作的总体要求、重要原则、主要任务。会议要求:2010年要保持政策连续性,进一步做好家电、汽车摩托车下乡工作,继续实施家电和汽车以旧换新政策,增加农机购置补贴等,增强居民特别是低收入群众消费能力。这一举措有利于 ()
①缩小城乡收入差距,提高农民的生活水平 ②扩大国内消费需求,增强消费对经济增长的拉动作用 ③通过消费带动家电、汽车等企业的生产和发展 ④调整农村的产业结构,积极稳妥推进城镇化
A. ①② B. ②③ C. ①④ D. ③④
- 全面建设小康社会是党和国家到2020年要实现的奋斗目标,是全国各族人民的根本利益所在。要实现这一目标,

关键在于 ()

- 处理好各种矛盾,维护社会的稳定
 - 以经济建设为中心,大力发展生产力
 - 扩大内需,拉动经济增长
 - 倡导消费,发挥消费对生产的反作用
6. 社会生产总是在一定经济制度下进行的。我们要牢牢扭住经济建设这个中心,坚持聚精会神搞建设,一心一意谋发展,不断解放和发展生产力。为此就必须 ()
①大力推动科技进步和创新 ②实现同步富裕 ③调整上层建筑中与经济基础不相适应的部分 ④调整生产关系中与生产力不相适应的部分
A. ①③④ B. ①②④ C. ①②③ D. ②③④
7. 2009年某市各类经济成分在本地GDP增长中的贡献率如下图所示:



分析上图,可以看出 ()

- 非公有制经济在当地经济发展中居于主体地位
 - 该市GDP的增长是以资源浪费、生态破坏为代价的
 - 该市形成了以公有制为主体、多种所有制经济共同发展的格局
 - 混合所有制经济在解决当地就业问题上发挥着主导作用
8. 我国基本经济制度包括两个方面内容,一是强调公有制为主体,二是强调多种经济成分共同发展。要确保公有制主体地位就必须 ()
A. 使公有资产的绝对数量增加
B. 使公有制经济控制国民经济命脉,对经济发展起主导作用
C. 使国有资产在社会总资产中占优势
D. 使国有资产在社会总资产中占优势,国有经济在国民经济中发挥主导作用
- 2009年2月2日发布的《中共中央国务院关于2009年促进农业稳定发展农民持续增收的若干意见》指出,要全面推进集体林权制度改革。用5年左右时间基本完成明晰产权、承包到户的集体林权制度改革任务。据此回答9~10题。
9. 农村集体林权制度改革 ()
A. 改变了农村集体经济的性质

答案	题号
	1
	2
	3
	4
	5
	6
	7
	8
	9
	10
	11
	12
	13
	14
	15

B. 促进了农村非公有制经济的发展
C. 完善了农村集体经营体制
D. 解决了农村生产力发展不平衡的状况

10. 党和国家推进集体林权制度改革的主要目的是 ()
A. 鼓励多种所有制经济共同发展
B. 解放和发展农村生产力
C. 巩固集体经济的主体地位
D. 提高非公有制经济的比重和地位

11. 我国国有经济通过改革、改制、控股等形式向事关国家经济命脉的领域集结,催生了一大批大企业大集团。据美国《财富》杂志统计,2009年,中国共有43家中央企业进入世界500强,其中中石化位居第9位。如今,国有及国有控股工业企业总数只占全国工业企业的8.27%,但它们贡献的税收却占全国工业企业税收的56%。这表明 ()
A. 国有经济就是公有制经济
B. 大企业大集团是国有经济的实现形式
C. 国有经济在国民经济中起主导作用
D. 公有资产在社会总资产中占优势

12. 2009年12月14日,国资委主任、党委书记李荣融在中央企业负责人会议上发表讲话指出,2010年国资委将加大中央企业母公司层面的公司制股份制改革,引入社会资本,实现产权多元化。这说明中央企业股份制改革 ()
A. 必须由国家或集体控股
B. 是产品的分配方式
C. 可以扩大公有资本的支配范围
D. 具有公有制性质

13. 2010年8月12日中央统战部网站网讯:近来,大连市通过抓组织设置形式创新、活动方式创新、管理机制创新,扎实推进非公有制企业创先争优活动。通过开展此项活动,以推动我国非公有制经济的健康发展。在我国,非公有制经济 ()
①不受公有制经济的影响和制约 ②包括个体经济、私营经济和外资经济等 ③是社会主义初级阶段的生产力发展状况决定的 ④是社会主义市场经济的重要组成部分
A. ①②③ B. ②③④
C. ①③④ D. ①②④

14. 来自广东省发改委的数据显示,2009年广东省GDP超3.8万亿元,同比增长8.5%,其中,广东私营经济增加值增长20%,占全省GDP的42%。这表明广东这艘“经济巨舰”的“发动机”,正在由外向带动为主的“一个半引擎”驱动,转向内、外源经济并进共荣的“双轮驱动”。上述材料说明 ()
A. 私营企业将冲击公有制的主体地位
B. 私营企业已成为社会主义经济的重要组成部分
C. 私营经济比公有制经济更加优越
D. 多种所有制经济共存的格局得以进一步发展

15. 2009年12月7日,南通市召开民营经济发展工作座谈会,强调要坚持量质并举,继续保持民营经济领先发展优势,为加快基本现代化建设培育新的增长点。从长远来看,中国经济是国有经济与民营经济的并行发展,在这一

过程中,民营经济不断壮大,国有资产不断增值。上述发展 ()

①说明要坚持公有制为主体、多种所有制经济共同发展的基本经济制度 ②对于解放和发展生产力,促进我国的经济建设会起到积极的作用 ③说明公有制经济和非公有制经济可以统一于社会主义现代化建设的进程中 ④说明改革开放以来,我国在不断变革所有制结构

- A. ①②③ B. ②③④
C. ③④ D. ①③④

二、非选择题

16. 材料一 工信部发布3G(第三代移动通信)牌照,中国正式步入了3G时代。3G的到来,不仅是通信行业的里程碑事件,基于3G调整数据传输的移动信息化应用,将极大改变人们的生产生活,对全社会都会产生巨大而深远的影响。

材料二 工信部日前公布了截止到2009年10月份的一组官方数据,其中显示我国目前中国电话用户总数达到10.18亿户,每月仍保持七百多万的增长,成为世界上移动电话用户数量最多的国家。网民规模已达3.38亿人,继续领跑全球。3G牌照发放后,移动互联网前6个月新增WAP用户2622.8万户,相当于2008年全年的71%。各项数据集中说明了我国的信息产业获得了飞速发展,取得了举世瞩目的成绩。

请你运用生产与消费的关系简要分析我国信息产业取得举世瞩目成就的原因。

17. 材料一 据统计,改革开放30多年来,我国非公有制经济增长年均速度达20%以上,在国内生产总值中所占比重已从1979年的不足1%提高到目前的三分之一以上。特别是在一些一般性竞争领域,非公有制经济有的已经超过80%。预计到2010年,非公有制经济将贡献全国税收的50%。

材料二 党的十七大报告指出,必须坚持两个“毫不动摇”,即“必须毫不动摇地巩固和发展公有制经济”“必须毫不动摇地鼓励、支持和引导非公有制经济发展”。

结合上述材料,运用经济生活知识回答:

(1)说明坚持两个“毫不动摇”的必然性。

(2)谈一谈你对发展非公有制经济的认识。

第五课 企业与劳动者

一、选择题

由安徽日报报业集团与南非 MIH 传媒集团联合组建的新安传媒有限公司,是安徽媒体首次引进的境外资本项目,也是目前全国首家经国家批准的党报集团中外合作项目。据此回答 1~2 题。

1. 公司和企业的区别是 ()
 - A. 都是以营利为目的的企业法人
 - B. 企业不一定以营利为目的,公司一定以营利为目的
 - C. 公司不一定以营利为目的,企业一定以营利为目的
 - D. 公司由法定数额的股东所组成,企业则不一定
2. 股份有限公司和有限责任公司的共同特征是 ()
 - A. 都通过发行股票筹集资金
 - B. 都把资本划分为等额股份
 - C. 都对公司债务承担有限清偿责任
 - D. 公司财务都向社会公开

从 2009 年 1 月 1 日至 2011 年 12 月 31 日,财政部对企业公司制改造、股权转让等行为给予一定契税优惠,以降低企业重组成本,显示了政府对企业公司制改造行为的鼓励态度。据此回答 3~4 题。

3. 政府鼓励企业推进公司制改造,是因为公司制具有下列优点 ()
 - ①独立法人地位
 - ②有限责任制度
 - ③科学管理结构
 - ④以营利为目的
 - A. ①②③
 - B. ①②④
 - C. ①③④
 - D. ②③④
4. 推进公司制改造,建立现代企业制度,有利于 ()
 - ①增强企业的竞争力
 - ②为社会提供廉价的商品
 - ③企业创立名牌
 - ④树立良好的企业形象
 - A. ①
 - B. ①②
 - C. ②③④
 - D. ①②③④
5. 中新网报道,沈阳市有 20 名工人被命名为首批“首席工人”,他们中年薪最高者近 10 万元。建立“首席工人制”旨在构建有利于工人成才的环境,让工人看到岗位成才的前景,激发工人钻研技术,提高学习技术业务的积极性。建立“首席工人制” ()
 - ①有利于企业职工素质的提高
 - ②有利于增加本企业产品的数量
 - ③有利于提高企业的劳动生产率
 - ④将有利于企业在激烈的市场竞争中占据有利地位
 - A. ①②③
 - B. ①③④
 - C. ①②④
 - D. ②③④

2010 年 8 月 21 日,第七十一届“精英天下”珠三角制造业、高新技术产业联合大型招聘会在深圳举行。“精英天下”以超大现场规模、庞大资源优势 and 强势品牌效应为企业汇集精英人才,为精英打造人生舞台。据此回答 6~7 题。

6. 对企业来说,创造品牌 ()

- ①目的是追求高额垄断利润
- ②能够提高产品的竞争力
- ③能够顺利实现其商品价值
- ④能够树立企业良好的信誉和形象

- A. ①②③
- B. ①②④
- C. ①③④
- D. ②③④

7. 品牌的商业价值,已越来越被企业所认同。只有消费者接受了某一品牌,并对品牌产生了积极的联想,才会促使其购买该产品。这给我们的启示是 ()

- ①商品竞争在很大程度上是品牌之间的竞争
- ②企业必须树立品牌意识,以品牌促发展
- ③商品的品质决定商品的价值
- ④企业发展需要品牌,品牌决定产品的商业价值

- A. ①②
- B. ②④
- C. ①③
- D. ②③

8. 2009 年岁末完成的安徽星马汽车与安徽华菱汽车股份有限公司重组,在行业引起了很大的震动。重组后,华菱的市值可以达到几十个亿,销售收入将过百亿,净资产可以跻身重卡企业的第六位。实施企业兼并破产重组有利于 ()

- ①优化产业结构
- ②合理配置资源
- ③减少国有大中型企业数量
- ④促进优胜劣汰

- A. ①②③
- B. ②③④
- C. ①②④
- D. ①③④

9. 漫画《以辛勤劳动为荣》能够传递出的信息是 ()



以辛勤劳动为荣

- ①劳动者在生产发展起主导作用
- ②劳动是人类文明进步发展的源泉
- ③光荣属于劳动者
- ④各种正当职业的劳动者没有高低贵贱之分

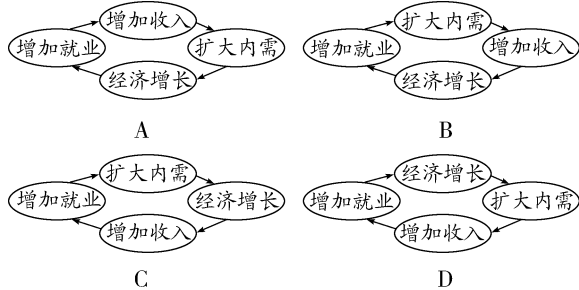
- A. ①②
- B. ③④
- C. ①③④
- D. ①②③④

10. 为了全面贯彻落实国家的就业再就业政策,进一步促进就业,改善民生,加强民兵队伍建设,新疆伊宁市针对城镇乡村未就业的适龄青年开展了就业再就业培训工作。材料说明了 ()

- A. 我国就业形势严峻
- B. 就业关系到国计民生,我国政府从人民利益出发重视就业
- C. 我国实施积极就业政策
- D. 我国劳动力素质与社会主义经济建设不相适应

答案	题号
	1
	2
	3
	4
	5
	6
	7
	8
	9
	10
	11
	12
	13
	14
	15

11. 2009年11月16日,天津市人力资源和社会保障局公布,1~10月,全市新增就业34.7万人。从经济上说,增加就业不但可以充分利用我国丰富的劳动力资源,而且还能促进经济良性循环。下列正确表示这种循环过程的是()



12. 对于我国“80后”出生、如今踏入社会准备就业的大学生而言,他们不得不调整自己先前的诸多就业预期:“不体面的工作不想做”“辛苦而收入少的工作不愿做”“基层工作想都不想”等。面对我国严峻的就业形势,大学生们应该认识到:在市场竞争中,只有自身实力强和综合素质高才能就业机会多,万万不可眼高手低。这主要启示我们要树立()

- A. 自主择业观 B. 职业平等观
C. 竞争就业观 D. 多种方式就业观

13. 2010年3月28日,山西王家岭煤矿透水事故造成38人遇难,据了解,王家岭煤矿透水事故属特别重大安全事故。该煤矿经营者的行为()


- A. 侵犯了劳动者平等就业和选择职业的权利
B. 侵犯了劳动者的知情权
C. 侵犯了劳动者获得劳动安全卫生保护的权利
D. 说明我国的保险制度不健全

《劳动合同法》实施以来,社会上出现了许多不同的声音,有人认为《劳动合同法》有点超前了,应该修改。对此,劳动和社会保障部副部长孙宝树表示:“《劳动合同法》实施时间不长,不是一个修改问题,而是一个要认真贯彻执行的问题。”据此回答14~15题。

14. 目前,一些私营小厂、小矿的黑心经营者,视打工仔、打工妹的生命如草芥,用类似“卖身契”的劳动合同,强迫打工者从事对劳动者人身极具危害的劳动。上述材料给我们的启示是()

- ①劳动者要敢于维护自己的合法权益 ②劳动者要增强自我保护意识
③劳动者要用法律武器维护自己的合法权益 ④劳动者不要到这样的小厂、小矿去打工,其合法权益就能得到保护
- A. ①②③ B. ②③④ C. ①③ D. ②③

15. 漫画体现出()



- A. 非法雇佣在我国已不存在
B. 劳动者享受权利必须以履行义务为前提
C. 《劳动合同法》是维护劳动者合法权益的重要法律依据
D. 劳动者的权利意识和法律意识淡薄

二、非选择题

16. 激烈的市场竞争中,江淮汽车始终坚持走自主创新谋发展之路,促进长远发展。江淮汽车十七年的高速发展证明:技术创新是先导性创新、基础性创新,是提高企业竞争力的永恒动力。

近年来,江淮汽车以自身的国家级技术中心为核心,建立起了多层次的研发体系和架构:除在国内拥有乘用车、商用车、动力总成等研究院外,还在国外建立了研发机构。构建了国内产学研合作体系,如同济大学等长期进行基础项目研发合作与成果运用。在新能源汽车、现代内燃机等关键总成技术上取得多项成果。

在实践科学发展观活动中,他们努力追求技术、管理、机制、人力资源开发、企业文化和营销理念六大要素的协调平衡。江淮汽车董事长左延安说:“就像一个水桶能盛多少水,不取决于其长板,而取决于最短的那块板一样。每个企业都有自己的长板与短板,江淮的经验是,争取在较短的时间内发现短板,然后迅速把它补上去。”

结合材料分析,江淮汽车股份有限公司的成功经营,对我国企业的发展具有怎样的启示?

17. 2010年1月22日,据人保部召开的新闻发布会介绍,2009年我国高校毕业生611万人,就业率为87%;2010年我国高校毕业生将达630万人,就业形势依然严峻。温家宝总理在十一届全国人大三次会议上指出,千方百计扩大就业,这是保障和改善民生的头等大事。

(1)结合上述材料,从经济生活角度简要分析国家高度重视解决大学生就业问题的原因。

(2)请为解决大学生就业问题提几点合理化建议。

第六课 投资理财的选择

一、选择题

1. 某农民从银行贷款2万元,期限两年,当时的贷款年利率是4.5%。到期后该农民应归还银行的现金是 ()
A. 20 900元 B. 21 800元
C. 22 400元 D. 23 600元
2. 阅读漫画《“瓜”分》,由此可知,住房和汽车消费给广大市民造成较大压力,为买房、买车而储蓄呈缓慢增长趋势。公民的储蓄是指公民个人将合法拥有的、暂时不用的货币存入 ()



“瓜”分

- A. 中国人民银行 B. 金融机构
C. 储蓄机构 D. 商业银行
3. 2010年2月25日,《2009年国民经济和社会发展统计公报》由国家统计局正式发布。公报显示,2009年底城乡居民人民币储蓄存款余额达26.1万亿元,为1978年以来新高,同比增长19.7%。公民的储蓄存款 ()
①是一种投资行为 ②是一种信用行为 ③是受国家法律和政策保护的行为 ④任何单位都无权冻结或查询
A. ②③④ B. ①②③
C. ①③④ D. ①②④
 4. 作为投资对象,活期储蓄与定期储蓄相比较,活期储蓄的 ()
A. 流通性更强 B. 流动性更好
C. 风险性更高 D. 收益性更大
 5. 截至2009年12月份,我国居民用户存款余额的同比增幅在28.21%左右。经济学家把中国居民在银行的存款形象地比喻为“笼中老虎”,老虎应该回归山林。从扩大内需的层面思考,下列措施中有助于“老虎回归山林”的是 ()
①下调存款利率 ②制定相关法律,规范居民存款的最高限额 ③提高社会保障水平 ④国家加大对经济建设的投资力度
A. ①④ B. ②③
C. ①③ D. ②④

6. 美国次贷危机是指因次级抵押贷款机构破产、投资基金被迫关闭、股市剧烈震荡引起的风暴。次贷危机对商业银行金融机构的启示是 ()
A. 扩大存款业务,因为它是商业银行的主体业务
B. 减少贷款业务,防范金融风险
C. 贷款时坚持真实性、谨慎性、安全性、效益性原则
D. 要不断降低存贷款利率
 7. “绝对高回报”“百分百的高收益”,这是在不少投资类广告资料上经常可以看见的一些说法。这表明 ()
A. 该投资对象是非常值得购买的
B. 投资收益的高低与投资的安全性无关
C. 该投资广告具有欺骗性,因为投资的收益越高,风险也越高
D. 该投资广告具有欺骗性,因为投资的收益越高,灵活性也越高
 8. 为充分发挥资本市场对高科技、高成长等创业企业的“助推器”和“孵化器”功能,我国推出创业板市场,并于2009年10月30日上市交易。首批28家公司当天即遭爆炒,以比发行价高106.23%的整体涨幅收盘。然而第二天即有20支股票跌停(跌幅为10%),一周后有的股票下跌幅度达46%,首日买入股票的股民资产大幅缩水。这表明 ()
①发展股票市场,有利于筹集资金,促进企业的发展
②股票是一种高风险的投资方式,国家应限制股票市场的发展
③股票投资的收入来源于股价上升带来的差价
④股东不能要求公司返还出资,但可以转售或在证券市场流通买卖
A. ①②④ B. ①③④
C. ①②③ D. ①④
- 2010年8月16日,今年第五期、第六期储蓄国债(电子式)面市,200亿元国债敞开卖。据此回答9~11题。
9. 从筹资的角度看,国债与股票最大的区别是 ()
A. 国债筹集财政资金,股票筹集企业资金
B. 国债收益低,股票收益高
C. 国债筹资安全性强,股票筹资风险大
D. 国债转手出让容易,股票转手出让难
 10. 财政部的公告称,第五期期限1年,票面年利率为2.60%,发行额为120亿元;第六期期限3年,票面年利率为

答案	题号
	1
	2
	3
	4
	5
	6
	7
	8
	9
	10
	11
	12
	13
	14
	15

3. 73%,发行额为 80 亿元。与其他债券相比,国债()
- ①信用度高,风险最小,安全性最好 ②代用率高,可以在市场上转让,而且可以用于抵押贷款 ③收益率最高 ④流通性强,在交易所上市,转手出让容易
- A. ①② B. ②③④
C. ①③ D. ①②④
11. 李先生购买了 5 000 元的第六期储蓄国债,期限 3 年,票面年利率为 3.73%,李先生到期可获得本息 ()
- A. 5 559.5 元 B. 559.5 元
C. 5 186.5 元 D. 186.5 元
12. 2010 年 3 月 2 日,国金证券基金研究中心分析师撰写的《2010 年 3 月基金投资策略报告》为基金投资提出建议。投资基金,比较适合于 ()
- ①缺乏足够投资知识、时间和精力投资者 ②希望风险最小、财富增值最大化的投资者 ③希望收益超过银行存款利息且无较大风险的投资者 ④希望存取灵活,能使日常生活待用资金随用随取的投资者
- A. ①② B. ③④
C. ①③ D. ②④
13. 中国的平安产险 2010 年 1~7 月保费收入 349 亿元,同比增长 60.38%,七月份保费收入 49.31 亿元,单月同比增长 56.14%,符合预期。扣除七月单月保费,中国平安 2010 年上半年寿险和产险保费增速分别为 23.38% 和 61.1%。我国保险业的发展 ()
- ①能为人们规避风险提供有效措施 ②有利于降低投保人的风险损失 ③确保居民的人身、财产不再遭受损失 ④能保障居民的基本生活
- A. ①② B. ③④
C. ②③ D. ①④
14. 王先生是自由职业者,打算用 5 万元进行投资。因没有医疗保险,希望在这方面有所投入。除此之外,他还想选择风险较小的其他投资方式。那么,比较适合王先生的投资理财组合应当是 ()
- A. 人身保险和股票
B. 人身保险和政府债券
C. 财产保险和金融债券
D. 财产保险和企业债券
15. 理财专家指出,2010 年投资应适当多元化、多渠道。个人投资中有存款、股票、债券、保险,其共同点 ()
- A. 都是为了获得利息
B. 都存在较大风险
C. 都是集资手段
D. 都是投资行为

二、非选择题

16. 据证券时报 2009 年 10 月 9 日报道,广东银行与保险机构加强合作,为众多外贸企业尤其是中小型企业提供资金融通、规避风险的综合性服务,数百家中小企业受惠。

(1) 商业银行的主要业务有哪些?

(2) 我国的商业保险有哪些功能?

17. 财产性收入是城市居民出让财产使用权而获得的利息、租金、红利收入及财产增值收益等。居民财产性收入的水平,在一定程度上反映了当地居民“钱生钱”的本领高低。下表是 2010 年一季度,“长三角”16 个城市居民人均财产性收入比较(单位:元)。

地区	上海市	江苏 8 个市	浙江 7 个市	“长三角”人均
居民人均	64	78	222	140

(1) 上述表格说明了什么?

(2) 居民“钱生钱”的途径主要有哪些?

(3) 假如你是一个投资者,你认为在选择投资方面应注意哪些问题? 请简要说明理由。

→ 第三单元 收入与分配

第七课 个人收入的分配

一、选择题

1. 按劳分配与生产资料社会主义公有制之间的关系是 ()
 ①按劳分配是社会主义公有制经济中个人消费品分配的基本原则 ②后者为前者提供了可能性 ③前者是后者在分配关系上的体现 ④前者是后者的前提

A. ①②③ B. ①②④ C. ①③④ D. ②③④

2. 在我国现阶段,按劳分配之所以在各种分配方式中占主体地位,是因为 ()

①公有制是我国经济的主体 ②在公有制企业的劳动者的各种收入报酬中,按劳分配部分占较大比重 ③按劳分配是一种最好的分配方式 ④公有制企业的劳动者收入来源的多样化

A. ①② B. ③④ C. ①②③ D. ②③④

国务院决定 2010 年所有事业单位进行绩效工资改革。事业单位绩效的核心是它所提供的公益性服务的质量和数量,改革的目的是在事业单位建立一种把薪酬分配与公益性服务绩效紧密相连的新的激励约束机制。据此回答 3~4 题。

3. 把薪酬分配与与公益性服务绩效紧密相连的激励约束机制主要体现了 ()

A. 按劳分配的原则 B. 按生产要素分配的原则
 C. 按科技分配的原则 D. 按个体劳动成果分配原则

4. 实施绩效工资,既要以促进提高公益服务水平为导向,建立健全绩效考核制度,搞活事业单位内部分配;也要统筹事业单位在职人员与离退休人员的收入分配关系,不断完善绩效工资政策,对离退休人员发放生活补贴。这些措施 ()

①有助于协调人们之间的经济利益关系,实现经济发展、社会和谐 ②贯彻了回报社会、先富帮后富的精神 ③体现了再分配更加注重公平的原则 ④有助于劳动者树立自主择业观

A. ①②③ B. ②③④ C. ①③ D. ②④

5. 2010 年 7 月 27 日《人民日报》报道,吉林省今年以来个体私营经济发展迅猛,截止到今年上半年,全省个体私营经济市场主体发展数量已超额完成全年的发展计划。下列属于按个体劳动者劳动成果分配的是 ()

A. 张某开个体杂货店的税后收入
 B. 农民张某经营承包土地而获得的收入
 C. 国有企业劳动者的收入
 D. 国有企业职工的奖金收入

6. 据《安徽日报》报道,马鞍山市实施农业科技特派员工程助

力现代农业,市政府鼓励科技特派员以投资创业、技术入股、技术服务、奖金入股或技术承包服务等形式,在入驻地创办经济实体,形成工农携手、风险共担、利益共享的合作关系。科技特派员以技术入股、技术承包所获得的收入分别属于 ()

A. 按劳分配和按劳动要素分配
 B. 按劳动要素分配和个体劳动者的劳动所得
 C. 按生产要素分配和按劳分配
 D. 按资本要素分配和按技术要素分配

7. 漫画《同富不同路》主要说明 ()



同富不同路

A. 我国经济成分多样化
 B. 我国个人收入分配形式多样化
 C. 我国居民投资方式多元化
 D. 我国经济发展的投资主体多元化

8. 小明的爸爸是个体户,妈妈在该市的某国有企业工作,爷爷奶奶在农村种责任田,他的叔叔是某公司的高管,年薪 20 万。材料中小明的爸爸、妈妈、爷爷奶奶、叔叔主要是按 _____ 方式取得收入的。 ()

A. 按劳分配、按劳动要素分配、按个体劳动者劳动成果分配、按生产要素分配
 B. 按劳动要素分配、按劳分配、按劳分配、按劳动要素分配
 C. 按劳分配、按技术要素分配、按劳动要素分配、按劳分配
 D. 按个体劳动者劳动成果分配、按劳分配、按劳分配、按管理要素分配

9. 2009 年 12 月 9 日全国发展和改革委员会强调,为了缩小收入差距,让普通民众感受到收入分配改革的实惠,必须把握分配公平的导向。下列对收入分配公正和公平的理解,正确的是 ()

①收入分配公正和公平,主要表现为收入分配的相对平等 ②要求社会成员平均分配产品 ③收入分配公正和公平是社会主义分配原则的体现 ④收入分配公正和公平有助于协调人们之间的经济利益关系,实现经济社会协调发展

A. ①②③ B. ①③④ C. ②③④ D. ②④

答案	题号
	1
	2
	3
	4
	5
	6
	7
	8
	9
	10
	11
	12
	13
	14
	15

10. 据国家统计局数据显示,去年全国城镇单位在岗职工平均工资最高的3个行业中,证券业172 123元,是全国平均水平的5.9倍;其他金融业87 670元,是全国平均水平的3.0倍;航空运输业75 769元,是全国平均水平的2.6倍。对此,下列理解正确的是 ()
- ①这表明在我国收入分配中存在一个严重问题,就是行业之间收入差距过大 ②对此国家应该采取相应措施,加强对过高收入分配的调节 ③这说明效率提高有利于节约资源,增加社会财富 ④这表明在社会主义市场经济条件下,效率与公平是绝对对立的
- A. ①②④ B. ①③④ C. ②③④ D. ①②

11. 2009年9月,人力资源和社会保障部等六部门联合下发《关于进一步规范中央企业负责人薪酬管理的指导意见》(被称为“限薪令”),对中央企业高管发出“限薪令”。要解决我国上述收入差距大的问题,还应该 ()
- ①消除收入差距,实现社会公平 ②提高劳动报酬在初次分配中的比重 ③强化税收调节,整顿分配秩序 ④再分配要更加注重社会公平
- A. ①②③ B. ②③④ C. ①②④ D. ①③④

12. 下图是我国某城市居民2009年1~10月收入构成一览表。图表表明 ()

内容	工资、薪金收入	出租房屋收入	经营服装店收入	股票、利息收益
比例(%)	26	25	36	13

注:财产性收入,一般是指家庭拥有的动产(如银行存款、有价证券等)、不动产(如房屋、车辆、土地、收藏品等)所获得的收入。

- ①财产性收入已成为该市居民收入的重要组成部分 ②我国居民之间的收入差距悬殊 ③该市居民收入主要来自按生产要素分配 ④投资方式多样化带来居民收入来源多样化
- A. ①②③ B. ②③④ C. ①②④ D. ①③④

13. 2010年8月23日,住房和城乡建设部政策研究中心副主任秦虹表示:今年我国公共租赁房等保障性住房建设步伐进一步提速,保障性住房制度的“全覆盖”将更好地改善中低收入群众的住房条件。党中央也多次强调,在经济发展基础上,要更加注重社会公平,使全体人民共享改革发展的成果。注重社会公平必须 ()
- ①坚持按劳分配为主体,进行分配制度改革 ②坚持各种生产要素按贡献参与分配 ③完善社会保障体系,提高社会保障水平 ④通过强化税收调节,整顿分配秩序
- A. ②③④ B. ①②③ C. ①②④ D. ①③④

构建社会主义和谐社会的关键是统筹协调好公平和效率的关系。我国改革一开始就直接针对长期存在的低效率体制,以效率为目标改革,所选择的路径就是市场化和允许一部分地区和一部分人先富起来。但是效率不能远离公平,就像过去公平不能远离效率一样。现在,在效率明显提高的同时不公平问题也明显突出,甚至不公平开始严重影响效率。据此回答14~15题。

14. 从公平与效率的关系上看,我国的改革以效率为目标,是

因为 ()

- A. 效率是公平的物质前提
B. 效率是公平的理论基础
C. 公平是效率的社会保证
D. 公平是效率的物质基础

15. 不公平开始严重影响效率,这从反面证明了 ()
- A. 有公平自然就会有效率
B. 公平的实现有待于效率的提高
C. 公平是提高效率的保证
D. 公平从来就离不开效率

二、非选择题

16. 2009年5月,财政部发出通知,要求规范国有金融机构高管人员薪酬分配秩序。国有金融机构在清算2008年度高管人员薪酬时,按不高于2007年度薪酬90%的原则确定。通知还规定,各国有金融机构要以上限确定其他员工薪酬,合理体现岗位差异和业绩差异。

据此请回答:

(1)我国现阶段,个人消费品实行什么样的分配制度?

(2)国有金融机构高管人员的薪酬主要体现的分配方式是什么?

(3)运用经济学的有关知识回答:财政部发此通知有何积极意义?

17. 2009年3月,全国政协十一届二次会议共收到提案5 571件。围绕收入分配问题,提案提出的主要建议意见是深化分配制度改革,解决行业收入悬殊问题等。当前,我国初次分配和再分配都要处理好效率和公平的关系,再分配更加注重公平。

运用所学知识,回答下列问题:

(1)分析说明初次分配和再分配都要处理好效率和公平的关系,再分配更加注重公平的原因。

(2)联系我国经济发展的实际,说明应如何实现社会公平。