

书 名 人民教育版课程标准实验教科书  
单元测试卷·地理(八年级下学期)

作 者 周 芳 徐占国 姜元瑞 于祎兰 李玉真 陈树林

出版发行 青岛出版社

社 址 青岛市徐州路 77 号(266071)

本社网址 <http://www.qdpub.com>

邮购电话 13335059110 (0532)85814750(兼传真) 80998664

责任编辑 姜 岩 电话 (0532)80998614

责任校对 张性阳

封面设计 云 光

照 排 青岛新华出版照排有限公司

印 刷

出版日期 2007 年 2 月第 6 版 2007 年 2 月第 9 次印刷

开 本 8 开(787mm×1092mm)

印 张 3.75

字 数 78 千

书 号 ISBN 978 - 7 - 5436 - 0896 - 2

定 价 5.00 元

编校质量、盗版监督电话 (0532)80998671

青岛版图书售出后如发现印装质量问题,请寄回青岛出版社印刷物资处调换。  
电话 (0532)80998826

# 目 录

第五单元测试题(A卷) .....	[ 1 ]
第五单元测试题(B卷) .....	[ 5 ]
第六单元测试题(A卷) .....	[ 9 ]
第六单元测试题(B卷) .....	[13 ]
期中测试题(A卷) .....	[17 ]
期中测试题(B卷) .....	[25 ]
第七单元测试题(A卷) .....	[29 ]
第七单元测试题(B卷) .....	[33 ]
第八单元测试题 .....	[37 ]
第九单元测试题 .....	[41 ]
期末测试题(A卷) .....	[45 ]
期末测试题(B卷) .....	[49 ]
参考答案 .....	[53 ]

# 第五单元测试题(A卷)

(时间 90 分钟 满分 100 分)

学 校		班 级		姓 名		总 分	
自我评价				教师评语			

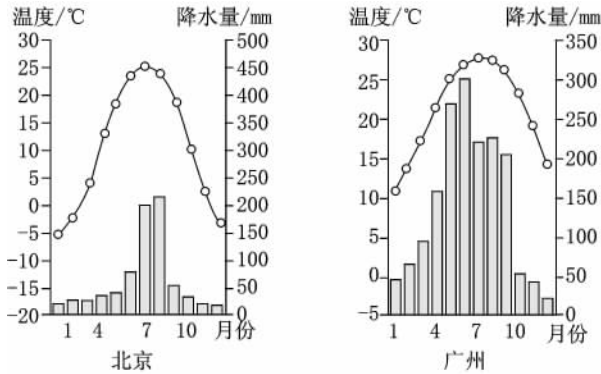
## 一、单项选择题(每小题 2 分,共 40 分)

- 我国北方地区的主要气候类型是( )。  
A. 亚热带季风气候  
B. 温带海洋性气候  
C. 温带大陆性气候  
D. 温带季风气候
- 我国水土流失治理的重点是( )。  
A. 东北平原  
B. 华北平原  
C. 黄土高原  
D. 山东丘陵
- 导致我国南、北方耕作制度差异的主要自然因素是( )。  
A. 地形  
B. 气候  
C. 热量  
D. 土壤
- 下列表述中属于我国南方地区的是( )。  
A. 男女老少都喜欢饮酒  
B. 森林宝库,温带果园  
C. 游泳、赛龙舟是本地居民擅长的运动  
D. 煤、石油、铁矿丰富,有全国最大的煤炭能源基地
- 我国南方地区与北方地区的界线是( )一线。  
A. 大兴安岭—阴山—贺兰山—冈底斯山  
B. 大兴安岭—太行山—巫山—雪峰山  
C. 秦岭—淮河  
D. 昆仑山—祁连山—横断山
- 区分我国北方地区与西北地区界线的主导因素是( )。  
A. 海陆位置  
B. 地形、地势  
C. 气候(气温、降水)  
D. 人文地理特点
- 我国四大地理区域中,位于非季风区、大陆性气候显著的是( )。  
A. 青藏地区  
B. 西北地区  
C. 北方地区  
D. 南方地区
- 下列有关我国四大地理区域的说法,正确的是( )。  
A. 长江流域全部在南方地区  
B. 黄河流域全部在北方地区  
C. 有“塞上江南”之称的河套平原、宁夏平原在西北地区  
D. 我国最大的淡水湖鄱阳湖在青藏地区
- 我国东北地区的中学生寒假很长,主要原因是( )。

- A. 这里纬度较高,冬季寒冷而漫长  
 B. 学生喜欢放长假  
 C. 寒假时间长是为了充分休息,有利于健康  
 D. 当地政府制定的,为了让学生好好过年
10. 我国南方地区的年降水量在( )。  
 A. 800mm 以上    B. 400mm 以上    C. 800mm 以下    D. 200mm 以下
11. 在我国南方的农村地区,水运仍是人们常用的一种交通运输方式,其原因是南方( )。  
 A. 气温高    B. 河流湖泊多    C. 人们喜欢    D. 农田多为水田
12. 下列有关我国南、北方地区人民生活的叙述,正确的是( )。  
 A. 北方居民居住的房屋屋顶坡度大,便于雨水流泻  
 B. 北方农村室内砌有土炕,以炕为床,睡时温暖舒适  
 C. 南方人爱好滑雪,北方人擅长游泳  
 D. 南方农村过去多用骡马作役畜,北方则用船
13. 我国大部分地区存在煤烟污染,尤其严重的是( )。  
 A. 冬季的北方地区    B. 冬季的南方地区  
 C. 夏季的北方地区    D. 夏季的南方地区
14. 我国南方地区多水田,以种植水稻、油菜等为主,一年二至三熟,其原因是南方地区( )。  
 A. 地形以平原为主    B. 河流湖泊较多  
 C. 为亚热带常绿阔叶林    D. 气温高,降水丰富
15. “草长莺飞二月天,拂堤杨柳醉春烟,儿童散学归来早,忙趁东风放纸鸢。”这首诗描写的是我国( )的景色。  
 A. 北方地区    B. 南方地区  
 C. 西北地区    D. 青藏地区
16. 下列水果盛产于我国北方地区的一组是( )。  
 A. 柑橘、苹果、香蕉    B. 荔枝、龙眼、梨  
 C. 椰子、菠萝、桃    D. 葡萄、苹果、梨
17. 在下列地区中,戏剧以越剧、黄梅戏为主的是( )。  
 A. 江苏、安徽、上海、浙江    B. 甘肃、青海、浙江、云南  
 C. 陕西、河北、江苏、广东    D. 河北、吉林、湖南、江西
18. 我国南方地区的园林特点是( )。  
 A. 小巧玲珑    B. 建筑规模庞大  
 C. 宫殿宏伟    D. 寺院广布
19. 下列植被属于我国南方地区的是( )。  
 A. 针叶林    B. 落叶阔叶林    C. 林海雪原    D. 常绿阔叶林
20. 下列属于同一级别行政区划的是( )。  
 A. 西藏自治区、拉萨    B. 香港、珠海  
 C. 北京、重庆    D. 广东、深圳

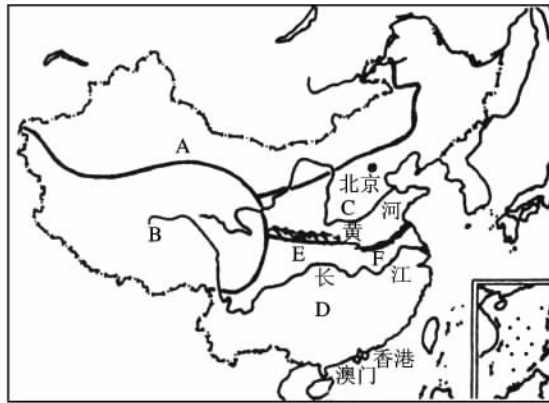
二、综合题(共 60 分)

21. 下图表示的是以北京为代表的北方地区和以广州为代表的南方地区的气候特点,据此完成下表。(8分)



	北 京	广 州
年降水量(大或小)		
雨季(长或短)		
气温年较差(大或小)		
1月均温(以0 为界)		

22. 读下图,完成相关问题。(10分)



(1)图中 A 是我国的\_\_\_\_\_地区, B 是\_\_\_\_\_地区, C 是\_\_\_\_\_地区, D 是\_\_\_\_\_地区。

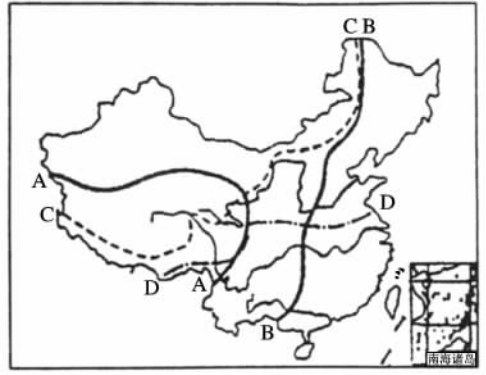
(2)C 地区与 D 地区的分界线 EF 代表的\_\_\_\_\_一线大致与我国\_\_\_\_\_毫米年等降水量线相一致。

(3)A、B、C、D 四大地区中淡水湖泊最多的是\_\_\_\_\_,咸水湖泊最多的是\_\_\_\_\_。

(4)由图中分析,海岸线最长的是\_\_\_\_\_,平原面积较大的是\_\_\_\_\_。

23. 读下图,完成相关问题。(12分)

(1)图中 A、B、C、D 4 条线均是我国的重要地理分界线,其中 A 是 \_\_\_\_\_,B 是 \_\_\_\_\_,C 是 \_\_\_\_\_,D 是 \_\_\_\_\_。



(2)河流无结冰现象的地区多分布在\_\_\_\_\_。

(3)以地下水和高山冰雪融水为主的灌溉农业区主要分布在\_\_\_\_\_。

(4)我国的半湿润地区主要分布在\_\_\_\_\_。

(5)我国的高寒牧业、河谷农业主要分布在\_\_\_\_\_。

24. 读右图,完成下列问题。(14 分)

(1)C 处发展农业的最大限制因素是\_\_\_\_\_。D 处农业主要分布在河谷地带的原因是\_\_\_\_\_。



(2)C 处良田大量丧失的人为原因是\_\_\_\_\_

\_\_\_\_\_ ;B 处耕地缩小的原因是\_\_\_\_\_

\_\_\_\_\_。

(3)我国西部大开发的重点之一是生态环境建设,C 处应重点发展\_\_\_\_\_业,还应有计划地实施\_\_\_\_\_工程。

(4)图示 A 处于 1998 年发生特大洪涝灾害,除降水量和降水强度大之外,还有哪些因素?

25. 根据所学知识,完成下列表格。(16 分)

差异		我国北方地区	我国南方地区
自然差异	地形		
	气候		
	河流		
	主要植被类型		
人文差异	农业生产(耕地类型)		
	生活习惯		
	传统交通工具		
	民居		

# 第五单元测试题(B卷)

(时间 90 分钟 满分 100 分)

学 校		班 级		姓 名		总 分	
自我评价				教师评语			

## 一、单项选择题(每小题 2 分,共 40 分)

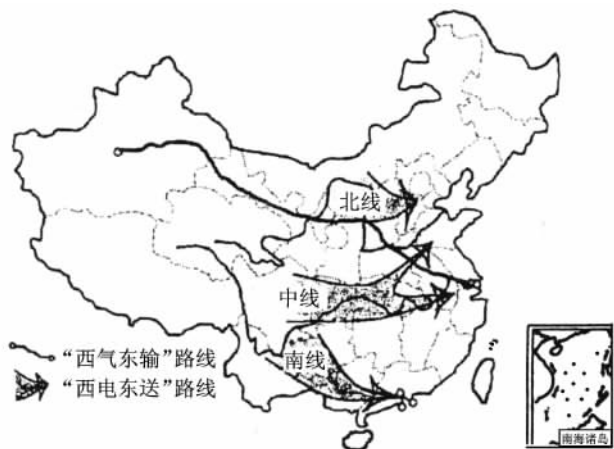
- 我国西北地区与青藏地区的分界线是( )。  
A. 横断山—祁连山  
B. 大兴安岭—阴山  
C. 昆仑山—祁连山  
D. 天山—太行山
- 下列地理事项中,与我国西北地区干旱特征无关的是( )。  
A. 风蚀城堡  
B. 天山牧场  
C. 居民点呈点状或带状分布  
D. 矿产丰富
- 我国面积最大的盆地是( )。  
A. 塔里木盆地  
B. 柴达木盆地  
C. 四川盆地  
D. 准噶尔盆地
- 我国西北地区和青藏地区发展种植业需共同考虑的主要因素是( )。  
A. 地形平坦程度  
B. 土壤是否肥沃  
C. 有无灌溉水源  
D. 光热是否充足
- 三江源自然保护区位于( )。  
A. 西藏自治区  
B. 新疆维吾尔自治区  
C. 青海省  
D. 甘肃省
- 我国青藏地区的牧场属于( )。  
A. 草原牧场  
B. 山地牧场  
C. 高寒牧场  
D. 平原牧场
- “登高瞭望一片沙,大风一起不见家”描绘的最有可能是我国( )。  
A. 北方地区  
B. 南方地区  
C. 西北地区  
D. 青藏地区
- 制约我国西北地区农业生产的最主要因素是( )。  
A. 地形条件  
B. 光照条件  
C. 水源条件  
D. 科技条件
- 下列自然景观描述与其对应地区连线正确的是( )。  
A. “一山有四季,十里不同天”——横断山区  
B. “人在水下走,船在天上行”——黄河中游  
C. “江作青罗带,山如碧玉簪”——西湖  
D. “远看是山,近看成川”——内蒙古高原
- 生活在我国西北地区的主要少数民族是( )。  
A. 回族、哈尼族  
B. 蒙古族、维吾尔族



(2)建设中的铁路线①的起止点是\_\_\_\_\_。

(3)位于\_\_\_\_\_省境内的\_\_\_\_\_自然保护区是我国海拔最高、面积最大的自然保护区，它是\_\_\_\_\_、\_\_\_\_\_、\_\_\_\_\_三条大河上游最重要的水源涵养区。该保护区的建设旨在保护当地的\_\_\_\_\_。该地区目前正面临的环境问题是\_\_\_\_\_，造成这些问题的人为原因主要是\_\_\_\_\_。

22. 读我国“西气东输”和“西电东送”路线图，完成下列各题。(16分)



(1)“西气东输”的气源来自\_\_\_\_\_油气田的天然气，最终输往\_\_\_\_\_，其运输方式是\_\_\_\_\_。从图中可以看出，其线路将\_\_\_\_\_次穿越黄河。

(2)“西电东送”北线是将\_\_\_\_\_和晋陕的电力送往\_\_\_\_\_和东北等地；南线电力主要来自珠江最大支流\_\_\_\_\_（河）上中游的电站，向东送往\_\_\_\_\_；中线的核心电站是\_\_\_\_\_。

(3)从我国能源资源的分布状况来看，“西电东送”的北线应以\_\_\_\_\_电为主，而中线和南线应以\_\_\_\_\_电为主。

(4)“西气东输”和“西电东送”都是西部大开发的重点工程。有人认为西部开发只是将西部的资源开发出来送往东部，促进东部地区的更快发展，你认为正确吗？请谈谈你的认识。

23. 阅读下列材料，完成相关问题。(12分)

来自我国不同地区的几名同学有机会一同进餐，他们兴致勃勃地谈论起自己家乡的特产。甲说：“今天的海鲜真多呀，平时我们很少能吃到如此新鲜的海鲜，而且我们那里海鲜的价钱非常高。”乙说：“我们这里的海产品又新鲜又便宜，这几天你可以大饱口福了。”丙兴奋地说：“我们那里的烤全羊味道好极了，准让你垂涎欲滴，还有各种各样的奶制品。”丁也热情地邀请大家：“要吃苹果到我们那儿没错，又脆又甜。”

(1)丁同学可能来自我国( )。

- A. 山西                  B. 四川                  C. 天津                  D. 新疆

(2)丙同学的家乡种植的农作物是( )。

- A. 甘蔗                  B. 哈密瓜                  C. 小麦                  D. 油菜

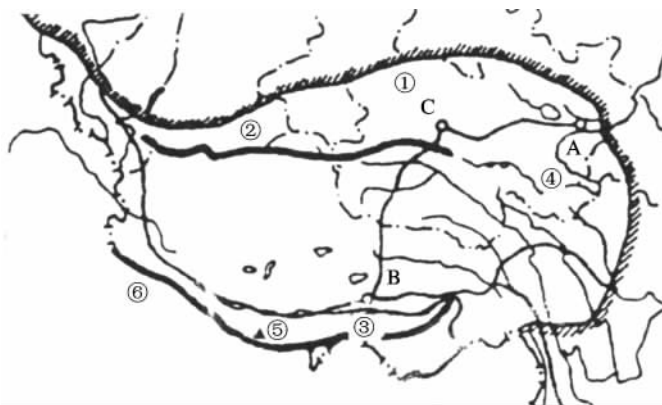
(3)下列有关对甲同学的家乡的叙述,可能的是( )。

- A. 是高温多雨的气候                  B. 那里的地形是广阔的平原  
C. 他可能来自云南                  D. 那里降水少,气候比较干旱

(4)甲、乙两同学的家乡农业种类差异很大,造成这种差异的主导因素是( )。

- A. 降水                  B. 气温                  C. 纬度                  D. 地势

24. 读青藏地区图,完成下列问题。(14分)



(1)写出图中数字所代表的地理事物的名称。

盆地 ① \_\_\_\_\_ ;山脉 ② \_\_\_\_\_ ;

河流 ③ \_\_\_\_\_。

(2)写出图中字母所代表的城市名称。

A. \_\_\_\_\_ B. \_\_\_\_\_ C. \_\_\_\_\_。

(3)青藏高原平均海拔在 \_\_\_\_\_ 米以上,有“ \_\_\_\_\_ ”之称。

(4)⑤是 \_\_\_\_\_ 峰,其海拔约 \_\_\_\_\_ 米,是世界第一高峰。

(5)⑥是 \_\_\_\_\_ 山,它是中国与邻国 \_\_\_\_\_、\_\_\_\_\_、\_\_\_\_\_ 的界山。

# 第六单元测试题(A卷)

(时间 90 分钟 满分 100 分)

学 校		班 级		姓 名		总 分	
自我评价				教师评语			

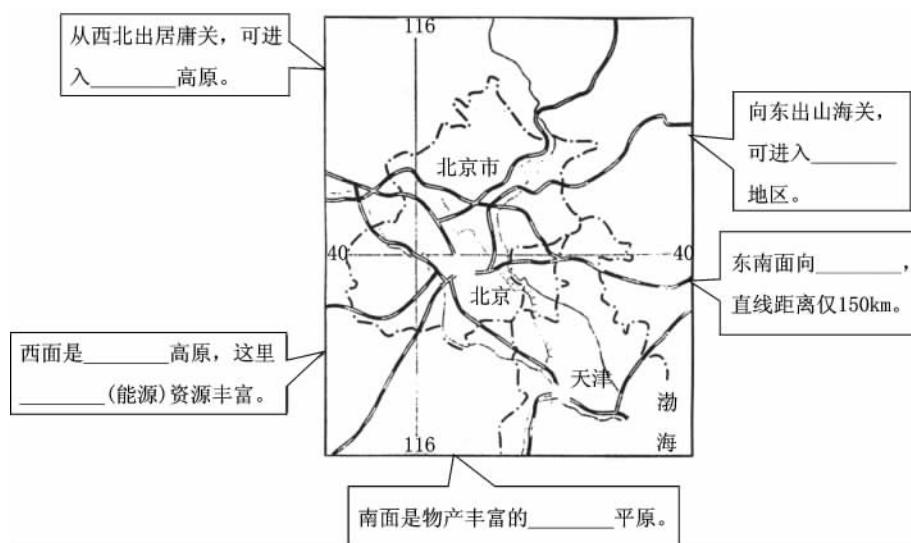
## 一、单项选择题(每小题 2 分,共 40 分)

- 香港经济发展的有利条件是( )。  
A. 丰富的矿产资源  
B. 丰富的森林资源  
C. 具有优越的地理位置  
D. 劳动力资源充足且廉价
- 北京传统的民居是( )。  
A. 独门独户  
B. 四合院  
C. 竹楼  
D. 窑洞
- 北京旧城民居面向南方的主要原因是( )。  
①有利于居室避寒和采光 ②地势低平,便于建设 ③体现“面南而王”的传统观念 ④水源充足,便于生活  
A. ①②  
B. ①③  
C. ①④  
D. ②④
- 北京是我国历史文化名城和古都之一,下列朝代中没有在北京定都的是( )。  
A. 宋朝  
B. 元朝  
C. 明朝  
D. 清朝
- 为增强国际竞争力和服务功能,北京采取了许多措施,下列说法错误的是( )。  
A. 加大基础设施建设力度  
B. 积极发展高新技术产业  
C. 拆除四合院,修建现代化楼房  
D. 提高城市管理效率和服务质量
- 世界上规模最大、保存最完整的宫殿建筑群是( )。  
A. 北京的故宫  
B. 圣彼得堡的冬宫  
C. 巴黎的凡尔赛宫  
D. 莫斯科的克里姆林宫
- 北京旅游资源丰富,下列全部被列入世界文化遗产名录的一组是( )。  
A. 八达岭长城、地坛、北海公园、明清故宫  
B. 颐和园、天坛、明十三陵、钟鼓楼  
C. 天宁寺、石景山、香山、圆明园  
D. 颐和园、明清故宫、八达岭长城、周口店北京猿人遗址
- 2008 年,北京将举办“绿色奥运”。在改善生态环境方面,北京从现在起就要整治或控制( )。  
A. 沙尘暴侵袭  
B. 行驶车辆数量  
C. 传统民居  
D. 流动人口数量
- 下列有关香港的叙述,错误的是( )。  
A. 香港的旅游业很发达  
B. 香港是一个自由贸易港  
C. 位于广东省珠江口的西侧  
D. 工业多属加工工业,以出口外销为主

10. 下列有关澳门的叙述 ,正确的是( )。
- A. 位于珠江口的东岸 ,毗邻广东省珠海市  
 B. 目前经济的发展与香港的支持密不可分  
 C. 旅游业发达 ,被誉为“购物者的天堂”  
 D. 国际贸易是其最重要的经济部门
11. 澳门经济发展的重要支柱产业是( )。
- A. 博彩、旅游业  
 B. 制衣、玩具制造业  
 C. 精密仪器加工业  
 D. 建筑材料工业
12. 现在从北京乘火车到香港的最佳铁路线是( )。
- A. 京九线  
 B. 京广线  
 C. 京哈线  
 D. 京沪线
13. 按地理方位分 ,北京应属于( )。
- A. 东北三省  
 B. 北部边疆  
 C. 黄河中下游  
 D. 长江中下游
14. 北京应属于四大地理区域中的( )。
- A. 北方地区  
 B. 南方地区  
 C. 西北地区  
 D. 青藏地区
15. 下列省级行政区中 ,与北京相邻的是( )。
- A. 内蒙古  
 B. 山西  
 C. 辽宁  
 D. 河北
16. 距离北京最近的出海港口是( )。
- A. 大连  
 B. 秦皇岛  
 C. 天津  
 D. 青岛
17. 下列关于北京的表述 ,正确的是( )。
- A. 北京最近的出海口为秦皇岛  
 B. 元、明、清等几个王朝曾在此建都  
 C. 北京是全国政治、文化、国际交往中心及最大的商业、金融中心  
 D. 八达岭长城依太行山而建
18. 20 世纪 50 年代 ,北京的水井地下水水面在地表下约 5 米处 ,现在该市 4 万口水井平均深度达 59 米。这种变化说明( )。
- A. 打井的技术和设备越来越先进  
 B. 北京的地面随地壳运动不断增高  
 C. 过度开采地下水导致地下水位下降  
 D. 必须停止开采地下水 ,改用地表水
19. 香港对外贸易比澳门发达的主要原因是( )。
- A. 香港有深水港 ,港口条件优于澳门  
 B. 澳门自然条件没有香港优越  
 C. 澳门与广州之间没有铁路相连  
 D. 香港人口多
20. 下列关于澳门经济的叙述 ,正确的是( )。
- A. 澳门原来工业比较发达  
 B. 在海上帆船时期 ,国际贸易地位衰落  
 C. 旅游、博彩业是经济支柱  
 D. 加工工业是澳门的经济支柱

## 二、综合题(共 60 分)

21. 读下列地图 ,认识北京的地理位置和自然环境 ,完成相关问题。(16 分)
- (1)把下列地图周边的图框补充完整。



(2)北京的地理位置：\_\_\_\_\_；北京的气候类型：

\_\_\_\_\_北京的气候特点：\_\_\_\_\_。

(3)北京长期作为全国政治中心，其地理位置有什么优越性？

22. 读右图，完成下列问题。(19分)

(1)写出图中字母和数字所代表的地理事物的名称。

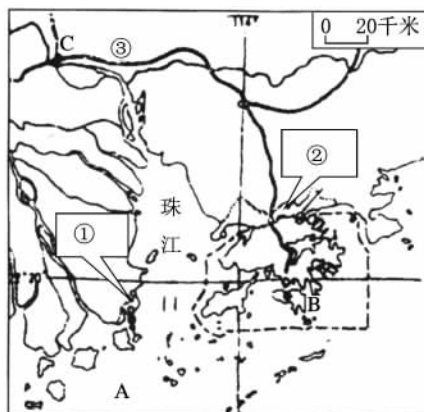
海域 A. \_\_\_\_\_。

岛(屿) B. \_\_\_\_\_。

城市 C. \_\_\_\_\_。

经济特区：①\_\_\_\_\_；②\_\_\_\_\_。

铁路 ③\_\_\_\_\_。



(2)香港位于珠江口\_\_\_\_\_侧，邻广东省\_\_\_\_\_

市；澳门位于珠江口\_\_\_\_\_侧，邻广东省\_\_\_\_\_市；

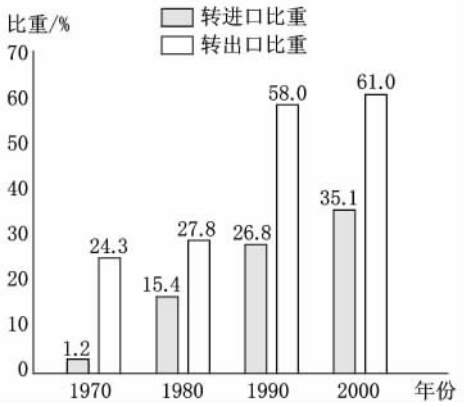
(3)香港和澳门回归祖国后都实行“\_\_\_\_\_”的政策。

(4)香港可供城市发展的土地有限，其原因是\_\_\_\_\_。

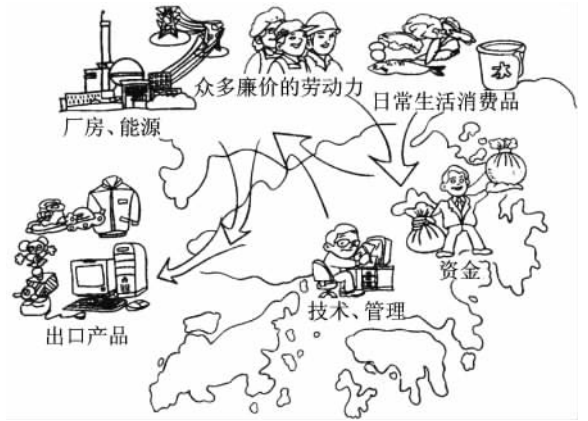
(5)为了解决人地矛盾，香港采取“上天”、“下海”的措施，“上天”是指\_\_\_\_\_

\_\_\_\_\_；“下海”是指\_\_\_\_\_。

23. 读“祖国内地在香港转口贸易中所占比重的增长图”，完成下列问题。(9分)



祖国内地在香港转口贸易中所占比重的增长



香港与祖国内地的优势互补

(1)从1970年到2000年的30年中,祖国内地在香港转口贸易中所占比重增长最快的10年是( )。

- A. 1970—1980年      B. 1980—1990年      C. 1990—2000年

(2)祖国内地与香港的合作过程中,祖国内地的优势主要有\_\_\_\_\_ ,香港的优势是\_\_\_\_\_。

24. 阅读下列材料,完成相关问题。(16分)

北京是著名的历史名城和古都之一,早在3000多年以前就形成了城市。金、元、明、清等先后在这里建都,各朝各代都留下了大量古建筑。近些年来,北京城市的现代化建设迅速发展,城市规模不断扩大。1911年,北京只有相当于现在二环路内的面积,人口76万。现在城区面积扩大到五环路,人口扩张到700多万。大量的千篇一律的高楼大厦被“克隆”在古都的中心,而最能代表东方文化特点的城墙、护城河、胡同、四合院等被大量吞噬。最近10年间,北京的胡同就由6000多条锐减到2000多条。

几百年来北京已形成了特有的胡同文化,胡同不仅仅是北京人的生活环境,而且是人类劳动创造的结晶。

(1)上述材料说明了什么问题?

(2)青岛正在进行大规模的旧城改造和扩建,你认为应怎样处理好建设与保护之间的关系?

# 第六单元测试题(B卷)

(时间 90 分钟 满分 100 分)

学 校		班 级		姓 名		总 分	
自我评价				教师评语			

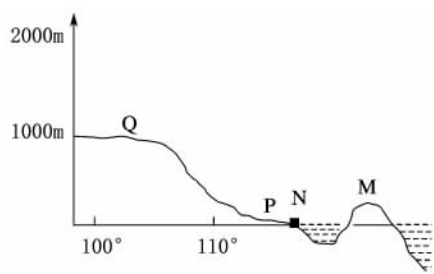
## 一、单项选择题(每小题 2 分,共 40 分)

- 我国台湾的经济特点是( )。  
A. 以农业为主的经济  
B. 以农副产品加工工业为主的经济  
C. 以重工业和农业为主的经济  
D. 以“进口→加工→出口”为主的经济
- 下列有关我国台湾自然条件的叙述,正确的是( )。  
A. 位于我国南海中的最大岛屿  
B. 东临台湾海峡,西濒太平洋  
C. 北回归线穿过台湾岛的中部偏南  
D. 地形中山地、平原各占一半
- 台湾的工业主要分布在( )。  
A. 中部地区  
B. 沿海地区  
C. 降水较多的东北部地区  
D. 西部平原地区
- 下列关于我国台湾多地震的原因的说法,正确的是( )。  
A. 四面环海,容易下沉  
B. 台湾山地多,容易断裂下滑,引发地震、泥石流  
C. 台湾处在亚欧板块与大洋洲板块的交界处  
D. 台湾处在亚欧板块与太平洋板块的交界处
- 我国台湾现在出口的商品主要是( )。  
A. 木材  
B. 甘蔗  
C. 工业制成品  
D. 农产品
- 我国台湾新竹科技园区成功的原因,不包括( )。  
A. 丰富的矿产资源  
B. 政策的强力支持  
C. 高素质的从业人员  
D. 便利的运输系统
- 我国台湾最大的城市和最大的港口城市分别是( )。  
A. 台中、基隆  
B. 台南、鹅鸾鼻  
C. 台北、高雄  
D. 台西、新竹

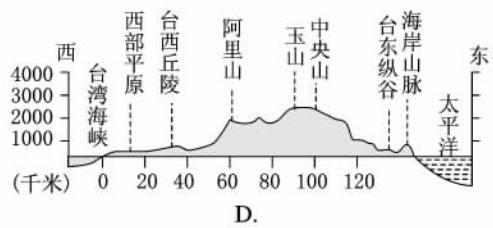
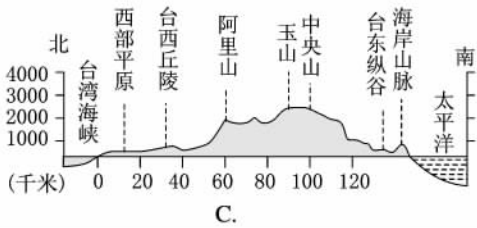
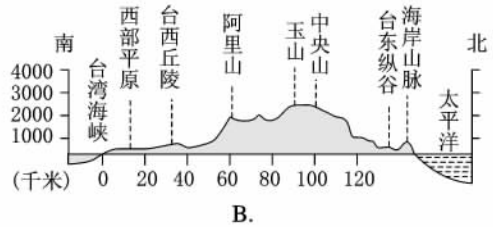
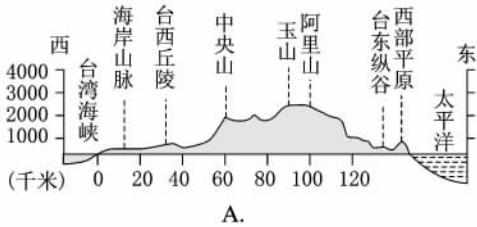
读右图,完成第 8—9 题。

- 若图中 M 为台湾省,那么下列说法错误的是( )。

- MN 之间为台湾海峡
- N 可能在福建省
- N 可能在广东省
- N 可能在广西壮族自治区



9. 图中 Q 地形区最有可能是我国的( )。
- A. 青藏地原      B. 云贵高原      C. 黄土高原      D. 四川盆地
10. 下列美誉中不是描述我国台湾的是( )。
- A. 祖国东南盐仓      B. 东方甜岛  
C. 热带亚热带“水果之乡”      D. 购物天堂
11. 下列 4 幅我国台湾地形剖面图(沿北回归线)中, 注记正确的是( )。



12. 我国新疆气候干旱的主要原因是( )。
- A. 位于高纬度地区      B. 全国面积最大的省区  
C. 地面上植被少      D. 深居内陆, 远离海洋
13. 我国新疆瓜果特别甜的原因是( )。
- A. 活动积温高, 降水丰富      B. 云量少, 日照长, 气温日较差大  
C. 活动积温低, 风力大      D. 沙性土壤肥沃
14. 我国新疆没有村镇分布的地区是( )。
- A. 河流的两岸      B. 沙漠边缘的绿洲  
C. 盆地的中部      D. 铁路沿线的工矿区
15. 我国新疆最突出的自然特征是( )。
- A. 高寒      B. 干旱      C. 半干旱      D. 半湿润
16. 我国新疆气候干旱的主要原因是( )。
- A. 由于身居内陆, 周围又有高大山脉, 海洋的水汽不易到达  
B. 由于地处高纬, 晴天较多  
C. 由于山区面积广, 降水量少  
D. 由于多盆地, 水分蒸发强烈
17. 按因果关系, 下列能正确反映新疆地理特征的是( )。
- A. 气候干旱→植被稀少→绿洲农业→身居内陆  
B. 绿洲农业→气候干旱→身居内陆→植被稀少  
C. 植被稀少→绿洲农业→气候干旱→身居内陆  
D. 身居内陆→气候干旱→植被稀少→绿洲农业

18. 下列关于我国新疆地形、地势的说法,正确的是( )。
- A. 地形以山脉、盆地为主,位于我国地势的第一级阶梯上  
 B. 地形以山脉、盆地为主,位于我国地势的第二级阶梯上  
 C. 地形以高原、平原为主,位于我国地势的第一级阶梯上  
 D. 地形以丘陵、平原为主,位于我国地势的第三级阶梯上
19. 下列有关我国新疆河流的叙述,正确的是( )。
- A. 河网稠密,水量丰富  
 B. 塔里木河是本区最长的外流河  
 C. 河流的补给主要来源于冰雪融水  
 D. 河流水量稳定,不存在断流现象
20. 下列关于塔里木河的说法,正确的是( )。
- A. 塔里木河是我国最大的季节性河流  
 B. 塔里木河最终注入北冰洋  
 C. 塔里木河流经准噶尔盆地  
 D. 塔里木河主要靠降水补给水源

二、综合题(共 60 分)

21. 台湾省是我国美誉最多的省份之一,请把下列美誉与其对应的物产连线。(12 分)

- |       |                   |
|-------|-------------------|
| ①祖国宝岛 | A. 四季鲜果不断         |
| ②森林之海 | B. 甘蔗和蔗糖产量大       |
| ③海上米仓 | C. 自然资源丰富         |
| ④水果之乡 | D. 西海岸自古就是重要的海盐产区 |
| ⑤东方甜岛 | E. 森林资源丰富,树种多     |
| ⑥东南盐库 | F. 农产丰富,水稻种植普遍    |

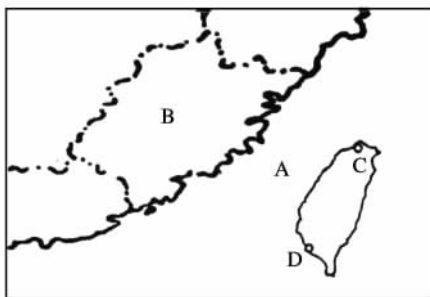
22. 读右图,完成下列问题。(9 分)

(1)在右图中填注下列地理事物的名称。(填数码。)

- ①南海 ②澎湖列岛 ③东海 ④太平洋  
 ⑤台湾山脉

(2)写出右图中字母所代表的地理事物的名称。

- A. \_\_\_\_\_ 海峡 B. \_\_\_\_\_ 省;  
 C. \_\_\_\_\_ 市; D. \_\_\_\_\_ 市。



23. 读下图,完成相关问题。(14 分)

