

全效学习

QUANXIAO XUEXI TONGBU XUE LIAN CE

同步学练测

主 审：鲁子问（华中师范大学教授）

石 挺（华中师范大学教授）

主 编：张雪明（中学数学特级教师）

本册主编：王能生

编 者：王能生

思想品德

湖南师大版·九年级(全一册)

四川出版集团  天地出版社

图书在版编目 (CIP) 数据

全效学习丛书: 湖南教育版. 九年级思想品德. 全/《全效学习丛书》编写组编. —成都: 天地出版社, 2009. 05
ISBN 978-7-5455-0123-0

I. ①全… II. ①全… III. ①思想品德课—初中—教学参考资料
IV. G634

中国版本图书馆 CIP 数据核字 (2009) 第 074446 号

全效学习系列丛书
思想品德 湖南教育版·九年级全一册

作 者: 全效学习系列丛书编写组
责任编辑: 何红烈、李科

出版发行□ 四川出版集团·天地出版社
(成都市三洞桥路 12 号 邮政编码: 610031)

网 址□ <http://www.tiandiph.com>

电子邮箱□ tiandiebs@vip.163.com

博 客□ <http://blog.sina.com.cn/tiandiph>

印 刷□ 三河市鑫鑫科达彩色印刷包装有限公司

版 次□ 2009 年 5 月第一版

印 次□ 2010 年 7 月第二次印刷

开 本□ 850mm×1168mm 1/16

印 张□ 10.25

字 数□ 393 千

定 价□ 19.80 元

书 号□ ISBN 978-7-5455-0123-0

■版权所有, 违者必究, 举报有奖!

举报电话: (028) 87735269 (营销部) 87734639 (总编室)
83226220 (客户服务部) 66126701 (选题策划部)

目 录

第一单元 世界在我心中

第一节 感受今日世界	1
第二节 开放的中国走向世界	4
第三节 面向世界的目光	8
单元综合升华	11
第一单元测试卷	

第二单元 关爱自然 关爱人类

第一节 共同的问题 共同的选择	13
第二节 我国的环境压力	16
第1课时 人口大国	16
第2课时 资源小国	19
第3课时 环境污染与破坏	22
第三节 走科学发展之路	26
单元综合升华	30
第二单元测试卷	

第三单元 发展科技 振兴教育

第一节 科技改变生活	32
第1课时 科技发展的足迹 感受科技的魅力	32
第2课时 直面成就与差距	35
第二节 教育振兴民族	39
第三节 科教兴国的重托	42
第1课时 培养创新精神	42
第2课时 珍惜受教育的权利	45
单元综合升华	49
第三单元测试卷	

第四单元 理想与使命

第一节 畅谈理想	51
第二节 感受使命	53
第三节 坚持理想 担当使命	56
单元综合升华	60
第四单元测试卷	

第五单元 迎接挑战 设计未来

第一节 走向新起点	63
第二节 面对人生的重大选择	66
第三节 自信走向未来	70
单元综合升华	73
第五单元测试卷	

期末测试卷(一)

期末测试卷(二)

参考答案

第一单元 世界在我心中

第一节 感受今日世界

知识管理

1. 正确对待上网

益处:开拓_____、对外交流、促进个性发展、促进学业成绩提高等。

弊端:互联网中有不健康的网站,容易导致青少年上网成瘾,这样就会荒废学业、影响身体健康等。

怎样上网:青少年要带着正确目的上网,上网要_____。

2. 当今世界发展的趋势——_____、_____、_____

信息化:信息时代的到来,使世界变成了一个没有边界的信息空间。

全球化:世界各国经济你中有我,我中有你。

多极化:由一个国家主宰他国命运和左右世界形势的局面已经不符合社会发展的潮流。

3. _____与_____仍然是时代主题

二者关系:和平促进发展,发展增进和平。

4. 和平与发展的道路并不平坦

世界主题:和平与发展。

不平坦:如世界上还存在_____的威胁、各种分裂主义势力、_____势力和宗教极端势力。

归类探究

类型之一 正确对待上网

例1 材料一 新修订后的《未成年人保护法》规定,国家采取措施预防未成年人沉迷网络。

材料二 根据新闻出版总署、中央文明办、教

育部、公安部等八部委联合发出的通知要求,从2007年7月16日起所有网络游戏都必须增加针对未成年人的防沉迷系统。网络游戏防沉迷系统的开发标准要求见下图:



阅读上述材料后,请回答下列问题:

(1)网络对你有些什么帮助? 未成年人沉迷网络游戏有什么危害?

(2)在针对未成年人的网络游戏中,国家为什么要强制推行防沉迷系统?

【点悟】 未成年人上网问题,是社会较为关注的问题,也是中考常考查到的问题。

类型之二 理解当今世界发展的趋势

例2 材料一 2008年6月17日至18日,第四次中美战略经济对话在美国举行,这次对话最突出的成果是中美在能源和环境领域扩大了合作。中方代表中国国务院副总理王岐山指出:“中美经贸合作是大势所趋,不可逆转。伴随着经济全球化深入发展,各国经济联系更加紧密,中美两国谁也离不开谁,中国经济持续快速增长也将为中美经贸合作开辟更加广阔的空间。”

材料二 第四次中美战略经济对话深入探讨了中美经济发展面临的重大问题,包括美国次贷危机、国际金融市场动荡、全球粮食安全,同意加强财政政策、货币政策等宏观经济政策和公共投资领域的沟通与协调。

阅读上述材料后,回答下列问题:

(1)为什么中美要加强合作,并且“谁也离不开谁”?

(2)请你分析一下材料二中的做法有何意义。

类型之三 知道和平与发展的道路并不平坦

例3 2008年2月21日,美国海军宙斯盾级巡洋舰“埃里湖”号发射的一枚“标准三型”导弹击中了在太平洋上空的一颗美国失控间谍卫星。2008年2月22日《澳门日报》发表社论说,美国一方面指责别国用导弹打卫星,一方面自己却这样干,并极力反对“禁止部署太空武器”的议案,再次反映出美国的霸权主义和“双重标准”。种种迹象显示,美国不会轻易放弃基于太空技术的军事优

势,并将努力扩大和充分利用这一优势,称霸全球,称霸太空。

请问:这则材料反映了什么?

课时作业

一、单项选择题

1. 美国的波音飞机,部分发动机在英国制造,部分尾翼在中国制造,这说明 ()
A. 中国成为“世界工厂”
B. 发达国家与发展中国家长期共存
C. 新科技革命推动经济发展
D. 世界经济呈现出全球化趋势
2. 中国多次主持朝核问题六方会谈,受到国际社会的好评。这说明 ()



- A. 我国已成为维护世界和平与稳定的重要力量
B. 我国已成为具有领导能力的超级大国
C. 反对国际恐怖主义已成为当今时代的主题
D. 经济全球化是当今世界的发展趋势
3. 现在有了互联网,通过电子邮件、聊天室,我们可以加强与外界的沟通与交流,可以没有顾忌地向网友倾诉心声,可以在各个BBS里发表自己的看法和见解。这说明 ()
A. 互联网对我们青少年有利无弊
B. 互联网能促进中学生的个性发展
C. 互联网能提高中学生的自控能力
D. 面对面的交心活动已没有意义了
4. 世界上,霸权主义依然存在,领土争端导致的局

部冲突时起时伏,各种分裂主义势力、恐怖主义势力和宗教极端势力不断给国际社会带来危害。这说明 ()

- A. 我们生活在一个太平世界里
- B. 和平与发展的道路并不平坦
- C. 和平与发展不能成为当今的主题
- D. 世界总体和平的局面不可能维持

5. 对下图中的这个中学生的行为认识正确的是 ()



①他一定会在电脑设计方面有所成就 ②这样玩下去,会荒废自己的学业 ③这样只会损害自己的身心健康,让父母操心 ④说明这个中学生做事很专心

- A. ①②③
- B. ②③
- C. ②③④
- D. ①④

6. 2004年5月1日,欧盟正式接纳爱沙尼亚等10个新成员国,至此,欧盟成员国增至25个,人口约4.5亿,GDP达10万亿美元。欧盟扩大表明 ()

- A. 欧盟成为与美国抗衡的组织
- B. 政治多极化趋势进一步发展
- C. 影响世界和平与发展的因素依然存在
- D. 经济全球化将不断深化

7. 世界经济的历史表明,一个国家要实现国民经济现代化,必须具备五大要素:资源、资金、技术、劳动力和市场。目前,世界上193个国家,没有一个国家同时具备这五大要素,这一事实表明 ()

- A. 中国是一个资源丰富的国家
- B. 任何一个国家都必须在加强对外经济关系中求得生存和发展
- C. 各国经济联系和交往应是平等互利的
- D. 自力更生的观点已经过时

8. 下列材料能表明我国政府为促进世界和平与发展而努力的有 ()

- ①签署了《中俄睦邻友好合作条约》 ②对日本领导人参拜靖国神社表示坚决反对 ③成功举办

办“十运会” ④依法坚决打击“东突”恐怖势力

- A. ①②③
- B. ②③④
- C. ①③④
- D. ①②④

9. 政治多极化、经济全球化,使 ()

- A. 当今世界的和平问题、发展问题都得到了解决
- B. 国家之间相互依存的程度加深
- C. 世界进一步贫困和动荡不安
- D. 霸权主义成为世界和平的主要威胁

10. 近几年来,民族矛盾、领土纠纷、宗教纷争和恐怖主义等引发了海湾战争、波黑战争、以美国为首的北约对南联盟的战争、非洲动乱、阿富汗战争、第二次伊拉克战争等,地区冲突也是此起彼伏。这说明 ()

- A. 新的世界大战不可避免
- B. 威胁世界和平的隐患依然存在
- C. 和平问题不可能解决
- D. 和平是当今世界的人心所向

11. 近几十年来,非洲发展中国家与西方发达国家的经济差距越来越大,这是因为 ()

- A. 国际贸易摩擦加大
- B. 国家间经济合作加强
- C. 国际经济秩序不合理
- D. 国家间发展程度不同

12. 据世界银行统计:占全球人口57%的63个最贫困国家,只获得全球6%的收入,人均每天生活费不到2美元;仅占世界人口1/6的北美、西欧和日本,其收入却占世界收入的80%,人均每天生活费70美元。从中我们可以看出 ()

- A. 和平与发展是相互影响的
- B. 中国为促进国际社会发展作出了贡献
- C. 发展中国家基础较差,闭关自守,所以贫困
- D. 南北发展不平衡的问题严重存在

二、非选择题

13. 2008年6月20日上午,中共中央总书记、国家主席、中央军委主席胡锦涛来到人民日报社,通过人民网与网友进行简短的在线交流。胡锦涛说:“虽然我平时的工作比较忙,不可能每天都上网,但我还是抽时间尽量上网。”他透露,“我平时上网一方面是想看一看国内外的新闻;另外一方面,我也想从网上了解网民朋友们他们关心什么问题,他们有些什么看法;

第三,我也希望从网上了解网民朋友们对党和国家工作有些什么意见和建议。”胡锦涛说,网友们提出的一些建议、意见,我们是非常关注的。我们强调以人为本、执政为民,因此做事情、作决策,都需要广泛听取人民群众的意见,集中人民群众的智慧。通过互联网来了解民情、汇聚民智,也是一个重要的渠道。

从上述材料中我们可以看到,网络成了胡锦涛总书记工作的助手,其具体表现有哪些?网络对你有些什么帮助?

14. 2008年6月17日至18日,第四次中美战略经济对话在美国举行。中方代表中国国务院副总理王岐山指出:“中美经贸合作是大势所趋,不可逆转。伴随着全球经济化深入发展,各国经济联系更加紧密,中美两国谁也离不开谁,中国经济持续快速增长也将为中美经贸合作开辟更加广阔的空间。”

为什么中美要加强合作,并且“谁也离不开谁”?

第二节 开放的中国走向世界

● 知识管理

1. 世界不能缺少中国

贡献世界:我国经济健康快速发展,对于_____乃至_____的健康发展都有着重要影响。

国际地位:我国是国际大家庭的重要成员,是联合国安理会的_____。中国在国际政治舞台上发挥着重要作用。

和平崛起:我们争取和平的国际环境来发展自己,又以自己的发展来维护_____。

注意:我国的日益强大不是对世界的威胁,而是对世界和平与发展的最大贡献。

2. 中国积极走向世界

承担责任:中国在维护世界和平、促进世界经济发展方面,积极承担着相应的_____与_____。

缩小差距:加强同各国的广泛交流合作。

服从大局:我国对解决在发展过程中既影响我国自身发展,也会影响整个世界发展的问题,做到了从_____出发,从_____出发,制定切实可行的发展战略,既体现了我国自身发展的需要,又服从从世界经济社会发展的大局。

● 归类探究

类型之一 理解世界不能缺少中国

例1 一个美国家庭做了“一年不买中国产

品”的生存试验,结论是:“以后10年我们都没有勇气再尝试这种日子。”中国不仅为世界提供了大量物美价廉的商品,而且是世界第三大进口市场,2001年以来为相关国家和地区创造了约1000万个就业机会;中国利用外资还为国际资本提供了广阔市场。30年来,中国经济对世界经济增长的贡献率超过10%,对国际贸易增长的贡献率超过12%。我们可以充满自信地说:“世界曾等待中国融入世界,而今天中国也有耐心等待世界认识中国。”

看了这段材料后,想必你一定有很多话想说,请你写出来。

【点悟】 题中的背景材料往往具有综合性。题中的材料包含了三层意思:一是经济全球化;二是中国实行对外开放的国策;三是世界不能缺少中国。解答此题的关键是读懂背景材料,充分揭示出背景材料所表达的意思。挖掘材料所表达的意思时,要做到全面、深刻。

例2 没有中国这样一个最大的发展中国家参加,WTO是不完整的;没有中国参与制定规则,WTO规则的适用范围是很受限制的;没有中国这个巨大市场的加入,国际市场难以实现真正的统一。这表明 ()

- A. 世界贸易组织没有中国的参加就无法存在
- B. 只有中国参加WTO才能制定出完美的规则
- C. 世界需要中国,世界贸易组织需要中国
- D. 世贸组织只有接纳中国,才能成为国际性组织

【点悟】 此题从一个侧面说明了世界需要中国。我国拥有世界五分之一的人口,是国际大家庭的重要成员。同时,我国是世界上最大的发展

中国家。所以,世界需要中国,世界贸易组织需要中国。

类型之二 了解中国积极走向世界

例3 随着改革开放的扩大,中国正以坚定有力的步伐走向世界,参与国际社会的程度不断加深。为了进一步“了解中国走向世界”,某校九年级(3)班成立资料搜集小组进行资料搜集。

(1)假如你是小组成员之一,请完成下表。

中国参与的国际组织	中国举办的国际会议	中国参与的重大国际事务
①	②	③

(2)你是通过哪些途径获取这些资料的?

(3)上表内容说明了什么?


【点悟】 此题要求我们学会用实际事例来说明中国积极走向世界。此题具有综合性和实践性。综合性表现在既考查了对时事的掌握,又考查了对所学书本知识的掌握、理解。实践性表现在通过自己的实践行动去获取相关的资料。

例4 关于漫画《开放的中国》理解正确的是 ()

①六年来中国信守加入世贸组织时许下的承诺,对外开放的领域越来越多,对外开放的程度也越来越深 ②中国越来越

以一个“负责任”的大国形象,吸引着来自全球的目光 ③我国经济的快速发展,有力地促进了世界经济和贸易增长 ④我国已经成为世界上最开放的国家

- A. ①②③ B. ②③④ C. ①③④ D. ①②④



开放的中国

【点悟】 积极承担相应的责任与义务是中国积极走向世界的表现之一。题中的漫画和漫画中的文字就说明了这点。

● 课时作业

一、单项选择题

1. 中国发展的最大特点是和平发展,这就是说

()

①中国的发展不会妨碍任何人 ②发展了的中国永远不会称霸 ③中国以自身的发展来维护世界和平 ④中国的发展对世界的发展没有影响

- A. ①②④ B. ②③④
C. ①②③ D. ①③④

2. 2008年7月9日,经济大国能源安全和气候变化领导人会议在日本北海道洞爷湖举行,中国国家主席胡锦涛出席会议并发言,他在发言中指出,我们把积极开展节能减排作为应对气候变化的切入点,采取了节约能源、优化能源结构、提高能源效率、开展植树造林等一系列措施,取得了显著成效。我们明确要求,到2010年单位国内生产总值能源消耗比2005年降低20%左右,主要污染物排放总量减少10%,森林覆盖率由2005年的18.2%提高到20%。我们实现这些目标的决心是坚定不移的。我国积极开展节能减排等一系列措施,说明了 ()

①我国从世界大局出发来制定发展战略 ②我国在世界发展过程中,积极承担着应有的责任与义务 ③我国坚持走可持续发展道路 ④环境污染、能源短缺的问题,是中国特有的

- A. ①②③ B. ①②
C. ①③④ D. ①②③④

3. 我国在发展过程中还存在_____等问题,这些问题在影响我国自身发展的同时,也会影响整个世界的发展。 ()

①环境污染 ②多种所有制经济并存 ③能源短缺 ④城乡收入差距扩大

- A. ①②③ B. ①③④
C. ①②④ D. ②③④

4. 新一轮朝核问题六方会谈代表团团长会议于2008年12月8日在北京举行。中国政府从2003年初就开始就朝核问题进行多方斡旋,在

启动中朝美三方会谈后,最终促成中国、朝鲜、美国、韩国、俄罗斯、日本六国就政治解决朝核问题举行六方会谈。在六轮六方会谈过程中,中国政府对朝核问题都发挥了重要的作用。这说明 ()

- A. 国际形势是以中国的意志而变化的
B. 世界和平与发展问题已得到解决
C. 我国已成为世界上最强大的国家
D. 我国积极承担维护世界和平的义务

5. 曾培炎指出:中国的发展不妨碍任何人,也不威胁任何人。中国走的是和平发展之路,争取和平稳定的国际环境发展自己,又以自身的发展促进世界和平进步。这说明 ()

①中国反对霸权主义和强权政治 ②中国的发展会促进世界经济的发展 ③中国越发展,对世界和平威胁越大 ④中国通过自身努力和创新,实现自身发展,促进世界和平

- A. ①②④ B. ②③④ C. ①③④ D. ①②③

6. 2006年4月18日至21日,国家主席胡锦涛应美国布什总统的邀请,对美国进行了国事访问。在4天的访问中,胡锦涛主席会见布什总统等美国领导人,访问著名企业和大学,接触美国国会议员、市州官员、工商、学术、工人、学生等各界人士。访问达到了“加强对话、扩大共识、增进互信、深化合作,全面推进21世纪中美建设性合作关系”的目的。这表明 ()

- A. 我国热爱和平,致力于建设和谐世界
B. 我国与美国结成同盟
C. 我国与美国之间不存在矛盾
D. 美国已经不再推行霸权主义

7. 2005年我国外贸总额达14221亿美元,居世界第三位。我国是美国、欧盟第三大,日本第二大,东盟、韩国第一大贸易伙伴。目前,我国出口居世界第一的商品接近800种。材料表明 ()

- A. 我国在国际政治舞台上发挥着越来越大的作用
B. 世界离不开中国,中国对世界经济的影响越来越大
C. 一些发达国家已严重依赖中国,中国开始主导世界经济
D. 中国已是经济发达国家,综合国力大大增强

8. 我国的发展走的是一条和平发展的道路。我国

的和平发展是 ()

①既争取和平的国际环境来发展自己,又以自身的发展来维护世界和平 ②靠掠夺别国、欺负别国、剥削别国的办法来发展自己 ③中国人民的百年梦想,也是今后几代人的奋斗目标和光荣责任 ④对世界和平与发展的最大贡献 ⑤从前的大国没有走过的和平发展之路

- A. ①②③④ B. ①③④⑤
C. ②③④⑤ D. ①②④⑤

9. 都灵冬奥会于2006年2月10日开幕。在这届冬奥会上,我国派出众多人员去实习,为北京举办2008年奥运会学习和积累经验。这样做主要体现了 ()

①我国没有承办世界大赛的经验 ②我们可以通过开展对外学习,提高自己的能力和水平 ③在今天开放的社会里,我们应该加强与世界各国的联系 ④为了体育事业,国际社会是可以进行交流的,而其他方面则不行

- A. ①④ B. ②③ C. ①③ D. ②④

10. 以下关于我国与世界关系的说法中正确的是 ()

①中国是今天世界上的强国和 大国,居于世界的霸主地位 ②我国是联合国安理会常任理事国 ③世界需要中国,中国离不开世界 ④我国的发展需要和平的国际环境,国际社会的和平需要我国作出自己的贡献

- A. ①②④ B. ①③④ C. ①②③ D. ②③④

11. 在1997年东南亚金融风暴中,我国政府承诺人民币不贬值,因此,我国被世界其他许多国家称为是对世界负责的大国。我国之所以这样做,是为了 ()

- A. 维护人民币的尊严
B. 维护自己一国的利益
C. 维护本国和世界其他国家的利益
D. 维护东南亚国家的利益

温家宝总理在美国哈佛大学演讲时,引用了《论语》中“君子和而不同”的思想,阐述了中方处理国家关系的基本主张。提倡“和谐而又不千篇一律,不同而又不相互冲突;和谐以共生共长,不同以相辅相成”的国际关系。据此回答12~13题:

12. 用“和而不同”来诠释我国对外关系的基本主张,这说明我国在与别国交往时应该 ()

- A. 无条件地放弃斗争,和睦相处
B. 增强各国互信互谅,肝胆相照
C. 尊重多样化的文明,和平共处
D. 不以好恶而论亲疏,求同存异

13. 主张用“和而不同”思想处理中美两国关系,表明我国在发展对外关系中 ()

①致力于维护世界和平与稳定 ②无论在什么情况下都要与美国建立和平的外交关系 ③不因社会制度和意识形态的不同而拒绝交往 ④不以国家性质作为发展对外关系的依据

- A. ①②③ B. ②③④ C. ①②④ D. ①③④

二、非选择题

14. 工业革命以来的人类活动,尤其是发达国家在工业化过程中大量消耗能源资源,导致大气中温室气体浓度增加,引起全球气候近50年来以变暖为主要特征的显著变化,对全球自然生态系统产生了明显影响。中国本着“互利共赢、务实有效”的原则积极参加和推动应对气候变化的国际合作,发挥了建设性作用。这说明了什么?

15. 胡锦涛总书记在十七大报告中指出:共同分享发展机遇,共同应对各种挑战,推进人类和平与发展的崇高事业,事关各国人民的根本利益,也是各国人民的共同心愿。我们主张,各国人民携手努力,推动建设持久和平、共同繁荣的和谐世界。

(1)“和谐世界”主张的提出和国际社会的认同反映了我国怎样的国际形象?

(2)共同分享发展机遇,共同应对各种挑战,我国在经济发展过程中遇到了哪些机遇?

第三节 面向世界的眼光

知识管理

1. 树立全球观念

全球观念:树立和培养_____、_____、_____的全球观念。

具体做到:平等观念、开放观念。

平等观念:尊重每个国家的_____、_____和_____。

开放观念:吸收一切国家的文明成果,奉献我国的文明成果。

2. 让世界充满爱

参与观念:以_____的心态,关注世界,关注和平,关注全人类。

具体做到:关注世界和平,用心维护和平,为世界的和平贡献自己的微薄之力。

归类探究

类型之一 树立和培养平等、开放、参与的全
球观念

例1 中国能源出现了短缺现象。有些人认为,中国缺少能源没关系,只要从国外进口就能解决。你认为这种说法对吗?为什么?

【点悟】需要注意的是要指出面对中国能源出现了短缺现象,我们应树立怎样的正确观念,正确的做法是什么。这启示我们要站在世界的角度来思考问题,树立面向世界的眼光。

例2 我们的生活与世界紧密联系在一起,我们的舞台不再局限于我们国家,而是整个世界,这就要求我们 ()

①树立全球观念 ②学会从世界的角度看问题 ③一定要争取去国外留学 ④培养面向世界的眼光

- A. ①②③④ B. ①③④
C. ①②④ D. ②③④

【点悟】世界发展的信息化、经济全球化趋势要求我们树立全球观念,学会从世界的角度看问题,培养面向世界的眼光。去国外留学不一定能培养面向世界的眼光。

类型之二 给世界献出我们力所能及的关爱

例3 面对两名北京中学生捐赠给斯里兰卡灾区的200元人民币,斯里兰卡驻华大使罗德里格说:“在我们眼中,这200元钱与一笔百万美元的捐助同样情深意重!”我们说,这两位中学生 ()

①为灾区人民献出了力所能及的关爱 ②其关爱行为体现了一个现代中学生的素质 ③想出风头 ④他们的行为所体现出的精神价值大大超过了其捐赠钱款的价值

- A. ①②④ B. ①②③
C. ①②③④ D. ①③④

【点悟】我们生活在世界上,世界是我们共同的家园。世界给我们的发展提供了广阔的空间,我们中学生要给世界献出我们力所能及的关爱。

课时作业

一、单项选择题

1. 生活在今天的世界中,随着与其他国家的交往日益密切,这要求我们 ()
①完全依赖别的国家就可以了,我们没有必要努力奋斗 ②需要树立全球观念 ③学会从世界的角度看问题 ④培养面向世界的眼光
A. ①② B. ①③ C. ②③④ D. ①③④
2. 印度洋海啸牵动了全世界各国人民的心,人们纷纷捐款,献出自己的爱心来援助灾区人民。某中学也组织了以“关注人类、奉献爱心”为主

题的捐款仪式,全校共捐款 9296.21 元,并由学校统一寄往中国红十字总会。这说明 ()


①爱心无国界 ②自然灾害给人们带来了深重的灾难 ③我们中学生可以用自己的实际行动让世界充满爱 ④自然灾害会影响经济的发展

- A. ①② B. ①③
C. ①②④ D. ①③④

3. 开放的世界,需要有开放意识的青年一代。我们应以积极参与的心态去关注世界,关注和平,关注全人类。下列说法或做法中,你不能赞同的是 ()

- A. 九年级(1)班召开纪念“世界地球日”的主题班会
B. 某校八年级开展“为灾区儿童献爱心”活动
C. 李伟在互联网上发帖谴责发生在巴基斯坦的恐怖袭击活动
D. 张强说,中国要强大,就必须以武力震慑世界

4. 当今社会许多问题引起了世界人民的共同关注。右边漫画中这位母亲关心的是 ()



- A. 和平问题
B. 资源问题
C. 贫困问题
D. 环境问题

5. 自 1990 年中国第一次向联合国维和行动派遣军事观察员以来,中国已先后向联合国 13 项维和行动派出了 2796 人次的维和部队、军事观察员和参谋军官。中国军人在维和任务区共修筑道路 1200 余公里,架设桥梁 48 座,安全销毁武器 4 批,医治维和部队官兵及当地居民 4000 余人。这说明 ()

- A. 中国的维和人员的素质最高
B. 我国参与的国际组织数量最多,影响最大
C. 我国开始向外扩张,在海外驻扎军队
D. 我国积极承担应有的责任与义务,维护世界和平、促进世界发展

6. 面对两名北京中学生捐赠给斯里兰卡灾区的 200 元人民币,斯里兰卡驻华大使罗德里格说:“在我们眼中,这 200 元钱与一笔百万美元的捐助同样情深意重!”我们说,这两位中学生 ()

①为灾区人民献出了力所能及的关爱 ②其关爱行为体现了当代中学生的素质 ③实际上捐

出了百万美元 ④他们的行为所体现出的精神价值大大超过了其捐赠钱款的价值

- A. ①② B. ②④
C. ①②④ D. ①②③④

7. 2005 年 7 月 7 日,英国首都伦敦的地铁站和公共汽车先后发生 7 起恐怖爆炸事件,造成 50 多人死亡,700 多人受伤。国际社会对这一系列恐怖袭击事件纷纷予以强烈谴责,并强调共同与恐怖主义作斗争。这一事件说明 ()

①恐怖主义势力依然威胁着世界的安全 ②和平是全世界人民的共同企盼 ③不同社会制度和和平共处 ④恐怖主义是当今世界的主要威胁

- A. ①② B. ①③ C. ①②④ D. ③④

8. 美国经济因“9·11”恐怖袭击事件而遭受沉重打击;因为战争,伊拉克经济几近崩溃。这告诉我们 ()

- A. 经济发展是维护和平的坚实基础
B. 和平与稳定是经济发展的前提,没有和平就没有发展
C. 发达国家与发展中国家应共同发展
D. 当今国际竞争是人才的竞争

9. 2004 年 12 月 26 日,在印尼苏门答腊岛西北部近海(4°N,96°E)发生里氏 8.7 级强烈地震,并引发海啸,造成受灾国超过 20 万人丧生。海啸在使受灾国的旅游业遭受重创的同时,也对我国及世界其他许多国家的旅游业构成一定的影响。这一情形从一定程度上表明 ()

- A. 受灾各国的旅游经济在全球具有举足轻重的地位
B. 经济全球化越来越集中地表现为旅游市场全球化
C. 旅游经济国际化已成为当今世界市场的普遍现象
D. 全球旅游市场已融为一体,国家界线已彻底消失

10. 2005 年 2 月 16 日,《京都议定书》在联合国生效,并成为国际法。《京都议定书》由联合国气候大会于 1997 年 12 月在日本京都通过,目标是 2008 年至 2012 年间,工业化国家温室气体排放总量在 1990 年的基础上平均减少 5.2%。目前全球已有 141 个国家批准《京都议定书》,其中包括中国、俄罗斯、欧盟、日本。美

国和澳大利亚拒不批准,美国的理由是“影响美国经济发展”和“发展中国家也应该承担减排义务”。《京都议定书》被多数国家批准,少数国家拒绝,这一事实说明 ()

- A. 国际形势总趋势是趋向缓和
- B. 大多数国家能从世界角度来思考问题
- C. 世界经济全球化趋势在加强
- D. 霸权主义、强权政治依然存在

11. 建设一个和谐发展的美好世界是人类孜孜以求的理想。下列做法有助于建设和谐世界的是 ()

- ①使贫者愈贫、富者愈富,促成两极分化
- ②推动国际关系民主化和法制化
- ③奉行冷战思维,国与国之间实行对抗
- ④国与国之间相互尊重、平等相待


- A. ①③ B. ②③ C. ②④ D. ③④

12. 在和平与发展已成为世人共识的今天,美国的冷战思维还在升温。美国加强在亚太地区的军事部署,矛头直指中国等亚洲国家;同时还加强与日本、澳大利亚的军事合作,试图在亚太建立某种联合作战机制。这说明,在当今国际社会 ()

- A. 追逐利益是推行霸权主义的根本原因
- B. 霸权主义正在全世界肆意蔓延
- C. 国家之间相互依存程度正在日益加深
- D. 威胁世界和平的隐患依然存在

二、非选择题

13. 材料一 漫画《大国和小国的对话》



材料二 下图为《旧金山纪事报》记者迪恩·费茨莫里斯拍摄的一幅照片,讲述了一名伊拉克男孩把笔绑在因爆炸而致残的胳膊上画画。这幅照片获得 2005 年度普利策新闻摄影奖。



(1)你赞成漫画中大国与小国的对话方式吗?为什么?

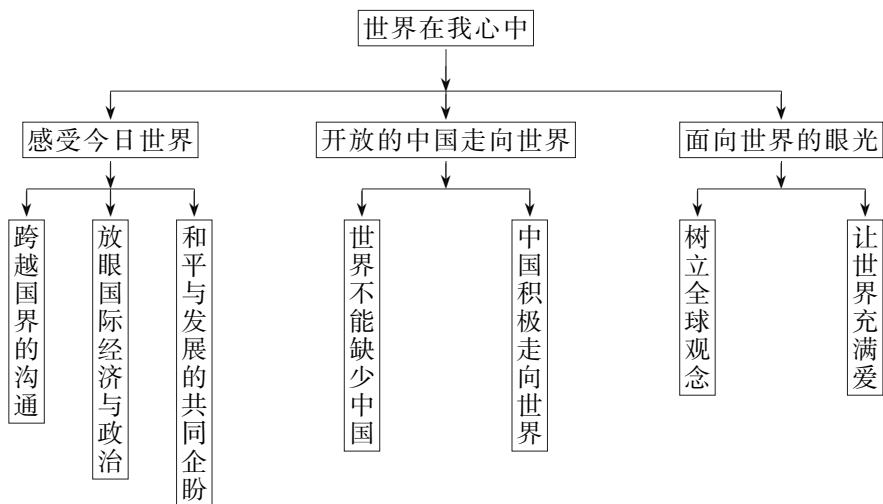
(2)看了材料二后,对比自己的生活和学习条件,你有何感受?

(3)请以“为世界和平作贡献”为题写一份倡议书。

14. 2008 年 11 月 15 日,胡锦涛总书记在 20 国峰会上的讲话中指出,作为国际社会负责任的成员,中国一直积极参与应对金融危机的国际合作,为维护国际金融稳定、促进世界经济发展发挥了积极作用。中国愿继续本着负责任的态度,参与维护国际金融稳定、促进世界经济发展的国际合作,支持国际金融组织根据国际金融市场变化增加融资能力,加大对受这场金融危机影响的发展中国家的支持。我们愿积极参与世界银行国际金融公司贸易融资计划。胡锦涛的这段讲话体现了教材中的哪些观点?(答出两点以上)

单元综合升华

总结归纳



整合升华

类型之一 辨别上网的利与弊

辨别上网的利与弊,作出对待网络的正确选择,是中考命题的知识点。未成年人上网可以开阔视野、对外交流、促进个性发展、促进学业成绩提高等,但未成年人上网也有诸多弊端,如上网成瘾、浏览不健康的网站、荒废学业、影响身体健康等。

例1 [2008·益阳]对下图中这位被“网上了”的中学生的行为,认识正确的是 ()



①这是一种不可小视的违法行为 ②这样玩下去,会荒废自己的学业 ③这样只会损害自己的身心健康,让父母操心 ④这是一种要受到刑罚处罚的严重违法行为

- A. ①②④ B. ①②③
C. ②③④ D. ①③④

【答案】 B

【解析】 本题考查了学生对上网行为及其危害的认识。根据《未成年人保护法》《预防未成年人犯罪法》的相关规定,④的认识是错误的,因为只有违反刑法才构成犯罪,应受刑罚处罚。

例2 《中国青少年网瘾报告》指出,我国每100个上网的青少年就有13个成瘾。而“网瘾”群体中,每100人又有23个是初中生。一些“网虫”荒废学业,与父母反目,甚至走上违法犯罪道路。材料表明 ()

- A. 我国已进入网络信息化时代
B. 网络的弊病太多,网络对青少年是弊大于利
C. 青少年还不能有效地利用网络,要远离网络
D. 青少年网瘾率较高,需要加强正确的引导

【答案】 D

【解析】 通过互联网,我们能够了解国际形势的现状和发展,进行多种合作与交流,获得更多的知识,扩大自己的视野。作为学生,主要任务是学习,网络也可以成为我们学习的好朋友。但是,如果我们迷上了网络游戏,玩得失去了自己,那就得不偿失了。所以,青少年上网需要加强正确的引导。

类型之二 中国的崛起是和平崛起

理解中国在崛起,而且中国的崛起是和平崛起。这是对世界和平与发展的最大贡献。作为世界上最大的发展中国家,我们在维护世界和平、促进世界经济发展方面,积极承担应有的责任和义务,中国正积极走向世界。

例3 2008年1月18日至20日,英国首相布朗访问中国。温家宝总理会见布朗时指出,中国倡导各国共同分享发展机遇,共同应对各种挑战,共同推动建设持久和平与繁荣的和谐世界。我国提出“共同推动建设持久和平与繁荣的和谐世界”的主张,并为此作出了不懈的努力。这表明 ()

①我国走的是和平发展道路 ②我国的日益强大不是对世界的威胁 ③我国争取和平的国际环境来发展自己,又以自身的发展来维护世界和平 ④我国已成为当今世界最具影响力的国家

- A. ①②④ B. ①②③
C. ①③④ D. ②③④

【答案】 B

【解析】 本题考查的是对我国的发展的认识。我国走的是一条和平发展的道路,我们争取和平的国际环境来发展自己,又以自身的发展来维护世界和平。我国的日益强大不是对世界的威胁,而是对世界和平与发展的最大贡献。④的说法是错误的。

例4 2008年8月8日,第29届奥运会在我国首都北京举行。北京奥运会充分展示了中华民族5000多年的悠久历史和灿烂文化,成为世界人民更充分地了解和体验中国的历史、文化和自然风光的最佳窗口。北京奥运会的口号“同一个世界,同一个梦想”,表达了全世界在奥林匹克精神的感召下,追求人类最美好未来的共同愿望。尽管肤色不同、语言不同、种族不同,但我们共同分享着奥林匹克的魅力与欢乐,共同追求着人类和平的理想。我们同属一个世界,我们拥有同样的希望与梦想。把“同一个世界,同一个梦想”作为奥运会的口号说明了什么?

【答案】 “同一个世界,同一个梦想”,集中体现了奥林匹克精神的实质——团结、友谊、进步、

和谐、参与和梦想,表达了全世界在奥林匹克精神的感召下,追求人类美好未来的共同愿望;“同一个世界,同一个梦想”的口号表达了北京人民和中国人民与世界各国人民共有美好家园,同享文明成果,携手共创未来的崇高理想;表达了一个拥有五千年文明,正在大步走向现代化的伟大民族致力于和平发展、社会和谐、人民幸福的坚定信念;表达了13亿中国人民为建立一个和平而美好的世界作出贡献的心声。

【解析】 本题通过对北京奥运会口号的理解,来考查对中国和平崛起的了解和掌握。北京奥运会“同一个世界,同一个梦想”的口号,表达了13亿中国人民为建立一个和平而更美好的世界作出贡献的心声。

类型之三 树立全球观念

生活在一个多元化的、开放的世界中,我们不仅应注重民族意识的提高,还应树立和培养平等、开放、参与的全球观念。无论国家的大小、强弱,也不论社会性质如何,在国际各项事务中各国都拥有平等的地位和权利,世界各国人民应该平等交往、彼此尊重。我们尊重每个国家的选择、价值观念和风俗习惯。

例5 在当今世界,我们要树立和培养平等、开放、参与的全球意识。下列看法中正确的是 ()

- A. 对世界上的一些小国、弱国,我国可以不用理会他们
B. 我们应该对我国的高、精、尖技术进行保密,如果与外国搞合作,就会泄露出去
C. 中国能源紧张没关系,可以到外国进口
D. 在很多问题上,我们不能抱着“事不关己,高高挂起”的心态,而是应该积极参与,负起责任

【答案】 D

【解析】 本题通过具体看法或认识来考查对全球观念的理解。A、B、C中的看法都是没有全球观念的表现,是错误的。

第二单元 关爱自然 关爱人类

第一节 共同的问题 共同的选择

知识管理

1. 人类共同的问题

共同问题:在当代,如何_____的关系已经成为全球普遍关注的问题。人类征服自然、改造自然的力度不断加强,打破了人与自然的和谐状态,严重地破坏了生态环境,导致_____,也从根本上威胁到了人类自身的_____。

2. 造成生态危机的原因

根本原因:生态危机从根本上说是由于人类过度地开发自然、掠夺式地利用自然造成的。

直接原因:_____是造成生态危机的直接原因。

3. 人类共同的选择

共同选择:_____是世界各国普遍认同和共同选择的发展模式。

4. 可持续发展

内涵:可持续发展指的是经济、社会、资源、环境保护的_____,是既满足当代人的需求,而又不损害后代人_____的发展。

要求:它要求人们与自然_____,并能够认识到自己对自然、社会应负的责任。

归类探究

类型之一 知道造成生态危机的原因

例1 2008年8月,美国《科学》杂志指出,沿海水域因过度缺氧而导致生命无法存活的“死亡区”正以惊人的速度在全球蔓延。仅最近10年,沿海“死亡区”的数量就增加了三分之一,全球已

达到405个,美国和欧洲的沿岸“死亡区”最为密集,面积达到25万平方千米。据此,回答(1)、(2)题。

(1)从上述材料中可知 ()

- A. 海平面上升导致陆地面积减少
- B. 全球环境恶化的趋势在加剧
- C. 人类改造自然取得了巨大的成就
- D. 全球人口剧增加剧了资源短缺

(2)《科学》杂志还指出,造成这一现象的原因主要是农药流入小溪与大河并最终到达沿海水域。这主要告诉我们 ()

- A. 人们认识自然、改造自然的能力越来越强
- B. 农药是造成环境危机的罪魁祸首
- C. 人类不合理的生产方式和生活方式是造成生态危机的直接原因
- D. 大自然已开始报复人类

【点悟】“死亡区”是环境恶化的表现,而第(2)题题干材料中介绍造成这一环境恶化的原因,主要是农药流入小溪与大河并最终到达沿海水域,也就是让我们认识到了人类不合理的生产方式和生活方式是造成生态危机的直接原因。

类型之二 认识到环境恶化对人类生存发展的威胁

例2 材料一 近百年来全球气候变化的显著特点是气温升高,1860年以来,全球平均气温升高了 0.6°C 。据推测,21世纪全球气温可能上升 $2^{\circ}\text{C}\sim 5^{\circ}\text{C}$ 。

