

### 图书在版编目 (CIP) 数据

全效学习丛书: 湖南教育版. 八年级中国地理. 上/《全效学习丛书》编写组编.  
—成都: 天地出版社, 2009. 06  
ISBN 978-7-5455-0145-2

I. ①全… II. ①全… III. ①地理课—初中—教学参考资料  
IV. ①G634

中国版本图书馆 CIP 数据核字 (2009) 第 101141 号

## 全效学习系列丛书 地理 八年级上册

作 者: 全效学习系列丛书编写组  
责任编辑: 段智玲

出版发行□ 四川出版集团·天地出版社  
(成都市三洞桥路 12 号 邮政编码: 610031)

网 址□ <http://www.tiandiph.com>

电子邮箱□ [tiandicbs@vip.163.com](mailto:tiandicbs@vip.163.com)

博 客□ <http://blog.sina.com.cn/tiandiph>

印 刷□ 湘潭市风帆印务有限公司

版 次□ 2009 年 8 月第一版

印 次□ 2010 年 7 月第二次印刷

开 本□ 850mm×1168mm 1/16

印 张□ 10.25

字 数□ 393 千

定 价□ 19.80 元

书 号□ ISBN 978-7-5455-0145-2

---

■版权所有, 违者必究, 举报有奖!

举报电话: (028) 87735269 (营销部) 87734639 (总编室)

83226220 (客户服务部) 66126701 (选题策划部)

# 目 录

## 第一章 中国的疆域和人口

第一节 中国的疆域 .....	1
第 1 课时 中国的地理位置 .....	1
第 2 课时 中国的临海和邻国 .....	3
第二节 中国的行政区划 .....	7
第 1 课时 中国行政区划和省级行政区的构成、位置及名称 .....	7
第 2 课时 中国省级行政区的轮廓、简称和行政中心 .....	9
第三节 中国的人口 .....	13
第四节 中国的民族 .....	16
单元综合升华 .....	18

## 第二章 中国的自然环境

第一节 中国的地形 .....	21
第 1 课时 中国的地势特征和主要山脉 .....	21
第 2 课时 中国的地形特征和主要高原 .....	24
第 3 课时 中国的盆地、平原和丘陵 .....	26
第二节 中国的气候 .....	29
第 1 课时 中国的气温及温度带 .....	29
第 2 课时 我国的降水和干湿地区 .....	31
第 3 课时 中国的气候特点 .....	34
第 4 课时 中国的气象灾害 .....	37
第三节 中国的河流 .....	39
第 1 课时 中国的河流和湖泊概况 .....	39
第 2 课时 长江 .....	42
第 3 课时 黄河 .....	44
单元综合升华 .....	47

## 第三章 中国的自然资源

第一节 自然资源概况 .....	49
------------------	----

第二节 中国的土地资源 .....	51
第三节 中国的水资源 .....	54
第四节 中国的海洋资源 .....	57
单元综合升华 .....	59

## 第四章 中国的区域差异

第一节 秦岭—淮河线 .....	62
第1课时 秦岭—淮河的地理意义(1) 秦岭与淮河 .....	62
第2课时 秦岭—淮河的地理意义(2) 四大地理区域 .....	65
第二节 北方地区和南方地区 .....	68
第1课时 北方地区的基本概况 自然环境特征 .....	68
第2课时 北方地区的农业生产 矿产资源及工业生产 .....	70
第3课时 南方地区的基本概况 自然环境特征 .....	73
第4课时 南方地区的农业生产 工业和城市 自然资源 南北方地区的自然环境与生产和生活 .....	75
第三节 青藏地区和西北地区 .....	78
第1课时 青藏地区的概况 自然环境特征及其保护 .....	78
第2课时 青藏地区的农牧业生产和不断发展的交通 .....	80
第3课时 西北地区的概况 自然环境特征 .....	82
第4课时 农牧业生产 矿产资源 西部大开发 .....	84
单元综合升华 .....	87

### 参考答案

# 第一章 中国的疆域和人口

## 第一节 中国的疆域

### 第1课时

#### 中国的地理位置

#### 知识管理

1. 从东、西半球看,中国位于\_\_\_\_\_ ,  
从南、北半球看,中国位于\_\_\_\_\_。
2. 从大洲和大洋的位置看,中国在\_\_\_\_\_的东部,\_\_\_\_\_西岸。
3. 我国领土的四端是:最北端在\_\_\_\_\_以北\_\_\_\_\_主航道的中心线( $53^{\circ}\text{N}$ );  
最南端在南海南沙群岛中的\_\_\_\_\_ ( $4^{\circ}\text{N}$ );  
最东端在\_\_\_\_\_与\_\_\_\_\_江主  
航道中心线的交汇处( $135^{\circ}\text{E}$ );  
最西端在\_\_\_\_\_高  
原附近( $73^{\circ}\text{E}$ )。
4. 五带:我国大部分领土在\_\_\_\_\_带,小部分在\_\_\_\_\_带,没有\_\_\_\_\_。
5. 我国纬度位置的优越性:我国的领土跨纬度广,南北气候的差异有利于\_\_\_\_\_。
6. 时区:我国共跨\_\_\_\_\_个时区,全国统一使用北京所在的\_\_\_\_\_区的时间。

#### 归类探究

##### 类型之一 掌握我国地理位置的特点

- 例1** 我国位于 \_\_\_\_\_ ( )
- A. 东半球、北半球    B. 东半球、南半球  
C. 西半球、南半球    D. 西半球、北半球

**【点悟】**我国全部位于赤道以北,因此全在北半球;我国全部位于 $20^{\circ}\text{W}$ 以东、 $160^{\circ}\text{E}$ 以西,因此全在东半球。

**例2** 从海陆位置来看,以下国家同我国相似,都具有海陆兼备特征的是 \_\_\_\_\_ ( )

- A. 蒙古    B. 日本    C. 英国    D. 美国

**【点悟】**我国位于亚洲东部、太平洋的西岸,是一个海陆兼备的国家;英国为欧洲西部的一个岛国;日本同样也是个群岛国家;蒙古为欧亚大陆上的一个内陆国家;而美国与我国一样,海陆兼备。

##### 类型之二 理解我国的地理位置对自然环境和生活的影晌

**例3** [2007·株洲中考]我国疆域辽阔,下列关于我国领土四端的说法正确的是 \_\_\_\_\_ ( )

- A. 我国领土最北端有极昼现象  
B. 我国领土最东端在台湾省的钓鱼岛  
C. 我国领土最南端气候长夏无冬  
D. 我国领土最西端号称“世界屋脊”

**【点悟】**我国领土最北端大约在 $53^{\circ}\text{N}$ ,未进入北极圈,因此没有极昼极夜现象;我国领土最东端在黑龙江与乌苏里江的主航道中心线的交汇处,我国领土最南端位于 $4^{\circ}\text{N}$ 附近,此处气候长夏无冬;我国领土最西端在新疆的帕米尔高原,而不是号称“世界屋脊”的青藏高原。


**例4** [2007·黄石中考]“当北国江城的钢花映红了飞雪,江南的田野正是春色妖娆。”这两句歌词反映了我国南北方 \_\_\_\_\_ ( )

- A. 纬度差异大    B. 经度差异大  
C. 气温年较差大    D. 年降水量差异大

**【点悟】**因为我国南北方纬度相差约 $50^{\circ}$ ,南北气候差异很大,所以形成了南北方不同的自然

景观和人文景观。

例5 [2008·常德中考]我国幅员辽阔,东西相距5 000多千米,跨经度60多度,这就造成 ( )



A. 同一座山不同景观 B. 同一季节不同衣着



C. 同一时刻不同景象 D. 同处平原不同耕作

【点悟】我国东西跨越了经度60多度,分属于东5区至东9区,共5个时区,即最东和最西时间相差5个小时。

例6 下列关于我国地理位置及其优越性的表述,不正确的是 ( )

- A. 我国位于亚洲的东部、太平洋的西岸
- B. 我国东临太平洋,东部广大地区雨量充沛,利于农业发展
- C. 我国主要位于热带
- D. 我国领土跨纬度近 $50^{\circ}$ ,南北气候差异大,为我国发展多种农业经济提供了有利条件

【点悟】我国跨纬度广,因而南北气候差异大,有利于多种农作物的生长,所以农作物种类多样;我国海陆兼备的地理位置,使得东部广大地区能受到来自海洋水汽的影响,雨量充沛,利于农业生产,也便于通过海洋运输和其他国家交往。东部濒临海洋还有利于发展海洋事业,而西部也便于和陆上邻国直接往来。

课时作业

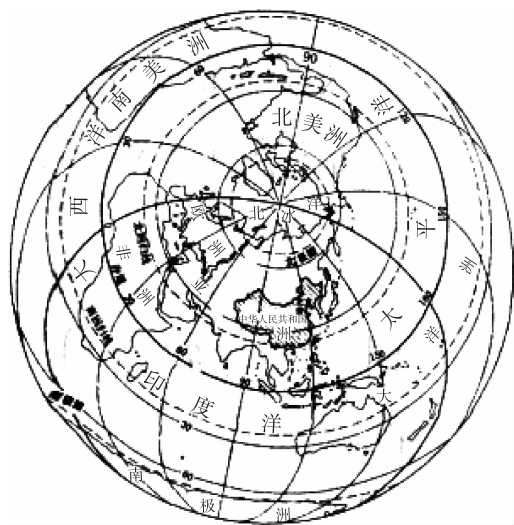
1. 关于我国位置的描述,错误的是 ( )
  - A. 我国位于东半球、北半球
  - B. 我国大部分位于中纬度,少部分位于高纬度
  - C. 我国位于亚洲东部、太平洋西岸
  - D. 我国大部分位于北温带,小部分位于热带
2. [2007·福州中考]从世界大洲和大洋的位置看,我国位于 ( )
  - A. 亚洲西部、大西洋东岸
  - B. 欧洲西部、大西洋东岸

- C. 亚洲南部、印度洋北岸
  - D. 亚洲东部、太平洋西岸
3. 下列有关我国地理位置特点及地理现象的叙述,正确的是 ( )
    - A. 我国位于亚洲东部,大部分国土位于热带
    - B. 我国领土最东端比最西端每天要早4个多小时,同一天最东部比最西部先看到日出
    - C. 我国领土最北端是我国一年中气温最低的地方
    - D. 我国领土最南端长夏无冬,最北端长冬无夏
  4. 关于我国疆域四个端点的叙述中,不正确的是 ( )
    - A. 最南端是曾母暗沙
    - B. 最北端是漠河以北黑龙江主航道的中心线
    - C. 最西端是青藏高原
    - D. 最东端是黑龙江与乌苏里江主航道汇合处
  5. [2008·泰安中考]当黑龙江省还是冰天雪地时,海南岛已是春耕大忙了。这是由于我国 ( )
    - A. 纬度跨度大
    - B. 经度跨度大
    - C. 海陆差异大
    - D. 地形差异大
  6. 我国幅员辽阔,南北相距约5 500千米,跨纬度约50度,这就造成了 ( )
    - A. 除夕之夜,哈尔滨市民欣赏晶莹剔透的冰雕艺术,而广州市民在花市上流连忘返
    - B. 当乌苏里江上旭日东升时,帕米尔高原已经是黄昏
    - C. 漠河成为我国夏季气温最低的地方
    - D. 漠河冬季的白昼比北京长
  7. 当乌苏里江畔7点太阳升起时,帕米尔高原的边防战士可能在 ( )
    - A. 吃早餐
    - B. 上夜校
    - C. 黑夜巡逻
    - D. 收看午间新闻
  8. “A山下,雪花飘飘;B江两岸,柳树发芽;C海岛上,鲜花盛开。”这是王先生3月在中国出差一周时间内拍下的三张照片的景观,下列说法正确的是 ( )
    - A. A山与C岛的距海远近一定不同
    - B. A山出现极夜现象,因此寒冷飘雪
    - C. B江有可能在漠河附近
    - D. C岛有可能是海南岛

9. 我国东西跨 5 个时区,统一使用的北京时间是 ( )
- A. 北京的地方时  
B. 东八区的区时  
C. 帕米尔高原的地方时  
D. 乌苏里江的地方时

10. 与世界上许多国家相比,我国的地理位置有很多优越性。下列说法正确的是 ( )
- A. 与俄罗斯、加拿大相比,我国气候更寒冷  
B. 与巴西相比,我国气候更炎热  
C. 与蒙古相比,我国有丰富的海洋资源和便利的海运条件  
D. 与日本相比,我国气候的海洋性更显著

11. [2008·镇江中考]读“中国在地球上的位置示意图”,回答下列问题:



(1)我国从东西半球看,位于\_\_\_\_\_半球;从南北半球看,位于\_\_\_\_\_半球;从世界大洲和大洋的位置看,位于\_\_\_\_\_东部,\_\_\_\_\_西岸。

(2)我国所处的地理位置十分优越,从纬度上看大部分处于中纬度地区,属于\_\_\_\_\_带。

(3)2008年5月12日14时28分,中国汶川发生里氏8级强烈地震,全国大半地区有明显震感,地震造成了严重的生命和财产损失。震中汶川位于我国\_\_\_\_\_省。

12. 评价我国地理位置的优越性。

(1)比较我国与俄罗斯、巴西在纬度位置上的差异,说说我国纬度位置的优越性。

(2)比较我国与蒙古、日本在海陆位置上的差异,说说我国海陆位置的优越性。

## 第 2 课时

### 中国的临海和邻国

#### 知识管理

1. 我国陆地面积达\_\_\_\_\_万平方千米,仅次于\_\_\_\_\_和\_\_\_\_\_,居世界第\_\_\_\_\_位。

2. 我国所濒临的海洋自北向南有\_\_\_\_\_,\_\_\_\_\_,\_\_\_\_\_和\_\_\_\_\_,它们都属于\_\_\_\_\_洋。我国的内海是指\_\_\_\_\_和\_\_\_\_\_。

3. 我国的三大半岛是\_\_\_\_\_、\_\_\_\_\_、\_\_\_\_\_。

\_\_\_\_\_和\_\_\_\_\_。我国的第一大岛是\_\_\_\_\_,第二大岛是\_\_\_\_\_。

4. 我国疆域南北距离约\_\_\_\_\_千米,东西距离约\_\_\_\_\_千米,陆上国界线约\_\_\_\_\_千米。我国管辖的海域面积约\_\_\_\_\_万平方千米,大陆海岸线约\_\_\_\_\_千米。

5. 我国海陆位置的优越性:我国东部面临广阔的海洋,使东部地区深受海洋的影响,\_\_\_\_\_充沛,利于\_\_\_\_\_生产,也便于\_\_\_\_\_事业及与海外各国人民的友好往

来,西部能与陆上邻国直接往来。

6. 我国陆上邻国: \_\_\_\_\_ 个。

- 东: 朝鲜
- 北: \_\_\_\_\_、\_\_\_\_\_
- 西北: \_\_\_\_\_、\_\_\_\_\_、\_\_\_\_\_
- 西: 阿富汗、\_\_\_\_\_
- 西南: \_\_\_\_\_、\_\_\_\_\_、\_\_\_\_\_
- 南: \_\_\_\_\_、\_\_\_\_\_、\_\_\_\_\_

其中面积最大的邻国是 \_\_\_\_\_, 面积最大的内陆邻国是 \_\_\_\_\_, 有不连续国界的邻国是 \_\_\_\_\_、\_\_\_\_\_。

7. 我国隔海相望的国家: \_\_\_\_\_ 个。

- 东: 韩国、\_\_\_\_\_
- 东南: \_\_\_\_\_
- 南: 马来西亚、\_\_\_\_\_、文莱。

## 归类探究

### 类型之一 掌握我国的领土面积和濒临的海洋

**例1** 值得骄傲的是,我国陆地面积与整个欧洲的面积差不多,在世界各国中仅次于 ( )

- A. 美国、加拿大
- B. 美国、巴西
- C. 俄罗斯、巴西
- D. 俄罗斯、加拿大

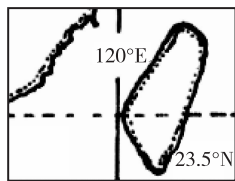
**【点悟】** 通过和世界第六大洲——欧洲的面积类比,说明中国的陆地面积之大,在世界中仅次于俄罗斯和加拿大,居世界第三位。

**例2** [2007·宁德中考]我国濒临的四大海洋中,属于内海的是 ( )


- A. 渤海
- B. 黄海
- C. 东海
- D. 南海

**【点悟】** 我国的内海是渤海和琼州海峡,其中琼州海峡属于南海。

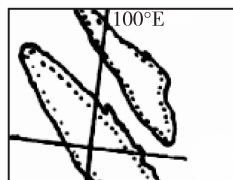
**例3** 下列四幅海峡图中,表示台湾海峡的是



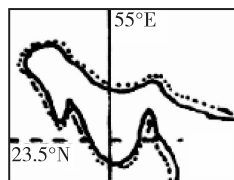
A.



B.



C.



D.

**【点悟】** 根据海峡的形状和图中的经纬线判读,图中A为台湾海峡,B是莫桑比克海峡,C为马六甲海峡,D是霍尔木兹海峡。

**例4** 我国疆域辽阔,所管辖的面积约为 ( )

- A. 1 000 万平方公里
- B. 960 万平方公里
- C. 300 万平方公里
- D. 1 260 万平方公里

**【点悟】** 我国的国土面积既包括 960 万平方千米的陆地面积,还包括 300 万平方千米的“蓝色国土”,即我国所管辖的海域面积。

### 类型之二 掌握我国的陆上邻国和隔海相望的国家及其特点

**例5** [2007·内江中考]与我国隔海相望的国家有 ( )

- A. 朝鲜、朝国、日本
- B. 越南、菲律宾、文莱
- C. 缅甸、越南、文莱
- D. 韩国、菲律宾、印度尼西亚

**【点悟】** 与我国隔海相望的国家东有韩国、日本,东南有菲律宾,南有马来西亚、印度尼西亚、文莱。

**例6** 与我国陆地相邻,并且均为内陆国的有 ( )

- A. 俄罗斯、蒙古、巴基斯坦
- B. 哈萨克斯坦、印度、缅甸
- C. 蒙古、阿富汗、哈萨克斯坦
- D. 朝鲜、尼泊尔、老挝

**【点悟】** 我国的陆上邻国共有 14 个,其中有 8 个为内陆国,即蒙古、哈萨克斯坦、吉尔吉斯斯坦、塔吉克斯坦、阿富汗、尼泊尔、不丹、老挝。

## 课时作业

1. [2008·镇江中考]我国著名诗人余光中先生

的《乡愁》诗中写到：“……而现在，乡愁是一湾浅浅的海峡，我在这头，大陆在那头。”诗中“海峡”是指 ( )

- A. 琼州海峡                      B. 朝鲜海峡  
C. 台湾海峡                      D. 渤海海峡

2. 我国所濒临的海洋,从南向北依次为 ( )

- A. 南海 东海 黄海 渤海  
B. 黄海 渤海 东海 南海  
C. 渤海 黄海 南海 东海  
D. 南海 渤海 黄海 东海

3. [2008·泉州中考]我国最大的岛屿是 ( )

- A. 台湾岛                          B. 海南岛  
C. 崇明岛                          D. 金门岛

4. 王恒在观察中国地图,他估计我国陆上国界线约为大陆海岸线长的三倍,但地理课上老师说两者相差不大,请告诉他是什么原因 ( )



- A. 王恒没有利用比例尺计算  
B. 我国大陆海岸线较曲折  
C. 王恒的地理老师说错了  
D. 我国有很长一段未定国界

5. 我国陆上疆界总长达 ( )

- A. 20 000 多千米                  B. 18 000 多千米  
C. 15 000 多千米                  D. 13 000 多千米

6. 我国的领海宽度从海岸基线向海上延伸的范围是 ( )

- A. 200 海里                          B. 12 海里  
C. 12 公里                          D. 200 公里

7. 与我国以河为界的国家是 ( )

- A. 越南、印度                      B. 俄罗斯、朝鲜  
C. 老挝、不丹                      D. 蒙古、巴基斯坦

8. 下列四组国家中,全部为我国陆上邻国的是 ( )

- A. 俄罗斯、泰国                      B. 缅甸、孟加拉国  
C. 巴基斯坦、日本                      D. 越南、印度

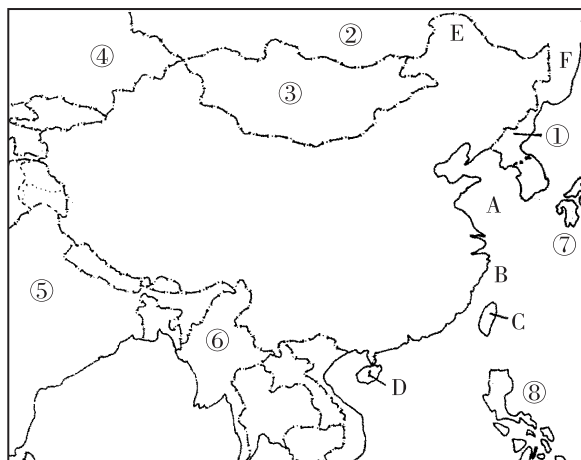
9. 与我国隔海相望的一组国家是 ( )

- A. 印度、文莱、菲律宾  
B. 马来西亚、朝鲜、韩国  
C. 日本、朝鲜、印度尼西亚  
D. 文莱、菲律宾、日本

10. 在我国众多的邻国中海陆兼备、面积最大的邻国是 ( )

- A. 俄罗斯                              B. 印度  
C. 哈萨克斯坦                      D. 蒙古

11. 读图,回答下列问题:



(1) 写出我国濒临的海洋的名称:

- A. \_\_\_\_\_ B. \_\_\_\_\_

(2) 在图中找出我国第一大岛和第二大岛,并写出岛屿名称及其字母代号:

我国的第一大岛是 \_\_\_\_\_, 图中用字母 \_\_\_\_\_ 表示;

我国的第二大岛是 \_\_\_\_\_, 图中用字母 \_\_\_\_\_ 表示。

(3) 描述我国领土最东端和最北端的位置:

E 最 \_\_\_\_\_ 端, 在 \_\_\_\_\_;

F 最 \_\_\_\_\_ 端, 在 \_\_\_\_\_。

(4) 写出数码所代表的我国陆上邻国和隔海相望的国家的名称:

① \_\_\_\_\_; ② \_\_\_\_\_; ③ \_\_\_\_\_;

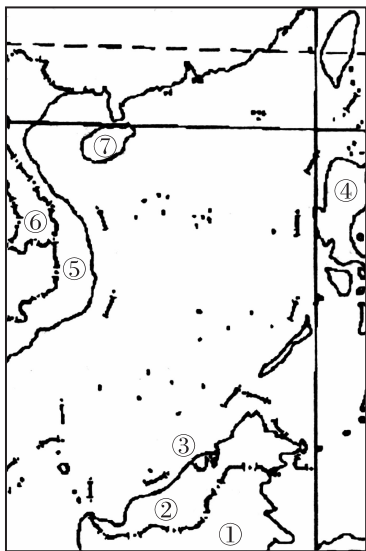
④ \_\_\_\_\_; ⑤ \_\_\_\_\_; ⑥ \_\_\_\_\_;

⑦ \_\_\_\_\_; ⑧ \_\_\_\_\_。

(5) 对照地图册,在图中用虚线标出北回归线。

12. 阅读下列材料,回答问题:

材料一:“南海及南沙群岛周边国家图”



材料二:通过南沙群岛海域的航道是一条“宝路”,它位于整个东南亚地区的腹地,是周边国家进入印度洋和南太平洋的海上咽喉,周边国家都力图以南沙群岛为依托来扩大战略纵深。世界许多重要海上航线(如日本运油路线)也经过这里,因此,南沙群岛对周边国家的安全战略和军事防务意义非凡。此外,南沙群岛海域的海底有不少“宝物”,据保守估计,油气储量超过2 000亿吨。

南沙群岛自古以来就是中国海洋国土中

不可分割的一部分,但周边的一些国家也宣称对南沙拥有主权。

1. 南沙群岛周边的国家有哪些? 请写出数字代码 1-6 代表的国名。
2. 关于⑦岛的说法,不正确的是 ( )
  - A. 此岛是我国第一大岛
  - B. 此岛以北有我国内海
  - C. 此岛全部位于热带
  - D. 南沙群岛与此岛属于同一个省
3. 从材料中可知,南沙群岛有何战略意义?

4. 我们应该如何保护我国的领土主权? 谈谈你的见解。

## 第二节 中国的行政区划

### 第 1 课时

#### 中国行政区划和省级行政区的构成、位置及名称

#### 知识管理

1. 春秋战国时期\_\_\_\_\_、\_\_\_\_\_名称已经出现。\_\_\_\_\_朝的省、县行政区划,对我国现行行政区划有很大影响。

2. 我国行政区划分为\_\_\_\_\_,\_\_\_\_\_,\_\_\_\_\_三级,目前,我国的省级行政单位共有\_\_\_\_\_个。其中有\_\_\_\_\_个省,\_\_\_\_\_个自治区,\_\_\_\_\_个直辖市,\_\_\_\_\_个特别行政区。\_\_\_\_\_是我们伟大祖国的首都。

3. 按照中英联合声明,我国政府于\_\_\_\_\_年\_\_\_\_\_月\_\_\_\_\_日恢复对香港行使主权。

按照中葡联合声明,我国政府于\_\_\_\_\_年\_\_\_\_\_月\_\_\_\_\_日恢复对澳门行使主权。

4. 北回归线穿过的省区自西向东排列是\_\_\_\_\_、\_\_\_\_\_、\_\_\_\_\_、\_\_\_\_\_。

5. 我国的省级行政区域中,面积最大的是\_\_\_\_\_,跨纬度最广的是\_\_\_\_\_,跨经度最大的是\_\_\_\_\_,邻国最多的是\_\_\_\_\_,人口最多的省级行政区是\_\_\_\_\_。

6. 湖南省的邻省北有\_\_\_\_\_,西有\_\_\_\_\_,南有\_\_\_\_\_和\_\_\_\_\_,东有\_\_\_\_\_。

#### 归类探究

##### 类型之一 了解我国的行政区划

**例 1** 关于我国现行的行政区划的说法,正确的是 ( )

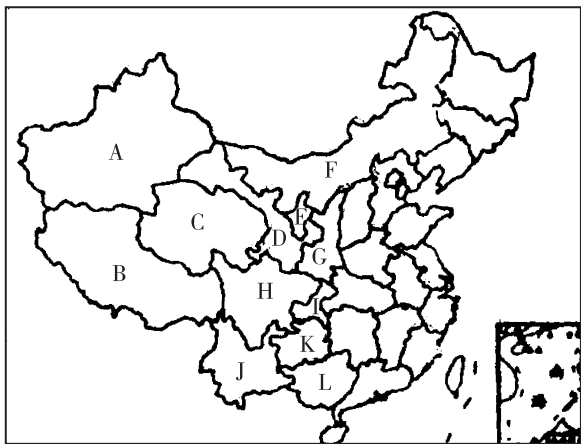
- A. 我国现在采用的是郡县制
- B. 我国共有 34 个省
- C. 我国宪法规定,实行省、市、县、乡四级行政区划
- D. 香港和澳门面积虽小,但属于我国的省级行政区,实行资本主义制度

**【点悟】** 我国现行行政区划大体分为省、县、镇三级,其中省级行政区 34 个,包括 23 个省、5 个自治区、4 个直辖市和 2 个特别行政区。

##### 类型之二 结合地图掌握我国省级行政区的位置及特点

**例 2** 中国西部地区包括陕西、甘肃、青海、宁夏、新疆、四川、重庆、云南、贵州、西藏等 10 省、市、区,另外,内蒙古自治区和广西壮族自治区也属于西部开发的地区范围。

请在地图上写出西部开发的 12 个省级行政区的名称。

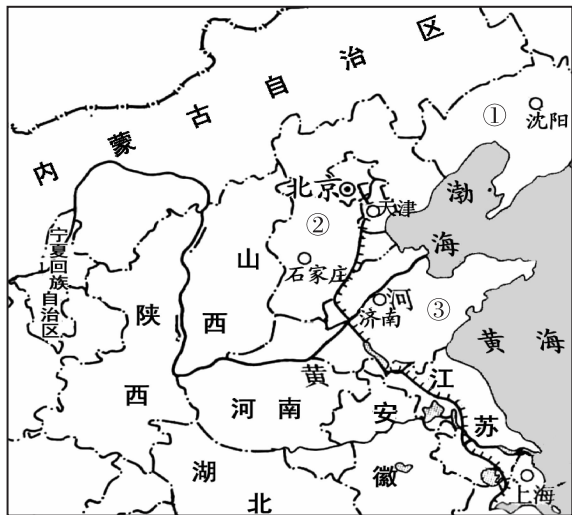


A \_\_\_\_\_, B \_\_\_\_\_, C \_\_\_\_\_,  
D \_\_\_\_\_, E \_\_\_\_\_, F \_\_\_\_\_,  
G \_\_\_\_\_, H \_\_\_\_\_, I \_\_\_\_\_,  
J \_\_\_\_\_, K \_\_\_\_\_, L \_\_\_\_\_。

**【点悟】** 我国的省级行政区的区划一定要结合地图来学习,通过省级行政区在中国的方位和与其他省级行政区的相对位置进行记忆。查阅地图是本课学习和解题的重要方法。

**例 3** [2007·福建中考变式题]读“我国部分省级行政区图”,回答问题:

(1)下面为某一年中央电视台春节联欢晚会上由两省(市)电视台送出的体现当地特色的一副对联:上联“三海九门 京华迎奥运”,下联“一江



两岸 世博靓申城”。

请写出对联所代表的省(市)名称:

上联\_\_\_\_\_市;下联\_\_\_\_\_市。

(2)写出省级行政区的名称:

①\_\_\_\_\_ ; ②\_\_\_\_\_ ;

③\_\_\_\_\_。

(3)黄河干流在图中流经的省区有\_\_\_\_\_、

\_\_\_\_\_、\_\_\_\_\_、\_\_\_\_\_、\_\_\_\_\_、

**【点悟】**学习省级行政区区划不仅要熟练地在中国地图上找到位置,还要学会看部分省区的地图,根据海洋、河流、山脉、轮廓等信息辨认省级行政区。

**例 4** 北回归线穿过的省区自东向西排列正确的是 ( )

①广东 ②广西 ③云南 ④台湾

A. ①②③④ B. ③①②④

C. ③②①④ D. ④①②③

**【点悟】**本题是一道无图考图题。北回归线穿过的省区自东向西依次是台湾、广东、广西、云南。

## 课时作业

中国 34 个省级行政区,根据一条条的线索记忆是最有效率的方法。让我们来试一试吧。

查阅地图,分别写出 1—5 题省级行政区:

长江干流经过的 11 个、黄河干流经过的 9 个、临海的 14 个、有陆上邻国的 9 个,北回归线穿过的 4 个

1. 沿江: \_\_\_\_\_。

\_\_\_\_\_。

2. 沿河: \_\_\_\_\_。

\_\_\_\_\_。

3. 沿海: \_\_\_\_\_。

\_\_\_\_\_。

4. 沿边: \_\_\_\_\_。

\_\_\_\_\_。

5. 沿线: \_\_\_\_\_。

\_\_\_\_\_。

6. 下列属于我国省级民族自治地方的是 ( )

A. 自治区 B. 自治州

C. 自治县 D. 自治市

如图中 a、b、c、d 四点分别表示我国的最西、北、东、南端,据图回答 7—8 题。

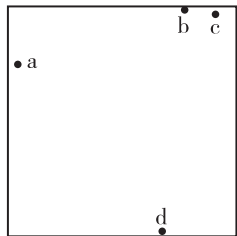
7. 图中四地中位于中俄边境的是 ( )

A. a、b

B. a、c

C. b、c

D. b、d



8. 图中四地分属于我国的是

( )

A. 一个行政区

B. 两个行政区

C. 三个行政区

D. 四个行政区

9. [2007·汕头中考]我国面积最大的省级行政区是 ( )

A. 内蒙古自治区

B. 青海省

C. 西藏自治区

D. 新疆维吾尔自治区

10. 我国人口最多的、最少的省级行政区分别是 ( )

A. 四川、宁夏

B. 新疆、海南

C. 河南、澳门

D. 上海、香港

11. 下列各组省级行政单位中,不临海的是 ( )

A. 山东、辽宁

B. 广西、福建

C. 河南、安徽

D. 江苏、天津

12. 下列省级行政单位,不与山东接壤的是 ( )

A. 河北省

B. 河南省

C. 山西省

D. 安徽省

13. 我国相邻的省级行政区最多的是 ( )

A. 河南、山东

B. 陕西、内蒙古

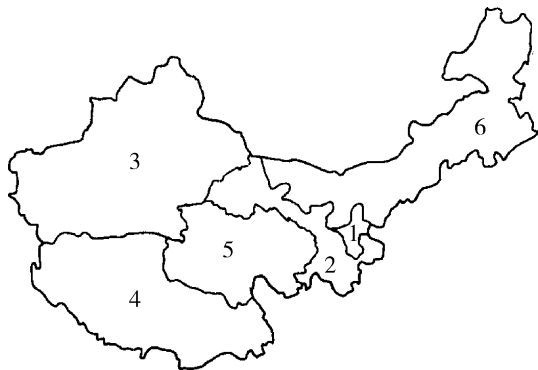
C. 湖北、江西

D. 四川、云南

14. “西部大开发”是我国进入 21 世纪后,第“十

—”个五年计划期间重点实施的一项伟大的战略部署,也就是近年来人们经常谈论到的一个重点“问题”。

读西部部分省区轮廓示意图,回答问题。



(1)写出各省区名称:

①\_\_\_\_\_ ②\_\_\_\_\_ ③\_\_\_\_\_

④\_\_\_\_\_ ⑤\_\_\_\_\_ ⑥\_\_\_\_\_

(2)图中部分省区分布的少数民族主要有

\_\_\_\_\_、\_\_\_\_\_、\_\_\_\_\_、\_\_\_\_\_。

15. 我国 34 个省级行政区名称中含有“东”“西”“南”“北”“江”“河”“湖”“海”字样的各有哪些?

16. 奇思妙想:仔细观察中国政区图中各个省区的轮廓,黑龙江省像一只展翅欲飞的天鹅,山西省像一个南北延伸的平行四边形,台湾省的台湾岛形似纺锤,陕西省像一个屈腿而立的秦俑……展开你想象的翅膀,写出你认为轮廓还像某种事物的省区名称(至少 4 个)。

17. 猜谜语,我最行。(打一中国省级行政区名称)

①宝地\_\_\_\_\_;②装上标志\_\_\_\_\_;

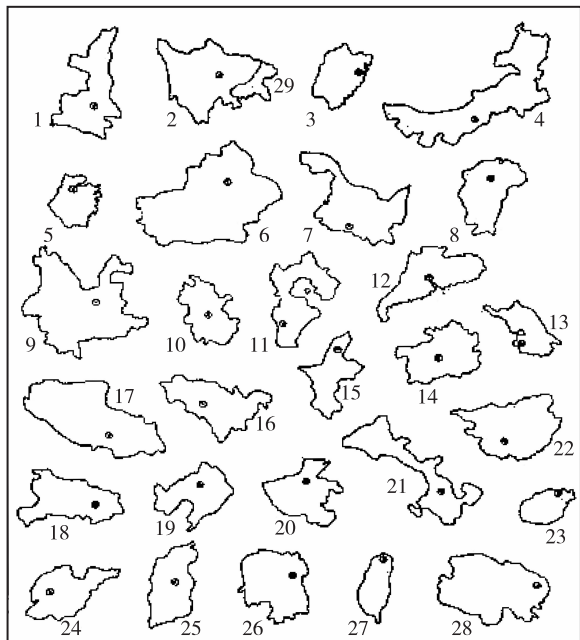
③地下文物\_\_\_\_\_;④船出长江\_\_\_\_\_;

⑤大河解冻\_\_\_\_\_;⑥银河渡口\_\_\_\_\_。

## 第 2 课时

### 中国省级行政区的轮廓、简称和行政中心

#### 知识管理



代码	名称	简称	行政中心	代码	名称	简称	行政中心
1				16			
2				17			
3				18			
4				19			
5				20			
6				21			
7				22			
8				23			
9				24			
10				25			
11				26			
12				27			
13				28			
14				29			
15							

## ● 归类探究

### 类型之一 利用各种信息辨认省级行政区的轮廓

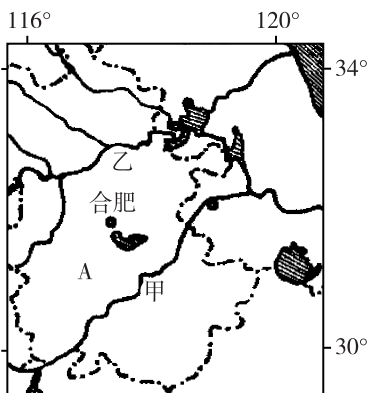
例1 根据下图,回答问题:



- 图上所示是\_\_\_\_\_省轮廓图。
- 该省的简称是\_\_\_\_\_，行政中心是\_\_\_\_\_。
- 与该省相邻的国家有\_\_\_\_\_。
- 与该省相邻的省级行政区有\_\_\_\_\_。

**【点悟】** 本题的关键是判断该图表示的省级行政区。根据图中金沙江和北回归线来推断,该省是云南省,位于我国西南,简称云或滇,行政中心是昆明。云南位于我国西南边境,与云南相邻的国家有三个,都在中南半岛上,分别是缅甸、老挝、越南。在我国与云南相邻的省级行政区有西藏自治区、四川省、贵州省、广西壮族自治区。熟记中国地图,建立清晰的空间概念,切忌死记硬背,通过读图记忆要牢固和有效得多。

例2 读中国某地区简图,回答:

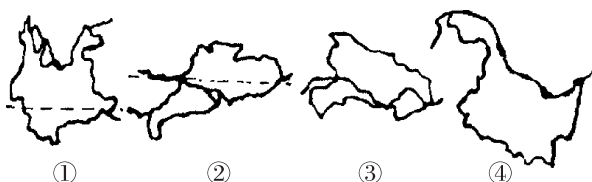


- 图中 A 省为\_\_\_\_\_，简称为\_\_\_\_\_。
- 图中甲、乙两河自西向东穿过 A 省区,其中甲河流为\_\_\_\_\_，乙河流为\_\_\_\_\_。
- 图中显示的一片海域为\_\_\_\_\_，图中\_\_\_\_\_ (省区) 濒临这一海域。

(4)图中有我国几个重要的淡水湖,其中最大的一个为\_\_\_\_\_,位于\_\_\_\_\_省和\_\_\_\_\_省之间。

**【点悟】** 本题单根据轮廓辨认省级行政区有一定困难,可利用其经纬网度数和文字注记“合肥”提供的信息,确定 A 为安徽。查阅相关地图,了解安徽及其周边的地理信息。

例3 读下图,回答问题:



- 图中四省中,临海的有\_\_\_\_\_,陆上同邻国接壤的有\_\_\_\_\_,纬度最高的是\_\_\_\_\_。
- 图中四省中,地理位置最东的是\_\_\_\_\_,最偏西的是\_\_\_\_\_,有热带分布的是\_\_\_\_\_。

**【点悟】** 本题是数个省级行政区的对比。根据轮廓和穿过的特殊纬线或河流可判断:①为云南省,②为广东省,③为湖北省,④为黑龙江省。四省中广东为临海省份,陆上同邻国接壤的是云南省和黑龙江省,广东省没有陆地邻国,湖北省为我国内地省份。纬度最高的也就是在我国位置最北的省份是黑龙江省,位置最东的也是黑龙江省,四省中最偏西的是云南省,有热带分布的也就是被北回归线穿过的省份有云南省和广东省。

### 类型之二 我国省级行政区简称、行政中心的记忆及运用

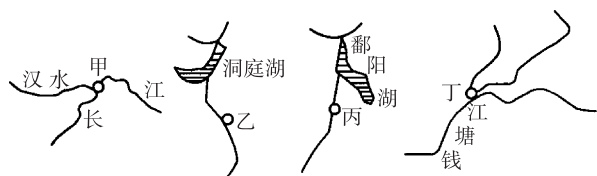
例4 [2008·咸宁中考]2008年5月12日,四川汶川地区发生 8.0 级地震,四川损失巨大,陕西、甘肃、重庆等省市也遭受重大损失,上述四省市的简称是 ( )

- A. 蜀、陕、甘、渝      B. 川、陕、甘、蜀  
C. 川、秦、甘、蜀      D. 川、陕、陇、蜀

**【点悟】** 行政区划对于一个国家来说是非常重要的,在我们的日常生活和工作中都会应用到,更是我们学习中国地理的基础。各省、市、自治区的简称,大致有三种情况:(1)取全名中的一个字或几个字作简称,例如黑、吉、辽、京、新、内蒙古

等;(2)因境内重要河流而得名,例如湖南、江西,因湘江和赣江而分别简称湘、赣;(3)取历史地名作简称,例如陕西省在战国时期属秦国辖地,故又简称秦;(4)另外,有的省区有两个简称,如甘肃、陕西等。

**例 5** 对照有关甲、乙、丙、丁四个省会城市的位置示意图,正确说法是 ( )

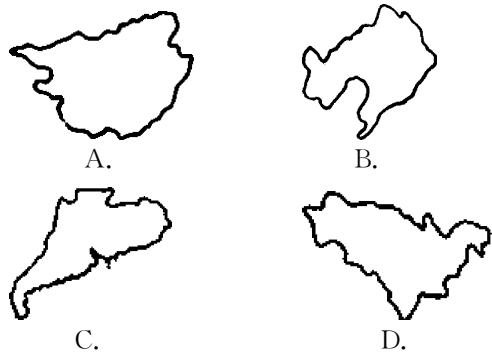


- A. 甲、乙、丙、丁分别是武汉、长沙、南昌和上海
- B. 甲、乙、丙、丁分别是湖北、江西、湖南、浙江四省的省会
- C. 这四个省会城市都濒临大江大河
- D. 赣江在长沙穿城而过,南昌建在湘江河畔

**【点悟】** 可运用河流及湖泊作参照物,掌握省级行政中心的分布与湖泊、河流及其支流的关系。

### 课时作业

1. 既临海又有陆上邻国的是两个省区是 ( )



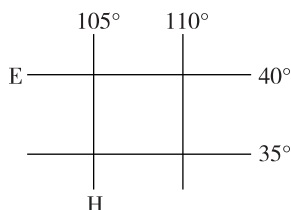
2. [2007·南平中考]下列几个省区的名称,排序和图序相符的是 ( )



- A. ①湖北省 ②广东省 ③云南省
- B. ①广东省 ②云南省 ③湖北省
- C. ①广东省 ②湖北省 ③云南省
- D. ①云南省 ②湖北省 ③广东省

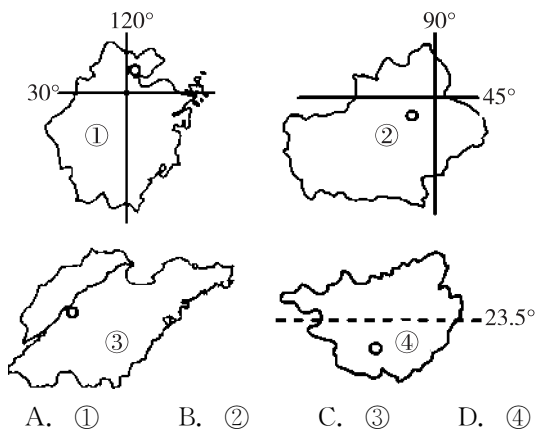
读图并查阅地图,回答 3—4 题。

3. 离 E、H 线交汇处最近的省会城市是 ( )



- A. 银川 B. 北京 C. 武汉 D. 长沙
4. E 纬线穿过的我国省级行政单位有 ( )
- A. 山东省、河北省、山西省、甘肃省、新疆维吾尔自治区
  - B. 河北省、山西省、内蒙古自治区、甘肃省、青海省
  - C. 辽宁省、河北省、山西省、甘肃省、新疆维吾尔自治区
  - D. 江苏省、河南省、陕西省、宁夏回族自治区、青海省

5. [2007·株洲中考变式题]观赏沙漠景观,参观坎儿井,寻找古“丝绸之路”的足迹,应该去下图中的 ( )

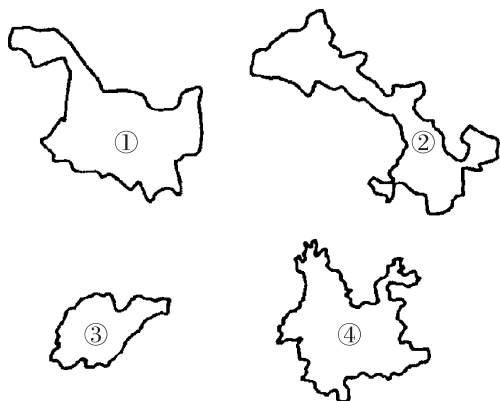


- A. ① B. ② C. ③ D. ④
6. 我国主要的三个半岛,分别位于下面哪三个省区内 ( )
- A. 山东、江苏、浙江 B. 河北、山东、福建
  - C. 辽宁、河北、山东 D. 辽宁、山东、广东
7. 五一黄金周期间,游人如织。某温泉广场停有许多车牌以“粤 A”开头的轿车。这些车辆最有可能来自 ( )
- A. 江西省 B. 广西壮族自治区
  - C. 广东省 D. 湖北省
8. 以下戏曲文化与其所在省区简称的连线正确的一组是 ( )
- A. 秦腔—黔 B. 湘剧—滇

C. 豫剧—川

D. 陇剧—甘

9. 以下省区略图与其相应的行政中心连线正确的是 ( )

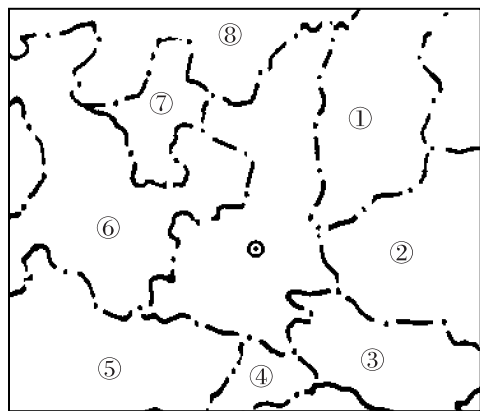


- A. ①—甘肃—兰州
- B. ②—黑龙江—沈阳
- C. ③—山东—合肥
- D. ④—云南—昆明

10. 我国下列省级行政区中,有两个简称的是 ( )

- A. 湖北、湖南
- B. 西藏、台湾
- C. 山西、吉林
- D. 四川、云南

11. 读图,回答:



(1)图中央的省是\_\_\_\_\_ ,行政中心是\_\_\_\_\_。

(2)填出图中代码所代表的省级行政单位的简称:

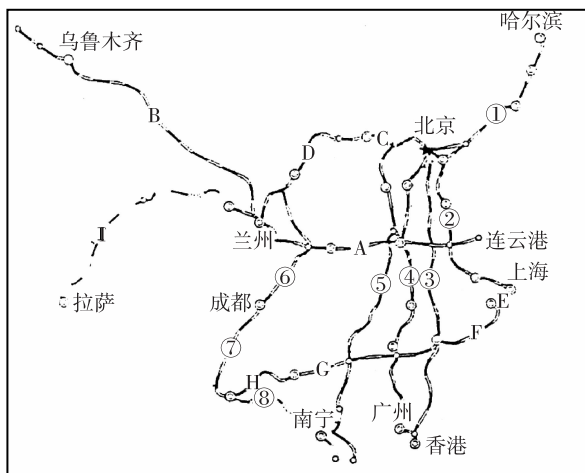
①\_\_\_\_\_ ; ③\_\_\_\_\_ ; ⑤\_\_\_\_\_ ;  
⑦\_\_\_\_\_。

(3)填出图中代码所代表的省级行政单位的行政中心:

②\_\_\_\_\_ ; ④\_\_\_\_\_ ; ⑥\_\_\_\_\_ ;  
⑧\_\_\_\_\_。

12. 读我国铁路干线简图,查阅地图资料,写出图

中铁路干线所经过的省级行政中心。



(1)铁路 1 经过的行政中心:

(2)铁路 2 经过的行政中心:

(3)铁路 4 经过的行政中心:

(4)铁路 AB 经过的行政中心:

13. 猜谜语,我最行。

(1)打一中国省级行政区的行政中心。

- ①带枪的人 \_\_\_\_\_ ;
- ②圆规画蛋 \_\_\_\_\_ ;
- ③两个胖子 \_\_\_\_\_ ;
- ④四季温暖 \_\_\_\_\_ ;
- ⑤久雨初晴 \_\_\_\_\_ ;
- ⑥萤火虫,亮晶晶 \_\_\_\_\_。

(2)打一中国省级行政区简称。

- ①水边人家 \_\_\_\_\_ ;
- ②由下直走 \_\_\_\_\_ ;
- ③半部春秋 \_\_\_\_\_ ;
- ④节约动力 \_\_\_\_\_ ;
- ⑤屋内养蚕 \_\_\_\_\_ ;
- ⑥围棋黑方获胜 \_\_\_\_\_。

### 第三节 中国的人口

#### 知识管理

1. 我国是世界人口最多的国家,2000年统计,我国人口为\_\_\_\_\_亿,约占世界的\_\_\_\_\_%以上,2005年1月6日为中国的13亿人口日。

2. 我国人口的突出特点是\_\_\_\_\_,\_\_\_\_\_。原因:建国后,人民生活水平的提高,医疗卫生条件的改善,人口\_\_\_\_\_率大幅度下降;人口\_\_\_\_\_率明显上升。

3. 人口的增长要与\_\_\_\_\_和\_\_\_\_\_的发展相适应,与\_\_\_\_\_和\_\_\_\_\_相协调。

4. 在人口方面,我国实行的基本国策是\_\_\_\_\_,其主要内容是控制人口\_\_\_\_\_,提高人口\_\_\_\_\_。

5. 我国是世界上农村人口数量最多的国家,农业人口比重\_\_\_\_\_,城镇人口比重\_\_\_\_\_,城镇人口比重将逐渐\_\_\_\_\_。

6. 我国人口的分布大体上可从黑龙江的\_\_\_\_\_到云南的\_\_\_\_\_划一直线,此线东南部人口\_\_\_\_\_,西北部人口\_\_\_\_\_。形成的主要自然原因是东部地区地势\_\_\_\_\_,气候\_\_\_\_\_,西部地区地势\_\_\_\_\_,气候\_\_\_\_\_;社会原因是东部地区交通\_\_\_\_\_,工农业\_\_\_\_\_,西部地区交通\_\_\_\_\_,经济\_\_\_\_\_。

#### 归类探究

类型之一 了解我国的人口数量及增长情况,理解我国的人口国策——计划生育

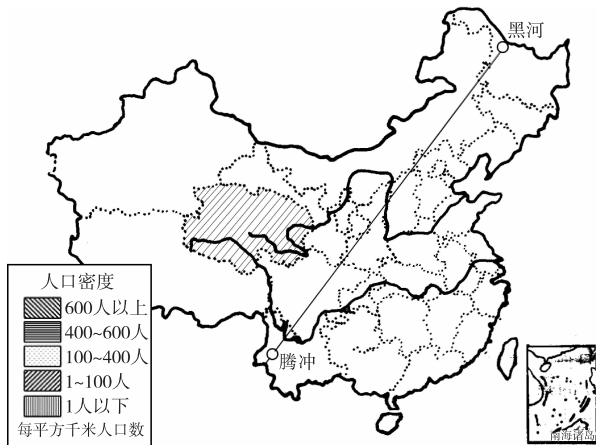
例1 [2008·益阳中考]我国把计划生育政策作为基本国策的原因是 ( )

- A. 人口分布不均
- B. 农村人口比重大
- C. 人口与社会经济、资源环境矛盾突出
- D. 城市人口持续增加

【点悟】我国人口基数大,这是人口增长速度快的一个重要原因,而随之出现的人口与经济、资源环境的矛盾越来越突出,所以我国政府将计划生育作为基本国策之一。

#### 类型之二 掌握我国的人口分布特征

例2 2000年我国进行了第五次人口普查。



(1)依据表中数据,计算湖南省的人口密度,并填入表中。

省区	湖南省	青海省
人口(万人)	6 440	518
面积(万平方千米)	21	72.12
人口密度(人/平方千米)		7.2

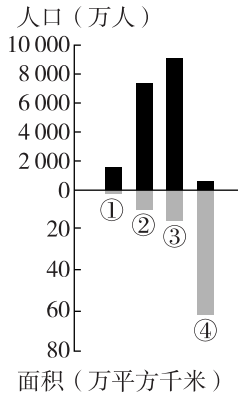
(2)依据人口密度计算结果,在图中用相应图例表示湖南省的人口密度。(在图中湖南省的范围内画出相应的图例符号)

(3)图中直线是我国重要的“黑河—腾冲”人口地理界线,写出这条界线两侧的人口分布特征:东南面\_\_\_\_\_,西北面\_\_\_\_\_。

【点悟】我们用人口密度表示人口分布的疏密状况。人口密度即每平方千米内居民的数目,计算公式是:人口密度=人口/面积。我国人口分布十分不均匀,以黑河—腾冲一线为界,东南部人口稠密,西北部人口稀疏。这是由于东南部气候温暖湿润,地形较为平坦,交通便利,经济发达,开发较早,因此聚集了大量人口,而西北部由于气候干旱,地形以高原山地为主,交通不便,经济落后,人口稀疏。

### 类型之三 学会阅读统计数据及图表

**例 3** [2008·泰安中考]读我国四个省级行政单位的人口与面积柱状图,正确的是 ( )



- A. 四个省级行政单位中,①的人口密度最小  
 B. 四个省级行政单位中,②的人口数量最多  
 C. 四个省级行政单位中,③的面积最大  
 D. 四个省级行政单位中,④的人口密度最小

**【点悟】**该图是行政区面积和人口数量合一的图表数据,要根据图上所显示的大概数据,根据人口密度计算公式对选项进行判断分析。

### 课时作业

- 2000年我国第五次人口普查,总人数达到 ( )  
 A. 11.95亿      B. 12.95亿  
 C. 13.95亿      D. 14.95亿
- 我国人口自然增长率明显下降,但每年新增人口数量几乎没有减少,其主要原因是 ( )  
 A. 出生率高      B. 死亡率低  
 C. 人口基数大      D. 人的寿命延长
- 我国人口政策的基本内容是 ( )  
 A. 实行计划生育  
 B. 控制人口数量,提高人口素质  
 C. 晚婚、晚育、少生、优生  
 D. 实行大规模的人口迁移

分析表中数据,完成第4-5题:

	耕地面积	年产矿石	森林面积	水资源总量
总量在世界上的位次	第4位	第3位	第6位	第6位
人均量在世界上的位次	第67位	第80位	第121位	第110位

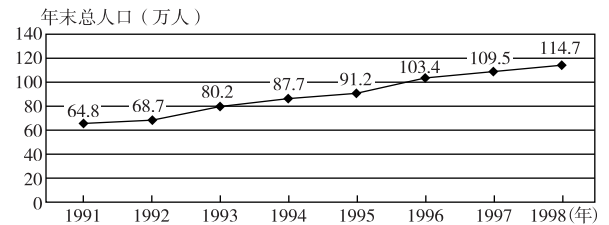
4. 两种位次差距较大的主要原因是 ( )

- A. 我国的自然资源十分贫乏  
 B. 我国的人口众多  
 C. 我国的自然资源十分丰富  
 D. 我国人口的总量与自然资源的总量吻合
5. 为了缩小这种位次差异,应采取的积极措施是 ( )

- A. 大量进口这些资源,以提高人均量  
 B. 加大这些资源开采的力度,大幅度提高资源开采的总量  
 C. 实行计划生育,控制人口数量  
 D. 顺其自然,这种差距会自然缩小

下图是我国东南沿海经济发达地区某新兴城市人口增长示意图。读图完成6-7题。

6. [2008·德州中考]1991年至1998年,该市人口增长最多的年份是 ( )



- A. 1993年      B. 1995年  
 C. 1996年      D. 1998年
7. [2008·德州中考]随着人口的快速增长,该城市可能出现的主要问题是 ( )  
 A. 人口老龄化突出  
 B. 城市经济发展变慢  
 C. 社会劳动力不足  
 D. 城市用地压力增大

据有关我国人口方面的统计表并结合所学知识完成8-9题。

#### 2007年中国人口数量及其构成

指标		年末数(万人)	比重(%)
城乡对比	城镇	59 379	44.9
	乡村	72 750	55.1
性别对比	男性	68 048	51.5
	女性	64 081	48.5
年龄分布	0-14岁	25 660	19.4
	15-59岁	91 129	49.0
	60岁以上	15 340	11.6

注:2007年末人口总数为132 129万人。

8. [2008·唐山中考]表中显示出,我国人口 ( )