

全科状元湘教版八年级地理



第五章 中国的地域差异

第一节 四大地理区域的划分

名师导航

学习要点

1. 秦岭—淮河线的地理位置及南北两侧的地理差异。
2. 秦岭—淮河线的地理意义。
3. 四大地理区域的划分依据、界线和范围。

重难点突破

1. 秦岭—淮河线的地理意义。
2. 我国各地区的社会经济发展水平存在的差别及其与各地地理差异的联系。

听课笔记



实战演练

基础巩固

一、选择题

1. 淮河发源于 ()
 - A. 太行山
 - B. 大别山
 - C. 秦岭
 - D. 桐柏山
2. 关于秦岭的说法, 正确的是 ()
 - A. 海拔多为 3 000~4 000 米
 - B. 北侧是肥沃的汉水谷地
 - C. 主峰太白山山顶经常白雪皑皑
 - D. 大致呈东北—西南走向
3. 目前, 淮河大部分径流 ()
 - A. 直接注入东海
 - B. 注入长江后入东海
 - C. 直接注入黄海
 - D. 注入长江后入黄海
4. 我国的经济林木, 位于秦岭—淮河以北的是 ()
 - A. 苹果、柑橘、柿
 - B. 柑橘、柚、茶叶
 - C. 香蕉、龙眼、柑橘
 - D. 枣、柿、苹果
5. 秦岭—淮河以北的河流与以南的河流比较, 以北河流具有的特点是 ()
 - A. 水量更丰富
 - B. 汛期更长
 - C. 无结冰期
 - D. 含沙量更大
6. 下列省区中, 没有被秦岭—淮河线穿过的省份是 ()
 - A. 安徽
 - B. 江苏
 - C. 甘肃
 - D. 山西
7. 关于秦岭—淮河一线, 叙述错误的是 ()
 - A. 暖温带与亚热带的分界线
 - B. 湿润地区与半湿润地区的分界线
 - C. 内外流域的分界线
 - D. 与 1 月 0℃ 等温线的分布最接近
8. 秦岭的走向是 ()
 - A. 东西走向
 - B. 东北—西南走向
 - C. 南北走向
 - D. 西北—东南走向
9. 造成“淮南为橘, 淮北为枳”这种差异的主要原因是 ()
 - A. 气候的差异
 - B. 地形的差异
 - C. 河流的差异
 - D. 地势的差异



10.下面地理界线与秦岭—淮河线不一致的有 ()

- A.400 毫米年等降水量线
- B.北方地区与南方地区的分界线
- C.湿润地区与半湿润地区的分界线
- D.亚热带与暖温带的分界线

11.下列关于秦岭—淮河一线的说法,正确的是 ()

- A.是我国 0℃ 等温线
- B.是我国 400 毫米年等降水量线
- C.秦岭—淮河一线以北地区的主要地形是高原;以南是平原、盆地、丘陵
- D.秦岭—淮河一线是我国水田和旱地的分界线

12.以下各线大致与秦岭—淮河一线一致的有 ()

- ①湿润区与半湿润区的分界线 ②亚热带与暖温带的分界线 ③1000 毫米年等降水量线
- ④一月份 0℃ 等温线 ⑤暖温带与中温带的分界线 ⑥半湿润区与半干旱区的分界线

- A.①②⑤ B.②④⑥
- C.①②④ D.②⑤⑥

13.秦岭—淮河线以北主要的粮食作物是 ()

- A.小麦、甜菜 B.小麦、水稻
- C.水稻、玉米 D.小麦、玉米

14.在我国淮河—秦岭—青藏高原东南边缘一线的年等降水量线是 ()

- A.200 毫米 B.400 毫米
- C.600 毫米 D.800 毫米

二、填空题

15.秦岭横亘于我国_____部,为_____水系和_____水系的分水岭,北侧是肥沃的_____,南侧是_____谷地。

16.淮河发源于桐柏山区,主流经_____南入长江,另一支经_____东入黄海,_____灾害频繁。

17.在中国地图上,把_____线、_____毫米年等降水量线和_____高原边缘线这三条重要的地理分界线结合起来,并根据实际情况做一定的调整,就把我国划分为四大地理区域,即


_____地区、_____地区、_____地区、_____地区。



能力提升

三、综合题

18.读“秦岭南北两侧景观图”,完成下列问题。



(1)秦岭以北属于我国的 ()

- A.北方地区 B.南方地区
- C.西北地区 D.青藏地区

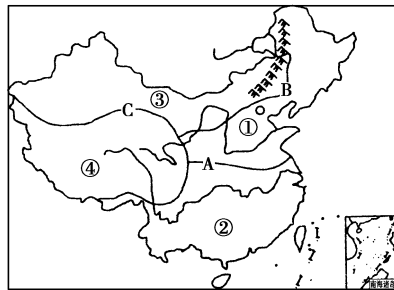
(2)秦岭以南生长的水果以_____为主,主食作物是_____。

(3)下列项目中属于北方地区的有_____。(填代号)

- ①黑土地 ②赛龙舟 ③泼水节 ④冰灯 ⑤窑洞 ⑥西双版纳雨林

(4)为了解决我国北方地区的用水紧张问题,我国正在修建_____ (填跨流域调水工程),此工程主要是将_____流域的水调到华北和西北地区。

19.读“中国四大区域划分图”,完成下列问题。



(1)把相应的编号填到横线上:南方地区_____,北方地区_____,西北地区_____,青藏地区_____。

(2)北方地区和南方地区的分界线 A 是_____ (山)和_____ (河)。它大致与 1 月_____℃ 等温线分布相吻合,大致





经过_____年等降水量线。它的确定主导因素是_____。

(3) 界线 C 大致与哪几列山脉的走向一致 ()

- A. 天山—阴山
- B. 横断山脉—秦岭
- C. 昆仑山—祁连山—横断山脉
- D. 大兴安岭—太行山—巫山—雪峰山

(4) 我国许多大江大河都发源于青藏地区, 请你任写出两条:_____。

(5) 受降水的影响, 西北地区的自然景观由东向西依次是草原、_____、_____。

(6) 造成“世界屋脊”和“鱼米之乡”农业生产差异的主要原因是_____。

(7) 挖窑洞居住, 以小米为主食的居民分布在_____。

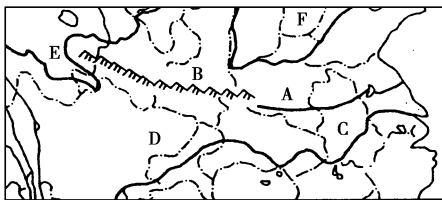
20. 填表比较秦岭—淮河线南北两侧的地理差异。

	北侧	南侧
温度带		
干湿地区		
河流封冻情况		
耕地类型		
主要粮食作物		
作物熟制		
主要经济林木		
主要运输方式		



拓展探究

21. 读“我国局部图”, 完成下列问题。



(1) A 是_____河, B 是_____ (山脉)。

(2) 由 A 和 B 组成的地理事物是我国哪些重要的地理分界线?

(3) C 地与 D 地纬度相似, 但在冬季, D 地比 C 地气温要稍高一些。你能说说其原因是什么吗?

(4) E 地和 F 地相比, 夏季气温较高的是_____地, 其原因是_____。





第二节 北方地区和南方地区

第1课时 北方地区



名师导航

学习要点

1. 北方地区的位置、范围、面积、人口、主要地形区。
2. 北方地区的自然、人文地理。

重难点突破

1. 北方地区的概况。
2. 北方地区的地形、气候、河流、资源。
3. 北方地区的农业、工业及交通。

听课笔记



实战演练



基础巩固

一、选择题

1. 下列山脉中既属于我国阶梯分界线,同时又是西北地区和北方地区分界线的是 ()
 - A. 横断山
 - B. 祁连山
 - C. 大兴安岭
 - D. 阴山
2. 过去的“北大荒”,今日的“北大仓”指的是 ()
 - A. 三江平原
 - B. 成都平原
 - C. 黄淮平原
 - D. 渭河平原
3. 关于我国北方地区地形的叙述,正确的是 ()
 - A. 平原面积广阔
 - B. 山脉主要有大兴安岭、秦岭、阴山等
 - C. 有世界上最大的黑土地
 - D. 位于我国地势的第三级阶梯
4. 位于北方地区的最主要的地形区是 ()
 - A. 黄土高原、内蒙古高原、辽东丘陵
 - B. 华北平原、东北平原、黄土高原
 - C. 黄淮海平原、黄土高原、江淮平原
 - D. 长白山地、太行山地、内蒙古高原

5. 下列民居属于北方地区的是 ()
 - A. 四合院
 - B. 土楼
 - C. 高脚楼
 - D. 茅草棚
6. 北方地区的长城以南的农业耕作制度是 ()
 - A. 一年一熟或两年三熟
 - B. 一年两熟
 - C. 一年两熟或两年三熟
 - D. 一年三熟

电视剧《闯关东》讲述的是新中国成立前以朱开山一家为典型的山东人到东北谋生创业的艰苦历程。据此完成7~8题。

7. 电视剧中,大量山东人奔赴东北去开荒谋生,主要原因是当时东北地区 ()
 - A. 地广人稀,土壤肥沃
 - B. 森林资源丰富
 - C. 社会秩序安全稳定
 - D. 交通便利
8. 原来被称作“北大荒”的东北平原,现早已成为全国著名的“北大仓”。下列关于东北平原和华北平原的比较,不正确的是 ()
 - A. 东北平原——春小麦,华北平原——冬小麦





- B.东北平原——一年一熟,华北平原——一年两熟或两年三熟
- C.东北平原——中温带,华北平原——暖温带
- D.东北平原——湿润地区,华北平原——半湿润地区
- 9.下列描述中,表示北方地区的是 ()
- A.四季有花常见雨
B.旱地麦浪泛金黄
C.大漠黄沙驼铃响
D.青稞美酒锅庄舞
- 10.北方地区年降水量大致在 ()
- A.200~400 毫米之间
B.400~800 毫米之间
C.800~1 000 毫米之间
D.1 000~1 200 毫米之间
- 11.黑土地主要分布在 ()
- A.东北平原
B.华北平原
C.四川盆地
D.长江中下游平原
- 12.受地理环境的影响,产生于黄土高原的歌舞比产生于江南水乡的歌舞 ()
- ①舞姿更遒劲有力 ②舞姿更轻柔飘逸
③歌声更委婉动听 ④歌声更粗犷嘹亮
- A.①③ B.①④
C.②③ D.②④
- 13.我国目前最大的能源基地是 ()
- A.南方地区 B.北方地区
C.西北地区 D.青藏地区
- 14.下列不属于北方地形区的是 ()
- A.黄土高原 B.东北平原
C.四川盆地 D.山东丘陵
- 15.关于北方地区气候的叙述,正确的是 ()
- A.是半湿润、半干旱的热带季风气候
B.1 月平均气温在 0℃ 以下
C.多在 5、6 月易出现洪涝
D.降水多在 800 毫米左右
- 16.不是东北“三宝”的是 ()
- A.人参 B.鹿茸
C.白兰瓜 D.貂皮
- 2010 年广州亚运会暨第 16 届亚运会于 2010 年 11 月 12 日至 27 日在中国广州举行,广州是中国第二个取得亚运会主办权的城市。北京曾于 1990 年举办第 11 届亚运会。据此完成 14~18 题。
- 17.小明乘坐火车从哈尔滨到广州观看亚运会一路上感到 ()
- A.越向南越温暖
B.越向南越寒冷
C.温度基本保持不变
D.自然景观没有多大变化
- 18.关于广州和北京的叙述,正确的是 ()
- A.广州属于亚热带季风气候
B.北京属于温带大陆性气候
C.受寒潮影响较为明显的是广州
D.广州的主要粮食作物为小麦
- 19.适合在松嫩平原种植的农作物是 ()
- A.春小麦、玉米、甜菜、亚麻
B.冬小麦、高粱、大豆、甜菜
C.玉米、高粱、大豆、油菜
D.玉米、黄麻、甜菜、大豆
- 20.困扰我国北方地区农业生产的自然条件是 ()
- A.高温、风沙和干旱
B.台风、梅雨和春旱
C.冻土、沼泽和沙漠
D.水土流失和旱涝

二、填空题

- 21.北方地区指我国东部_____—_____以北的地区,面积约占全国的_____% ,人口约占_____%。
- 22.北方地区的地形以_____和_____为主。





包括_____平原、_____平原和_____高原。

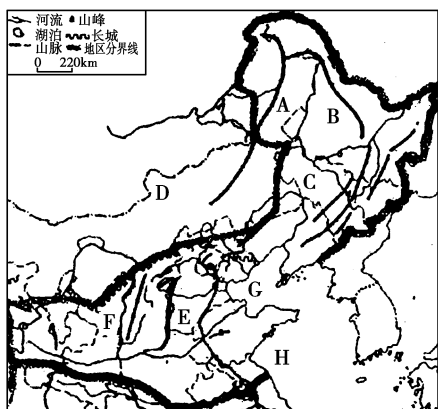
23.北方地区的三个重要农业区:_____、_____、_____。



能力提升

三、综合题

24.读“北方地区位置和地形图”,完成下列问题。



(1)写出图中字母所表示的地理事物名称。

山脉:A _____, B _____。

平原:C _____, E _____。

高原:D _____, F _____。

海洋:G _____, H _____。

(2)填图:黑龙江、松花江、辽河、黄河。

(3)C地区北部土壤肥沃,因土壤中富含腐殖质被称为“_____”。原来大片的荒地,已经发展成为我国重要的农业基地,成了富饶的“_____”。

(4)F处的民居较有代表性的是_____。

(5)E地区是国内重要的农耕区,人口密集,城镇和工矿企业众多,发展生产面临的最大问题是_____。



拓展探究

25.阅读资料,回答问题。

黄土高原水土流失严重,有自然原因,也有人为原因,而後者的影响更加显著。

为了治理水土流失,为农牧业生产创造良好的生态环境,国家和当地人民正在大力开展水土保持工作。位于黄土高原的宁夏西吉县,昔日山光岭秃,贫穷落后,每平方千米一年的水土流失量达7000多吨。20世纪80年代初期,在北京林业大学的指导下,当地人民调整了土地利用方法,逐步把耕地退还为林地、牧地,大面积营造薪炭林,种植人工牧草,实行草田轮作,修筑土坝和梯田……

十多年过去了,奇迹出现在这块黄土地上:榆树、刺槐、红柳使原来的荒山秃岭变成一片青翠,茸茸牧草给遍野黄土铺上一层绿色的“毡毯”,林草覆盖率由原来的1.8%提高到63%,水土流失量减少了95%,畜牧业产值增加了5倍多,粮食产量增加了3倍多,农民的收入也成倍增加。

(1)黄土高原位于_____地区,属于_____气候。根据土壤条件、植被条件和气候条件分析,这里水土流失严重的主要原因是(多选) ()

- A.土质疏松
- B.缺乏植被保护
- C.地形平坦
- D.夏季多暴雨
- E.雨热同期
- P.黄土深厚

(2)治理水土流失的措施有哪些?





第2课时 南方地区



名师导航

学习要点

1. 南方的位置, 范围、面积、人口、主要地形区。
2. 南方地区的自然、人文地理。

重难点突破

1. 南方地区的概况。
2. 南方地区的地形、气候、河流、资源。
3. 南方地区的农业、工业、交通、运输业。

听课笔记



实战演练



基础巩固

一、选择题

1. 造成北方和南方自然差异的主导因素是 ()
 - A. 气温
 - B. 降水
 - C. 人为因素
 - D. 气温和降水
2. 关于南方地区的气候特点的叙述, 正确的是 ()
 - A. 气温高, 全年皆夏
 - B. 许多地方霜雪罕见, 春秋相连
 - C. 高温多雨的热带、亚热带季风气候
 - D. 全国四季最明显的地区
3. 南方地区包括的地形区有 ()
 - A. 长江中下游平原、黄土高原
 - B. 江南丘陵、四川盆地
 - C. 珠江三角洲、华北平原
 - D. 河套平原、渭河平原
4. 下列地区位于南方地区的是 ()
 - A. 内蒙古高原
 - B. 华北平原
 - C. 柴达木盆地
 - D. 四川盆地
5. 下列关于南方人生活特征的叙述, 不正确的是 ()
 - A. 居民的主食以米饭为主
 - B. 房屋通风好, 以南北朝向为主, 屋顶坡度较陡
 - C. 主要的交通运输工具为车、马
 - D. 传统的体育运动项目为游泳和赛龙舟等

6. 端午节是中华民族重要的传统节日, 已有上千年的历史。从下图信息可以推断出该习俗应该起源于 ()



端午节习俗: 赛龙舟、吃粽子

- A. 北方地区
 - B. 南方地区
 - C. 西北地区
 - D. 青藏地区
7. 南方比较丰富的矿产资源是 ()
 - A. 煤
 - B. 石油
 - C. 有色金属
 - D. 稀土
 8. 南方地区的气候类型是 ()
 - A. 温带海洋性气候
 - B. 温带季风气候
 - C. 地中海气候
 - D. 亚热带和热带季风气候
 9. “屋顶坡度大”是南方地区传统民居的特点之一, 其主要的影响因素是 ()
 - A. 美观
 - B. 降水
 - C. 地形
 - D. 人为因素
 10. 放暑假时, 在广州读书的小明想给北方的妈妈带回点当地的水果, 不可能是 ()
 - A. 苹果
 - B. 香蕉
 - C. 菠萝
 - D. 芒果





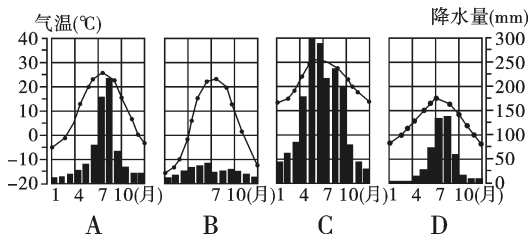
11. 南方地区的主要农作物是 ()
 A. 水稻、玉米、小麦
 B. 甜菜、甘蔗、油菜
 C. 水稻、茶叶、柑橘
 D. 水稻、甜菜、花生
12. 我国土家族、苗族等少数民族的典型民居——吊脚楼,它反映了当地的 ()
 A. 生产方式 B. 地形条件
 C. 水文环境 D. 气候特征
13. 海南岛的热带经济作物产量占全国首位的是 ()
 A. 橡胶 B. 椰子
 C. 胡椒 D. 剑麻

14. 俗话说:“一方水土养一方人”。下列自然景观或人文活动与我国南方地区相符的是 ()
 A. 传统民居屋顶坡度平缓,墙体厚,窗户较小
 B. 代表性植被为温带落叶阔叶林
 C. 摔跤、滑冰是人们喜爱的传统体育活动
 D. 以种植水稻、油菜为主

15. 关于我国北方地区和南方地区的叙述,不正确的是 ()
 A. 北方地区的农田多为旱地,一年一熟或两年三熟
 B. 南方地区一月气温一般高于0℃,冬季河流一般不结冰
 C. 由于降水的不同,北方河流的水量比南方的小
 D. 北方地区民居的墙体比南方的厚,屋顶坡度也比南方的大

16. “天府之国”是指 ()
 A. 成都平原 B. 四川盆地
 C. 南方地区 D. 长江中下游地区

17. 2008年1月我国南方地区部分省份受到雪灾的影响,下列四幅图中,反映南方地区气候特征的是 ()



二、填空题

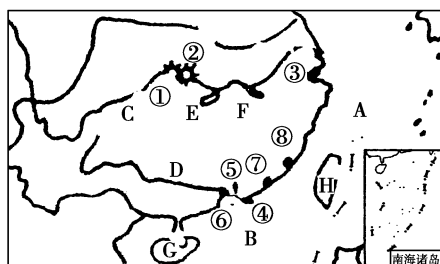
18. 南方地区指我国 _____ 以南、_____ 以东的地区。
19. 本区分布有 30 多个少数民族, _____ 是我国少数民族最多的省份。
20. 本区地势 _____, 地形为平原、_____ 与高原、_____ 交错分布。
21. 成都平原素有“_____”之称, 长江中下游地区有“_____”之称。



能力提升

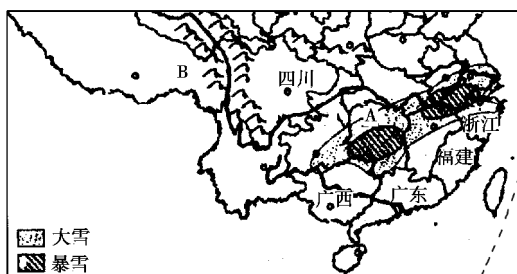
三、综合题

22. 读图,完成下列问题



- (1) 海洋、岛屿: A _____, B _____, H _____, G _____。
- (2) 江河、湖泊: C _____, D _____, E _____, F _____。
- (3) 水电站: ① _____, ② _____。
- (4) 经济特区: ⑤ _____, ⑥ _____, ⑦ _____, ⑧ _____。
- (5) 南方地区由于缺少煤炭、石油等矿产能源,因此应充分开发本区丰富的 _____ 资源,同时修建核电站。

23. 读图和有关材料,回答下列问题。



- (1) 北方地区和南方地区的分界线是 _____ 一线,大致与我国 1 _____



月 0°C 等温线一致;B为_____山脉,是南方地区和青藏地区的分界线。

(2)以下各选项中,描述南方地区的是(),描述青藏地区的是()。(双选)

- A.雪山连绵、冰川广布
- B.山陵翠绿、河川纵横
- C.哈达迎宾客、青稞美酒香
- D.水田稻谷、茶叶飘香

2008年1月中旬至2月上旬,一场50年一遇的低温、雨雪、冰冻等灾害性天气袭击我国南方地区,给人民群众生产生活带来严重的影响。

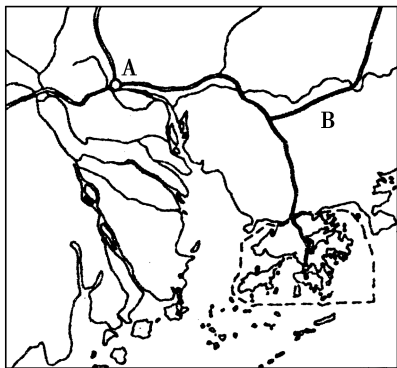
(3)南方地区属于_____气候类型,主要气候特征是_____。此次受雪灾影响最严重的A省的行政中心是_____,受大雪影响的省份还有_____省和_____省等(举两例即可)。

(4)雪灾给当地人们生产生活带来的严重影响有_____。(举1例即可)。



拓展探究

24.珠江三角洲地区是我国重要的加工制造业基地和外贸出口基地。读“珠江三角洲图”,回答下列问题。



(1)写出图中字母代表的地理事物名称:

A是_____ (城市), B是_____ (铁路线)。

(2)珠江三角洲的成因是:_____。

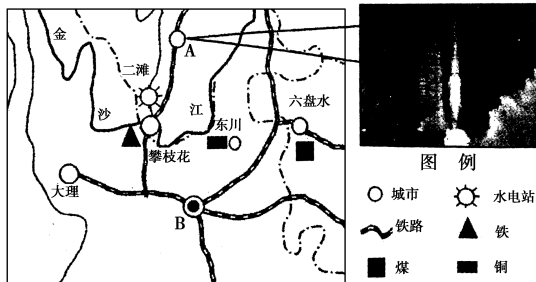
(3)珠江三角洲与香港经济优势互补,试说明两地经济发展的优势条件。

珠江三角洲:_____

香港:_____

(4)香港和澳门特别行政区经济发展各有特色。其中香港经济以_____为主,澳门经济以_____为主。

25.读“我国局部地区图”,分析回答下列问题。



(1)2007年10月,我国“嫦娥1”号卫星在A城市发射升空,该城市位于_____省。

(2)根据图中信息,简要说明攀枝花市发展钢铁工业的有利条件。

(3)二滩水电站是我国大型水利工程,试分析二滩附近河段水能资源丰富的原因。

(4)近年来,B地进行农业产生结构调整,大力发展花卉种植业,试分析其有利的气候条件。



第三节 西北地区和青藏地区

第1课时 西北地区



名师导航

学习要点

1. 西北地区的位置和范围。
2. 西北地区的主要自然特征。
3. 西北地区的自然地理特点对人们生产生活的影 响。

重难点突破

1. 西北地区的自然地理特征。
2. 西北地区的农业、工业、资源。
3. 西部大开发战略。

听课笔记



实战演练



基础巩固

一、选择题

1. 有关西北地区的叙述, 不正确的是 ()
 - A. 地形以高原、盆地为主
 - B. 河流稀少, 全部是内流河
 - C. 全国重要的畜牧业生产基地
 - D. 白云鄂博是我国重要的铁矿、稀土矿产地
2. 下列关于我国西北地区地理特征的叙述, 正确的是 ()

①地形以山地为主, 新疆的地形有“三山夹两盆”之说 ②塔里木河是我国最长的内流河, 位于准噶尔盆地 ③灌溉农业为本区的特色, 河套平原、宁夏平原被誉为“塞外江南” ④内蒙古东部的草原为我国最好的草原之一, 我国著名的三河马、三河牛就生长在这里

 - A. ①②③④
 - B. ①②④
 - C. ①③④
 - D. ③④
3. 我国最大的沙漠塔克拉玛干沙漠位于 ()
 - A. 准噶尔盆地
 - B. 塔里木盆地
 - C. 柴达木盆地
 - D. 四川盆地
4. 西北地区地面植被自东向西的分布状况是 ()
 - A. 森林—草原—荒漠
 - B. 荒漠—荒漠草原—草原
 - C. 荒漠—草原—森林
 - D. 草原—荒漠草原—荒漠
5. 塔里木河是我国最长的内流河, 其河水补给来源和汛期出现的季节分别是 ()
 - A. 雨水, 夏季
 - B. 冰雪融水, 夏季
 - C. 雨水, 冬季
 - D. 冰雪融水, 冬季
6. 下列少数民族的聚居地, 不在西北的是 ()
 - A. 蒙古族
 - B. 维吾尔族
 - C. 朝鲜族
 - D. 哈萨克族
7. 西北地区和北方地区的分界线是 ()
 - A. 昆仑山
 - B. 祁连山
 - C. 秦岭
 - D. 长城
8. “塞外江南”指的是 ()
 - A. 内蒙古高原和东北平原
 - B. 青藏高原和黄土高原
 - C. 成都平原和洞庭湖平原
 - D. 河套平原和宁夏平原
9. 我国西北地区在土地资源利用中存在的主要问题是 ()
 - A. 土地荒漠化
 - B. 水土流失
 - C. 乱占耕地
 - D. 滥伐森林
10. 甘肃省敦煌壁画能保存至今, 原因之一是该地区气候干燥, 壁画不容易受潮变质, 该地区的气候类型是 ()
 - A. 热带沙漠气候
 - B. 温带大陆性气候





- C. 亚热带季风气候 D. 温带季风气候
11. 下列哪个地区不是发展灌溉农业的地区 ()
A. 河套平原 B. 雅鲁藏布江谷地
C. 宁夏平原 D. 河西走廊
12. 下列开发大西北的自然条件中, 主要有利条件和制约经济发展的最缺少的自然资源组合正确的是 ()
A. 宜耕荒地广阔——平原
B. 草原广阔——森林
C. 矿产资源丰富——光照
D. 土地广阔——水
13. 西北地区的城市多分布在 ()
A. 平原上 B. 高原上
C. 绿洲上 D. 盆地内
14. 下列关于西部地区交通、能源的叙述, 正确的是 ()
A. 西北地区交通以铁路和航空运输为主
B. 青藏地区目前没有铁路, 运输以公路为主
C. 西北地区能源资源较少, 靠区外支援
D. 风能、地热能等能源是青藏地区的优势
15. 西气东输中的“西气”主要来自 ()
A. 甘肃玉门 B. 新疆克拉玛依
C. 柴达木盆地 D. 塔里木盆地
16. 促进吐鲁番盆地经济发展的对策有 ()
A. 发挥“火洲”的气候优势, 大面积种植热带作物
B. 大力发展造纸工业
C. 加速发展长绒棉、水稻、甘蔗等特色农产品以及相关的加工业
D. 发展以“丝绸之路”和干旱盆地景观为特色的旅游业
17. 下列有关西北地区矿产资源种类与产地匹配正确的是 ()
A. 镍矿——克拉玛依
B. 石油——伊敏河
C. 稀土矿——白云鄂博
D. 煤——金昌
18. 新疆瓜果特别甜的主要原因是 ()
A. 气温高, 降水丰富
B. 云量少, 光照强, 气温日较差较大
C. 气候干燥, 气温低, 风力强
D. 沙性土壤肥沃

19. 在我国西部大开发的过程中, 应该 ()
A. 向西部大规模移民, 以减轻东部的环境压力
B. 在西部大范围垦荒, 兴建大型商品粮基地
C. 加速开发西部的石油、天然气资源, 并向国外输送
D. 控制人口增长, 提高人口素质

二、填空题

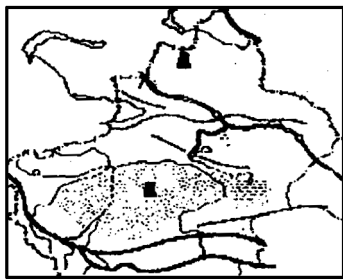
20. 西北地区大体位于_____—_____—_____—_____一线以北, 面积约占全国的_____, 人口大约只占全国总数的_____。
21. 汉族占全区人口的_____, 少数民族主要有_____、_____、_____、_____等。
22. 本区在_____, _____、_____以及_____和_____的边缘分布着较多的绿洲。
23. 西北地区矿产资源丰富, 比如_____的稀土矿, 金昌的_____矿, 石嘴山的_____矿。



能力提升

三、综合题

24. 读图, 完成下列要求。



- (1) 该图是_____自治区示意图, 该地发展农业生产的有利条件是: _____。特色农产品有_____、_____、_____等。
- (2) 该地有我国最大的盆地_____盆地和最大的沙漠_____沙漠。
- (3) 经过阿拉山口的铁路是_____的一部分, 这条铁路连接了整个亚欧大陆, 也把_____洋和_____洋连接在一起。
- (4) 该地有众多的邻国, 对发展本地的经济会带来什么好处?





25.读图,完成下列各题。



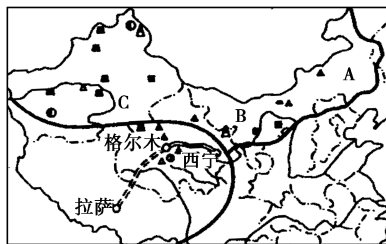
- (1)图中表示的是_____工程,西起_____盆地轮南气田,东到_____、_____。
- (2)该工程横贯我国三大地理区域,依次是_____、_____、_____。
- (3)该工程对东西部地区各有什么好处?

(1)新疆位于我国四大地理区域的_____,该地区的自然环境特征是_____。

(2)新疆具有向西开放和扩大经贸合作的区位优势,其邻国 A 为_____。

(3)今年 5 月份以来,许多省区领导到新疆考察开发建设事宜,请你说出新疆的优势资源有_____。

27.读“我国西北、青藏地区图”,完成下列问题。



(1)西北、青藏地区是我国实施西部大开发的重点地区,图中反映出两地区在经济发展中所具有的优势是_____。

(2)从空中俯瞰,A→B→C 的地表植被依次是_____→_____→_____。

(3)西北地区草原退化、沙化导致沙漠面积不断扩大,重建西部生态环境,采取的措施主要是_____。

_____。(至少答出两条)

(4)西气东输是我国“十五”计划四大重点工程之一,其天然气源地是 ()

- A.吐鲁番盆地
- B.塔里木盆地
- C.准噶尔盆地
- D.河西走廊

(5)青藏铁路现已全线通车,请思考,青藏铁路建设的重大意义是_____。

拓展探究

26.读下列材料和我国四大地理分区图,完成下列问题。

材料 中共中央、国务院召开的新疆工作座谈会于 2010 年 5 月 17 日至 19 日在北京举行,胡锦涛在会上强调做好新形势下新疆工作,是深入实施西部大开发战略、拓展我国经济发展空间的战略选择,是我国实施互利共赢开放战略、发展全方位对外开放格局的重要部署。





第2课时 青藏地区



名师导航

学习要点

1. 青藏地区的位置和范围。
2. 青藏地区的主要自然特征。
3. 青藏地区的自然地理特点对人们生产生活的影 响。

重难点突破

1. 青藏地区自然地理特征。
2. 高原农牧业。
3. 丰富的能源和矿产资源。
4. 交通运输及人民的生活。

听课笔记



实战演练



基础巩固

一、选择题

1. 西北地区与青藏地区的分界线是 ()
 - A. 横断山、祁连山
 - B. 大兴安岭、阴山
 - C. 昆仑山、祁连山
 - D. 天山、太行山
2. 下列有关青藏地区由于地势高而造成的自然特征的叙述, 正确的是 ()
 - A. 雪山冰川连绵, 属于我国最寒冷的地区
 - B. 湖泊众多, 是我国许多大江大河的发源地
 - C. 气温低, 动植物都不能生长
 - D. 是我国冬夏气温最低的地区, 所以人烟稀少
3. 被誉为“世界第三极”的青藏高原位于四大区域中的 ()
 - A. 北方地区
 - B. 南方地区
 - C. 西北地区
 - D. 青藏地区
4. 青藏高原地区农作物分布在河谷地带的最主要的自然原因是 ()
 - A. 河谷地区有丰富的水源
 - B. 河谷地区土壤肥沃
 - C. 河谷地区气温较高, 风力小
 - D. 河谷地区人口稠密, 劳动力充足
5. 我国高寒草原区的主要牲畜是 ()
 - A. 斑马、紫羔羊、美利奴羊
 - B. 蒙古马、大尾羊、羚羊
 - C. 牦牛、藏绵羊、藏山羊
 - D. 三河马、三河牛、滩羊
6. 为保护生态环境, 国家在青藏高原设立了三江源自然保护区, “三江源”是指 ()
 - A. 长江、乌江、黄河
 - B. 长江、澜沧江、黄河
 - C. 塔里木河、黄河、通天河
 - D. 怒江、金沙江、雅鲁藏布江
7. 青藏地区自然环境的主要特征是 ()
 - A. 高寒
 - B. 干旱
 - C. 冷热变化剧烈
 - D. 降水稀少
8. 我国水能、地热能、太阳能、风能都很丰富的省份是 ()
 - A. 新疆
 - B. 青海
 - C. 内蒙古
 - D. 西藏
9. 青藏地区具有丰富、洁净的能源是 ()
 - A. 石油
 - B. 地热、太阳能
 - C. 煤、水能
 - D. 水能、天然气
10. 我国生活在“世界屋脊”上的少数民族是 ()
 - A. 维吾尔族
 - B. 壮族
 - C. 高山族
 - D. 藏族
11. 青藏高原上的代表性农作物是 ()





- A.长绒棉 B.小麦、玉米
 - C.青稞、小麦 D.水稻、油菜
- 12.有“日光城”之称的是 ()
- A.呼和浩特 B.乌鲁木齐
 - C.拉萨 D.格尔木
- 13.青海省重要的农业区是 ()
- A.雅鲁藏布江谷地 B.湟水谷地
 - C.河套平原 D.宁夏平原
- 14.有“高原之舟”之称的是 ()
- A.牦牛 B.藏羚羊
 - C.藏绵羊 D.骆驼
- 15.青藏铁路的起止点是 ()
- A.青海—拉萨 B.西宁—格尔木
 - C.格尔木—拉萨 D.西宁—拉萨
- 16.下列叙述与青藏高原的“高”“寒”特征无关的是 ()
- A.雪山连绵,冰川广布
 - B.城镇多分布在海拔较低的河谷两岸
 - C.日照强烈,太阳能资源丰富
 - D.地热资源丰富

二、填空题

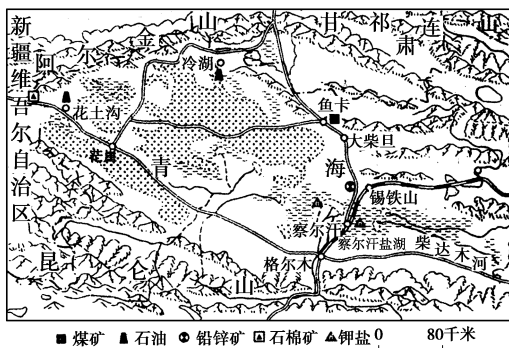
- 17.青藏地区主要包括_____、_____和_____省的西部,面积约占全国的_____,人口仅占全国的_____左右。其主体是有“世界屋脊”之称的_____。
- 18.本区是亚洲许多大河的发源地,_____,_____,_____都发源于这里,该地区拥有大量的珍稀动物,如_____,_____,_____等。本区的农作物主要有_____,_____,_____等,由于_____强,小麦等单位面积比较高,本区还是全国重要的牧区,主要牲畜有_____,_____等。
- 19.青藏地区的主要少数民族是_____族,大多信仰藏传佛教,位于拉萨市中心的_____是其圣地。



能力提升

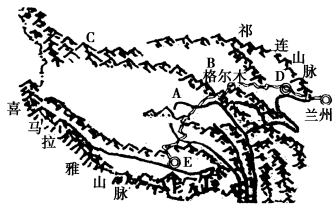
三、综合题

- 20.读图,回答下列问题。



- (1)被阿尔金山、祁连山、昆仑山等环抱的盆地是_____,它有“_____”的称号。
- (2)该盆地矿产资源丰富,主要有_____,_____,_____,_____等。
- (3)盆地中的铁路是_____的北段。
- 21.阅读材料,完成下列内容。

材料一 2006年7月1日,青藏铁路通车运营,这是一条创造了无数奇迹的“天路”。自2001年6月29日开工建设以来,十万大军,5年征战,在地球之巅成功攻克“多年冻土、高寒缺氧、生态脆弱”三大世界性工程难题,造就了这条世界上海拔最高、线路最长的高原铁路。

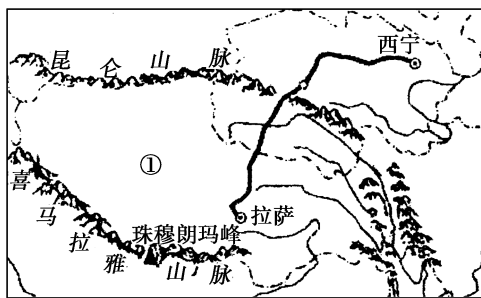


- (1)图中A是_____ (河流)的源头,B是_____盆地,C是_____山脉。居住在青藏高原上的主要少数民族是_____族。
- (2)D、E是青藏高原上的两个省会城市,布达拉宫位于_____市。
- (3)在青藏铁路修建过程中,产生三大世界性工程难题的最主要原因是_____。
- (4)进藏列车采用全封闭设计,在行驶高原途中需要向车厢内填充氧气,主要原因是_____。
- 22.2008年5月8日上午9时17分,北京奥运“祥云”火炬成功登顶珠峰,首次实现了奥运圣火





在世界之巅的传递。读图回答问题。

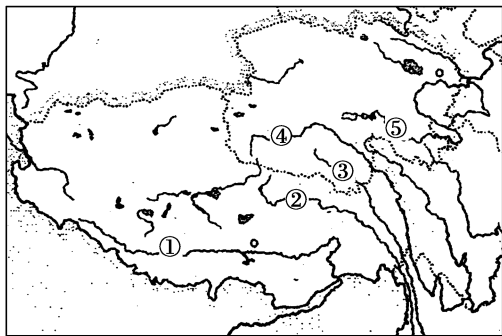


- (1) 圣火登上的珠穆朗玛峰是_____山脉的主峰。图中①是_____自治区。
- (2) 图中铁路线是_____铁路,主要经过的地形区是有“世界屋脊”之称的_____高原。
- (3) 图示区域显著的自然特征是_____,农业生产以_____ (畜牧业或种植业)为主。



拓展探究

23. 阅读材料,回答下列问题。



2001年,由江泽民主席亲笔题写的“三江源自然保护区”纪念碑在青海省玉树藏族自治州的通天河畔正式揭牌,标志着三江源自然保护区正式成立。

(1) “三江”指图中的_____。

A. ①②③ B. ②③④

C. ③④⑤ D. ①②④

(2) 三江源自然保护区位于_____省境内,保护区的居民以_____族为主。

(3) 由于长期不合理的砍伐、放牧和耕作,这里的生态环境已经严重恶化。你认为应如何改善本地区脆弱的生态环境?

(4) 请你为“三江源自然保护区”设计一句保护宣传语。





第六章 认识区域:位置与分布



第一节 东北地区的地理位置与自然环境



名师导航

学习要点

1. 了解东北地区包含的三个省份,了解东北地区所处的地理位置及其重要战略地位。
2. 了解东北地区以平原、丘陵和山地为主的地形特征,了解其地表结构的三带。
3. 了解东北的温带季风气候特征及其降水和气温特征。

重难点突破

1. 会运用地图认识区域的地理位置。
2. 会运用地形图了解区域的主要地形类型和地势特征。
3. 归纳东北地区气候特点,并分析其形成原因。

听课笔记





实战演练



基础巩固

一、选择题

1. 东北地区气候的主要特点是: ()
 - A. 四季如春
 - B. 长冬、严寒
 - C. 全年干旱
 - D. 日照强温差大
2. 下列关于东北地区地理环境的描述,错误的是 ()
 - A. 山环水绕,平原辽阔
 - B. 资源丰富
 - C. 气候冷湿,无霜期短
 - D. 外围是山地和丘陵
3. 有关东北地区的气候特征的叙述不正确的是 ()
 - A. 热带季风气候
 - B. 每年10月进入冬季
 - C. 长冬严寒,夏季短促而温暖
 - D. 夏季降水集中且较丰沛,日照时间较长
4. 下列关于我国东北地区地形的正确叙述是 ()
 - A. 主要山脉有大兴安岭、阴山、秦岭等
 - B. 属我国地势的第三阶梯

- C. 耕地少,且后备资源严重不足
 - D. 有世界面积最大的黄土高原
5. 形容东北地区气候最适当的语句是 ()
 - A. 冬冷夏暖,夏雨集中
 - B. 冬冷夏凉,春雨连绵
 - C. 冬暖夏凉,冬雨连绵
 - D. 冬暖夏热,夏雨集中
 6. 要保护好东北的森林资源,当前最不应该做的是下列哪项工作 ()
 - A. 大力做好森林采伐工作
 - B. 积极造林
 - C. 建立自然保护区,预防各种林林灾害
 - D. 发展综合利用
 7. 下列哪一张附图,最能代表东北地区的气候类型图 ()

