

全科状元.地理.八年级.上册

图书在版编目(CIP)数据

全科状元. 地理. 八年级. 上册 / 《全科状元》编写组编著. —北京:
中国对外翻译出版有限公司, 2011. 8

配湘教版

ISBN 978-7-5001-3084-0

I. ①全… II. ①全… III. ①中学地理课—初中—教学参考资料
IV. ①G634

中国版本图书馆 CIP 数据核字(2011)第 166713 号

出版发行 / 中国对外翻译出版有限公司

地 址 / 北京市西城区车公庄大街甲 4 号物华大厦六层

电 话 / (010)68359376 68359303 68359101 68357937

邮 编 / 100044

传 真 / (010)68357870

电子邮箱 / book@ctpc.com.cn

网 址 / <http://www.ctpc.com.cn>

出版发行 / 湖南教育出版社

地 址 / 长沙市韶山北路 443 号

电 话 / (0731)85486807

邮 编 / 410007

传 真 / (0731)85486714

网 址 / <http://www.hnepu.com>

策划编辑 / 吴良柱

责任编辑 / 刘全银

封面设计 / 视界创意

排 版 / 巴蜀阳光

印 刷 / 长沙鸿发印务实业有限公司

经 销 / 新华书店

规 格 / 880×1230 毫米 1 / 16

印 张 / 8.5

版 次 / 2011 年 8 月第 1 版

印 次 / 2013 年 8 月第 3 次

ISBN 978-7-5001-3084-0 定价: 16.50 元



版权所有 侵权必究
中国对外翻译出版有限公司
湖南教育出版社



第一章 中国的疆域与人口



第一节 中国的疆域



名师导航

学习要点

1. 我国地理位置，包括以下三个方面：半球位置、海陆位置、经纬度位置。
2. 中国的疆域，我国的领土四个端点；陆地面积、濒临的海洋、我国的岛屿，内海、半岛。
3. 中国的邻国及与其隔海相望的国家。

重难点突破

1. 东西半球分界线与东经度西经度分界线。
2. 领土包括陆地、领水及底土、领空。
3. 区分领海与内海。
4. 我国的地理位置、其特点和优越性。
5. 阅读中国政区图，形成对我国疆域的空间想象力。

听课笔记





实战演练



基础巩固

一、选择题

1. 从世界大洲和大洋的位置看，我国位于（ ）
 - A. 亚洲东部，太平洋西岸
 - B. 欧洲东部，大西洋东岸
 - C. 亚洲东部，太平洋东岸
 - D. 亚洲南部，印度洋北岸
2. 中国领土最东端与最西端相差多少经度，最南端与最北端跨多少纬度（ ）
 - A. 60° 40°
 - B. 60° 50°
 - C. 50° 50°
 - D. 50° 60°
3. 从海陆位置来看，以下国家具有与我国相似的海陆兼备特征的是（ ）
 - A. 蒙古
 - B. 澳大利亚
 - C. 英国
 - D. 印度
4. 我国领土的最东端位于（ ）
 - A. 黑龙江与乌苏里江的汇合处
 - B. 漠河以北黑龙江主航道中心
 - C. 帕米尔高原
 - D. 曾母暗沙
5. 属于我国内海的是（ ）
 - A. 东海
 - B. 黄海
 - C. 琼州海峡
 - D. 南海
6. 全部与我国隔海相望的国家是（ ）
 - A. 印度、文莱、菲律宾
 - B. 马来西亚、朝鲜、韩国
 - C. 日本、朝鲜、印度尼西亚
 - D. 文莱、菲律宾、日本
7. 我国最大的海峡是（ ）
 - A. 琼州海峡
 - B. 渤海海峡



C. 对马海峡

D. 台湾海峡

8. 我国是一个海陆兼备的国家, 陆上邻国以及与我
国隔海相望的国家数目分别是 ()

A. 15 和 6

B. 15 和 5

C. 14 和 6

D. 12 和 6

9. 我国面积最大的岛屿是 ()

A. 海南岛

B. 崇明岛

C. 台湾岛

D. 金门岛

10. 我国沿海分布的岛屿, 自北向南排序正确的一
组是 ()

A. 海南岛、台湾岛、舟山群岛、南海诸岛

B. 台湾岛、海南岛、南海诸岛、舟山群岛

C. 舟山群岛、台湾岛、海南岛、南海诸岛

D. 南海诸岛、台湾岛、海南岛、舟山群岛

11. 下列属于我国内海的海域是 ()

A. 渤海

B. 黄海

C. 东海

D. 南海

12. 按照《联合国海洋公约》的规定, 我国管辖
的海域面积和领海宽度分别为 ()

A. 500 万平方千米 20 海里

B. 400 万平方千米 200 海里

C. 300 万平方千米 12 海里

D. 200 万平方千米 15 海里

二、填空题

13. 从南北半球看, 我国位于_____半球; 从东
西半球看, 我国位于_____半球。

14. 我国领土大部分位于五带中的_____带,
小部分位于_____带。

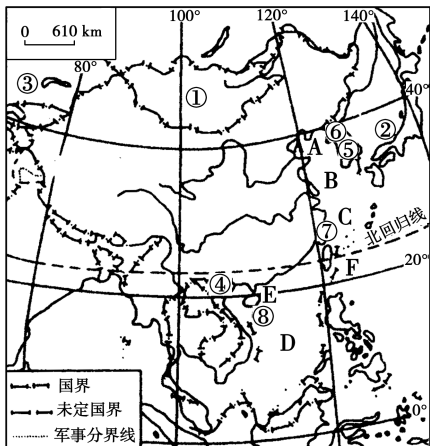
15. 从海陆位置看, 我国位于亚洲的_____部,
太平洋的_____岸, 是一个_____的
国家。



能力提升

三、综合题

16. 读下图, 回答下列问题。



中国疆域示意图

(1) 填出字母代表的海洋名称。

A _____海, B _____海, C _____海, D _____海, E
_____海峡, F _____洋。

(2) 填出数字代表的邻国或隔海相望的国家
名称。

① _____, ② _____, ③ _____,
④ _____, ⑤ _____, ⑥ _____。

(3) 填出数字代表的岛屿名称。

⑦ _____岛, ⑧ _____岛。

(4) 我国陆地面积为_____万平方千米, 仅次
于_____、_____两国。

17. 读五国图, 回答下列问题。





俄罗斯



加拿大



巴西



蒙古



日本海 太平洋 东海 日本

(1) 俄罗斯和加拿大的北部有很大一部分位于_____圈以北的_____带。因此，气候比我国大部分地区_____。

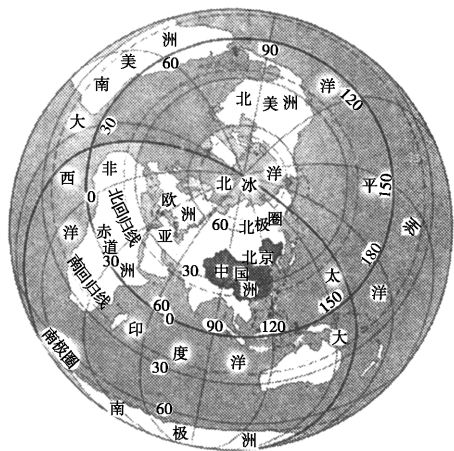
(2) 巴西大部分地区地处_____带，因此，气候_____。

(3) 从纬度位置来看我国与上述三个国家相比，位置的优越性体现在_____。

(4) 蒙古国是一个_____国，因此其_____不便；日本是一个_____国。

(5) 我国是一个临海国，比起蒙古、日本两国，海陆位置的优越性体现在_____。

18. 读“中国在地球上的位置示意图”，回答下列问题。



(1) 从东西半球看，我国位于_____半球；

从南北半球看，我国位于_____半球。

(2) 我国所处的地理位置十分优越，从纬度上看大部分处于中纬度地区，属于_____带。

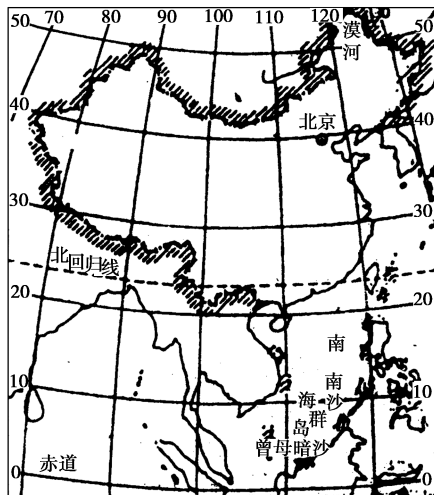
(3) 在晴朗的天气里，当乌苏里江上迎来日出时，帕米尔高原上应是_____ ()

- A. 朝霞满天
- B. 晚霞满天
- C. 天近正午
- D. 满天星斗



拓展探究

19. 读“中国在地球上的位置示意图”，回答下列问题。



(1) 请写出我国疆域的四至点：

_____、
 _____、
 _____、
 _____。

(2) 我们常说“北京时间”、那么北京的地方时和“北京时间”一样吗？为什么？





(3) 当黑龙江还是冰天雪地时,海南岛却是农忙时节,造成这种差异的主要原因是

()

- A. 我国所处纬度高
- B. 我国跨纬度大
- C. 离海远近不同
- D. 地形起伏大

(4) 从纬度位置和海陆位置上看,我国在发展农业、对外交流、发展海洋事业等方面的重要性。

20. 2010年中国成功举办了世博会,家住哈尔滨的小倩在晚上8:00收看了开幕式,而家住新疆乌鲁木齐的小兰收看到开幕式的时候还是白天。小倩和小兰都是在北京时间晚上8:00收看开幕式,为什么一个是白天,一个是在晚上?你认为是受什么因素影响?

滴水藏海

“天涯海角”在哪里

天涯海角风景区位于三亚市区约23千米的

天涯镇马岭山脚下,前海后山,风景独特。步入游览区,沙滩上那一对拔地而起的高10多米、长60多米的青灰色巨石赫然入目。两石分别刻有“天涯”和“海角”字样,意为天之边缘,海之尽头。“天涯海角”由此得名。这里融碧水、蓝天于一色,烟波浩瀚,帆影点点。椰林婆娑,奇石林立,如诗如画。刻有“天涯”、“海角”、“南天一柱”、“海判南天”的巨石雄峙南海之滨,为海南一绝。



第二节 中国的行政区划



名师导航

学习要点

1. 我国古代行政区划。
2. 现行行政区划。
3. 三级行政区划及 34 个省级行政单位名称、简称、行政中心、轮廓。

重难点突破

1. 各省级行政单位、名称、相对位置、行政中心，轮廓要熟练掌握，重点记忆。
2. 台湾是我国的一个省，是祖国领土不可分割的一部分。
3. 识记我国 34 个省级行政区及省政府在地图上的位置。

听课笔记




实战演练




基础巩固

一、选择题


1. 我国清朝的行政区划包括 ()
 - A. 省、县
 - B. 省、乡
 - C. 县、乡
 - D. 乡、镇
2. 我国目前的一些省界，在以下哪个朝代已大体形成 ()
 - A. 宋朝
 - B. 元朝
 - C. 明朝
 - D. 清朝
3. 我国省级行政单位包括 ()
 - A. 23 个省、5 个自治区、4 个直辖市、2 个特别行政区
 - B. 22 个省、5 个自治区、3 个直辖市、2 个特别行政区
 - C. 23 个省、5 个自治区、4 个直辖市、1 个特别行政区
 - D. 24 个省、5 个自治区、4 个直辖市、2 个特别行政区
4. 我国临海的省级行政单位共有 ()
 - A. 9 个
 - B. 14 个
 - C. 12 个
 - D. 13 个
5. 下列城市中属于直辖市的是 ()
 - A. 北京市、武汉市
 - B. 上海市、南京市
 - C. 天津市、重庆市
 - D. 重庆市、广州市
6. 下列省级行政区与其行政中心的组合，正确的是 ()
 - A. 浙江省——南京
 - B. 湖北省——武汉
 - C. 广东省——南宁
 - D. 山西省——兰州
7. 玉树地震后，全国各地的救援车队络绎不绝地赶往灾区，一位小朋友记下了车牌号为湘 H09958、粤 B90826、皖 F23586、鲁 D87813 的四辆救援车。这四辆车分别来自 ()
 - A. 湖南省、广东省、安徽省、山东省
 - B. 湖北省、广西壮族自治区、河北省、辽宁省
 - C. 河北省、福建省、江西省、山西省
 - D. 河南省、陕西省、浙江省、内蒙古自治区
8. 下列几个省区的名称，排序和图序相符的是 ()



①



②



③

 - A. ①湖北省 ②广东省 ③云南省
 - B. ①广东省 ②云南省 ③湖北省
 - C. ①广东省 ②湖北省 ③云南省



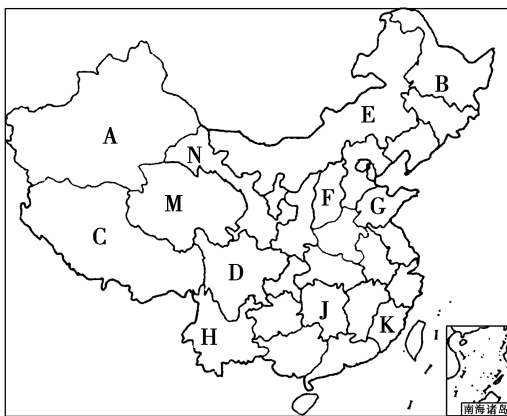
- D. ①云南省 ②湖北省 ③广东省
9. 我国的三级行政区划分为 ()
- A. 省、自治区、直辖市
B. 省(自治区、直辖市)、市、区
C. 省(自治区、直辖市)、县(自治县、县级市)、镇(乡)
D. 直辖市、省会、省
10. 我国面积最小的省级行政区是 ()
- A. 香港特别行政区
B. 北京市
C. 海南省
D. 澳门特别行政区
11. 我国面积最大的省级行政单位是 ()
- A. 内蒙古自治区 B. 青海省
C. 西藏自治区 D. 新疆维吾尔自治区
12. “两湖两广两河山”所指的八个省级行政区中, 互不相邻的是 ()
- A. 湖南、湖北 B. 广东、广西
C. 河南、河北 D. 山东、山西
13. 我国陆上邻国最多的省区是 ()
- A. 西藏自治区
B. 内蒙古自治区
C. 新疆维吾尔自治区
D. 云南
14. 我国两个岛屿省的简称分别是 ()
- A. 琼、台 B. 粤、台
C. 闽、台 D. 浙、台
15. 我国成立最晚的直辖市是 ()
- A. 上海市 B. 北京市
C. 天津市 D. 重庆市

二、填空题

16. _____朝的“省”、“县”行政区划, 对我国现行行政区划有很大影响。
17. 我国现行的行政区划基本划分为_____, _____、_____三级, 我国共有_____个省级行政单位, 包括_____个省、_____个自治区、_____个直辖市和_____、_____两个特别行政区, _____是我国的首都。

三、综合题

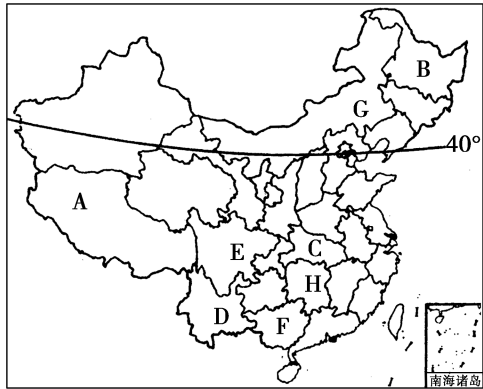
18. 读“中国政区空白图”, 回答下列问题。



- (1) 写出图中字母所代表的省级行政区的简称
A _____, B _____, C _____,
D _____, E _____, F _____,
G _____, H _____, J _____,
K _____, M _____, N _____。
- (2) 对照“中国政区图”, 按要求填出我国省级行政单位名称的名称。

要求	省区名称
纬度最高的省区	
位置最西的省区	
跨经度最广的省区	
与俄罗斯相邻的省区	
与台湾岛隔海相望的省区	

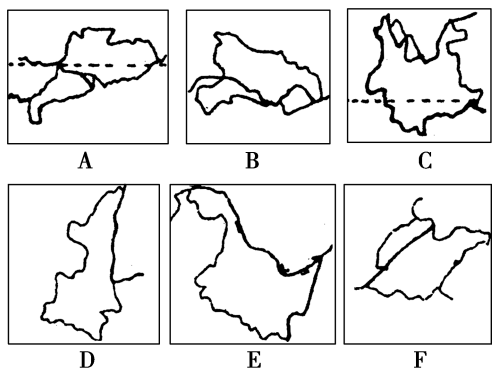
19. 读“中国行政区划图”, 回答下列问题。





- (1) 写出图中字母代表的省区名称：
A _____，B _____，C _____，
D _____。
- (2) 写出图中字母所在省区的行政中心名称：
E _____，F _____，G _____，H _____。
- (3) 沿北纬 40°，写出从东向西该线通过的省、直辖市、自治区的名称：_____。
- (4) 2009 年全运会在 _____ 省成功举行，2010 年在 _____ 市举办了世博会。

20. 读图，回答下列问题。



- (1) 图中几个省区中，临海的有 _____，陆地上同 3 个邻国接壤的有 _____，纬度最高的有 _____（填写代号和名称）。
- (2) 图中省区，地理位置最靠东的是 _____，

有热带分布的是 _____（填写代号和名称）。

- (3) 下列关于几省的叙述，正确的是（ ）
- A. A 是我国位置最靠南的省，最南端的曾母暗沙位于该省。
- B. C 是我国西南的边疆省，它同越南、老挝、泰国和缅甸四个国家接壤。
- C. D 是我国的陕西省，有两个简称，即陕或秦。
- D. E 是我国的黑龙江省，它与蒙古、俄罗斯两国为邻。



拓展探究

21. 网络上流行这样一个帖子：“湖南人说他名胜古迹多，北京人就笑了；北京人说他风沙多，内蒙人就笑了；内蒙人说他面积大，新疆人就笑了；新疆人说他民族多，云南人就笑了；云南人说他地势高，西藏人就笑了；西藏人说他文物多，陕西人就笑了；陕西人说他革命早，江西人就笑了……”

在上面的趣谈中蕴含了丰富的地理知识，你发现了吗？

- (1) 一共出现了省级行政区共 _____ 个，它们的简称依次是 _____。
- (2) 从贴子中可以看出：
我国面积最大的省区是 _____；
我国民族种类最多的省区是 _____；
我国地势最高的省区是 _____。

滴水藏海

中国的好望角——威海成山头

在我国之南有“天涯海角”，而在北方的胶东半岛则有“极地天尽头”。这天尽头就是指胶东半岛最东端的成山头。成山头海拔 200 米，南北长 2 千米，东西宽 1.5 千米，面积 2.5 平方千米。这里与韩国隔海相望，仅有 94 海里，是陆海交接处的最东端，这里是中国大陆最早看见海上日出的地方，所以被誉为“太阳升起的地方”，又有中国好望角之称。“天尽头”已改为“天无尽头”，寓意“天无尽头，业无止境”，以启发世人“干工作永远也干不完。”





第三节 中国的人口



名师导航

学习要点

1. 中国人口数量分布状况。
2. 我国人口增长。
3. 我国的人口政策。

重难点突破

1. 通过人口构成图、柱状图、曲线图等分析人口现状。
2. 我国人口在世界上的地位、增长和分布特点。
3. 我国的人口政策,科学人口观的树立。

听课笔记





实战演练

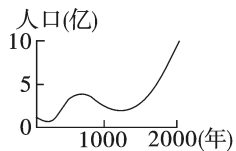


基础巩固

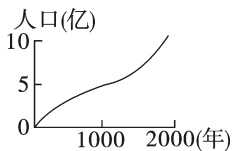
一、选择题

1. 世界上人口数量居前三位的国家是 ()
 - A. 中国、印度、美国
 - B. 中国、巴西、日本
 - C. 中国、印尼、美国
 - D. 中国、美国、俄罗斯

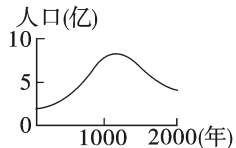
2. 下列四幅人口增长曲线图,与我国实际情况相符的是 ()



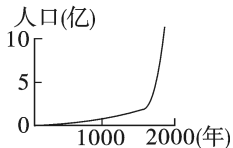
A



B



C



D

3. 我国目前人口最多和最少的省级行政区是 ()
 - A. 澳 粤
 - B. 豫 澳
 - C. 苏 琼
 - D. 鲁 粤
4. 我国人口分布的基本特点是 ()

- A. 西部地区人口多,东部地区人口少
- B. 北方地区人口多,南方地区人口少
- C. 南方地区人口多,北方地区人口少
- D. 东部地区人口多,西部地区人口少

5. 我国人口的突出特点是 ()
 - A. 人口分布不均
 - B. 城镇人口增长迅速
 - C. 人口的增长与经济发展不协调
 - D. 人口基数大,人口增长快

6. 新中国成立以来,我国人口增长速度快的主要原因是 ()
 - A. 商业贸易活动日益频繁
 - B. 人口居住地的自然条件有很大的改变
 - C. 社会劳动力需求量大幅度提高
 - D. 生活水平的提高和医疗卫生条件的改善

7. 我国人口分布很不平衡,其疏密的分界线大致是 ()
 - A. 黑龙江省漠河至云南腾冲一线
 - B. 大兴安岭—阴山—冈底斯山一线
 - C. 大兴安岭—太行山—雪峰山一线
 - D. 黑龙江省黑河至云南腾冲一线

8. 下列省区中,人口密度最小的是 ()
 - A. 内蒙古自治区
 - B. 山东省
 - C. 河南省
 - D. 西藏自治区





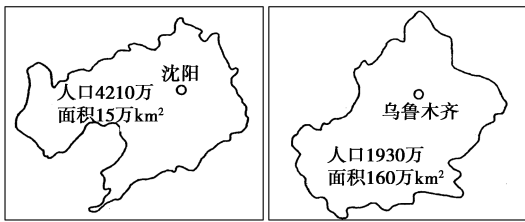
9. 下列关于我国城镇人口特点的叙述, 错误的是 ()

- A. 近年来, 我国城镇人口增长迅速
- B. 我国城镇人口总数世界最多
- C. 我国城镇人口占全国人口的比例世界最高
- D. 今后, 我国城镇人口将继续增加

10. 如果有外国朋友想多了解中国少数民族风情, 你会建议他最好去的省级行政区是 ()

- A. 北京
- B. 四川
- C. 云南
- D. 宁夏

11. 下面两幅图是我国辽宁、新疆两个省级行政区的轮廓图(图幅大小相同)及其各自的人口、面积数据。有关两省区的叙述, 正确的是 ()

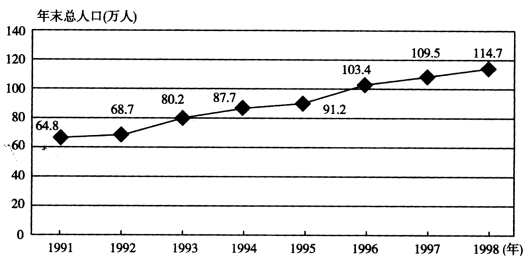


- A. 辽宁人口分布比较稀疏
- B. 新疆是我国少数民族较多的一个省区
- C. 新疆人口稠密
- D. 辽宁濒临东海

12. 近年来, 我国每年新增人口数量仍然很大, 其根本原因是 ()

- A. 人口基数大
- B. 计划生育政策成效不大
- C. 人口自然增长率太高
- D. 人口出生率居高不下

下面是我国东南沿海经济发达地区某地新兴城市人口增长示意图。读图, 完成 13~14 题。



13. 1991年至1998年, 该市人口增长最多的年

份是 ()

- A. 1993年
- B. 1995年
- C. 1996年
- D. 1998年

14. 随着人口快速增长, 该城市可能出现的主要问题是 ()

- A. 人口老龄化突出
- B. 城市经济发展缓慢
- C. 社会劳动力不足
- D. 城市用地压力增大

二、填空题

15. 中国人口的地区分布特点: 东部地区人口 _____, 西部地区人口 _____。

16. 我国人口分布的界线是 _____ 一线。


17. 目前, 我国城镇人口比重 _____, 农村人口比重 _____。随着我国经济的发展, _____ 人口将继续增加。



能力提升

三、综合题

18. 读“我国东、西部面积比例与人口比例图”, 完成下列问题。



(1) 从图中可以看出, 我国人口的地理分布疏密不均, 其界线大致是黑龙江省的 _____ 市至云南省的腾冲县。

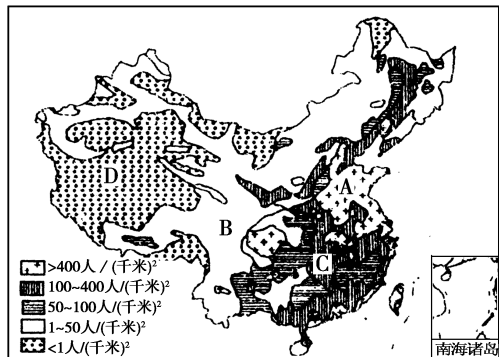
该线以东部分面积占全国总面积的 _____%, 人口却占全国总人口的 _____%, 该线以西部分面积占全国总面积的 _____%, 人口只占全国总人口的 _____%。

(2) 这说明我国人口的地理分布特点是 _____



_____多, _____少。

19. 读“我国人口分布图”, 回答下列问题。

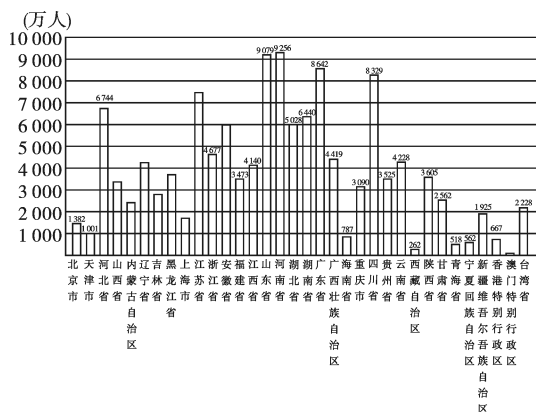


(1) 找出图中 A、B、C、D 四点人口密度分别在什么范围内?

A. _____, B. _____,
C. _____, D. _____。

(2) B、D 人口密度小的原因是: 耕地 _____, 多 _____、_____, _____; 经济 _____, 交通 _____, 城镇 _____。

20. 读“全国省级行政单位的人口数量柱状图(据全国第五次人口普查数据绘制)”, 回答下列问题。



- (1) 我国人口数量最多的省级行政单位是 _____, 该省简称是 _____。
- (2) 在沿海省区中, 人口最多的是 _____, 其行政中心是 _____。
- (3) 在 5 个自治区中, 人口最多的是 _____ 自治区, 该自治区濒临 _____ 海。
- (4) 在 4 个直辖市中, 人口最多的是 _____。

市, 人口最少的是 _____ 市。



拓展探究

21. 读图一和图二, 完成下列要求。



图一



图二

- (1) 目前, 我国人口增长迅速, 将会带来的后果是 ()
 - ①消费群体扩大, 促进市场经济发展
 - ②劳动力充足, 促进生产发展
 - ③资源需求膨胀, 人均资源量减少
 - ④阻碍经济发展, 不利于人民生活水平的提高
 A. ①② B. ③④
 C. ①③ D. ②④
- (2) 应当彻底根除的封建社会陈旧观念有哪些?

(3) 小明 20 岁结婚生孩子, 他哥哥大学毕业后 25 岁结婚生育。有人认为弟兄俩的做法, 结果是一样的。反正都是一辈子只生一个孩子, 与国家计划生育无关紧要。你认为这种看法是否正确? 哥俩谁的做法更有利于计划生育? 为什么?





(4) 试述我国计划生育政策的具体要求是什么？

(1) 1952年至1990年，我国的粮食总产量增长了_____倍，而人均粮食只增长了_____倍，主要原因是_____。

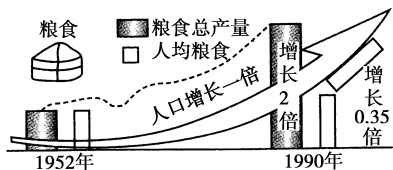
(2) 根据上述材料，提出两个地理问题：

① _____

② _____

(3) 是不是人口越多，越有利于一个地区的发展？

22. 阅读材料，并结合下图分析回答下列问题。



据报道：2006年，我国人口达到13亿，庞大的人口与我国经济发展极不适应。这些年，我国的粮食、肉类等产品的总产量均居世界第一，但由于人口基数庞大，人均占有量远远低于世界平均水平。巨大的人口数量给社会的治安、交通、住房、环境等诸方面造成了极大压力和困难，也严重影响了居民生活水平的提高。

(4) 我国实行计划生育政策以来，特别是近十年来，人口的出生率和自然增长率明显下降，人口过快增长的势头得到有效遏制，那为什么还要长期坚持实行计划生育这一国策呢？

第六次全国人口普查数据

第六次全国人口普查于2010年11月1日零时开始，2011年4月28日，国家统计局发布结果。据第六次全国人口普查主要数据公报（第1号）：此次人口普查登记的全国总人口为1 339 724 852人，与2000年第五次人口普查相比，10年增加7 390万人，增长5.84%，年平均增长0.57%。





第四节 中国的民族



名师导航

学习要点

1. 我国民族的数量及分布特点。
2. 我国的民族政策。

重难点突破

1. 我国是一个团结的多民族大家庭,理解我国的民族政策。
2. 学会阅读我国民族分布图,分析归纳民族分布特点,培养收集、归纳资料的能力。

听课笔记



实战演练



基础巩固

一、选择题

1. 我国是一个团结统一的多民族大家庭,其中少数民族有 ()
 - A. 54 个
 - B. 55 个
 - C. 56 个
 - D. 57 个
2. 我国人口最少的少数民族是 ()
 - A. 汉族
 - B. 壮族
 - C. 珞巴族
 - D. 维吾尔族
3. 我国汉族人口最多,主要分布于 ()
 - A. 东北
 - B. 西南
 - C. 东部
 - D. 西北
4. 我国各民族的分布特点是 ()

- A. 小杂居,小聚居
 - B. 大杂居,大聚居
 - C. 大杂居,小聚居
 - D. 小杂居,大聚居
5. 我国少数民族主要分布在 ()
 - A. 东北、西北、东南
 - B. 东北、西南、东南
 - C. 东北、西北、西南
 - D. 东南、西北、西南

“黄昏我站在高高的山冈,看那铁路修到我家乡,一条条巨龙翻山越岭,为雪域高原送来安康”这首《天路》伴随着火车穿梭“世界屋脊”而传遍四方。据此完成 6~7 题。
 6. 这首《天路》唱出了我国哪个少数民族人民盼望已久的心声 ()
 - A. 壮族
 - B. 藏族
 - C. 苗族
 - D. 维吾尔族
 7. 该少数民族信仰的宗教是 ()
 - A. 基督教





- B. 伊斯兰教
- C. 喇嘛教
- D. 道教

8. 下列民俗活动与对应民族的组合错误的是 ()

- A. 泼水节——朝鲜族
- B. 那达慕大会——蒙古族
- C. 晒佛节——藏族
- D. 端午节赛龙舟——汉族

9. 《光明日报》2010年11月2日文“纪念台湾光复65周年台湾少数民族抗日史实图片展”日前在北京台湾会馆举办，这是一次比较全面、系统地介绍台湾少数民族反抗日本侵略和殖民统治的史迹追踪。台湾省人口最多的少数民族是 ()

- A. 高山族
- B. 汉族
- C. 壮族
- D. 苗族

10. “高空低瞰山成浪，个个峰蒙白玉中。大地苍茫如锦绣，宝藏开采待新民”指的是 ()

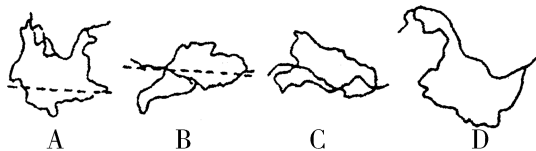
- A. 蒙古族为主的内蒙古高原
- B. 彝族为主的云贵高原
- C. 回族为主的黄土高原
- D. 藏族为主的青藏高原

11. 我国是一个多民族国家，下列四幅图片，反映朝鲜族的民族服饰的是 ()



A B C D

12. 图中所示的我国四个省区中，民族种类最多的是 ()



二、填空题

13. 我国是一个统一的_____民族的国家，共有_____个民族，_____族人口最多，约占全国人口的_____。
14. 我国少数民族中人口最多的是_____族，各民族不论人口多少、社会经济发展水平高低，一律_____。



能力提升

三、综合题

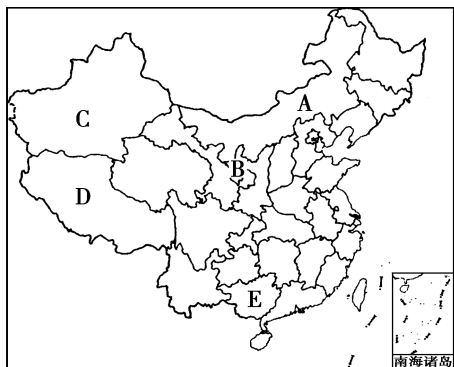
15. 下图为我国某地区的景观图，读图完成选择题。



- (1) 该景观图最有可能出现于我国下列哪个地区 ()
- A. 青藏高原区
 - B. 内蒙古高原区
 - C. 黄土高原区
 - D. 云南西双版纳
- (2) 根据图中民居的建筑风格及民族服饰分析，居住在该地区的少数民族是 ()
- A. 维吾尔族
 - B. 傣族
 - C. 鄂伦春族
 - D. 藏族

16. 读“我国省级行政区空白图”，完成下列问题。





(1) 写出图中字母所代表的少数民族及主要分布省区。

A 族, 主要分布省区是。

B 族, 主要分布省区是。

C 族, 主要分布省区是。

D 族, 主要分布省区是。

E 族, 主要分布省区是。

(2) (多选) 下列有关我国少数民族生活习俗的说法, 正确的是 ()

- A. 藏族人民喜爱藏医、藏药
B. 回族、维吾尔族等民族大多信仰伊斯兰教
C. 少数民族创造的乐器有蒙古族的马头琴、哈萨克族的冬不拉等
D. 蒙古族“那达慕”大会上主要进行的三项传统游戏是摔跤、骑马、射箭

17. 读图, 完成下列问题。



a



b



c

(1) 读图 a 回答: 这是 族, 主要分布在我国 (省区), 多信仰 教。

(2) 读图 b 回答: 这是 族, 主要分布在我国、 等省区, 该民族的民族舞蹈有 等。

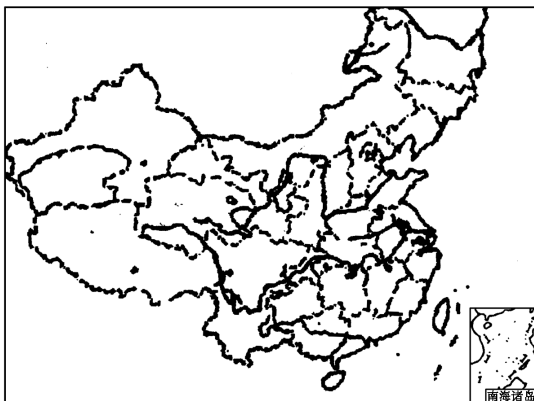
(3) 读图 c 回答: 这是我国跨 最广的省级行政区, 简称, 分布于该省区的少数民族主要是, 他们最

著名的节日有 大会等。



拓展探究

18. 我国历史上的民族融合是今天民族分布的基础。读图并阅读材料, 回答下列问题。



材料一 当今世界, 民族关系错综复杂, 民族问题对国家政治、经济、文化的影响越来越大。冷战结束后, 以苏联为首的东欧社会主义国家纷纷解体分裂, 并引发了一系列民族冲突和纠纷, 如南斯拉夫的“科索沃”战争、波黑战争、巴以冲突等。纵观我国, 社会安定、民族团结, 主要原因是新中国成立至今我们一直贯彻执行着正确的民族政策。

材料二 我国宪法规定: 各民族都有保持或改革自己风俗习惯的自由; 中华人民共和国公民有宗教信仰的自由; 国家保护正常的宗教活动。

(1) 在图上用字母“A”表示甘肃, 它在三个民族自治区之间, 却没有建立少数民族自治区的历史原因是

。

(2) 在图上用字母“B”表示云南省, 它在两个民族自治区之间, 也没有建立省级自治区, 其原因是

。

(3) 我国是一个多民族的和睦大家庭, 各民族不论, 一律, 这是我国的民族政策。国家保障各少数民族的合法权益, 维护和发展各民族的平等、 关系。



滴水藏海 

民族团结柱

在新中国成立六十年大庆的日子里，天安门广场树立起 56 根民族团结柱，成为节日期间最为亮丽的风景之一。民族团结柱每根柱子高达 13.6 米，重 26 吨，由水泥和钢结构做支架，玻璃钢外包，红金两色铺底，上面雕刻出生动的民族图案。整组柱子南北跨度长达 265.97 米，柱间距离 5.91 米，点缀着人民大会堂与国家博物馆中间的空间。“56 根柱子，寓意着平等、团结、和谐的 56 个民族，共同支撑着祖国的伟大基业。”“柱头、柱身、柱础，设计者们在每一部分上都赋予了深刻的寓意。柱头和柱础采用了人民大会堂东侧门柱的图案元素，体现 56 个民族是中华人民共和国的主人；柱体周身采用醒目的‘中国红’作外装饰，每根柱子上都精心雕刻出一对身穿节日盛装、载歌载舞的青年男女，他们的舞姿、乐器和盛装最具民族代表性，一眼望去，人们即可辨知这是哪个民族。”在国家博物馆一侧（东侧），依次是汉族、回族、维吾尔族……珞巴族；在人民大会堂一侧（西侧），依次是蒙古族、藏族、苗族……基诺族。

