

学数学

轻轻松松  
松松上小学

QINGQINGSONGSONG  
SHANGXIAOXUE


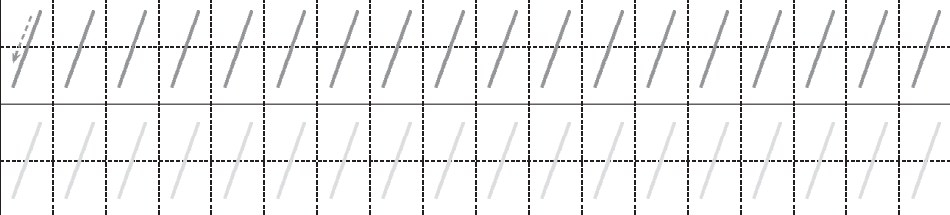





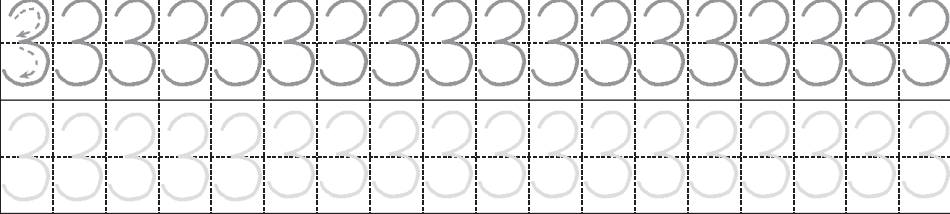

浙江少年儿童出版社





## 学写数字 1~3

数字魔法屋 请你数一数,下面的水果分别有几个? 再照样子写一写数字。

	
 <p>1 像铅笔 直又直</p>	
	
 <p>2 像鸭子 嘎嘎嘎</p>	
	
 <p>3 像耳朵 听一听</p>	

## 闪亮小明星

今天的任务完成得怎么样? 选择一个合适的图标, 给它涂上好看的颜色吧!



## 数字练习(一)

**智力弯弯绕** 圣诞节的晚上,圣诞老人给小动物们送来了新年礼物。可是,他真粗心,忘记在口袋里放礼物了。请在每个口袋里画上相应数量的礼物吧!







## 闪亮小明星



今天的任务完成得怎么样? 选择一个合适的图标, 给它涂上好看的颜色吧!

## 学写数字 4~6

数字魔法屋 请你数一数,下面的动物分别有几只?再照样子写一写数字。

	4 4 4 4 4 4 4 4 4 4 4 4 4 4 4
	4 4 4 4 4 4 4 4 4 4 4 4 4 4 4
 4 像小旗 飘呀飘	

	5 5 5 5 5 5 5 5 5 5 5 5 5 5 5
	5 5 5 5 5 5 5 5 5 5 5 5 5 5 5
 5 像鱼钩 钓小鱼	

	6 6 6 6 6 6 6 6 6 6 6 6 6 6 6
	6 6 6 6 6 6 6 6 6 6 6 6 6 6 6
 6 像哨子 吹一吹	

## 闪亮小明星

今天的任务完成得怎么样?选择一个合适的图标,给它涂上好看的颜色吧!



# 数字练习(二)

**智力弯弯绕** 开饭喽! 小动物们爱吃的食物都送上来了。可是, 熊老师说要把数字和食物连对了才能开饭。小朋友, 快来帮帮它们吧!



2



3



4



5



6







**闪亮小明星**



今天的任务完成得怎么样? 选择一个合适的图标, 给它涂上好看的颜色吧!

## 学写数字 7~9

数字魔法屋 请你数一数,下面的玩具分别有几个? 再照样子写一写数字。

	7 7 7 7 7 7 7 7 7 7 7 7 7 7 7 7
	7 7 7 7 7 7 7 7 7 7 7 7 7 7 7 7
 7 像镰刀 弯又弯	

	8 8 8 8 8 8 8 8 8 8 8 8 8 8 8 8
	8 8 8 8 8 8 8 8 8 8 8 8 8 8 8 8
 8 像娃娃 抱一抱	

	9 9 9 9 9 9 9 9 9 9 9 9 9 9 9 9
	9 9 9 9 9 9 9 9 9 9 9 9 9 9 9 9
 9 像气球 飞上天	

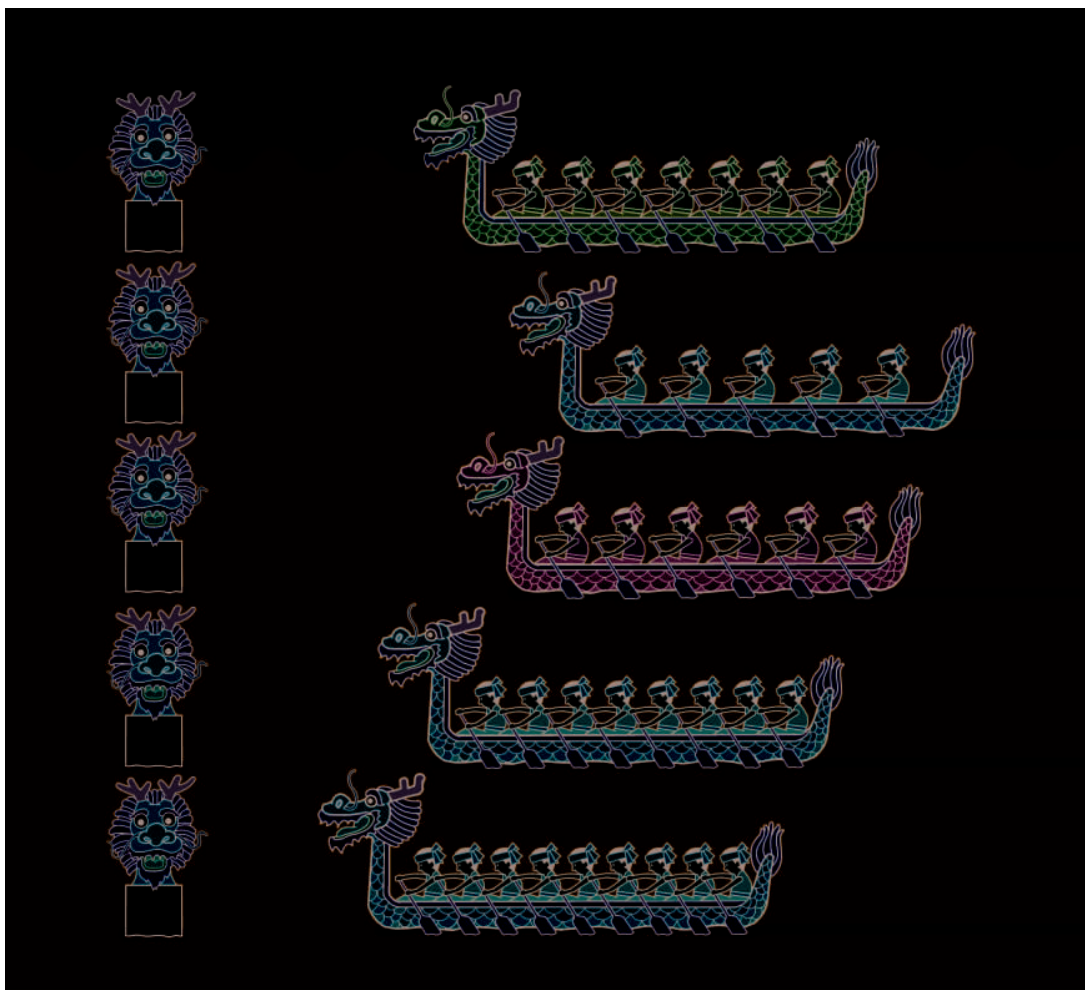
## 闪亮小明星

今天的任务完成得怎么样? 选择一个合适的图标, 给它涂上好看的颜色吧!



## 数字练习（三）

**智力弯弯绕** 过端午,划龙舟,大家用力划呀划。请数一数,每条龙舟上有几个队员? 在终点站的龙头上写上数字,再说说哪条龙舟最快。




### 闪亮小明星


今天的任务完成得怎么样? 选择一个合适的图标, 给它涂上好看的颜色吧!

# 单双数（一）

**脑筋碰碰车** 妈妈有一串漂亮的珍珠项链。请你按照示范，给单数的珍珠涂上漂亮的颜色。



**智力弯弯绕** 丁丁和兰兰在玩数字牌。请你找出双数的数字牌，给它们涂上漂亮的颜色。



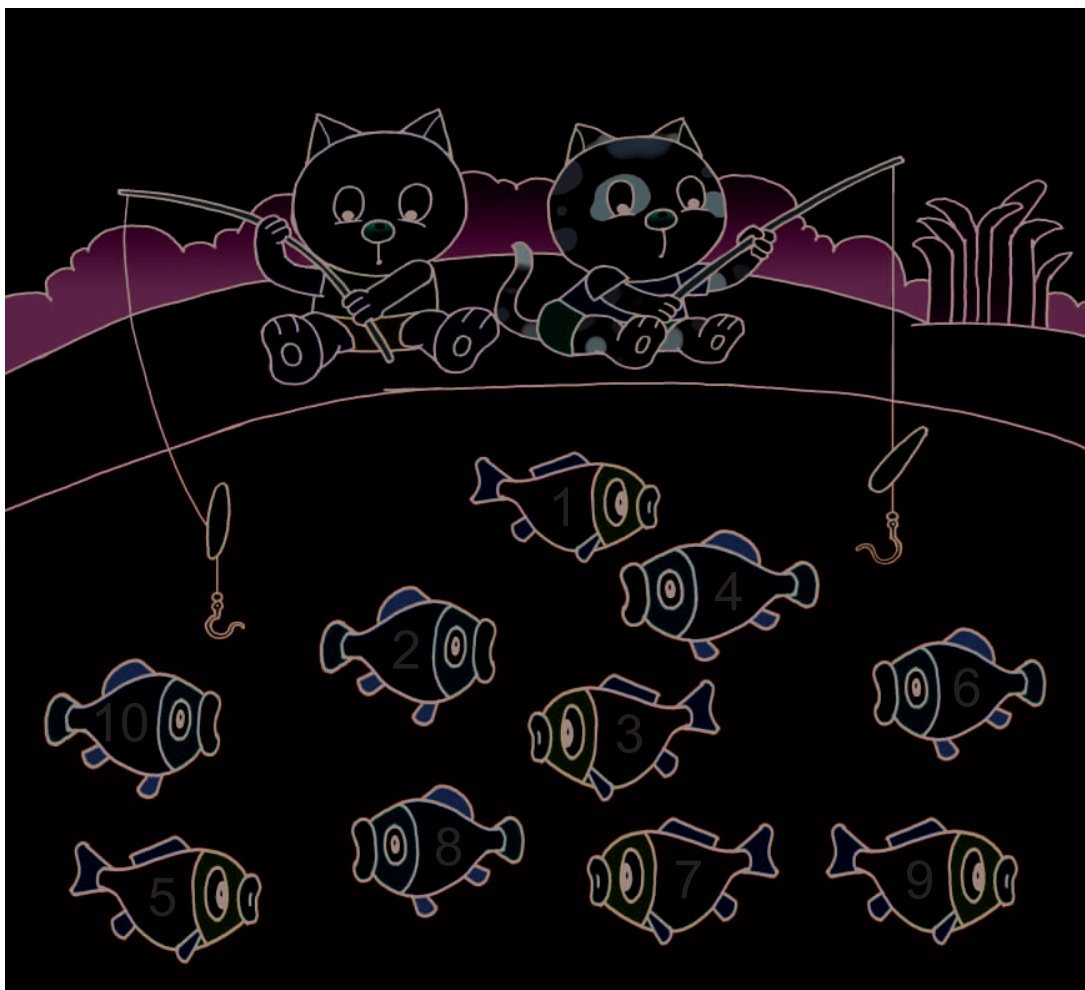
## 闪亮小明星

今天的任务完成得怎么样？选择一个合适的图标，给它涂上好看的颜色吧！



## 单双数（二）

**脑筋碰碰车** 两只小猫在钓鱼。请你把单数鱼连到小花猫的钓钩上，把双数鱼连到小黄猫的钓钩上。



### 闪亮小明星

今天的任务完成得怎么样？选择一个合适的图标，给它涂上好看的颜色吧！

## 相邻数（一）

**智力弯弯绕** 呜——火车开来啦！小鸭、小熊、小狗和小袋鼠拿着火车票准备上车。想一想，它们应该上哪节车厢呢？用线连一连。




## 闪亮小明星

今天的任务完成得怎么样？选择一个合适的图标，给它涂上好看的颜色吧！



## 相邻数（二）

**脑筋碰碰车** 把格子里缺少的数字补齐,就能得到一个大奖杯。快来试试吧!



### 闪亮小明星

今天的任务完成得怎么样? 选择一个合适的图标, 给它涂上好看的颜色吧!

## 认识符号“+”

**数字魔法屋** 糖果屋里，小狐狸正在整理糖果呢！请你想一想，在方框里填上什么符号，左边糖果的数量才等于右边糖罐上写的数字？

## 闪亮小明星

今天的任务完成得怎么样？选择一个合适的图标，给它涂上好看的颜色吧！



## 认识符号“-”

数字魔法屋 小动物们来了又走了。请你想一想,在方框里应该填什么符号,才能使算式成立?



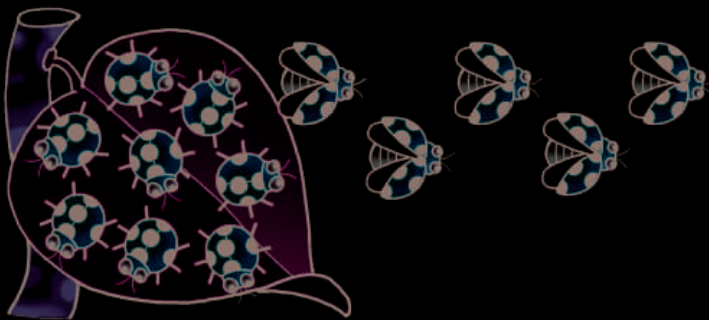
$$2 \square 1 = 1$$



$$3 \square 2 = 1$$



$$5 \square 3 = 2$$



$$8 \square 5 = 3$$



## 闪亮小明星

今天的任务完成得怎么样? 选择一个合适的图标, 给它涂上好看的颜色吧!

## 认识符号“=”

数字魔法屋 看一看,左边和右边相等吗? 如果相等,请在中间的方框里填上“=”。



8



10





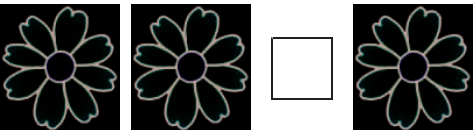



## 闪亮小明星

今天的任务完成得怎么样? 选择一个合适的图标, 给它涂上好看的颜色吧!



# 认识符号“>”

**数字魔法屋** 比一比,左边和右边哪个多?请在中间的方框里填上合适的符号。

$7 \square 5$	
	$3 \square 1$
	
	

**智力弯弯绕** 想一想,怎样才能让左边的圆点数大于右边的圆点数?



## 闪亮小明星

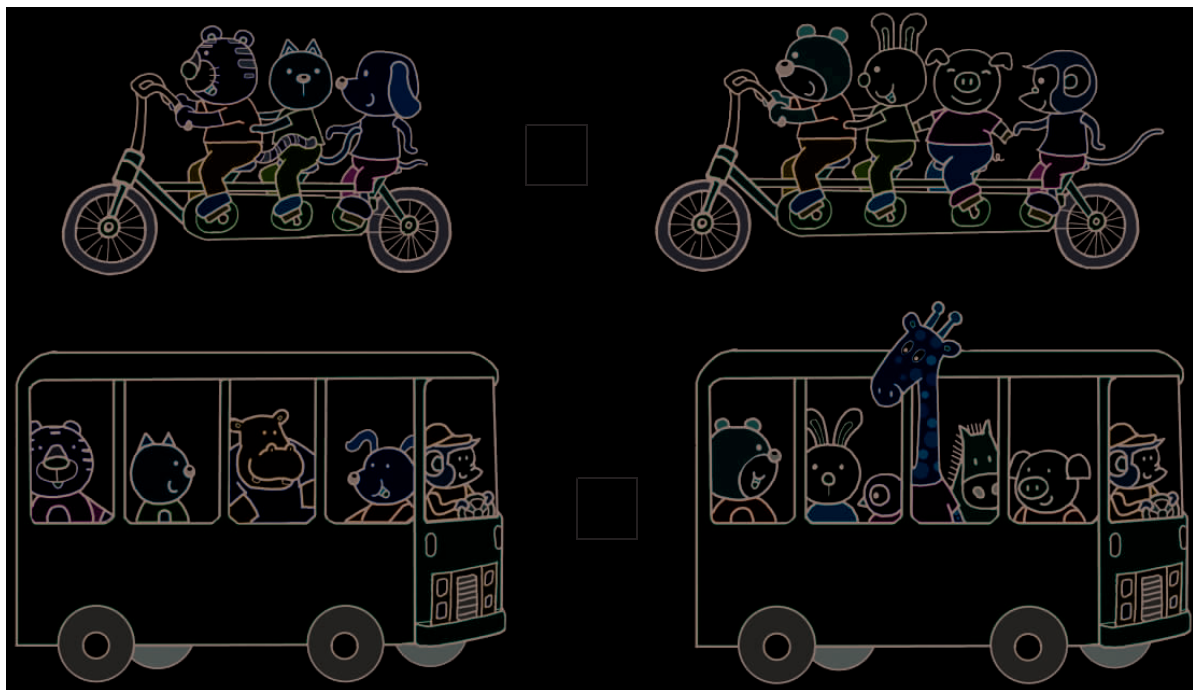
今天的任务完成得怎么样?选择一个合适的图标,给它涂上好看的颜色吧!

## 认识符号“&lt;”

**数字魔法屋** 符号“<”表示什么意思？看了下面的图你就会明白了。请你也来写一写这个符号吧！



**智力弯弯绕** 比一比，哪边的小动物多？请在方框里填上合适的符号。



## 闪亮小明星

今天的任务完成得怎么样？选择一个合适的图标，给它涂上好看的颜色吧！

