

宁夏 2011 年中考模拟冲刺卷(一)

历史试卷(30 分)

总分	一题	二题	三题	复核人

得分	评卷人

一、选择题(本大题共 6 小题,每小题 2 分,共 12 分。各选项中,只有一项是正确的,请把正确选项的字母填写在括号内)

1. 下列内容中,发生在中国人民政治协商会议第一届全体会议期间的有 ()
- ①制定了《中华人民共和国宪法》②通过的《共同纲领》起了临时宪法的作用③选举产生了中华人民共和国中央人民政府委员会④决定在首都天安门广场建立一座人民英雄纪念碑
- A. ①②③ B. ①②④ C. ①③④ D. ②③④
2. 同学们为开展研究性学习搜集了以下图片资料,这些资料共同反映的学习主题是 ()



黄继光



邱少云



彭德怀



跨过鸭绿江

- A. 八路军将士抗击日本侵略者的斗争 B. 解放战争时期的英雄人物
- C. 抗美援朝志愿军的爱国主义和革命英雄主义事迹 D. 人民解放军进军西藏
3. 下列内容中,发生在 1958 年的有 ()
- ①党中央通过了“鼓足干劲、力争上游、多快好省地建设社会主义”的总路线②中国共产党第八次全国代表大会召开③大庆油田建成投产④开展了“大跃进”和人民公社化运动
- A. ①② B. ①④ C. ②③ D. ③④
4. 在一节“宁夏回族自治区 50 年变迁”的讨论课中,同学们列举的史实有:①西部大开发促进宁夏经济发展的统计数据②宁夏教育快速发展,实现了基本普及九年义务教育③宁夏成为我国五个省级民族自治区之一④宁夏主办了第七届全国少数民族运动会⑤人民解放军解放宁夏。你认为以上史实与讨论主题相一致的有 ()
- A. ①②③④ B. ①②③⑤ C. ①②④⑤ D. ②③④⑤
5. 1997 年 7 月 1 日 0 时整,全国各族人民的欢呼声震荡着神州大地,这是为了庆祝 ()
- A. 中国对香港恢复行使主权 B. 中国对澳门恢复行使主权
- C. 北京申办 2008 年奥运会成功 D. 中国载人飞船“神舟五号”发射成功
6. 通过对比自己与父辈孩童时的生活状况,同学们深刻感受到改革开放前后人们生活方式发生的巨大变化,下列内容中不属于父辈们孩童时代的生活状况有 ()
- ①购物需要各类票证 ②上小学、初中不交纳学杂费 ③使用复读机和学习机等学习用具
- ④学校开设了信息技术课程 ⑤去银川的汽车奔驰在高速公路上

得分	评卷人

二、材料题(8 分)

7. 阅读材料:20 世纪 60 年代中期,毛泽东错误地认为共产党内产生了“走资本主义道路的当权派”,党和国家已面临资本主义复辟的危险。林彪、江青一伙野心家利用和助长了毛泽东的错误。1966 年 5 月,中共中央政治局扩大会议发出《五一六通知》,中共八届十一中全会通过了《关于无产阶级文化大革命的決定》。毛泽东在北京先后 8 次接见红卫兵和群众,红卫兵运动迅猛发展。1967 年 1 月,上海造反派组织,夺取了上海市的党政大权。中央各部门到地方各级党政机关,各行各业乃至军队,都被卷入夺权风暴中。许多地方发生武斗,党政领导机关陷于瘫痪,学校停课,大学不招生,全国处于极度混乱之中。1968 年,国家主席刘少奇被错误地开除出党和撤销党内外一切职务。人民代表大会制度形同虚设,各级人民代表大会被迫停止了活动。国民经济形势迅速恶化,经济工作机构瘫痪,许多工矿企业处于停产、半停产状态,交通运输堵塞,市场供应紧张。国民经济破坏严重,损失约 5000 亿元。1971 年,林彪反党集团被彻底粉碎。1976 年 10 月,中央政治局一举粉碎“四人帮”。

——摘自岳麓书社《中国历史》

回答:

- (1)分析材料,概括指出“文化大革命”发动的原因。(2 分)
- (2)依据材料,概括地列举出“文化大革命”经历过程的知识要点。(要求:不能抄材料原文,表达简炼)(4 分)
- (3)分析材料,联系所学知识,说说“文化大革命”给国家和人民带来的严重灾难。(2 分)

得分	评卷人

三、问答题(10 分)

8. 从一九四九年十月中华人民共和国成立到一九五六年,……党确定的指导方针和基本政策是正确的,取得的胜利是辉煌的。

——《中国共产党中央委员会关于建国以来党的若干历史问题的决议》

回答:

- (1)列举新中国成立初期党和人民政府为了巩固新生人民政权采取的重大措施。(3 分)
- (2)分别简述 1953—1956 年间党领导人民取得辉煌胜利的重要史实和历史意义。(6 分)
- (3)联系所学知识,请你谈谈新中国建立后到 1956 年间我国取得辉煌胜利的根本原因。(1 分)

地理试卷(30分)

总分	一题	二题	复核人

得分	评卷人

一、单项选择题:本题共有6道小题,每小题2分,共12分(每小题只有一个选项符合题目要求,请把选定答案前面的字母填在题干后的括号内)

1. 下列国家中,与我国领土最北端接壤的国家是 ()

A. 朝鲜
B. 哈萨克斯坦

C. 俄罗斯
D. 蒙古

2. 下列各组行政区中,属于同一级别的是 ()

A. 香港特别行政区、深圳市
B. 宁夏回族自治区、山东省

C. 西双版纳傣族自治州、贵州省
D. 广西壮族自治区、成都市

3. 黄河、长江共同流经的省级行政区和地形区是 ()

A. 青海和青藏高原
B. 四川和四川盆地

C. 西藏和青藏高原
D. 青海和黄土高原

4. 下列工业中心位于长江中游的是 ()

A. 南京
B. 武汉

C. 重庆
D. 攀枝花

5. 我国家用电器、服装、儿童玩具等生活用品的主要产地是 ()

A. 沪宁杭地区
B. 京津唐地区

C. 珠江三角洲地区
D. 辽中南地区

6. 汶川“5·12”特大地震发生后,一批承担心理救助任务的志愿者要从上海迅速赶往成都,他们应选择的最佳交通运输方式是()

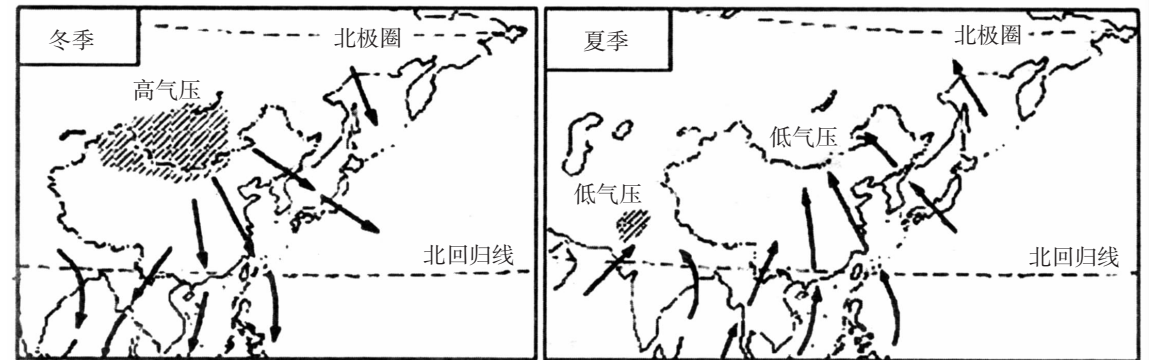
A. 公路运输
B. 铁路运输

C. 内河运输
D. 航空运输

得分	评卷人

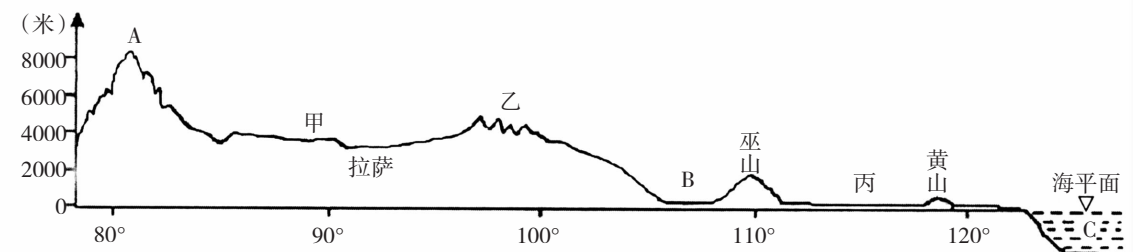
二、读图题(本题有2小题,共18分)

7. (6分)读“影响我国的冬、夏季风分布示意图”,回答下列问题。(6分)



- (1) 由于我国位于_____大陆与_____洋之间,巨大的海陆热力差异使大部地区一年内的风向随季节有显著变化,形成了典型的季风气候。
- (2) 冬季,来自_____ (填国家名称)和西伯利亚一带的偏北风,加强了我国绝大部分地区气温_____ (选填“升高”或“降低”)的程度。
- (3) 夏季,来自海洋的偏_____风携带了丰沛的水汽,在我国季风区形成了大量的_____ (选填“降雨”或“降雪”)。

8. 读“我国东西向(沿30°N纬线)地形剖面图”,完成下列要求。(12分)



- (1) 在剖面图上适当位置用线段和文字分别标注出我国地势一、二、三级阶梯的范围。
- (2) 图中A处是_____山脉,B处是_____盆地,C处是_____海。
- (3) 按照“因地制宜”发展农业(包括种植业、畜牧业、林业、渔业)的基本原则,图中:

甲地形区适宜发展_____业,理由是_____ ;

乙地形区适宜发展_____业,理由是_____ ;

丙地形区适宜发展_____业,理由是_____ 。

生物试卷(30分)

总分	一题	二题	三题	复核人

得分	评卷人

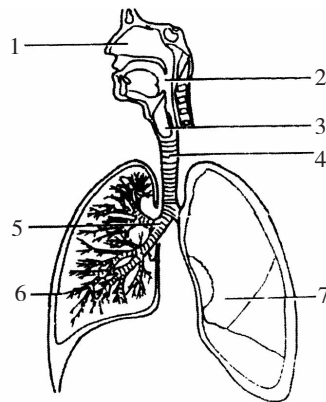
一、选择题(选出唯一符合题意答案的序号填在题后括号内。每小题2分,共12分。)

1. 下列关于青春期生理及心理卫生保健的叙述,正确的是 ()
 - A. 青春期发育的突出特征是血压显著升高
 - B. 青春期应特别注意营养,少参加文体活动
 - C. 月经对女生来说是一件倒霉透顶的事
 - D. 频繁遗精对男生健康是不利的
2. 消化系统中不与食物直接接触的消化器官是 ()
 - A. 口腔
 - B. 胃
 - C. 肝脏
 - D. 大肠
3. 人们保持呼吸系统健康的有效方法之一是 ()
 - A. 每次饭后一支烟
 - B. 远离烟草,坚持体育锻炼
 - C. 吸烟后及时漱口
 - D. 在公共场所吸烟
4. 对人体血液循环的叙述,正确的是 ()
 - A. 体循环和肺循环是同时进行的
 - B. 体循环是从右心房和右心室开始的
 - C. 血液在心脏和全身动脉血管中进行循环流动
 - D. 肺循环是从左心室开始到右心房为止的循环途径
5. 从青少年时期就要注意保护好身体的器官。下列做法有利于保护眼、耳的是 ()
 - ①平时躺着看书,定期检查视力
 - ②看书1小时后远眺几分钟
 - ③遇到巨大声响迅速张口,或闭嘴堵耳
 - ④经常用尖锐的器具挖耳朵
 - A. ①②
 - B. ②③
 - C. ③④
 - D. ①④
6. 为保护环境,减少污染,从2008年6月1日起我国实施“限塑令”。下列对保护环境不利的做法是 ()
 - A. 生活垃圾分类处理
 - B. 少用或不用一次性塑料袋
 - C. 开发使用清洁能源
 - D. 为减少“白色污染”多用纸制品

得分	评卷人

二、识图题(本题共6分,在[]内填图中标号,在横线上填相关内容)

7. 右图是人体呼吸系统组成示意图,据图回答:
 - (1)呼吸道中由许多软骨组成圆筒形管道,能保证气流畅通的圆筒形管道主要是[]_____。呼吸道不仅是气体的通道,它还能对吸入的气体进行处理,使气体变得温暖、_____、_____。
 - (2)呼吸道感染时,常并发中耳炎。病菌是经[]_____通过咽鼓管侵入中耳的。
 - (3)[]_____是呼吸系统的主要器官,其_____就发生在[6]的末端肺泡和它外面缠绕的毛细血管之间。



得分	评卷人

三、分析说明题(本大题共两小题,共12分)

8. (6分)我国将每年的5月20日定为“中国学生营养日”,以引导学生关注合理营养的要求,改正不良的饮食卫生习惯,健康地度过生长发育的关键时期。下表中一栏是某校七年级同学为自己设计的一日食谱;另一栏是营养师为中学生设计的一日食谱。分析回答:

	七年级某同学食谱	营养师推荐食谱
早餐	馒头2个	菜包2个,牛奶(或豆浆)200ml,苹果(或西红柿)1个
中餐	蛋炒饭1碗	拌黄瓜、青椒炒土豆丝、红烧牛肉、紫菜蛋汤、米饭2碗
晚餐	牛肉拉面1碗	放有青菜、胡萝卜、豆腐的面条1碗

- (1)分析上表的两份早餐食谱,能为人体提供能量的营养物质主要有_____、_____,它们经消化后主要在人体消化道的_____处被吸收的。
- (2)表中七年级某同学设计的食谱中缺少含_____类的营养物质,如果该同学长期以这样的食谱选择食物,对身体的影响是_____。(3)从营养师给出的食谱分析,合理膳食不仅要各种营养均衡,在饮食方式上还应做到_____。(写出一点即可)

得分	
----	--

9. (6分)5月12日四川省汶川发生特大地震,震后某校师生迅速展开了现场救援、急救活动。各地群众积极主动无偿献血。分析回答:

- (1)地震中某校张老师为营救学生而小腿受伤出血,血液呈暗红色,缓慢地不断流出,你判断张老师受伤的血管类型是_____,现场急救止血可用止血带(或布条)扎紧伤口的_____。(填:近心端或远心端)
- (2)从现场估计张老师损失血量约有200ml~300ml,他会有生命危险吗?_____。理由是_____。
- (3)张老师救出的一名学生伤势较重,急需输血,经检测该学生是A型血,最好给他输入_____型血,理由是_____。

得分	
----	--

宁夏 2011 年中考模拟冲刺卷(二)

历史试卷(30 分)

总分	一题	二题	三题	复核人

得分	评卷人

一、选择题(本大题共 6 小题,每小题 2 分,共 12 分。各选项中只有一项是正确的,请把正确选项的字母填写在括号内)

- 中国现代史是党领导全国各族人民进行社会主义现代化建设的历史,其开端是()

A. 1911 年辛亥革命 B. 1919 年五四运动

C. 1921 年中国共产党成立 D. 1949 年中华人民共和国成立
- 辽宁宽甸县农民给毛主席的一封信中说:“我们祖祖辈辈做梦都在想着有一天自己能有三亩、五亩的地,……现在这个梦想实现了。”这封信内容反映的历史背景是()

A. 全国农业合作化高潮 B. 土地改革运动

C. “大跃进”运动 D. 改革开放新时期
- “我国第一个五年计划取得了重大成就。”下列史实中可以证明这一结论的是()

①武汉长江大桥建成 ②开展了大炼钢铁的群众运动

③长春汽车制造厂、鞍山钢铁公司等重工业企业投产

④新藏、青藏、川藏公路及宝成铁路修通

A. ①②③ B. ①②④ C. ①③④ D. ②③④
- 在全面建设社会主义进程中,下列人物事迹共同体现的时代精神是()



王进喜



焦裕禄



雷 锋



邓稼先

- ①艰苦创业 ②全心全意为人民服务 ③同仇敌忾抗击侵略 ④国际主义人道主义
- A. ①② B. ①③ C. ②③ D. ③④

- 有关新中国成立六十周年成就展内容先后排序正确的是()

①西藏和平解放 ②基本完成农业、手工业和资本主义工商业的社会主义改造

③成功举办北京奥运会,积极筹办上海世博会

④党的十一届三中全会召开,实现伟大的历史转折

A. ①②③④ B. ②①③④ C. ①②④③ D. ③④②①

- 中国共产党第十五次全国代表大会的重大历史贡献是()

A. 形成了以邓小平为核心的党中央领导集体

B. 通过了《中国人民政治协商会议共同纲领》

C. 粉碎江青反革命集团,结束了“文化大革命”

D. 确立邓小平理论是改革开放和社会主义现代化建设的指导思想和光辉旗帜

得分	评卷人

二、材料题(本题共 8 分)

7. 材料题

材料一:我国农村长期实行的是集中管理,集中劳动,统一分配……。在所有制上表现为“一大二公”;在经营方式上是“单打一”、“瞎指挥”;在分配方式上是“大锅饭”。

——刘宗绪《历史学科专题讲座》

材料二:大包干,大包干,直来直去不拐弯。保证国家的,留足集体的,剩下都是自己的。

——农民歌谣

回答:

- 材料一反映的是二十世纪五十年代后期我国农村开始实行的_____制度。(2 分)
- 材料二反映的是十一届三中全会以来在我国农村实行的_____。(2 分)
- 联系所学知识,概括说明材料一和材料二内容对我国农村产生的不同影响(4 分)

得分	评卷人

三、问答题(本题共 10 分)

- 我国奉行社会主义独立自主的外交方针,倡导和坚持和平共处五项原则,维护世界和平,在国际事务中发挥越来越重大的积极作用。

回答:

- 指出和平共处五项原则的主要内容(4 分)
- 简述二十世纪七十年代我国对外关系取得的显著成就(4 分)
- 列举改革开放以来我国积极参与国际事务活动的具体事例(2 分)

地理试卷(30分)

总分	一题	二题	复核人

得分	评卷人

一、单项选择题:本题共有6道小题,每小题2分,共12分(每小题只有一个选项符合题目要求,请把选定答案前面的字母填在题干后的括号内)

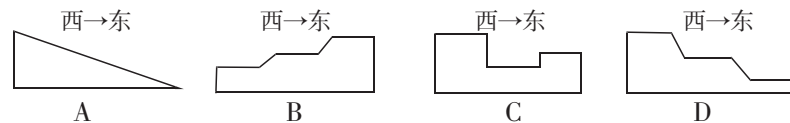
1. 下列四辆汽车的牌号中,属于宁夏相邻省级行政区的是 ()

浙F35785	甘A60254	晋B58321	豫D56089
A	B	C	D

2. 某校地理兴趣小组的同学经过查阅地图发现,宁夏由北到南所处的温度带和干湿区依次是 ()

- A. 中温带、干旱区→暖温带、半干旱区
- B. 中温带、半干旱区→暖温带、干旱区
- C. 暖温带、半干旱区→中温带、干旱区
- D. 暖温带、干旱区→中温带、半干旱区

3. “滚滚长江东逝水,浪花淘尽……”这句话反映了我国的地势特征是 ()



4. 我国高新技术产业主要分布在 ()

- A. 自然资源丰富的地区
- B. 科技实力雄厚的地区
- C. 交通运输便利的地区
- D. 劳动力密集的地区

5. 我国的四大牧区是指 ()

- A. 青、藏、甘、内蒙古
- B. 甘、青、藏、新
- C. 青、藏、新、内蒙古
- D. 陕、甘、宁、青

6. 我区某中学有几位同学打算利用暑假结伴从银川到上海参观世博园,若从确保旅途安全和减少交通费用方面考虑,他们应选择的交通方式是 ()

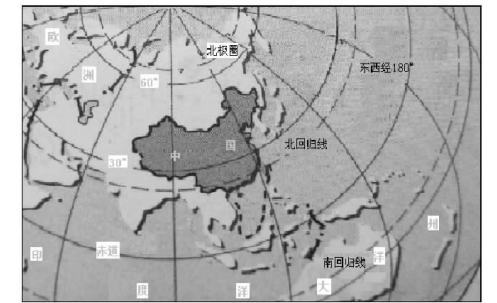
- A. 铁路运输
- B. 公路运输
- C. 航空运输
- D. 内河航运

得分	评卷人

二、读图题(本题有2小题,共18分)

7. 读中国地理位置示意图,回答下列问题。(8分)

(1)从南北半球看,我国位于____半球(南、北)。判断理由是由是_____。(2分)



中国地理位置示意图

(2)在图中适当位置填注我国所在大洲和濒临大洋的名称。由于这样的海陆位置,使我国东部地区自南到北依次形成了热带季风气候、_____带季风气候和_____带季风气候。(4分)

(3)按照低、中、高纬度地带的划分依据(<30°为低纬、30°-60°为中纬、>60°为高纬),我国大部分地区处在_____纬度地带(低、中、高),四季分明;少部分地区处在_____纬度地带(低、中、高),热量充足。(2分)

8. (10分)读长江干支流分布示意图,回答下列问题。



(1)如图所示的长江各大支流中,A是_____江,它位于长江的_____游(上、中、下);B是_____江,它流经我国重要的棉花生产基地。(3分)

(2)在图中相应位置填注长江沿岸工业城市武汉、重庆和南京的名称。(3分)

(3)图中甲地所在的地形区(名称)是_____,它是我国重要的甘蔗生产基地之一;乙地所在的地形区(名称)是_____,按照因地制宜发展农业的原则,该地应该发展业(种植、林、畜牧、水产),选择的理由是_____。(4分)

生物试卷(30分)

总分	一题	二题	三题	复核人

得分	评卷人

一、选择题(选出唯一符合题意答案的序号填在题后括号内。每小题2分,共12分)

1. 人体消化液中不含消化酶的是()。

A. 唾液 B. 胰液 C. 胆汁 D. 肠液
2. 下列血细胞与其功能相对应中,正确的一组是()。

A. 白细胞——止血和加速凝血 B. 血小板——吞噬病菌

C. 红细胞——运输氧气和部分二氧化碳 D. 红细胞——吞噬病菌
3. 下列哪一项不是呼吸道对空气的作用()。

A. 清洁空气 B. 温暖空气

C. 湿润空气 D. 杀死空气中的细菌
4. 人在平静状态下完成呼气过程,胸廓容积和肺内气压的变化是()。

A. 容积缩小、气压升高 B. 容积缩小、气压下降

C. 容积增大、气压升高 D. 容积增大、气压下降
5. 分别取某健康人的血浆、原尿和尿液进行成分分析,发现某种物质在尿液中没有、在血浆和原尿中都有且含量几乎相等,则该物质是()。

A. 蛋白质 B. 葡萄糖 C. 水 D. 尿素
6. 保护好眼、耳有利于青少年准确地获取信息。下列有关眼或耳的说法正确的是()。

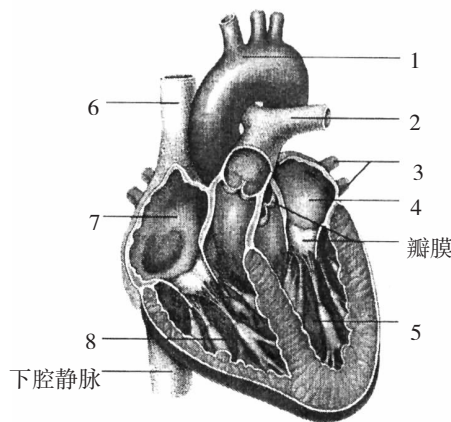
A. 人的视觉是在视网膜形成的 B. 近视眼可配戴凸透镜加以矫正

C. 人的外耳道上有听觉感受器 D. 鼻咽部有炎症时可引起中耳炎

得分	评卷人

二、识图题(在[]内填图中标号,在横线上填相关内容。共6分)

7. 右图是人体心脏及所连血管的解剖图。据图回答:
- (1)心脏壁最厚的腔是[]_____ ,与它相连的血管是[]_____。[3]是_____ ,管内流动的是_____血。
 - (2)人有时需从臀部肌肉注射某种药物,若跟踪检测,则在心脏的[]_____最先发现这种药物。
 - (3)当房室瓣关闭、动脉瓣打开时,心脏的房室舒缩状态为_____。



得分	评卷人

三、分析说明题(本大题共两小题,共12分)

8. (7分)下面是同学们喜爱喝的某种品牌酸牛奶外包装上提供的产品说明及营养成分表。分析回答:

产品类别:全脂调味加铁酸牛奶 配料:鲜牛奶≥85%、白砂糖、乳清蛋白、保加利亚乳杆菌、嗜热链球菌、双歧杆菌、嗜酸乳杆菌、增稠剂、食用香料 产品标准号:GB2746 贮存方法:2℃-6℃冷藏存放 生产日期:2010年6月26日 保质期:21天 消费者热线:80080533□□ 制造商:□□市乳业有限公司 地址:□□市□□路539号 网址:http://www.mnsnn.com	本企业通过ISO9001质量管理体系认证 食品生产许可证号:QS6400 0501 11□□ <table border="1" style="width: 100%; border-collapse: collapse; text-align: center;"> <tr> <th colspan="2">营养成分:每100克产品中</th> </tr> <tr> <td>能量≥236千焦</td> <td>蛋白质≥2.8克</td> </tr> <tr> <td>脂肪≥2.9克</td> <td>糖类≥3.4克</td> </tr> <tr> <td>铁≥56毫克</td> <td>钙≥93毫克</td> </tr> </table> 净含量:180克	营养成分:每100克产品中		能量≥236千焦	蛋白质≥2.8克	脂肪≥2.9克	糖类≥3.4克	铁≥56毫克	钙≥93毫克
营养成分:每100克产品中									
能量≥236千焦	蛋白质≥2.8克								
脂肪≥2.9克	糖类≥3.4克								
铁≥56毫克	钙≥93毫克								

- (1)在购买带外包装的食品时,需关注外包装上提供的营养成分、生产厂家、厂家地址以及_____、_____等信息。(答出两项即可)
 - (2)该酸奶中的钙、铁属于_____类营养物质,可促进青少年正常的生长发育。如果儿童时期体内缺钙,易患_____。
 - (3)酸奶中的蛋白质最早是在人体消化道的_____处开始被消化的,其彻底消化后被吸收的场所是_____。
 - (4)酸奶在人体内代谢后产生的废物,是通过皮肤、_____系统和泌尿系统排出体外的。
9. (5分)2010年元月,我区某中学七年级二班学生出现了5名甲型H1N1流感患者,学校采取了如下措施:①将这5名学生送指定医院隔离治疗;②要求学生避免用不干净的手触摸口、鼻;③对与5名患者有密切接触的学生进行医学观察;④要求学生坚持体育锻炼,进食有营养的食物,保证睡眠;⑤教室经常开窗通风、及时清扫、定期消毒;⑥分批给学生接种相应的疫苗。
- 分析回答:
- (1)甲型H1N1流感病毒是引起该传染病的_____。
 - (2)在学校采取的措施中,属于控制传染源的是_____;属于切断传播途径的是_____;属于保护易感人群的是_____。(以上三空填题干中编号即可)
 - (3)夏季是肠道传染病的高发季节,请你对同学或家人从有效预防方面提出一个具体建议。
_____。

宁夏 2011 年中考模拟冲刺卷(三)

历史试卷(30 分)

总分	一题	二题	三题	复核人

得分	评卷人

一、选择题(本题共有 6 小题,每小题 2 分,共 12 分。各选项中只有一项是正确的,请把正确选项的字母填写在括号里)

- 1950~1951 年发生的与我国西藏有关的重大事件有()。

①人民解放军发起昌都战役,沉重打击了西藏上层反动势力 ②中央人民政府与西藏地方政府达成和平解放西藏的协定 ③人民解放军进驻拉萨 ④西藏自治区正式成立

A. ①②③ B. ①②④ C. ①③④ D. ②③④
- 下列对新中国成立以来农村实行土地所有制的排序正确的是()。

①全国土地改革完成,土地归农民个人所有 ②人民公社化运动,强化了土地集体所有制 ③家庭联产承包责任制的实施,使土地在公有制基础上长期包给各户农家使用 ④农业合作化完成,土地归集体所有

A. ①②③④ B. ①③④② C. ①④②③ D. ②③④①
- 王斌同学在讨论中引用了下列材料:“人有多大胆,地有多大产。”“粮食亩产 10 万斤,一颗白菜重 250 斤,一个萝卜重千斤。”他联系所学知识,分析得出“这是‘大跃进’和人民公社化运动时出现的浮夸风现象”的判断,并进而得出“‘大跃进’和人民公社化运动是我国探索建设社会主义道路中的一次严重失误”的结论。你对王斌同学学习方法和学习效果的评价是()。

A. 引用真实的材料,联系所学知识,分析形成正确的判断,得出正确结论
B. 引用真实的材料,联系所学知识,分析与形成的判断不一致,得出的结论错误
C. 引用材料不存在,无依据发表评论,形成的判断错误,得出的结论错误
D. 引用材料有力论证了所形成的正确判断,但得出的结论错误
- “中国代表团是来求团结的,而不是来吵架的。我们是来求同,而不是来立异的。”与这句名言相关的是()。

A. 1974 年邓小平在联合国大会上的发言
B. 2009 年温家宝在中欧合作会议上的发言
C. 1955 年周恩来在万隆会议上的发言
D. 2001 年江泽民在上海“亚太经合组织”会议上的发言
- 2009 年 4 月,中国人民解放军在青岛举行大型阅兵活动,这是为了庆祝()。

A. 中国人民解放军空军建立六十周年
B. 中国人民解放军战略导弹部队建立六十周年
C. 中国人民解放军建军八十周年
D. 中国人民解放军海军建立六十周年

- 20 世纪 90 年代以后,国有大中型企业改革的主要内容是()。

A. 实行计划经济管理模式 B. 进行公司制、股份制改革
C. 完全实行资产私有制 D. 大力推进政企合一

得分	评卷人

二、材料题(本题共 8 分)

7. 材料一:……我国在社会主义改造和社会主义建设两个方面都取得了巨大的成就。我国社会经济结构和国民经济面貌已经发生了重大的变化。……社会主义改造的任务,已经在 1956 年基本完成了。生产关系这种根本的变化,为我国社会生产力开辟了迅速发展的道路。

材料二:我国 1952 年钢产量 135 万吨,发电量 726 亿度,煤炭 6649 万吨,原油 436 万吨,棉布 383 亿公尺。1957 年钢产量 535 万吨,发电量 193 亿度,煤炭 13000 万吨,原油 146 万吨,棉布 505 亿公尺。1957 年比 1952 年钢增长 296%,发电量增长 166%,煤炭增长 96%,原油增长 235%,棉布增长 32%。

——以上材料均选自 1959 年 4 月 14 日《人民日报》

回答:

- (1)联系所学知识。简要说出材料一中“我国在社会主义改造和社会主义建设两个方面都取得了巨大的成就”的内容。(4 分)请列举出两个当时建立,并长期在社会主义建设中发挥重要作用的企业名称。(2 分)

- (2)你认为依据材料二的内容能够证明材料一中的哪些历史结论?(概括表达)(1 分)

- (3)请你把材料二的数据编制成易于对比分析的表格。(要求:简明清晰,有表格名称)(1 分)

得分	评卷人

三、问答题(本题共 10 分)

8. 对外开放是党的十一届三中全会的重大决策。经过 20 多年的实践,在全国范围内基本形成了全方位、多层次、有重点、梯度推进的对外开放的格局。

回答:

- (1)党的十一届三中全会是于何时何地召开的?简述会议的主要内容和重要意义。(5 分)

- (2)联系所学知识,概括说明我国对外开放格局形成的过程。(要求:层次清楚,表达精炼)(4 分)

- (3)列举一个实例,说明改革开放以来家乡经济社会发生的巨大变化。(1 分)

地理试卷(30分)

总分	一题	二题	复核人

得分	评卷人

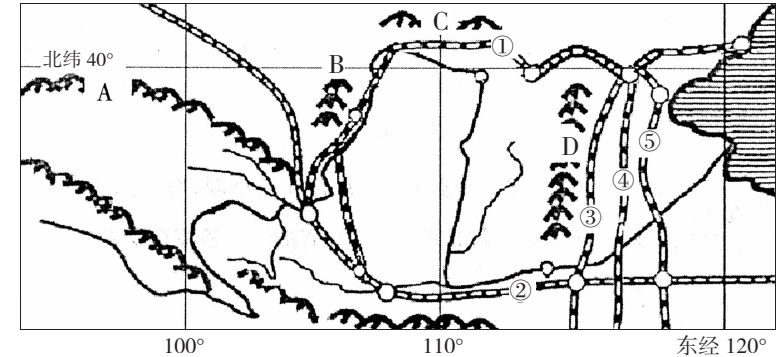
一、单项选择题(本题共有6道小题,每小题2分,共12分)

1. 下列有关我国地理位置的正确叙述是()。
 - A. 位于西半球和北半球
 - B. 大部分在中纬度,小部分在高纬度
 - C. 位于亚欧大陆东部,太平洋西岸
 - D. 大部分位于温带,小部分在寒带
2. 下列各组省级行政区中,濒临我国两个海域的是()。
 - A. 辽宁省、河北省
 - B. 天津市、山东省
 - C. 上海市、浙江省
 - D. 福建省、台湾省
3. 下列地形区的河流,既有注入印度洋的,又有注入太平洋的是()。
 - A. 青藏高原
 - B. 塔里木盆地
 - C. 准格尔盆地
 - D. 四川盆地
4. 下列各组地理事物中,能够沿一定方向并按实际分布顺序排列的是()。
 - A. 香港、澳门、台湾
 - B. 阴山、秦岭、南岭
 - C. 亚热带、寒温带、暖温带
 - D. 长江、淮河、珠江
5. 我国的动植物种类非常丰富,主要是因为()。
 - A. 山区面积广大
 - B. 平原面积辽阔
 - C. 季风气候显著
 - D. 气候复杂多样
6. 从银川沿包兰线—中宝线—陇海线—京广线到广州经过的城市中,既是接近棉花产地的棉纺织工业基地,又是重要水陆交通枢纽的是()。
 - A. 西安
 - B. 郑州
 - C. 武汉
 - D. 长沙

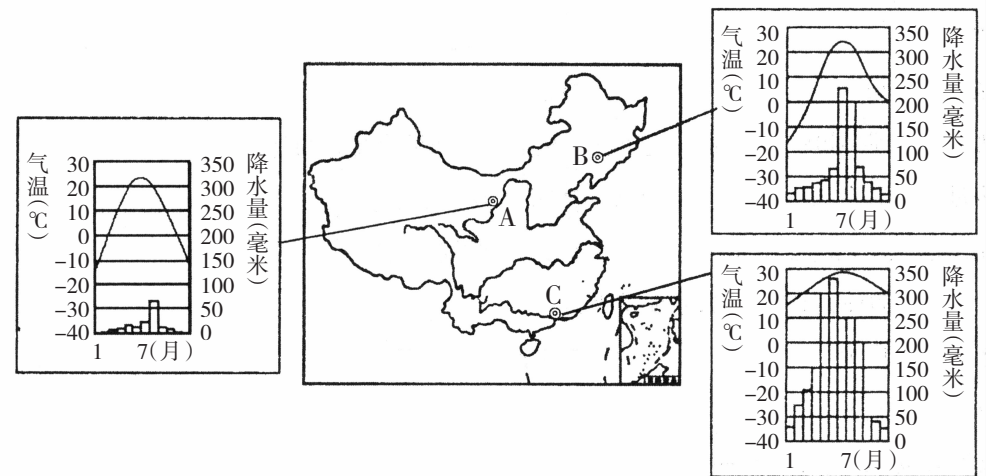
得分	评卷人

二、读图题(本题有2小题,共18分)

7. 读黄河流域略图,完成下列要求。(8分)



- (1) 在图中黄河干流适当位置用“//”分别画出黄河上游与中游、中游与下游的分界点。(2分)
 - (2) 图中A、B、C、D四列山脉中,_____山脉是我国地势一、二级阶梯的分界,_____山脉是二、三级阶梯的分界,_____山脉是我国季风区与非季风区的分界。(均填字母)(3分)
 - (3) 图中①②③④⑤五条铁路线中,东起连云港成为“亚欧大陆桥”一部分的是_____号线;通往香港的是_____号线;银川至北京路程最短的是_____号线。(均填序号)(3分)
8. 根据我国部分省级行政中心城市的位置及其气候资料,回答下列问题。(10分)



- (1) 图中三个省级行政中心城市中,A是_____市,B是_____市,C是_____市。(3分)
- (2) 在我国各干湿区中,A市地处_____区,C市地处_____区;在我国各温度带中,B市地处_____带。(3分)
- (3) 以上三个城市的降水状况,反映了我国各地区年降水量的多少差异很大,总体分布规律是_____。(2分)
- (4) 从气候条件考虑,A、B、C三市所在地区中,最适宜种植水稻的是_____市所在地区,理由是_____。(2分)

生物试卷(30分)

总分	一题	二题	三题	复核人

得分	评卷人

一、单项选择题(本题共有6道小题,每小题2分,共12分)

1. 在 ABO 血型系统中,下面四种输血方案最佳的是()。

A. O 型血输给 A 型血患者 B. O 型血输给 AB 型血患者

C. O 型血输给 B 型血患者 D. AB 型血输给 AB 型血患者
2. 某人用尖锐的器具掏挖“耳屎”,不小心戳穿某结构导致耳聋。该结构可能是()。

A. 耳廓 B. 咽鼓管 C. 鼓膜 D. 半规管
3. 人体呼吸道具有净化空气的作用。下列能使吸入的气体变清洁的结构有()。

①鼻毛 ②声带 ③气管的内表面覆盖着有纤毛的黏膜 ④鼻黏膜 ⑤会厌软骨

A. ①②⑤ B. ①③④ C. ②③④ D. ③④⑤
4. 血液流经肾脏后,发生的主要变化是()。

A. 氧气增加 B. 养料增加 C. 尿素减少 D. 二氧化碳减少
5. 下列哪项与肺泡完成气体交换无直接关系()。

A. 肺泡虽小,数目很多 B. 肺泡外缠绕着毛细血管

C. 肺泡壁由一层细胞构成 D. 支气管入肺后反复分支
6. 食品安全、卫生与人体健康密切相关。从 2009 年 6 月 1 日起,新的《食品安全法》正式实施。下列做法符合食品安全、卫生的是()。

A. 不吃街头贩卖的、没有卫生许可证的食品

B. 把霉变大米淘洗干净后做成米饭,继续食用

C. 为增加牛奶中蛋白质的含量,加入三聚氰胺

D. 购买食品只关注营养成分,不用看保质期

得分	评卷人

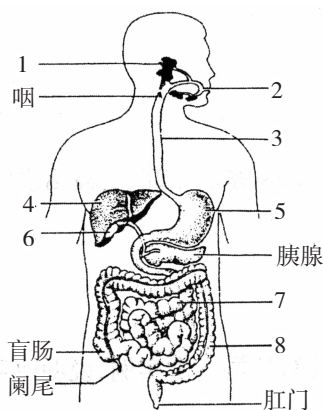
二、识图题(本题共5分,在[]内填图中标号,在横线上填相关内容)

7. 右图为人体的消化系统组成示意图。据图回答:

(1)细嚼米饭一会儿,感觉有点甜味,这是因为[]_____中有_____分泌的消化液,分解了米饭。米饭经消化后的营养成分是由[]_____吸收的。

(2)当[]_____分泌的胆汁不足时,将影响肥肉的消化。

(3)只能对部分蛋白质进行初步消化的器官是[]_____。



得分	评卷人

三、分析说明题(本题共13分)

8. (7分)某校高三学生进行体检后,发现部分同学被检测指标出现异常(-表示无,+表示少量,++表示大量)。据下表分析回答:

样品	检测项目	部分学生检测结果			正常参考值范围
		甲	乙	丙	
尿检	葡萄糖	-	-	-	-
	蛋白质	++	-	-	-
	红细胞	+	-	-	-
	水	95	96	95	95~97(g / 100mL)
	无机盐	1.4	1.2	1.5	0.9~1.6(g / 100mL)
	尿素	1.9	1.8	2.0	1.8~2.0(g / 100mL)
血检	白细胞	6.8	5.3	13.0	5.0~10.0($\times 10^9$ 个 / L)
	红细胞	4.8	3.0	5.1	3.5~5.5($\times 10^{12}$ 个 / L)
	血红蛋白	130	80	140	110~160(g / L)

- (1)正常尿液中除了大量水外,主要还有_____和_____。
- (2)甲的尿检中出现了_____和红细胞,如果是肾脏有病变,那么可能的部位是肾脏的_____处。
- (3)医生依据乙血检中红细胞和血红蛋白的数值都偏低,判断他可能患有_____。从平时的饮食方面,你给他的建议是_____。
- (4)丙自述体检时扁桃体发炎,至今“嗓子”还疼。血检显示_____,说明炎症仍存在,还需继续治疗。

9. (6分)流行性感冒是常见传染病,是病原体侵染人体呼吸道引起的。症状是发热、头痛、咳嗽、打喷嚏、全身酸痛等。一旦出现流行性感冒病人,在人口密集的地方极易传播,在短时间内迅速蔓延。分析回答:

- (1)流行性感冒能在人群中传播,它具有_____和_____等特点。试举一例说明流行性感冒的可能传播途径_____。
- (2)从传染病的预防措施看,医生对流行性感冒患者进行打针、吃药等具体治疗属于_____;健康人应加强体育锻炼,提高自身免疫力属于_____。
- (3)从切断传播途径的角度,制定一条在教室内预防传染病的具体措施:_____。