

南 通 名 卷

高中地理

(必修2)
(2006)

南通名师编写组 编



北京大学出版社
PEKING UNIVERSITY PRESS

凤凰出版传媒集团



江苏教育出版社
JIANGSU EDUCATION PUBLISHING HOUSE

图书在版编目(CIP)数据

南通名卷. 高中地理. 必修2/南通名师编写组编. —北京: 北京大学出版社; 南京: 江苏教育出版社, 2006. 1

ISBN 7-301-10111-2

I. 南... II. 南... III. 地理课-高中-习题 IV. G634

中国版本图书馆 CIP 数据核字(2005)第 132766 号

书 名: 南通名卷·高中地理·必修2(2006)

著作责任者: 南通名师编写组 编

责任编辑: 李淑方

标准书号: ISBN 7-301-10111-2/G·1765

出版发行: 北京大学出版社(北京市海淀区成府路 205 号 100871)

凤凰出版传媒集团

江苏教育出版社(南京市马家街 31 号 210009)

网 址: <http://cbs.pku.edu.cn>

电 话: 邮购部 62752015 发行部 62750672 编辑部 62767346

电子信箱: zyl@pup.pku.edu.cn

排 版 者: 北京高新特打字服务社 82350640

印 刷 者:

经 销 者: 新华书店

787 毫米×1092 毫米 16 开本 7.5 印张 150 千字

2006 年 1 月第 1 版 2006 年 1 月第 1 次印刷

定 价: 8.30 元

目 录

第一部分 高中地理(必修2)单元练习

第一章 人口与环境 A 卷	(1)
第一章 人口与环境 B 卷	(9)
第二章 城市与环境 A 卷	(17)
第二章 城市与环境 B 卷	(25)
期中考试 A 卷	(33)
期中考试 B 卷	(41)
第三章 区域产业活动 A 卷	(49)
第三章 区域产业活动 B 卷	(57)
第四章 人类与地理环境的协调发展 A 卷	(65)
第四章 人类与地理环境的协调发展 B 卷	(73)
期末考试 A 卷	(85)
期末考试 B 卷	(93)

第二部分 参 考 答 案

第一章 人口与环境 A 卷答案	(105)
第一章 人口与环境 B 卷答案	(106)
第二章 城市与环境 A 卷答案	(107)
第二章 城市与环境 B 卷答案	(108)
期中考试 A 卷答案	(108)
期中考试 B 卷答案	(109)

第三章 区域产业活动 A 卷	(111)
第三章 区域产业活动 B 卷	(112)
第四章 人类与地球环境的协调发展 A 卷答案	(113)
第四章 人类与地球环境的协调发展 B 卷答案	(114)
期末考试 A 卷答案	(114)
期末考试 B 卷答案	(116)

第一部分

高中地理(必修2)单元练习

姓名_____ 班级_____ 学号_____ 成绩_____

(满分 100 分,考试时间 90 分钟)

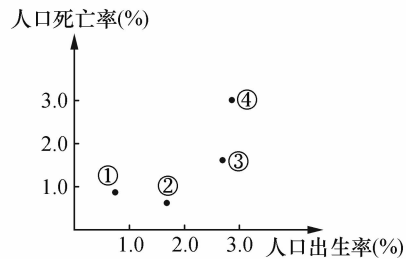
第一章 人口与环境 A 卷

第一卷(选择题 共 50 分)

一、单项选择题(本大题共 20 小题,每小题 2 分,共 40 分。在每小题列出的四个选项中,只有一项是符合题目要求的)

1. 下图表示四个国家的人口出生率和人口死亡率,其中人口自然增长率最高的是

()



A. ①

B. ②

C. ③

D. ④

2. 世界人口增长模式取决于

()

A. 人口出生率、人口死亡率、人口总数

B. 人口出生率、人口死亡率、人口社会生产力

C. 人口出生率、人口死亡率、人口自然增长率

D. 人口出生率、人口总数、社会生产力

3. 关于世界人口增长模式的叙述,正确的是 ()
- A. 发达国家和地区的人口增长模式是现代型
 - B. 印度由于大力开展计划生育工作,所以人口增长模式是现代型
 - C. 非洲国家是高出生率、低死亡率、高自然增长率的人口增长过渡模式
 - D. 大洋洲各个国家的人口增长模式是原始型

读“新中国人口出生率和死亡率的变化”表完成 4~6 题:

新中国人口出生率和死亡率的变化表

年份	出生率(%)	死亡率(%)	年份	出生率(%)	死亡率(%)
1949	3.60	2.00	1975	2.30	0.73
1952	3.70	1.70	1978	1.83	0.63
1957	3.40	1.08	1980	1.82	0.63
1962	3.70	1.00	1985	2.10	0.68
1965	3.79	0.95	1990	2.10	0.67
1970	3.34	0.76	2002	1.29	0.64

4. 建国初期我国人口增长模式是 ()
- A. 原始人口增长模式
 - B. 传统人口增长模式
 - C. 过渡人口增长模式
 - D. 现代人口增长模式
5. 1957~1970 年间我国人口增长模式是 ()
- A. 原始人口增长模式
 - B. 传统人口增长模式
 - C. 过渡人口增长模式
 - D. 现代人口增长模式
6. 1970 年以后我国人口增长模式已接近 ()
- A. 原始型
 - B. 传统型
 - C. 过渡型
 - D. 现代型


读“我国各地区的土地生产潜力和最大可能人口密度”表完成 7~9 题:

- A. 我国历史上人口迁移最直接的原因是移民支边、战争和经济发展
- B. 知识青年上山下乡是自发的人口迁移
- C. 20 世纪 80 年代中期以后 ,我国的人口迁移日趋活跃
- D. 我国解放以来的人口迁移都是由经济原因引起的

12. 关于人口迁移的叙述 ,正确的是 ()

- A. 英国基本上是近几百年来由移民建立起来的国家
- B. 美国基本上是近几百年来由移民建立起来的国家
- C. 近年来人类大规模、大范围、大跨度的迁移 ,在很大程度上得益于交通和通讯的发展
- D. 广州是因矿产资源的开发 ,吸引大量人口迁入而形成的城市

因建设三峡水电站 ,库区有数百万居民因居住地在淹没线以下需移民 ,其中有部分居民迁移到江苏省。试比较 1997 年“三峡库区移民结构图”与“江苏省人口结构图” ,完成 13 ~ 15 题 :



13. 关于两地区人口的比较的叙述 ,正确的是 ()

- A. 三峡库区的非农业人口数量比江苏多
- B. 三峡地区的经济发展水平比江苏高
- C. 三峡库区的农业人口比重比江苏少
- D. 三峡地区和江苏省的城市化水平与其经济发展是相适应的

14. 关于三峡库区移民的叙述 ,正确的是 ()

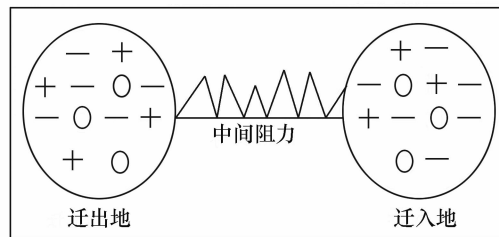
- A. 三峡移民安置就是对库区所有人口进行重新安排
- B. 57% 的非农业人口一般不存在重新安置问题
- C. 对农业人口重新安置的核心问题是居住问题
- D. 开发性移民主要是针对非农业迁移人口而言的

15. 三峡移民搬迁的一大特色是 ()

- A. 就地后靠
- B. 大量外迁
- C. 迅速到位

D. 安排就业

读“人口迁移的拉力和推力示意图”完成 16~17 题：



16. 下列表示迁入地推力因素的是 ()
- A. 矿产资源丰富
 - B. 文化教育发达
 - C. 土壤盐渍化
 - D. 生活水平高
17. 图中 2001 年阿富汗难民迁入巴基斯坦的中间阻力最有可能是 ()
- A. 交通不便
 - B. 国家政策
 - C. 气候干旱
 - D. 地形崎岖
18. 关于婚俗对人口出生率影响的叙述 ,正确的是 ()
- A. 初婚年龄越大、人口出生率越低
 - B. 初婚年龄越小、人口出生率越低
 - C. 婚姻的稳定程度越高 ,人口出生率越低
 - D. 婚姻的稳定程度越低 ,人口出生率越高
19. 关于宗教对人口发展影响的叙述 ,正确的是 ()
- A. 世界上的主要宗教一般都反对人口增殖
 - B. 世界上的主要宗教一般都不反对人口增殖
 - C. 天主教影响下的拉丁美洲是世界上出生率最低的地区之一
 - D. 基督教影响下的非洲是世界上出生率最高的地区之一
20. 关于中国文化对人口影响的叙述 ,正确的是 ()
- A. 在古代农业社会 ,晚婚晚育有利于劳动力增殖
 - B. “多子多福”是现代社会的生育观
 - C. 在当代社会 ,计划生育政策改变了人民的生育观

D. 经济条件对生育观起决定性的作用

二、双项选择题(本大题共 5 小题,每小题 2 分,共 10 分。在每小题给出的四个选项中,有两项是符合题目要求的。每小题全选对者得 2 分,只选一项且选对者得 1 分,其余情况均不得分)

21. 下列人口迁移与其主要影响因素对应正确的是 ()

- A. 巴尔干地区人口大量外迁——政治因素
- B. 西亚犹太人迁往以色列——经济因素
- C. 美国退休人员迁往南部“阳光地带”——自然生态环境因素
- D. 东汉时期我国人口迁往洛阳——社会文化因素

22. 关于人口数量与环境关系的叙述,正确的是 ()

- A. 人口数量越多,给资源和环境带来的压力也会越大
- B. 人口数量增长是环境污染的“罪魁祸首”,环境污染就是因为人口增长过快造成的
- C. 人口增长对环境污染无足轻重,只要有了先进技术,人口增长不仅不会使环境恶化,反而能改善环境
- D. 人口数量不是环境污染的唯一决定性因素

23. 关于我国 20 世纪 80 年代中期以来人口迁移的叙述,正确的是 ()

- A. 主要受国家政策的影响
- B. 主要方向之一是从城市到农村
- C. 人口主要由西部向东部迁移
- D. 流动人口大量增加

24. 关于环境人口容量的叙述,正确的是 ()

- A. 土地资源尤其是耕地资源是决定人口容量的首要因素
- B. 科技发展水平决定着获取资源的数量,是影响环境人口容量的重要因素
- C. 人口文化和生活消费水平越高,环境人口容量越大
- D. 环境人口容量的大小受多种因素的影响和制约

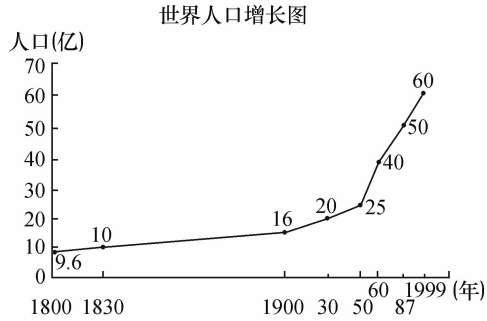
25. 发展中国家人口增长迅速,其带来的后果是 ()

- A. 阻碍经济发展,不利于人民生活水平提高
- B. 劳动力充足,促进生产发展
- C. 就业压力沉重
- D. 消费者增多,扩大了市场,利于经济发展

第二卷(非选择题 共 50 分)

三、综合题(本大题共 4 小题,满分 50 分)

26. 读“世界人口增长图”完成下列问题。(15 分)



(1) 产业革命前世界人口增长极其_____ ;1900 年以后,世界人口增长速度明显_____,第二次世界大战后,世界人口_____,人口增长集中在_____ 国家,原因是_____。

(2) 1999 年 10 月 12 日世界人口总数已达_____ 亿。目前,世界人口年平均增长速度_____,但因为_____ 全球人口总数仍将大量增加。

(3) 人口的持续增长对_____ 的需求和消耗随之增多,最终会超出_____ 供给资源和消化废物的能力,进而出现种种资源和环境问题。

27. 读 1995 年~1997 年统计的“世界及一些国家人口增长模式状况数据表”,完成下列问题。(8 分)

	出生率(%)	死亡率(%)	自然增长率(%)
全世界	2.4	0.9	1.5
A 国	0.9	1.1	
B 国	3.7	0.6	3.1

(1) 计算 A 国的人口自然增长率并填入表中。

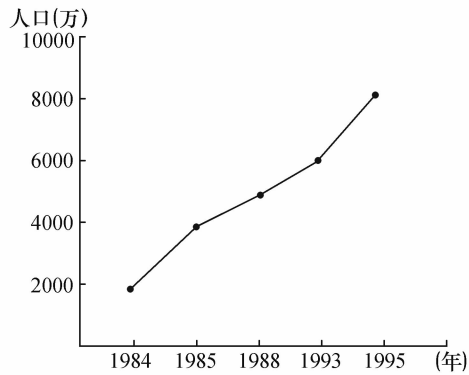
(2) 若表中二个国家分别是尼加拉瓜、德国,完成该题。

A 国是_____,其人口增长模式是_____。

B 国是_____,其人口增长模式是_____。

(3) 由上可以看出,人口增长模式是由_____ 和_____ 及_____ 所决定。

28. 读“1984~1995年我国流动人口数量的变动图”完成下列问题。(17分)



(1) 这一时期,我国流动人口数量变化趋势是 _____,原因是 _____

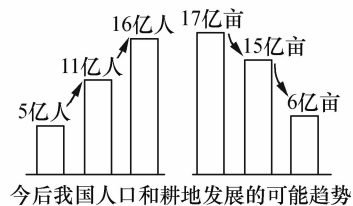
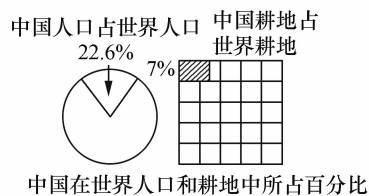
(2) 这一时期,人口流动方向是从 _____ 到 _____;从 _____ 到 _____ 地区。

(3) 这一时期,人口流动主要方式是 _____;流动和迁移的目的主要是 _____

(4) 人口迁移的积极作用有 _____

同 时 可 能 产 生 的 问 题 是 _____

29. 读下图,分析并完成下列问题。(10分)



(1) 目前,我国以占世界 _____ % 的耕地养活着占世界 _____ % 的人口。

(2) 今后我国人口发展的可能趋势是 _____,耕地发展的可能趋势是 _____。

(3) 我国耕地承载量所面临的问题是 _____。

(4) 目前国家对解决上述问题所采取的政策和措施是_____

_____。

高中地理(必修2)单元练习

姓名_____ 班级_____ 学号_____ 成绩_____

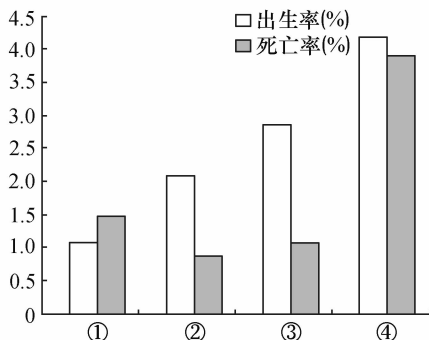
(满分 100 分,考试时间 90 分钟)

第一章 人口与环境 B 卷

第一卷(选择题 共 50 分)

一、单项选择题(本大题共 20 小题,每小题 2 分,共 40 分。在每小题列出的四个选项中,只有一项是符合题目要求的)

读“四个国家的人口出生率和死亡率图”,完成 1~3 题:



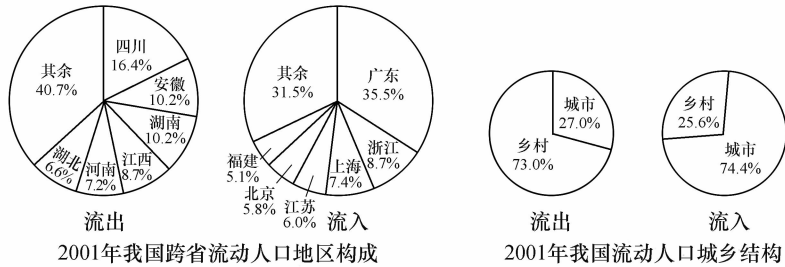
1. 我国人口增长模式正接近于 ()
A. ① B. ② C. ③ D. ④
2. 总的来说,世界人口增长模式属于 ()
A. ① B. ② C. ③ D. ④
3. 下列四国中,与③国人口自然增长率相似的是 ()
A. 德国 B. 瑞典 C. 印度 D. 美国
4. 关于人口迁移的叙述,正确的是 ()
① 近年美国的人口从东北部向南部、中部迁移;② 目前中国人口主要是从内地、边疆迁往沿海;③ 较长时期内俄罗斯人口自西部向东部迁移;④ 近些年巴西人口从沿海向中部迁移
A. ①②③ B. ②③④ C. ②③ D. ①④

5. 在我国西部大开发的过程中,应该 ()

- ① 向西部大规模移民,以减轻东部的环境压力;② 在西部大范围垦荒,兴建大型商品粮基地;③ 加速开发西部的石油、天然气资源,并向东部输送;④ 控制人口增长,提高人口素质

- A. ①②③ B. ②③④ C. ②③ D. ③④

近年来我国流动人口逐渐增加,2001年全国流动人口超过1.2亿,读图并完成6~7题:



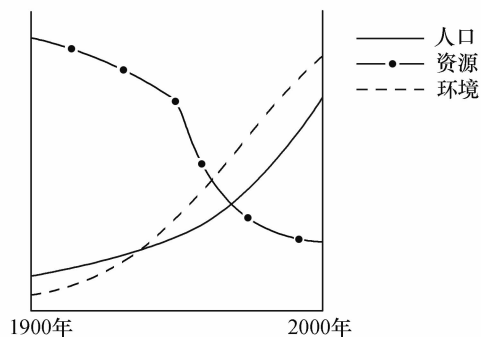
6. 2001年我国跨省流动人口的主要流向是 ()

- A. 从人口稠密地区流向地广人稀地区
 B. 从城市流向乡村
 C. 从东部地区流向西部地区
 D. 从经济欠发达地区流向经济发达地区

7. 关于我国现阶段人口大规模流动主要原因的叙述,不正确的是 ()

- A. 人口流入地区的经济收入要高于人口流出地区
 B. 人口流入地区的就业机会要多于人口流出地区
 C. 人口流入地区的生活环境要优于人口流出地区
 D. 缓解人口流入地区的就业压力,弥补了人口流出地区的劳动力不足

读下图,完成8~10题:



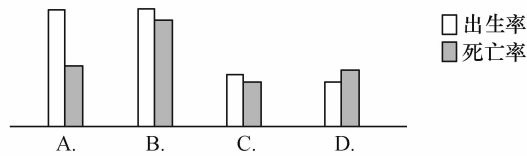
8. 若此图表示某个国家的人口资源环境状况,则该国最有可能位于 ()

- A. 非洲 B. 西欧 C. 大洋洲 D. 北美

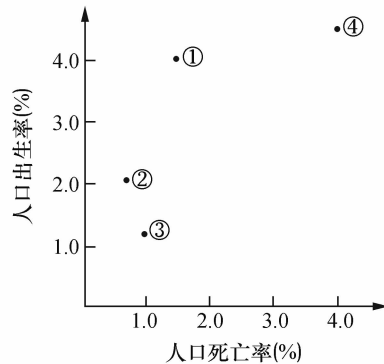
9. 下列反映人口资源环境关系的叙述,不正确的是 ()

- A. 到20世纪末全球性三大问题仍然是人口增长过快,资源递减短缺,环境污染加剧
 B. 图中反映的环境问题在发展中国家比发达国家严重

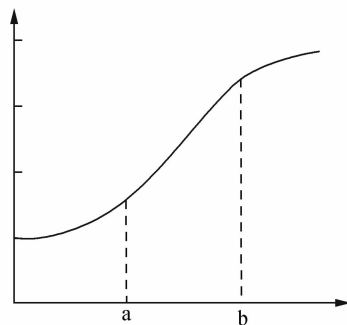
- C. 图中反映的环境问题在发达国家没有出现过
 D. 图中反映的环境问题大部分可能影响到其他国家甚至全球
10. 关于图中反映 20 世纪后半期人口、资源、环境变化的解释,正确的是 ()
- A. 人口过快增长的原因主要是城市化的结果
 B. 资源递减是由于资源均为非可再生资源
 C. 环境污染加剧的原因与人类片面追求经济增长有关
 D. 人口增长过快是环境污染加剧的唯一原因
11. 制约环境人口容量的首要因素是 ()
- A. 资源状况
 B. 科技发展水平
 C. 人口的文化
 D. 生活消费水平
12. 为了缓和人口压力,我国应采取下列人口增长模式中的 ()



13. 下图反映四个国家的人口出生率和人口死亡率,其中人口增长模式是现代型的是 ()

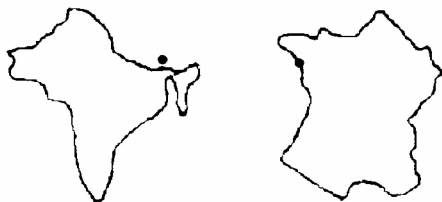


- A. ①
 B. ②
 C. ③
 D. ④
14. 分析函数曲线图,若表示某洲人口数随时间变化,其中 a 为 1500 年, b 为 1980 年,与此图相符的大洲是 ()



- A. 欧洲
 B. 亚洲
 C. 北美洲
 D. 非洲

15. 环境人口容量具有 ()
- A. 不确定性和绝对稳定性 B. 临界性和相对性
- C. 确定性和绝对稳定性 D. 绝对稳定性和警戒性
16. 关于合理人口容量和环境人口容量的叙述,正确的是 ()
- A. 合理人口容量一般大于环境人口容量
- B. 合理人口容量一般小于环境人口容量
- C. 环境人口容量是区域最佳的人口规模或理想人口规模
- D. 合理人口容量是一个地区可承受的最大人口数量
17. 环境人口容量的变化由小到大的排序正确的是 ()
- A. 原始社会——农业时期——现代社会——工业时期
- B. 农业时期——原始社会——工业时期——现代社会
- C. 工业时期——原始社会——农业时期——现代社会
- D. 原始社会——农业时期——工业时期——现代社会
18. 下图是两个国家的轮廓图(比例尺不同),从左到右的人口增长模式是 ()



- A. 原始型、传统型 B. 传统型、现代型
- C. 现代型、传统型 D. 现代型、原始型
19. 在人口增长模式转变过程中,先转变的是 ()
- A. 人口出生率 B. 人口死亡率
- C. 生育率 D. 人口自然增长率
20. 关于地域文化与人口的叙述,正确的是 ()
- A. 西方国家一般不实行计划生育,部分国家甚至鼓励生育,体现了多子多福的传统
文化
- B. 晚婚晚育是发达国家的婚育文化时尚
- C. 婚姻关系不稳定一般会降低出生率
- D. “四海为家”提高了人口的身体素质但降低了人口的文化素质

二、双项选择题(本大题共 5 小题,每小题 2 分,共 10 分。在每小题给出的四个选项中,有
两项是符合题目要求的。每小题全选对者得 2 分,只选一项且选对者得 1 分,其余情况
均不得分)

21. 关于我国历史上人口迁移的叙述,正确的是 ()
- A. 移民支边、战争和自然灾害是人口迁移的主要原因
- B. 迁移规模小、频率低
- C. 东部沿海的大城市多为迁入地区
- D. 迁移方向主要从北方到南方