

寒假寄语

亲爱的同学们：

经过一个学期紧张而充实的学习，我们迎来了快乐的寒假。

提起寒假，你的心中一定会浮现出许多美好的画面，酝酿着自己的打算：在家里休闲，在大自然徜徉，在田间劳动，和伙伴们一起游戏……一切是那么温馨、舒畅、开心、快乐。当然，聪明的你，也不会忘记学习，有劳有逸、劳逸结合，为了新学年取得更大进步，做好准备。

那就请打开我们的《快乐寒假》吧，这里有世间趣闻、生活百科、奇思妙想，还有智力闯关、解题妙招、成长记录，会让你在收获智慧的同时，还会收获一份别样的快乐。本套丛书从“快乐”入手，以科学性、趣味性、实践性、综合性为特征，结合不同学科的特点，以基础知识操练、能力培养提升、实践探究思考为主线，设置了许多新颖独特的栏目，会让你在愉快的心境中巩固知识、开阔视野、探索新知。

时间就装在自己口袋里，你打算怎么安排？建议你做一个假期生活计划，使你的寒假过得既有条有理，又充实愉快。

最后，祝同学们过一个快乐且有意义的寒假。

主 编：文 兴

编 者：张 哲 马 静 冯 倩 张亚兰

小学新课程名师导学

快乐寒假（Ⅱ）

数 学（二年级）

河北美术出版社出版发行（石家庄市和平西路新文里8号）

石家庄市红旗印刷厂印刷

787毫米×1092毫米 1/16 2.75印张 38千字 2010年10月第1版

2010年10月第1次印刷 全套（共2册） 总定价：8.00元

ISBN 978—7—5310—3736—1


（如发现印装质量问题，请寄回我厂调换）







一、先估计有多长，再量一量。

	估计	测量
铅笔长	() cm	() cm
你的食指宽	() cm	() cm
	() cm	() cm

二、蚂蚁搬豆。



三、木板有多长，量对的打“√”。




四、是填“厘米”呢？还是填“米”呢？

1. 门高约2 ()；
2. 黄瓜长约20 ()；
3. 橡皮长约3 ()；
4. 房子高约3 ()。



五、这张桌子有多高？看谁猜得对？



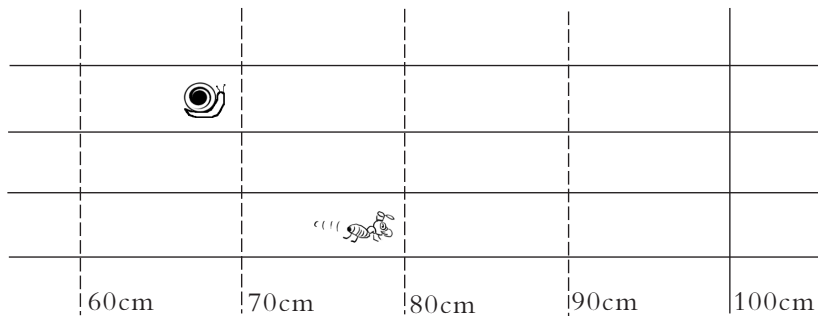
六、填一填。



1. 铅笔长约17 ()；
2. 旗杆高约8 ()；
3. 毛巾长约60 ()。



七、



1. 全长是100厘米，也就是 () 米。
2. 蜗牛已经爬了 () 厘米。
3. 请你再提一个数学问题，并试着解答。



一、



小啄木鸟和大啄木鸟一共吃了多少条虫子?

() + () = () (条)

二、想一想，填一填。

$42 + 3 = 45$

$62 + 5 = \square$

$7 + 40 = \square$

$3 + 42 = \square$

$5 + 62 = \square$

$40 + 7 = \square$

你能像上面那样写出一组算式吗?

$\square + \square = \square$

$\square + \square = \square$

哪两张卡片可以得到19?



三、算一算，填一填。

15

14

24

5

34

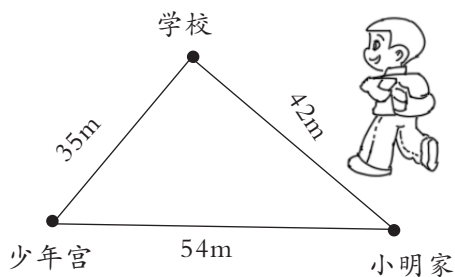
72

53

(19) () () () () ()

四、小明从家到学校，再到少年宫，共走了多少米?

$\square + \square = \square$ (米)





五、



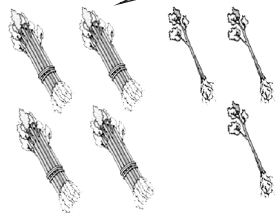
买1个  和1个 
一共要花多少元钱?

$\square \bigcirc \square = \square$ (元)

六、我和小树一起长。

二班

每捆10棵。



\square 棵

三班

我们班栽树的棵树是两位数，十位是4，个位是5。



\square 棵

我的身高是1m20cm，
小树大约高……

你能提出哪些数学问题?



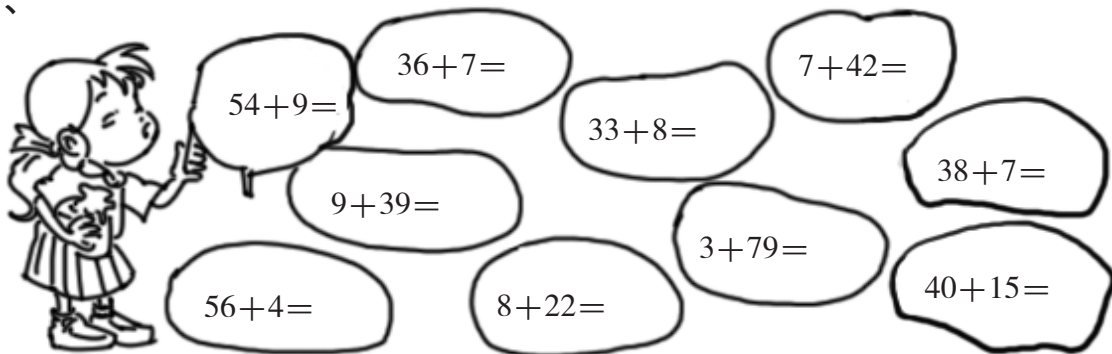


一、




上层	3	5	7	9	11
下层	27	27	27	27	27
一共					

二、



三、森林医生。



四、算一算，填一填。

加数	38	27	49	38	37	85	43
加数	44	58	36	16	24	6	37
和							




五、把这些杯子全部装进左边的箱子里，能装得下吗？






六、填什么数，才能打中。



20+ _____

35+ _____

16+ _____



50+ _____

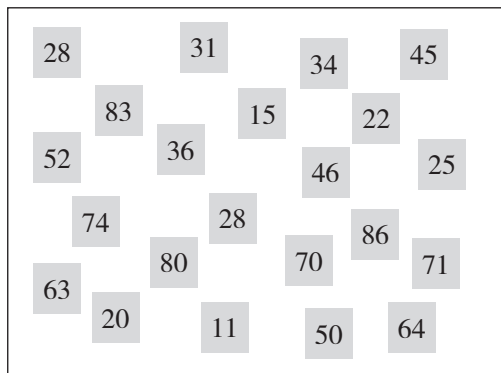
38+ _____



44+ _____

两个轮流拿卡片




1. 每人每次拿两张卡片，将卡片上的数相加，结果要小于100。
2. 填表并比较两人得数，把大的得数圈起来。
3. 连续玩5次，注意拿过的卡片不能再用。谁的得数圈起来的多谁就获胜。



	
$\square \bigcirc \square = \square$	$\square \bigcirc \square = \square$



原来有19个



还剩多少个?



我吃了9个。

二、大恐龙比小恐龙长多少米?

$$\square \bigcirc \square = \square \text{ (米)}$$

身長25米



身長2米



三、你能算出温差（最高气温减去最低气温）是多少吗?

北京：5~15℃

上海：10~18℃




1. 北京温差是多少?

$$\square \bigcirc \square = \square$$

2. 上海温差是多少?

$$\square \bigcirc \square = \square$$

四、小鸽子送信。



数学
与生活

五、同学们踊跃为希望小学捐款。

一班捐
了27本书。二班捐
了20本书。三班捐
了21本书。

1. 一班比二班多捐多少本书?

$$\square \bigcirc \square = \square \text{ (本)}$$

2. 二班和三班共捐多少本书?

$$\square \bigcirc \square = \square \text{ (本)}$$

3. 请你再提出一个数学问题, 并试着解答。

六、北京申奥成功。

我们赢了!

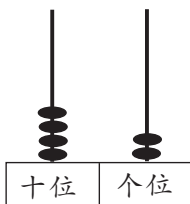
投票结果
北京: 56票
多伦多: 22票

多伦多比北京少多少票?

$$\square \bigcirc \square = \square \text{ (票)}$$



一、拨一拨，算一算。




$42 - 6 =$


$50 - 3 =$

$54 - 8 =$


二、森林医生。



三、乘车。



四、连一连。





数学
与生活

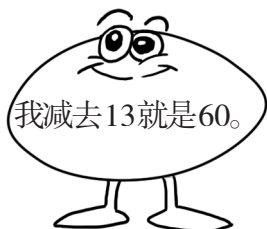


五、有几种不同的买法。



1. 你买了哪些东西? 花了多少元钱?
2. 找回了多少元钱?

六、猜猜我是多少?



七、小小图书馆。



	《儿童画报》	《故事书》	《连环画》
原有	33本	25本	46本
借走	7本	8本	9本

1. 《儿童画报》还剩多少本?
2. 《故事书》还剩多少本?
3. 哪种书剩下的本数最多?



一、计算。

$$24 + 16 + 27 = \quad 49 + 17 + 32 = \quad 9 + 26 + 57 =$$

$$77 - 33 - 28 = \quad 96 - 39 - 45 = \quad 100 - 91 - 9 =$$

二、一卷电线长 98 米，先用去 35 米，又用去 46 米。

1. 一共用去多少米？
2. 张老师需要 20 米电线，剩下的够不够？

三、

		
17 人	36 人	11 人

有多少人参加文艺演出？

$$\square \bigcirc \square \bigcirc \square = \square \text{ (人)}$$



四、机灵狗不小心把订报刊的统计表弄脏了。

	一班	二班	三班	四班
《儿童报》	26		28	34
《小画报》	32	37		3
《小故事》	39	40	45	
合计		98	99	100





1. 哪个班订的报刊最少?
2. 二班订了多少份《儿童报》?
3. 三班订了多少份《小画报》?
4. 四班订了多少份《小画报》? 多少本《小故事》?

五、我国运动员在奥运会上获奖牌情况如下:

	金牌	银牌	铜牌
2000年	28	16	15
2004年	32	17	14

1. 2000年获奖牌多少块?

$$\square \bigcirc \square \bigcirc \square = \square \text{ (块)}$$

2. 2004年获奖牌多少块?

$$\square \bigcirc \square \bigcirc \square = \square \text{ (块)}$$

3. 请你再提出一个数学问题, 并试着解答。



<p>你说一个两位数。</p> <p>63</p>	$63 - 36 = 27$ $72 - 27 = 45$ $54 - 45 = 9$	<p>你再找一个两位数试试, 看看有什么发现。</p>
---------------------------	---------------------------------------------	-----------------------------



一、练一练。

$85 - 49 + 27 =$

$56 + 42 - 69 =$

$68 + 25 - 39 =$

$92 - 47 + 36 =$

二、跳绳比赛。



	第一次	第二次	第三次	总成绩
小聪	24	30		90
小明	29	29		94
小亮	26	30		

- 前两次比赛结束时，小聪共跳（ ）下，小明共跳（ ）下，小亮共跳（ ）下。
- 第三次比赛，小聪跳（ ）下，小明跳（ ）下。
- 小亮是第二名，他总成绩可能是多少？第三次可能跳多少下？



三、车上原有56人。
现在车上有多少人？



四、星星合唱队原有52人，



有9名同学毕业了，新加入了15人。

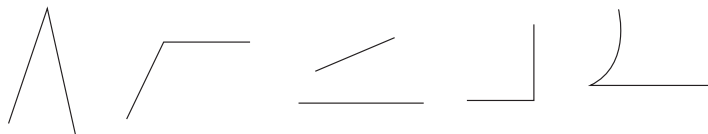
合唱队现在有多少人？



$\square \circ \square \circ \square = \square \text{ (人)}$



一、下面的图形哪些是角？请打“√”，不是的打“×”。




二、说说下列各图中哪些是直角。



三、数一数，每个图形中各有几个角。

E H 干 日



四、下面的图形各有几条线段、几个角？

