

状元之路

课时作业与单元测评

主编：梁国顺

15分钟随堂验收——即讲即练 活学活用
45分钟课时作业——瞄准教材 落实训练
90分钟单元测评——综合能力 高效提升
答案与导解——科学点拨 温馨提示



XiangJiao 地理
必修2 Jiao Geography
[高中新课标·湘教版]

河北教育出版社

Contents

目录

15 分钟随堂验收

第一章 人口与环境

第一节	人口增长模式	1
第二节	人口合理容量	3
第三节	人口迁移	5
第四节	地域文化与人口	7

第二章 城市与环境

第一节	城市空间结构	9
第二节	城市化过程与特点	11
第三节	城市化过程对地理环境的影响	13

第三章 区域产业活动

第一节	产业活动的区位条件和地域联系	15
第二节	农业区位因素与农业地域类型	17
第三节	工业区位因素与工业地域联系	19
第四节	交通运输布局及其对区域发展的影响	21

第四章 人类与地理环境的协调发展

第一节	人类面临的主要环境问题	23
第二节	人地关系思想的演变	25
第三节	可持续发展的基本内涵	27
第四节	协调人地关系的主要途径	29

45 分钟课时作业

第一章 人口与环境

第一节	人口增长模式	31
第二节	人口合理容量	33
第三节	人口迁移	35
第四节	地域文化与人口	37

第二章 城市与环境

第一节	城市空间结构	39
第二节	城市化过程与特点	41
第三节	城市化过程对地理环境的影响	43

第三章 区域产业活动

第一节	产业活动的区位条件和地域联系	45
第二节	农业区位因素与农业地域类型	47

Contents

目录

第三节 工业区位因素与工业地域联系	49
第四节 交通运输布局及其对区域发展的影响	51

第四章 人类与地理环境的协调发展

第一节 人类面临的主要环境问题	53
第二节 人地关系思想的演变	55
第四节 协调人地关系的主要途径	57

90 分钟单元测评

综合训练(一)	59
综合训练(二)	63
期中综合训练	71
综合训练(三)	79
综合训练(四)	83
期末综合训练	91
全册综合训练	99

答案与导解

15 分钟随堂验收	107
45 分钟课时作业	112
90 分钟单元测评	119

状元之路

XiangJiao 地理
必修2 Jiao Geography
[高中新课标·湘教版]

15分钟
随堂验收

河北教育出版社

Contents

目录

第一章 人口与环境

第一节 人口增长模式	1
第二节 人口与环境	3
第三节 人口迁移	5
第四节 地域文化与人口	7

第二章 城市与环境

第一节 城市空间结构	9
第二节 城市化过程与特点	11
第三节 城市化过程对地理环境的影响	13

第三章 区域产业活动

第一节 产业活动的区位条件和地域联系	15
第二节 农业区位因素与农业地域类型	17
第三节 工业区位因素与工业地域联系	19
第四节 交通运输布局及其对区域发展的影响	21

第四章 人类与地理环境的协调发展

第一节 人类面临的主要环境问题	23
第二节 人地关系思想的演变	25
第三节 可持续发展的基本内涵	27
第四节 协调人地关系的主要途径	29

第一节 人口增长模式

一、填空题

1. 把地球历史上各个时期的人口数量放到坐标图上来表示,可以得到一条“__”形曲线。这条曲线表示人口增长的速度具有_____的特点。
2. 人口的自然增长率是指_____。在_____一定的情况下,人口自然增长率高,_____增长就快。
3. 人口增长速度的快慢,受_____的制约,也受_____的影响,但归根结底取决于_____。不同时期的生产力水平的差异,形成不同的_____。
4. “高一高一低”模式,可分为_____和_____,其中_____是奴隶社会、封建社会、资本主义初期的人口增长模式,其特点是_____。
5. 人口增长的过渡模式是_____,其主要存在于_____国家中。
6. “低一低一低”模式的特点是_____,现在主要_____国家已基本步入这种人口增长模式。这些国家人口增长的两大特点是:_____;

二、选择题

7. 人口自然增长率是指一定时期内 ()
 - A. 人口出生率与死亡率相减的得数
 - B. 人口生育率与死亡率相减的得数
 - C. 新出生人口的百分比
 - D. 人口生育率与出生率相减的得数
8. 与人口增长的快慢直接有关的是 ()
 - A. 人口出生率、人口死亡率、人口总数
 - B. 人口出生率、人口死亡率、社会生产力
 - C. 人口出生率、人口死亡率、人口自然增长率
 - D. 人口出生率、人口总数、社会生产力

9. 下列地区中,人口自然增长率最低的是 ()
 - A. 南非
 - B. 东亚
 - C. 南亚
 - D. 南美洲
10. 关于“低-低-低”人口增长模式的说法,正确的是 ()
 - A. 该模式主要分布在新大陆国家和地区
 - B. 该模式的人口自然增长率稳定在零增长
 - C. 该模式的出现是社会生产力发展的结果
 - D. 该模式由于人口增长缓慢,使人口处于一种严重的不平衡状态
11. 拉丁美洲的人口增长正处于 ()
 - A. 高出生、低增长阶段
 - B. 高出生、高增长阶段
 - C. 低出生、低增长阶段
 - D. 低出生、负增长阶段
12. 关于人口增长模式地区分布的叙述,正确的是 ()
 - A. 发达国家或地区的人口增长多属于“低-低-低”模式
 - B. 发展中国家或地区的人口增长都属于“高-高-低”模式
 - C. 我国各地的人口增长模式都已进入“低-低-低”模式
 - D. 非洲国家和地区的人口增长皆为由“高-高-低”模式向“低-低-低”模式过渡
13. 人口增长模式与一定阶段的 ()
 - A. 人口出生率相适应
 - B. 人口死亡率相适应
 - C. 社会生产力发展水平相适应
 - D. 人口自然增长率相适应
14. 下列叙述不属于 100 年来世界人口增长迅速原因的是 ()
 - A. 人类对自然环境的适应性增强
 - B. 对各种灾害和疾病的防御能力提高

- C. 生产工具和社会生产方式不断进步
D. 灌溉技术的发展使人类获得充足的粮食供应
15. 下列说法正确的是 ()
- A. 发达国家的人口出生率低于死亡率
B. 非洲是世界上人口出生率最高、死亡率最低的大洲
C. 目前,北美的人口出现负增长
D. 发展中国家的人口出生率和自然增长率一般高于发达国家
16. 有关人口增长模式类型的叙述,正确的是 ()
- A. 发达国家人口死亡率较高,是因为老年型的人口年龄结构造成的
B. 欧洲各国的人口自然增长率都小于零
C. 日本的人口自然增长率已经降为负数
D. 非洲一些国家的人口自然增长率超过或接近5%
17. 与10年前相比,我国人口中0~14岁人口比重下降了4.8%,65岁以上人口上升了1.39%,而总人口增加了1.3亿人。因此,新世纪人口工作的主要任务是 ()
- A. 控制人口盲目流动
B. 继续稳定低生育水平
C. 遏制人口老龄化加速势头
D. 适度提高少年儿童人口比重

读我国部分年份人口自然变化表,回答18题。

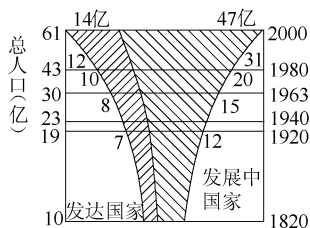
年份(年)	出生率(%)	死亡率(%)	自然增长率(%)
1949	3.60	2.00	1.60
1962	3.70	1.00	2.70
1970	3.34	0.76	2.58

18. 新中国成立后,我国人口增长模式长期为主的是 ()
- A. “低-低-低”模式
B. 传统增长模式
C. “高-低-高”模式
D. 原始增长模式

三、综合题

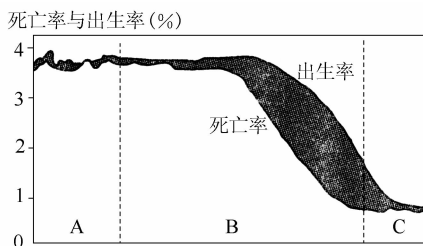
19. 读“世界人口增长图”,回答问题。

- (1)1920年前后相比较,世界人口的增长发生的变化是:



世界人口增长图

- ① _____ ;
② _____。
- (2)发展中国家的人口增长,同发达国家的人口增长相比较,特点是 _____,原因是 _____。
- (3)发达国家人口增长状况带来的不良后果是 _____。
20. 读“人口增长模式及其转变示意图”,完成下列问题。



人口增长模式及其转变示意图

- (1)图中阴影区域表示 _____, 计算方法是 _____。
- (2)图中处于传统增长模式的是 _____ (填字母),目前按经济发展水平, _____ 国家或地区从总体上看应属于该类型。
- (3)图中人口死亡率不断下降的是 _____ (填字母);图中人口年龄结构呈老年型,世代更替缓慢的是 _____ (填字母)。
- (4)我国目前已基本实现了人口增长模式从图中的 _____ 阶段向 _____ 阶段(填字母)的转变过程。这种转变主要是由于我国大力开展 _____ 工作所致。

第二节 人口合理容量

一、填空题

1. 人口的指数增长是指 _____, 其特点是 _____。
2. 在人类社会的发展过程中, 人类利用自然资源的种类、数量、规模、范围都在不断 _____, 人类与自然资源之间, 应当建立 _____ 关系, 以实现 _____。
3. _____ 是人类生产生活的最主要空间场所; _____ 是人类进行现代化生产和提高生活水平的物质基础。
4. 由于人类 _____, _____, 以及 _____, 淡水资源短缺问题正日益困扰着人类的生存与发展。
5. 人口容量是指 _____。
6. 人口合理容量是指 _____。
7. 环境承载力是指 _____。
8. 人口容量特点有: _____、_____、_____。

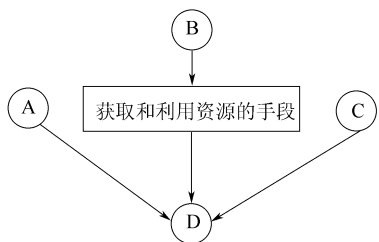
二、选择题

9. “人口爆炸”形象地反映了 ()
 - A. 近 100 多年来世界人口猛增的现象
 - B. 人口过多可能导致世界大战的爆发
 - C. 世界人口的“J”形增长曲线
 - D. 1999 年世界人口达到 60 亿
10. 目前, 人类与世界各种资源的关系, 正确的是 ()
 - A. 平衡
 - B. 资源过剩
 - C. 某些资源出现短缺
 - D. 人均资源地区分布均等
11. 对自然资源的有限性和无限性的理解, 正确的是 ()
 - A. 可再生资源是取之不尽、用之不竭的
 - B. 科技进步可使某些原来单一用途的资源综合利用
 - C. 可再生资源的数量是无限的
 - D. 各种稀缺的自然资源, 不可能找到替代品
12. 关于人口数量与环境污染关系的叙述, 正确的是 ()
 - A. 人口数量增长过快可能加速环境恶化
 - B. 环境污染都是由人口增长造成的
 - C. 环境污染与人口数量多少呈正相关
 - D. 人口增长对环境污染无足轻重
13. 关于环境人口容量的叙述, 错误的是 ()
 - A. 环境人口容量具有不确定性和相对确定性
 - B. 乐观者认为未来世界的人口不会达到地球环境人口容量的极限值
 - C. 悲观者认为目前世界上的人口太多, 已大大超过了地球的环境人口容量
 - D. 介于悲观者与乐观者之间, 许多人认为地球环境人口容量在 200 亿左右
14. 下列地区在相同的面积条件下, 承载人口最多的是 ()
 - A. 长江中下游地区
 - B. 四川盆地和江南丘陵
 - C. 东北地区
 - D. 苏皖北部和辽南
15. 中国科学院发布报告, 主张中国人口承载量最高应控制在 16 亿左右, 这主要反映出环境人口容量的 ()

- A. 临界性 B. 相对性
C. 警戒性 D. 均衡性
16. 与环境人口容量呈负相关的因素是 ()
A. 资源 B. 科技水平
C. 生产能力 D. 消费水平
17. 为了简便,在估计环境人口容量时,主要依据的资源是 ()
A. 土地资源 B. 气候资源
C. 能源资源 D. 生物资源
18. 下列关于我国人地矛盾的叙述,正确的是 ()
A. 我国人口众多,各种资源的总量和人均占有量均居世界前列
B. 由于人口的增长,我国可耕地总量和人均耕地会继续减少
C. 我国淡水资源丰富,人均淡水占有量为世界人均占有量的3倍
D. 我国人地矛盾已十分突出,所以要坚定不移地执行计划生育和保护环境政策
19. 环境人口容量的变化由小到大的排序,正确的是 ()
A. 原始社会→农业社会→现代社会→工业社会
B. 农业社会→原始社会→工业社会→现代社会
C. 工业社会→原始社会→农业社会→现代社会
D. 原始社会→农业社会→工业社会→现代社会

三、综合题

20. 读“环境人口容量的主要制约因素图”,回答有关问题。



环境人口容量的主要制约因素图

- (1)图中 A 因素表示 _____,是制约环境人口容量的主要因素。

- (2)图中 B 因素表示 _____,该因素的发展与变化,必然带来人类获取和利用资源的手段、方法等方面的改变,从而带来 _____ 的变化。
- (3)图中 C 因素表示人口的 _____,不同时期和不同地域的 C 因素并不相同,对环境人口容量产生较大影响。
- (4)图中 D 表示 _____,目前对地球上 D 的估计,有三种学说,即 _____ 说、_____ 说和 _____ 说。你赞成哪种学说?并说出赞成的原因。

第三节 人口迁移

一、填空题

1. 人口的增长包括_____和_____。就全球来说,_____对人口增长一般不具影响。
2. 迁移是人口移动的一种形式,是指_____。根据人口迁移空间范围的不同,可分为_____和_____。
3. 发达国家历史上和发展中国家当前人口迁移的主要类型是_____。
4. 一般认为人口迁移是_____和_____共同作用的结果。
5. 人口的发展必须与_____和_____相适应。当与之互不适应时,便从根本上产生了_____。
6. 影响人口迁移的因素有_____、_____、_____、_____。对人口迁移影响越来越明显的社会文化因素是_____;家庭和婚姻是影响_____迁移的重要因素;政策因素导致的人口迁移,往往具有比较强的_____。
7. 一般来说,地域间的经济发展水平差距越大,人口在地区之间的迁移也就_____。并且经济发展水平高的地区,_____较高,而经济落后的地区,_____较高。
8. 人口迁入率、人口迁出率分别是_____。

二、选择题

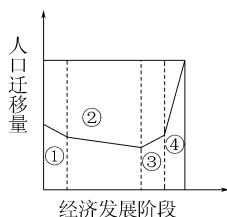
9. 以下人口的空间移动现象,属于人口迁移的是 ()
 - A. 某老人去外地旅游
 - B. 某学者出国讲学
 - C. 某家庭乔迁新居
 - D. 南方某学子去北方上大学
10. 第二次世界大战后世界人口主要流入地是 ()

A. 亚洲	B. 非洲
C. 北美洲	D. 南美洲

11. 下列人口迁移与其主要影响因素对应正确的是 ()
 - A. 我国援藏人员的迁移——经济因素
 - B. 东汉时期我国人口迁往洛阳——政治因素
 - C. 美国退休人员迁往南部“阳光地带”——经济因素
 - D. 巴勒斯坦人迁往南亚——石油开采
12. 下列关于人口迁移的叙述,错误的是 ()
 - A. 人口年龄与迁移有密切关系,青年人口具有较大的迁移需求
 - B. 受全球经济一体化的影响,国际人口迁移数量大大减少
 - C. 加拿大是世界重要的移民迁入国
 - D. 人口迁移受文化程度的影响,一般文化程度越高,迁移距离越远
13. 下列影响人口迁移的因素中,属于政治因素的是 ()
 - A. 文化教育及婚姻家庭
 - B. 交通和通信的发展
 - C. 战争引起的难民潮
 - D. 深圳经济特区吸引大量人口迁移
14. 20世纪80年代,深圳、珠海等经济特区的设立,导致人口大量迁入,其主要原因是 ()
 - A. 深圳、珠海经济条件的改善
 - B. 深圳、珠海文化教育事业的发展
 - C. 深圳、珠海交通和通信事业的发展
 - D. 深圳、珠海自然条件的改善
15. 一个地区人口数量的变化原因可能是 ()
 - ①人口的出生率
 - ②人口的死亡率
 - ③家庭变动
 - ④职业构成
 - ⑤人口的迁入
 - ⑥人口的迁出
 - A. ①②③④⑤⑥
 - B. ①②⑤⑥
 - C. ③④⑤⑥
 - D. ①②③④

图中显示了人口与经济发展的关系,据此回答 16

~18题。



16. 图中②阶段最可能是 ()
- A. 采猎文明时期
B. 农业文明时期
C. 工业文明时期
D. 后工业化阶段
17. 影响③④阶段人口迁移的最主要因素是 ()
- A. 自然环境
B. 国家政策
C. 社会经济
D. 战争
18. 如果该图表示新中国成立后的人口迁移, 图中③④阶段人口迁移的主要流向是 ()
- A. 农村到农村
B. 农村到城市
C. 城市到城市
D. 城市到农村

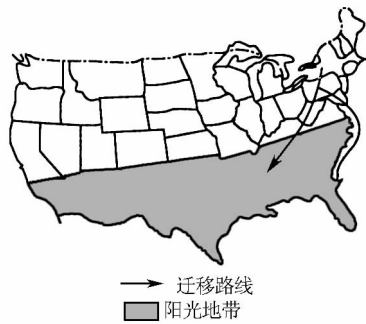
新中国成立以来,我国人口迁移大体上可以以20世纪80年代中期为界,分为两个阶段:80年代中期以前,人口迁移规模较小,频率较低;80年代中期以来,人口迁移日趋活跃。据此回答19~21题。

19. 造成我国1949年至20世纪80年代中期人口迁移特点的原因是 ()
- ①人民安居乐业,故土难离 ②城乡生活水平相差不大 ③国家政策不允许农村居民迁往城市 ④实行严格的户籍管理制度
- A. ①②
B. ①③
C. ②④
D. ③④
20. 20世纪80年代中期以来,我国人口迁移的主要方向是 ()
- ①从农村到城市 ②从城市到城市 ③从内地到沿海 ④从沿海到内地
- A. ①②
B. ②③
C. ③④
D. ①③
21. 下列说法,不属于20世纪80年代中期以来人口大规模流动原因的是 ()
- A. 广大农村有大量剩余劳动力
B. 巩固国防、建设边疆的需要
C. 国家户籍管理制度的改革

D. 沿海与内地、城市与农村之间悬殊的经济收入

三、综合题

22. 读“美国本土老年人迁移方向(1955~1960年)图”,回答(1)~(3)题。



美国本土老年人迁移方向(1955~1960年)图

- (1) 美国许多老年人在退休后向南方“_____”迁移。
- (2) 图中迁出地区主要是美国的_____工业区。为什么?

- (3) 美国的这类人口迁移按地理范围划分属于_____人口迁移,引起迁移的主要原因是受_____因素的影响。

第四节 地域文化与人口

一、填空题

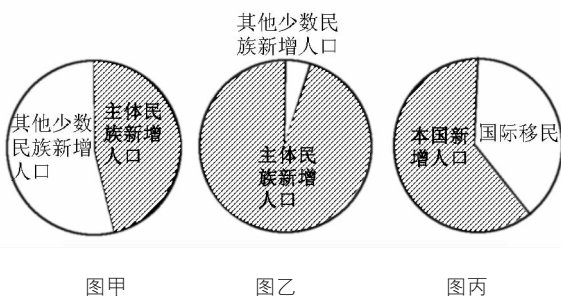
- 文化是指_____。地域文化则是指_____，其对人口的发展_____地产生作用。
- 在许多发展中国家，_____之风盛行，初婚年龄偏_____，人口增长_____。许多西方国家，婚姻关系_____，再婚现象多，这种现象长期存在，会导致出生率_____。
- 中国文化对人口的影响，主要表现在_____、_____等方面。
- 随着社会的进步，中国文化对人口发展的影响发生了很大变化，主要表现在_____、_____、_____。

二、选择题

- 婚俗主要影响着人口的 ()
 - 出生率
 - 死亡率
 - 文化水平
 - 年龄构成
- 西方国家人口出生率较低的婚俗方面的原因是 ()
 - 婚姻关系很稳定
 - 妇女生育年龄比较提前
 - 亲子年龄差距不断缩短
 - 晚婚乃至不婚、不育
- 宗教作为一种文化现象，对人口发展的影响是 ()
 - 主张少生优生
 - 不反对人口增殖
 - 提倡计划生育
 - 自觉降低出生率
- 关于爱尔兰的叙述，正确的是 ()
 - 爱尔兰位于波罗的海以北
 - 属于内陆国家
 - 人口超过1亿
 - 妇女是晚婚模范

- 古代中国早婚早育的主要原因是 ()
 - 古代农业社会劳动力不足
 - 利于社会稳定
 - 崇尚早生贵子
 - 风俗习惯
- 促进“学而优则仕”到“全民皆商”转变的原因是 ()
 - 从商者备受推崇
 - 商业是财富的生产部门
 - 农业经济的萎缩
 - 工业化、城镇化步伐加快
- “四海为家”对人口的影响，不正确的是 ()
 - 促进人口迁移
 - 调整了人口分布
 - 提高了人口素质
 - 增加了人口出生率

(2010·镇江模拟) 下图代表中、印、美三国近年新增人口结构图。读图，回答12~13题。



- 图甲、图乙、图丙对应的图家依次是 ()
 - 中国、印度、美国
 - 印度、中国、美国
 - 中国、美国、印度
 - 印度、美国、中国
- 据图丙所在国人口普查局统计，人口增长大部分发生在南部和西部地区。下列关于这两个地区人口增长的说法，错误的是 ()
 - 西部和南部环境优美
 - 西部和南部基础设施日趋完善
 - 新兴工业最发达的地区
 - 西部和南部的人口自然增长率高

重男轻女指数是指希望生育男孩的母亲人数与希望生育女孩的母亲人数的比例,下表是联合国人口机构2006年公布的部分国家“重男轻女指数”。据此回答14~15题。

国家	巴基斯坦	尼泊尔	韩国	肯尼亚	哥伦比亚	菲律宾	委内瑞拉
指数	4.9	4.0	3.3	1.4	1.1	1.0	0.9

14. 人口生育意愿与中国文化传统相似的国家是 ()
- A. 韩国、委内瑞拉、菲律宾
 B. 菲律宾、哥伦比亚、尼泊尔
 C. 巴基斯坦、尼泊尔、韩国
 D. 哥伦比亚、肯尼亚、委内瑞拉
15. 地域文化对人口的影响是通过影响人们的生育意愿而表现出来的。下列叙述正确的是 ()
- A. “男孩偏好”的传统与“稻米文化”密切相关
 B. 中国的儒家文化有“男性偏好”的传统思想,但重视子女的质量和注重自我发展
 C. 发达国家受基督教的影响,没有性别偏好
 D. “重男轻女指数”反映发展中国家普遍渴望生育男孩

三、综合题

16. 根据材料,结合相关知识,回答下列问题。

材料一 北京大学人口研究所提供的数据表明,人口流动可以降低生育率,流动人口的平均生育水平和平均期望生育水平都低于户籍人口。

材料二 2006年3月27日,《国务院关于解决农民工问题的若干意见》公布,这是国务院制定的一个全面研究解决农民工问题的重要指导文件,涉及农民工工资、就业、技能培训、劳动保护、社会保障、公共管理和公共服务、户籍管理制度改革、土地承包权益等各个方面的政策措施。

- (1) 所谓的生育率是指在一定时期内(通常指1年)出生人数与育龄妇女(指15岁到49岁妇女)数之比。下列关于出生率和生育率关系的说法,正确的是 ()
- A. 出生率决定生育率
 B. 生育率决定出生率
 C. 出生率与生育率相互决定
 D. 出生率和生育率无关

(2) 下列几个地区中最有可能成为农民工流入

地区的是 ()

- A. 上海 B. 井冈山
 C. 内蒙古 D. 昆明

(3) 试分析农民工对城市的积极影响。

第一节 城市空间结构

一、填空题

1. 城市是____达到一定规模,主要从事____活动的居民集聚地,是一定地域的____、____、____中心。与乡村相比,城市具有____、____、____的特点。
2. 区位是____。城市区位是指城市与外部____、____和____事物之间所构成的空间关系。
3. 城市自然地理区位对城市的影响是____,这是因为____。城市的经济地理区位并不是____,它随着____、____和____而改变。
4. 城镇空间布局具有以下特点:____;____;____;____。
5. 城市土地利用是指在____的过程中,人们把土地作为____,根据其____加以____、____和____的全过程。城市土地利用可反映出____和____的地域差异。
6. 城市中占地面积最大的功能区是____,影响城市功能分区的主要因素有____、____、____、____等。
7. 城市中的商业核心区是____,该区域的建筑以____为主,该区域的变动对城市的____、____、____和____都有显著影响。
8. 中心地理论是德国地理学家____率先提出的,是研究____和____的

- 一种城市区位理论。该理论探讨了一定区域内____、____、____间的关系,并采用____对城镇等级与规模关系加以概括。
9. 根据中心地理论,____是周围乡村的中心地。一个地区城镇规模的大小与数量成____,规模小的城镇数量____,规模大的城镇数量____;城镇等级越高,数量越____。城镇空间分布具有一定的规律性,它主要受制于____、____和____。
 10. 在一定的市场区域,各级中心地的服务范围均表现为____。但由于各级中心地____和____的差异,六边形的大小也不相同。高级中心地服务范围____,彼此相距____,但六边形数目____;低级中心地服务范围____,彼此相距____,但六边形数目____。

二、选择题

11. 兰州市沿黄河两岸呈带状分布主要是哪一因素影响 ()
 - A. 山脉
 - B. 河流(地形)
 - C. 干支流交汇
 - D. 经济需要
12. 我国西北地区一些城市分布于绿洲区,原因是 ()
 - A. 交通便利
 - B. 农业发达
 - C. 水源条件好
 - D. 军事上便于防守
13. 下列哪个地区不易形成大城市 ()
 - A. 临近河、湖、海的地方
 - B. 干支流交汇处
 - C. 大河入海口、河港、海港附近
 - D. 热带的平原地区
14. 下列城市区位选择,不正确的做法是 ()
 - A. 在热带雨林区的低洼地区
 - B. 在山区应选择河谷地带
 - C. 应该尽量依山傍水,有大面积的植被
 - D. 应避开地质活跃的断裂带
15. 市场竞争日益激烈,城市每一块土地的用途取决于 ()
 - A. 各种活动产生的社会效益高低

- B. 各种活动的重要程度
C. 政府对各种活动的支持程度
D. 各种活动愿意付出的租金高低
16. 合理协调城市工业用地和生活居住用地的关系, 应注意的内容是 ()
A. 工业用地多沿公路、铁路、河流等交通便捷的区位布置, 以方便职工上下班
B. 合理安排工业用地位置, 可减少对生活居住区的污染
C. 工业区与生活居住区之间主要考虑绿化问题而无须考虑交通问题
D. 使用大量劳动力的工业, 应尽量地接近交通方便地区
17. 城市地域功能分区的内在原因是 ()
A. 城市规划的需要
B. 功能活动之间的空间竞争和集聚
C. 交通条件的发展
D. 人口的消费需要
18. 影响城市功能分区的因素不包括 ()
A. 自然地理条件 B. 历史文化因素
C. 经济发展水平 D. 当地风俗民情
19. 关于中心商务区的叙述, 正确的是 ()
A. 属于城市建成区
B. 属于城市近郊区
C. 不具备交通中心职能
D. 一旦形成不会变动
20. 影响阿伯丁、郑州、堪培拉、麦加 4 个城市区位的主要因素分别是 ()
A. 交通、自然资源、政治、宗教
B. 自然资源、交通、政治、宗教
C. 交通、自然资源、宗教、政治
D. 自然资源、地形、政治、军事
21. 下列关于商业区的说法中, 正确的是 ()
A. 商业区只分布在城市中心, 呈块状分布
B. 中心商务区是城市经济活动最为繁忙的地区
C. 商业区是城市内所有商业集中分布的地区, 商业区内只有商业活动
D. 便利的交通能吸引大量的消费人口, 因此在交通线上都会形成商业区
22. 高级住宅区一般位于城市边缘, 原因是 ()
A. 那里地价比较便宜
B. 那里环境条件比较好
C. 城市中心不可以建住宅区
D. 那里更靠近工厂等工作区
23. 工业区在城市中的区位特点是 ()
①不断向市中心和街道两侧移动 ②不断向市区外缘移动 ③不断向城市主导风向的上风向移动 ④趋向于沿主要交通干线分布
A. ①② B. ②③ C. ②④ D. ①④
24. 可以设置在城市住宅区内的工厂是 ()
A. 化工厂 B. 水泥厂
C. 造纸厂 D. 玩具厂
25. 下列对中心商务区特征的叙述, 错误的是 ()
A. 内部存在明显的分区
B. 人口数量昼夜差别不大
C. 建筑物高大、稠密
D. 它是经济活动最繁忙的地方
26. 关于门槛的正确说法是 ()
A. 一个企业服务范围内的人口数
B. 一个商店服务范围内的人口数
C. 来商店购买商品的月平均人口数
D. 某一级中心地正常存在所必需的服务人口数
27. 关于中心地的叙述, 正确的是 ()
A. 中心地服务范围的大小只与所在地区的面积大小有关
B. 只是指有服务职能的商店
C. 可以是城市, 也可以是城市内的商业中心
D. 中心地等级主要根据其所处的位置划分
28. 下列说法正确的是 ()
A. 城市里快餐店越多越好, 因为这样可以方便居民
B. 城市里快餐店比大酒店多, 这是因为快餐店服务范围大、赢利多
C. 小镇上有快餐店, 可能没有大酒店, 这是因为大酒店比快餐店需要更大的服务人群
D. 城市越大, 提供的服务会越高级, 因而会淘汰一些快餐店, 增加一些大酒店

第二节 城市化过程与特点

一、填空题

1. 城市化的定义:____和____在空间上集聚,____转变为城市地区的过程。
2. 城市化的标志:城市人口占____的比重持续上升,劳动力从第一产业向____产业逐渐转移,城市____不断扩大。
3. 城市化的意义:第一,创造出比较多的____,有利于城市与乡村的交流,缩小城乡发展差距。第二,____是区域的中心,城市化过程有利于改善地区____。第三,____与工业化是相互影响的。第四,____的进步和____的推进,提高区域的整体发展水平。第五,____向乡村广泛地扩散和渗透,影响着乡村的生产生活方式,并提高乡村的____。
4. _____是城市化的主要动力。
5. 随着____的不断提高,农村劳动力明显过剩,____向城市大量转移。
6. _____与工业化进程的关系尤为密切。
7. 城市的兴起又与____的发展密切关联。

二、选择题

8. 城市化过程中出现的现象是 ()
 - A. 城乡居民文化水平差别在扩大
 - B. 城乡居民的人均收入差别在不断扩大
 - C. 城乡居民价值观念有显著差别
 - D. 城乡居民的生活方式逐渐趋同
9. 关于城市化的一些叙述,正确的是 ()
 - A. 城市化是社会经济发展的必然结果,我国要实现社会主义现代化,必然要加快城市化进程的速度
 - B. 城市化进程的速度,体现了一个国家或地区经济发展的速度
 - C. 城市用地规模的大小是城市化水平高低最重要的标志
 - D. 城市是人类对自然环境干预最强烈的地区,城市化是造成生态恶化的原因
10. 城市化过程的主要表现是 ()
 - ①城市用地规模扩大
 - ②城市人口增加
 - ③城市人口占总人口的比重持续上升
 - ④城市人口文化水平提高
 - ⑤劳动力从第二、三产业向第一产业转移
 - A. ①④⑤
 - B. ②③④
 - C. ①③④
 - D. ①②③
11. 关于城市化水平与社会经济发展水平关系的论述,错误的是 ()
 - A. 一个国家或地区的社会经济发展水平体现其城市化水平
 - B. 一个国家或地区的城市化水平体现其社会经济发展水平
 - C. 城市化能带动区域经济的发展
 - D. 区域经济的发展能促进城市的发展
12. 有关世界城市化的说法,正确的是 ()
 - A. 世界城市人口在不断增加,城市人口比重却在不断下降
 - B. 人口超过百万的特大城市数目不断下降
 - C. 出现了城市群、城市带及人口超过千万的超级大城市
 - D. 发展中国家的城市化水平超过发达国家
13. 下列有关城市化进程的叙述,正确的是 ()
 - A. 发达国家城市人口比重大、增长快
 - B. 发达国家城市人口比重大、增长慢
 - C. 发展中国家城市人口比重小、增长慢
 - D. 发展中国家城市人口比重大、增长快
14. 下列关于城市特征与城市化的叙述,错误的是 ()
 - A. 人口与产业密集,产生良好的集聚效应
 - B. 人口流动、职业变化十分活跃
 - C. 近几十年来发展中国家城市化速度明显超过发达国家
 - D. 城市化的本质是居民由从事第一、第二产业转为第三产业,并向城市集中
15. 城市化的主要动力是 ()
 - A. 人口膨胀
 - B. 流动人口增加
 - C. 社会经济发展
 - D. 环境污染严重
16. 下列特点属于发达国家城市化特点的是 ()
 - ①出现逆城市化现象
 - ②城市化水平高
 - ③城市化快于生产力的发展
 - ④起步晚,发展快
 - A. ①②
 - B. ③④
 - C. ①③
 - D. ②④
17. 城市工业企业纷纷向城市市区的边缘迁移,甚至在市区外围形成一个包围城市的环状区域,这主要是因为 ()
 - A. 为了在城外拓宽更大的市场

- B. 为了降低成本,保护城市环境
C. 为了使工人住宅区能与工业企业成为一体
D. 为了得到面积更大的工业用地
18. 与发达国家相比,下列关于发展中国家城市化进程的叙述,正确的是 ()
①城市人口比重低 ②城市化发展速度慢 ③特大城市数量多 ④城市群分布广
A. ①③ B. ①④ C. ②④ D. ③④
19. 分散大城市职能,建设新城和卫星城的重要意义在于 ()
A. 分散大城市的人口、资金和技术
B. 减少或避免人口和工业过分集中带来的一系列问题
C. 杜绝大气污染、水污染、噪声污染和固体废弃物污染
D. 扩大城市用地规模和人口规模
20. 有关发展中国家城市化的叙述,正确的是 ()
①目前,世界城市总人口的60%分布在发展中国家 ②“二战”以后,发展中国家城市人口的增长速度超过了发达国家 ③目前,发展中国家城市化水平已高于发达国家 ④大多数发展中国家城市化水平与经济发展水平相适应
A. ①② B. ③④ C. ①③ D. ②④
21. 关于世界城市化的叙述,正确的是 ()
A. 发达国家城市人口正以空前的速度不断增长
B. “二战”以后,发展中国家城市化的速度较快,主要原因是国内农业和工业生产持续上升,城市化水平与经济发展水平相适应
C. “二战”以后,发展中国家城市化速度超过了发达国家
D. 城市化发展最早的是德国
22. 新中国成立后,我国城市化的进程实质上是 ()
A. 受市场经济影响逐步发展的过程
B. 有计划逐步发展的过程
C. 受市场经济和计划经济二者共同影响发展的过程
D. 与现代同步发展的过程
23. 关于我国城市化的叙述,正确的是 ()
①城市化水平超过发达国家 ②1990年城市人口占总人口的百分比为70% ③我国目前城市人口比重为30%左右 ④城市化水平较低,与经济发展水平不相适应
A. ①② B. ①③ C. ②④ D. ③④
24. 我国城市化进程不应过快的主要原因是 ()
A. 人口素质还不高 B. 科学技术水平不高
C. 城市建设经验不足 D. 经济发展水平不高
25. 目前,上海面临最主要的人口问题是 ()
A. 卫星城镇人口比重大
B. 人口基数大,自然增长率高
C. 人口年龄构成轻,生育高峰压力大
D. 人口老龄化,青壮年赡养照顾众多老人负担过重
26. 如果你是一个特大城市的市长,那么你在保护和改善城市环境方面拟采取的措施有 ()
①建立卫星城,开发新区,转移部分人口,吸纳高素质人才 ②建设立体交通道路系统,控制运行机动车辆总数量 ③将对环境有污染的工厂一律清除出本市、本地区之外,加强园林绿地建设 ④控制人口增长,规划建设大量高档住宅,建筑物高大且密集
A. ①③ B. ①④
C. ①② D. ②③