

状元之路

主编：梁国顺

课时作业与单元测评

15分钟随堂验收 —— 即讲即练 活学活用
45分钟课时作业 —— 瞄准教材 落实训练
90分钟单元测评 —— 综合能力 高效提升
答案与导解 —— 科学点拨 温馨提示



RenJiao 地理
必修2 Jiao Geography
[高中新课标·通用版]

河北教育出版社

Contents

目录

15 分钟随堂验收

第一章 人口的变化

第一节	人口的数量变化	1
第二节	人口的空间变化	3
第三节	人口的合理容量	5

第二章 城市与城市化

第一节	城市内部空间结构	7
第二节	不同等级城市的服务功能	9
第三节	城市化(一)	11
第三节	城市化(二)	13

第三章 农业地域的形成与发展

第一节	农业的区位选择(一)	15
第一节	农业的区位选择(二)	17
第二节	以种植业为主的农业地域类型	19
第三节	以畜牧业为主的农业地域类型	21

第四章 工业地域的形成与发展

第一节	工业的区位选择(一)	23
第一节	工业的区位选择(二)	25
第二节	工业地域的形成	27
第三节	传统工业区与新工业区	29

第五章 交通运输布局及其影响

第一节	交通运输方式和布局	31
第二节	交通运输方式和布局变化的影响	33

第六章 人类与地理环境的协调发展

第一节	人地关系思想的演变	35
第二节	中国的可持续发展实践	37

45 分钟课时作业

第一章 人口的变化

第一节	人口的数量变化	39
第二节	人口的空间变化	41
第三节	人口的合理容量	43

第二章 城市与城市化

第一节	城市内部空间结构	45
第二节	不同等级城市的服务功能	47
第三节	城市化	49

Contents

目录

第三章 农业地域的形成与发展

第一节 农业的区位选择(一)	51
第一节 农业的区位选择(二)	53
第二节 以种植业为主的农业地域类型	55
第三节 以畜牧业为主的农业地域类型	57

第四章 工业地域的形成与发展

第一节 工业的区位选择(一)	59
第一节 工业的区位选择(二)	61
第二节 工业地域的形成	63
第三节 传统工业区与新工业区	65

第五章 交通运输布局及其影响

第一节 交通运输方式和布局	67
第二节 交通运输方式和布局变化的影响	69

第六章 人类与地理环境的协调发展

第一节 人地关系思想的演变	71
第二节 中国的可持续发展实践	73

90 分钟单元测评

综合训练(一)	75
综合训练(二)	83
综合训练(三)	91
期中综合训练	99
综合训练(四)	107
综合训练(五)	115
综合训练(六)	123
期末综合训练	131
全册综合训练	139

答案与导解

15 分钟随堂验收	147
45 分钟课时作业	156
90 分钟单元测评	166

状元之路

RenJiao 地理
必修2 Jiao Geography
[高中新课标·通用版]

15分钟
随堂验收

Contents

目录

第一章 人口的变化

第一节	人口的数量变化	1
第二节	人口的空间变化	3
第三节	人口的合理容量	5

第二章 城市与城市化

第一节	城市内部空间结构	7
第二节	不同等级城市的服务功能	9
第三节	城市化(一)	11
第三节	城市化(二)	13

第三章 农业地域的形成与发展

第一节	农业的区位选择(一)	15
第一节	农业的区位选择(二)	17
第二节	以种植业为主的农业地域类型	19
第三节	以畜牧业为主的农业地域类型	21

第四章 工业地域的形成与发展

第一节	工业的区位选择(一)	23
第一节	工业的区位选择(二)	25
第二节	工业地域的形成	27
第三节	传统工业区与新工业区	29

第五章 交通运输布局及其影响

第一节	交通运输方式和布局	31
第二节	交通运输方式和布局变化的影响	33

第六章 人类与地理环境的协调发展

第一节	人地关系思想的演变	35
第二节	中国的可持续发展实践	37

15. 人口增长模式与一定阶段的 ()
 A. 人口出生率相适应 B. 人口死亡率相适应
 C. 社会生产力发展水平相适应 D. 人口自然增长率相适应
16. 下列叙述不属于 100 年来世界人口增长迅速的原因的是 ()
 A. 人类对自然环境的适应性增强
 B. 对各种灾害和疾病的防御能力提高
 C. 生产工具和社会生产方式不断进步
 D. 灌溉技术的发展使人类获得充足的粮食供应
17. 下列说法正确的是 ()
 A. 发达国家的人口出生率低于死亡率
 B. 非洲是世界上人口出生率最高、死亡率最低的大洲
 C. 目前,北美的人口出现负增长
 D. 发展中国家的人口出生率和自然增长率一般高于发达国家
18. 有关人口增长模式类型的叙述,正确的是 ()
 A. 发达国家人口死亡率较高,是因为老年型的人口年龄结构造成的
 B. 欧洲各国的人口自然增长率都小于零
 C. 日本的人口自然增长率已经降为负数
 D. 非洲一些国家的人口自然增长率超过或接近 5%
19. 与 10 年前相比,我国人口中 0~14 岁人口比重下降了 4.8%,65 岁以上人口上升了 1.39%,而总人口增加了 1.3 亿人。因此,新世纪人口工作的主要任务是 ()
 A. 控制人口盲目流动 B. 继续稳定低生育水平
 C. 遏制人口老龄化加速势头 D. 适度提高少年儿童人口比重
- 读我国部分年份人口自然变化表,回答 20 题。

年份(年)	出生率(%)	死亡率(%)	自然增长率(%)
1949	3.60	2.00	1.60
1962	3.70	1.00	2.70
1970	3.34	0.76	2.58

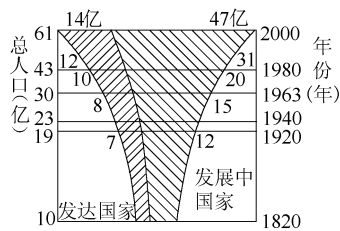
20. 新中国成立后,我国人口增长模式长期为主的是 ()
 A. 现代型 B. 传统型 C. 过渡型 D. 原始型

三、综合题

21. 读“世界人口增长图”,回答问题。

(1) 1920 年前后相比较,世界人口增长发生的变化是:

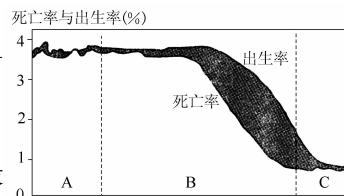
- ① _____;
 ② _____。
- (2) 发展中国家的人口增长,同发达国家的人口增长相比较,特点是 _____,原因是 _____。
- (3) 发达国家人口增长状况带来的不良后果是 _____。



世界人口增长图

22. 读“人口增长模式及其转变示意图”,完成下列问题。

- (1) 图中阴影区域表示 _____, 计算方法是 _____。
- (2) 图中处于传统型模式的是 _____ (填字母), 目前按经济发展水平, _____ 国家或地区从总体上看应属于该类型。
- (3) 图中人口死亡率不断下降的是 _____ (填字母); 图中人口年龄结构呈老年型, 世代更替缓慢的是 _____ (填字母)。
- (4) 我国目前已基本实现了人口增长模式从图中的 _____ 阶段向 _____ 阶段(填字母)的转变过程。这种转变主要是由于我国大力开展 _____ 工作所致。



人口增长模式及其转变示意图

第二节 人口的空间变化

一、填空题

1. 人口迁移就是人的居住地在_____或_____范围内发生改变。按照是否跨越国界可分为_____和_____。
2. 国际人口迁移特点:19世纪以前,总特点是以_____、_____的移民为主。如由于进行殖民主义扩张,引发了_____人迁移到以_____和_____为主的国家和地区;第二次世界大战以后,表现出新特点:人口从_____流向_____;_____减少,_____的人口增多。
欧洲由人口_____变为人口_____,主要是西欧经济发展较快,吸引了大量移民;_____由人口迁入地区变为迁出地区;_____和_____也招募了大批外籍工人。
3. 我国不同历史时期的人口迁移:①我国古代,由于_____、频繁的战爭以及_____等影响,人民不得不大批迁移;②新中国成立到20世纪80年代中期,由于_____和_____,国内人口迁移主要是_____、_____地进行;③20世纪80年代以来,受_____的影响,人口迁移的流量增大,流向也发生了明显的变化,有两个主要流向:一是从_____流向_____,二是从_____流向_____。
4. 影响人口迁移的主要因素有两方面:一是_____和_____的变化;二是个人对_____或_____的变化。
5. 地区之间自然环境的差异,以及自然环境的变化,对人口迁移有重要的影响,在影响人口迁移的各种自然环境因素中,_____,_____,_____和_____等是最主要的。社会经济发展对人口迁移的影响是多方面的,其中_____,_____,_____及婚姻家庭等是主要的因素。政治因素对人口迁移有着特殊的影响,其中_____,_____及战争等是重要的影响因素。

二、选择题

6. 以下人口的空间移动现象,属于人口迁移的是 ()
A. 某老人去外地旅游 B. 某学者出国讲学
C. 某家庭乔迁新居 D. 南方某学子去北方上大学
7. 第二次世界大战后世界人口主要流入地是 ()
A. 亚洲 B. 非洲 C. 北美洲 D. 南美洲
8. 下列人口迁移与其主要影响因素对应正确的是 ()
A. 南斯拉夫阿族人外迁——经济因素
B. 东汉时期我国人口迁往洛阳——政治因素
C. 美国退休人员迁往南部“阳光地带”——经济因素
D. 巴勒斯坦人迁往南亚——石油开采
9. 下列关于人口迁移的叙述,错误的是 ()
A. 人口年龄与迁移有密切关系,青年人口具有较大的迁移需求
B. 受全球经济一体化的影响,国际人口迁移数量大大减少
C. 加拿大是世界重要的移民迁入国
D. 人口迁移受文化程度的影响,一般文化程度越高,迁移距离越远
10. 下列影响人口迁移的因素中,属于政治因素的是 ()
A. 文化教育及婚姻家庭 B. 交通和通信的发展
C. 战争引起的难民潮 D. 深圳经济特区吸引大量人口迁移
11. 20世纪80年代,深圳、珠海等经济特区的设立,导致人口大量迁入,其主要原因是 ()
A. 深圳、珠海经济条件的改善
B. 深圳、珠海文化教育事业的发展
C. 深圳、珠海交通和通信事业的发展
D. 深圳、珠海自然条件的改善
12. 一个地区人口数量的变化原因可能是 ()
①人口的出生率 ②人口的死亡率 ③家庭变动 ④职业构成 ⑤人口的迁入 ⑥人口的迁出
A. ①②③④⑤⑥ B. ①②⑤⑥ C. ③④⑤⑥ D. ①②③④

9. 关于两类国家人口合理容量的叙述正确的是 ()
- A. N类国家因环境人口容量潜力大而人口增长快
 B. M类国家因人口数已超过环境人口容量而导致人口萎缩
 C. N类国家因资源十分丰富,所以环境人口容量大
 D. M类国家因经济、科技发达,所以环境人口容量较大
10. 关于N和M两类国家面临的人口问题是 ()
- A. N面临人口老龄化,M面临人口增长过快
 B. N面临人口增长过快,M面临人口老龄化
 C. N、M均为人口老龄化
 D. N、M均为人口增长过快
11. 下列人口密集区的形成与当地资源联系最密切的是 ()
- A. 日本太平洋沿岸
 B. 新加坡
 C. 美国五大湖地区
 D. 香港
12. 下列因素中,不属于对环境人口容量影响较大的是 ()
- A. 资源
 B. 科技
 C. 信仰
 D. 消费水平
13. 依据环境承载力,下列国土空间属于禁止开发的是 ()
- A. 内蒙古的草原
 B. 黄河三角洲的滩涂
 C. 南方的低山丘陵
 D. 青海的三江源地区
14. 成都平原的人口密度大于密西西比河平原的主要原因是 ()
- A. 气候条件优越
 B. 经济发达
 C. 自然条件优越且开发历史久
 D. 资源丰富
15. 目前,下列国家和地区人口合理容量最小的应为 ()
- A. 俄罗斯
 B. 巴西
 C. 日本
 D. 澳大利亚
16. 下列做法中,有利于提高环境人口容量的是 ()
- A. 提倡一次性消费,提高消费档次
 B. 开垦草原、荒地,扩大耕地面积
 C. 推广节能技术,开发利用新能源
 D. 逢年过节,聚餐讲排场,讲场面

二、综合题

17. 分析表格中的有关资料,回答下列问题。

(1) 计算巴基斯坦的人口密度(四舍五入取整数),填入表中空格。

国家	日本	巴基斯坦	蒙古	澳大利亚
面积(万平方千米)	37.8	79.6	156.7	769
人口(万人)	12731	14228	238	1939
人口密度(人/平方千米)	337		1.5	2.5

- (2) 根据各国数据分析,下列叙述正确的是 ()
- A. 人口数量越大,经济越发达
 B. 人口密度越大,经济越落后
 C. 人口密度越大,经济越发达
 D. 人口数量和密度不能决定经济发展水平高低
- (3) 衡量一个国家人口密度是否适当,应该看_____两种资源是否得到最佳结合。所谓最佳,一是_____,二是_____。

第一节 城市内部空间结构

一、填空题

- 城市用地分为_____、_____、政府机关用地、_____、休憩及绿化用地、交通用地和农业用地等不同类型。
同一种土地利用方式对_____和_____往往是相同的,这就会导致同一类活动在城市空间上的_____,这就是集聚效应。不同类型的土地利用在城市里的集中,就形成了不同的_____。然而功能区之间并没有明确的_____。
- 城市中常见的功能区有_____、_____、_____。
住宅区是城市中最_____的一种土地利用方式。在有的城市,随着住宅区的分化还出现了_____和_____。
商业区主要是人们进行商业活动的场所,多位于_____,主要为_____或_____分布。在有些大城市和特大城市的市中心,还会形成_____ (简称 CBD),它既是_____的中心又是_____中心。
工业区是由城市内部工业相互_____而形成的。工业企业需要寻求靠近_____,_____、_____等交通比较便捷的地带。
- 在城市中,不同功能区的_____和_____构成了城市内部的空间结构,也叫做_____。
不同的城市,其内部空间结构是_____的。代表性的城市地域结构有_____、_____、_____。
- _____是影响城市内部空间结构的主要因素。在市场竞争的环境下,每一块土地用于哪一种活动,主要取决于_____,影响地租高低的因素主要有_____和_____两个方面。
- 城市内部的空间结构是随着城市的发展而逐渐_____和_____的。
(1)在城市发展初期,各功能用地混杂,市中心吸引了工业的_____。
(2)随着工业发展到一定规模和_____的兴起,市中心用地出现各种问题,原有的工业用地可能被改造为_____用地或其他用地,城市内部的空间结构发生变化。

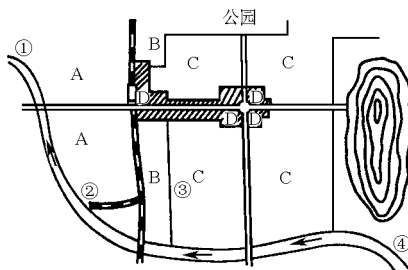
二、选择题

- 城市中最广泛的土地利用形式是 ()
A. 商业区 B. 工业区 C. 住宅区 D. 文化区
- 有关城市功能分区的正确叙述是 ()
①每种功能区以一种功能为主,无其他功能
②同类活动空间上高度集聚,形成了功能区
③一个城市通常只有一个工业区
④商业区的区位需求是要有便捷的交通
A. ①② B. ①③ C. ②④ D. ③④
- 随着工业和交通的发展,住宅区出现了分化,主要表现为 ()
①在物业管理上,出现了高收费和低收费的倾向

- ②在建筑质量上,出现了高级住宅区和低级住宅区
 ③在建筑风格上,出现了仿欧式和仿古式建筑
 ④在位置上,出现了高级住宅区和低级住宅区背向发展的状况
 A. ①② B. ①③ C. ②③ D. ②④
9. 从经济因素考虑,城市的各种功能区由市中心到郊区依次为 ()
 A. 工业区、商业区、住宅区 B. 住宅区、商业区、工业区
 C. 商业区、住宅区、工业区 D. 商业区、工业区、住宅区
10. 直接影响地租高低的主要因素有 ()
 ①不同的城市功能活动 ②城市环境的优劣 ③距离市中心的远近 ④交通通达度
 A. ①② B. ①③ C. ②③ D. ③④
11. 各类城市所共有的功能区是 ()
 A. 商业区、工业区和住宅区 B. 商业区、行政区和住宅区
 C. 工业区、住宅区和文化区 D. 行政区、文化区和住宅区
12. 在竞争环境下,城市的每一块土地用于哪种经济活动,取决于 ()
 A. 规模的大小 B. 重要的程度
 C. 付出租金的高低 D. 政府的决策

三、综合题

13. 下图所示是“某城市简图”。当地夏半年盛行东南风,冬半年盛行东北风。读图,回答下列问题。



- (1) 用连线将该城市商业区、工业区、居住区、绿地分别与相应字母符号连接,以表示合理的功能区选择。
- | | |
|-----|---|
| 商业区 | A |
| 工业区 | B |
| 居住区 | C |
| 绿地 | D |
- (2) 用连线将该城市水厂、污水处理厂、重型机械厂和印刷厂分别与相应数字符号连接,以表示合理的厂址选择。
- | | |
|-------|---|
| 水厂 | ① |
| 污水处理厂 | ② |
| 重型机械厂 | ③ |
| 印刷厂 | ④ |
- (3) 在 A、B、C、D 四区中,土地价格最高的应是_____区。

第二节 不同等级城市的服务功能

一、填空题

- 城市的大小等级通常是以_____来划分的,一般可分为_____、_____、_____、_____等。
- 城市作为区域的_____,为区域提供各种_____和_____,实际接受服务的人口在空间上的分布就是_____. 一个城市的服务范围包括_____,_____和_____地区,但是这个范围通常是_____的,也没有_____。
不同等级的城市,提供的_____和_____都是不同的。小城市提供的服务种类_____,级别_____,服务范围比较_____;大城市提供的服务种类_____,级别_____,服务范围相对较_____。
城市能够发展到一定的规模或达到一定等级,与城市所处的_____密切相关。
- 在同一个区域内,不同级别的_____,就构成了一个地区的城市等级体系。
在同一个区域内,不同等级的城市数目和相互距离是不同的;等级较高的城市数目较_____,等级较低的城市数目较_____;等级较高的城市相距较_____,等级较低的城市相距较_____。
在同一个区域内,等级较_____的城市的服务范围包含了多个等级较_____的城市的服务范围。就整个区域而言,不同等级城市的服务范围是_____的。

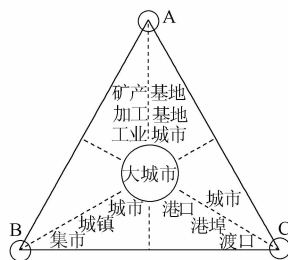
二、选择题

- 我国城市等级划分的主要依据是 ()
A. 城市人口规模 B. 城市经济规模 C. 城市用地规模 D. 城市地域位置
- 有关城市级别与其提供职能的叙述,正确的是 ()
A. 城市等级越高,提供的职能种类越少
B. 同级别城市,提供的职能完全相同
C. 高等级城市不具有低等级城市的职能
D. 城市等级越低,提供的职能种类越少
- 下列有关上海市等级和服务范围的变化,说法错误的是 ()
A. 上海市的等级是不断提高的
B. 上海市等级的提高得益于丰富的资源
C. 上海市的服务范围在不断扩大
D. 上海市等级的提高是社会、经济发展的结果
- 在我国,一般县城与大中城市相比 ()
A. 都有大型专业商店、百货公司等
B. 缺少高级中学、工厂、汽车站等
C. 拥有大中城市拥有的所有职能
D. 一般没有大型专业商店、商品批发中心、专业医院和大专院校等
- 不同等级的城市在区域中的作用不同,这主要表现在 ()
A. 城市级别越高,它在区域范围内的领导和组织管理作用就越弱
B. 城市级别越高,城市的经济发展就越快
C. 城市级别越高,提供的服务种类越多
D. 城市级别越高,城市的人口就越多,人口密度就越小
- 在理想的均质平原上,圆形的服务范围最终被六边形的服务范围取代,这是因为 ()
A. 可以使货物的供应达到饱和状态

- B. 区域内居民在选择同一等级的城市来寻求服务时,会选择距离较近的城市
 C. 可以阻止新的供应商进入
 D. 为了谋求最大利润
10. 我国某省分布的城镇有①省会;②地级市;③县及县级市三类,其数量关系应该是 ()
 A. ① > ② > ③
 B. ① < ② < ③
 C. ② > ③ > ①
 D. ③ < ① < ②
11. 假设人口分布均匀,下列哪项服务的服务范围最大 ()
 A. 粮油店
 B. 服装店
 C. 幼儿园
 D. 汽车交易市场
12. 下列城市中,由于地理位置特殊,其辐射能力超越所在国国界,影响到了广阔区域的是 ()
 A. 华盛顿
 B. 巴黎
 C. 伊斯坦布尔
 D. 摩尔曼斯克
13. 下列城市的服务作用由大到小,排列正确的是 ()
 A. 苏州→桂林→张家界→大连
 B. 广州→大庆→沈阳→青岛
 C. 上海→杭州→重庆→深圳
 D. 北京→天津→石家庄→保定
14. 在陕西省的城市体系中 ()
 A. 西安市的城市功能,宝鸡也具备
 B. 延安不在西安的服务范围内
 C. 西安等级最高,人口也最多
 D. 宝鸡、西安、延安的服务区域界限明显
15. 下列因素中,对攀枝花城市等级影响最突出的因素是 ()
 A. 交通
 B. 资源
 C. 河流
 D. 地形
16. 下列城市中,主要职能相同的一组是 ()
 A. 巴西利亚、开普敦、旧金山
 B. 武汉、重庆、开封
 C. 大庆、西安、杭州
 D. 桂林、张家界、黄山

二、综合题

17. 读某城市形成和发展的区位图,完成下列问题。



某城市形成和发展的区位图

- (1) 分别写出决定 A、B、C 三项城市职能及发展的区位因素:
 A _____, B _____, C _____。
- (2) 该大城市的基本职能是 _____、_____ 和 _____。
- (3) 我国下列大城市中与图示城市职能相同的是 ()
 A. 上海
 B. 南京
 C. 武汉
 D. 鞍山

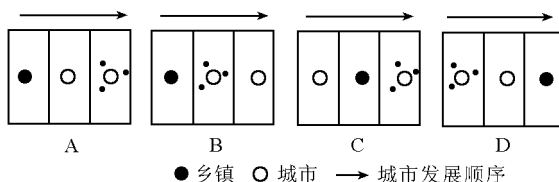
第三节 城市化(一)

一、填空题

1. 城市化:人口向_____集聚和城市范围不断_____,乡村变为城镇的过程。
2. 城市化的标志:(1)主要标志是城市人口在_____中的比重上升;(2)城市人口_____;(3)城市_____规模扩大。
3. 城市化的影响:(1)带来了_____形态的变化;(2)带来了生产方式、_____、价值观念的巨大变化。
4. 世界城市化的进程:
 - (1)发达国家起步_____,水平_____,已进入_____阶段。
 - (2)发展中国家起步_____,水平_____,处于初期阶段和_____阶段。
5. 城市化的特点:
 - (1)城市化进程大大_____;
 - (2)大城市数量猛增,大城市带出现;
 - (3)发达国家和发展中国家的城市化差异_____。

二、选择题

6. 下列关于城市化的叙述,正确的是 ()
 - A. 城市化的含义是指人口向城市集聚的过程
 - B. 一个国家或地区的城市化水平与其社会经济发展水平无关联性
 - C. 在城市化过程中,城乡居民人均收入、文化教育水平的差距不断缩小
 - D. 在城市化过程中,城乡居民的劳动方式、生活方式差距加大
7. 关于城市化过程的叙述,正确的是 ()
 - A. 发达国家农业人口向城市迁移有增无减
 - B. 发展中国家城市化速度低于发达国家
 - C. 发展中国家城市化水平随本国经济发展而提高
 - D. 发展中国家城市化速度高于发达国家
8. 世界城市化进程发展最快的时期是 ()
 - A. 产业革命以前
 - B. 产业革命至20世纪初
 - C. 第二次世界大战期间
 - D. 第二次世界大战结束以后
9. 第二次世界大战后,发展中国家城市化进程较快的主要原因是 ()
 - A. 大量引进外资,加强城市建设,城市规模迅速扩大
 - B. 发展中国家取得民族独立,经济迅速发展
 - C. 发展中国家轻视农业的发展,重视城市的发展
 - D. 发展中国家的社会经济发展水平较高,超过了发达国家
10. 关于发展中国家和发达国家城市化的对比,表达正确的是 ()
 - A. 发达国家目前的城市人口数比发展中国家多
 - B. 发达国家城市化起步早,城市化进程一直快于发展中国家
 - C. 发达国家城市化水平比发展中国家高
 - D. 发展中国家城市化速度就目前来看慢于发达国家
11. 下图中能正确反映城市发展一般规律的是 ()



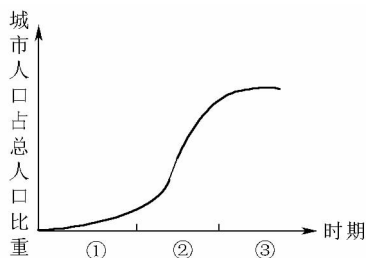
读国家统计局发布的“我国城市人口比重变化表”,依据表中有关数据完成12~13题。

12. 下列关于我国城市化进程的叙述,正确的是 ()
 - A. 城市人口的比重一直在上升
 - B. 新中国成立以后我国曾出现过短暂的逆城市化现象
 - C. 已经完全实现了城市化
 - D. 城市化进程取决于农业现代化发展
13. 今后我国城市化的方向应该是 ()
 - A. 大城市的人口向西部转移
 - B. 大城市的人口向中小城市转移
 - C. 农村人口向大城市转移
 - D. 农村人口向中小城市转移

我国城市人口比重变化表

时间(年)	城市人口比重(%)
1955	14.1
1964	18.2
1969	17.6
1974	17.2
1978	18.3
1984	22
1989	25.7
1994	28
2000	36.1

14. 由下图可知,当前多数发展中国家和发达国家城市化进程所处的阶段分别是 ()

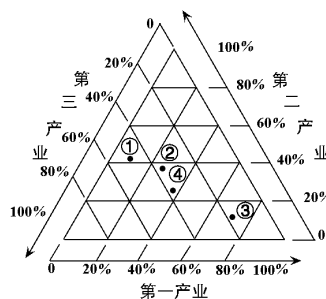


城市化进程示意图

A. ①② B. ①③ C. ②③ D. ③①

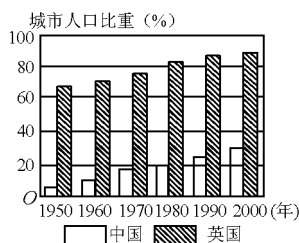
右图表示①②③④四个地区三个产业的就业构成。读图,回答 15 ~ 17 题。

15. ④地区第一、二、三产业的就业比例为 ()
 A. 37.6: 17.4: 45.0 B. 31.6: 30.5: 37.9
 C. 15.5: 24.5: 60.0 D. 37.6: 24.5: 37.9
16. 四个地区城市化水平最高的是 ()
 A. ① B. ② C. ③ D. ④
17. 四个地区中工业化程度最低的是 ()
 A. ① B. ② C. ③ D. ④



三、综合题

18. 读“中国和英国城市化进程柱状图”,分析回答下列问题。



- (1) 城市化是指_____人口向_____集中,_____地域向_____地域转化,_____向_____地区扩散的过程。
- (2) 从图中可以看出,英国城市化的特点是:①_____,②_____。
- (3) 英国城市化起步较早的原因是_____。目前该国出现了与城市化过程相反的人口流动现象,我们称之为_____现象。
- (4) 20 世纪 50 ~ 60 年代中期中国城市化过程的特点是_____。
 _____。60 ~ 70 年代中期城市化进程减缓是受_____影响。
- (5) 20 世纪 80 年代以后,中国城市化进程明显加快,其原因是_____。