



# 目 录



第一单元 侵略与反抗 .....	1	第 15 课 “宁为战死鬼， 不作亡国奴” .....	35
第 1 课 鸦片战争 .....	1	第 16 课 血肉筑长城 .....	36
第 2 课 第二次鸦片战争 期间列强侵华罪行 .....	3	第四单元 单元测试.....	38
第 3 课 收复新疆 .....	5	第五单元 人民解放战争的胜利.....	40
第 4 课 甲午中日战争 .....	6	第 17 课 内战烽火 .....	40
第 5 课 八国联军侵华战争 .....	8	第 18 课 战略大决战 .....	42
第一单元 单元测试 .....	9	第五单元 单元测试.....	44
第二单元 近代化的探索.....	12	第六单元 经济和社会生活.....	46
第 6 课 洋务运动.....	12	第 19 课 中国近代民族工业 的发展 .....	46
第 7 课 戊戌变法.....	14	第 20 课 社会生活的变化 .....	48
第 8 课 辛亥革命.....	16	第六单元 单元测试.....	49
第 9 课 新文化运动.....	18	第七单元 科学技术与思想文化.....	52
第二单元 单元测试.....	20	第 21 课 科学技术与思想 文化（一） .....	52
第三单元 新民主主义革命的兴起.....	22	第 22 课 科学技术与思想 文化（二） .....	54
第 10 课 五四爱国运动和 中国共产党的成立 .....	22	第七单元 单元测试.....	56
第 11 课 北伐战争 .....	24	期中测试.....	58
第 12 课 星星之火，可以燎原 .....	27	期末测试.....	61
第 13 课 红军不怕远征难 .....	29	本册知识要点整理.....	64
第三单元 单元测试.....	30		
第四单元 中华民族的抗日战争.....	33		
第 14 课 难忘九一八 .....	33		



# 第一单元 侵略与反抗



## 第 1 课 鸦片战争



### 教材基础知识针对性训练与基本能力巩固提高



#### 一、选 择。

1. 英国发动鸦片战争的根本原因是( )。  
A. 林则徐虎门销烟  
B. 清朝推行闭关政策  
C. 维护正常贸易  
D. 开辟国外市场、掠夺原料和倾销工业品
2. 领导虎门销烟的清朝官员是( )。  
A. 关天培          B. 林则徐          C. 黄爵滋          D. 陈化成
3. 1841 年 1 月, 以武力强占香港岛的是( )。  
A. 英国              B. 法国              C. 俄国              D. 日本
4. 英国发动鸦片战争时的中国皇帝是( )。  
A. 乾隆              B. 嘉庆              C. 道光              D. 光绪
5. 中国近代第一个不平等条约是( )。  
A. 《尼布楚条约》 B. 《南京条约》 C. 《北京条约》 D. 《天津条约》
6. 中国近代史的开端是( )。  
A. 五四运动          B. 鸦片战争          C. 新文化运动      D. 洋务运动

#### 二、材料分析。

材料一：

鸦片本属药材, 其性能提神、止泻……唯(由于)吸食既久……甚者气弱中干, 面灰齿黑, 明知其害而不能已。

——清大臣许乃济的奏章

材料二：

当鸦片未盛行之时, 吸者不过害及其身……迨(等到)流毒于天下, 则为害甚巨, 法

当从严。若犹泄泄（弛缓）视之，是使数十年后，中原几无可以御敌之兵，且无可以充饷之银。

——清大臣林则徐上道光皇帝折

请回答：

1. 根据材料一和材料二概括鸦片的危害。
2. 依据材料二概括林则徐禁烟的原因。
3. 你认为当代青少年对毒品应持什么态度？

三、简 答。

简述中英《南京条约》的内容及危害。

## 探究拓展能力强化训练与应用综合能力的养成

1. (2003 年山东省中考题) 规定割让香港岛给英国的不平等条约是( )。  
A. 《尼布楚条约》      B. 《南京条约》      C. 《北京条约》      D. 《天津条约》
2. (2003 年资阳市中考题) 中国近代史以鸦片战争为开端，最主要的原因是( )。  
A. 鸦片战争因中国战败而结束  
B. 鸦片战争后，中国开始从封建社会逐渐沦为半殖民地半封建社会  
C. 鸦片战争后，中国历史进入旧民主主义革命时期  
D. 鸦片战争后，中国人民开始了反抗外国侵略者的斗争
3. 读图 1 - 1。  
请回答：  
(1) 图 1 - 1 所反映的是什么事件？

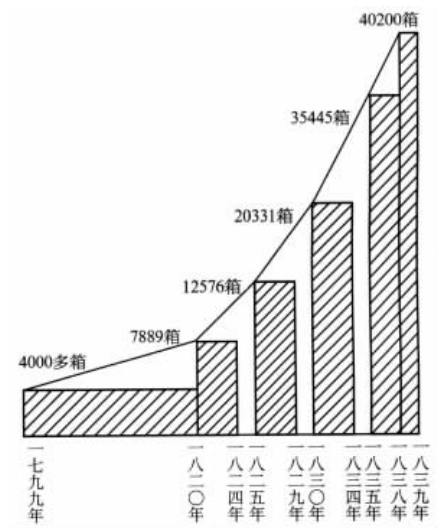


图 1 - 1

(2) 此事件出现的原因是什么？给中国带来了什么严重的后果？

## 第 2 课 第二次鸦片战争期间列强侵华罪行

### 教材基础知识针对性训练与基本能力巩固提高

#### 一、选择。

- 发动第二次鸦片战争的国家是( )。
 

A. 美、俄                  B. 英、法                  C. 日、德                  D. 英、俄
- 在第二次鸦片战争中，放火烧毁圆明园的侵略者是( )。
 

A. 八国联军                B. 英军                    C. 英法联军                D. 法军
- 19 世纪侵占中国领土最多的国家是( )。
 

A. 俄国                      B. 英国                    C. 法国                    D. 德国
- 太平天国的都城是( )。
 

A. 天津                      B. 北京                    C. 天京                    D. 永安
- 被太平军打死的洋枪队头目是( )。
 

A. 孤拔                      B. 赫德                    C. 顾盛                    D. 华尔

#### 二、材料分析。

法国大作家雨果说：有一天，两个强盗闯入了夏宫，一个动手抢劫，一个把它付诸一炬。原来胜利就是进行一场掠夺……有一个胜利者把一个个口袋都塞得满满的，至于那另外一个，也如法炮制，装满了好几口箱子。然后，他们双双拉着手荣归欧洲。

请回答：

1. 材料中的“两个强盗”指的是谁？“夏宫”指的是哪里？
2. 材料中所反映的事件发生在中国历史上的哪件大事期间？

### 三、填 表。

俄国通过不平等条约割占中国北方领土表

时间	不平等条约名称	割占领土范围	割占领土面积
1858 年	中俄《璦琿条约》		
	中俄《 》	中国乌苏里江以东、包括库页岛在内	约 40 万平方公里
1860 年	中俄《北京条约》		44 万多平方公里
1864 年	中俄《勘分西北界约记》		
19 世纪 80 年代	中俄《改订条约》以及以后 五个勘界议定书	中国西北部	

## 探究拓展能力强化训练与应用综合能力的养成

1. (2003 年资阳市中考题) 一位同学参加中央电视台“开心辞典”节目网上答题, 她正在回答的题目是选择中国近代史上割地最多的不平等条约。她的正确答案应是( )。  
A. 《璦琿条约》      B. 《南京条约》      C. 《北京条约》      D. 《天津条约》
2. (2003 年随州市中考题) 诗句“男将女将尽持刀, 同心放胆杀清妖”描写的情景出现在( )。  
A. 鸦片战争中      B. 甲午中日战争中      C. 义和团运动中      D. 太平天国运动中
3. (探究题) 为什么说第二次鸦片战争是鸦片战争的继续？

4. 读图 1 - 2。

请回答：

(1) 图 1 - 2 中的①②是哪国在中国历史上哪件大事期间割占的领土范围？

(2) 图 1 - 2 中的①②所表示的领土范围各是通过什么条约割占的？



图 1 - 2

(3) 这个国家共割占了我国东北和西北多少领土？

### 第 3 课 收复新疆



#### 教材基础知识针对性训练与基本能力巩固提高



#### 一、选择。

- 1865 年带兵侵入新疆的陆军司令是( )。
 

A. 左宗棠	B. 刘铭传	C. 阿古柏	D. 华尔
--------	--------	--------	-------
- 1878 年,除( )以外,新疆基本收复。
 

A. 伊犁	B. 喀什噶尔	C. 乌鲁木齐	D. 吐鲁番
-------	---------	---------	--------
- 提出不能“扶起东边倒却西边”,力主收复新疆的是( )。
 

A. 李鸿章	B. 左宗棠	C. 曾国藩	D. 张之洞
--------	--------	--------	--------
- 清政府在新疆设立行省是在( )。
 

A. 1878 年	B. 1881 年	C. 1884 年	D. 1889 年
-----------	-----------	-----------	-----------

#### 二、材料分析。

重新疆者,所以保蒙古,保蒙古者,所以卫京师。

——左宗棠《奏稿》

请回答：

1. 材料中反映了左宗棠的什么军事思想？

2. 左宗棠在收复新疆时所采取的策略是什么？

三、简 答。

简述左宗棠收复新疆的意义。

### 探究拓展能力强化训练与应用综合能力的养成

1. (2003年广安市中考题) 19世纪70年代率军收复新疆的清军将领是( )。  
A. 关天培      B. 刘铭传      C. 左宗棠      D. 冯子材

2. 材料分析。

大将筹边尚未还，湖湘子弟满天山。新栽杨柳三千里，引得春风度玉关。

请回答：

(1) 诗句中“大将”指的是谁？

(2) 此诗歌颂的是什么事件？

(3) 请用史实说明该地区自古就是中国的领土。

## 第4课 甲午中日战争

### 教材基础知识针对性训练与基本能力巩固提高

一、选 择。

1. 甲午中日战争爆发的时间是( )。  
A. 1883年底      B. 1884年      C. 1894年      D. 1895年

- 甲午中日战争中北洋舰队全军覆没是在( )中。  
A. 黄海海战      B. 辽东战役      C. 旅顺战役      D. 威海卫战役
- 中日《马关条约》中除割辽东半岛、澎湖列岛给日本外,割让的领土还有( )。  
A. 香港岛      B. 台湾      C. 广州      D. 澳门
- 最早允许列强在通商口岸开设工厂的条约是( )。  
A. 《南京条约》      B. 《北京条约》      C. 《马关条约》      D. 《天津条约》
- 下列人物是在黄海海战中牺牲的清军将领是( )。  
A. 邓世昌      B. 丁汝昌      C. 左宗棠      D. 李鸿章

## 二、材料分析。

春愁难遣强看山,往事惊心泪欲潸。四万万人同一哭,去年今日割台湾。

——丘逢甲《春愁》

银烛麝诗罢,牙旗校猎还。不知成异域,夜夜梦台湾。

——丘逢甲《往事》

城头蓬蓬擂大鼓,苍天苍天泪如雨,倭人竟割台湾去。

——黄遵宪《台湾行》

成败利钝非所睹,人人效死誓死拒,百代流求在我手,万众一心谁敢侮。

——黄遵宪《台湾行》

请回答:

材料中的诗句描写的是什么事件后诗人的感慨?表达了一个相同的主题是什么?

## 三、简 答。

简述《马关条约》的内容和影响。

## 探究拓展能力强化训练与应用综合能力的养成

- (2003年淄博市中考题)《马关条约》与19世纪40年代至60年代的不平等条约相比较,最显著的不同点是( )。  
A. 割地的面积      B. 赔款的数额      C. 开放的口岸      D. 开设工厂的特权
- (2003年资阳市中考题)“东沟海战天如黑,炮震烟弥船掀侧。致远鼓楫冲重围,万火丛中呼杀贼。”根据所学历史知识,下列选项中与此诗相关的历史事件是( )。  
A. 鸦片战争      B. 第二次鸦片战争      C. 中法战争      D. 甲午中日战争
- 读图1-3。

请回答:

(1) 图1-3中的人物是谁?

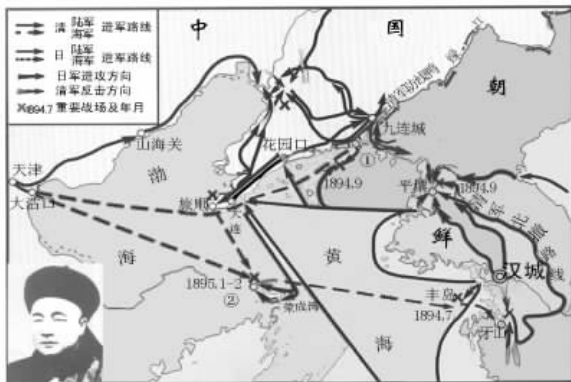


图 1 - 3

(2) 图 1 - 3 中的①②相对应的地点是哪里？

## 第 5 课 八国联军侵华战争



### 教材基础知识针对性训练与基本能力巩固提高



#### 一、选择。

- 义和团运动的斗争矛头直指( )。
  - 清朝统治者
  - 帝国主义侵略势力
  - 英法联军
  - 山东当地政府
- 率领八国联军从大沽到天津进犯北京的是( )。
  - 西摩尔
  - 华尔
  - 瓦德西
  - 璞鼎查
- 八国联军被义和团围困,并且死伤多人的地点是( )。
  - 天津
  - 北京
  - 大沽
  - 廊坊
- 中国近代历史上赔款数额最多的条约是( )。
  - 《南京条约》
  - 《北京条约》
  - 《马关条约》
  - 《辛丑条约》
- 中国完全沦为半殖民地半封建社会是在( )。
  - 第二次鸦片战争后
  - 中法战争后
  - 八国联军侵华战争后
  - 甲午中日战争后
- 瓦德西说:“中国此次所受毁损及抢劫之损失,其详数将永远不能查出。”这件事发生在( )。
  - 第二次鸦片战争中
  - 中法战争中
  - 甲午中日战争中
  - 八国联军侵华战争中

#### 二、材料分析。

清政府赔偿白银 4.5 亿两,以海关等税收作担保;清政府保证严禁人民参加反帝活动;

清政府拆毁大沽炮台，允许帝国主义国家派兵驻扎北京到山海关铁路沿线要地；划定北京东交民巷为使馆界，允许各国驻兵保护，不准中国人居住。

——《辛丑条约》

请回答：

结合材料，分析《辛丑条约》对中国当时的政治、经济、军事造成的影响。

### 三、简 答。

《辛丑条约》签订以后，有人认为清政府已成为洋人的朝廷。这种观点正确吗？为什么？

## 探究拓展能力强化训练与应用综合能力的养成

1. (2002年丽水市中考题)《辛丑条约》的签订使中国( )。  
A. 开始沦为半殖民地半封建社会  
B. 进一步加深了中国半殖民地化程度  
C. 大大加深了中国半殖民地化程度  
D. 完全沦为半殖民地半封建社会
2. (探究题)《辛丑条约》中划定北京东交民巷为使馆界与今天的使馆区有什么不同？

## 第一单元 单元测试

## 教材基础知识针对性训练与基本能力巩固提高

### 一、选 择。

1. 《南京条约》规定开放的通商口岸中位于最南端的是( )。  
A. 上海      B. 北京      C. 广州      D. 厦门
2. 关于近代中国社会性质的叙述，正确的是( )。  
A. 封建社会      B. 半殖民地半封建社会  
C. 殖民地      D. 资本主义社会
3. 英法联军焚烧圆明园是在( )。



2. (2003年内江市中考题) 1856年10月, 首先挑起第二次鸦片战争的是( )。
- A. 英国      B. 英国和法国      C. 美国      D. 美国和俄国
3. 读图1-4。



图1-4

请回答：

请在图1-4中标出中英《南京条约》中割让给英国的我国领土位置。

4. 请将下列字母所代表的事件填在表格中的相应位置。

- A. 中英《南京条约》    B. 火烧圆明园    C. 中日《马关条约》    D. 《辛丑条约》  
 E. 俄国割占中国东北外兴安岭以南、黑龙江以北60多万平方公里的土地    F. 黄海海战  
 G. 义和团抗击八国联军

鸦片战争	
第二次鸦片战争	
甲午中日战争	
八国联军侵华战争	



# 第二单元 近代化的探索



## 第6课 洋务运动



### 教材基础知识针对性训练与基本能力巩固提高



#### 一、选择。

1. 洋务派在中央的代表是( )。  
A. 曾国藩                      B. 左宗棠                      C. 奕訢                      D. 李鸿章
2. 洋务派提出“自强”、“求富”口号的本质是( )。  
A. 挽救民族危机                      B. 维护清朝统治  
C. 振兴祖国                      D. 壮大洋务派力量
3. 下列活动中不属于洋务运动的内容有( )。  
A. 设立译馆                      B. 兴办新式学堂  
C. 开办民用工业                      D. 改组军机处
4. 下列对洋务运动的评价,不符合历史事实的有( )。  
A. 使中国走上富强之路  
B. 兴办一批近代军事工业和民用工业  
C. 刺激了中国资本主义的发展  
D. 对外国经济势力的扩张起到了一些抑制作用

#### 二、材料分析。

材料一：

乾隆给英王的敕谕说：“天朝物产丰盈，无所不有，原不藉外夷货物以通有无。”

材料二：

清朝中期，内外交困。对如何摆脱困境，统治阶级内部意见产生分歧，与顽固派对立的派别，主张利用西方先进科学技术来维护清朝统治。

材料三：

引进国外资金、先进科学技术和企业管理经验，为我国社会主义经济建设服务，发展民族经济。

请回答：

1. 请根据材料一回答清朝前期统治者实行的是什么政策，及此政策对中国产生的最严重的危害是什么。

2. “主张利用西方先进科学技术来维护清朝统治”的是哪一派别？他们掀起了什么运动？请根据材料二判断。

3. 材料三说明我国实行的对外政策是什么？

三、简 答。

洋务运动的内容有哪些？应如何评价？



### 探究拓展能力强化训练与应用综合能力的养成



1. (2003年仙桃市中考题) 甲午中日战争战败后，李鸿章伤感地说：“我办了一辈子事，练兵也，海军也，都是纸糊的老虎……不过勉强涂饰，虚有其表。”从他的话中，我们更能看出洋务运动是( )。
  - A. 一次使中国走上富强道路的运动
  - B. 一次失败的封建统治者的自救运动
  - C. 一次资产阶级改良运动
  - D. 一次资产阶级民主革命运动
2. (2002年绍兴市中考题) 上海轮船招商局创办三年内，外商就损失1 300万两(白银)；湖北织布局投产后，江南海关每年洋布进口量减少10万匹。以上材料说明洋务运动( )。
  - A. 使中国走上了富强的道路
  - B. 引进了资本主义国家的一些先进技术

- C. 客观上刺激了中国民族资本主义经济侵略的发展
- D. 在一定程度上抑制了外国资本主义的经济侵略

3. 读图 2 - 1。




图 2 - 1

请回答：

(1) 图 2 - 1 的企业名称是什么？它是什么性质的企业？

(2) 这个企业是在中国什么历史事件中创办的？

## 第 7 课 戊戌变法

### 教材基础知识针对性训练与基本能力巩固提高

一、选择。

1. 维新派掀起变法维新运动的目的是( )。
  - A. 建立君主立宪制度
  - B. 救亡图存
  - C. 巩固清朝统治
  - D. 发展资本主义
2. 支持康有为等人进行维新变法的清朝皇帝是( )。
  - A. 道光帝
  - B. 同治帝
  - C. 光绪帝
  - D. 宣统帝
3. 戊戌变法中的戊戌年是指( )。
  - A. 1895 年
  - B. 1896 年
  - C. 1897 年
  - D. 1898 年

4. 戊戌变法失败的根本原因是( )。
- A. 袁世凯的出卖
  - B. 脱离群众和资产阶级的软弱性
  - C. 顽固派势力强大
  - D. 光绪帝没有实权
5. 戊戌政变时表示甘为变法流血牺牲的维新志士是( )。
- A. 谭嗣同
  - B. 梁启超
  - C. 康有为
  - D. 袁世凯

## 二、材料分析。

普遍设立中小学堂，京师设立大学堂。设立译书局，翻译外国书籍。准许创立报馆、学会。奖励科学著作和发明。改革科举制度，废除八股。

请回答：

1. 上述材料反映的是历史上的哪次改革？主要发起人有哪些？

2. 变法志士为推行变法开展了哪些活动？

3. 变法的结果如何？

## 三、简 答。

揭开维新变法运动序幕的历史事件是什么？“百日维新”是什么时候开始的？变法的内容有哪些？



## 探究拓展能力强化训练与应用综合能力的养成



1. (2003年河南省中考题) 直接引发“公车上书”的事件是( )
- A. 《马关条约》的签订
  - B. “门户开放”政策的提出
  - C. 德国强租胶州湾
  - D. 清政府宣布铁路国有
2. (2003年孝感市中考题) 中国近代最早的资产阶级思想启蒙运动是指( )
- A. 太平天国运动
  - B. 洋务运动
  - C. 戊戌变法运动
  - D. 新文化运动

3. 康有为向光绪帝呈递的《应诏统筹全局折》实际上是维新派的施政纲领，这是因为（ ）。
- A. 提出了各方面具体的变法建议  
 B. 主张实行君主立宪的政治体制  
 C. 系统论证了维新变法的理论  
 D. 明确指出变法是救亡图存的唯一出路
4. 读图 2 - 2。




图 2 - 2

请回答：

(1) 图 2 - 2 中的三幅图片之间是什么关系？

(2) “公车上书”出现的背景是什么？有什么意义？

## 第 8 课 辛亥革命



教材基础知识针对性训练与基本能力巩固提高



一、选择。

1. 第一个统一的革命组织是( )。
- A. 兴中会            B. 中国同盟会            C. 光复会            D. 国民党
2. 孙中山领导辛亥革命的指导思想是( )。