



目 录



第一章 从世界看中国	1	第二节 土地资源	41
第一节 辽阔的疆域	1	第三节 水资源	46
第二节 众多的人口	6	单元测试	50
第三节 多民族的大家庭	9	第四章 中国的经济发展	55
单元测试	12	第一节 逐步完善的交通运输网	55
第二章 中国的自然环境	17	第二节 因地制宜发展农业	60
第一节 地势和地形	17	第三节 工业的分布与发展	66
第二节 气候多样 季风显著	22	单元测试	70
第三节 河流和湖泊	27	期中测试	77
单元测试	31	期末测试	82
第三章 中国的自然资源	38	本册知识要点整理	86
第一节 自然资源总量丰富 人均不足	38		

12. 我国东部濒临的海洋自北向南依次是()。
- A. 渤海、黄海、南海、东海 B. 黄海、南海、东海、渤海
C. 南海、渤海、东海、黄海 D. 渤海、黄海、东海、南海
13. 我国的第一大岛是()。
- A. 海南岛 B. 台湾岛 C. 崇明岛 D. 香港岛
14. 北回归线自东向西穿过的我国省级行政单位是()。
- A. 台湾、广东、广西、云南 B. 福建、广东、广西、贵州
C. 台湾、福建、广东、广西 D. 福建、江西、广东、云南
15. 我国的行政区域分为()。
- A. 两级 B. 三级 C. 四级 D. 五级
16. 我国最近成立的直辖市是()。
- A. 北京 B. 上海 C. 天津 D. 重庆
17. 既有陆上国界线又有大陆海岸线(海陆兼备)的省是()。
- A. 广东、云南 B. 广西、云南 C. 吉林、辽宁 D. 辽宁、广西
18. 关于我国疆域的叙述正确的是()。
- A. 我国陆地疆域是 990 万平方千米
B. 大陆海岸线的长度短于陆上国界线的长度
C. 沿海岛屿的绝大部分分布在东海和黄海
D. 领土跨经度很广, 东西之间有 7 小时以上的时差
19. 下列省级行政区中有两个简称的是()。
- A. 云南、甘肃 B. 四川、湖北 C. 陕西、河南 D. 贵州、四川
20. 下列各组省市中与渤海相邻的是()。
- A. 辽宁、河北 B. 天津、山东 C. 辽宁、吉林 D. 山东、江苏
21. 下列位于黄河中下游的省是()。
- A. 山东 B. 江苏 C. 山西 D. 江西
22. 下列国家中面积大于我国的是()。
- A. 美国 B. 加拿大 C. 澳大利亚 D. 俄罗斯
23. 我国领土最东端是在()与()主航道中心线的相交处。
- A. 松花江 B. 鸭绿江 C. 黑龙江 D. 乌苏里江
24. 下列各组国家中与我国接壤的是()。
- A. 柬埔寨、越南、泰国 B. 哈萨克斯坦、吉尔吉斯斯坦、塔吉克斯坦
C. 缅甸、老挝、越南 D. 土库曼斯坦、乌兹别克斯坦、哈萨克斯坦

二、填 空。

1. 从东西半球看, 我国位于_____ , 从南北半球看, 我国位于_____ ; 从世界大洲和大洋位置看, 我国位于_____ 东部, _____ 西岸。
2. 我国大部分位于_____ 纬度地区, 属_____ 带, 南部少数地区位于北回归线以南的热带, 没有_____ 带。
3. 我国陆地面积约为_____ 万平方千米, 居世界第_____ 位, 仅次于_____ 和_____ 。我国陆上国界线长达_____ 多千米, 相邻的国家有_____ 个。
4. 我国领土的最北端在_____ 省, 以北的_____ 主航道中心线上, 最南端在_____ 。

_____海的_____群岛中的_____。

5. 我国领土的最东端在_____江与_____江_____的相交处，最西端在_____高原上。
6. 我国濒临的海洋，从北向南依次为_____海、_____海、_____海和_____海，它们都属于_____洋。我国的内海有_____海和_____海峡。
7. 我国的大陆海岸线长_____多千米，陆上国界线长达_____多千米。陆地上与我国相邻的国家有_____个，隔海与我国相望的国家有_____个。
8. 我国的行政区域基本分为_____、_____、_____三级，民族自治州属于_____级行政单位。我国共有_____个省级行政单位，包括_____个省，_____个自治区，_____个直辖市和_____个特别行政区。
9. 我国的民族自治区有_____个，它们分别是_____、_____、_____、_____和_____。我国面积最大的自治区是_____，面积最小的是_____。

三、综合。

1. 连线题。

(1) 将下列省区与其相对应的简称用线连起来。

- | | |
|----------|--------|
| ①北京 | A. 内蒙古 |
| ②内蒙古自治区 | B. 冀 |
| ③河北 | C. 京 |
| ④浙江 | D. 豫 |
| ⑤福建 | E. 桂 |
| ⑥河南 | F. 浙 |
| ⑦广西壮族自治区 | G. 宁 |
| ⑧海南 | H. 闽 |
| ⑨四川 | I. 琼 |
| ⑩宁夏回族自治区 | J. 川 |

(2) 将我国领土四至点与其相对应的位置及所属省区用线连起来。

- | 领土四至点 | 位置 | 所属省区 |
|-------|-----------------------------|--------|
| ①最东端 | A. 黑龙江省漠河以北的黑龙
江主航道的中心线上 | a. 新疆 |
| ②最南端 | B. 黑龙江与乌苏里江主航
道中心线的相交处 | b. 黑龙江 |
| ③最西端 | C. 南海的南沙群岛中的曾
母暗沙 | c. 海南 |
| ④最北端 | D. 新疆的帕米尔高原上 | |

2. 读图 1-1-1，回答下列问题。

- (1) A 省的名称是_____，行政中心是_____。
- (2) 请将其相邻的省级行政区的名称按代号填写在下面的横线上。
①_____，②_____，③_____，④_____，
⑤_____，⑥_____，⑦_____，⑧_____。

3. 读图 1-1-2（中国疆域示意图），回答下列问题。

- (1) 填出图中下列字母所代表的我国陆上邻国的名称。
A. _____，B. _____，C. _____，

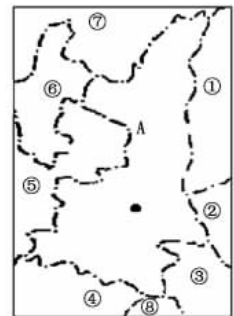


图 1-1-1

- D. _____, E. _____。
- (2) 填出图中下列字母所代表的与我国隔海相望的国家名称。
F. _____, G. _____, H. _____, I. _____, J. _____。
- (3) 填出图中下列代号所代表的我国临海的名称。
① _____, ② _____, ③ _____, ④ _____。

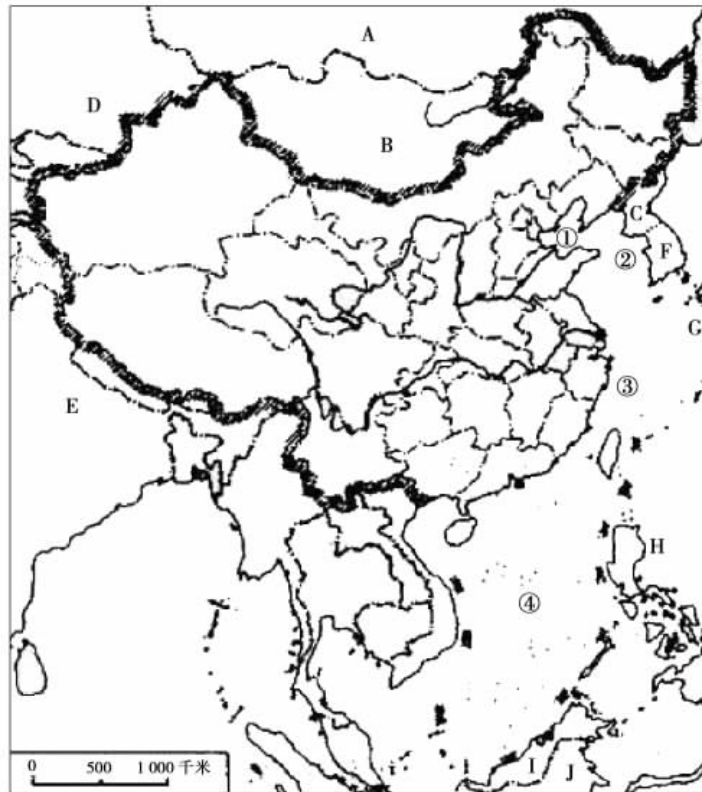


图 1 - 1 - 2

4. 读图 1 - 1 - 3, 回答下列问题。

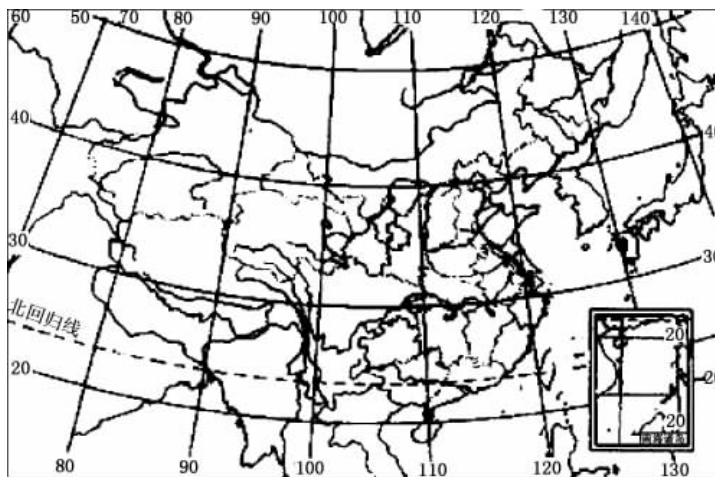


图 1 - 1 - 3 中国在地球上的位置示意图

- (1) 从经度看, 中国大约位于_____; 从纬度看, 中国大部分领土位于_____地区。

- (2) 从世界大洲的位置看，中国在_____；从大洋的位置看，中国在_____。
- (3) 北回归线穿过我国_____部，这就决定了我国大部分领土在_____带，小部分领土在_____带。



探究拓展能力强化训练与应用综合能力的养成



- 早上 8:00 (北京时间) 同学们在教室里上课时()。
 - 帕米尔高原已近黄昏
 - 帕米尔高原上太阳高悬
 - 乌苏里江仍是黑夜
 - 乌苏里江上太阳高悬
- 我国领土最南端的曾母暗沙属于()。
 - 西沙群岛
 - 东沙群岛
 - 南沙群岛
 - 中沙群岛
- 有一个地点，它的经度与纬度分别是 100°E 和 55°N ，那么它位于()。
 - 中国境内
 - 中国以南
 - 中国以北
 - 中国以东
- 我国陆上邻国最多的省区是()。
 - 新疆
 - 西藏
 - 内蒙古
 - 云南
- 我国纬度最低的省级行政单位是()。
 - 广东
 - 台湾
 - 海南
 - 云南
- 和台湾隔海相望的省是()。
 - 江苏
 - 浙江
 - 福建
 - 广东
- 下列省区按纬度由高到低顺序排列的一组是()。
 - 黑龙江、河北、辽宁、广东
 - 新疆、江西、广东、海南
 - 内蒙古、湖南、河南、广西
 - 河南、安徽、吉林、西藏
- 我们经常听到“巴山蜀水”这个名词，其中的“蜀”是()省的简称。
 - 重庆
 - 贵州
 - 四川
 - 湖南
- 图 1-1-4 为我国部分省区轮廓图，读图后请在下表中填出相关的内容。

图 号	a	b	c	d	e	f
省区名称						
简 称						
省会或首府						

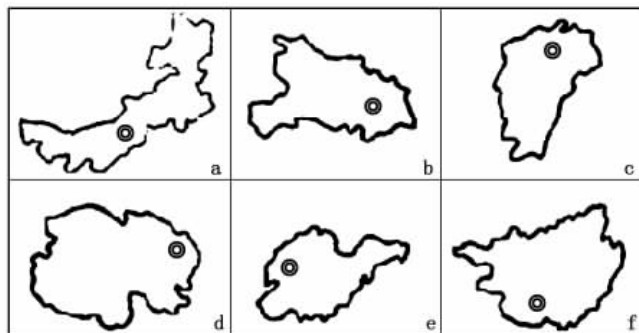


图 1-1-4

第二节 众多的人口



教材基础知识针对性训练与基本能力巩固提高



一、选择。

- 人口密度是指一个国家或地区()。
 - 单位面积土地上居住的人口数
 - 每平方米面积数
 - 人口的年平均增长数
 - 平均每人占有的土地面积数
- 我国下列地区中,人口平均密度居首位的地区是()。
 - 东南部地区
 - 西北部地区
 - 东部沿海平原
 - 西部绿洲平原
- 近年来,我国每年新增人口1 200万人左右,主要原因是()。
 - 人口出生率太高,死亡率太低
 - 城市化进程加快
 - 没有实行计划生育
 - 我国人口基数大
- 建国后,我国人口迅速增长的主要原因是()。
 - 商业活动日益频繁
 - 经济文化发展,医疗卫生条件明显改善
 - 人口居住地的自然条件有较大的改变
 - 社会劳动力的需求量日益增加
- 关于我国人口增长的叙述正确的是()。
 - 人口增长快,劳动力多,能够促进社会经济的发展
 - 人口增长快,创造的财富多,能够更快地提高人民生活水平
 - 人口增长过快,新增人口消耗的财富多,会给国家、社会和家庭增加过重的负担
 - 人口增长越慢越好,人口少消耗的资源少,有利于社会的持续发展
- 我国人口分布极不平衡,其疏密的分界线大致是()。
 - 内蒙古的漠河至云南的腾冲一线
 - 内蒙古的黑河至广西的腾冲一线
 - 黑龙江的黑河至云南的腾冲一线
 - 黑龙江的黑河至广西的腾冲一线
- 我国人口最多的省是()。
 - 山东
 - 四川
 - 江苏
 - 河南
- 下列关于我国人口分布特征的叙述,正确的是()。
 - 我国人口北方多,南方少
 - 我国人口东南多,西北少
 - 我国东部地区人口占全国总人口的94%,西部地区人口不到10%
 - 我国人口分布比较均匀
- 我国耕地面积世界第四,人均耕地面积世界第67;年产矿石量世界第三,人均年产矿石量世界第80;水资源总量世界第六,人均水资源量世界第88;森林面积世界第六,人均森林面积世界第121。这段材料说明()。
 - 我国资源丰富,资源利用不会受人口数量的影响
 - 我国人口规模庞大,制约了我国经济的发展和人民生活水平的提高
 - 人口过多不会对社会经济造成不利影响

D. 我国必须实行计划生育，减慢人口增长速度，以利于我国国民经济的发展

二、填 空。

1. 一个国家或地区平均每平方千米的人口数叫_____。
2. 根据 2000 年第五次人口普查，我国总人口为_____亿，占世界人口的_____，是世界上人口最多的国家。
3. 1949 年，我国大陆人口只有_____亿，1990 年已达_____亿。建国 40 年来，人口增长了一倍多。
4. 由于我国人口基数大，每年新增人口_____万左右，这给_____和_____带来了巨大的压力。
5. 为了使人口数量的增长，同社会经济发展和资源环境条件相适应，我国政府把_____作为一项基本国策。
6. 第五次人口普查的结果显示，我国平均人口密度为每平方千米_____人，是世界平均人口密度的_____倍多。
7. 我国黑龙江省黑河与云南省腾冲连线以东，面积仅占全国的 43%，而人口却占全国总人口的_____；西部地区面积虽占全国的 57%，而人口仅占全国的_____。这说明我国人口的分布特点是：_____。

三、综 合。

1. 根据下表中不同年份的中国人口数据资料，完成下列要求。

年 份	1949	1950	1960	1965	1970	1975	1980	1990	2000
人口（亿人）	5.4	5.5	6.6	7.3	8.3	9.2	9.9	11.4	12.95

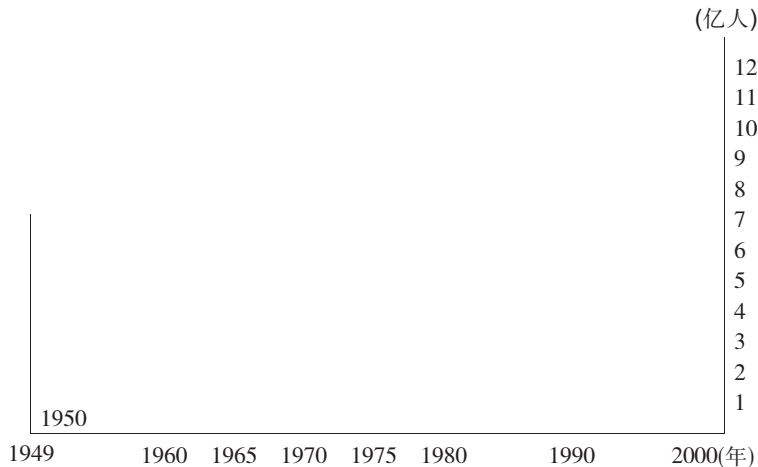


图 1 - 2 - 1

- (1) 在图 1 - 2 - 1 中绘制出 1949 ~ 2000 年人口增长曲线图。
- (2) 2000 年，中国人口总数达_____亿，与 1950 年相比，中国人口增长了_____倍。
- (3) 根据绘制的人口增长曲线图回答下列问题。
 - ①20 世纪 70 年代以来，中国人口增长的特点是：_____
 - ②人口迅速增长的主要原因是：_____

2. 读图 1 - 2 - 2，回答下列问题。

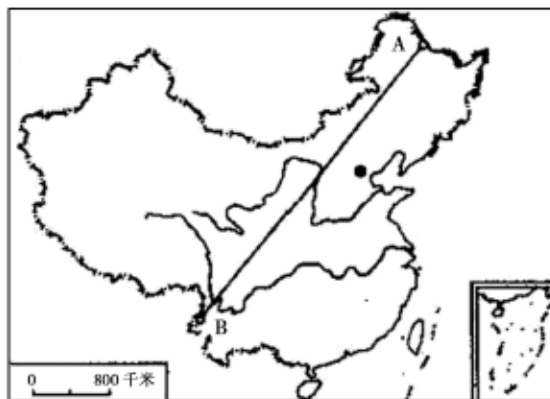


图 1 - 2 - 2

- (1) 图中 A、B 代表的地理名称分别是：A. _____，B. _____。
- (2) 大体以 A、B 连线为界，东部地区面积占全国总面积的 _____，人口却占全国的 _____；西部地区面积占全国总面积的 _____，人口却占全国的 _____。因此，东部地区人口密度 _____，西部地区人口密度 _____。
- (3) 人口密度每平方千米 400 人以上的有 _____ 平原和 _____ 盆地，主要的省和直辖市有：_____。



探究拓展能力强化训练与应用综合能力的养成



- 同学们都知道“实行计划生育，控制人口增长”是我国的基本国策，这是因为()。
 - 我国工农业都不发达，根本就无法养活众多的人口
 - 我国人口自然增长率居世界首位
 - 人口增长过快，会给社会经济发展和资源环境带来巨大的压力
 - 我国的各类自然资源总量少
- (现实生活应用题) 已知北京市 2000 年人口数量是 1 382 万人，北京市总面积为 1.68 万平方千米。北京市的人口密度为()。
 - 12 平方千米/人
 - 12 人/平方千米
 - 823 平方千米/人
 - 823 人/平方千米
- 70 年代以来，我国人口出生率由 1970 年的 33% 下降到 1990 年的 21%，据推算共少生 2 亿多人，目前每年约增加 1 200 万人口。这说明()。
 - 计划生育成效显著
 - 人口问题依然严峻，计划生育不能放松
 - 我国没有人权
 - 人口越少越有利于经济发展
- 读图 1 - 2 - 3，在表中填入各省、市、区的人口数（估读一位小数），并计算它们的人口密度（保留一位小数）。

省级行政区	四川	江苏	山东	北京	西藏
面积（万平方千米）	56	10	15	1.7	120
人口（千万人）					
人口密度（人/平方千米）					

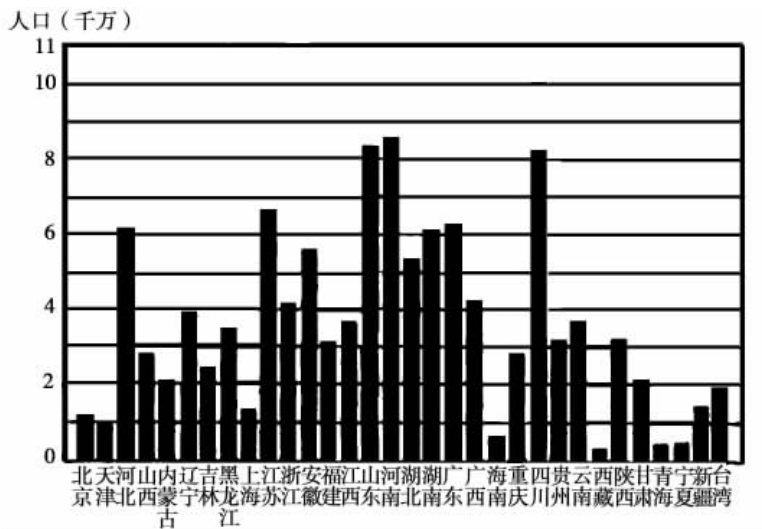


图 1-2-3 全国各省、自治区、直辖市的人口数量 (1990 年)

第三节 多民族的大家庭

教材基础知识针对性训练与基本能力巩固提高

一、选择。

- 我国的少数民族有()。
 - 55 个
 - 56 个
 - 58 个
 - 102 个
- 我国汉族人口最多, 约占全国总人口的()。
 - 60%
 - 75%
 - 92%
 - 99%
- 我国人口最多的少数民族是()。
 - 汉族
 - 维吾尔族
 - 壮族
 - 回族
- 我国少数民族集中分布的地区是()。
 - 东北和东南
 - 西北和西南
 - 东南和西南
 - 东南丘陵地区
- 我国信仰伊斯兰教的民族有()。
 - 蒙古族和回族
 - 朝鲜族和满族
 - 回族和维吾尔族
 - 高山族和壮族
- 我国信仰喇嘛教人口较多的民族有()。
 - 蒙古族和回族
 - 满族和藏族
 - 回族和维吾尔族
 - 藏族和蒙古族
- 下列关于我国民族的说法不正确的是()。
 - 实行民族区域自治政策
 - 汉族为缔造新中国作出了突出贡献
 - 尊重各少数民族的语言、文字、宗教信仰和风俗习惯
 - 各民族一律平等
- 我国少数民族中, 分布最广的是()。
 - 哈尼族
 - 回族
 - 藏族
 - 朝鲜族

- | | | |
|--------|-------|------|
| C. 畲族 | c. 云南 | ③兰州 |
| D. 白族 | d. 甘肃 | ④杭州 |
| E. 保安族 | e. 广西 | ⑤哈尔滨 |

(3) 将下列少数民族与其主要聚居区用线连起来。

- | | |
|---------|-------|
| A. 侗族 | ①西南地区 |
| B. 满族 | ②西北地区 |
| C. 瑶族 | ③东北地区 |
| D. 哈萨克族 | |

2. 读图 1 - 3 - 1, 回答下列问题。

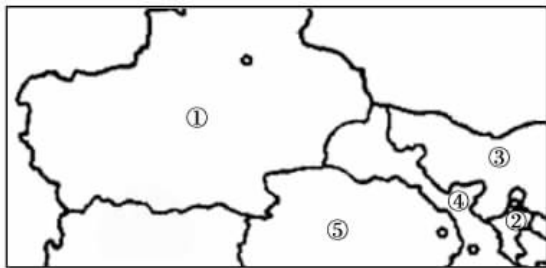


图 1 - 3 - 1

- (1) 图中序号表示的省和自治区是: ①_____, ②_____, ③_____, ④_____, ⑤_____。
- (2) 我国面积最大的省区是_____, 与其相邻的国家有_____, _____、_____, _____、_____和_____。
- (3) 我国领土最西端的地区是_____, 经度约为_____。
- (4) 图中分布的少数民族人口超过 400 万 (1990 年) 的有_____, _____、_____和_____。



探究拓展能力强化训练与应用综合能力的养成



1. (现实生活应用题) 同学们都知道我国是一个多民族的国家, 有 56 个民族。下列关于我国少数民族的叙述, 正确的是()。
- A. 少数民族同汉族的分布界线十分清楚
 B. 我国是个多民族的国家, 全国有 56 个少数民族
 C. 我国少数民族人口较少, 只占全国人口的 10%
 D. 我国少数民族大多数同汉族交错分布
2. (现实生活应用题) 我国的许多民族都有自己的文字, 请你选出 “GOU GYAEZ CUZGHGOZ (我爱中国)” 是() 的文字。
- A. 蒙古族 B. 维吾尔族 C. 朝鲜族 D. 壮族
3. 北回归线从西向东穿过的省区与下列民族排列相对应的是()。
- A. 藏族、高山族、壮族、汉族 B. 汉族、壮族、傣族、高山族
 C. 壮族、傣族、高山族、汉族 D. 傣族、壮族、汉族、高山族
4. 下列关于我国民族政策的叙述, 错误的是()。

- A. 在各少数民族聚居的地方实行民族区域自治
 B. 各民族都有保持或改革自己的风俗习惯的自由
 C. 各民族都有宗教信仰自由
 D. 各民族可以自由使用本民族的语言文字，但为推动民族地区发展，国家规定普通话为各民族的共同语言
5. 我国实行民族区域自治的省级行政单位有下列的()。
- A. 新疆、贵州 B. 青海、西藏 C. 内蒙古、甘肃 D. 广西、宁夏
6. 读图 1 - 3 - 2，回答下列问题。



图 1 - 3 - 2

- (1) 图 1 - 3 - 2 中的_____族人口在 1 500 万以上，居住在我国西南地区。
- (2) 我国少数民族人口约占全国的_____，分布地区占全国总面积的_____，主要居住在_____、_____和_____地区。

单元测试

教材基础知识针对性训练与基本能力巩固提高

一、选择。

1. 下列国家中，与我国隔海相望的是()。
- A. 越南 B. 马来西亚 C. 朝鲜 D. 缅甸
2. 我国领土最北端位于()。
- A. 新疆的帕米尔高原上
 B. 黑龙江与乌苏里江主航道中心线的相交处
 C. 黑龙江省漠河以北黑龙江主航道的中心线上
 D. 南海的南沙群岛中的曾母暗沙
3. 既濒临海洋，又与陆上邻国相连的省区是()。
- A. 吉林 B. 云南 C. 广西 D. 辽宁
4. 下列海域中，属于我国内海的是()。
- A. 渤海 B. 黄海 C. 台湾海峡 D. 南海
5. 下列省区中，与俄罗斯相邻的有()。
- A. 辽宁 B. 黑龙江 C. 西藏 D. 内蒙古

6. 从海陆疆域来看, 下列国家与中国相似的是()。
- A. 英国 B. 日本 C. 蒙古 D. 美国
7. 我国三级行政区域是指()。
- A. 省、县、乡 B. 省、自治区、直辖市
C. 省、县、市 D. 国家、首都、省
8. 我国纬度位置最南端的省级行政区是()。
- A. 台湾 B. 广东 C. 海南 D. 云南
9. 关于我国疆域的叙述, 正确的是()。
- A. 我国南北跨纬度近 50° , 东西跨经度约 60° , 因此东西距离大于南北距离
B. 我国陆地领土面积约为 960 万平方千米, 管辖的海域面积约为 300 万平方千米
C. 我国的大陆海岸线长 20 000 多千米
D. 我国陆上国界线长 18 000 千米
10. 下列省区与所处区位的组合, 正确的一组是()。
- ①内蒙古——东北 ②安徽——黄河中下游 ③福建——南部沿海 ④甘肃——西北
- A. ②③ B. ①③ C. ①② D. ③④
11. 下列省区的名称、简称与行政中心的组合, 正确的是()。
- A. 吉林——吉——吉林 B. 广东——广——广州
C. 贵州——贵——贵阳 D. 山东——豫——济南
12. 我国跨经度最多的省级行政单位是()。
- A. 黑龙江 B. 海南 C. 新疆 D. 内蒙古
13. 下列关于我国省区与其简称的连线, 正确的一组是()。
- A. 黑龙江——黑 B. 福建——皖 C. 江苏——闽 D. 山东——冀
14. 我国平均人口密度为每平方千米()。
- A. 120 人 B. 39 人 C. 50 人 D. 134 人
15. 下列省区中, 人口最稠密的是()。
- A. 江苏 B. 陕西 C. 甘肃 D. 青海
16. 我国五个自治区中, 临海的是()。
- A. 内蒙古 B. 广西 C. 西藏 D. 宁夏
17. 我国少数民族中人口最多的是()。
- A. 满族 B. 回族 C. 壮族 D. 苗族
18. 关于我国各民族地区分布状况的叙述, 正确的是()。
- A. 汉族集中分布在东部和中部, 少数民族集中分布在西部边疆地区
B. 各少数民族主要分布在西南、西北和东南地区
C. 我国几乎没有一个县或者市的居民是单一民族的
D. 各民族的分布具有“大杂居, 小聚居”的特点
19. 下列关于少数民族风俗习惯的说法, 正确的是()。
- A. 摔跤是哈萨克族传统的体育比赛项目 B. 泼水节是傣族的传统节日
C. 跳板是蒙古族喜爱的体育活动 D. 孔雀舞是朝鲜族的民间舞蹈
20. 下列关于我国各民族地位的叙述, 正确的是()。
- A. 各民族不论大小, 一律平等

- B. 维护和发展各民族的平等、团结、互助关系
- C. 在少数民族居住的地区实行民族区域自治
- D. 为了推广普通话，各民族必须一律使用普通话

21. 到 2000 年，我国人口最多的省是()。
- A. 四川 B. 河南 C. 山东 D. 江苏
22. 我国人口的突出特点是()。
- A. 人口基数大，人口增长快 B. 人口基数小，人口增长快
- C. 人口基数大，人口增长慢 D. 人口基数小，人口增长慢
23. 下列关于我国民族政策和原则的叙述，不正确的是()。
- A. 各民族不论大小，一律平等
- B. 在少数民族聚居区，实行民族区域自治
- C. 尊重各民族自己的风俗习惯
- D. 国家强制各少数民族信仰宗教
24. 下列少数民族中，建立了省级行政自治机关，并行使自治权力的是()。
- A. 回族、布依族 B. 满族、蒙古族 C. 满族、瑶族 D. 回族、壮族

二、填 空。

1. 我国位于_____洲的东部，_____洋的西岸。
2. 我国领土的最东端在_____江与乌苏里江主航道中心线的相交处，最北端在黑龙江省_____以北的黑龙江主航道的中心线上。
3. 我国的人口密度为_____，但各地人口分布不均，_____部地区人口密度大，_____部地区人口密度小。我国人口分布的特点是_____多，_____少。
4. 到 2002 年 12 月 31 日，全国共有_____个省级行政单位。
5. 到 2000 年 11 月，我国第五次人口普查统计，我国大陆总人口已达_____亿。
6. 我国共有_____个民族，其中人口最多的少数民族是_____族。
7. 我国汉族人口约占全国总人口的_____，其他 55 个少数民族约占全国总人口的_____。汉族和各少数民族统称为_____。
8. 为了使人口的增长同经济的发展相适应，我国把实行_____作为一项长期的基本国策。
9. 我国有_____个省，_____个自治区和_____个直辖市。在我国分布地区最广的民族是_____、_____。
10. 我国跨经度最大的省区是_____，最东端的省区是_____。我国领土南北跨了近 50 个纬度，大部分在_____带，少部分在_____带。
11. 与我国隔海相望的国家有_____个，它们分别是_____、_____、_____、_____、_____、_____。
12. 我国面积最大的省区是_____，与我国北部接壤的内陆国是_____。

三、综 合。

1、连线题。

- | | |
|-----------|--------------------------|
| (1) A. 中国 | ①世界第二大内陆国 |
| B. 美国 | ②海陆兼备，陆上国界线长达 20 000 多千米 |
| C. 英国 | ③三面国土濒临海洋 |
| D. 蒙古 | ④四面环海的岛国 |

(2) 将下列省级行政区与其简称连起来。

- | | |
|------------|----|
| A. 重庆 | ①澳 |
| B. 贵州 | ②桂 |
| C. 广西 | ③渝 |
| D. 甘肃 | ④黔 |
| E. 澳门特别行政区 | ⑤陇 |

(3) 将下列的省区与陆上相邻的国家连起来。

- | | |
|-----|-------|
| ①辽宁 | A. 蒙古 |
| ②吉林 | B. 印度 |
| ③甘肃 | C. 朝鲜 |
| ④西藏 | D. 越南 |
| ⑤云南 | E. 缅甸 |
| ⑥广西 | |

(4) 将下列人口分布与其对应的行政区划有关的内容连起来。

- | | |
|-----|-------------------|
| ①西藏 | A. 我国人口密度最大的省区 |
| ②山东 | B. 我国人口密度最小的省区 |
| ③河南 | C. 我国人口数量最多的沿海城市 |
| ④广西 | D. 我国人口数量最多的民族自治区 |
| ⑤上海 | E. 我国人口数量最多的省区 |

2. 读图题。

读下列各省区的轮廓图（图 1 - 1），完成下列内容。

(1) 填写下面的表格。

图 号	①	②	③	④	⑤	⑥
省的名称	广东					山东
省的简称		鄂			黑	
省会城市			昆明	西安		

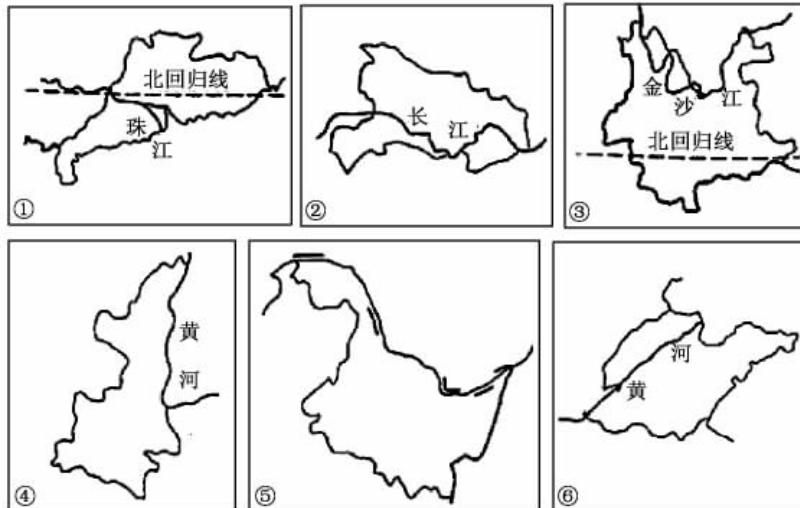


图 1 - 1

- (2) 黑河至腾冲是我国人口分布的地理分界线，位于该线最北端的黑河所在的省区是_____，位于该线最南端的腾冲所在的省区是_____。该线反映的我国人口分布的基本特点是：此线以东，人口_____，此线以西，人口_____。
- (3) 图 1 - 1 中，属于我国西部大开发范围内的省区是_____。

探究拓展能力强化训练与应用综合能力的养成

- 世界上人口最多的国家是()。

A. 日本 B. 美国 C. 印度 D. 中国
- 下列国家中，全部与我国陆地相邻的国家是()。

A. 朝鲜、蒙古 B. 俄罗斯、孟加拉国 C. 缅甸、泰国 D. 尼泊尔、韩国
- (现实生活题) 下列这些图片(图 1 - 2)中，民族为朝鲜族的是()。



图 1 - 2

- 下列地区(图 1 - 3)中，有我国高山族主要分布的省级行政单位是()。

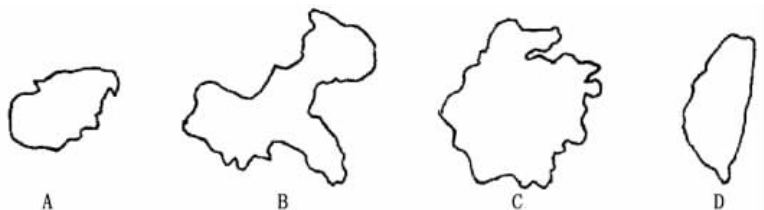


图 1 - 3

- (图表题) 读图 1 - 4 (省级行政区轮廓图)，回答下列问题。

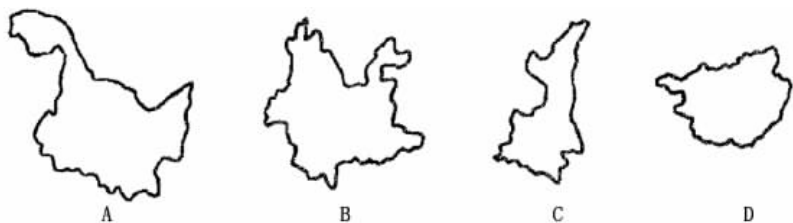


图 1 - 4

- 图 1 - 4 中四个省区分别为：A. _____，B. _____，C. _____，D. _____。
- 其中临海的是_____，陆上同邻国接壤的有_____。
- 有北回归线穿过的是_____，我国领土最北端和最东端所在的省是_____。
- 有两个简称的是_____，少数民族最多的是_____。