

PREFACE

前言

知道你学习辛苦,志鸿人愿伴你快乐走路;

知道你不甘人后,志鸿人愿陪你不断追求;

知道你满怀期望,志鸿人愿随你共同飞翔。

《高中同步测控全优设计》饱含着志鸿人的人文关怀,承载着志鸿人的爱心与智慧,致力与打通“思考思路思想”与“情感态度价值观”两大通道,帮助你在学习的过程中找到成长的感觉、成功的喜悦、成才的幸福!

你手中的这本《高中同步测控全优设计》以理念统帅板块,以板块整合栏目,以栏目组织内容。从板块到栏目,从形式到内容,都紧紧扣准新教育、新人文、新课程的脉搏,做到“继承、创新、适应、引导”四位一体,为此,本书设置了三大板块:【温故知新】【互动课堂】与【主动成长】。

【温故知新】在链接并温习已学知识的基础上,加强对新知识的预习与掌握,使前后内容有机交融、一脉相承。在这一板块中,我们设置了两个栏目:“新知预习”“知识回顾”。“新知预习”去粗取精,呈现出新知识的精华部分,并引导你自主掌握知识重点。“知识回顾”承前启后,为前后知识的学习搭起一座桥梁,并使知识在课内课外都得到再现与应用。

【互动课堂】倡导师生互动、生本互动,旨在让你实现从被动到主动的根本转变。在这一板块中,我们设置了两个栏目:“疏导与引导”“活学与巧用”。“疏导与引导”既有对主干知识和学习方法的疏导与引导,又有针对主干知识的精选例题、精彩解析及精到升华,“活学与巧用”凸现的是实践运用的风范与力量、探究创新的思路与乐趣、提高升华的深度与高度。

【主动成长】留给你一片自主锤炼、主动发展的天空,让你在第一时间成为学习的主人、创新的主人。在这一板块中,我们设置了两个栏目:“夯基与达标”“走近新高考”。“夯基与达标”展示的是知识点覆盖面广泛的基础题,为你搭建一个夯实基础、稳扎稳打、步步为营的平台,“走近新高考”展示的是2005年、2006年的高考真题和模拟题,让你提前触摸高考、感受高考,做到有备无患。

本书图标形象生动、体例明确清晰、版式活泼大方,内容科学严谨,图文并茂的全优设计,用智慧和爱心铸造中国教辅第一品牌

计既做到了“活”而不乱 ,又做到了“实”而不死 ,是一本容易让你产生阅读冲动、爱不释手的教辅读物。

志鸿人已把教育作为自己的生命 ,正在创造着一个又一个的奇迹。志鸿人愿做一只合格的领头雁 ,翱翔天际 ,飞向远方 ,实现理想 !

《新课标同步测控全优设计》编写组



CONTENTS

目录

第一单元 蓬勃发展的旅游业	1	温故知新	33
第一节 长盛不衰的“朝阳产业”	1	互动课堂	34
温故知新	1	主动成长	35
互动课堂	2	单元测评	37
主动成长	3	第三单元 旅游资源评价与旅游规划	40
第二节 旅游业对社会发展的作用	5	第一节 旅游资源评价	40
温故知新	5	温故知新	40
互动课堂	6	互动课堂	40
主动成长	8	主动成长	43
单元测评	10	第二节 旅游规划	46
第二单元 旅游景观欣赏与旅游活动设计	13	温故知新	46
第一节 旅游资源及其特点	13	互动课堂	46
温故知新	13	主动成长	49
互动课堂	14	单元测评	52
主动成长	18	第四单元 旅游与区域可持续发展	54
第二节 旅游景观欣赏	21	第一节 旅游对地理环境的影响	54
温故知新	21	温故知新	54
互动课堂	22	互动课堂	54
主动成长	25	主动成长	57
第三节 旅游活动设计	27	第二节 旅游环境保护	59
温故知新	27	温故知新	59
互动课堂	28	互动课堂	60
主动成长	30		
第四节 旅游安全防范	33		



主动成长	62
单元测评	65
综合测试	67
解析与答案	71





第一单元 蓬勃发展的旅游业

第一节 长盛不衰的“朝阳产业”



一、旅游与旅游活动

(一) 旅游及其发展

旅游是人类社会经济和文化发展到一定阶段的产物,其发展的历史大致可以分为三个阶段:_____、_____、_____。

(二) 旅游活动

1. 旅游活动由_____、_____和_____三个基本要素构成。
2. 按地域范围,可将旅游活动划分为_____和_____。
3. 按旅游目的,可将旅游活动划分为多种类型,包括_____、_____和专项旅游。

二、旅游业及其构成

1. _____、_____和_____被称为“旅游业”的三大支柱。
2. 在我国,旅行社按照经营范围,可分为_____和_____两类。
3. 旅游交通可分为_____和_____两大类型。

三、旅游业的主要特点

1. 旅游业的主要特点包括_____、_____、_____、_____和脆弱性。
2. 旅游业通过促进_____和向_____提供便利服获取收入,是一项具有_____性质的经济产业。作为国民经济的重要组成部分,旅游业属于_____产业。



一、旅游者具备的条件

一个人要成为旅游者必须具备三方面的条件,即经济条件、闲暇时间和旅游动机。经济条件对旅游者的旅游活动具有决定意义。闲暇时间也是社会发展的产物。科学技术进步,生产力水平提高,劳动生产率增长,必然导致劳动时间缩短,闲暇时间增多,从而为人们外出旅游创造时间上的条件。旅游动机是推动人们进行旅游活动的心理因素。旅游动机产生于旅游的需求,没有旅游的需求就不会产生旅游动机,而没有旅游动机,就没有旅游的行动。

二、形形色色的现代旅游

旅游活动形形色色、五花八门。如观光旅游、现代休闲旅游、度假旅游、购物旅游、商务旅游、美食旅游、文化旅游、生态旅游、宗教旅游、民俗旅游、体育旅游、健身旅游、公务旅游、修学旅游等。

三、近年来为什么“黄金周”出行的游客相对减少?

导致“黄金周”出行的游客减少的因素有很多,如:“黄金周”出游人太多,住宿、出行都很不方便,使许多人不愿外出游玩,一些游客有意识地避开“黄金周”;“黄金周”期间,一些景点票价上涨,食宿涨价,也制约了一部分人群的旅游消费欲望。

“黄金周”里的旅游服务质量,也是影响人们出游的一个因素。





一、旅游发展历史

旅游活动自古就有,其发展大约经历了三个阶段。

第一阶段是在 1841 年以前,这一时期的旅游活动称古代旅游,旅游活动只局限于一定社会阶层内的少数人,出游的距离较短,旅游的需求为个体需求。

第二阶段是从 1841 年至 1950 年,这一时期称近代旅游,首次出现了以盈利为目的、面向普通人的专门化旅游服务,随之诞生了旅行社。这一时期的旅游需求向群体发展。

第三阶段是 1950 年至今,这一时期的旅游活动称现代旅游。随着交通运输条件的改善、科技革命推动世界经济的发展,旅游业已形成一个专门化的产业,这时旅游已成为大众的需求。

旅游活动发展阶段如表所示:

时间	1841 年以前	1841~1950 年	1950 年以后
旅游需求	个体需求	群体需求	大众需求
产业特征	前产业化阶段	初级产业化阶段	高度产业化阶段
历史阶段	古代旅游	近代旅游	现代旅游

二、旅游活动及分类

旅游活动	基本要素	旅游者	海外游客	主体	
			国内游客		
		旅游资源		客体	
		旅游业			纽带
	分类	按地域	国际旅游		
			国内旅游		
按目的		度假旅游			
		观光旅游			
		事物旅游			
专项旅游					

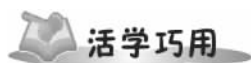
三、旅游业的主要特点

1. 综合性

旅游业要为旅游者提供食、住、行、游、购、娱等各方面的服务,因此,与这些部门相关的行业和部门比较多,具有较强的综合性。

2. 服务性

旅游企业主要通过为旅游者提供劳动服务而获得收入,人力成本



- 1 下列有关旅游发展过程的叙述,不正确的是 ()
- A. 1841 年,首次出现了以盈利为目的、面向普通人的专门化旅游服务
 - B. 近代旅游时期的旅游活动仍然是一种高档消费,其普及程度、活动范围和规模仍然有限
 - C. 在古代社会,旅游活动已遍及到社会各层
 - D. 超音速大型客机的出现,促使近代旅游以前所未有的速度向前发展

解析:旅游活动自古就有,古代社会旅游活动只局限于一定社会阶层的少数人,事务性出游的占绝大多数。到了 1841 年在英国首先出现了以盈利为目的、面向普通人的专门旅行社,但这一期间的旅游活动仍然是一种高档消费,其普及程度、活动范围和规模仍有限。

答案:C

- 2 下列关于现代旅游六要素的地位,叙述正确的是 ()
- A. “游”是旅游活动的基本条件
 - B. “食”和“宿”是增加旅游收入的唯一途径
 - C. “购”是旅游活动的核心
 - D. 旅游景区的吸引力是“娱”和“购”兴旺的基础

解析:在旅游六要素中,“游”是旅游活动的核心,其他活动都是围绕其进行的;“行”是旅游活动的基本条件,是旅游活动的开始;“购”“娱”“食”“宿”虽然都能增加旅游收入,但由于“购”和“娱”涉及面广,是增加收入的重要途径。

答案:D

- 3 北京旅游业的开放思路是“北京的旅游业要想加快对外开放步伐,就必须在稳定入境旅游的基础上,重点发展奖励旅游和修学旅游”。北京旅游业的发展思路反映出现代旅游的一大特点是 ()
- A. 旅游主体的大众化
 - B. 旅游空间的扩大化



在企业成本中占据较高的比重,所以旅游业是一种劳动密集型产业。

3. 涉外性

在接待海外旅游者和组织本国居民出境旅游的过程中,其业务性质具有涉外性的特点。

4. 关联带动性

旅游业基本上是劳动密集型的产业,还是综合性很强的产业,能够提供大量的就业机会。

5. 脆弱性

由于旅游需求受到各种因素的影响,而其中有些因素不是本国因素所能控制的。因而易受到自然和社会因素的干扰而产生较大的波动。

- C. 旅游方式和内容的多样性
- D. 旅游目的的娱乐性

解析:奖励旅游和修学旅游都是新的旅游形式。

答案:C

4 旅游空间扩大化主要是由于 ()

- A. 旅游资源的价值不断提高
- B. 人类文化素质的不断提高
- C. 交通运输业的不断发展
- D. 新景点不断被开发

解析:旅游空间扩大化是指人类涉足的旅游空间范围不断扩大,这主要得益于交通的发展。日益高速化、网络化的交通使空间距离不断缩短。如人们可以乘飞机去海南岛,甚至去国外旅游,但如果沒有方便的交通条件,不管旅游资源怎样引人入胜,人们也无法前去游览。

答案:C



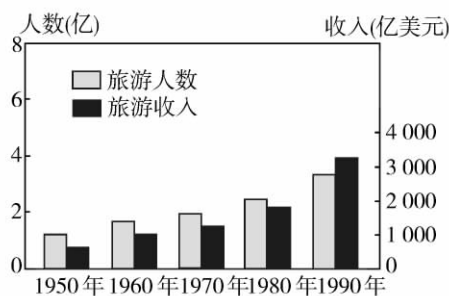
- 1 旅游的主体是 ()
 - A. 旅游者
 - B. 旅游资源
 - C. 旅游业
 - D. 休闲时间
- 2 1841年,首次以盈利为目的、面向普通人的专业化旅游服务出现在下列哪个国家 ()
 - A. 美国
 - B. 德国
 - C. 英国
 - D. 法国
- 3 与传统旅游相比,现代旅游的发展特点中,不符合的一点是 ()
 - A. 旅游主体的阶级化
 - B. 旅游形式的多样化
 - C. 旅游空间的扩大化
 - D. 旅游目的的娱乐化
- 4 增加旅游业收入的重要途径是 ()
 - A. 食、宿
 - B. 购、娱
 - C. 行、游
 - D. 食、娱
- 5 现代人们既有乘飞机、汽车、火车、轮船旅游,也有自己驾车、徒步旅游;既有随旅行社组织的旅游团旅游,也有单人或全家一起外出旅游,这反映出 ()
 - A. 旅游空间的扩大化
 - B. 旅游主体的大众化
 - C. 旅游方式的多样性
 - D. 旅游内容的多样性
- 6 下列旅游活动属近代旅游的是 ()
 - A. 苏轼游“石钟山”

- B. 泰坦尼克号游船上的旅客到美洲旅游
- C. 马可·波罗东方之行
- D. 某旅行社组团赴新、马、泰“十日游”

7 莫斯科夏令时 2002 年 5 月 5 日 7 时 51 分(北京时间 11 时 51 分),载有世界上第二位太空游客沙特尔沃斯的俄罗斯“联盟 TM-33”号飞船,安全地降落在哈萨克斯坦境内的阿尔卡雷克地区。该资料说明现代旅游的特点是 ()

- ① 旅游主体的大众化
 - ② 旅游目的的娱乐化
 - ③ 旅游方式和内容的多样性
 - ④ 旅游空间扩大化
- A. ①②
 - B. ③④
 - C. ②③
 - D. ①④

8 读图,完成下列问题。



国际旅游人数及收入的增长

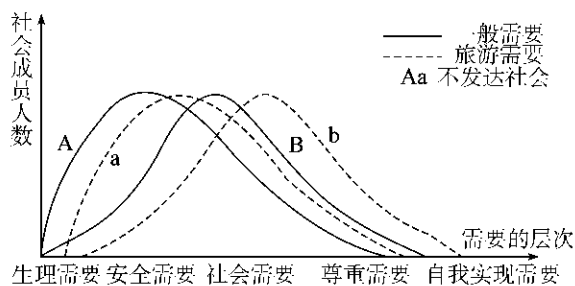
(1)图中反映出旅游主体的_____化。图中的旅游活动同时还具有以下几方面的特点:①旅游空间





- 的_____化;②旅游方式和内容的_____性;③旅游目的的_____性。其中_____是旅游发展的一大原动力。
- (2)图中的国际旅游人数有呈_____的变化特点,原因之一是交通条件大大改善,尤其是_____的出现,使世界各地的距离日益“缩短”。
- (3)图中旅游活动属于.....()
- A. 古代旅游 B. 近代旅游
C. 现代旅游 D. 无法判断

9 读下图,完成下列问题。



- (1)从图中可以看出旅游活动是_____的产物,是_____的消费形式。
- (2)a、b 分别相对于 A、B 平移,这说明旅游需要_____。
- (3)A、a 与 B、b 曲线形态的差异说明:①_____;
②_____。



10 2005 上海高考 2005 年 2 月,国家正式颁布实施《2004~2010 年全国红色旅游发展规划纲要》,就发展红色旅游的总思路 and 主要措施作出了明确规定。

- (1)纲要提出要培育形成 12 个“重点红色旅游区”,使其成为主题鲜明的革命旅游胜地。请将下列主题形象的序号填入下表中相应的位置。
- ①延安精神,革命圣地 ②抗联英雄,林海雪原
③川陕苏区,红岩精神 ④人民胜利,国旗飘扬

红色旅游区名称	京津冀红色旅游区	陕甘宁红色旅游区	大别山红色旅游区	川陕渝红色旅游区	东北红色旅游区
主题形象			千里跃进,将军故乡		

(2)红色旅游不同于一般的观光旅游,具有重要的政治、经济和文化意义。请在下表中作简要表述。

政治意义	
经济意义	
文化意义	

- (3)根据纲要,以上海为中心的“沪浙红色旅游区”被列为全国“重点红色旅游区”,主题形象是“开天辟地,党的创立”。最能体现这一主题的景点是_____。
- (4)如果你开发上海的红色旅游资源,可以从哪些角度切入?试举两个例子。
例如:开发纪念章、明信片等红色旅游纪念品。
①_____;
②_____。
- (5)要开发出具有特色的、能被广大青少年接受的红色旅游纪念品,下列要素中必须考虑的是_____。(填写所有正确项的序号)
- ①采用最新材质进行制作 ②与革命题材相呼应
③邀请专业绘图机构设计造型 ④凸显景点所处地区的自然风光 ⑤采用青少年喜闻乐见的表现手法
- (6)你是否赞成红色旅游景点收取门票?请简要谈理由。

11 2004 江苏高考 阅读下列材料,完成下列问题。

昔日革命摇篮井冈山,如今大力发展旅游业,目前市内已有 8 大景区,60 多处景点,320 多处景物景观。2003 年上山游客达 100 多万人次,旅游业收入占本市国内生产总值的 40% 以上,井冈山已经成为一座新兴的风景旅游名城。

1984 年被列为全国第一批风景名胜区的井冈山,1991 年又被评为中国旅游胜地四十佳之一。近年来,井冈山加大了对景区景点的开发建设,围绕“旅游兴市”这一主题开展一系列宣传和促销活动,分别在北京、上海、广州、深圳等大城市召开旅游推介会,吸引了大量的游客。

- (1)目前,旅游业已成为我国发展最快的第三产业,有人称旅游业为“无烟工业”。以井冈山为例,说明旅游业被称为“无烟工业”的原因。当前,在我国大力发展旅游业有什么积极意义?

- (2)旅游业的发展说明第三产业.....()
- A. 已成为我国国民经济的支柱产业
B. 已成为一个国家现代化程度的标志
C. 已成为我国经济发展的一个新的增长点
D. 已成为我国国民经济的基础



4. 旅游业属劳动密集性的服务性行业,具有_____、_____、_____等特点。
5. 促进社会建设,改善_____。
6. 推动世界和平,促进_____。
7. 国际旅游活动扩大了国际间接触的机会和范围,具有_____的作用。
8. 我国加强海外旅游业健康发展,还有助于_____。

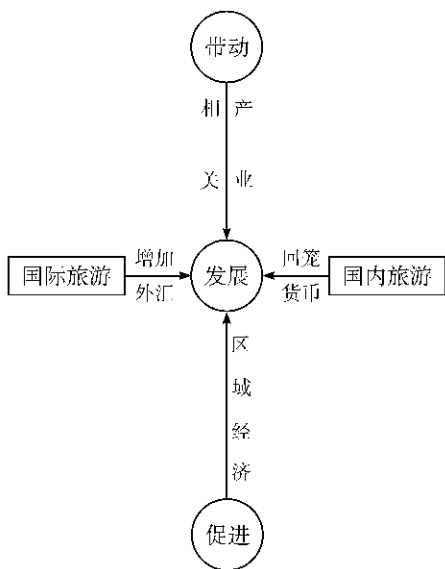
制物价的作用,又能刺激旅游者新的需要,促进生产的发展。



一、旅游业促进经济的发展

国际旅游可增加外汇收入,这些年我国的入境旅游人数逐年增加,旅游收入稳步上升;国内旅游可回笼货币、稳定市场,国内旅游作为一项消费活动,可以把居民手中的部分消费资金回笼到国家手中,既能减轻商品市场的压力,弥补商品供应的某些不足,起到抑制物价的作用,又能刺激旅游者新的需要,促进生产的发展。旅游业关联性强,可以带动相关行业的发展,旅游一动百业兴。旅游业是综合性的行业,它既以其他部门的发展为基础,又能带动和促进其他部门的发展。发展旅游业还可以调整产业结构,改变资源消耗型经济增长模式。旅游业规模和收益大,即对经济增长贡献率大。

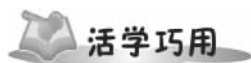
如下图所示:



二、旅游业促进文化繁荣

1. 满足精神文化需求

通过发展旅游业,可以增进旅游者对旅游地的了解,增加旅游者的



1 读 A、B、C、D 四国某年有关旅游业的资料表,完成下列问题。

国家	国际旅游收入 (亿美元)	出口总额 (亿美元)	国内生产总值 (亿美元)	国际旅游就业人口 (万)	就业总人数 (万)
A	150	300	1 500	75	1 500
B	120	400	1 000	50	1 000
C	200	1 000	5 000	300	15 000
D	80	320	1 000	95	950

- (1) 从表中可以看出,国际旅游收入占国内生产总值的比值最高的是_____国,达_____%。反映出发展旅游业可以促进_____的发展。
- (2) 国际旅游收入占出口总额比重最高的是_____国,反映出发展进口旅游能够增加国家的_____收入。
- (3) 国际旅游就业人数占总就业人数比重最高的是_____国,反映出发展旅游业能够扩大_____。
- (4) 在国际旅游就业人口中,人均旅游收入最高的是_____国。

解析: 解答此题的关键是分析资料中的数据,既要注意到 A、B、C、D 四国的国际旅游收入与出口总额、国内生产总值的相互关系,又要注意到国际旅游就业人数与就业总人数的相互关系。

答案: (1) B 12 国民经济 (2) A 外汇 (3) D 就业 (4) B

2 阅读下面 2003 年 10 月 6 日人民日报一段文章摘录,题目是《郑州:农业观光情趣浓》,完成下列问题。

“十一黄金周”期间,郑州市民兴起“农业



生活阅历,提高旅游者的文化素质,满足旅游者的精神文化需求。

2. 促进文化交流与发展

不同国家,不同民族,不同地域之间的科技与文化交流,商务往来能增进彼此间的相互了解。扩大文化的传播与交流,强化了民族的认同感。

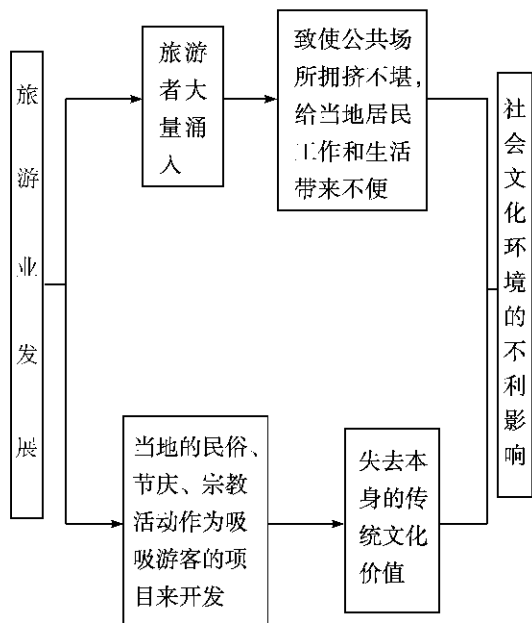
3. 促进传统文化的保护

民间传统习俗,文化活动	开发和恢复
传统的手工艺品	重新得到发展
传统的音乐、舞蹈、戏剧	重新受到重视和发掘
濒临湮灭的历史建筑	修缮与管理

三、旅游业促进社会进步

1. 扩大对外开放,提高文明程度
2. 促进社区建设,改善生活环境
3. 增加就业机会,促进社会稳定
4. 推动世界和平,促进人类进步

四、旅游业发展对旅游地的社会文化环境产生的不利影响



观光游”,他们走出市区,来到市郊各农业观光景点,买农产品,吃农家饭,住农家院,尽情享受浓浓的乡村情趣。

- 3 在郑州市郊,有各式各样的农业生态精品旅游点,如金水区现代农业示范园、二七区凤凰岛休闲观光园等。这些景点在休闲、娱乐、消费的基础上,把区域文化、民俗风情、现代技术融入其中,游客能看到组培苗木生产过程、高档果品保鲜设施展示等。

(1) 农业观光旅游属于_____旅游的一种,它既满足了人们的心理需求,又不破坏环境,还为当地创造了_____价值。其特点是把_____、_____、_____融入旅游中,既有田园风光,又有现代气息。

(2) 在旅游过程中游客可学到哪些知识?

(3) 旅游者大量涌入会给当地带来什么影响?

(4) 该旅游形式的开发给了我们什么启示?

解析: 农业观光属于旅游活动中对环境无破坏的方式,所以为生态旅游,并为当地创造了经济价值。农业景观是人类活动的产物,它反映了当地的文化、民俗等特色。读材料可知,在农业观光旅游中可以学到苗木生产技术、高档果品保鲜知识等。当旅游者大量涌入,在带来可观的经济收入的同时,也会造成社会生活环境的破坏,注意要用一分为二的观点看待这个问题。本地靠农业特色吸引旅游者,其他地方也可以用自己的特色吸引旅游者,或开辟特色产品市场,实现经济发展,这就是农业观光旅游给我们的启示。

答案: (1) 生态 经济 区域文化 民俗风情 现代技术

(2) 苗木生产、高档果品保鲜等。

(3) 致使交通、商店、公共娱乐场所变得拥挤不堪,给当地居民的工作和生活带来不便;同时,随着游客的增多,经济收益也将会增加。

(4) 各地应因地制宜,开发具有自己特色的旅游和其他特色产业,实现经济、社会、环境的可持续发展。



主动成长

夯基达标

- 1 旅游业属于 ()
 - A. 资金密集型行业
 - B. 技术密集型行业
 - C. 劳动密集型行业
 - D. 能量密集型行业
- 2 “旅游一动百业兴”体现旅游活动的作用是 ()
 - A. 满足人类的需求
 - B. 促进经济的发展
 - C. 扩大交流
 - D. 保护环境
- 3 有关旅游活动对经济发展影响的叙述,正确的是... ()
 - A. 国际旅游业在世界范围内造成了国民收入的再分配,增加了旅游客源国的外汇收入
 - B. 发展入境旅游业是回笼货币、稳定市场的一个重要途径
 - C. 发展旅游业是解决社会就业的一条重要途径
 - D. 现代旅游业的发展,使不同地区的人们彼此增进了了解,扩大了交流
- 4 下列关于旅游活动的作用的叙述,正确的是 ... ()
 - A. 发展国内旅游可以增加国家的外汇收入
 - B. 发展旅游业能够扩大就业
 - C. 发展进口旅游能减轻商品市场压力,弥补商品供应的某些不足,抑制物价
 - D. 发展旅游只能对环境带来不利影响
- 5 近几年上海举办了许多国际会议,其主要的目的是 ... ()
 - ① 促进经济发展 ② 扩大文化交流 ③ 对国民进行国情教育 ④ 满足上海市民的精神需求
 - A. ①②
 - B. ②③
 - C. ③④
 - D. ②④
- 6 旅游活动对古迹的影响是 ()
 - A. 根据长存性的特点,旅游活动不会对文物古迹产生损坏
 - B. 只有少数不文明的旅游者才会损坏文物古迹
 - C. 旅游规模不超过旅游环境承载量时,不会对文物古迹产生损坏
 - D. 正常的旅游活动也会给文物古迹带来间接性损坏
- 7 世界旅游最发达的大洲是 ()
 - A. 亚洲
 - B. 欧洲
 - C. 非洲
 - D. 北美洲
- 8 旅游活动的作用主要体现在 ()

- A. 可以缩小地区间的经济差异
 - B. 可以丰富文化生活、健体、治病
 - C. 是回笼货币、稳定市场的重要途径
 - D. 能够满足人们各种商业活动的需求
- 9 关于旅游业经济职能的正确叙述是 ()
 - A. 旅游业在国民经济中发挥着主导地位的作用
 - B. 有了旅游业的发展才有国民经济其他部门的发展
 - C. 有利于国家间、地区间的文化交流
 - D. 旅游业的发展能带动酒店、餐饮、交通运输等第三产业的发展
 - 10 旅游业促进了传统文化的保护,下列叙述正确的是 ... ()
 - ① 使民间传统习俗和文化活动重新得到开发和恢复
 - ② 使传统的手工艺品重新得到发展 ③ 使传统的音乐、舞蹈、戏剧等重新受到重视和发掘 ④ 使濒临湮灭的历史建筑重新得到修缮与管理
 - A. ①②
 - B. ②③
 - C. ②③④
 - D. ①②③④

11 根据下述材料,完成下列问题。

近年,到澳门的全球游客每年已达 800 万左右,而澳门本地人口还不足 50 万,其中却有 12% 的人在从事旅游业。旅游业的收入已占当地经济收入的 40% 左右,成为澳门继外贸之后的第二个赚取外汇的重要行业。

澳门旅游业中又以博彩业著称于世,每年到澳门的数百万港客和外籍游客大都是为赌博而去的。博彩业主要有博彩娱乐、赛狗、赛马车、回力球、铺票 5 种。

澳门的名胜古迹很多,有炮台、寺庙、牌坊等。澳门现代化旅游设施齐全,有公园、海滨浴场,这些都吸引着大量游客到此观光旅游。

- (1) 上述材料中描述的旅游主体是 _____, 旅游客体是 _____。
- (2) 到澳门旅游,内容多样,主要有 _____。
- (3) 澳门的旅游业对促进澳门经济发展起到了哪些作用?



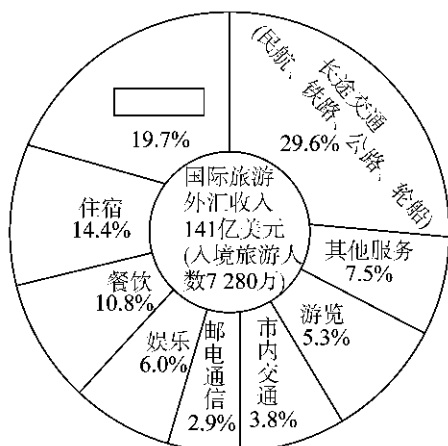
12 读下表,完成下列问题。

1994 年旅游业统计 单位:%

国家	国际旅游收入与国内生产总值之比	国际旅游收入与出口总额之比	国际旅游业就业人数与就业总人口之比
西班牙	4.2	29.8	10.0
意大利	2.0	12.6	9.8
希腊	4.9	40.0	5.6
瑞士	2.9	11.5	7.2
奥地利	6.7	29.4	8.9
英国	1.4	7.4	2.4
法国	1.9	10.9	2.9
泰国	3.6	16.3	8.0

- 国际旅游收入占国内生产总值的比重最高的国家是_____。
- 国际旅游收入占出口总额的比重最高的国家是_____。
- 国际旅游就业人数占就业总人数的比重最高的国家是_____。
- 国际旅游业发展至 1987 年已经成为世界上_____的产业,并成为许多国家或地区的_____支柱之一。
- 以上情况说明旅游业的发展对促进_____具有非常重要的作用。
- 旅游业是旅游的_____ ,主要包括旅游交通、食宿、通信、_____、_____等方面的服务。

13 读“我国 1999 年入境旅游收入统计图”,完成下列问题。

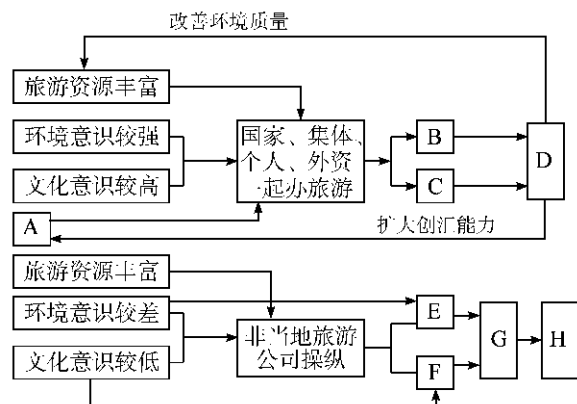


- 中国 1999 年入境旅游人数多达_____万,主要是受我国悠久的历史文化和秀美的山川风光吸引。因为可以满足他们高层次的需要。

- 从图中可以看出,发展入境旅游能够增加国家的_____收入。由于旅游业基本上是劳动密集型的服务业,因此发展旅游业能扩大_____,而且还能带动_____、_____和餐饮等第三产业的发展。

(3)在上图空框中最有可能的行业名称是_____。

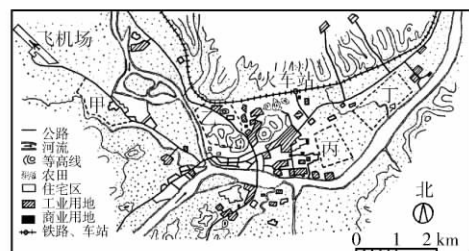
14 下图所示是我国某省两个地区发展旅游良性循环和恶性循环出现的后果:



- 将以下备选答案填入相应的空格内:
 - ① 旅游区布满废弃物,环境被破坏
 - ② 引进新的技术和工艺
 - ③ 用古文物换取外汇,文化遗产流失
 - ④ 旅游者和当地居民发生冲突
 - ⑤ 旅游资源枯竭,环境恶化
 - ⑥ 优化产业结构
 - ⑦ 提高地方产品的知名度
 - ⑧ 促进经济快速发展
 A _____, B _____, C _____, D _____, E _____, F _____, G _____, H _____.
- 某省两地发展旅游业出现的良性循环和恶性循环给我们的启示是..... ()
 - A. 人类与环境之间是对立统一的关系
 - B. 控制人口增长数量是协调人类与环境关系的首要问题
 - C. 提高人口素质是协调人类与环境关系的重要问题
 - D. 发展旅游业必须由当地居民投资

走近高考

15 2006 天津高考文综 下图为“我国南方某城市规划前的地域结构略图”,该市工业以茶叶、食品加工为主,辖区内世界级自然风景名胜(距市中心直线距离 40 多千米)。为增强该城市旅游服务功能,规划中应优先扩大...()





- A. 绿化用地
- B. 工业用地
- C. 交通用地
- D. 商业用地

16 (经典回放) 下图是北宋画家张择端的《清明上河图》(局部), 该图描绘了东京汴河沿岸商业繁荣的景象。当时, 汴河穿城而过, 西由黄河受水, 东入淮河, 水量丰富, 船运繁忙, 大江南北物资汇集。据此完成下列问题。



(1) 根据所学历史知识, 分析东京商业繁荣的主要原因。

- (2) 当时经汴河运往东京的稻米主要产自..... ()
- A. 华北平原
 - B. 汉中平原
 - C. 太湖平原
 - D. 江汉平原

(3) 直接导致该城市北宋后商业衰落的社会政治原因是什么?

(4) 北宋后, 黄河屡次泛滥, 汴河河道淤浅, 渐至涸废。试分析黄河该河段经常泛滥的原因。

(5) 如今古城开封焕发了新的青春。旅游业已经成为该市新的经济增长点和第三产业的龙头, 2000 年旅游收入已占该市国民生产总值的 10.9%。分析该市为什么把发展旅游业作为“兴市之本”。

单元测评

据报道, 到目前为止, 已有美国、俄罗斯、新西兰、澳大利亚等南极旅游大国和智利、阿根廷、日本等开展了南极旅游项目, 中国国际旅行社表示正在筹划到南极旅游的项目开发。据此完成 1~2 题。

- 1 南极旅游的兴起, 表明 ()
 - A. 旅游主体的大众化
 - B. 旅游空间的扩大化
 - C. 旅游方式和内容的多样性
 - D. 旅游目的的娱乐化
- 2 南极旅游的兴起, 与下列因素无关的是 ()
 - A. 科学技术的进步
 - B. 人们求知、探秘和搜奇欲望的增长
 - C. 交通工具的发展
 - D. 促使不同国家和地区的文化交流, 增进友谊
- 3 下列有关旅游活动的叙述, 正确的是 ()

- A. 古代旅游业不是以盈利为目的
 - B. 产业革命时期形成了完整的旅游产业结构
 - C. 南极旅游体现了现代旅游的主要目的
 - D. 现代旅游活动不再是满足个体需求
- 4 下列关于现代旅游特点的叙述, 不正确的是 ... ()
 - A. 旅游客体的大众化
 - B. 旅游空间的扩大化
 - C. 旅游方式和内容的多样性
 - D. 旅游目的的娱乐性
 - 5 旅游的主要目的是 ()
 - A. 发展经济
 - B. 丰富物质生活
 - C. 娱乐和享受
 - D. 丰富文化生活
 - 6 现代旅游业的兴起出现在 ()
 - A. 第一次产业革命以前
 - B. 第一次产业革命以后
 - C. 第二次产业革命以后



- D. 新技术革命以后
- 7 既是旅游的一大特点,又是旅游发展的原动力,指的是 ()
- A. 旅游内容的多样性 B. 旅游空间的扩大化
C. 旅游方式的多样性 D. 旅游目的的消遣性
- 8 发展旅游业应该注意的主要问题是 ()
- A. 发展经济 B. 促进交流
C. 保护地理环境 D. 扩大旅游规模
- 9 下列内容中,通过发展旅游业可以完成的有 ... ()
- ①发展教育 ②发展农业 ③回笼货币 ④稳定市场
- A. ①② B. ③④
C. ①③ D. ②④
- 10 下列关于旅游活动的叙述,正确的是 ()
- A. 旅游者、游览、观光构成旅游活动的三要素
B. 旅游是一种高消费享受活动,所以,旅游的基础是发展经济
C. 人们外出旅游的主要目的是增长知识、陶冶性情
D. 只要具备了一定的经济条件、闲暇时间、旅游欲望就可实现旅游的目的
- 11 旅游活动的主要作用,除能满足人类高层次的享受外,还有 ()
- ①促进经济发展 ②扩大交流 ③提高科技力量
④促进文化发展
- A. ①② B. ②③
C. ①④ D. ②④
- 12 现代旅游业发展的主要条件是 ()
- ①人们旅游欲望的增强 ②经济的繁荣和社会的稳定
③自然和人文景观的改善 ④现代化交通条件的出现
- A. ①③ B. ②④
C. ①④ D. ②③
- 13 历史文化名城曲阜近几年接待的游客中,绝大部分是工薪阶层和农民,此现象说明 ()
- A. 旅游主体的大众化 B. 旅游主体的扩大化
C. 旅游方式的多样化 D. 旅游内容的丰富性
- 14 有关旅游活动发展的叙述,正确的是 ()
- A. 旅游活动不是自古就有,而是在 20 世纪 50 年代以后才出现
B. 古代旅游仅局限在个体需求,事务性出游占绝大多数
C. 近代旅游也仅局限在个体需求
D. 近代旅游是大众需求,处于初级产业化阶段
- 15 下列四省区中,最大的旅游消费市场是 ()
- A. 贵州 B. 甘肃
C. 陕西 D. 广东
- 16 关于现代旅游特点的叙述,正确的是 ()
- ①它能满足人类必要的生存需要 ②它利于保护环境
③它有利于人们利用闲暇时间休养生息,恢复体力和脑力 ④它能促进经济发展,可成为许多国家和地区新的经济增长点

- A. ①② B. ①③
C. ②③ D. ③④
- 17 旅游主体的大众化是指 ()
- A. 旅游活动已成为全体公民生存必需的消费行为
B. 旅游活动已成为普通大众的消费行为
C. 发达国家的出游率已达 90% 以上
D. 发展中国家的出游率已达 50% 以上
- 18 下列关于旅游活动与地理环境相互关系的叙述,正确的是 ()
- ①旅游业并非无烟工业,发展应适度,否则会影响环境
②旅游活动规模越大,效益越好 ③旅游活动产生“三废”污染,还会导致其他环境问题 ④旅游活动是一种消遣娱乐活动,不会产生环境污染
- A. ①② B. ①③
C. ②④ D. ③④

旅游活动是人类社会发展的必然产物,在时间和空间上存在一定的差异。据此完成 19~20 题。

- 19 从历史发展看,近代旅游与古代旅游的区别主要表现在 ()
- A. 旅游目的 B. 旅游方式和内容
C. 旅游需求 D. 旅行社的诞生
- 20 从地域看,造成旅游活动规模地域差异的根本原因是 ()
- A. 国家区位的差异
B. 民族的差异
C. 传统文化的差异
D. 国家或地区经济发展水平的差异
- 21 下列活动属于现代旅游的是 ()
- ①徒步到郊外梅花山种梅 ②骑车到郊外古运河大堤观赏春色
③到栖霞山采集矿物、岩石标本 ④乘船到郊外太湖采集水样
- A. ①② B. ②③
C. ③④ D. ①②

随着五一、十一长假期的实行,“假日经济”发展迅速,一些景点旅游价格也“水涨船高”。据此完成 22~23 题。

- 22 “假日经济”的出现,说明 ()
- A. 假日旅游人满为患,决定旅游价格的上升
B. 旅游、休闲的消费活动与我国的经济状况不符,是放纵和浪费,必须制止
C. 因“假日经济”属于冲动性集中消费,对短期供求关系影响较大
D. “假日经济”扩大内需,搞活市场,市场正在由“过剩”向“短缺”转换
- 23 “假日经济”根本上是“综合经济”,它启动的不全是旅游业,还包括商业、交通、金融等行业,甚至对我国经济的快



速健康发展也产生了极大影响。这表明旅游业具有 ... ()

- A. 服务性
- B. 关联带动性
- C. 涉外性
- D. 季节性

24 观光旅游是近年来兴起的一种与农业交叉的新兴产业,它既是农业生产的一部分,又具有旅游业休闲娱乐、提高旅游服务的功能。发展观光农业的意义有 ()

- ①有利于扩大农业经营范围
 - ②有利于农业产业结构调整
 - ③便于大量销售农产品
 - ④避免环境污染
 - ⑤加强城乡交流,促进科技兴农
- A. ①③⑤
 - B. ①②④
 - C. ②③⑤
 - D. ①②⑤

25 阅读下列资料,完成下列问题。

泸沽湖像一颗熠熠生辉的绿宝石,镶嵌在云南省丽江地区的万山丛中,是丽江玉龙雪山国家级风景名胜区的重要组成部分,被专家誉为“中国西南的一片净土”“高品位世界级的旅游资源”。

早在 2 000 多年前,摩梭人就在湖边聚居生活,他们有自己的语言、服饰和生活习惯,居住在建筑风格独特的木楞房子中。古代摩梭人信奉“女神教”。后来,又接受由西藏传入的佛教,此外,还信仰本民族的“达巴教”。长期以来,这里素有“女儿国”之美称。以母系家族以及阿夏婚姻(即走婚)为主要特征的摩梭风情,是现代社会的原始母系社会的“活化石”。优美的自然风景、独特的风土人情,吸引了大批中外游客。

(1) 近年来,万山丛中的泸沽湖吸引了大批游客,这说明了现代旅游的哪些特点?

(2) 泸沽湖地区旅游资源有很强的非凡性,形成这一特性的原因是..... ()

- A. 人民收入增加
- B. 风景独特
- C. 地方文化独特
- D. 经济距离远

(3) 旅游业的发展给当地带来的环境问题是_____。

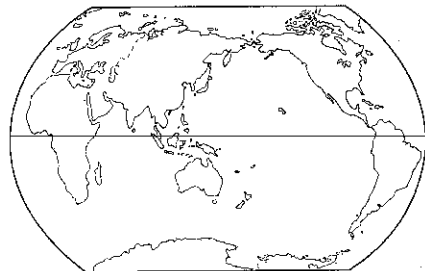
(4) 这里的文化将会发生什么样的变化?

(5) 为促进当地旅游业的可持续发展,应采取哪些措施?

26 读下表,完成下列问题。

国家	国际旅游收入与国内生产总值之比(%)	国际旅游收入与出口总额之比(%)	国际旅游业就业人数与就业总人数之比(%)
西班牙	4.2	29.8	10.0
意大利	2.0	12.6	9.8
希腊	4.9	40.0	5.6
瑞士	2.9	11.5	7.2
奥地利	6.7	29.4	8.9
英国	1.4	7.4	2.4
法国	1.9	10.9	2.9
泰国	3.6	16.3	8.0

(1) 将代表有关国家的字母填在下图中相应的位置上。



- A. 西班牙
- B. 意大利
- C. 瑞士
- D. 泰国
- E. 法国

(2) 表中所列国家国际旅游收入占国内生产总值比重最高的是_____，该国的首都是著名的“音乐之都”_____；国际旅游收入占出口总额比重最高的是_____，该国的首都是_____；国际旅游业就业人数占就业总人数比重最高的是_____，该国南部和东部为_____气候，该气候类型的成因是_____。

(3) 你能说出表中所列国家各有哪些著名的旅游胜地吗？为什么欧洲西部旅游业较发达？

(4) 通过对表中资料的归纳分析并结合教材知识的学习,你认为旅游业对我国经济发展有何促进作用?



第二单元 旅游景观欣赏与旅游活动设计

第一节 旅游资源及其特点



一、旅游资源

1. 旅游资源是构成旅游活动的要素之一是旅游者进行旅游活动的客体,其本质特征是_____、_____。

2. 自然旅游资源对于以_____、_____、_____、_____为目的的旅游者具有重要意义。

3. 人文旅游资源包括_____和_____。它能为旅游者提供艺术美和社会美的审美情趣,更多的表现出_____和_____、_____等旅游方面的意义。

二、旅游资源的特点

1. 旅游资源的主要特点包括_____、_____、_____、_____、_____和_____。

2. 自然和人文要素是否富有_____和_____是旅游资源区别于其他资源的本质特点。

三、世界文化与自然遗产

1. 人类拥有两份遗产——一份是天然造化的_____,另一份是祖先在千百年历史中创造的_____。

2. 截至 2004 年 7 月,全世界已有_____个自然与文化遗产列入《世界遗产名录》。

3. 到 2004 年 7 月,我国已有_____个项目列入《世界遗产名录》。

四、我国旅游资源的分布

1. 根据旅游资源的地域分异及组合特征,通常可将我国的旅游资源划分为 8 大区域:它们分别是_____、_____、_____、_____、_____、_____、_____、_____。



旅游资源的判定

判别某项事物和因素是否是旅游资源的标准有两条:一是是否对旅游者具有吸引力;二是是否可能被旅游业开发利用,并为之带来经济效益和社会效益。

自然界、人类社会中的事物和因素	是否为旅游资源	可开展的旅游活动
海市蜃楼	是	观光旅游
自然灾害遗迹	是	科学考察
古民居	是	建筑文化旅游
龙舟竞渡	是	观光旅游
神话传说	是	文化、观光旅游
重要的体育盛会	是	观看体育比赛
大型商贸会	是	购物旅游
渔民出海捕鱼	是	与渔民共同生产、生活的参与性旅游

