

书 名 湖南教育版课程标准实验教科书
单元双测试卷·地理(七年级上册)

作 者 侯 淼 刘 超 彭乐强 王 泓 王 丽 邹明芳

出版发行 青岛出版社(青岛市海尔路182号,266061)

本社网址 <http://www.qdpub.com>

邮购电话 13335059110 (0532)68068180(兼传真) 80998664

责任编辑 张性阳 电话 (0532)68068131

特约编辑 胡广元

照 排 青岛时代正方文化传媒有限公司

印 刷

出版日期 2011年6月第9版 2011年6月第35次印刷

开 本 8开(787mm×1092mm)

印 张 5.75

字 数 72千

书 号 ISBN 978-7-5436-0220-5

定 价 8.80元

编校质量、盗版监督免费服务电话 **800-918-6216**

青岛版图书售出后如发现印装质量问题,请寄回青岛出版社印刷物资处调换。

电话 (0532)68068629

目 录

第一单元测试题

第 I 卷	[1]
第 II 卷	[5]

第二单元测试题

第 I 卷	[9]
第 II 卷	[13]

第三单元测试题

第 I 卷	[17]
第 II 卷	[21]

期中测试题(A 卷)

第 I 卷	[25]
第 II 卷	[29]

期中测试题(B 卷)

第 I 卷	[33]
第 II 卷	[38]

第四单元测试题

第 I 卷	[41]
第 II 卷	[45]

第五单元测试题

第 I 卷	[49]
第 II 卷	[53]

期末测试题(A 卷)

第 I 卷	[57]
第 II 卷	[61]

期末测试题(B 卷)

第 I 卷	[65]
第 II 卷	[70]

参考答案	[73]
------------	--------

1. 写清校名、班级、姓名。
2. 监考老师不读题、不讲题。
3. 卷面整洁,字迹清楚。

注意事项

密

第一单元测试题

时间:120分钟 满分:120分


题号	一	二	总分
得分			

第 I 卷(选择题 共 40 分)

得分	阅卷人	复核人


一、单项选择题(每小题 1 分,共 40 分)

1. 绘一张学校操场平面图,下列比例尺较合适的是()。



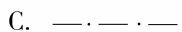

A. 1:1000
B. 1/4000000
C.  30千米
D. 图上 1 厘米代表实地距离 2 千米
2. 下列比例尺中,最小的是()。


A. 1:10000000
B. 1:1000000
C. 1:10000
D. 1:100000
3. 如果在地图上量得两地间的直线距离为 3 厘米,图上比例尺为 1:10000000,则两地间实地距离大约是()千米。

A. 300
B. 3000
C. 30
D. 3
4. 下列比例尺中,表示内容最详细的是()。

A. 1:1600000
B. 二百万分之一
C.  40千米
D. 1/5000000
5. 地图上 1 厘米代表实地距离 3000 千米的比例尺是()。

A. 1:300
B. 1:3000
C. 1:3000000
D. 1:30000000
6. 下列图例中,表示铁路的是()。

A.  B.  C.  D. 
7. 绘一幅崂山导游图,下列比例尺最不适用的是()。

A. 1:30000
B. 1:20000
C.  10千米
D. 图上 1 厘米代表实地距离 300 千米
8. 下列有关地理与生产建设的关系的叙述,错误的是()。

A. 农业生产应该因地制宜

封

线

姓名

班级

学校

- B. 兴建工厂必须考虑原料、能源、水能、市场和交通运输条件
- C. 商业网点的开发、地区发展规划与地理知识无关
- D. 地理学在解决全球性资源、人口、环境问题方面具有不可替代的作用

9. 下列问题中,属于地理问题的是()。

- A. 非典型性肺炎有哪些症状?
- B. 我国抗日战争进行了多少年?
- C. 珠穆朗玛峰为什么还在上升?
- D. 朱自清的著名作品有哪些?

10. 下列地理事物与生产建设的联系,最密切的是()。

- A. 海洋—造纸
- B. 森林—石油
- C. 土地—家具制造
- D. 草原—畜牧业

11. 阿拉伯男子的传统打扮是身着白色长袍,头戴头巾。这种传统服装与当地的()有关。

- A. 地形
- B. 宗教
- C. 气候
- D. 审美观

12. 当图幅一定时,绘制山东省地图和青岛市地图,其比例尺的大小和地理事物详细情况是()。

- A. 省图比例尺大,内容详细
- B. 市图比例尺大,内容详细
- C. 省图比例尺小,内容详细
- D. 市图比例尺小,内容简略

13. 下列4幅地图的图幅大小相同,其中比例尺最大的是()。

- A. 世界地图
- B. 中国地图
- C. 山东地图
- D. 青岛地图

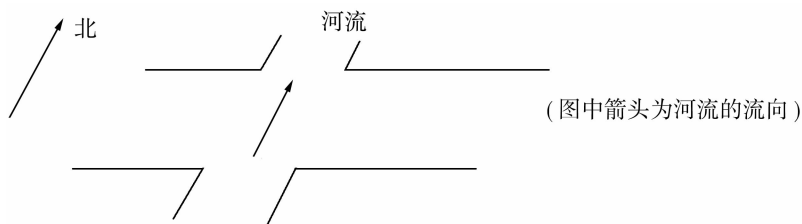
14. 在中国交通图上量得沈阳到西安的直线距离为5cm,两地的实地距离为1500km,该图的比例尺是()。

- A. 1:300
- B. 1:30000000
- C. 1:3000
- D. 1:300000

15. 在一张长、宽分别为108厘米、83厘米的纸上,绘一张长、宽分别为250千米、180千米地区的地图,要求四周边框各留2厘米,则下列比例尺中较合适的是()。

- A. 1/5000000
- B. 1/250000
- C. 二万五千分之一
- D. 图上1厘米代表实地距离4千米

16. 在下面带有指向标的地图上,河流的大致流向是()。



- A. 自北向南
- B. 自南向北
- C. 自东南向西北
- D. 自西南向东北

17. 青岛市位于山东省的()。


- A. 中部
- B. 北部
- C. 西南部
- D. 东南部

18. 下列选项中不属于地图的基本要素的是()。

- A. 比例尺
- B. 颜色
- C. 图例
- D. 方向

19. 地理学可以直接指导人们()。

- A. 解决全球性的人口、环境、资源问题
- B. 编制电脑程序

- A. 正北 B. 东北 C. 西北 D. 东南
30. 如果要绘制某校平面图,最好选用()比例尺。
A. 1:1 B. 1:10 C. 1:1000 D. 1:250000
31. 在图幅不变的前提下,把一幅比例尺为 1/50000 的地图的比例尺放大 1 倍,则比例尺放大后的新图()。
A. 比例尺为 1/100000 B. 所示的范围是原图的 2 倍
C. 表现的内容更为简略 D. 所示的范围是原图的 1/4
32. 在野外使用地图时,手持地图()。
A. 将地图上的北方对准地面上的任意方向,就可将地图上的事物与实际事物对应起来了
B. 将地图上的北方对准太阳升起的方向,就可将地图上的事物与实际事物对应起来了
C. 将地图上的北方对准北极星的方向,就可将地图上的事物与实际事物对应起来了
D. 将地图上的北方对准太阳下山的方向,就可将地图上的事物与实际事物对应起来了
33. 若两地的图上距离为 3.75 厘米,实际距离为 937.5 千米,则该图的比例尺为()。
A. 1:25000000 B. 1:6700000 C. 1:2500000 D. 1:3750000
34. 比例尺为 1:400 万的地图,图上 1 厘米代表实地距离()千米。
A. 400 B. 4000 C. 40 D. 4
35. WTO 的总部设在瑞士的日内瓦,要在地图上查找它,最佳的方法是()。
A. 先查欧洲政区图,再查世界政区图,最后查瑞士政区图
B. 先查世界政区图,再查欧洲政区图,最后查瑞士政区图
C. 直接查世界政区图
D. 直接查欧洲政区图
36. 下列描述与该地自然环境无关的是()。
A. 傣族的泼水节 B. 藏族的藏袍
C. 蒙古人的蒙古包 D. 青岛的欧式建筑
37. 一般地图的正上方是()。
A. 北方 B. 南方 C. 西方 D. 东方
38. 某校在一次地理活动课中测得校园长为 500 米,宽为 300 米。若在长为 50 厘米、宽为 30 厘米的图幅上绘制该校平面图,应选用的最合理的比例尺为()。
A. 1:100000 B. 1:10000 C. 1:10000 D. 1:100
39. 以步行 1 日往返的野外考察,下列比例尺的地图最合适的是()。
A. 1:80000000 B. 1:200000
C. 图上 1 厘米等于实地距离 3 千米 D. 
40. 学好地理要学会思考地理问题,下列说法不正确的是()。
A. 学习地理只需要了解地理事物和现象的分布
B. 学习地理要敢于对某些地理结论提出疑义
C. 学习地理要善于提出各种地理问题
D. 学习地理要多角度观察、认识某些地理事物和现象

1. 写清校名、班级、姓名。
2. 监考老师不读题、不讲题。
3. 卷面整洁, 字迹清楚。

注意事项

姓名

班级

学校

密

封

线

第 II 卷(综合题 共 80 分)

得分	阅卷人	复核人

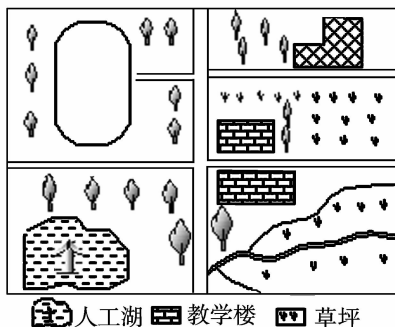
二、综合题(共 80 分)

1. 将下列国家与其风土人情连线。(5 分)

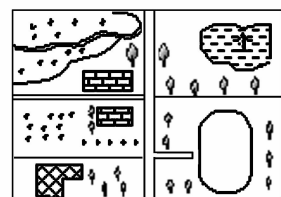
西班牙 埃及 日本 巴西 俄罗斯



2. 以下两幅图是同一学校的两位同学绘制的该校平面图, 据此完成下列问题。(4 分)



甲



乙

(1) 两位同学在相同大小的纸张上, 绘制同一学校平面图的大小却不同, 原因在于 _____, 具体地说, 甲图比乙图 _____。

(2) 已知人工湖在校园的西南部, 请你在甲图中绘出指向标。

(3) 如果该校在成都, 为了遮阳, 那么乙图中教学楼的 _____ (上、下) 侧窗最应该挂窗帘。

3. 填表题。(6 分)

数字式	线段式	文字式
		图上 1 厘米代表实地距离 1.25 千米
$\frac{1}{50000}$		

4. 计算题。(5 分)

某地图比例尺为 1:100000, 若图上距离为 80 厘米, 那么实际距离是多少? 如果你每分钟走 40 米, 多长时间才能走完?

5. 读德国略图,完成下列各题。(4分)

- (1) 德国首都是_____。
- (2) 利用比例尺量算出埃森与慕尼黑的实地直线距离是_____千米。
- (3) 汉堡在柏林的_____方向。法兰克福在柏林的_____方向。



6. 在生活和生产实践中,人们发明了许多测定方向的方法。分析下面3幅图分别表示了哪种测定方法。(5分)



A



B



C

图 A _____ 定向

图 B _____ 定向

图 C _____ 定向

你还知道哪些辨识方向的办法?

7. 将下列图例与其对应的地理事物名称连线。(4分)

A.



① 水库

B.



② 首都

C.



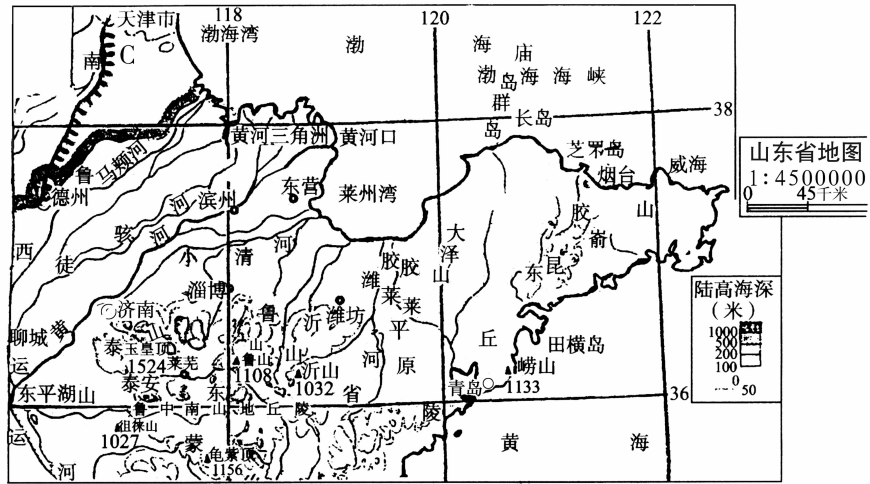
③ 长城

D.




④ 沙漠

8. 读山东省地图,完成下列问题。(12分)



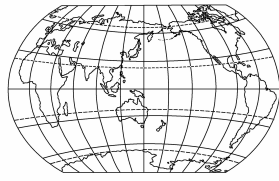
(1) 量算青岛、济南两城市的实际距离。

(2) 青岛在济南的什么方向?

(3) 图例 C “”表示的地理事物是_____。

9. 生活中我们可以从各种途径获得地理知识,列举你在日常生活中获得地理知识的方法。(不少于3项。)(12分)

10. 读下图,完成下列问题。(8分)



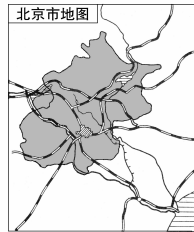
世界地图

A

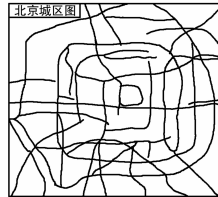


中华人民共和国示意图

B



C



D

- (1) 比例尺最大的是_____。
- (2) 图上1厘米代表实际距离最远的是_____。
- (3) 表示范围最大的是_____。
- (4) 内容最详细的是_____。

11. 家睦小区占地720000平方米,1号楼位于小区中央,2号楼位于小区最东北角(楼座占地均为60000平方米)。小区大门位于1号楼前,面向正南方,门宽100米。大门正北约50米处有一占地400平方米的喷水池,西北角有一占地10000平方米的小公园。

根据上述资料绘制小区平面图。(15分)

1. 写清校名、班级、姓名。
2. 监考老师不读题、不讲题。
3. 卷面整洁, 字迹清楚。

注意事项

姓名

班级

学校

密

封

线

第二单元测试题

时间:120 分钟 满分:120 分

题号	一	二	总分
得分			

第 I 卷(选择题 共 50 分)

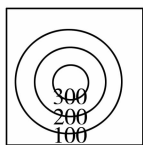
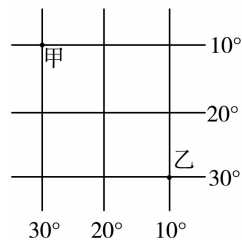
得分	阅卷人	复核人

一、单项选择题(每小题 1 分,共 50 分)

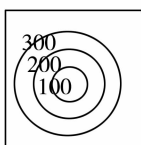
- 下列关于经纬线的说法,正确的是()。
 - 每条经线都自成一个圆圈
 - 纬线长度都相等
 - 地球仪上经线有 360 条
 - 纬线指示东西方向
- 与 120°E 经线构成经线圈的经线是()。
 - 60°W
 - 60°E
 - 120°W
 - 180°
- 下列关于等高线的叙述,正确的是()。
 - 在山脊处,等高线向高处凸出
 - 在山谷处,等高线向低处凸出
 - 等高线密集的地方,地面坡度小
 - 等高线稀疏的地方,地面坡度小
- 世界上纬度最高的大洲是()。
 - 亚洲
 - 欧洲
 - 南美洲
 - 南极洲
- 被北美洲、亚洲和欧洲围绕的大洋是()。
 - 太平洋
 - 大西洋
 - 印度洋
 - 北冰洋
- 巴拿马运河沟通的大洋是()。
 - 太平洋和大西洋
 - 太平洋和印度洋
 - 印度洋和大西洋
 - 太平洋和北冰洋
- 四大洋中跨经度最多的是()。
 - 太平洋
 - 大西洋
 - 印度洋
 - 北冰洋

读右图,完成第 8—9 题。

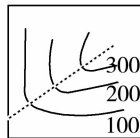
- 甲地的地理坐标是()。
 - $10^{\circ}\text{N}, 30^{\circ}\text{W}$
 - $10^{\circ}\text{N}, 30^{\circ}\text{E}$
 - $10^{\circ}\text{S}, 30^{\circ}\text{W}$
 - $10^{\circ}\text{S}, 30^{\circ}\text{E}$
- 下列说法正确的是()。
 - 甲地在乙地的西北方
 - 甲地在乙地的东北方
 - 甲地在乙地的东南方
 - 甲地在乙地的西南方
- 在下列等高线图中,表示山谷的是()。
 -
 -
 -
 -



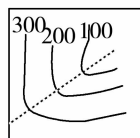
A.



B.

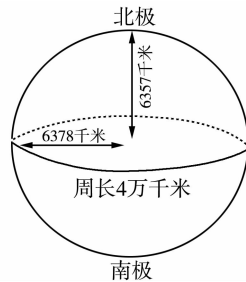


C.

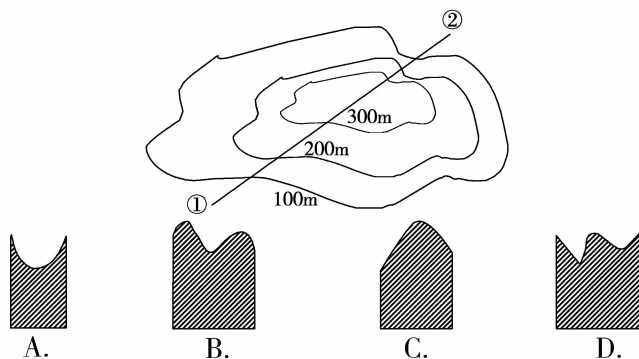


D.

11. 下列关于地球表面海陆面积的叙述,正确的是()。
- A. 陆地面积大于海洋面积 B. 陆地面积略小于海洋面积
C. 陆地面积略大于海洋面积的一半 D. 陆地面积不足海洋面积的一半
12. 世界上面积最小的大洲和大洋分别是()。
- A. 亚洲、太平洋 B. 欧洲、印度洋 C. 大洋洲、北冰洋 D. 非洲、大西洋
13. 下列关于四大洋的叙述,错误的是()。
- A. 太平洋约占世界海洋面积的1/3 B. 第二大洋呈“S”型
C. 印度洋大部分位于南半球 D. 北冰洋是四大洋中最小、最浅的大洋
14. 如果某地位于“北半球、中纬度、西半球”,那么该地的经纬度可能是()。
- A. 40°N, 30°W B. 40°N, 15°W C. 29°N, 30°W D. 40°S, 170°E
15. 麦哲伦船队自西向东完成首次环球航行,先后经过的大洋依次是()。
- A. 大西洋—印度洋—太平洋 B. 大西洋—太平洋—印度洋
C. 印度洋—太平洋—大西洋 D. 印度洋—大西洋—太平洋
16. 中低纬度的分界线是()。
- A. 赤道 B. 南北回归线 C. 南北纬 30° D. 南北纬 60°
17. 下列几乎全部位于海洋中的板块是()。
- A. 亚欧板块 B. 印度洋板块 C. 太平洋板块 D. 美洲板块
18. 某点以东是东半球,以西是西半球,以南是南半球,以北是北半球。该点是()。
- A. 纬度 0°, 经度 0° B. 纬度 0°, 经度 180°
C. 纬度 0°, 经度 160° D. 纬度 0°, 西经 20°
19. 下列关于经纬线变化规律的说法,正确的是()。
- A. 以 180°经线为界,东经和西经的度数分别向东、向西愈来愈大
B. 以 0°经线为界,东经和西经的度数分别向东、向西愈来愈小
C. 以赤道为界,北纬和南纬的度数分别向北、向南愈来愈大
D. 以赤道为界,北纬和南纬的度数分别向北、向南愈来愈小,到两极点时纬度为 0°
20. 沟通了地中海和红海、缩短了大西洋和印度洋航程的海上通道是()。
- A. 巴拿马运河 B. 白令海峡 C. 麦哲伦海峡 D. 苏伊士运河
21. 全部位于北半球的大洲有()。
- A. 欧洲、北美洲 B. 欧洲、亚洲 C. 南极洲、亚洲 D. 非洲、南美洲
22. 在同一幅等高线地形图上()。
- A. 等高线越密集,表示地形越平坦
B. 等高线越稀疏,表示地形起伏越大
C. 相邻两条等高线的数值差(即等高距)相等
D. 闭合的等高线的中心肯定是盆地
- 读右图,完成第 23—24 题。
23. 地球的平均半径是()千米。
- A. 6357 B. 6378
C. 6371 D. 40000
24. 下列关于地球形状的叙述,正确的是()。
- A. 赤道稍扁、两极略鼓的不规则球体 B. 两极稍扁、赤道略鼓的不规则球体
C. 严格地讲是规则的正球体 D. 是个圆
25. 在地球仪上,朝着一个固定的方向走能回到原地的线()。
- A. 都指示南北方向 B. 都是直线 C. 长度均等 D. 都是圆
26. 在地球仪上,0°纬线和 0°经线的长度相比()。
- A. 两条线一样长 B. 0°经线比 0°纬线略长
C. 0°经线不足 0°纬线一半长 D. 0°纬线比 0°经线略长
27. 一架飞机从青岛起飞,沿同一经线圈飞行最终又飞回到青岛。它在飞行途中方向()。
- A. 改变一次 B. 改变两次 C. 改变三次 D. 不改变



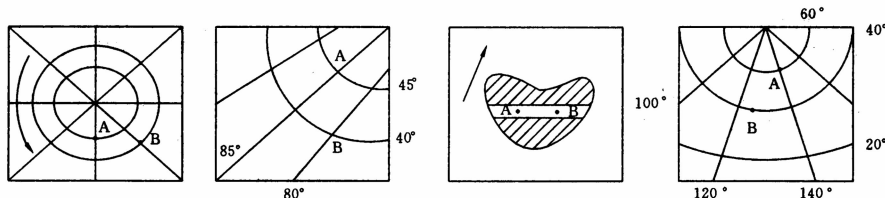
28. 要在下图中沿①—②线画一幅地形剖面图,最相符的一幅是()。



29. 沟通印度洋和大西洋的海域不包括()。
 A. 土耳其海峡 B. 直布罗陀海峡 C. 地中海 D. 红海
30. “起伏和缓,交通不便,适合发展林果业”的描述最符合下列地形类型中的()。
 A. 山地 B. 丘陵 C. 盆地 D. 平原

31. 下列关于纬线和纬度的说法,正确的是()。
 A. 51°一定在 60°的南方
 B. 地球上位于低纬度的地区一年内能够接受两次阳光直射
 C. 30°的纬线比 40°的纬线长
 D. 位于高纬度地区的地点有极昼和极夜现象

32. 下列 4 幅图中,A 分别在 B 的什么方向,下列选项正确的是()。



- A. 西北、东北、西南、西北
 B. 西北、西北、西南、东北
 C. 西南、东北、西北、西北
 D. 东北、西北、西北、西南
33. 有一位建筑师,想要建造一座房子,房子四面的窗户都朝向北方,这座建筑应该建在()。
 A. 北极点上 B. 南极点上
 C. 赤道和 0°经线的交叉点上 D. 赤道和 180°经线的交叉点上

34. 下列两种地形的共同特征为“地表起伏小”的是()。

- A. 盆地和丘陵 B. 高原和平原 C. 山地和丘陵 D. 平原和盆地

读右图,完成第 35—37 题。

35. 大清河的流向是()。

- A. 由西北向东南 B. 由东南向西南
 C. 由东北向西南 D. 由东南向西北

36. 观察图发现,河流多从()流出。

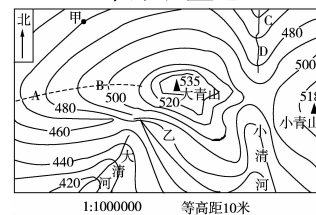
- A. 山脊 B. 山谷
 C. 山顶 D. 山坡

37. 图中的最高峰的海拔高度约是()米。

- A. 550 B. 528 C. 538 D. 548

38. 与东经 116°经线共同组成经线圈的另一条经线的经度是()。

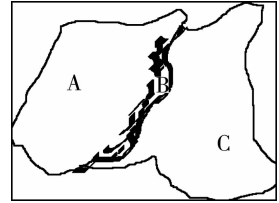
- A. 东经 64° B. 西经 64° C. 西经 116° D. 0°



39. 下列说法不正确的是()。
- A. 海洋与陆地的相对位置是不变的
 - B. 火山能够在很短的时间内改变地表的形态
 - C. 地中海的面积在不断缩小可以用板块构造学说来说解释
 - D. “泛大陆”是魏格纳提出来的

40. 下列大洲中,不跨南北半球的一组是()。
- A. 亚洲、欧洲
 - B. 北美洲、南美洲
 - C. 大洋洲、南极洲
 - D. 欧洲、北美洲

41. 读右图,两大板块交界处为 B 区域,此处分布着高大的山系,关于此图说明正确的是()。



- A. B 处高大山系是两大板块张裂分离的结果
 - B. B 处地壳稳定,A,C 两处相对地壳活跃
 - C. B 处火山、地震频繁,A,C 两处相对稳定
 - D. B 处发生火山、地震的可能性相当
42. 在青藏高原上发现的海陆变迁的证据是()。
- A. 青藏高原目前正在不断抬升
 - B. 古代书籍记载此外是海洋
 - C. 在青藏高原的岩层中发现海洋生物化石
 - D. 南部边缘的喜马拉雅山曾是海洋
43. 下列选项中,由亚欧板块和印度洋板块碰撞形成的山脉是()。
- A. 阿尔卑斯山
 - B. 喜马拉雅山
 - C. 落基山脉
 - D. 安第斯山脉
44. 甲、乙两人从赤道出发,甲向北行,乙向东行,如果两人前进的方向保持不变,那么()。
- A. 两人都能回到原出发点
 - B. 两人都不能回到原出发点
 - C. 只有甲能回到原出发点
 - D. 只有乙能回到原出发点
45. 板块构造学说认为()。
- A. 地球的岩石圈由五大板块拼合而成
 - B. 板块交界地带是世界主要火山、地震分布带
 - C. 板块内部稳定,不可能再分成小块
 - D. 板块都处于静止状态
46. 有世界上最长的山脉和世界上最大的平原的大洲是()。



A.



B.



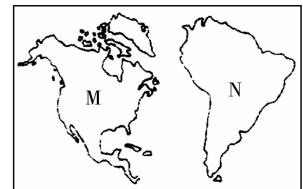
C.



D.

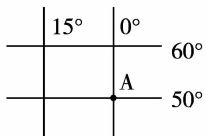
47. 下列关于相对高度与海拔的叙述,正确的是()。

- A. 相对高度就是海拔
- B. 一个地点的相对高度一定小于海拔
- C. 一个地点的相对高度一定大于海拔
- D. 海拔一般是以特定海区的海平面作为起算点的

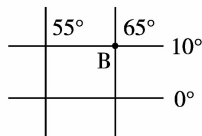


48. 右图中 M、N 两个大洲的分界线是()。
- A. 乌拉尔山
 - B. 巴拿马运河
 - C. 苏伊士运河
 - D. 大高加索山

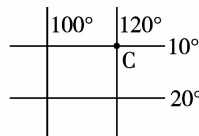
49. 下列 4 个地点中,既位于东半球,又位于北半球且处于低纬度的是()。



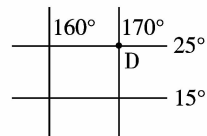
A.



B.



C.



D.

50. 喜马拉雅山系是由于()挤压而形成的。
- A. 南美洲板块和北美洲板块
 - B. 大洋洲板块和南极洲板块
 - C. 印度洋板块和亚欧板块
 - D. 亚欧板块和太平洋板块

1. 写清校名、班级、姓名。
2. 监考老师不读题、不讲题。
3. 卷面整洁, 字迹清楚。

注意事项

密

封

线

姓名

班级

学校

第 II 卷(综合题 共 70 分)

得分	阅卷人	复核人

二、综合题(共 70 分)

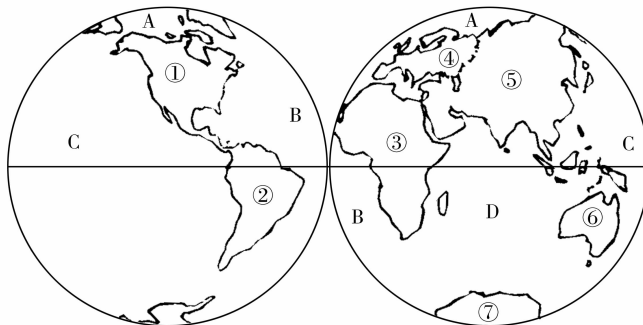
1. 填表题。(4 分)

运河名称	沟通的海洋	两侧的大洲
苏伊士运河		
巴拿马运河		

2. 读东西半球图, 完成下列问题。(6 分)

(1) 将图中数字所代表的大洲名称填写在下面的空格内。

- ① _____;
② _____;
③ _____;
④ _____;
⑤ _____;
⑥ _____;
⑦ _____。



(2) 将图中字母所代表的大洋名称填写在下列空格内。

A. _____; B. _____; C. _____; D. _____。

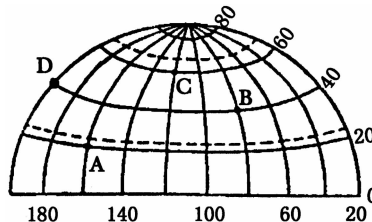
(3) 七大洲中面积最大的是_____。

3. 读世界部分地区经纬网示意图, 完成下列问题。(8 分)

(1) 从东、西半球的划分看, 该图属于_____半球; 从南、北半球的划分看, 该图属于_____半球。

(2) 图中 A 点的经度是_____, 纬度是_____; D 点的经度是_____, 纬度是_____。

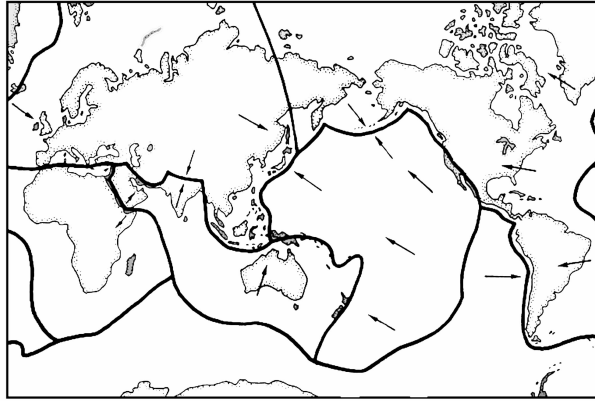
(3) A 点位于 B 点的_____方向, C 点位于 D 点的_____方向。



4. 填写下表, 对比经线和纬线。(3 分)

经纬线特点	纬 线	经 线
形 状		
长度特征		
指示方向		

5. 读下面的板块构造示意图,完成下列问题。(10分)

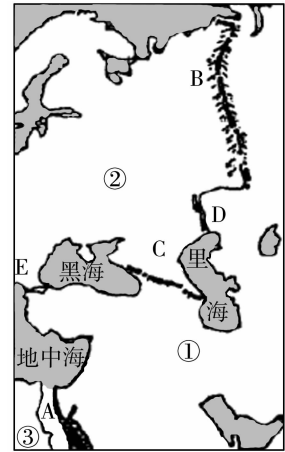


- (1) 将下列板块名称的代表字母填在图中适当的位置。
 A. 亚欧板块 B. 美洲板块 C. 太平洋板块
 D. 非洲板块 E. 印度洋板块 F. 南极洲板块
- (2) 把左侧的地理现象与右侧相关的地理事物连线。

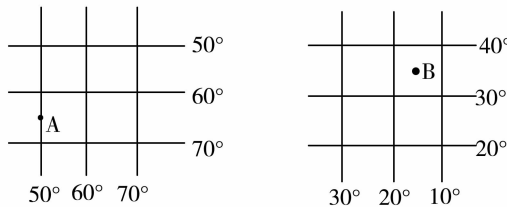
- | | |
|-------------------|---------|
| A. 印度尼西亚又称为“火山国” | ① 太平洋板块 |
| B. 科迪勒拉山系地壳活动频繁 | ② 印度洋板块 |
| C. 我国西南地区多东西方向的山脉 | ③ 亚欧板块 |
| | ④ 美洲板块 |

6. 读右图,完成下列问题。(4分)

- (1) 写出图中序号所表示的大洲名称。
 ① _____ 洲; ② _____ 洲; ③ _____ 洲。
- (2) 写出图中字母所代表的地理事物的名称。
 A. _____ 运河; B. _____ 山脉;
 C. _____ 山脉; D. _____ 河;
 E. _____ 海峡。

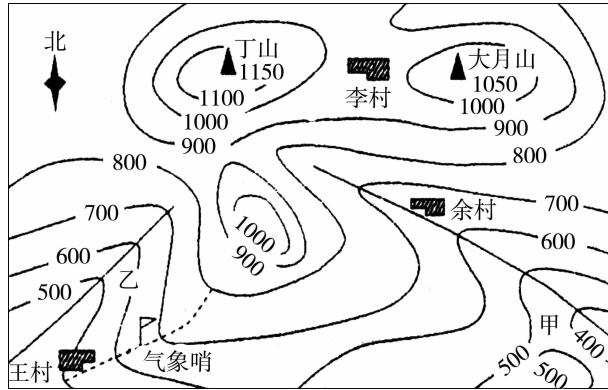


7. 分别读出下面两图中A、B两点的经纬度,并填写下表。(5分)



地点	纬度	经度	东半球或西半球	北半球或南半球	低纬度或中、高纬度
A					
B					

8. 读下图,完成相关问题。(8分)



(1) 写出图示3地所在位置的地形名称。

余村地处_____;

李村地处_____;

气象哨位于_____。

(2) 丁山与王村的相对高度是_____米。

(3) 甲、乙两地相比,坡度较陡的是_____点,判断的依据是_____

_____。

(4) 王村在大月山的_____方向。

(5) 甲河的流向是_____。

9. 读下列材料,完成相关问题。(7分)

2003年10月16日6时54分,李继耐宣布:神舟五号载人飞船16日6时23分在内蒙古主着陆场成功着陆,实际着陆点与理论着陆点相差4.8公里。返回舱完好无损。我们的航天英雄杨利伟自主出舱。我国首次载人航天飞行圆满成功。

(1) 神舟五号在我国的_____成功着陆,这里属于_____ (地形),这种地形的特点是

_____。与这种地形的地表形态相似的地形是_____。

(2) 除上述地形外,还有哪几种基本的地形类型?