

书 名 湖南教育版课程标准实验教科书
单元双测试卷·地理(八年级上册)

作 者 王金波 彭乐强 王 泓
王 丽 邹明芳 韩 强

出版发行 青岛出版社

社 址 青岛市海尔路 182 号(266061)

本社网址 <http://www.qdpub.com>

邮购电话 13335059110 (0532)68068180(兼传真) 80998664

责任编辑 张性阳 电话 (0532)68068131

特约编辑 胡广元

照 排 青岛时代正方文化传媒有限公司

印 刷

出版日期 2011 年 6 月第 12 版 2011 年 6 月第 26 次印刷

开 本 8 开(787mm × 1092mm)

印 张 6.25

字 数 80 千

书 号 ISBN 978 - 7 - 5436 - 0319 - 6

定 价 8.80 元

编校质量、盗版监督免费服务电话 **800 - 918 - 6216**

青岛版图书售出后如发现印装质量问题,请寄回青岛出版社印刷物资处调换。

电话 (0532)68068629

目 录

第一单元测试题

第 I 卷	[1]
第 II 卷	[5]

第二单元测试题

第 I 卷	[9]
第 II 卷	[13]

期中测试题(A 卷)

第 I 卷	[17]
第 II 卷	[21]

期中测试题(B 卷)

第 I 卷	[25]
第 II 卷	[29]

第三单元测试题

第 I 卷	[33]
第 II 卷	[37]

第四单元测试题

第 I 卷	[41]
第 II 卷	[45]

期末测试题(A 卷)

第 I 卷	[49]
第 II 卷	[54]

期末测试题(B 卷)

第 I 卷	[57]
第 II 卷	[61]

综合测试题(A 卷)

第 I 卷	[65]
第 II 卷	[70]

综合测试题(B 卷)

第 I 卷	[73]
第 II 卷	[78]

参考答案	[81]
------------	--------

1. 写清校名、班级、姓名。
2. 监考老师不读题、不讲题。
3. 卷面整洁,字迹清楚。

注意事项

密

第一单元测试题

时间:120分钟 满分:120分

题号	一	二	总分
得分			

第 I 卷(选择题 共 50 分)

得分	阅卷人	复核人

一、单项选择题(每小题 1 分,共 50 分)

读右图,完成第 1—3 题。

1. 下列关于我国疆域和地理位置的叙述,正确的是()。

- A. 位于北半球和西半球
- B. 领土最南端在南沙群岛中的曾母暗沙
- C. 领土跨热带、北温带、北寒带
- D. 位于亚洲东部,东临大西洋

2. 我国的近海从北到南依次是()。

- A. 渤海、黄海、东海和南海
- B. 黄海、渤海、东海和南海
- C. 南海、黄海、东海和渤海
- D. 渤海、黄海、南海和东海

3. 下列选项中,属于我国内海的是()。

- A. 渤海
- B. 黄海
- C. 东海
- D. 南海

4. 我国纬度最高和纬度最低的省区的简称分别是()。

- A. 黑、粤
- B. 黑、琼
- C. 新、台
- D. 内蒙古、港

5. 下列省份与濒临的海的连线,正确的是()。

- A. 辽宁、河北——渤海
- B. 辽宁、山东——东海
- C. 江苏、安徽——黄海
- D. 浙江、广东——南海

6. 下列省(区)的名称与其简称及行政中心对应正确的是()。

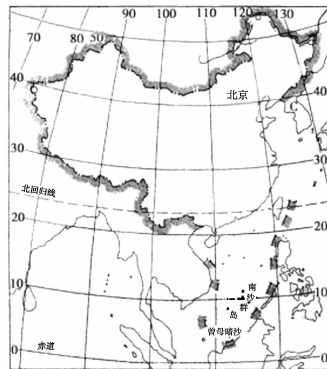
- A. 湖北—豫—武汉
- B. 山东—鲁—青岛
- C. 广西—贵—南宁
- D. 广东—粤—广州

7. 我国下列省级行政区中,有两个简称的是()。

- A. 湖北、湖南
- B. 西藏、台湾
- C. 山西、吉林
- D. 四川、云南

8. 下列描述不属于我国人口特点的是()。

- A. 实行计划生育政策以后,全国人口总数减少
- B. 人口地区分布不平衡



姓名

班级

学校

封

线

- C. 城镇人口增长迅速
D. 人口基数大,资源、环境压力大
9. 我国的领海是指从海岸基线向海上延伸到()海里。
A. 20 B. 120 C. 12 D. 200
10. 我国邻国最多的省级行政单位是()。
A. 新疆维吾尔自治区 B. 西藏自治区
C. 云南省 D. 黑龙江省
11. 我国的人口政策是()。
A. 实行限制生育 B. 控制人口数量,提高人口素质
C. 晚婚早育 D. 东部地区限制生育,西部地区鼓励
12. 下列国家中与我国接壤的是()。
A. 文莱 B. 朝鲜 C. 马来西亚 D. 菲律宾
13. 我国全部属于岛屿部分的省级行政单位是()。
A. 港、台 B. 澳、琼 C. 台、琼 D. 港、澳
14. 北回归线自东向西穿过我国的省级行政区划是()。
A. 台湾、福建、广东、广西 B. 台湾、海南、广东、广西
C. 广东、广西、海南、云南 D. 台湾、广东、广西、云南
15. 下列关于我国人口分布特点的叙述,正确的是()。
A. 盆地少,高原多 B. 东部地区多,西部地区少
C. 西南多,东西少 D. 城市多,农村少
16. 下列城市中,每天最先见到日出的是()。
A. 沈阳 B. 北京 C. 兰州 D. 乌鲁木齐
17. 我国疆域4个端点中,位于北温带的有()。
①北端 ②南端 ③东端 ④西端
A. ① B. ①③④ C. ①③ D. ①④
18. 下列与我国隔海相望的一组国家是()。
A. 印度、文莱、菲律宾 B. 马来西亚、朝鲜、韩国
C. 日本、朝鲜、印度尼西亚 D. 文莱、菲律宾、日本
19. 我国陆上邻国与其方位的组合正确的是()。
A. 东——韩国 B. 南——阿富汗、老挝
C. 西南——哈萨克斯坦 D. 北——蒙古、俄罗斯
20. 我国临海的省级行政单位共有()个。
A. 11 B. 12 C. 13 D. 14
21. 下列关于我国现行的行政区划的叙述,错误的是()。
A. 基本上划分为省(自治区、直辖市)、县(自治县、市)和乡(镇)三级
B. 包括23个省、5个自治区、3个直辖市
C. 自治区、自治州、自治县都是少数民族自治的地方
D. 我国于1997年和1999年分别在香港和澳门设立特别行政区
22. 我国下列省级行政区跨经度最广的是()。
A. 新 B. 甘 C. 藏 D. 内蒙古
23. 我国的临海位于温带的有()。
①渤海 ②南海 ③东海 ④黄海

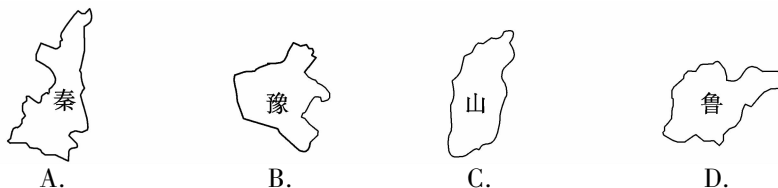
- A. ①④ B. ③④ C. ①③④ D. ①③

下图为我国 4 个省的轮廓图(比例尺不同),据图完成第 24—26 题。



24. 我国领土 4 个端点中,有两个端点的省区是()。
- A. A B. B C. C D. D
25. 小明想在假期去看海,能满足他要求的省区是()。
- A. A B. B C. C D. D
26. 我国少数民族数目最多的省区是()。
- A. A B. B C. C D. D
27. 我国领土最东端经度约为 135°E ,最西端经度约为 73°E ,我国东西共跨时区为()。
- A. 东四区至东八区的 5 个时区 B. 东五区至东九区的 5 个时区
C. 东六区至东十区的 5 个时区 D. 东五区至东八区的 4 个时区
28. 当乌苏里江 7 点太阳升起时,帕米尔高原上的边防战士可能在()。
- A. 上夜校 B. 做早操
C. 收看午间新闻 D. 黑夜巡逻
29. 下列关于我国海洋的叙述,正确的是()。
- A. 沿海分布着 500 多个岛屿 B. 台湾岛西濒太平洋,东临东海
C. 大陆海岸线 18000 多千米,良港众多 D. 我国临海都属于内海
30. “北京时间”是指下列时区中()的区时。
- A. 东九区 B. 东五区 C. 东八区 D. 东六区
31. 下列关于我国各民族分布的叙述,正确的是()。
- A. 各民族大杂居、小聚居 B. 各民族小杂居、大聚居
C. 汉族主要分布在西部和南部 D. 少数民族主要分布在西部和东部
32. 我国人口稠密区和稀疏区的分界线是()。
- A. 黑河到腾冲一线 B. 漠河到腾冲一线
C. 秦岭—淮河一线 D. 大兴安岭—巫山—雪峰山一线
33. 青岛市濒临的近海是()。
- A. 黄海 B. 东海 C. 渤海 D. 南海
34. “得陇望蜀”这一成语涉及下列省区中的()。
- A. 甘肃、重庆 B. 青海、四川 C. 云南、四川 D. 甘肃、四川
35. 我国管辖的海域面积约()万平方千米。
- A. 200 B. 300 C. 400 D. 500
36. 下列与我国陆地相邻,并且均为内陆国的是()。
- A. 俄罗斯、蒙古、巴基斯坦 B. 哈萨克斯坦、印度、缅甸
C. 蒙古、阿富汗、老挝 D. 朝鲜、尼泊尔、老挝
37. 在我国 23 个省中,与 3 个自治区接壤的是()。
- A. 四川省 B. 青海省 C. 甘肃省 D. 云南省

38. 下列省区轮廓与其对应的简称错误的是()。



39. 下列省区中既濒临海洋,又有陆上邻国的是()。
 A. 云南省 B. 辽宁省 C. 吉林省 D. 广东省
 40. 近几年,我国每年约增加 1200 万~1300 万人口,增长速度很快的主要原因是()。
 A. 人口死亡率低 B. 人口出生率大 C. 人口基数大 D. 人口自然增长率高

41. 我国人口最多的少数民族是()。
 A. 回族 B. 满族 C. 壮族 D. 苗族
 42. 我国少数民族主要分布在()地区。
 A. 东南、西南、西北 B. 东北、东南、西南 C. 东北、西北、东南 D. 东北、西北、西南

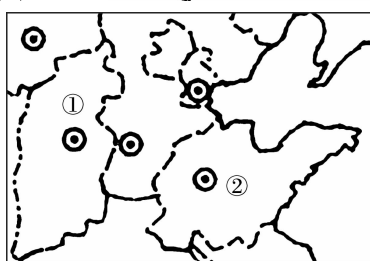
43. 我国最大的岛屿是()。
 A. 台湾岛 B. 海南岛 C. 崇明岛 D. 钓鱼岛

44. 下列在我国沿海分布的岛屿,自北向南排序正确的一组是()。
 A. 台湾岛、海南岛、舟山群岛、南海诸岛
 B. 海南岛、舟山群岛、南海诸岛、台湾岛
 C. 南海诸岛、海南岛、台湾岛、舟山群岛
 D. 舟山群岛、台湾岛、海南岛、南海诸岛

45. 右图是我国少数民族在节日里的游戏,它是()。
 A. 傣族的泼水节 B. 彝族的火把节
 C. 蒙古族的那达慕大会 D. 藏族的晒佛节



46. 右图中①、②是我国两个省区,它们的简称分别是()。
 A. 冀、皖 B. 豫、皖
 C. 晋、鲁 D. 陕、鲁



47. 我国人口分布的基本特点是()。
 A. 西部人口多,东部人口少
 B. 东南部人口多,西北部人口少
 C. 南方比北方少 D. 东部人口密度在 10 人以下

48. 我国大陆海岸线自北而南的起止点所在的省区是()。
 A. 黑龙江、海南 B. 辽宁、广东 C. 辽宁、海南 D. 辽宁、广西

49. 我国人口最少的省级行政单位是()。
 A. 天津 B. 重庆 C. 香港 D. 澳门

50. 下列关于我国城镇人口和农村人口的叙述,正确的是()。
 A. 我国城镇人口过多,农村人口不能再向城镇迁移
 B. 近年来,城镇人口所占比例增长过快,还将继续增长
 C. 城镇人口大大多于农村人口
 D. 为了加快我国的经济的发展,应在短期内将全部农村人口转成城镇人口

1. 写清校名、班级、姓名。
2. 监考老师不读题、不讲题。
3. 卷面整洁，字迹清楚。

注意事项

姓名

班级

学校

第 II 卷(综合题 共 70 分)

得分	阅卷人	复核人

二、综合题(共 70 分)

1. 正确连接我国的“四至点”。(4 分)

最北端	黑龙江与乌苏里江汇合处	琼
最南端	帕米尔高原	黑
最西端	漠河以北黑龙江主航道中心线	新
最东端	曾母暗沙	

2. 2005 年 4 月 26 日至 5 月 3 日,应中共中央和中共中央总书记胡锦涛邀请,时任中国国民党主席的连战率中国国民党大陆访问团来大陆进行参观访问。

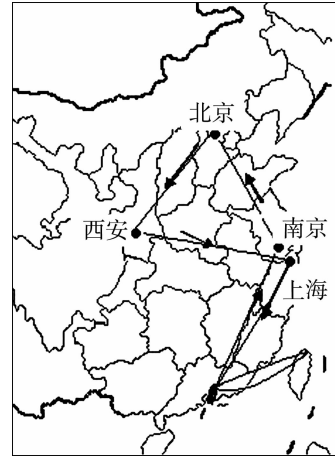
读图,完成下列问题。(6 分)

(1)从图示来看,连战访问大陆,从出访到返台两次跨越的海峡是_____ ,通过位于_____ 省珠江口东岸的_____ (特别行政区)转机。

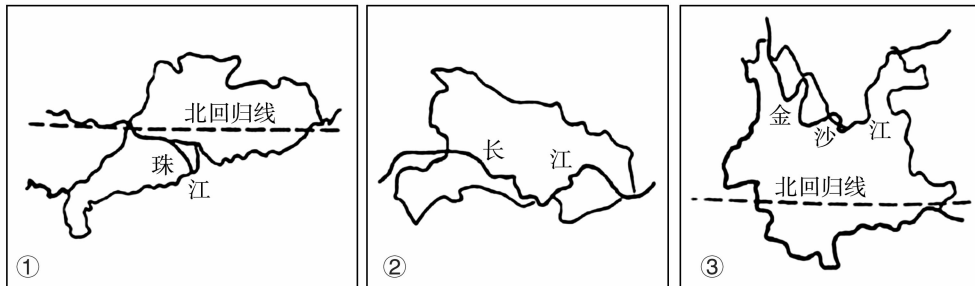
(2)连战先后访问的 4 个城市所在省级行政区的简称分别是()。

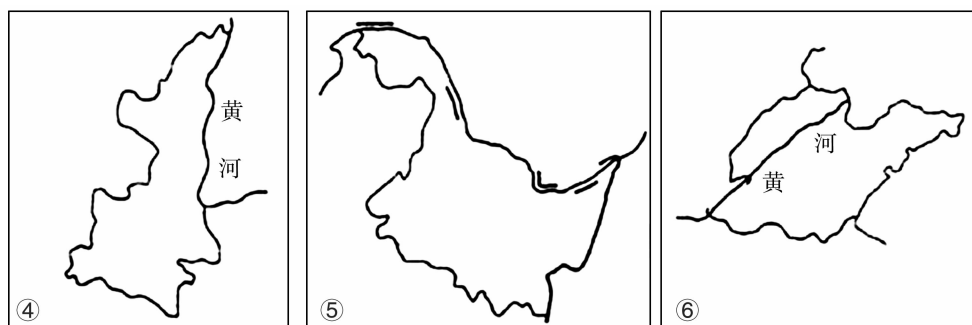
- A. 宁、京、晋、申
- B. 沪、陕、京、宁
- C. 苏、京、晋、沪
- D. 苏、京、陕、沪

(3)图示路线中,由南京到北京的飞行方向是_____。



3. 读下列各省区的轮廓图,完成相关问题。(12 分)





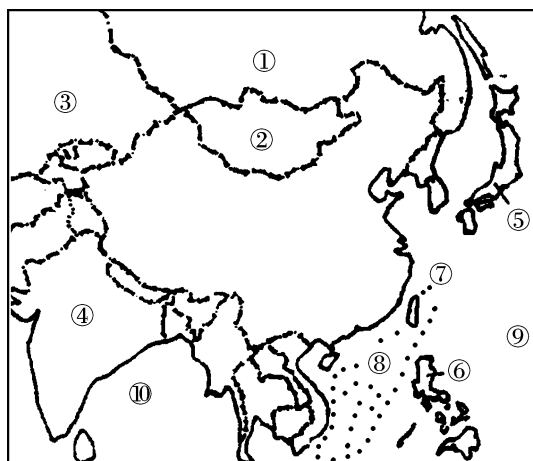
(1) 填写下面的表格。

图 号	①	②	③	④	⑤	⑥
省的名称	广东					山东
省的简称		鄂			黑	
省会城市			昆明	西安		

(2) 黑河—腾冲是我国人口分布的地理分界线,该线最北端所在的省份是_____;位于该线最南端的省份是_____。该线反映了我国人口分布的基本特点:此线以东,人口_____;此线以西,人口_____。

(3) 图示 6 省份位于我国西部的省份是_____和_____。

4. 读下图,完成下列问题。(13 分)



(1) 写出图中数码代表的地理事物的名称。

邻国:①_____;②_____;③_____;④_____。

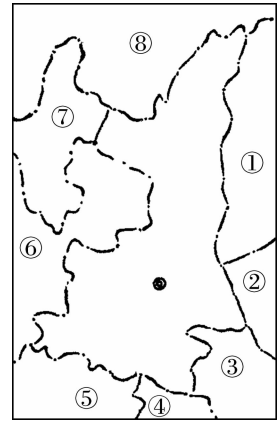
隔海相望的国家:⑤_____;⑥_____。

海域:⑦_____;⑧_____。

大洋:⑨_____;⑩_____。

(2) 将 A. 尼泊尔、B. 塔吉克斯坦、C. 越南、D. 渤海、E. 海南岛、F. 山东半岛填注在图中相应位置。(填字母。)

5. 右图所在区域是我国西部开发的重点区域之一,读图完成下列问题。(10分)



(1) 图中央的省是_____，其行政中心是_____。

(2) 填出图中代码所代表的省级行政区名称。(填简称。)

①_____；③_____；⑤_____；

⑦_____；⑧_____。

(3) 填出图中代码所代表的省级行政区的行政中心。

②_____；④_____；⑥_____。

6. 辨认下列4省区轮廓图,完成相关问题。(9分)

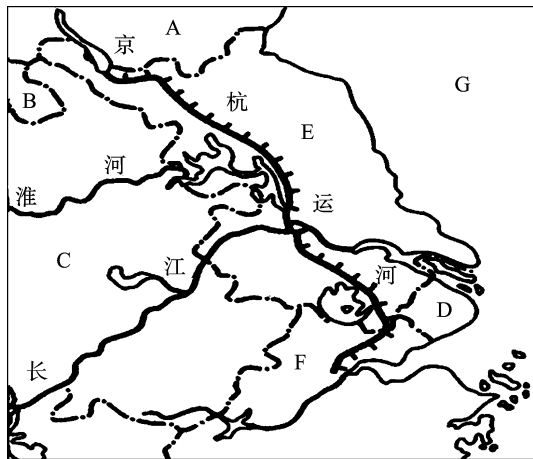


(1) 在 A、B、C、D 4 省区中,邻国最多的是_____,纬度最低的是_____,相邻的省级行政区最多的是_____。(填字母。)

(2) 根据所学内容,结合4省轮廓图填写下表。

	A	B	C	D
省区名称				
简称				
行政中心				

7. 读下图,完成下列问题。(7分)



(1) 写出图中字母所代表的省级行政区的简称。

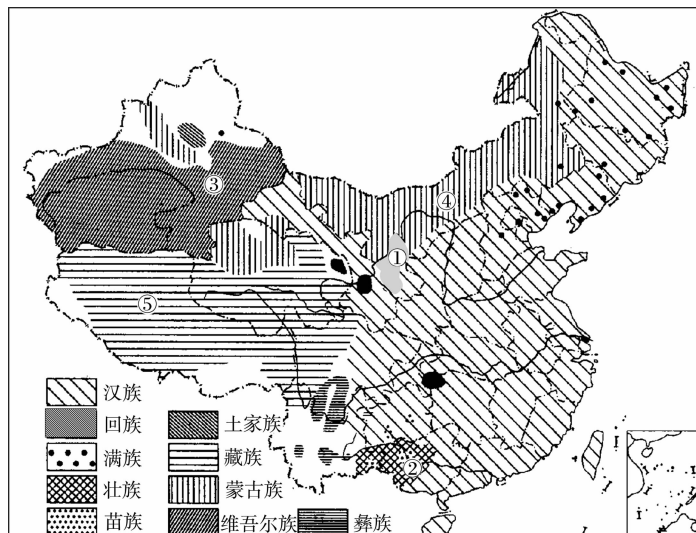
A. _____; B. _____; C. _____。

(2) 写出图中字母所代表的省区的行政中心。

D. _____; E. _____; F. _____。

(3) G 海的名称是_____。

8. 下图是我国民族分布图, 仔细读图, 完成下列问题。(9 分)



(1) 在我国的各民族中, _____族人口最多, 约占全国总人口的_____。

(2) 将图中数码所代表的少数民族及其省级行政区名称填入下表。

	①	②	③	④	⑤
少数民族					
省级行政区					

(3) 从图中可以看出, 我国民族分布的特点是_____。

1. 写清校名、班级、姓名。
2. 监考老师不读题、不讲题。
3. 卷面整洁,字迹清楚。

注意事项

姓名

班级

学校

密

封

线

第二单元测试题

时间:120分钟 满分:120分

题号	一	二	总分
得分			

第 I 卷(选择题 共 50 分)

得分	阅卷人	复核人

一、单项选择题(每小题 1 分,共 50 分)

一、单项选择题(每小题 1 分,共 50 分)

1. 青岛位于我国地势的()。
A. 第一级阶梯
B. 第二级阶梯
C. 第三级阶梯
D. 第一、二级阶梯交界处
2. 下列山脉位于我国地势第一、二级阶梯分界线上的是()。
A. 太行山
B. 大兴安岭
C. 横断山
D. 秦岭
3. 分布在我国第三级阶梯上的主要地形类型是()。
A. 丘陵和平原
B. 丘陵和盆地
C. 山地和高原
D. 平原和高原
4. 既位于我国第二、三级阶梯分界线上,又是省级行政区大致界线的山脉是()。
A. 昆仑山
B. 大兴安岭
C. 太行山
D. 南岭
5. “地势坦荡,沃野千里”指的是()。
A. 长江中下游平原
B. 华北平原
C. 珠江三角洲
D. 东北平原
6. 下列说法正确的是()。
A. 福建的年降水量比新疆多
B. 山西的年降水量比湖南多
C. 内蒙古的年降水量比贵州多
D. 广东的年降水量比河南少
7. 与我国湿润地区、半湿润地区的分界线大致接近的是()毫米年等降水量线。
A. 400
B. 800
C. 1000
D. 1600
8. 长江和黄河都流经的省区是()。
A. 青海、甘肃
B. 青海、四川
C. 青海、西藏
D. 四川、甘肃
9. 下列地区地处暖温带、半湿润地区的是()。
A. 长江中下游平原
B. 东北平原
C. 塔里木盆地
D. 华北平原

第二单元测试题第 1 页(共 8 页)

10. 夏季风势力很强,向北挺进快的年份,我国往往出现()。
- A. 南涝北旱 B. 南旱北涝 C. 南北皆涝 D. 南北皆旱
11. 我国东部地区的雨季由南向北的变化情况是()。
- A. 出现的时间愈来愈早 B. 持续的时间愈来愈短
C. 持续的时间愈来愈长 D. 降水的强度愈来愈小
12. 下列城市中,位于非季风区的是()。
- A. 武汉 B. 乌鲁木齐 C. 哈尔滨 D. 昆明
13. 对我国农业生产影响最大的气候灾害是()。
- A. 寒潮 B. 台风 C. 霜冻 D. 干旱
14. 形成我国水旱灾害的气候原因是()。
- A. 各地降水量差别很大
B. 降水量的季节分配不均,年际变化也大
C. 每年秋末、冬季受寒潮影响
D. 台风带来的特大暴雨
15. 内流河的水源主要来自()。
- A. 湖泊水 B. 大气降水 C. 地下水 D. 高山冰雪融水
16. 下列有关外流河的说法,正确的是()。
- A. 湘江直接流入长江,不是外流河 B. 直接流入海洋的河流才是外流河
C. 最终流入海洋的河流统称外流河 D. 中途消失断流的河流是外流河
17. 下列河流与其流入的海洋组合正确的是()。
- A. 长江—黄海 B. 黑龙江—渤海 C. 黄河—东海 D. 珠江—南海
18. 鄱阳湖位于()。
- A. 湘 B. 皖 C. 赣 D. 苏
19. 下列有关长江的说法,不正确是()。
- A. 我国最长的河流 B. 我国水量最大、流域面积最广的河流
C. 注入黄海 D. 流经我国地势的第一、二、三级阶梯
20. 长江最长的支流是()。
- A. 嘉陵江 B. 汉江 C. 雅砻江 D. 乌江
21. 下列关于我国地形的叙述,正确的是()。
- A. 柴达木盆地位于我国的第二阶梯 B. 华北平原是我国最大的平原
C. 准噶尔盆地是海拔最高的盆地 D. 武夷山位于地势的第三阶梯
22. 我国纬度最高的盆地是()。
- A. 塔里木盆地 B. 准噶尔盆地 C. 四川盆地 D. 柴达木盆地
23. 青岛地区夏季盛行()季风。
- A. 东北 B. 西北 C. 西南 D. 东南
24. 我国全部位于热带的省区是()。
- A. 福建 B. 广西 C. 台湾 D. 海南
25. 下列河流中结冰期最长的是()。
- A. 长江 B. 海河 C. 松花江 D. 黑龙江

26. 塔里木河汛期出现在夏季是因为()。
- A. 夏季降水丰富
B. 夏季气温高,冰雪融化较多
C. 地下水补给丰富
D. 湖泊水补给丰富
27. 我国有凌汛的河流是()。
- A. 松花江
B. 黄河
C. 淮河
D. 怒江
28. 下列河流中注入印度洋的是()。
- A. 珠江
B. 澜沧江
C. 额尔齐斯河
D. 怒江
29. “远看是山,近看成川”是下列高原中()的写照。
- A. 青藏高原
B. 内蒙古高原
C. 黄土高原
D. 云贵高原
30. 下列关于黄土高原的叙述,正确的是()。
- A. 世界上面积最大的高原
B. 水土流失严重,千沟万壑,支离破碎
C. 黄土层深厚,植被覆盖好
D. 位于太行山东侧
31. “羌笛何须怨杨柳,春风不度玉门关”,其中的春风是指()。
- A. 冬季风
B. 夏季风
C. 偏北风
D. 偏东风
32. 世界上绝大多数动植物都能在我国找到适合生长的地方,主要是因为()。
- A. 季风气候显著
B. 气候复杂多样
C. 夏季普遍高温
D. 雨热同期
33. 长江中游支流、湖泊之所以能对干流起到调节作用主要是因为()。
- A. 支流集中分布于干流南侧
B. 支流东北分布
C. 夏季风的影响自北而南逐渐推移
D. 南北支流汛期错开,对长江干流水量起着调节作用
34. 下列有关长江的叙述,不正确的是()。
- A. 长江水能蕴藏量占全国的一半,主要集中在下游地区
B. 长江干流航线与京广、京九、京沪等多条铁路线及京杭运河相交
C. 近年来,长江洪涝灾害加剧的主要原因之一是上中游植被破坏严重
D. 长江干、支流通航里程达8万千米,宜宾以下四季通航,有“黄金水道”之称
35. 下列城市中位于黄河干流沿岸的是()。
- A. 兰州
B. 济南
C. 太原
D. 石家庄
36. 下列山脉中,呈东北—西南走向的是()。
- A. 武夷山
B. 阴山
C. 阿尔泰山
D. 祁连山
37. 我国北方的雨季()。
- A. 开始早、结束晚
B. 开始晚、结束早
C. 雨季短、降水多
D. 雨季长、降水少
38. 我国不受寒潮侵袭的地方有()。
- A. 台湾岛
B. 山东半岛
C. 洞庭湖平原
D. 雅鲁藏布江谷地

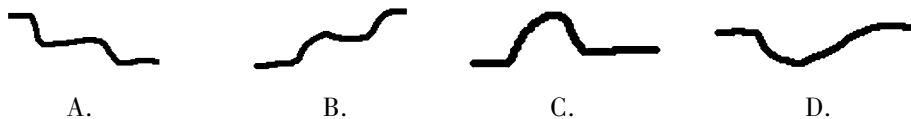
39. 我国“南水北调”工程的主要目的是()。

- A. 解决长江流域的洪涝灾害问题
- B. 连通长江、淮、黄、海河四大水系发展航运
- C. 利用流域间的落差发电
- D. 缓解北方地区水资源不足的问题

40. 黄河下游流域狭小又无支流的原因是()。

- A. 流经平原,气候干旱
- B. 河流因引黄灌溉水量减小
- C. 地面植被稀少,蒸发旺盛
- D. 河床比堤外地面高

41. 下列能准确反映我国地势特点的剖面图是()。



42. 下列关于我国外流河水文特征的叙述,正确的是()。

- A. 长江和黄河的含沙量均大,汛期均长
- B. 珠江比黄河流程短,但汛期却长
- C. 海河的水含沙量大,汛期长,冬季结冰
- D. 东北的辽河是我国结冰期最长的

43. 我国季风区与非季风区的地理界线是()。

- A. 大兴安岭—太行山—巫山—雪峰山
- B. 昆仑山—祁连山—横断山
- C. 大兴安岭—阴山—冈底斯山
- D. 青藏高原的东南边缘—秦岭—淮河

44. 我国东部最主要的降水类型是()。

- A. 锋面雨
- B. 地形雨
- C. 台风雨
- D. 对流雨

45. 我国三大平原的共同特征是()。

- A. 海拔都在 50 米以下
- B. 都是河流冲积形成的,地势低平
- C. 河道纵横,湖泊众多
- D. 滨海地区都有巨大的三角洲

46. 下列地区中降水最少、夏季气温最高的是()。

- A. 台湾火烧寮
- B. 重庆
- C. 吐鲁番
- D. 乌鲁木齐

47. 黄河上、中游分界点位于()。

- A. 河南
- B. 宁夏
- C. 内蒙古
- D. 陕西

48. 黄河中游的水文特征是()。

- A. 多峡谷、落差大、水能贫乏
- B. 水流缓慢、河床高悬
- C. 河水清澈
- D. 支流多,含沙量大

49. 北半球夏至时,下列城市白昼时间最长的是()。

- A. 海口
- B. 广州
- C. 北京
- D. 哈尔滨

50. 下列以地势低平、河道纵横、水田连片为特色的地形区是()。

- A. 东南丘陵
- B. 华北平原
- C. 四川盆地
- D. 长江中下游平原

1. 写清校名、班级、姓名。
2. 监考老师不读题、不讲题。
3. 卷面整洁，字迹清楚。

注意事项

姓名

班级

学校

第 II 卷(综合题 共 70 分)

得分	阅卷人	复核人

二、综合题(共 70 分)

1. 读下图,完成下列问题。(9 分)

(1)A 是_____ (山脉),它的北侧是_____ 盆地。

(2)B 是_____ (山脉),它位于我国地势第_____ 级阶梯上。

(3)C 是_____ (山脉),它的东侧是_____ 平原。

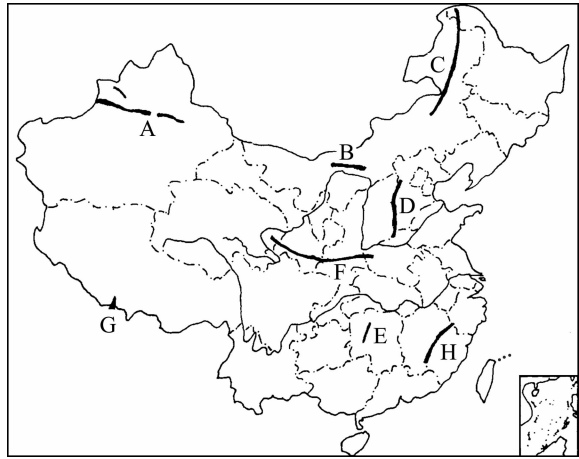
(4)D 是_____ (山脉),它的西侧是_____ 高原。

(5)E 是_____ (山脉),它是我国地势第_____ 级阶梯和第_____ 级阶梯的分界线。

(6)F 是_____ (山脉),它的走向是_____。

(7)G 是_____ (山峰),它南侧的国家是_____。

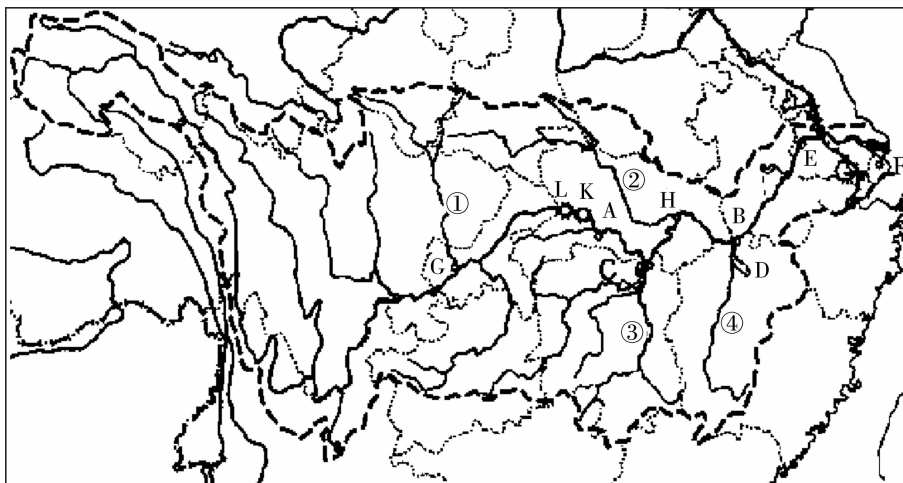
(8)H 是_____ (山脉),它是_____ 省和_____ 省之间的山脉。



2. 根据所学知识填写下表。(6 分)

山脉名称	两侧地形区名称	
	南 侧	北 侧
天 山		
昆仑山		
	西 侧	东 侧
大兴安岭		
太行山		
巫 山		
横断山		

3. 读长江流域图,完成下列问题。(8分)



(1) 长江的发源地是_____ ,注入_____ 海。

(2) 长江上、中、下游的划分地是:A. _____ ;B. _____ 。

(3) 写出图示数码或字母所代表的地理事物的名称。

主要支流:① _____ ;② _____ ;③ _____ ;④ _____ 。

湖泊:C. _____ ;D. _____ 。

重要港口城市:E. _____ ;F. _____ ;G. _____ ;H. _____ 。

重要水利枢纽工程:L. _____ ;K. _____ 。

4. 右面是黄土高原的景观图,读图完成下列问题。(10分)

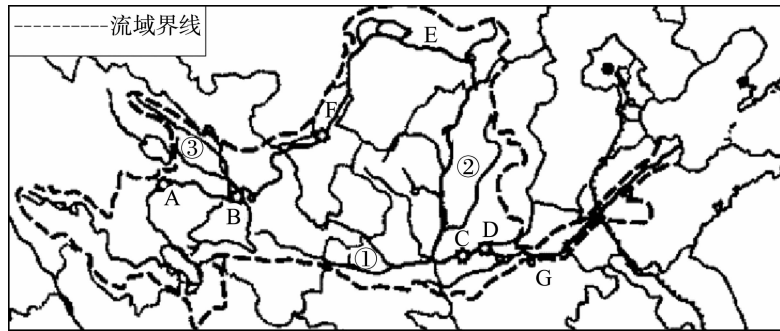
(1) 该高原的地表形态特征是_____



(2) 黄土高原是世界上面积最广的黄土分布区。请查阅有关资料,说明该高原的黄土是怎样形成的。

(3) 目前,黄土高原主要的生态环境问题是什么? 治理的主要办法有哪些?

5. 读黄河水系图,完成下列问题。(10分)



(1) 写出图中数码所代表的黄河主要支流的名称。

① _____; ② _____。

(2) 划分黄河上、中、下游的地点是 _____、_____ (城镇名), 并在图中标出。

(3) 写出图中已建成和在建的重要水电站和水利枢纽的名称。

A. _____; B. _____; C. _____; D. _____。

(4) 黄河流经的省级行政区 G 是 _____。

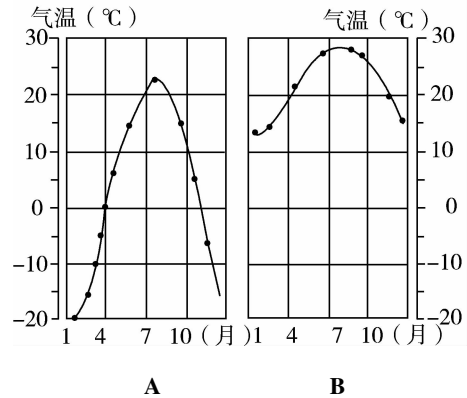
6. 读哈尔滨和广州各月气温曲线图,完成下列问题。(8分)

(1) 表示哈尔滨的是图 _____, 表示广州的是图 _____。

(2) 1 月份, 两地气温相差约 _____ $^{\circ}\text{C}$, 这说明我国冬季气温分布特点是 _____。

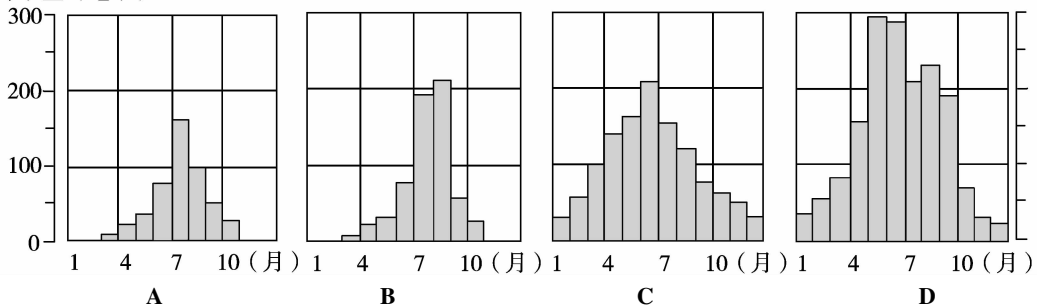
(3) 7 月份, 两地气温相差约 _____ $^{\circ}\text{C}$, 这反映我国夏季气温分布特点是 _____。

(4) A 图气温的年较差约 _____ $^{\circ}\text{C}$; B 图气温的年较差约 _____ $^{\circ}\text{C}$ 。



7. 读广州、武汉、北京、哈尔滨 4 个城市降水量逐月分配图,完成下列问题。(8分)

降水量 (毫米)



(1) 4 城市降水季节分配的共同特点是: 在一年中, 降水集中在 _____ 季, 而 _____ 季降水最少。