

河北教育版

北大绿卡

BEIJING UNIVERSITY  
Permanent Resident Card

# 课课大卷

KEKE DAKAOJUAN

锁定新教材

瞄准新考纲

创设新题型

数学

一年级上



主编 苑秀琴

东北师范大学出版社 长春

# 编者名单

主编:苑秀琴

编者:张 衡 魏红然 王凤娇

张 丽 董秀荣 林 红

章 惠 刘淑华 刘晓明

王玉新 张 华 李治红

## 图书在版编目(CIP)数据

北大绿卡. 课课大考卷. 小学数学一年级上. 河北教育版/  
苑秀琴主编. —长春:东北师范大学出版社, 2010. 5  
ISBN 978 - 7 - 5602 - 6143 - 0

I. ①北… II. ①苑… III. ①数学课—小学—习题  
IV. ①G624

中国版本图书馆 CIP 数据核字(2010)第 089340 号

责任编辑:毕冬微 封面设计:宋 超

责任校对:李万旭 责任印制:栾喜湖

东北师范大学出版社出版发行  
长春净月经济开发区金宝街 118 号(邮政编码:130117)

电话:0431—85695744 85688470

邮购热线:0431—84568163

传真:0431—85695744 85602589

网址: <http://www.nenup.com>

电子函件: [sdcbcs@mail.jl.cn](mailto:sdcbcs@mail.jl.cn)

编辑信箱: [nenupbeidouxing@yahoo.com.cn](mailto:nenupbeidouxing@yahoo.com.cn)

广告经营许可证号:2200006000161

东北师范大学出版社激光照排中心制版

延边新华印刷有限公司印装

吉林省延吉市河南街 818 号(邮政编码:133001)

2010 年 6 月第 1 版 2010 年 6 月第 1 次印刷

幅面尺寸:296 mm×210 mm 印张:5 字数:76 千

定价:10.80 元

如发现印装质量问题,影响阅读,可直接与承印厂联系调换

# 目录

## CONTENTS

第1单元 比 较 .....	1
1. 比多少 .....	1
2. 比高矮、长短 .....	3
3. 比大小、轻重 .....	5
第1单元综合测试 .....	7
第2单元 认识10以内的数 .....	9
1. 1~5的认识 .....	9
2. 0的认识 .....	10
3. 6~10的认识 .....	11
4. 认识“ $<$ ,” $>$ ,” $=$ ”与数的比较 .....	13
5. 顺 序 .....	15
第2单元综合测试 .....	17
第3单元 认识物体 .....	19
认识物体 .....	19
第3单元综合测试 .....	21
第4单元 合与分 .....	23
1. 数的合成 .....	23
2. 数的分拆 .....	25
第4单元综合测试 .....	27
第5单元 10以内的加法和减法 .....	29
1. 5以内的加法 .....	29
2. 5以内的减法 .....	31
3. 6,7的加、减法 .....	33
4. 8,9的加、减法 .....	34
5. 10的加、减法 .....	35

6. 10以内的加法 .....	37
7. 10以内的减法 .....	38
第5单元综合测试 .....	39
第6单元 分 类 .....	41
1. 分类(一) .....	41
2. 分类(二) .....	42
第6单元综合测试 .....	43
第7单元 认识11~20各数 .....	45
1. 11~20各数的认识 .....	45
2. 20以内数的大小比较 .....	47
第7单元综合测试 .....	49
第8单元 认识钟表 .....	51
1. 认识钟表 整时和半时 .....	51
2. 大约几时 .....	52
第8单元综合测试 .....	53
第9单元 20以内的加法 .....	55
1. 十几加几 .....	55
2. 9加几 .....	57
3. 8加几 .....	59
4. 7加几 .....	61
5. 连加 .....	63
第9单元综合测试 .....	65
期末综合测试 .....	67



KeKeDaKaoJuan



北大绿卡  
BEIJING UNIVERSITY  
Permanent Resident Card



# 第 1 单元 比 较



## 1. 比 多 少










一、比一比,多的画“√”,少的画“×”。









1.  





2.  

二、把每组中多余的部分涂上红色。

1.   
⋮  


2.  ⋮   
 ⋮   
 ⋮   
 ⋮   


3.  ⋮   
 ⋮   
 ⋮   
  


4.   
⋮  
  
⋮  
  
⋮  
  
⋮  


三、把同样多的用线连起来。


1. 

a. 

2. 

b. 

3. 

c. 

4. 

d. 

四、小小画笔手中拿。

1. 在格内画的“○”比“△”多,比“☆”少。



--	--	--	--	--	--	--	--	--	--	--	--	--	--	--	--	--	--	--	--



2. 画的“○”和“△”同样多。



\_\_\_\_\_

3. 画的“○”比“△”少 2 个。



4. 画的“○”比“△”多 1。



五、填一填。

1. □ □ □ □ □ □



\_\_\_\_\_ 和 \_\_\_\_\_ 同样多。

2. ○ ○ ○ ○ ○ ○



\_\_\_\_\_ 比 \_\_\_\_\_ 多，\_\_\_\_\_ 比 \_\_\_\_\_ 少。

3. ○ ○ ○ ○ ○ ○ ○ ○



\_\_\_\_\_ 最多，\_\_\_\_\_ 最少。

4. □ □ □ □ □ □ □



\_\_\_\_\_ 比 \_\_\_\_\_ 多，\_\_\_\_\_ 比 \_\_\_\_\_ 多，

\_\_\_\_\_ 比 \_\_\_\_\_ 多。

\_\_\_\_\_ 比 \_\_\_\_\_ 少，\_\_\_\_\_ 比 \_\_\_\_\_ 少，  
\_\_\_\_\_ 比 \_\_\_\_\_ 少。

六、哪个杯子盛的水最多呢？在它的下面画“○”。



( )

( )

( )

七、动脑筋，我会算。



第一行给第二行( )个○，两行就同样多了。

八、把方糖放入三个杯子里，哪杯水最甜？（在“□”里画“△”）





## 2. 比高矮、长短

一、高的画“△”，矮的画“○”。

1.



( ) ( )

2.



( ) ( )

3.



( ) ( )

4.



( ) ( )


二、在长的后面画“○”，在短的后面画“△”。

1.



( )

2.



( )



( )




( )

3.



( )

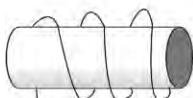
4.



( )



( )



( )

三、比一比，在括号里画“√”。

1. 谁最长？

① \_\_\_\_\_ ( )

② ( )

2. 谁最矮？



( )



( )



( )

3. 哪个酒杯最高？

①



( )

②



( )

③




( )

④



( )

4. 谁最高？



②

( )

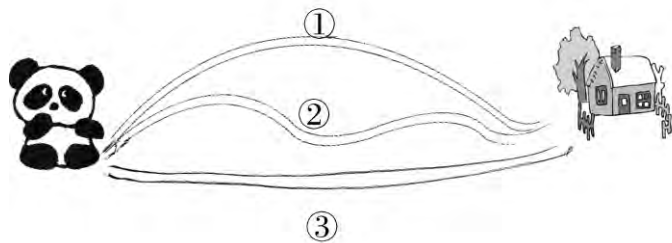
①

( )

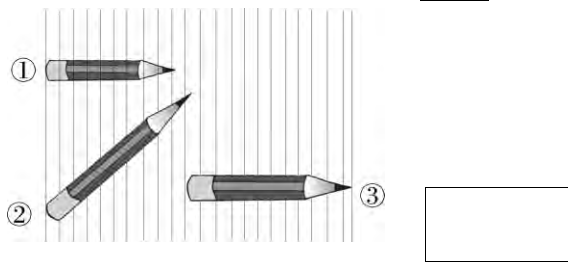
③

( )

四、把小熊猫回家最近的那条路涂上你喜欢的颜色。




五、比一比哪支铅笔最长，在“”里填上序号。



六、画一画。

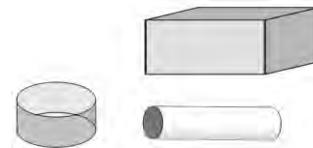
1. 在最高的动物旁边画“☺”，最矮的动物旁边画“☹”。




2. 画一棵比它高一些的树。



3. 下面有3块积木，怎样摆在一起会最高？试着画一画。



七、小刚比小芳高，小兰比小芳矮，请在小芳的头上画一朵花。






### 3. 比大小、轻重

一、比一比,在大的下面画“△”,在小的下面画“○”。



( ) ( )




( ) ( )



( ) ( )



( ) ( )



( ) ( )



( ) ( )

二、在轻的下面画“△”,在重的下面画“○”。



( ) ( )



( ) ( )



( ) ( )



( ) ( )

三、涂一涂。

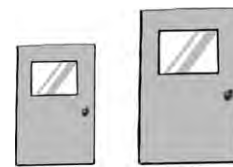
1. 在大的下面的“□”里涂红色,小的下面的“□”里涂绿色。

(1)



□ □

(2)



□ □

2. 在重的下面的“”里涂红色,轻的下面的“”里涂绿色。

(1)



(2)



四、从重到轻排排队。(用 1,2,3,4 表示顺序)



( ) ( ) ( ) ( )

五、在最大的桌子下面的括号里画“√”。

1.



( )

2.




( )

3.




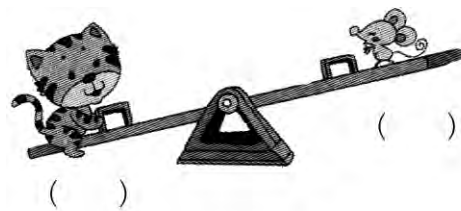
( )

六、在水最多的杯子下面画“√”。




( ) ( ) ( ) ( )

七、哪只小动物最重? 哪只小动物最轻? 在最重的下面画“○”,在最轻的下面画“△”。



八、比一比,填一填。(填序号)

1.



( )最高,  
( )最矮,  
( )最轻,  
( )最重,  
( )最高又最重。

2.



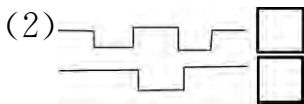
( )最大,  
( )最小,  
( )最大反而最轻,  
( )最重反而最小。




### 第1单元综合测试

#### 一、比一比。



1. 在长的后面的“□”里画“√”，短的后面的“□”里画“×”。



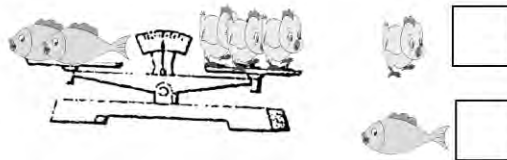
2. 在多的后面的“□”里画“√”，少的后面的“□”里画“×”。



3. 在高的下面的“□”里画“△”，矮的下面的“□”里画“○”。



4. 哪个重些？在“□”里画“√”。



#### 二、画一画。

1. 画的“○”要与“☆”一样多。

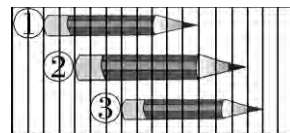


2. 画的“○”比“△”少3个。



#### 三、涂一涂。

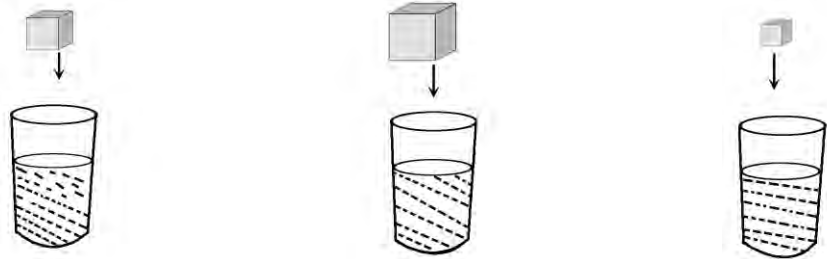
1. 把最长的涂上蓝色。



2. 把最矮的涂上红色。




四、把石块投入杯中，哪杯水升得最高？画“△”表示。

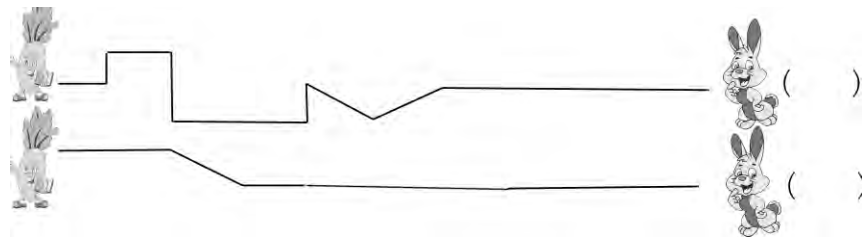


( )                      ( )                      ( )

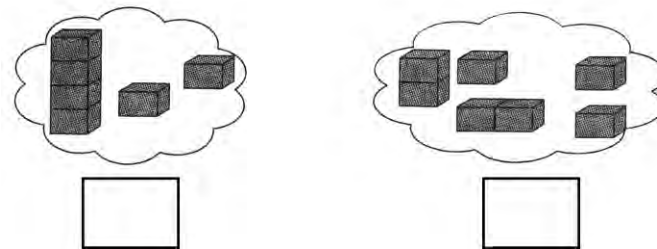
五、下面三棵树一样粗，树上分别绕着绳子，请问哪棵树上的绳子最长呢？（在“□”里画“○”）




六、哪只小兔最先吃到萝卜？（在括号里画“△”）



七、一个一个摆起来后哪个最高？在高的下面画“√”。



八、看一看，哪种水果最轻？在最轻的下面画“√”，在最重的下面画“○”。



九、



我的家比小白兔的家高，比小熊的家矮，你知道我的家在哪里吗？

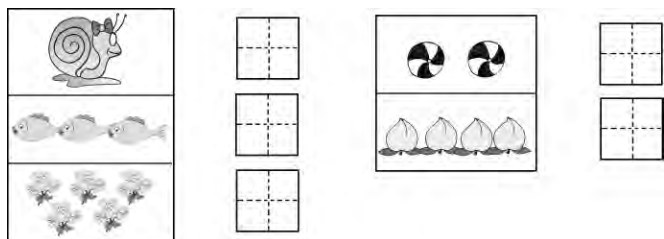




第 2 单元 认识 10 以内的数

1. 1~5 的认识

一、看图写数。



二、手牵手，找朋友。

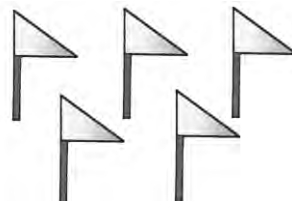


2                      3                      5                      4

三、按要求画一画。

1. 画 5 个 ○ \_\_\_\_\_
2. 画 4 个 △ \_\_\_\_\_
3. 画 3 个 ☆ \_\_\_\_\_
4. 画 2 个 □ \_\_\_\_\_

四、看数涂色。



3



5



4




2

五、写出“☀”上的数。



六、数一数。

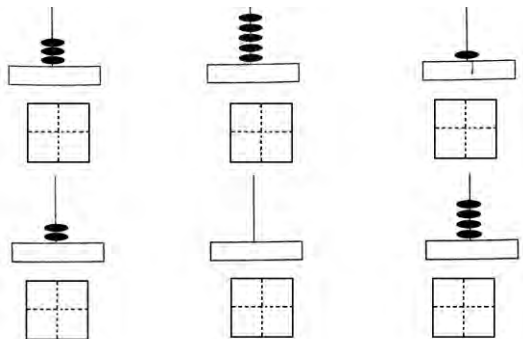


有( )个; 有( )个; 有( )个;  
有( )个。

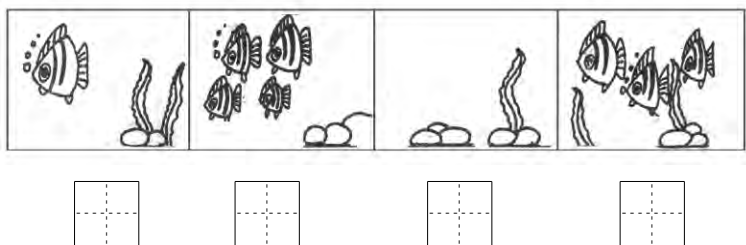


## 2.0 的认识

一、数一数，写一写。



二、数一数，有几条鱼，再写一写。



三、看数涂色。

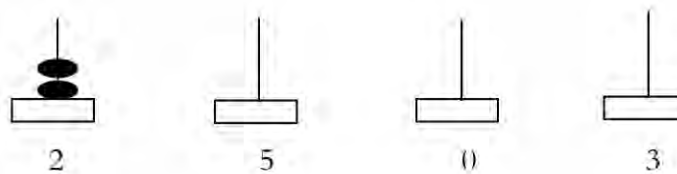
3	○ ○ ○ ○ ○
0	○ ○ ○ ○ ○

4	○ ○ ○ ○ ○
2	○ ○ ○ ○ ○

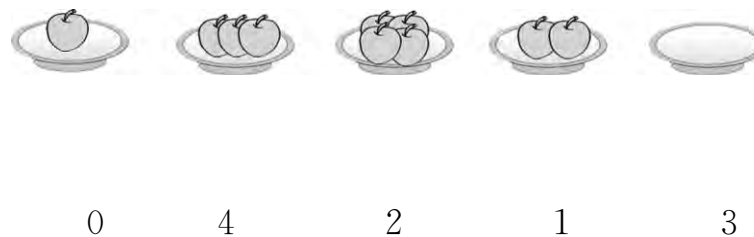
四、兔笼里有几只兔子？



五、照样子画一画。





六、连一连。



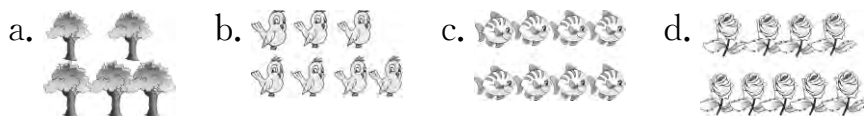


### 3.6~10 的认识

一、看图写数。




二、数一数,连一连。



三、看数涂色。

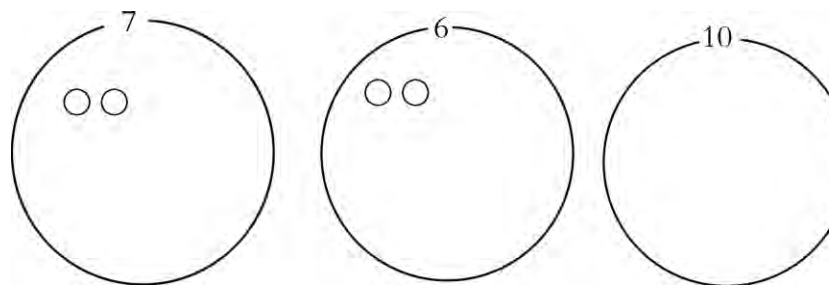
8	○ ○ ○ ○ ○ ○ ○ ○ ○ ○
10	○ ○ ○ ○ ○ ○ ○ ○ ○ ○ ○ ○
6	○ ○ ○ ○ ○ ○ ○ ○ ○ ○
9	○ ○ ○ ○ ○ ○ ○ ○ ○ ○ ○ ○
7	○ ○ ○ ○ ○ ○ ○ ○ ○ ○ ○ ○

四、画点子,写数。

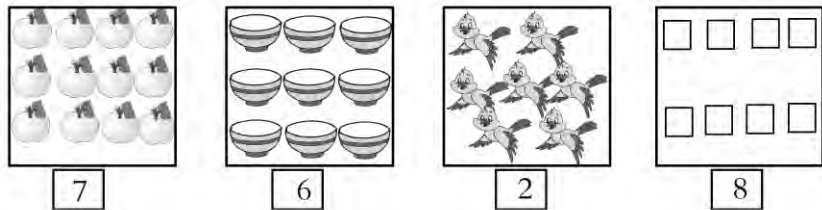


4 \_\_\_\_\_ 5 \_\_\_\_\_ 7 \_\_\_\_\_ 9 \_\_\_\_\_


五、画“○”。



六、去掉与下面的数同样多的图形。

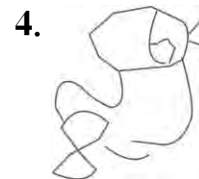
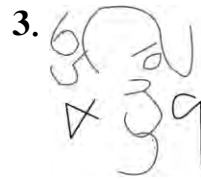
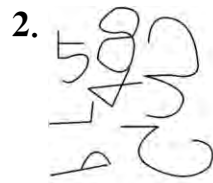


七、看图用“○”圈数字。

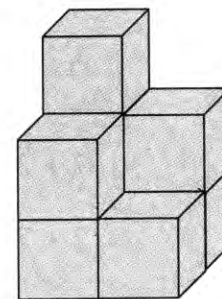


八、火眼金睛。

下面是若干由数字组成的图片，你能指出它们都是由哪些数字组成的吗？




九、想一想。



图中有 ( ) 个 。

十、连一连。





### 4. 认识“>”, “<”, “=” 与数的比较

一、填一填。

1.  $6 > 5$

∴

( )

读做:( )

3.  $9 = 9$

∴

( )

读做:( )

2.  $7 < 8$

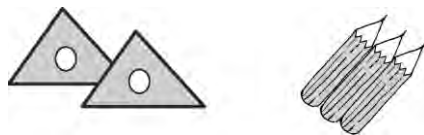
∴

( )

读做:( )

二、看图在“□”里填数,在“○”里填“<”, “>”或“=”。

1.




□ ○ □

2.



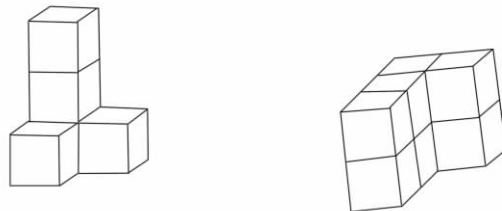
□ ○ □

3.



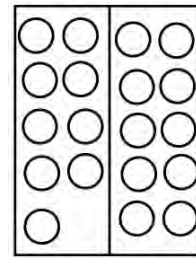
□ ○ □

5.



□ ○ □

4.



□ ○ □

三、在“○”里填“<”, “>”或“=”。

$9 \bigcirc 6$

$8 \bigcirc 10$

$7 \bigcirc 7$

$4 \bigcirc 3$

$8 \bigcirc 9$

$6 \bigcirc 6$

$5 \bigcirc 8$

$6 \bigcirc 4$

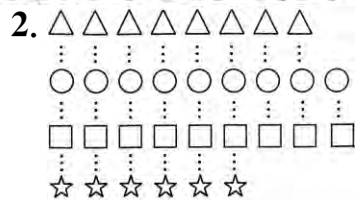
$2 \bigcirc 5$

四、比一比。

1.  $\triangle \bigcirc \bigcirc \triangle \bigcirc \triangle \bigcirc \triangle \bigcirc \triangle \bigcirc \triangle \bigcirc \triangle \bigcirc$

△有( )个,△比○\_\_\_\_\_。

○有( )个,○比△\_\_\_\_\_。




$\triangle$ 比 $\circ$ \_\_\_\_\_, $\circ$ 比 $\triangle$ \_\_\_\_\_。

$\square$ 比 $\star$ \_\_\_\_\_, $\star$ 比 $\square$ \_\_\_\_\_。


$\triangle$ 比 $\star$ \_\_\_\_\_, $\star$ 比 $\triangle$ \_\_\_\_\_。

五、看谁吃得多。(在“ $\square$ ”里写数,在“ $\circ$ ”里填“ $<$ ”或“ $>$ ”)



$\square$   $\circ$   $\square$

$\square$   $\circ$   $\square$



$\square$   $\circ$   $\square$

$\square$   $\circ$   $\square$

六、有3只小兔子、3堆萝卜,如果每只小兔吃一个萝卜,那么选哪一堆比较合适,在下面画“ $\checkmark$ ”。



( ) ( ) ( )

七、在“ $\circ$ ”里分别填1,2,3,4,5五个数,使图中的“ $>$ ”,“ $<$ ”都能成立。

