

河北教育版

北大绿卡

BEIJING UNIVERSITY
Permanent Resident Card

课课大卷

KEKE DAKAOJUAN

锁定新教材

瞄准新考纲

创设新题型

数学

二年级上



主编 张桂玲

东北师范大学出版社 长春

编者名单

主编:张桂玲

编者:张 衡 魏红然 王凤娇 张 丽

董秀荣 林 红 章 惠 刘淑华

刘晓明 王玉新 张 华 李治红

图书在版编目(CIP)数据

北大绿卡·课课大考卷·小学数学二年级上·河北教育版/
张桂玲主编. —长春:东北师范大学出版社,2010.5
ISBN 978 - 7 - 5602 - 6131 - 7

I. ①北… II. ①张… III. ①数学课—小学—习题
IV. ①G624

中国版本图书馆 CIP 数据核字(2010)第 089343 号

责任编辑:毕冬微 封面设计:宋 超

责任校对:李万旭 责任印制:栾喜湖

东北师范大学出版社出版发行
长春净月经济开发区金宝街118号(邮政编码:130117)
电话:0431—85695744 85688470
邮购热线:0431—84568163
传真:0431—85695744 85602589
网址: <http://www.nenup.com>
电子函件: sdcbcs@mail.jl.cn
编辑信箱: nenupbeidouxing@yahoo.com.cn
广告经营许可证号:2200006000161
东北师范大学出版社激光照排中心制版
延边新华印刷有限公司印装
吉林省延吉市河南街818号(邮政编码:133001)
2010年6月第1版 2010年6月第1次印刷
幅面尺寸:296 mm×210 mm 印张:5 字数:79千

定价:12.80元

如发现印装质量问题,影响阅读,可直接与承印厂联系调换

目录

CONTENTS

第1单元 测 量	1
1. 测 量	1
2. 长度单位、米、分米、厘米	3
第1单元综合测试	5
第2单元 100 以内的加法和减法(二)	7
1. 两位数加两位数(不进位加)	7
2. 两位数加两位数(进位加)	9
3. 两位数加两位数估算	11
4. 两位数减两位数(不退位减)	13
5. 两位数减两位数(退位减)	15
6. 两位数减两位数估算	17
7. 连加、连减	19
8. 加减混合	21
第2单元综合测试	23
第3单元 方向与位置	25
位置与方向	25
第3单元综合测试	27
第4单元 表内乘法(一)	29
1. 乘法的初步认识	29
2. 2,3,4 的乘法口诀	31
3. 5 的乘法口诀	33

4. 6 的乘法口诀	35
第4单元综合测试	37
第5单元 角的认识	39
1. 角的初步认识	39
2. 直角的认识	41
第5单元综合测试	43
第6单元 表内除法(一)	45
1. 认识除法(一)	45
2. 认识除法(二)	47
3. 用2~6的乘法口诀求商(一)	49
4. 用2~6的乘法口诀求商(二)	51
第6单元综合测试	53
第7单元 统 计	55
1. 统计(一)	55
2. 统计(二)	57
第7单元综合测试	59
第8单元 时、分、秒	61
时、分、秒	61
第8单元综合测试	63
期末综合测试	65
参考答案	69

北大绿卡
BEIJING UNIVERSITY
Permanent Resident Card



KeKeDaKaoJuan




第 1 单元 测 量

1. 测 量

一、快乐填空。

1.



大约()个“□”长。

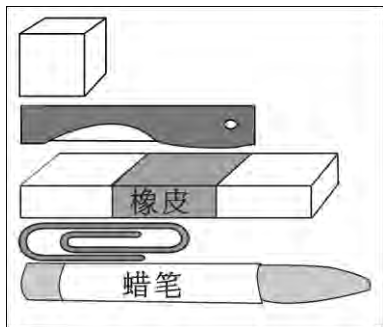
大约()个“□”长。

大约()个“□”长。

大约()个“□”长。

大约()个“□”长。

2.




大约()个“□”长。

大约()个“□”长。

大约()个“□”长。

大约()个“□”长。


3. □



大约()个“□”长。

二、动手量一量。

1.



用 1 元硬币量一量你的数学书封面的长,有()个 1 元硬币长。

2.




用 5 角硬币量一量你的数学书封面的长,有()个 5 角硬币长。

3. 用铅笔量一量你的课桌有()支铅笔长,课桌的宽有()支铅笔长。

4. 用数学书量一量你的课桌有()个数学书长,课桌的宽有()个数学书长。


三、我是小法官,对的画“√”,错的画“×”。



1. 小蚂蚁有 2 个“□”那么长。 ()
2. 蝉比蚂蚁长。 ()
3. 蚂蚱大约有 2 个“□”那么长。 ()
4. 蜻蜓大约有 3 个“□”那么长。 ()
5. 蚂蚱比蚂蚁长很多。 ()

四、动脑筋,想一想。

1. 这两张纸条一样长吗?



2. 如果用两支不一样长的铅笔分别去量一张课桌的长,会出现什么情况?

3. 小青和小明分别用“□”去量同张课桌的长,得数相同吗?

4. 用数学书的长去量一量黑板的长,看看黑板有几本书长?

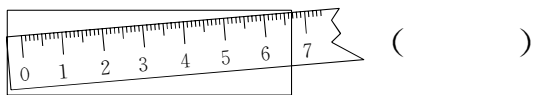


2. 长度单位、米、分米、厘米

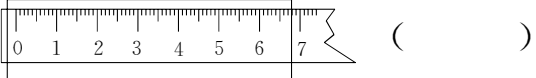
一、在括号里填上合适的单位。

1. 文具盒宽 13()。
2. 小红身高 120()。
3. 我每分走 15()。
4. 教室的门高 20()。
5. 课桌高 85()。
6. 游泳池长 65()。
7. 跳绳长 20()。
8. 爸爸身高 175()。

二、哪一种测量方法正确。(正确的画“√”,错的画“×”)



()




()



()

三、动手量一量。

1. ()厘米



()厘米

2. _____ ()厘米

_____ ()厘米

四、我是神算手。

35 分米 + 5 分米 = 24 厘米 + 6 厘米 =

30 米 + 5 米 = 43 米 + 6 米 =

5 厘米 + 7 厘米 = 14 分米 + 3 分米 =

30 厘米 + 8 厘米 = 8 米 + 16 米 =

五、对号入座。(把正确答案的序号填在括号里)

1. 1 米 = ()。

A. 10 厘米 B. 100 厘米 C. 1 厘米

2. 爸爸的身高是 180()。

A. 米 B. 厘米 C. 分米

3. 学校的跑道长 400()。

A. 米 B. 分米 C. 厘米

4. 1 米的竹竿和 100 厘米的绳子相比()。

- A. 竹竿长 B. 绳子长 C. 一样长

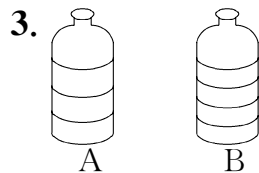
5. 一棵大树高()。

- A. 5 米 B. 50 米 C. 500 米

六、生活中的数学。

1. 一根绳子剪去 45 厘米, 还剩下 5 厘米, 这根绳子原来长多少厘米?

2. 小华的身高是 70 厘米, 离 1 米还差_____厘米。



A, B 两根绳子绕在两个大小相同的瓶子外, 哪条绳子长?

七、动动小脑筋。

1. 小红向前走了 50 米, 又按原路向后走了 8 米, 这时他离起点有多少米?

2. 每两棵树之间的距离是 4 米, 明明从第 2 棵树跑到第 5 棵树, 他一共跑了多少米?

八、生活园。

从蜘蛛家到大树的距离是 55 米, 从蜗牛家到大树的距离是 9 米。

1. 从蜘蛛家到蜗牛家(必须经过大树)要走多少米?

2. 蜘蛛家到大树比蜗牛家到大树远多少米?



第1单元综合测试

一、快乐填空。

- 要知道物体的长度,可以用()来测量。
- 量较长的物体用()做单位。
- 从0画到1米的地方,长是()米,也可以说是()分米或()厘米。
- 在括号里填上合适的单位。
 - 小青量得教室的门高2()。
 - 小明量得教室的门高20()。
 - 小红量得教室的门高200()。
 - 课桌的高是85()。
 - 小明的身高是1()30()。
 - 数学老师的身高是174()。
 - 数学书的长约是2()。

二、对号入座。(把正确答案的序号填在括号里)

- 1分米等于()。

A. 1厘米 B. 10厘米 C. 100厘米
- 教室的门高()。

A. 2厘米 B. 2分米 C. 2米

- 下面长度中,最长的是()。

A. 4米 B. 100厘米 C. 56分米
- 手指的宽大约()。

A. 1米 B. 1分米 C. 1厘米
- 1米等于()。

A. 1分米 B. 10分米 C. 100分米
- 跳绳长2()。

A. 厘米 B. 分米 C. 米

三、我是小法官。(对的画“√”,错的画“×”)

- 100厘米长的铁丝与1米长的木棒同样长。 ()
- 学校的旗杆高5厘米。 ()
- 一辆汽车长6分米。 ()
- 大树高8米。 ()
- 爸爸身高170米。 ()

四、在“○”里填上“>”,“<”或“=”。

- | | |
|----------|-----------|
| 5米○100厘米 | 8米○8分米 |
| 1米○100厘米 | 9分米○90厘米 |
| 90厘米○1米 | 75厘米○75分米 |
| 40厘米○1米 | 4米○40厘米 |
| 56分米○56米 | 20厘米○2分米 |
| 6米○60分米 | 10厘米○10米 |

五、我是神算手。

$20 \text{ 厘米} + 8 \text{ 厘米} =$

$42 \text{ 厘米} - 4 \text{ 厘米} =$

$24 \text{ 分米} + 9 \text{ 分米} =$

$36 \text{ 分米} - 8 \text{ 分米} =$

$28 \text{ 米} - 9 \text{ 米} =$

$5 \text{ 米} + 26 \text{ 米} =$

六、生活中的数学。

1. 小明从家到书店有 45 米,从书店到学校有 9 米,小明家离学校有多少米?

2. 一根绳子剪去 46 米,还剩下 5 米,这根绳子有多长?

3. 有三根绳子,白绳子比黄绳子长 3 厘米,比红绳子短 4 厘米,哪根绳子最长? 哪根绳子最短?

七、动脑筋算一算。

1. 一共有 6 棵树,每两棵树之间的距离是 2 米,从第 1 棵树到第 6 棵树之间有多少米?

2. 一根绳子对折后是 8 米,这根绳子全长多少米?

八、拓展练习。

把线上的数写成用分米做单位的数。

1. 长颈鹿是最高的动物,身高可达 6 米,颈长 2 米。

2. 蓝鲸是现在地球上最大的动物,体长为 33 米。



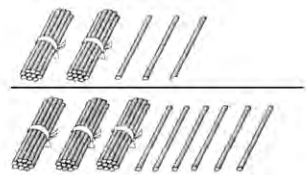
第②单元 100 以内的加法和减法(二)

1. 两位数加两位数(不进位加)

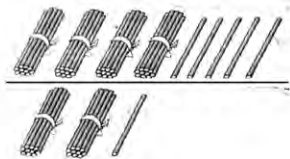
一、口算我最棒。

$40+7=$	$21+35=$	$60+20=$	$48+50=$
$43+50=$	$72+14=$	$23+70=$	$87+9=$
$32+6=$	$45+10=$	$6+14=$	$33+8=$

二、我会列式计算。



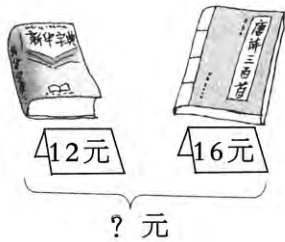
$$\begin{array}{r} () \\ + () \\ \hline \end{array}$$



$$\begin{array}{r} () \\ + () \\ \hline \end{array}$$



$$\begin{array}{r} 34元 \\ + 22元 \\ \hline ?元 \end{array}$$



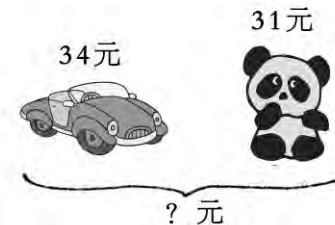
$$\begin{array}{r} 12元 \\ + 16元 \\ \hline ?元 \end{array}$$

$$\begin{array}{r} () \\ + () \\ \hline \end{array}$$

$$\begin{array}{r} () \\ + () \\ \hline \end{array}$$



$$\begin{array}{r} () \\ + () \\ \hline \end{array}$$



$$\begin{array}{r} () \\ + () \\ \hline \end{array}$$

三、填一填。

$$\begin{array}{r} 23 \\ + 5 \\ \hline \square\square \end{array}$$

$$\begin{array}{r} 39 \\ + 30 \\ \hline \square\square \end{array}$$

$$\begin{array}{r} 10 \\ + 38 \\ \hline \square\square \end{array}$$

$$\begin{array}{r} 34 \\ + 25 \\ \hline \square\square \end{array}$$

想:相同数位要对齐。

$39+30=$

$$\begin{array}{r} 39 \\ + 30 \\ \hline 9 \end{array}$$

$10+38=$

$$\begin{array}{r} 10 \\ + 38 \\ \hline 8 \end{array}$$

$34+25=$

$$\begin{array}{r} 34 \\ + 25 \\ \hline 9 \end{array}$$

想:从()位加起。

$$\begin{array}{r} 39 \\ + 30 \\ \hline \boxed{6}9 \end{array}$$

$$\begin{array}{r} 10 \\ + 38 \\ \hline \boxed{4}8 \end{array}$$

$$\begin{array}{r} 34 \\ + 25 \\ \hline \boxed{5}9 \end{array}$$

想:个位数加完,再计算()。


四、我是小医生。(对的画“√”,错的画“×”,并改正)

$$\begin{array}{r} 4 \\ + 35 \\ \hline 75 \end{array}$$

$$\begin{array}{r} 42 \\ + 15 \\ \hline 57 \end{array}$$

$$\begin{array}{r} 63 \\ + 3 \\ \hline 93 \end{array}$$

五、飞鸽送信。



六、生活中的数学。



小明	小红	小华
45下	30下	34下

1. 小明和小红一共跳多少下?

2. 小华和小红一共跳多少下?

3. 你还能提出什么问题? 列式解答。



2. 两位数加两位数 (进位加)

一、口算我最棒。

$$13 \xrightarrow{+9} () \xrightarrow{+6} () \xrightarrow{+7} () \xrightarrow{+8} () \xrightarrow{+5} ()$$

二、填一填。

1. $26 + 21 =$

$$\begin{array}{r} 26 \\ + \square\square \\ \hline \end{array} \longrightarrow \begin{array}{r} 26 \\ + 21 \\ \hline \square \end{array} \longrightarrow \begin{array}{r} 26 \\ + 21 \\ \hline \square 7 \end{array} \longrightarrow$$

$$\begin{array}{r} 26 \\ + 21 \\ \hline \square\square \end{array}$$

2. $26 + 25 =$

$$\begin{array}{r} 26 \\ + 25 \\ \hline \end{array}$$

相同数位要()。

$$\begin{array}{r} 26 \\ + 2\square5 \\ \hline \square \end{array}$$

从()位加起,满10进1。

3.

$$\begin{array}{r} 63 \\ + 2\square8 \\ \hline \square\square \end{array}$$

$$\begin{array}{r} 45 \\ + 3\square8 \\ \hline \square\square \end{array}$$

$$\begin{array}{r} 26 \\ + 2\square7 \\ \hline \square\square \end{array}$$

$$\begin{array}{r} 54 \\ + 1\square9 \\ \hline \square\square \end{array}$$

4. 两位数加两位数(进位)。

相同()要对齐。从()位加起。个位满(),向十位进()。

三、我是小医生,给树治治病。

$$\begin{array}{r} 56 \\ + 34 \\ \hline 81 \end{array}$$

$$\begin{array}{r} 38 \\ + 37 \\ \hline 65 \end{array}$$

$$\begin{array}{r} 62 \\ + 28 \\ \hline 80 \end{array}$$

$$\begin{array}{r} 79 \\ + 12 \\ \hline 81 \end{array}$$

四、找朋友。




$67+23$ $36+26$ $38+44$ $29+35$ $56+16$



$66+16$ $45+45$ $18+44$ $23+49$ $16+48$

五、把算式的序号填在合适的天平盘里。(一个算式只用一次)

- ① $27+36=$ ② $72+20=$ ③ $18+47=$
④ $33+28=$ ⑤ $21+27=$ ⑥ $63+29=$



六、在“○”里填上“>”,“<”或“=”。

$23+68 \bigcirc 90$ $48+27 \bigcirc 70$ $8+61 \bigcirc 45$
 $79+16 \bigcirc 45+27$ $36+52 \bigcirc 59+6$

七、在“□”里填上合适的数。

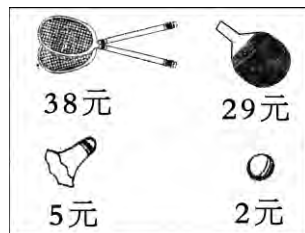
$\begin{array}{r} \square 5 \\ + 2 \square \\ \hline 7 4 \end{array}$	$\begin{array}{r} 4 \square \\ + \square 5 \\ \hline 8 3 \end{array}$	$\begin{array}{r} \square 5 \\ + 3 \square \\ \hline 6 2 \end{array}$
---	---	---

$\begin{array}{r} 2 5 \\ + 4 \square \\ \hline 7 4 \end{array}$	$\begin{array}{r} 4 \square \\ + \square 5 \\ \hline 8 7 \end{array}$	$\begin{array}{r} 7 4 \\ + \square 5 \\ \hline 8 9 \end{array}$
---	---	---

八、生活中的数学。

1. (1) 买 和 要花多少元钱?

$\square \bigcirc \square = \square$ (元)



(2) 买 和 要花多少元钱?

$\square \bigcirc \square = \square$ (元)

(3) 买 和 要花多少元钱?

$\square \bigcirc \square = \square$ (元)

2. 学校开展读书活动,一班学生读书 47 本,二班学生读书 49 本,两个班的学生共读书多少本?(用竖式计算)

3. 表演新疆舞,需要女同学 28 人,男同学 14 人,一共需要多少人?(用竖式计算)



3. 两位数加两位数估算

一、口算大比拼。

$15 + 34 =$ $72 + 16 =$ $65 + 34 =$

$47 + 16 =$ $58 + 24 =$ $37 + 49 =$

$46 + 23 =$ $63 + 19 =$ $86 + 7 =$

二、估算下面算式的得数,把得数大于 70 的算式写在下面的“”里。

$\textcircled{1} 50 + 21 \approx$ $\textcircled{2} 48 + 32 \approx$ $\textcircled{3} 38 + 40 \approx$

$\textcircled{4} 69 + 23 \approx$ $\textcircled{5} 39 + 19 \approx$ $\textcircled{6} 19 + 34 \approx$

$\textcircled{7} 57 + 19 \approx$ $\textcircled{8} 41 + 39 \approx$ $\textcircled{9} 29 + 32 \approx$

三、知识百花园。

1. 下面各数可以看成几十。

23 可以看成 20, 56 可以看成(), 27 可以看成(), 42 可以看成(), 79 可以看成(), 87 可以看成()。

2. $32 + 59$ 大约等于()。把 32 看成(), 把 59 看成(), ()加()等于()。

$31 + 62$ 大约等于()。

$(30) + (60)$

$48 + 37$ 大约等于()。

() + ()

$42 + 39$ 大约等于()。

() + ()

四、快乐 A, B, C。

1. 32 与 58 的和大约是()。

A. 100 B. 90 C. 80

2. 二(1)班有 41 人, 二(2)班有 42 人, 两个班一共约有()。

A. 83 人 B. 80 人 C. 90 人

3. 我昨天写了 28 个大字, 今天写了 29 个大字, 我两天一共大约写了()个大字。

- A. 60 B. 50 C. 57

五、估算一下, 下面算式的得数比 90 大的, 在“□”里面画“○”。

$68 + 23$ □ $50 + 18$ □


$42 + 57$ □ $28 + 60$ □

$54 + 35$ □ $71 + 16$ □

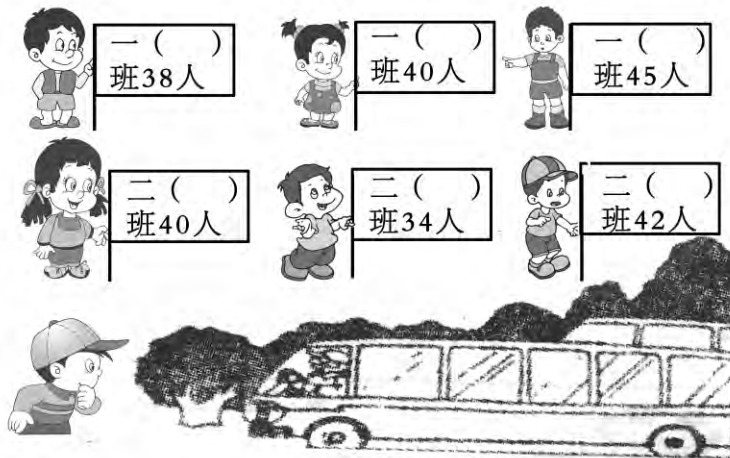
$32 + 49$ □ $51 + 30$ □

六、生活中的数学。

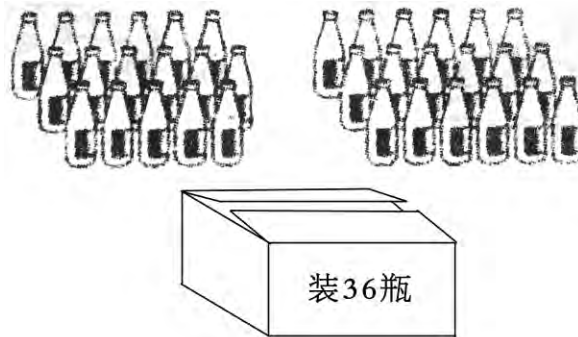
1. 小明做套圈游戏, 他套中了两个圈, 共得 36 分, 他套中的可能是哪两个? (连一连)



2. 学校组织一、二年级同学去春游, 每辆车最多能坐 80 人, 哪两个班坐在一辆车里最合适?



3. 把下面这些饮料全部装入纸盒里, 能装得下吗?





4. 两位数减两位数 (不退位减)

一、口算我最棒。

$57-4=$ $47-16=$ $38-15=$ $56-23=$
 $28-20=$ $59-28=$ $92-32=$ $47-26=$

二、看图列算式。

十位	个位
○○	○○
○○	○○
○○	○○
○○	○○

$$\begin{array}{r} \\ - \\ \hline \end{array}$$

十位	个位
○○	○○
○○	○○
○○	○○
○○	○○

$$\begin{array}{r} \\ - \\ \hline \end{array}$$

十位	个位
○○	○○
○○	○○
○○	○○
○○	○○

$$\begin{array}{r} \\ - \\ \hline \end{array}$$

十位	个位
○○	○○
○○	○○
○○	○○
○○	○○

$$\begin{array}{r} \\ - \\ \hline \end{array}$$

三、知识乐园。

1. 填空题。

$36+22=$

$$\begin{array}{r} 36 \\ + \square\square \\ \hline \end{array} \longrightarrow \begin{array}{r} 36 \\ + 22 \\ \hline \square \end{array}$$

$$\begin{array}{r} 36 \\ + 22 \\ \hline \square 8 \end{array} \longrightarrow \begin{array}{r} 36 \\ + 22 \\ \hline \square\square \end{array}$$

两位数加两位数,相同数位(),从()位加起。

$36-22=$

$$\begin{array}{r} 36 \\ - \square\square \\ \hline \end{array} \longrightarrow \begin{array}{r} 36 \\ - 22 \\ \hline \square \end{array}$$

$$\begin{array}{r} 36 \\ - 22 \\ \hline \square 4 \end{array} \longrightarrow \begin{array}{r} 36 \\ - 22 \\ \hline \square\square \end{array}$$

两位数减两位数,相同数位(),从()位减起。


2. 在“○”里填上“>”,“<”或“=”。

$65-40 \bigcirc 52$ $4+45 \bigcirc 45-4$
 $56-20 \bigcirc 66-30$ $60-18 \bigcirc 48$
 $75-40 \bigcirc 65-30$ $21 \bigcirc 46-15$

3. 在括号里填上合适的数。

$28-()=19$ $()-42=51$
 $34+()=66$ $68-46=65-()$
 $56-()=45$ $()-36=58-26$

四、小兔吃萝卜。



五、列竖式计算,相信你一定很棒!

$$\begin{array}{r} 58 \\ - 31 \\ \hline \end{array}$$

$$\begin{array}{r} 75 \\ - 43 \\ \hline \end{array}$$

$$\begin{array}{r} 83 \\ - 23 \\ \hline \end{array}$$

$$\begin{array}{r} 97 \\ - 46 \\ \hline \end{array}$$

$$\begin{array}{r} 86 \\ - 22 \\ \hline \end{array}$$

$$\begin{array}{r} 79 \\ - 55 \\ \hline \end{array}$$

六、生活中的数学。

1. 二年级举行乒乓球比赛。

我们二(1)班有
25名同学报名。



我们二(2)班有
23名同学报名。

二(1)班报名的同学比二(2)班多多少名?

2. 小动物们在举行秋季长跑比赛。



3. 食堂买来54棵白菜,吃掉一些后,还剩下筐里这么多。求:一共吃了多少棵白菜?

