



魔力铅笔

爱学数学

中



浙江少年儿童出版社



魔力铅笔

爱学数学

中




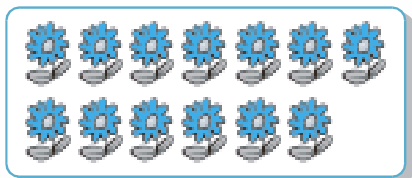


朱惠芳 编
浙江少年儿童出版社





认识数字 11 ~ 20(一)


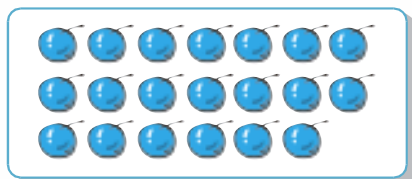


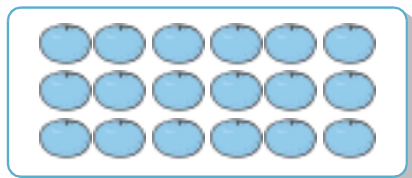


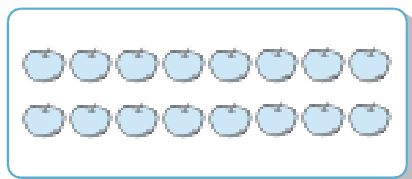
请将物品和代表正确数量的点卡用线连起来。





认识数字 11 ~ 20(二)


请将物品和代表正确数量的点卡用线连起来。





练习 1

请根据数字卡片画图。



12

16

20

17

13

15



练习 2

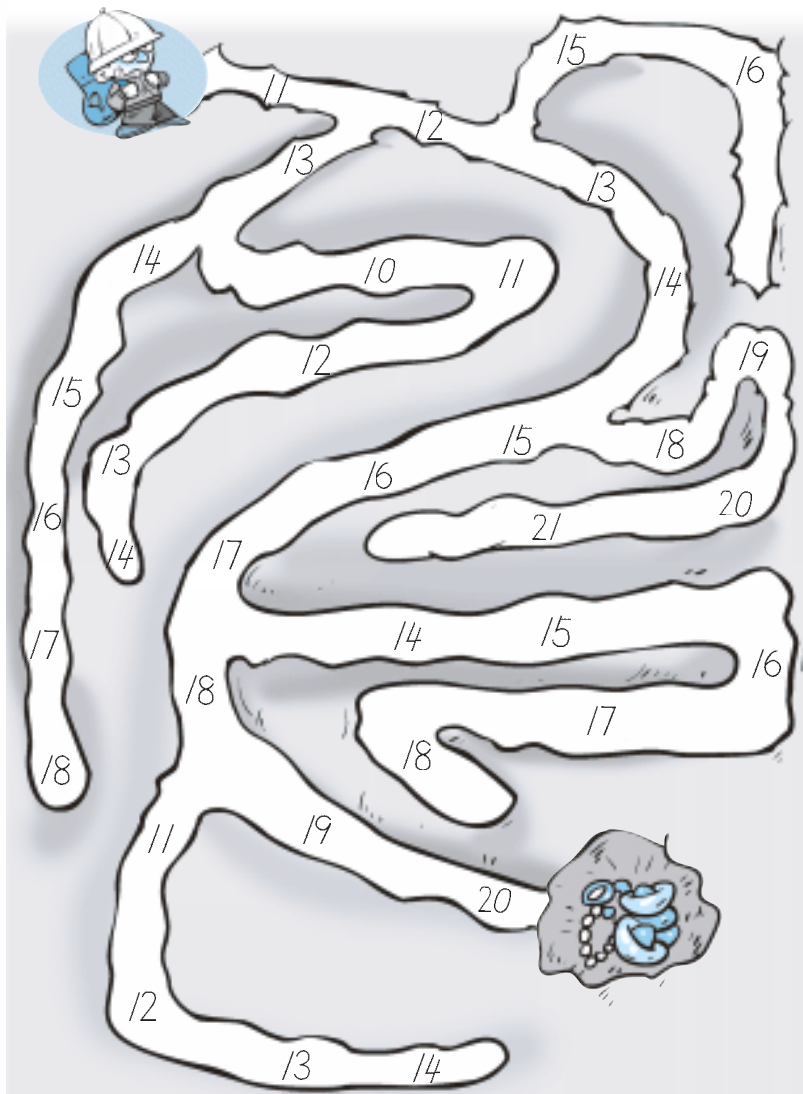
数一数，涂一涂。

11	
15	
19	
14	
16	
18	
13	
12	



练习 3


请按照数字顺序走迷宫，帮助探险家找到宝藏。





练习 4

请按照数字顺序连线，看看会变出什么图案。





认识整点

想一想,小朋友在做这些事情的时候是几点钟? 请你用线连一连。



4:00



7:00



9:00



11:00



认识半点

小熊在做下面这些事情的时候分别是几点？请用线连一连。

7:30

10:30



2:30

8:30





认识上下、前后

看图说一说：谁在桌子上？谁在桌子下？椅子前有什么？椅子后有什么？





认识左右、方阵位置

找一找，画一画。



_____在小鸡的左边

_____在小兔的左边

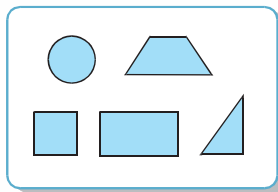
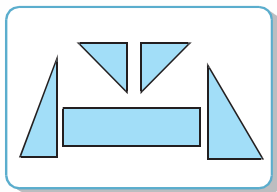
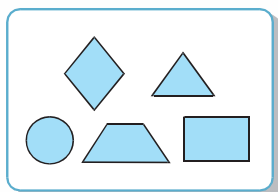
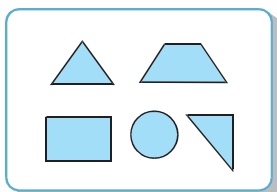
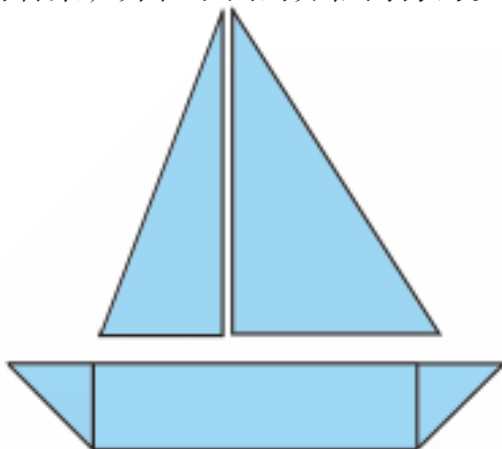
第一排第二个是_____

第三排第三个是_____



图形的拼组(一)

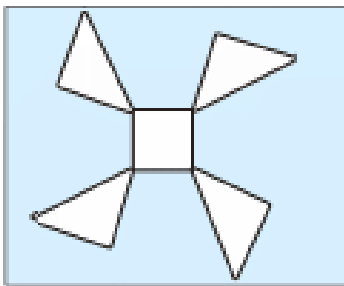
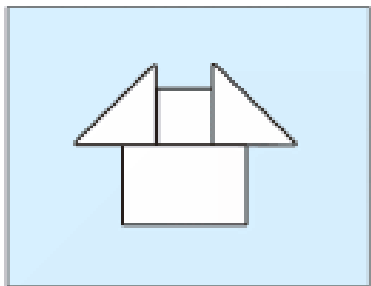
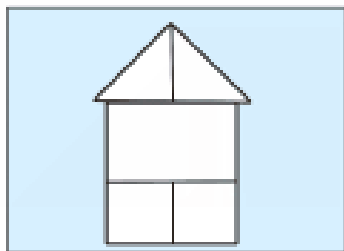
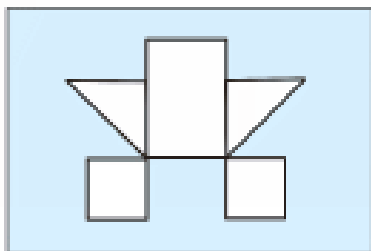
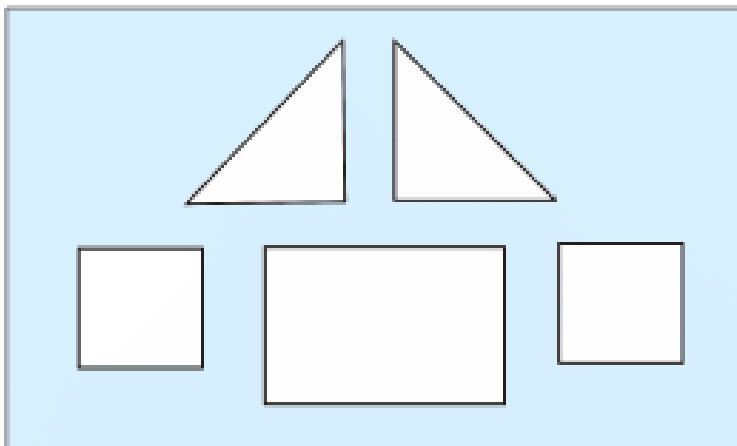
看一看，下面这艘帆船是由哪些图形组成的？请选出正确的答案，并在下面的方框内打钩。





图形的拼组(二)

四幅小图中哪几幅是用大图中的图形拼成的? 请给它们涂上颜色。






练习 5

请根据时间在钟面上画出时针和分针。




7:00



5:30




9:30



1:00



4:00



3:30



练习 6

找一找，画一画。



树的上面有_____

树的前面有_____

树的左边是_____

树的右边是_____



练习 7

请帮小动物们找到自己的位子。

