

2003 年广西壮族自治区普通高中毕业会考试卷

地 理

(本卷满分 100 分,考试时间 90 分钟)

注意事项

1. 答卷前,考生务必将密封线内的项目填写清楚,密封线内不要答题。
2. 用蓝、黑墨水钢笔或蓝、黑笔芯圆珠笔在试卷上直接答题。

题 号	一	二	三	四	总 分
得 分					

得 分	评 卷 人

一、单项选择题(每小题 2 分,共 50 分。下列各小题均有 4 个选项,其中只有一项是正确的,请将正确选项的序号写在题干后括号内。多选、少选或错选,该小题不得分)

1. 2002 年 12 月 30 日凌晨,我国自行研制的在酒泉发射升空并成功进入预定轨道的无人飞船是 ()
A. “神舟”一号 B. “神舟”二号 C. “神舟”三号 D. “神舟”四号
2. 2003 年 1 月 7 日,我国第一条跨海铁路——粤海铁路正式通车运营,它 ()
A. 沟通了祖国大陆与台湾岛之间的联系
B. 结束了祖国大陆与海南岛之间“火车互不往来”的历史
C. 横跨渤海海峡,沟通了辽宁省与山东省之间的联系
D. 沟通了广西北海与海南岛之间的联系
3. 晴朗的夜空中,人们肉眼能看到最多的天体是 ()
A. 恒星 B. 行星 C. 卫星 D. 彗星
4. 关于太阳的叙述,正确的是 ()
A. 太阳是一颗普通的行星
B. 太阳大气层从外到里分为光球、色球和日冕
C. 太阳活动的类型最主要的是黑子和耀斑
D. 日地距离遥远,太阳活动对地球没有影响
5. 一探空气球升到 30 千米高度,测得由地面到 30 千米高度的气温变化是 ()
A. 逐渐降低 B. 逐渐升高 C. 先降低后升高 D. 先升高后降低
6. 在夏季,多云的白天气温不会太高的主要原因是 ()
A. 大气对太阳辐射的吸收具有选择性
B. 大气对太阳辐射的反射作用
C. 空气分子或微小尘埃对太阳辐射的散射作用

- D. 天空有云 ,使大气逆辐射增强造成的
7. “来自西伯利亚的冷空气前锋移到了长江中下游地区” ,此时北京的天气可能是..... ()
- A. 气压升高 ,气温下降 ,天气转晴 B. 出现连续性降水
C. 云层增厚 ,出现雨、雪天气 D. 气温上升 ,气压下降 ,天气转晴
8. 关于海洋表层盐度的叙述 ,正确的是..... ()
- A. 从低纬到高纬 ,海水盐度逐渐降低
B. 海水盐度最低的海域是北冰洋
C. 海水盐度最高的海域是死海
D. 影响盐度的因素主要有降水、蒸发、河川径流等
9. 关于海洋环境及其保护的叙述 ,正确的是..... ()
- A. 海洋环境问题指的就是海洋污染
B. 人类对某些海洋生物的过度捕捞也会导致海洋环境问题
C. 海运中因意外事故造成的石油泄漏 ,危害不大 ,不属于海洋环境问题
D. 治理海洋污染的重点是禁止核电站向海洋排放冷却水
10. 关于陆地水的叙述 ,正确的是 ()
- A. 陆地水的基本来源是大气降水
B. 陆地水都是淡水
C. 所有河流的水位都不会随气温的升高而升高
D. 夏季 ,所有的河流水都补给湖泊水或地下潜水 ,冬季反之
11. 在人类长期耕作与培育下形成的土壤是..... ()
- A. 灰化土 B. 黑钙土 C. 红壤 D. 水稻土
12. 关于陆地环境的地域分异的叙述 ,正确的是 ()
- A. 纬度方向上的地域分异实际上是热量和水分条件共同作用下的产物
B. 纬度方向上的地域分异规律以热量为基础 ,与水分条件无关
C. 从沿海向内陆的地域分异规律以水分为基础 ,与热量无关
D. 山地的垂直地域分异规律以地形为基础 ,与水热状况差异无关
13. 在广西广泛分布的石灰岩的岩石类型是..... ()
- A. 岩浆岩 B. 沉积岩 C. 变质岩 D. 火山岩
14. 关于亚洲水稻种植业特点的叙述 ,正确的是 ()
- A. 主要以家庭为单位 ,经营规模小 B. 单位面积产量高 ,商品率高
C. 各国机械化水平都很高 D. 水利工程量很小
15. 关于企业横向一体化增长战略的叙述 ,正确的是 ()
- A. 一般地 ,企业早期的增长多为横向一体化
B. 我国的企业还不存在横向一体化
C. 横向一体化与原生产活动无关
D. 开发与企业原生产领域不同的多种产品是企业的横向一体化
16. 关于工业地域的叙述 ,正确的是 ()
- A. 工业集聚产生了工业联系 ,形成工业地域

- B. 工业分散造成工业联系减少, 运费提高, 效益都会下降
 C. 所有的工业地域都能扩展为工业城市
 D. 钢铁工业区属于发育程度较高的工业地域
17. 广西平果是当今中国最大的铝工业基地。平果铝厂的区位优势在于…………… ()
 A. 劳力、市场
 B. 原料、动力
 C. 水源、政府
 D. 交通、土地
18. 意大利新兴工业区和美国硅谷工业区的共同特点是…………… ()
 A. 都分布在温带海洋性气候区
 B. 都分布在本国西部地区
 C. 都有大型港口和便利的海洋运输条件
 D. 都以中小型企业为主
19. 世界上第一批城市, 多数诞生在…………… ()
 A. 山谷地带
 B. 河流的中下游平原上
 C. 地势较高, 排水良好的平地上
 D. 沿海地区
20. 下列城市中, 依次是在资源、交通、宗教基础上发展起来的一组是…………… ()
 A. 郑州、合肥、西安
 B. 攀枝花、郑州、拉萨
 C. 马鞍山、上海、成都
 D. 北京、上海、洛阳
21. 影响武汉市、重庆市的城市区位因素相同的是…………… ()
 A. 位于两条河流交汇处
 B. 气候冬暖夏凉
 C. 平原为主的地形
 D. 矿产资源丰富
22. 有关电子邮件的叙述, 正确的是…………… ()
 A. 电子邮件是一种场所到场所的通信方式
 B. 电话和传真是电子邮件的两种具体形式
 C. 电子邮件所用的地址同具体地点无关
 D. 收电子邮件必须到自己的电脑上
23. 环境问题的本质是…………… ()
 A. 人口问题
 B. 资源问题
 C. 发展问题
 D. 污染问题
24. 为了维持人类社会的可持续发展, 人类必须…………… ()
 A. 尽可能多地采掘自然资源, 提高物质文明水平
 B. 停止一切有废弃物的生产活动, 以保持生态平衡
 C. 将经济规模控制在资源和环境的承载能力之内
 D. 征服自然, 利用自然, 成为自然界的主宰
25. 关于环境问题的叙述, 正确的是…………… ()
 A. 环境问题主要表现为环境污染和自然灾害两大类
 B. 各地区所面临的环境问题都是相同的
 C. 解决环境问题需国际协作, 共同行动
 D. 任何环境问题都只影响一个国家或地区, 不会影响到其他国家或全球

得 分	评 卷 人

二、双项选择题(每小题 2 分, 共 10 分。下列各小题的 4 个选项中, 有两项是正确的, 请将正确选项的代号写在题干后括号内。多选、少选、不选或错选, 该小题不得分)

26. 关于自然资源的叙述 正确的是 ()
- A. 土地数量是有限的 因此土地资源是非可再生资源
 B. 石油、煤、天然气是能源资源 也是非可再生资源
 C. 水资源是自然资源 水能资源不是自然资源
 D. 气候资源也属于自然资源
27. 实现可持续发展 需要遵循的原则是 ()
- A. 公平性原则
 B. 持续性原则和共同性原则
 C. 因地制宜原则
 D. 发展性原则
28. 农业生产具有的两个显著特点是 ()
- A. 地域性 B. 基础性 C. 季节性和周期性 D. 综合性
29. 关于解决城市环境问题途径的叙述 正确的是 ()
- A. 不断扩大城市规模 使城市职能向综合性发展
 B. 建设卫星城 开发新区
 C. 大力发展大城市 限制中小城市的发展
 D. 建设城市高架公路和地铁 加强绿化等
30. 目前 我国正面临着非常深刻的环境危机 表现在 ()
- A. 人口数量持续迅速增长 面临发生人口爆炸的危险
 B. 资源利用率过高 各地都存在资源相对短缺的问题
 C. 以城市为中心的环境污染仍在发展和扩散
 D. 以水土流失、荒漠化等为特征的生态破坏的范围仍在扩大

得 分	评 卷 人

三、配对组合题(每题 4 分 共 8 分)

31. 将下列洋流(海水运动)与受其影响而形成的渔场配对组合。

- A. 北大西洋暖流与北冰洋南下冷水交汇 ①纽芬兰渔场
 B. 墨西哥暖流与拉布拉多寒流交汇 ②北海道渔场
 C. 日本暖流与千岛寒流交汇 ③秘鲁渔场
 D. 秘鲁寒流 ④北海渔场

答 :A 配 _____ B 配 _____ C 配 _____ D 配 _____。

32. 将下列运输要求与最适宜的运输方式配对组合。

- A. 将 3 吨海虾从北海市运到南宁市 ①铁路运输
 B. 将 3 万吨海盐从天津市运到广州市 ②公路运输
 C. 将 10 万吨钢材从鞍山市运到天津市 ③海洋运输
 D. 将 30 万吨大米从武汉市运到上海市 ④内河航运

答 :A 配 _____ B 配 _____ C 配 _____ D 配 _____。

得分	评卷人

四、综合题(共 32 分)

33. 读右图(图中表示一个地理事物由 t_1 至 t_4 的发展过程), 读后回答问题。

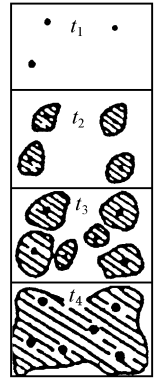
(5 分)

(1) 在这个过程中, 城市的变化特征:

- 一是_____ ,
- 二是_____ ,
- 三是城市用地规模扩大。

(2) 此过程被称为_____。

(3) 该过程可能给城市社会生产和生活带来的不良影响有_____、_____、住房困难、失业人口增多、社会秩序混乱等等。



34. 下表反映的是温室气体在大气中含量变化情况, 分析后回答下列问题。●城市 ●郊区

(6 分)

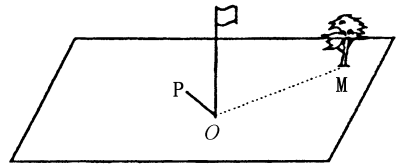
项目 \ 气体	二氧化碳	甲烷	氟里昂-11	氟里昂-12	一氧化二氮
单位(体积分数)	10^{-6}	10^{-6}	10^{-12}	10^{-12}	10^{-12}
工业化前(1750 ~ 1800 年)	280	0.8	0	0	2.88
1990 年	353	1.72	280	484	3.10
每年变化率(%)	1.8(0.5)	0.015(0.9)	9.5(0.4)	17(0.4)	0.8(0.25)
大气中存留期(年)	50 ~ 200	10	65	130	150

(1) 人们为什么称它们为“温室气体”?

(2) 大气中最主要的温室气体是什么? 近年来它明显增多的原因是什么?

(3) 全球变暖对整个地球生态环境和社会经济产生哪些重大影响?

35. 广西某学校操场上, O 处有一垂直地面的旗杆, OP 表示正午时旗杆在地面的影子, 其长度随季节发生变化。6 月 22 日前后缩短为零。M 处有棵树, OM 垂直于 OP。读图后回答以下问题。(4 分)



(1) _____ 月 _____ 日前后, OP 最长 5 个月后, 该地的昼夜长短状况是_____。

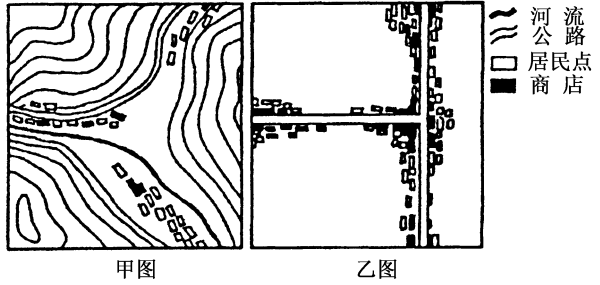
(2) M 处的树位于旗杆的 _____ 方向, OM 所处的纬度是_____。

36. 读下面“山区商业网点”和“平原商业网点”示意图后回答问题。(5分)

(1)甲、乙两图中表示山区商业网点的是_____图。

(2)甲、乙两地商业网点较稠密的是_____,原因是_____。

(3)若甲图地处我国东北大兴安岭地区,乙图为我国南方水稻主要产区的某地,则甲地区向外销售的商品主要有_____,乙地区向外销售的商品主要有_____。

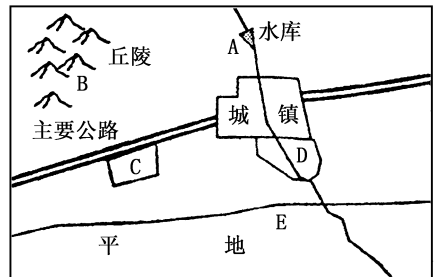


37. 读右图,如果想在图中A、B、C、D、E处安排小麦、花卉、乳业等农业类型,应怎样进行区位选择?请回答以下问题。(6分)

(1)图中的_____处宜发展小麦种植业,理由是_____;

(2)图中的_____处,宜发展乳牛业,理由是_____;

(3)图中的_____处,宜发展花卉业,理由是_____。



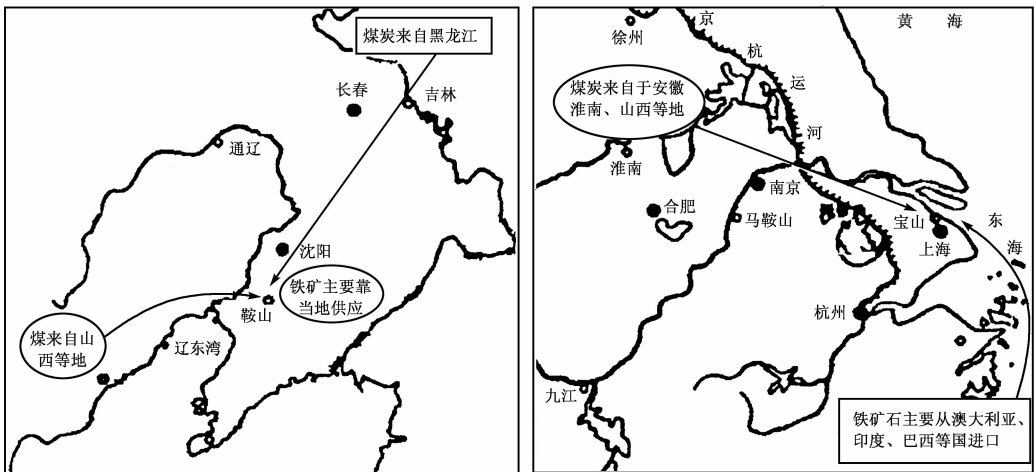
38. 下图是我国鞍钢和宝钢工业区位示意图,读图回答下列问题。(6分)

(1)从地形形态考虑,两地共同的优势在于_____。

(2)从交通运输方面考虑,宝钢比鞍钢具有优势的地方在于_____。

(3)从矿产资源考虑,鞍钢比宝钢具有优势的地方在于_____。

(4)从环境保护角度考虑,两地在生产过程中应注意的事项是_____。



2004 年广西壮族自治区普通高中毕业会考试卷

地 理

(本卷满分 100 分,考试时间 90 分钟)

注意事项

1. 答卷前,考生务必将密封线内的项目填写清楚,密封线内不要答题。
2. 用蓝、黑墨水钢笔或蓝、黑笔芯圆珠笔在试卷上直接答题。

题 号	一	二	三	四	总 分
得 分					

得 分	评 卷 人

一、单项选择题(每小题 2 分,共 50 分。下列各小题均有 4 个选项,其中只有一项是正确的,请将正确选项的序号写在答题卡上。多选、不选或错选,该小题不得分)

1. 神舟 5 号飞船在太空中进行生物实验,主要是利用宇宙环境中的:
A. 矿产资源 B. 土地资源 C. 太阳能资源 D. 空间资源
2. 地球自转 360°所需要的时间是:
A. 24 小时 B. 23 小时 56 分 4 秒 C. 一个太阳日 D. 一个回归年
3. 地球大气层中最活跃、与人类关系最为密切的是:
A. 对流层 B. 平流层 C. 高层大气 D. 电离层
4. 形成风的直接原因是:
A. 水平气压梯度力 B. 地转偏向力 C. 地面摩擦力 D. 地球重力
5. 主要由重力作用引起的地质灾害是:
A. 地震 B. 火山 C. 滑坡 D. 海啸
6. 形成右图所示地貌的主要地质作用是:
A. 风力侵蚀作用 B. 风力堆积作用
C. 流水侵蚀作用 D. 流水沉积作用
7. 有关海水温度的叙述,正确的是:
A. 低纬度海区的水温都低于高纬度的海区
B. 暖流流过海区的水温一定高于寒流流过的海区
C. 同一海区,夏季水温高于冬季
D. 海水的温度随深度的增加而递增
8. 流经广西境内的红水河,其水源补给的最主要形式是:
A. 冰川融水 B. 积雪融水 C. 大气降水 D. 浅层地下水
9. 世界海洋渔业资源主要集中在:



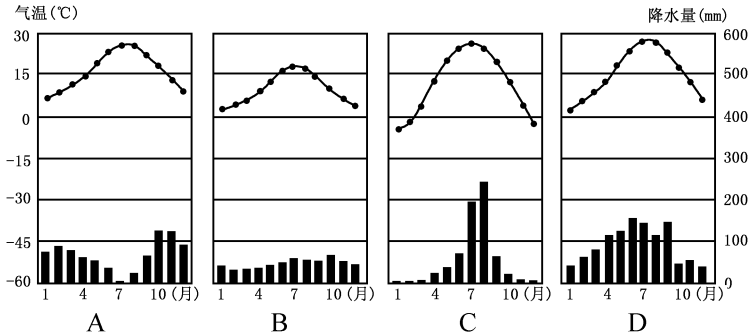
三角洲

- A. 沿海大陆架海域 B. 大洋海沟 C. 大洋海岭 D. 海盆

10. 下列陆地资源中属于非可再生资源的是：

- A. 土地资源 B. 生物资源 C. 水资源 D. 矿产资源

11. 下列各图中 表示亚热带季风气候的是：



12. “清明前后 种瓜种豆”的农谚反映农业生产的特点是：

- A. 地域性 B. 季节性和周期性 C. 综合性 D. 专业化

13. 世界最大的商品谷物生产国是：

- A. 中国 B. 俄罗斯 C. 加拿大 D. 美国

14. 下列工厂中 生产上投入—产出存在密切联系的是：

- A. 造纸厂与造船厂 B. 甘蔗制糖厂与飞机制造厂
C. 汽车厂与钢铁厂 D. 电视机厂与服装厂

15. 早期传统工业区一般是建立在：

- A. 科技发达地区 B. 丰富的劳力资源基础上
C. 丰富的煤、铁资源基础上 D. 宜人的气候条件上

16. 与传统工业相比 高技术工业通常具有以下特点：

- A. 从业人员具有高水平的知识和技能
B. 研究开发费用在销售额中占的比例低
C. 产品更新换代的周期长
D. 产品面向本国市场

17. 有关人类聚落的叙述 正确的是：

- A. 先有城市聚落 后有乡村聚落 B. 聚落是农村各种聚居地的总称
C. 聚落是以非农业人口为主的居住地 D. 先有乡村聚落 后有城市聚落

18. 下列城市中 属于在铁矿石产地发展起来的是：

- A. 上海 B. 桂林 C. 广州 D. 攀枝花

19. 同发达国家相比 发展中国家城市化的特点之一是：

- A. 起步晚 发展快 B. 起步早 发展快
C. 发展快 水平高 D. 发展慢 水平低

20. 我国正在建设的世界上海拔最高的铁路线是：

- A. 南昆线 B. 京九线 C. 青藏线 D. 枝柳线

21. 解决城市交通线路拥堵的根本措施是：

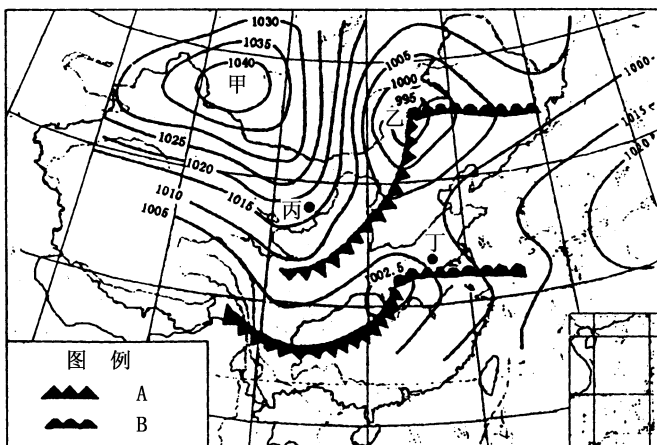
- A. 合理规划城市道路 B. 建设放射状线路 取消环行线路

- C. 限制人行道的扩展
D. 限制汽车工业的发展
22. 电子通信的核心是：
A. 电话 B. 电报 C. 电视 D. 计算机的应用
23. 下列活动中属于国际贸易范畴的是：
A. 华尔街的外汇买卖
B. 香港证券市场的股票交易
C. 2004 年 11 月将在南宁举办的中国—东盟博览会
D. 2004 年 5 月在广西桂林市举办的第十四届全国书市
24. 除了“片面追求经济增长”外，环境问题产生的主要原因还有：
A. 人口压力和环境自净能力低
B. 人口压力和自然资源再生能力低
C. 人口压力和资源的不合理利用
D. 资源的不合理利用和资源再生能力低
25. 下列措施和活动有利于我国实施可持续发展战略的是：
A. 实施计划生育 提高人口素质 B. 大力发展小煤窑 解决能源问题
C. 积极围湖造田 增产粮食 D. 提倡使用一次性木筷和塑料袋

得 分	评 卷 人

二、双项选择题(每小题 2 分,共 10 分。下列各小题的 4 个选项中,有两项是正确的,请将正确选项的序号写在答题卡上。多选、少选或错选,该小题不得分)

26. 下列地理现象中由地球公转而产生的是：
A. 昼夜更替 B. 昼夜长短的变化
C. 经度不同 地方时不同 D. 正午太阳高度的变化
27. 下列有关气象灾害的叙述,正确的是：
A. 台风是一种强烈发展的热带气旋
B. 我国的洪涝灾害主要发生在南方和西北地区
C. 寒潮是我国夏半年主要的气象灾害
D. 加强监测和预报,是减轻气象灾害的重要措施
28. 保护和改善城市环境的主要措施有：
A. 建立卫星城,开发新区 B. 鼓励市民购买小汽车
C. 改善城市交通和居住条件 D. 阻止农民工进城务工
29. 城市商业街的区位选择原则为：
A. 气候最优 B. 水源最优 C. 交通最优 D. 市场最优
30. 实现可持续发展要遵循的原则是：
A. 公平性原则 B. 公益性原则
C. 发展性原则 D. 持续性原则和共同性原则



锋面气旋

(1)从气压状况看,甲是_____;从气流状况看,乙是_____。

(2)写出图例 A、B 所表示的锋面类型名称:

A _____ B _____。

(3)丙、丁两地当时的天气情况是:

丙 _____;

丁 _____。

35. 读右图 我国南方某城镇为了调整产业结构,规划在城镇周围发展甘蔗种植、花卉园艺业,并引进外资建甘蔗制糖厂,同时建一座自来水厂。请你根据所学知识,回答下列问题。(6分)

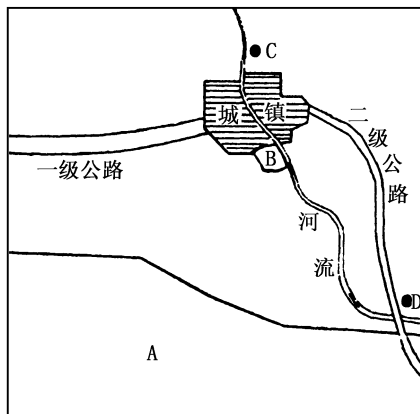
(1)要在图中 A、B 两地发展甘蔗种植、花卉园艺业,合理的布局应是:

A _____ B _____。

(2)该镇要建设甘蔗制糖厂、自来水厂,请在图中 C、D 两地选择安排并说明理由。

C _____,理由 _____。

D _____,理由 _____。



南方某城镇产业规划图

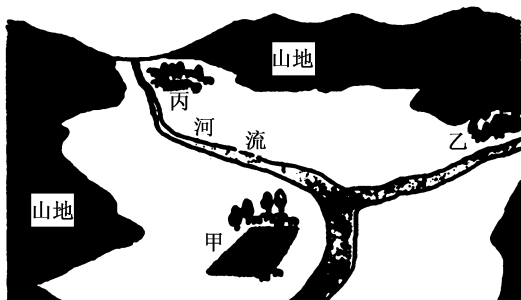
36. 读“聚落的位置与发展”图,回答下列问题。(5分)

(1)图中甲、乙、丙三个聚落分布的共同点都是沿_____分布。

(2)判断图中甲、乙、丙三个聚落,哪个最有可能发展成为城市?_____。

其理由是:_____

_____。



聚落的位置与发展

(3)联系实际,请你列举我国区位因素与甲聚落相似的2个城市。

答:_____、_____。

37.读右侧某洲货物四种运输方式“运费与运输距相关曲线示意图”,回答下列问题。(6分)

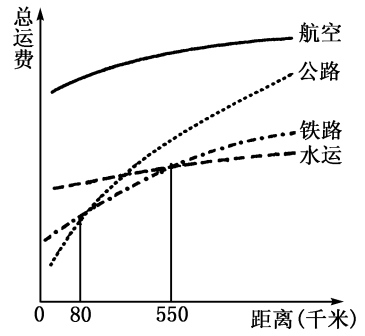
(1)运输距离 < 80 千米时,运价最低的运输方式是_____

_____。

(2)80 千米 < 运输距离 < 550 千米时,运价最低的运输方式是_____。

(3)运输距离 > 550 千米时,运价最低的运输方式是_____。

(4)运价最高的运输方式是_____。该运输方式的优点是:_____



运费与运距相关的曲线示意图

38.读“全球环境金融融资的项目分布”图,回答下列问题。

(5分)

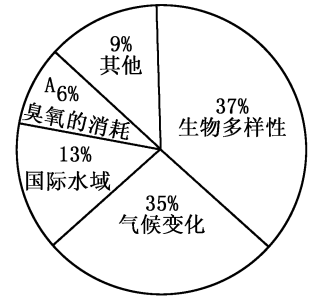
(1)全球环境基金关注的领域主要有:生物的多样性、_____、_____以及国际水域。

(2)A 领域存在的主要问题是_____。造成该问题的人为原因主要是_____

_____。

(3)生物多样性特别被关注的原因是_____

_____。



全球环境金融融资项目的分布

2005 年广西壮族自治区普通高中毕业会考试卷

地 理

(本卷满分 100 分,考试时间 90 分钟)

注意事项

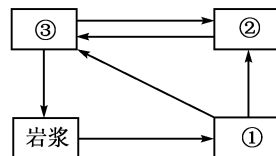
1. 答卷前,考生务必将密封线内的项目填写清楚,密封线内不要答题。
2. 用蓝、黑墨水钢笔或蓝、黑笔芯圆珠笔在试卷上直接答题。

题 号	一	二	三	总 分
得 分				

得 分	评 卷 人

一、单项选择题(每小题 2 分,共 50 分。下列各小题均有 4 个选项,其中只有一项是正确的,请将正确选项的序号写在答题卡上。多选、不选或错选,该小题不得分)

1. 人们把目前能观测到的宇宙部分称为：
A. 太阳系 B. 银河系 C. 河外星系 D. 总星系
2. 下列有关太阳活动的叙述,正确的是：
A. 耀斑出现在太阳的光球层
B. 太阳活动可干扰无线电短波通讯
C. 黑子的活动无规律性
D. 太阳活动对地球不会造成影响
3. 据报道,经人造地球卫星搭载培育的青椒新品种,亩产量增加 20% ~ 30%,维生素 C 含量也明显增加。这一成果是人类开发利用了宇宙的：
A. 空间资源 B. 太阳能资源 C. 生物资源 D. 矿产资源
4. 下列关于干洁空气组成成分作用的叙述,正确的是：
A. 二氧化碳可以对地面起保温作用 B. 氧是组成地球生物体的基本成分
C. 臭氧能大量吸收太阳红外线 D. 氮是绿色植物光合作用的原料
5. 人造烟幕能起到防御霜冻作用,其主要原因是人造烟幕能：
A. 增强地面辐射 B. 增强大气逆辐射
C. 增强太阳辐射 D. 减弱大气逆辐射
6. 在右面地壳物质循环简图中,可能含有化石的岩石代号是：
A. ①
B. ②
C. ③
D. ①③



7. 某些环境问题可能影响到其他国家甚至全球,如挪威、瑞典等北欧国家受到来自西欧国家工业区大气污染的影响,形成酸雨。其污染物的主要输送途径是:

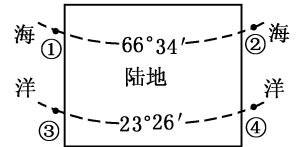
- A. 东北信风 B. 夏季风 C. 极地东风 D. 盛行西风

8. 下列洋流中属于补偿流的是:

- A. 北大西洋暖流 B. 西风漂流 C. 秘鲁寒流 D. 北赤道暖流

9. 在右面的海陆分布示意图中,各点的表层海水盐度由高到低排列顺序正确的是:

- A. ① > ② > ③ > ④
 B. ① > ② > ④ > ③
 C. ④ > ③ > ② > ①
 D. ④ > ③ > ① > ②



10. 下列关于植物对环境指示作用的叙述,正确的是:

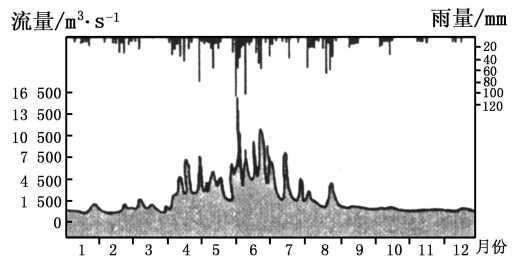
- A. 骆驼刺指示酸性土壤环境 B. 莲指示水湿环境
 C. 旗形树冠指示大气降水丰沛 D. 仙人掌指示碱性土壤环境

11. 在进行城镇规划时,一般将城镇街道与子午线形成 30° ~ 60° 夹角,这主要是为了保证居住区街道两侧建筑物都有较好的:

- A. 通风条件 B. 通水条件 C. 日照条件 D. 交通条件

12. 从右图提供的信息看出,该河流的主要补给水源是:

- A. 大气降水
 B. 冰川融水
 C. 地下水
 D. 湖泊水



13. “桔生淮南则为橘,桔生淮北则为枳。”说明农业生产具有的特点是:

- A. 季节性 B. 周期性
 C. 地域性 D. 习惯性

14. 下列产业部门属于在新技术革命才出现的是:

- A. 生物工程 B. 钢铁 C. 电力 D. 汽车

15. 下列城市中属于钢铁工业地域扩展而成的是:

- A. 大庆 B. 攀枝花 C. 十堰 D. 日本的筑波

16. 20 世纪 50 年代德国鲁尔区经济开始衰落,其衰落的主要原因中属该区本身原因的是:

- A. 世界性钢铁过剩 B. 煤炭的能源地位下降
 C. 生产结构单一 D. 新技术革命的冲击

17. 与传统工业区相比较,新兴工业区具有的特点是: ①以中小型企业为主 ②工业分布分散 ③环境优美 ④资本集中程度高

- A. ②③④ B. ①②④ C. ①③④ D. ①②③

18. 有关聚落的叙述,正确的是:

- A. 人类社会第二次大分工时出现了乡村聚落
 B. 世界上第一批城市多数诞生在山区
 C. 先有乡村聚落,后有城市聚落

D. 河网较密的平原地区 聚落平面形态多呈圆形

19. 衡量一个国家城市化水平的最重要指标是：

- A. 城市用地规模
- B. 城市的数量
- C. 城市人口增加
- D. 城市人口占总人口的百分比

20. 下列做法不利于解决城市交通拥堵问题的是：

- A. 大力发展公共交通事业
- B. 鼓励私人购车 解决乘车难问题
- C. 修建城市高架公路和地铁
- D. 错开休息日和上下班时间

21. 如果你要给同学发电子邮件 必须知道对方的：

- A. 邮政编码
- B. 家庭地址
- C. E-mail 地址
- D. 传真号码

22. 形成商业中心的主要条件是 ①经济发达 ,有稳定的商品来源 ②环境优美 ③文化教育发达 ④交通便利 ,便于商品集散

- A. ①②
- B. ②③
- C. ③④
- D. ①④

23. 现代各国和地区之间经济联系的基本形式是：

- A. 国际贸易和金融
- B. 国际信息交流与合作
- C. 国际文化教育与合作
- D. 国际体育与旅游活动

24. 20 世纪 70 年代以后 ,广西西部山区石漠化现象日趋严重 ,其主要原因是：

- A. 全球气候异常 旱灾频繁
- B. 盲目毁林开荒 森林面积减少
- C. 滑坡等地质灾害频繁发生
- D. 生物自然退化

25. 广西北部湾海域每年夏季实施“伏季休渔” ,严禁渔船出海捕鱼 ,其主要目的是：

- A. 实现海洋渔业资源可持续利用的需要
- B. 夏季气候炎热干燥 ,不利于海洋捕捞
- C. 夏季气温高 ,不利于海产品的保鲜和运输
- D. 夏季鱼类迁徙 ,北部湾海域鱼类减少

得分	评卷人

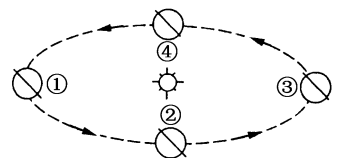
二、双项选择题(每小题 2 分 ,共 10 分。下列各小题的 4 个选项中 ,有两项是正确的 ,请将正确选项的序号写在答题卡上 ,多选、少选或错选 ,该小题不得分)

26. 下列关于海洋资源的叙述 ,正确的是：

- A. 世界海洋渔业资源主要集中在深海海域
- B. 世界海洋总渔获量的绝大部分来自大陆架海域
- C. 潮汐和波浪属于可再生能源
- D. 目前在海洋上开采的矿产主要是深海锰结核

27. 当广西在一年中白昼逐渐变长时 ,地球在公转轨道上的位置可能是：

- A. ①→②
- B. ②→③
- C. ③→④
- D. ④→①



二分二至时地球的位置

28. 下列各组工业部门 ,其区位选择的主导因素相同的是：

- A. 集成电路、精密仪器 B. 炼铝工业、电子装配厂
C. 家具制造、瓶装饮料厂 D. 飞机制造厂、面包厂

29. 下列货物与其选用的运输方式最合理的是：

- A. 两箱急救药品从北京运到桂林市——铁路
B. 50 吨海盐从北海市运到南宁市——航空
C. 1000 千克蔬菜从郊区运到市区——公路
D. 10000 吨大米从武汉运到上海——河运

30. 要实现可持续发展，需要遵循的原则有：

- A. 公平性原则 B. 交通最优原则 C. 共同性原则 D. 市场最优原则

一、单项选择题答题卡

题号	1	2	3	4	5	6	7	8	9	10	11	12	13	得分
答案														
题号	14	15	16	17	18	19	20	21	22	23	24	25		
答案														

二、双项选择题答题卡

题号	26	27	28	29	30	得分	评卷人
答案							

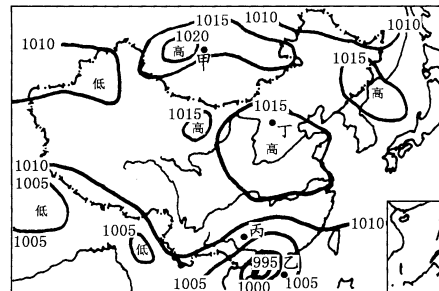
全卷总分	统分人

得分	评卷人

三、综合题(共 40 分)

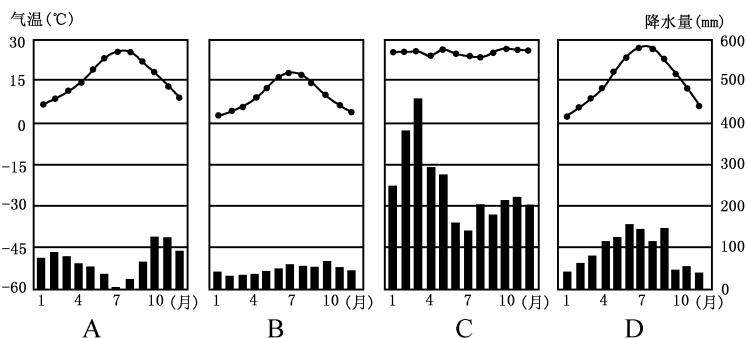
31. 读右下图，回答下列问题。(6 分)

- (1)从大气运动受气压影响的结果来看，此时右图中甲地吹_____风，乙地吹_____风。
(2)根据气压分布状况，分析此时我国北方大部分地区的天气状况及其成因：_____



1996 年 9 月 9 日 8 时地面天气

- (3)右面为四种气候类型的气温曲线和降水柱状图。A、B、C、D 四图中与右上图丙地所属气候类型相对应的是_____，该地气候的主要成因是：_____



32. 2004年12月26日,印度尼西亚北部苏门答腊岛亚齐省海域发生里氏8.9级地震,并引发强烈海啸波及周围国家和地区,造成共20多万人死亡和失踪,这是近百年来最严重的自然灾害之一。读右下图分析回答。(6分)

(1)印尼苏门答腊岛及其附近地区多强烈地震的主要原因_____。

(2)在一次灾害发生过程中,往往由一种原发性的主灾诱发其他灾害。如地震除了引发海啸外,同时还会诱发_____ (至少写出两种)等其他灾害。

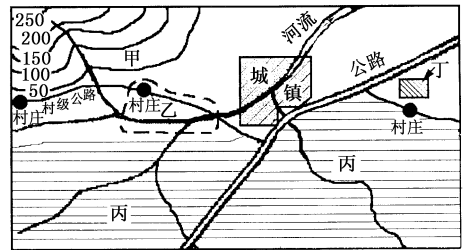
(3)如何才能减轻地震等自然灾害带来的损失,你认为有哪些可行措施:_____。



33. 读右下图,我国南方某城镇计划在其周围的甲、乙、丙、丁四处发展水稻、蔬菜、水果和乳牛生产。请你根据当地自然和经济、社会条件进行合理布局。(8分)

(1)水稻宜在_____处种植,主要考虑的自然因素是_____。

(2)蔬菜、水果和乳牛三种农业生产分别布局在_____、_____、_____ ,请说明其中一种生产布局的理由_____。



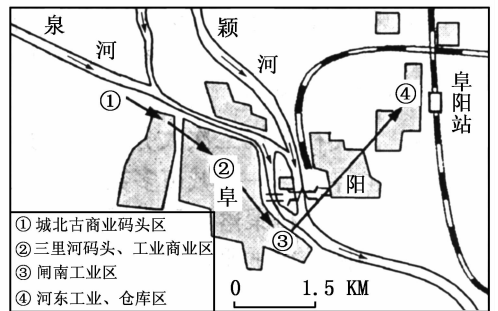
(3)该地区农业地域类型主要属于:()
 A. 水稻种植业 B. 大牧场放牧业 C. 商品谷物农业 D. 种植园农业

34. 读安徽省阜阳市对外交通口岸转移图,回答下列问题。(7分)

(1)在20世纪70年代以前城市中心先后由①向②、③一带转移,说明_____对城市区位有很大影响,70年代后城市中心转移到④的位置,这说明_____运输成为促进城市发展的重要条件。

(2)我国古代南北方城市分布的一般规律是:北方城市大都位于_____汇合处,南方城市大都位于河流汇合处,这是由河流具有的_____功能和_____功能所决定的。

(3)请列举广西境内两个沿河布局的地级城市_____、_____。



35. 右下图为某地规划区示意图,读图回答下列问题。(6分)