

初中乡土教材

重 庆 地 理

(试 用 本)

重庆市教育科学研究院 编

西南师范大学出版社

编写说明

乡土地理是国家教委规定的教材,它是初中《中国地理》教学内容的重要组成部分。加强乡土地理教学,是深入教育改革,加强教学实践,使教育服务于社会经济建设的一个重要措施。为此,我们根据中学地理教学大纲的要求,遵照重庆市教委的决定,编写了初中乡土教材《重庆地理》(试用本)。

《重庆地理》(试用本)按照中学教学计划对乡土地理的要求和安排,以及它的性质、特点,学生的年龄特征选材,以人地关系为线索组织内容,给予学生有关重庆地理的基础知识和基本技能。使学生认识家乡的地理环境,知道人民利用自然、改造自然、发展经济的成就和问题,懂得一些建设的措施和政策。让学生了解新重庆、认识新重庆、热爱新重庆,长大建设新重庆,培养学生热爱家乡、热爱社会主义祖国的思想感情。

本书是九年义务教育地理教材的有机组成部分,供我市初中教学使用。教学时数6~8课时(已编用县级乡土地理教材的区市县4课时)。野外观察和社会调查活动,教师按教学实际灵活处理。

本书的编写,除进行实地考察,广泛征求中学教师的意

见外,主要借鉴了原重庆市乡土教材《重庆地理》(1983年重庆市教师进修学院何昌恒、肖家泉执笔编写)、《重庆市经济地理》、《重庆市国民经济和社会发展第九个五年计划和2010年远景目标纲要》、《重庆年鉴》等已有的研究成果。在市教委、市教科院的领导下,由高金华(第一、二、三、四节)、何昌恒(第五、六、七、八节)执笔编写,肖家泉、刘德选设图片。西南师范大学刘清泉、王庆光,重庆师范学院张承胜,重庆教育学院陈昇琪,市计委马树林,市统计局吕厚宜,市教委刘丽俐以及其他十几位有丰富教学经验的专家、学者、教师,对本书的编写提供了宝贵的意见,在此谨表谢意。

为了提高教学内容的现实性,增强练习的客观性,加强乡土教学的实践性,这次再版时,按重庆直辖后的行政区划,对《重庆地理》作了大量修改,并补充“重庆南泉地理实习基地简介”这部分内容。

由于我们水平有限,恳请有关领导、专家学者及中学地理教师批评指正,以便修改完善。

编者

2003年5月

责任编辑 :卢 旭

封面设计 :肖家泉

初中乡土教材

重庆地理

重庆市教育科学研究院 编

西南师范大学出版社出版、发行

(重庆 北碚)

重庆升光电力印务有限责任公司印刷

开本 787 × 1092 1/32 印张 3 插页 1 字数 38 千

1998 年 6 月第 2 版 2003 年 7 月第 8 次印刷

ISBN 7-5621-0931-1/K · 46

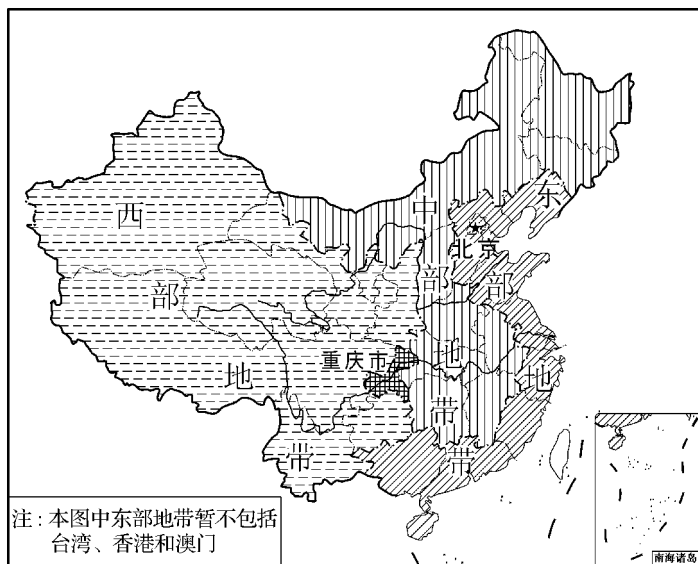
定价 3.00 元

目 录

第一节	西南著名的特大城市	(1)
第二节	优越的自然条件	(9)
第三节	丰富的自然资源	(22)
第四节	长江上游最大的工业中心	(30)
第五节	加速发展中的大农业	(41)
第六节	水陆交通枢纽和对外贸易港口	(56)
第七节	闻名中外的旅游城市	(65)
第八节	保护环境 建设新重庆	(71)
	野外观察或社会调查	(81)
	重庆南泉地理实习基地简介	(82)
	附 重庆市政区图	

第一节 西南著名的特大城市

读图 读重庆市在祖国的地理位置图和政区图，找出重庆市，并熟悉重庆市周围各邻省的名称，说明重庆市在全国的重要地理位置。



重庆市在祖国的地理位置

长江上游的中心城市 重庆市位于长江上游,我国中部地区和西部地区的结合部。主城区位于四川盆地的东南部,在长江和嘉陵江的汇合处。重庆市东邻湖北省和湖南省,南与贵州省毗连,北接陕西省,西面和西北面与四川省相邻。地跨东经 $105^{\circ}17'$ ~ $110^{\circ}11'$,北纬 $28^{\circ}10'$ ~ $32^{\circ}13'$ 之间,南北宽约 450 千米,东西长达 470 千米。全市总面积 82 000 多平方千米,是西南著名的特大城市,西部地区惟一的直辖市。

重庆市地处我国东部经济发达地区和西部资源丰富地区的结合部,是西南地区和长江上游最大的经济中心城市和重要内河口岸,有着长江经济带和西南地区的双辐射功能,对我国的经济发展可以起到承东启西、左右传递的枢纽作用。

读图 在重庆市政区图上(见附图),找到重庆市的主城区、万州区、涪陵区和学校所在的区市县,找出东、西、南、北四至点所在的 4 个县。

重庆市辖区、县(市)级行政单位有:万州、涪陵、黔江、渝中、沙坪坝、江北、南岸、九龙坡、大渡口、渝北、巴南、北碚、万盛、双桥、长寿 15 个区,綦江、璧山、荣昌、大足、铜梁、潼南、巫山、巫溪、奉节、云阳、城口、

开县、梁平、忠县、垫江、丰都、武隆、石柱、彭水、酉阳、秀山 21 个县和永川、江津、合川、南川 4 个县级市。渝中区、江北区、南岸区、沙坪坝区、九龙坡区、大渡口区位于主城区，渝北区、巴南区、北碚区、长寿区属于近郊区，万州区、涪陵区、黔江区、双桥区和万盛区则远离市区。渝中区是重庆市人民政府所在地。

重庆市的主城区东自真武山麓，西至歌乐山脚，北至双碑、寸滩，南至人和场、苦竹坝。划分为渝中、南坪、观音桥、五里店、江北嘴、沙坪坝、石桥铺、大坪、杨家坪、上新街、大石坝、李家沱、黄桷坪、新桥、双碑、中梁山、大渡口等 10 多个片区，形成重庆都市圈。积极建设万州、涪陵、黔江、永川、合川、江津、南川、长寿、开县等地区性中心城市和一批小城市、小城镇，逐步建成以主城区为核心，地区中心城市为依托，众多小城镇为基础的层次分明、规模适度、功能合理的长江上游现代化城市群。

重庆市一方面具有城市职能，同时大城市带大农村的职能突出，又是一个城乡综合体。近年来，在对外开放、对内搞活的过程中，先后在南坪和石桥铺建立了重庆经济技术开发区和重庆高新技术开发区。美国的

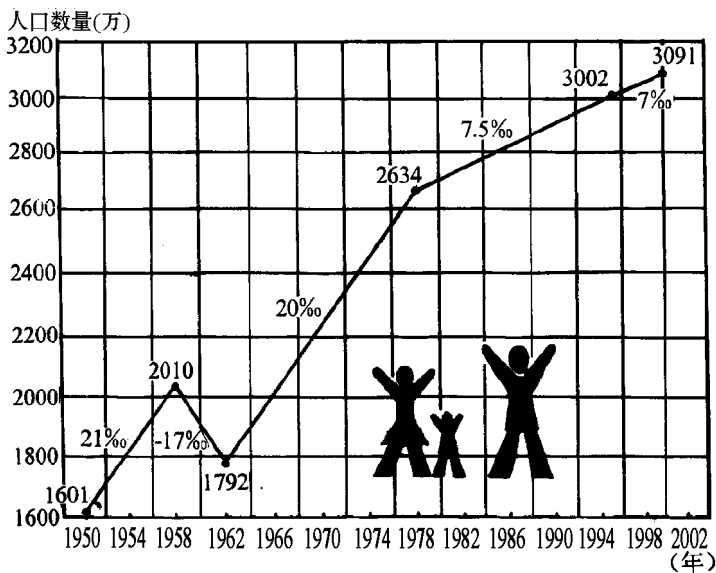
西雅图、加拿大的多伦多、日本的广岛和法国的图卢兹等先后成为重庆市的友好城市。重庆市与国内,特别是西南地区和长江流域地区的经济联系密切,是我国的历史文化名城和重要的工业城市,是长江上游的经济中心、水陆交通枢纽和对外贸易港口。

历史文化名城 重庆是巴渝文化的发祥地,是一个已有三千多年历史的古城。重庆曾名“渝州”,这就是重庆简称“渝”的由来。重庆定名于宋淳熙十六年(1189年),建市于1929年,解放于1949年。重庆不仅以众多的古代历史文化遗存,而且以近代革命斗争的光荣传统闻名于世。

抗日战争时期,重庆是国民党政府的陪都。在那时,中共中央南方局和八路军驻重庆办事处设在红岩村,周恩来同志领导大后方的党组织和人民积极进行抗日战争。抗战胜利后,蒋介石挑起内战。1945年8月毛泽东同志来重庆谈判,与蒋介石反动派进行了针锋相对的斗争,在桂园签署了著名的“双十协定”。重庆在解放前夕,国民党反动派在溃退时,制造了震惊全国的白公馆、渣滓洞大屠杀惨案,革命先烈用鲜血写下了重庆光辉灿烂的历史。老一辈无产阶级革命

家和革命先烈创造的“爱国、团结、奋斗、奉献”的红岩精神，至今仍在激励和塑造着当代重庆人。

人口众多的山城 重庆市 2000 年共有人口 3091 万，其中农业人口 2 430 万，占人口总数的 78.6%；非农业人口 661 万，占人口总数的 21.4%，城市化水平不断提高；主城区人口 490 多万，是一个世界最大的复合型城市。主城区地跨两江，山环水绕，房屋依山而筑，鳞次栉比，是一座闻名中外的山城。



建国以来重庆市人口发展图

重庆市的人口密度为每平方千米 375 人 ,高于全国平均水平的 2 倍左右。人口地区分布不平衡 ,西部和中部人口稠密 ,东北部和西南部人口稀疏 ;丘陵地区和长江、嘉陵江沿岸谷地人口稠密 ,山区人口稀疏。人口高度集中在渝中区、江北区、南岸区、沙坪坝区、九龙坡区、大渡口区等主城区 ,以及万州和涪陵城区。渝中区人口密度高达每平方千米 2 万多人 ,是全市人口最稠密的地区。

重庆市人口的 93.6% 为汉族 ,少数民族人口总数接近 200 万。主要少数民族有土家族和苗族 ,集中分布在黔江区和石柱、彭水、酉阳、秀山 4 个民族自治县。

重庆人口经过“两高一低”的发展过程 ,人口增长过快的势头得到控制 ,已进入“低出生、低死亡、低自然增长”的人口再生类型。由于重庆市人口基数大 ,人口素质较差 ,还有大量文盲。重庆人均自然资源的占有量较少 ,人均耕地不足 1 亩 ,人均森林仅 0.5 亩。人均国民收入只有 3 000 多元 ,人均粮食占有量才 360 多千克。城市还存在住房难、交通难 ,环境污染严重等问题。因此 ,必须实行计划生育 ,严格控制

人口数量,提高人口素质,使人口发展同社会和经济
发展、同资源环境相适应。

21 世纪初,重庆人口的自然增长率应控制在 50
左右,在提高人口身体素质的同时,还要提高人口的
文化素质,确保基本普及九年义务教育、基本消除青
壮年文盲“两基”目标的实现和达标后的巩固与提高。
努力实施西部大开发战略和科教兴渝战略,逐步把重
庆建设成为经济繁荣,交通便利,科技文化发达,社会
文明进步的现代化国际大都市。

思考与练习

1. 读重庆市位置图和重庆市政区图回答:

(1)重庆市位于_____江上游,我国_____地区和_____
_____地区的结合部。主城区位于_____盆地的东南部,在_____
_____江和_____江的汇合处。

(2)重庆市东邻_____省和_____省,南与_____省毗
连,北接_____省,西面和西北面与_____省相邻。全市总
面积是_____平方千米,人口总数为_____万。

(3)重庆市所辖的区县中,位于最东边的是_____县,位
于最西边的是_____县,位于最北边的是_____县,位于最
南边的是_____县。重庆市人民政府所在地是_____区。

2. 重庆是我国的历史文化名城和重要的_____城市,是_____上游的经济中心,_____交通枢纽和_____港口。

3. 将下列地名与它们的类别连线。

沙坪坝、南坪、观音桥、石桥铺

革命纪念地

万州、涪陵、黔江、永川、开县

友好城市

红岩村、桂园、渣滓洞、白公馆

主城区

西雅图、多伦多、广岛、图卢兹

地区中心城

4. 简要说明重庆市的地理位置及其优越性。

5. 简述重庆市必须实行计划生育这一基本国策的道理。

第二节 优越的自然条件

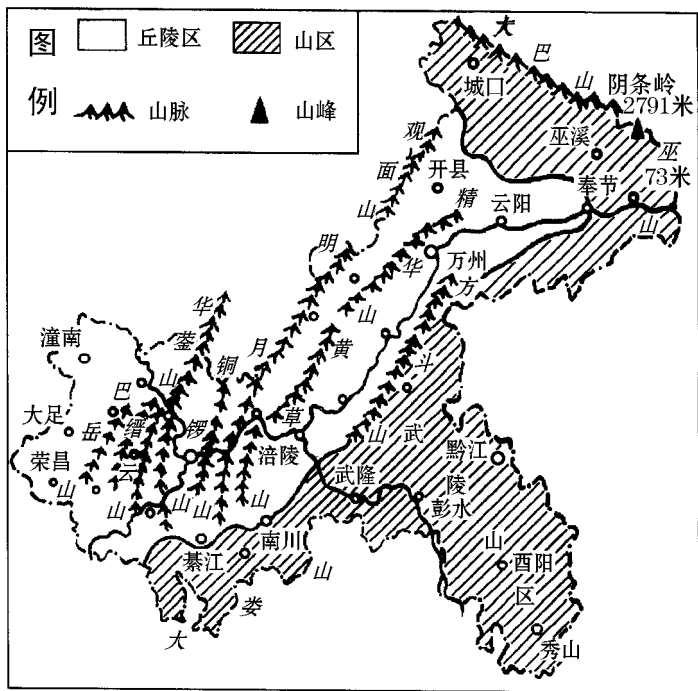
重庆市位于长江上游,我国中部地区和西部地区的结合部,地形以山地和丘陵为主,气候温暖湿润,还有嘉陵江、乌江等众多的河流和温泉,自然条件十分优越。

读图 读重庆市地形略图,找出大巴山、巫山、方斗山、华蓥山和巴岳山,说明这些山脉的走向,指出华蓥山、巴岳山以东、以西地形有何不同;找出綦江、南川、石柱、奉节县城到开县北部一线,指出此线两侧地形有何差异。

山地和丘陵为主的地形 重庆市境内丘陵起伏,山岳耸峙。山地面积占全市总面积的 75.8%,丘陵面积占 21.8%,平原面积仅占 2.4%。地形以山地和丘陵为主。重庆市位于四川盆地东部及其边缘山区,地形大势呈现为东高西低,并由南、北向长江河谷逐渐降低。巫山县碚石乡长江水面,海拔降至 73 米,是全市最低的地方。巫溪县东部边缘的界梁子山主峰阴条岭,海拔 2791 米,是重庆的最高山峰。

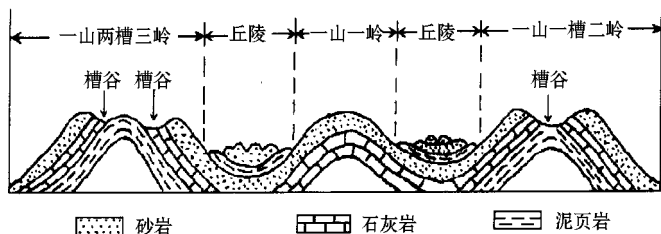
重庆的地形明显分为三部分：以华蓥山—巴岳山为界，西部是丘陵区，中部和北部是平行岭谷区；平行岭谷区以东、以南是盆边山地区。

平行岭谷区由一系列褶皱形成的山脉和山脉间的丘陵谷地组成，山脉与丘陵相间排列，井然有序。长条状山脉呈东北—西南向蜿蜒，海拔高度一般在500



重庆市地形略图

~1 000米之间。山脉自西向东主要有巴岳山、西温泉山(云雾山)、华蓥山、缙云山、中梁山(歌乐山)、铜锣山(真武山)、明月山、精华山、黄草山和方斗山等。山脉间波状起伏的丘陵谷地,海拔在200~400米,相对高度不大,有肥沃的紫色土,有益于农业生产。




平行岭谷区地形示意图

西部丘陵区为川中丘陵的一部分。丘陵岩层近于水平,由棕红色、紫红色砂、页岩组合,经流水侵蚀分割而成。丘顶海拔一般在200~500米,相对高度30~100米。丘陵坡地多开辟为旱作梯土,丘间沟谷发育,谷底坦缓,遍布水田。丘陵地区地势平缓,肥沃的紫色土分布广泛,水田比重相对较大,垦殖比例高,河网密度较大,是重庆市发展农业生产条件最好的地方。



浑圆丘陵



方山丘陵

东部和南部盆边山区,是大巴山、巫山、大娄山和武陵山系的一部分。东部山区地势由西南向东北逐级抬升,南部山区地势由北向南逐渐升高。山顶海拔一般在1 000~2 000米,山高谷深。在褶皱向斜地区,四周陡峭、顶上平坦的高台地比较发育。南部山区的岩溶地形分布广泛,比较典型的有武隆的芙蓉洞、奉节的天坑(落水洞)、万盛的石林和黔江石会的峰林等。山区的森林覆盖率较高,江津、万盛、南川、武隆、黔江、巫溪、奉节、巫山、城口等区市县的中山地区,生长着茂密的亚热带常绿阔叶林,是重庆市的林业生产基地。