


# 中國歷史習作簿

中學三年級下學期適用

教師用書



# 中國歷史習作簿

中學三年級下學期適用

姓名：\_\_\_\_\_

班別：\_\_\_\_\_

編號：\_\_\_\_\_

# 目次

## 甲部課程

|     |            |    |
|-----|------------|----|
| 第二章 | 當代中國之內政與外交 | 1  |
|     | 第三節        | 1  |
|     | 第四節        | 7  |
|     | 第五節        | 16 |
|     | 第六節        | 21 |

## 乙部課程

|     |           |    |
|-----|-----------|----|
| 第一章 | 商業與工業之發展  | 28 |
|     | 第一節       | 28 |
|     | 第二節       | 35 |
| 第二章 | 學術思想及宗教概說 | 42 |
|     | 第一節       | 42 |
|     | 第二節       | 47 |

## 第二章

## 當代中國之內政與外交

## 第三節 國共的分合與北伐

## (一) 填圖

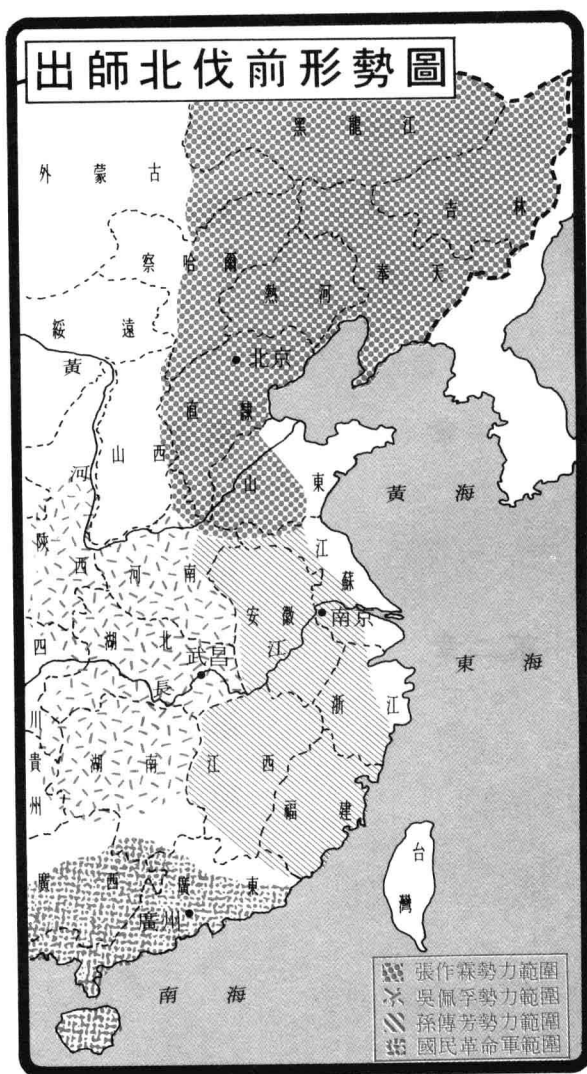
I 在張作霖、吳佩孚、孫傳芳及國民革命軍的勢力範圍內填上顏色。

張作霖勢力範圍：黃色

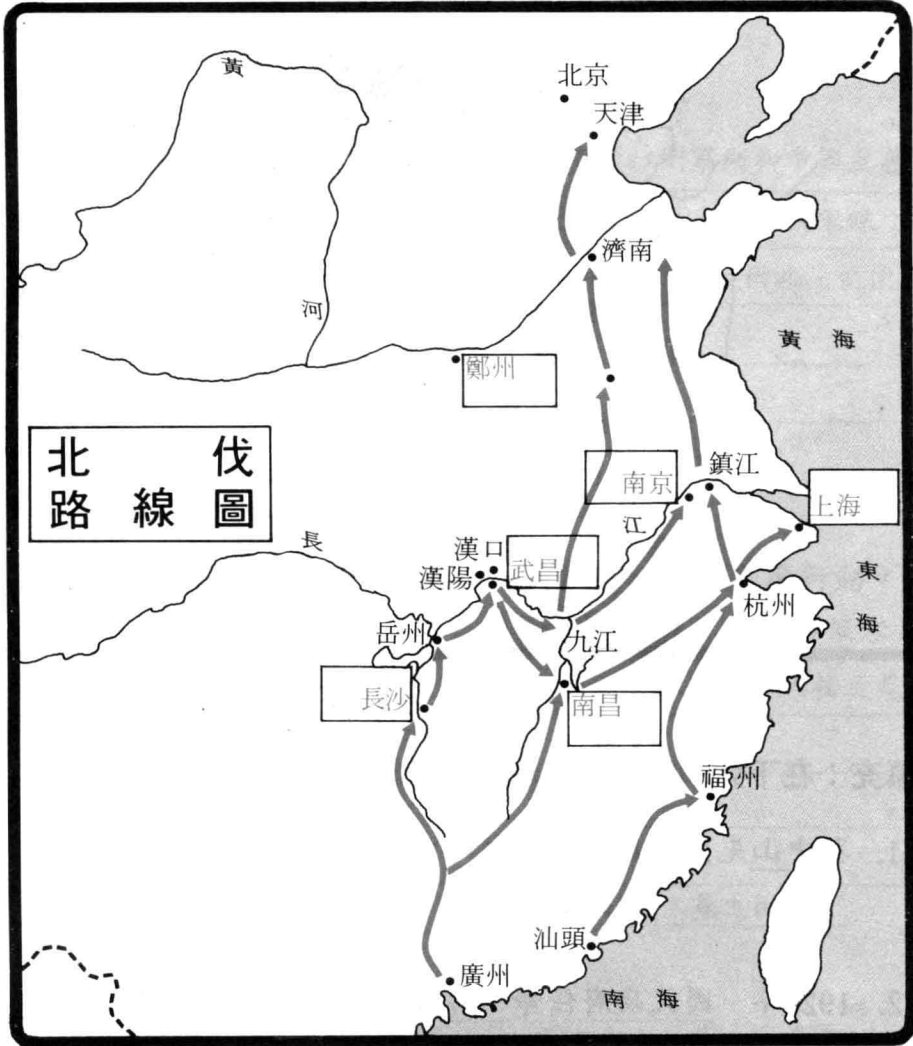
吳佩孚勢力範圍：藍色

孫傳芳勢力範圍：橙色

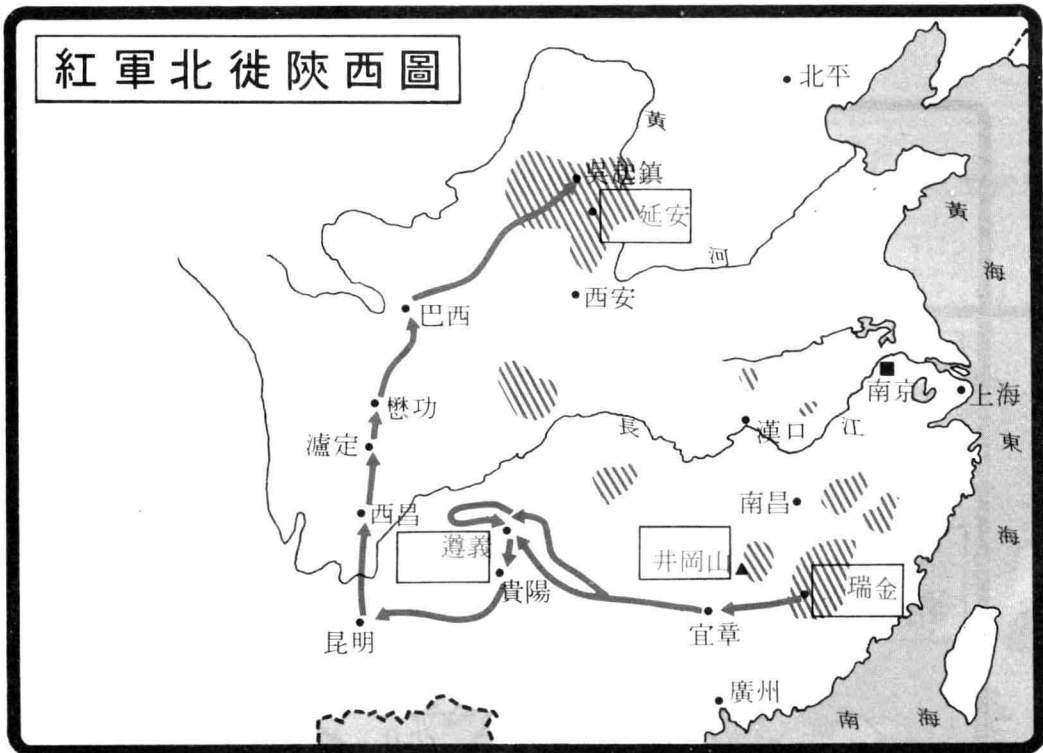
國民革命軍範圍：啡色



- II 1. 在方格內填上地名。  
 2. 畫出國民革命軍北伐路線。



- III 1. 在方格內填上地名。  
 2. 在紅軍根據地填上顏色。  
 3. 畫出中央紅軍長征路線。



(二) 填充：在下列的空位中，填上適當的文字。

1. 孫中山先生認為，如要統一中國，必須打倒 軍閥 和 帝國主義 這兩股勢力。
2. 1926年，國民政府任命 蔣中正 為總司令，出師北伐。
3. 北伐時，據地擁兵的軍閥，約佔有全國領土的五分之四，其中又以 吳佩孚、孫傳芳 及 張作霖 三人的軍力最為強大。
4. 1928年，國民政府復合，又得西北軍閥 馮玉祥 和山西軍閥 閻錫山 協助，終平定華北。

5. 中共紅軍自1934年突圍後，經過一年的時間，穿過 西南  
十省，北徙至 陝西延安，這在紅軍史上稱爲 「二萬五  
千里長征」。

(三) 問答：請扼要作答。

1. 孫中山先生為何有「聯俄容共」的主張？

孫中山先生認為，如要統一中國，必須打倒軍閥和帝國主義；要  
打倒這些強敵，必須擴大國民黨的基礎和建立革命的軍隊；但要  
在短期內建立革命軍隊，則又非借助外力不可。因此，他便有「聯  
俄容共」的主張。

2. 「聯俄容共」的政策制定後，國民黨採取了什麼行動？

1924年1月，中國國民黨在廣州召開大會，通過「聯俄容共」方  
針，准許共產黨員以個人資格加入國民黨；同年，又接受蘇聯的  
援助，在廣東黃埔創立軍校。

3. 北伐成功後的局勢怎樣？

北伐成功後，時局並未穩定，各地野心勃勃的軍人如李宗仁、閻錫  
山、馮玉祥等仍擁兵割據。於是，在1929年至1930年兩年內，發生  
了一場自民國成立以來規模最大的內戰。

4. 爲什麼紅軍要發起長征？

因爲蔣中正集中了力量對付中共的江西根據地，經過五次的大圍攻，迫使紅軍放棄了江西蘇區，突圍長征。

(四) 填表

|          | 國共第一次合作                                    | 國共第二次合作                     |
|----------|--|-----------------------------|
| 時間       | 1924 — 1927                                | 1937 — 1945                 |
| 促使雙方合作原因 | 孫中山主張聯俄容共，以加強革命力量。                         | 張學良發動「西安事變」，迫使蔣中正聯合共產黨一致抗日。 |
| 合作形式     | 准許共產黨員以個人資格加入國民黨。                          | 共產黨宣言服從國民政府指揮，紅軍收編爲國軍。      |
| 分裂經過     | 1927年，國民黨展開清黨行動，在上海捕殺共產黨員，而中共亦在南昌等地採取軍事行動。 | 抗戰結束後，雙方爲爭奪統治權而發生內戰。        |

(五) 歷史時序：按事件發生的先後次序，用英文字母重新排列。

- A 北伐後之內戰
- B 西安事變
- C 二萬五千里長征
- D 中國國民黨在廣州召開第一次全國代表大會
- E 中華蘇維埃政府在江西瑞金成立
- F 孫中山逝世
- G 國民革命軍北伐

答案： ( D ) ( F ) ( G ) ( A ) ( E ) ( C ) ( B )



(六) 選擇

1. 共產主義傳入中國後，初期的發展怎樣？

- (1) 各地成立了研究共產主義的小組。
- (2) 1917年後，我國激烈反蘇，共產主義受到禁制。
- (3) 蘇聯予以大力支持，並派人來華聯絡。
- (4) 1921年，中國共產黨在上海成立。

- A (2)(3)(4)                      B (1)(2)(3)  
C (1)(3)(4)                      D (1)(2)(4)

C

2. 爲什麼孫中山先生採取了「聯俄容共」政策？

- (1) 因爲他想借助外力建立革命軍隊。
- (2) 因爲他想打倒軍閥，統一中國。
- (3) 因爲他信服共產主義。
- (4) 因爲他反對英、美等帝國主義國家。
- (5) 因爲他知道西南方的軍閥不足倚賴。

- A (1)(2)(3)(4)                      B (2)(3)(4)(5)  
C (1)(3)(4)(5)                      D (1)(2)(4)(5)

D

3. 1924年以後，國民黨用什麼方法統一中國？

- A 耐心說理，對軍閥曉以大義。
- B 建立革命軍，以武力統一中國。
- C 投靠西南軍閥，打倒北洋軍閥。
- D 向列強乞求援兵。

B

4. 西安事變有什麼影響？

- A 國共再度合作，一致抗日。
- B 國共勢成水火，互相傾軋。
- C 中共投降，宣佈解散。
- D 國民政府堅決採取「先安內後攘外」政策。

A

## 第四節 日本侵華和八年抗戰

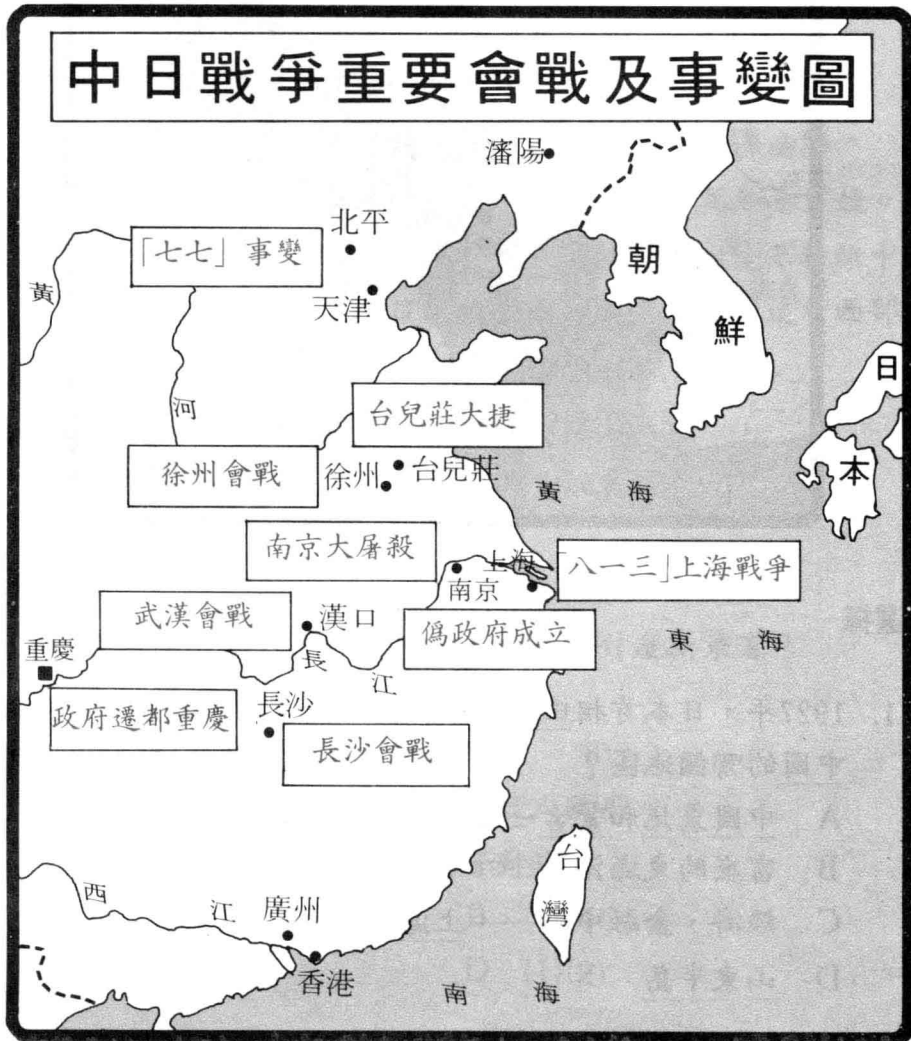
### (一) 填表

| 年份   | 事 件            | 經 過  |
|------|----------------|--|
| 1931 | <u>九一八事變</u>   | 日本自行炸毀 <u>南滿鐵路</u> 一段，卻強指是中國所為，旋即炮轟 <u>瀋陽</u> ，開始侵略東北三省的行動。                            |
| 1932 | <u>一二八事變</u>   | 日本為擴大對華的侵畧，藉口上海人民 <u>抵制日貨</u> ，炮轟吳淞要塞。當時駐防上海的 <u>十九路軍</u> 奮起抵抗。                        |
| 1932 | <u>偽滿洲國</u> 成立 | 日本扶植清廢帝 <u>溥儀</u> 為皇帝，建立傀儡政權，以掩飾其強佔 <u>東北三省</u> 的暴行。                                   |
| 1937 | <u>七七事變</u>    | 日軍於北平 <u>蘆溝橋</u> 附近舉行軍事演習，藉口一名士兵失蹤，要求入城搜查，受到拒絕後，開炮轟城，中國守軍奮起抵抗，展開了一場經歷 <u>八</u> 年的艱苦抗戰。 |

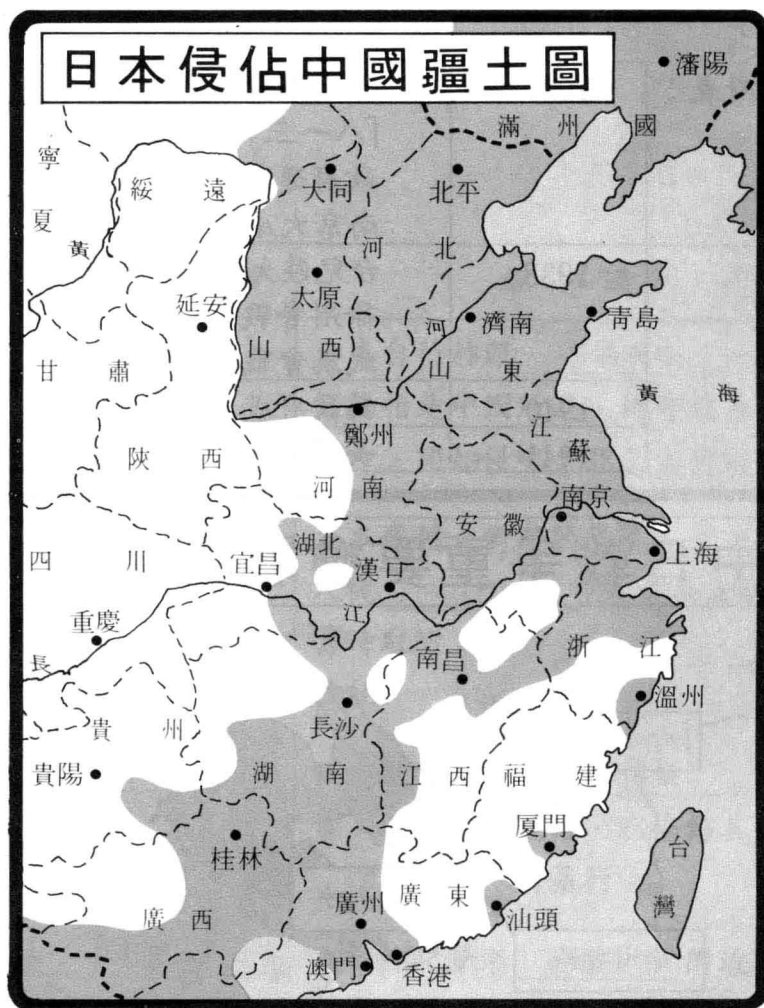
(二) 填圖

1. 參照附表，在下圖空格內填寫中日戰爭（1937—45）時之大事。

|     |      |                                      |
|-----|------|--------------------------------------|
| 附表： | 1937 | 七七事變<br>「八一三」上海戰爭<br>政府遷都重慶<br>南京大屠殺 |
|     | 1938 | 台兒莊大捷<br>徐州會戰<br>武漢會戰                |
|     | 1940 | 偽政府成立                                |
|     | 1941 | 長沙會戰                                 |



2. 在日軍佔領區上填上顏色。



### (三) 選擇

- 1927年，日本首相田中義一在呈交日皇的奏摺裏，力主侵畧中國的哪個地區？
  - 中國東北和蒙古一帶
  - 富庶的東海沿岸
  - 經濟、金融中心——上海
  - 山東半島

A

2. 「九一八事變」後，日本組織了一個傀儡政府，叫做「滿洲國」。下列各項，何者與史實不符？

- A 這是一個完全聽命於日本人的政府。
- B 滿洲國的皇帝是清朝廢帝溥儀。
- C 這個政府的高級官員全部由日本人出任，漢人只能充當副手。
- D 國聯宣佈不承認滿洲國。

C

3. 日本全面侵華後，僅一年三個月即攻佔中國南北數十個大城市。下列各項，何者符合史實？

- (1) 1937年，日本發動「七七事變」，攻佔北平。
- (2) 1937年，日軍進侵上海。三個月後，上海淪陷。
- (3) 1937年，日軍攻佔南京，屠殺了三十萬無辜百姓。
- (4) 1938年，日軍在山東台兒莊受挫，被迫全軍撤離中國。
- (5) 1938年，日軍先後攻陷廣州、武漢，國軍退守西部山區。

- A (1)(2)(3)                      B (2)(3)(5)
- C (1)(3)(4)(5)                D (1)(2)(3)(5)

D

4. 國軍主力轉入山區後，日本採取了什麼新策略？

- (1) 速戰速決，大打殲滅戰。
- (2) 以華制華，組織偽政府。
- (3) 以日制華，在中國組織日人政府。
- (4) 實行嚴厲的經濟和物資封鎖。

- A (1)(3)                      B (1)(4)
- C (2)(4)                      D (1)(2)

C

5. 在中日戰爭時，中日雙方在國力上各有什麼長處和短處？

- (1) 日本是工業發達的強國，戰機、戰艦、坦克車、運輸車、槍炮、彈藥遠比中國多，質素也遠比中國好。
- (2) 中國自北伐成功後，長期休養生息，國力增強，軍隊裝備不比日軍遜色。
- (3) 日本地小、人少、資源貧乏，經不起長期戰爭的消耗；中國地大、人多、資源豐富，能夠支持長期的戰爭。

- A (1)(2)                      B (2)(3)  
C (1)(3)                      D (1)(2)(3)

C

6. 抗戰後期的形勢怎樣？

- (1) 美國禁止石油輸日。
- (2) 日本偷襲珍珠港，發動太平洋戰爭。
- (3) 中國聯同英、美、蘇等國向軸心國宣戰。
- (4) 中國陷入孤軍作戰困境。
- (5) 中國獲得美國大量軍援。

- A (1)(2)(3)                      B (1)(3)(5)  
C (2)(3)(4)(5)                      D (1)(2)(3)(5)

D

7. 1945年戰爭的形勢怎樣？

- (1) 德軍向盟軍投降，歐戰結束。
- (2) 美軍百萬登陸日本，經過浴血戰，終於攻陷日本首都。
- (3) 美國在廣島和長崎投下兩枚原子彈。
- (4) 日本宣佈願與美國談判，戰爭才結束。

- A (1)(3)                      B (2)(4)  
C (1)(3)(4)                      D (1)(2)(3)(4)

A

#### (四) 問答

1. 九一八事變後，國聯採取什麼行動？日本有什麼反應？

國聯組織調查團來華，經過半年的調查，發出報告書，指出日本的軍事行動為不合法，滿洲國亦不是依照民意成立的，於是宣佈不承認滿洲國。日本老羞成怒，竟悍然退出國聯。

2. 七七事變如何發生？

從1937年6月起，日本華北駐軍在北平西南宛平蘆溝橋附近連續舉行軍事演習。7月7日晚上，日本藉口一名士兵失蹤，要求入城搜查，當受拒絕後，就在深夜開炮轟城。中國守軍奮起抵抗，於是中日戰爭的序幕揭開了。

3. 抗戰初期，日本和中國各採什麼策略？

戰爭初期，日本採取速戰速決的戰畧，並且聲言「三個月便可以滅亡中國」；中國的戰畧是以空間換取時間，一面抗戰，一面擴軍，並且採取長期消耗戰。

4. 太平洋戰爭何時爆發？亞歐戰爭如何聯成一氣？

1941年12月8日，日本突襲美國的珍珠港，發動了太平洋戰爭，並向英、美宣戰，中國也同時向「軸心國」宣戰，於是亞洲的中日戰爭和歐洲的大戰聯成一氣。

5. 日本為何宣佈無條件投降？

1945年夏天，德國向盟軍投降，歐洲戰爭結束。美國於是集中海空軍力量，攻擊日本本土，國軍亦發動大規模反攻。到8月，美國在日本的廣島、長崎投下兩枚原子彈，迫使日本宣佈無條件投降。

(五) 閱讀理解：細心閱讀下文，然後解答問題。

「九一八事變」發生在1931年，但日本侵畧中國的陰謀由來已久。在1929年，西方國家出現嚴重的經濟衰退，日本經濟也受到影響：對外貿易劇減，失業人數激增。日本為了解決經濟的困難，決心趁歐美各國無力顧及遠東，以及中國政府腐敗無能、防衛薄弱之機，悍然發動了侵畧中國東北的軍事行動。1931年9月上旬，日本軍隊開始在瀋陽進行軍事演習，各地日軍也秘密向瀋陽集結。

9月18日晚上十時許，日軍自己炸毀了瀋陽郊區柳條溝附近的一條鐵路，卻誣指是中國人破壞的，於是日軍開始炮轟東北軍駐地北大營以及兵工廠等地，步兵在坦克的掩護下也向各處進攻。由於國民政府嚴令東北軍絕對不准抵抗，日軍就輕易地佔領了瀋陽。他們在瀋陽繳了中國的槍炮、彈藥、飛機，還有衣服、糧秣不計其數。這就是震驚中外的「九一八事變」。

事變發生後，國民政府主張以公理對強權，以和平對野蠻，忍辱含憤，逆來順受，並公開聲明：「現在政府既以此案件訴之於國聯行政院，以待公理之解決，故希望全國軍隊對日軍避免衝突。」

由於國民政府的不抵抗政策，不到一個星期，遼寧和吉林兩省的廣大國土就陷於日寇的鐵蹄之下。11月，日軍佔領黑龍江省，然後又南下向錦州進攻。1932年1月，日軍佔領錦州，中國軍隊退到關內。這樣僅僅三個多月，美麗富饒的東北三省就全部淪陷，東北人民從此過着漫長的亡國奴生活。

1. 日本為什麼在1931年侵畧我國東北？

- (1) 解決國內的經濟困難。
- (2) 歐美各國正陷於經濟衰退，無力顧及遠東。
- (3) 中國政府腐敗無能，防衛薄弱。



2. 九一八事變發生後，國民政府採取了什麼對策？

國民政府向國聯申訴，希望通過國際公理來解決問題，並且命令國軍盡量避免與日軍發生衝突。

---

3. 簡述日軍侵畧我國東北的經過。

1931年9月18日，日軍攻佔瀋陽。不到一個星期，佔領了遼寧和吉林兩省。11月，佔領黑龍江省。1932年1月，南下攻佔錦州，於是東北三省全部淪陷。

---

(六) 歷史照片辨認：下面四幅照片紀錄了什麼歷史大事？請加以說明。



年份：1932年

事件：偽滿洲國成立

---

---



年份：1937年

事件：南京大屠殺

---

---