

中国经济地理练习图册

戴娟萍 主编



国内贸易部部编



中等专业学校教材

中国物资出版社

国内贸易部部编中等专业学校教材

中国经济地理练习图册

戴娟萍 编绘

中国物资出版社

图书在版编目 (CIP) 数据

中国经济地理练习图册/戴娟萍编绘, — 北京: 中国物资出版社, 2001.7 重印

ISBN 7 - 5047 - 0940 - 9

I. 中… II. 戴… III. 经济地理 — 素描 — 中国 — 专业学校 — 教学参考资料 IV. F 129.9 - 64

中国版本图书馆 CIP 数据核字 (97) 第 24146 号

中国物资出版社出版发行

网址: <http://www.clph.com.cn>

社址: 北京市西城区月坛北街 25 号

电话: (010) 68392746 邮编: 100834

全国新华书店经销

北京宏飞印刷厂印刷

开本: 787×1092mm 1/16 印张 3.5 字数: 84 千字 图 27 幅

1998 年 1 月第 1 版 2001 年 7 月第 5 次印刷

ISBN 7-5047-0940-9/K·0005

印数: 41401—44400 册

定价: 8.00 元

(图书出现印装质量问题, 本社负责调换)

编写与使用说明

《中国经济地理练习图册》是根据国内贸易部部编中等专业学校教材《中国经济地理》一书编写的，为该教材的配套练习图册。

本练习图册供学生做作业使用，以巩固所学的中国经济地理基础知识，提高分析问题和解决问题的能力，培养学生基本的填图技能。

练习图册按教材的章节顺次编排。除绪论、第八章和附录只有练习题外，其他各章均有填图题和练习题两部分。为方便使用，把填图的要求放置在每幅填充图内。全册共有填充图 23 幅，备用图 4 幅。练习题有填空题、选择题、判断题和简答题四种形式。填图和习题的内容仅供教师布置作业参考用。

学生要爱惜练习图册，作业要认真，字迹要清楚。填图字体要端正、大小适中、位置恰当，地理界线要准确清晰，图面要保持整洁。

本练习图册的编写形式是一种尝试。由于编者水平有限，错误或不妥之处在所难免，恳请广大师生批评指正，以便再版时修正。

编者

1997 年 5 月于杭州

目 录

绪论	(1)
第一章 经济布局的条件	(2)
第二章 农业地理	(5)
第三章 轻工业地理	(15)
第四章 重工业地理	(24)
第五章 交通运输地理	(32)
第六章 贸易地理	(37)
第七章 旅游地理	(40)
第八章 城市地理	(42)
第九章 台港澳经济地理	(43)
备用图	(44)

绪 论

一、填空题

1. 经济布局规律包括_____规律和_____规律。
2. 中国经济地理的研究对象是_____。

二、选择题

(把正确答案的序号填在题中的括号内)

1. 经济地理学具有()等特点。
A. 地域性 B. 综合性 C. 政治性 D. 国际关联性
2. 经济地理的研究对象是()。
A. 规律 B. 经济布局 C. 经济布局规律 D. 经济规律

三、判断题

(判断下列各题正确与否,并在题后的括号内打上“√”或“×”)

1. 地域性是经济地理学科特有的特点。()
2. 经济地理是一门典型的社会经济学科。()

四、简答题

1. 你是如何理解经济地理的研究对象的?

2. 你打算怎样学好中国经济地理这门课程?

第一章 经济布局的条件

一、填图题

在填充图上，填绘下列地图：

中国政区图（图1）

二、练习题

（一）填空题

1. 我国地形的基本特征是_____。

2. 旧中国经济发展与布局具有_____、_____、_____和_____等特点。

3. 我国矿产资源的基本特点是_____。

4. 我国气候的基本特征是_____。

5. 技术条件包含两个方面的含义。一是指_____，

二是指_____。

（二）选择题

（把正确答案的序号填在题中的括号内）

1. 影响经济布局的条件有（ ）。

A. 经济条件

B. 技术条件

C. 社会经济条件

D. 自然条件

2. 目前我国人口的年龄构成属（ ）。

A. 年轻型

B. 成年型

C. 老年型

D. 少年型

3. 我国草地占土地总面积的（ ）。

A. 40%

B. 35%

C. 20%

D. 30%

4. 关于我国土地资源，下列（ ）说法是正确的？

A. 土地资源数量丰富

B. 土地类型多样

C. 土地类型少

D. 以耕地比重为最大

5. 人口的（ ）对经济布局具有重要的影响。

- A. 数量 B. 性别 C. 素质 D. 民族
6. 我国国民经济的重心区是 ()。
- A. 东部经济地带 B. 沿边经济地带 C. 中部经济地带 D. 西部经济地带
7. 我国国民生产总值居世界第 ()。
- A. 8 B. 5 C. 10 D. 7
8. 土地资源具有 () 等特点。
- A. 数量有限性 B. 位置固定性 C. 数量无限性 D. 位置可移动性

(三) 判断题

(判断下列各题正确与否,并在题后的括号内打上“√”或“×”)

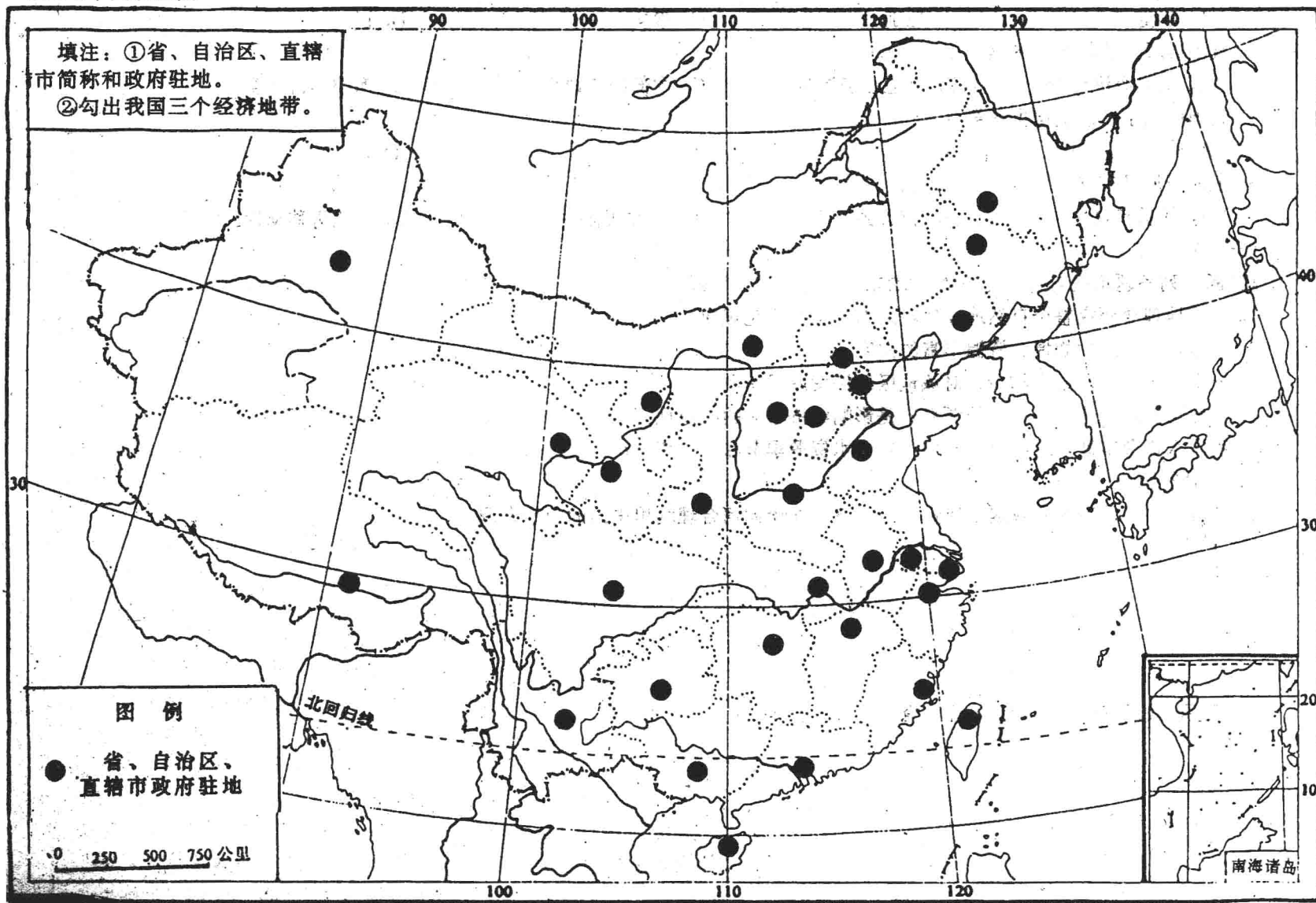
1. 经济地理要研究整个自然地理环境的形成发展变化规律。()
2. 我国是一个地大物博、资源丰富的国家。()
3. 一个地区的人口数量越少、对该地区经济发展越有利。()
4. 自然资源是创造物质财富的源泉,是影响经济布局的决定性因素。()
5. 我国水资源丰富,地区分布不均,陆上水资源季节和年季变化小。()

(四) 简答题

1. 结合土地资源特征和我国土地资源的特点,谈谈如何利用中国的土地资源。

2. 试评价我国气候基本特征的经济意义。

图1 中国政区图



第二章 农业地理

一、填图题

在填充图上，填绘下列各图：

1. 中国水稻分布图 (图 2)
2. 中国小麦分布图 (图 3)
3. 中国棉花分布图 (图 4)
4. 中国麻和蚕茧分布图 (图 5)
5. 中国油料作物分布图 (图 6)
6. 中国糖料作物分布图 (图 7)
7. 中国主要土特产分布图 (图 8)

二、练习题

(一) 填空题

1. 我国大豆生产分布很广，以_____、_____为最主要两大生产基地。
2. 黄麻集中分布于_____地区，以_____、_____、_____和_____等省区产量为多。
3. 桐油是我国特产。_____、_____、_____、_____是我国桐油四大产区，其中以_____产的洪油和_____产的桐油质量最好。
4. 油菜有冬油菜和_____之分。冬油菜集中分布于_____地区，其中_____省播种面积和产量均居全国之首。
5. 水稻集中分布在_____以南地区；玉米集中分布在从_____地带。

(二) 选择题

1. 我国最大的长绒棉生产基地是 ()。
A. 长江流域棉区 B. 黄河流域棉区 C. 华南棉区 D. 西北内陆棉区
2. 北方稻谷产区生产的稻谷品种主要是 ()。
A. 籼稻 B. 粳稻 C. 糯稻 D. 早稻

3. 我国对虾主要分布海域是 ()。

A. 东海	B. 南海	C. 黄海	D. 渤海
-------	-------	-------	-------
4. 下列土特产中, () 主产于青藏高原。

A. 绵羊皮	B. 柑桔	C. 驼毛	D. 虫草
--------	-------	-------	-------
5. 浙江、湖南、安徽、四川和 () 是我国著名的五大产茶省。

A. 江西	B. 福建	C. 湖北	D. 云南
-------	-------	-------	-------
6. 我国最大的淡水鱼区是 ()。

A. 珠江流域	B. 长江、淮河流域	C. 黑龙江、辽河流域	D. 北方塘库粗养区
---------	------------	-------------	------------
7. 冬春小麦的分界线是 ()。

A. 南岭	B. 秦岭-淮河	C. 长城	D. 山海关
-------	----------	-------	--------
8. 我国最著名的白木耳生产省是 ()。

A. 贵州	B. 陕西	C. 四川	D. 湖北
-------	-------	-------	-------
9. () 林区是我国最大的经济林区。

A. 东北林区	B. 西南林区	C. 南方林区	D. 防护林区
---------	---------	---------	---------
10. 河南、云南、贵州、甘肃和 () 是我国著名的五大烟叶生产省。

A. 山东	B. 湖南	C. 四川	D. 陕西
-------	-------	-------	-------

(三) 判断题

1. 河南省是我国最大的芝麻生产省。()
2. 四川是我国最大的榨菜生产省。()
3. 我国“四大经济鱼类”是指带鱼、大黄鱼、小黄鱼和墨鱼。()
4. 胡椒主产于山东, 花椒主产于海南。()
5. 我国小麦分布特点是南方多而集中, 北方少而分散。()
6. 北京某商业企业准备去山东购花生、去黑龙江购八角、去广东购龙眼、去辽宁购苹果。()

(四) 简答题

1. 试比较长江三角洲和珠江三角洲农业物产的异同。

2. 我国水稻生产分布有何特征？为什么？

3. 试比较农区畜牧业和牧区畜牧业的特征。

4. 上海市派出业务员到广东省组织货源，问他可能组织到哪些优质名特农副产品？

图2 中国水稻分布图

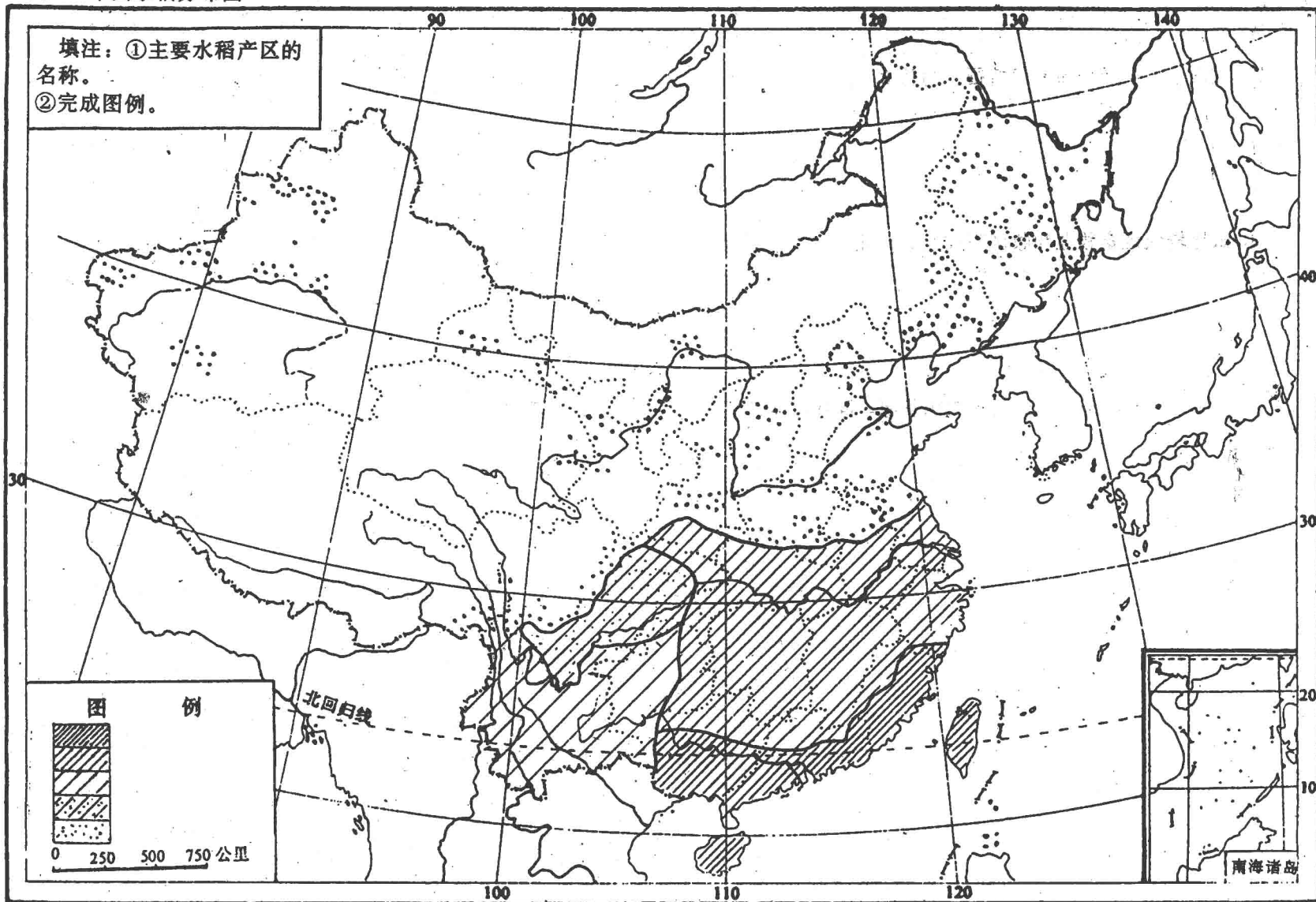


图3 中国小麦分布图

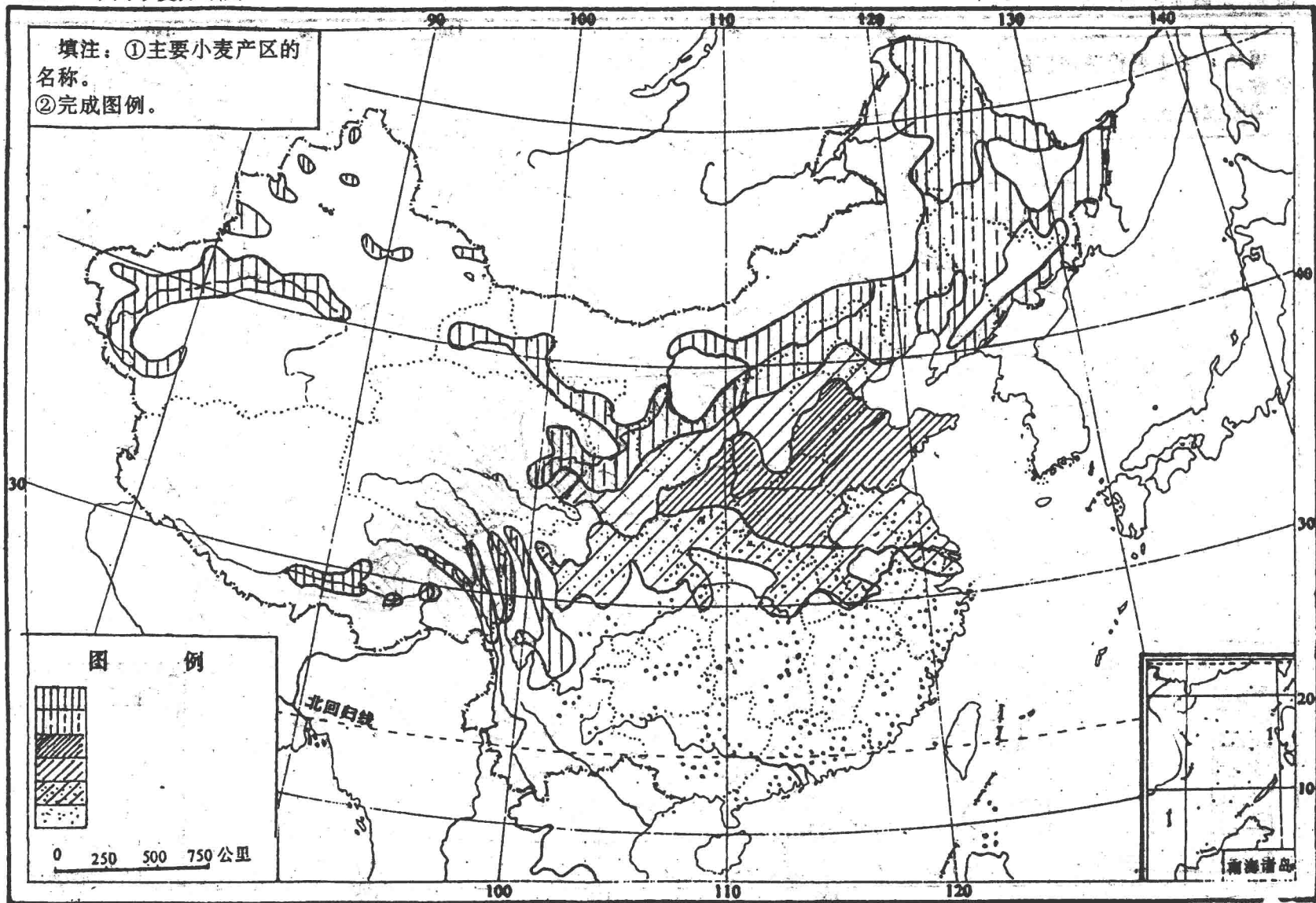


图4 中国棉花分布图

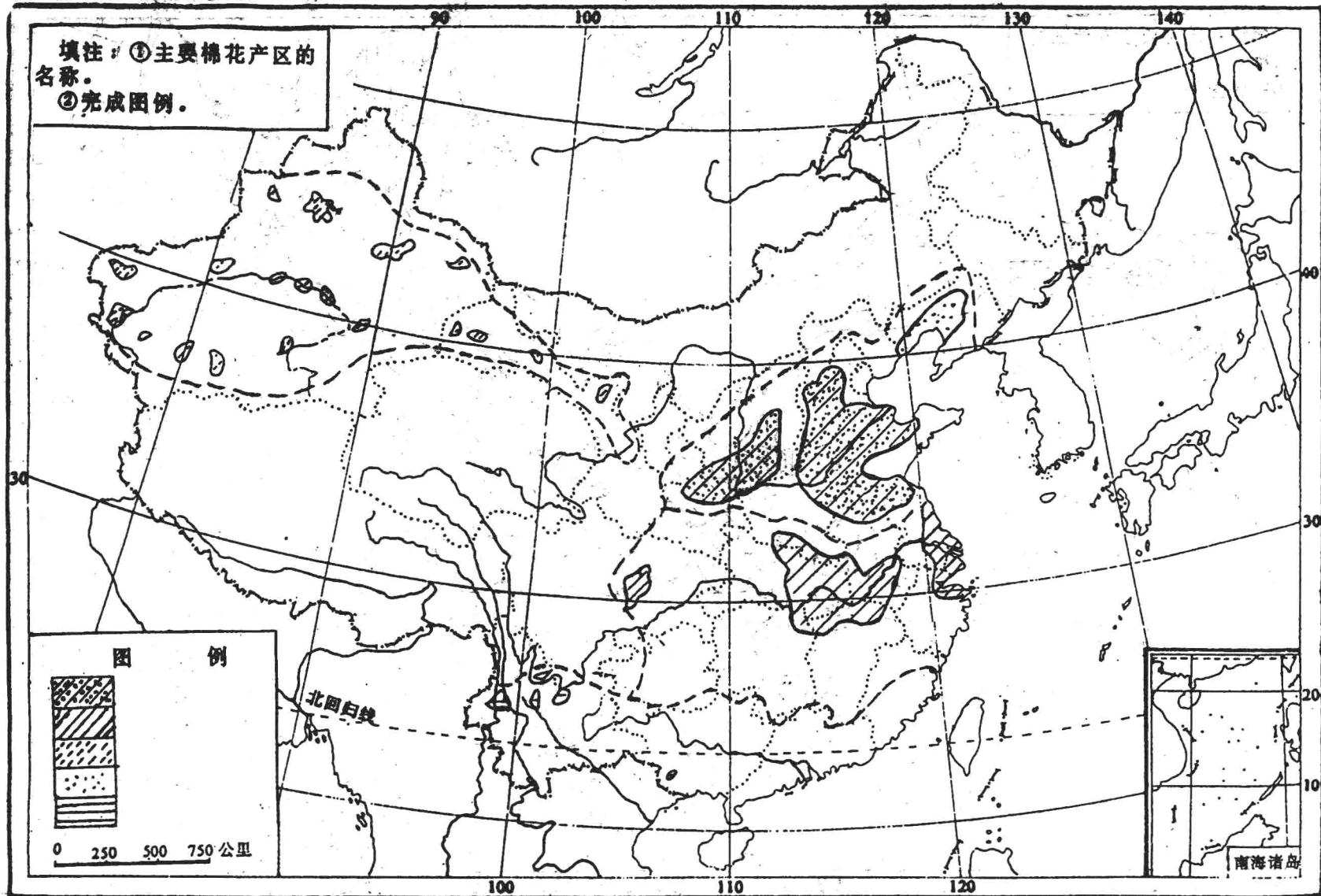


图5 中国麻和蚕茧分布图

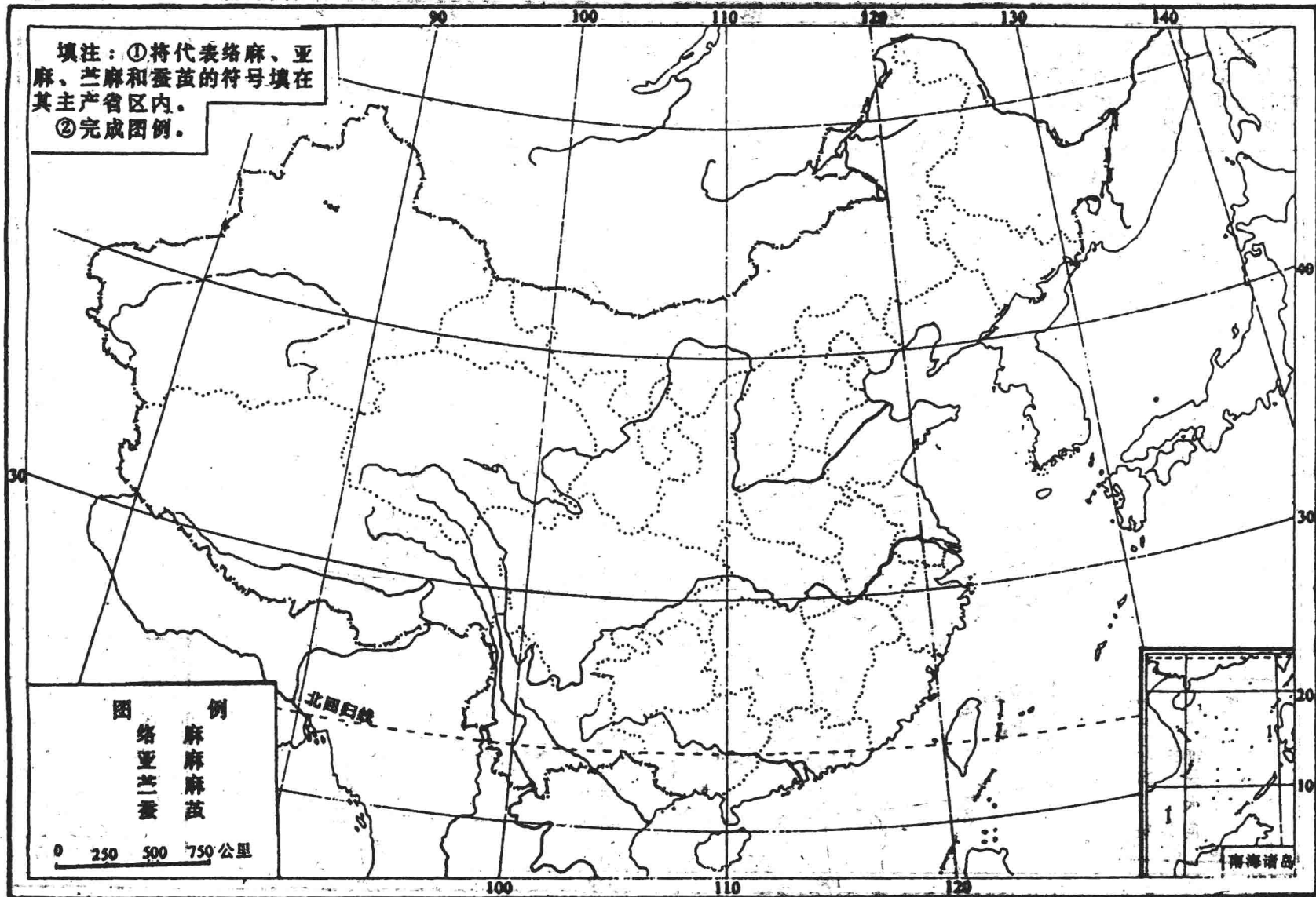


图6 中国油料作物分布图

