

中学 中国历史

填图册

51



年 级 _____

姓 名 _____

ZHONGGUOLISHITIAN TUDE

MCXQZDZJ

中学中国历史填图册

卢秉群 于伯铭 蒋 衍

一九八一·郑州

中学中国历史填图册

卢秉群 于伯铭 蒋 栎

河南人民出版社出版

郑州晚报印刷厂印刷

河南省新华书店发行

787×1092毫米 32开本 2.875印张

1981年8月第1版 1982年8月第2次印刷

印数：131,001—229,000册

统一书号 7105·229 定价 0.25 元

目 录

- 一 古代史 (1)
- 二 近代史 (35)
- 三 现代史 (63)

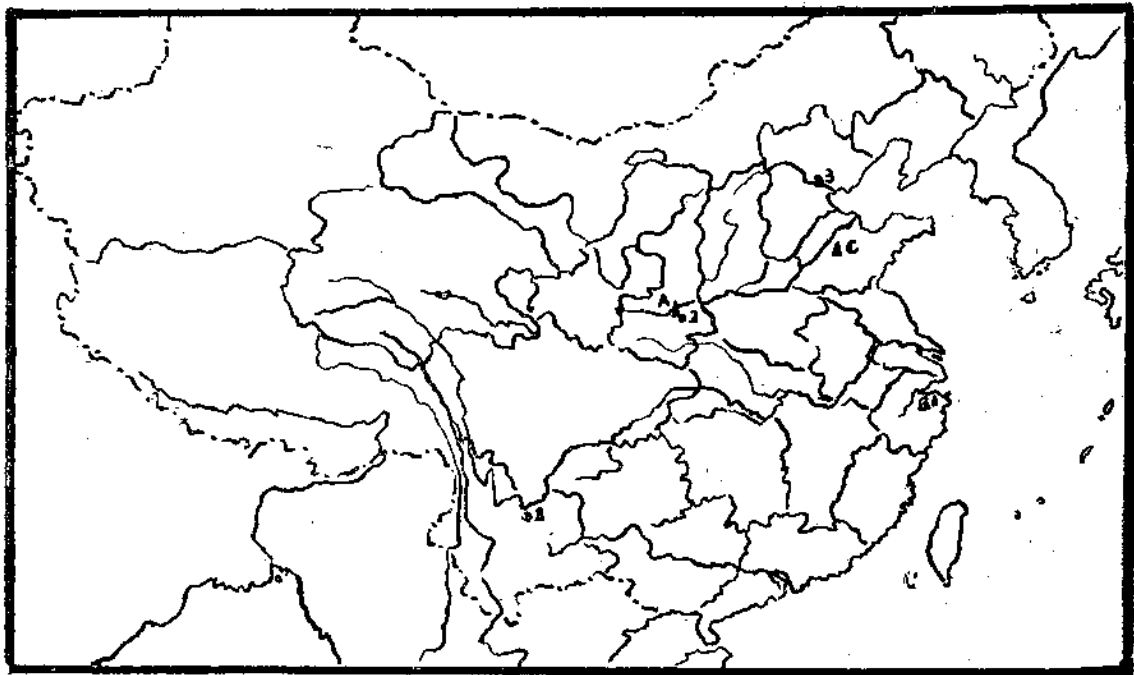


图1: 我国境内的原始人群和著名氏族公社遗址。

(2) 氏族公社遗址: A____, B____,

填出:

C_____。

(1) 原始人群发现的地方: 1.____人; 2.____人; 3.____人。

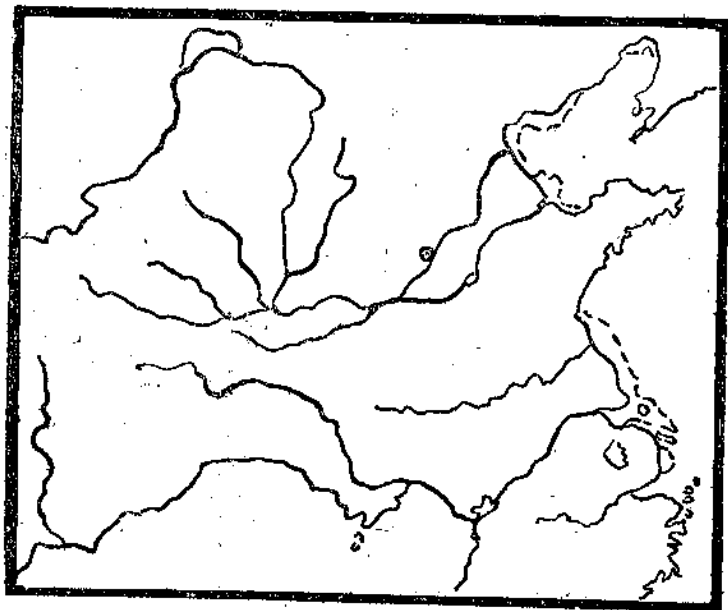
图2: 商朝疆域

填出:

前十四世纪后的都城____。(今_____)

疆域: 东到____, 西达_____。

东北到____, 南至_____。



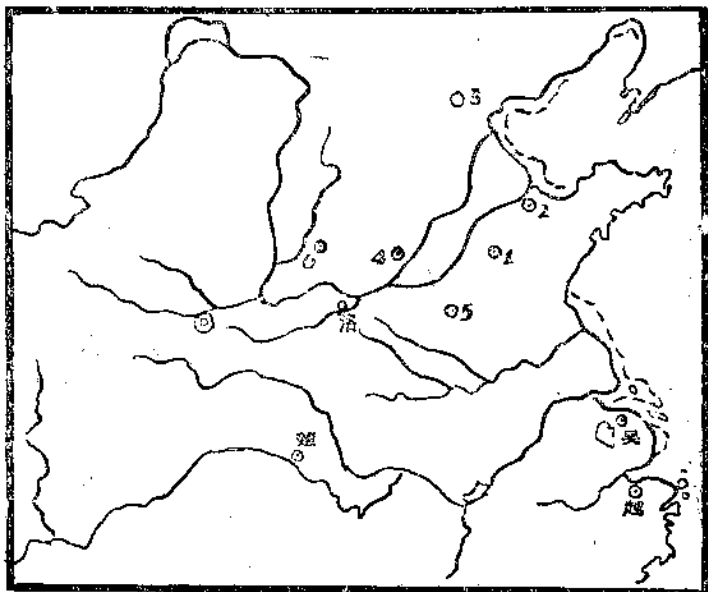


图3: 西周主要诸侯国

填出:

西周都城_____(今_____)

主要诸侯国名: ①____, ②____, ③____,

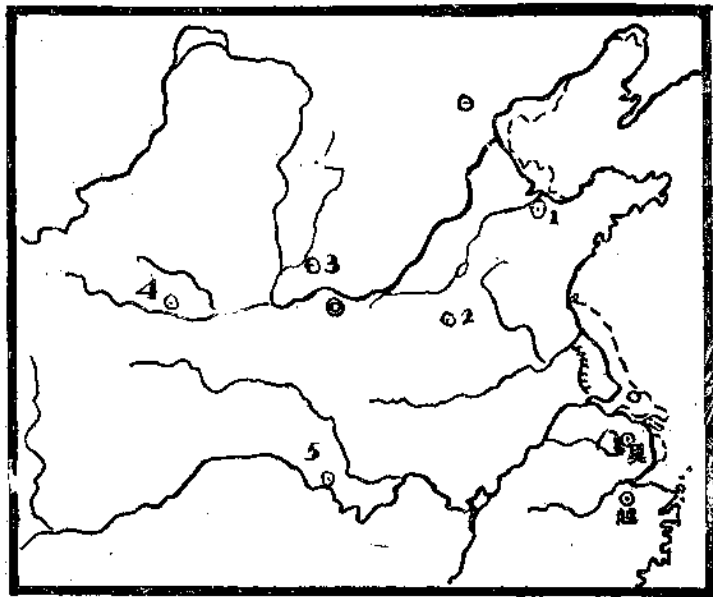
④____, ⑤____, ⑥____.

图4: 春秋列国形势

填出:

五霸①____, ②____, ③____,

④____, ⑤____.



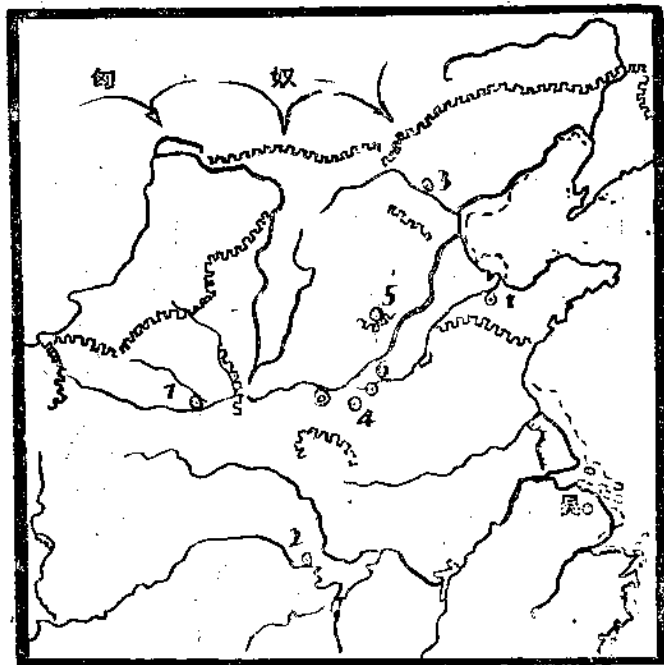


图5：战国形势

填出：

战国七雄①—，②—，③—，④—，

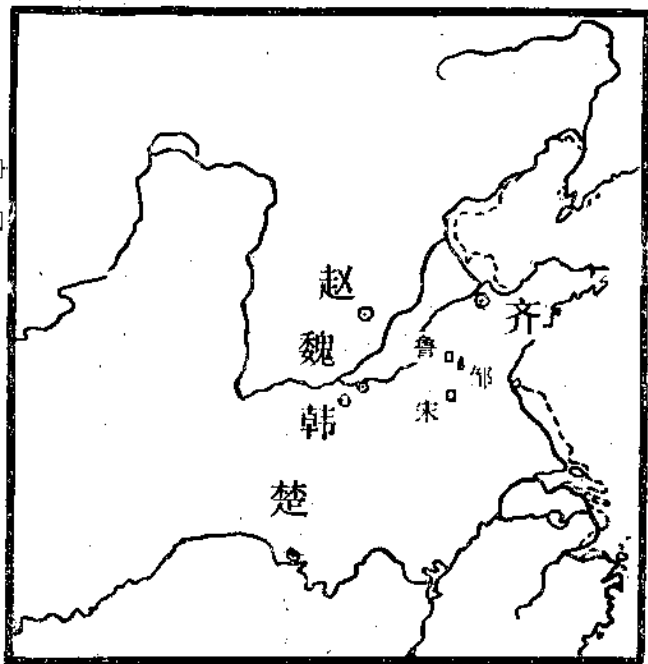
⑤—，⑥—，⑦—。

图6: 战国文化

填出:

《甘石星经》的作者是——人甘德，——人石申。

著名医生——是——国人。著名巧匠——是——国人。
孟子是——国人，荀子是——国人，庄子是——国人。
韩非子是——国人，屈原是——国人。



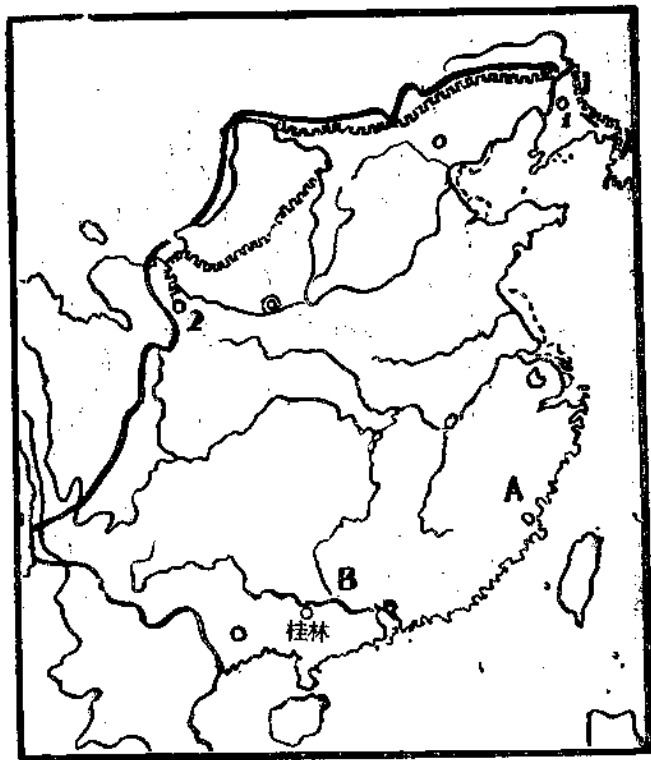


图7: 秦的统一

填出:

秦的都城——

长城起自①——到②——

南方越族散布在A——和

B——

图8：秦末农民战争

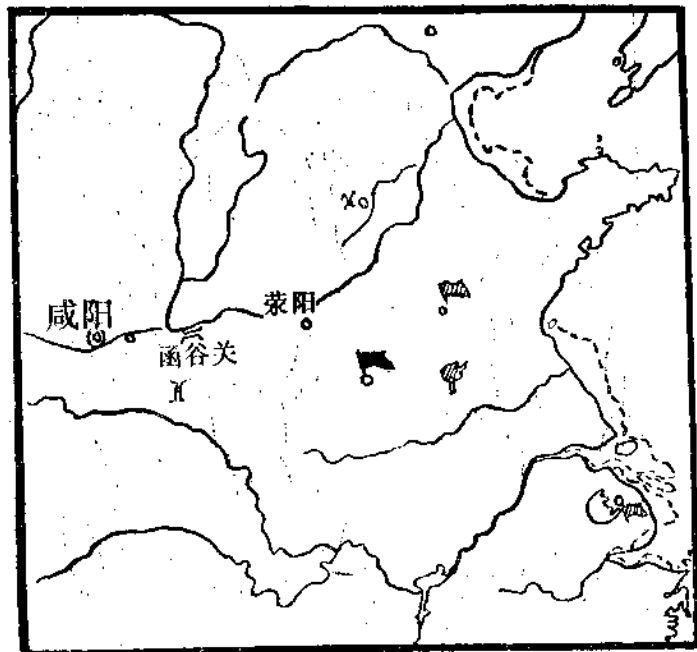
填出：

农民起义爆发地点_____。农民起义建立政权地点_____。

画出吴广进攻秦军事重镇荃阳的路线；
周文打到咸阳附近戏的路线。

项羽在_____起兵，和章邯决战于_____。

刘邦在_____起兵。



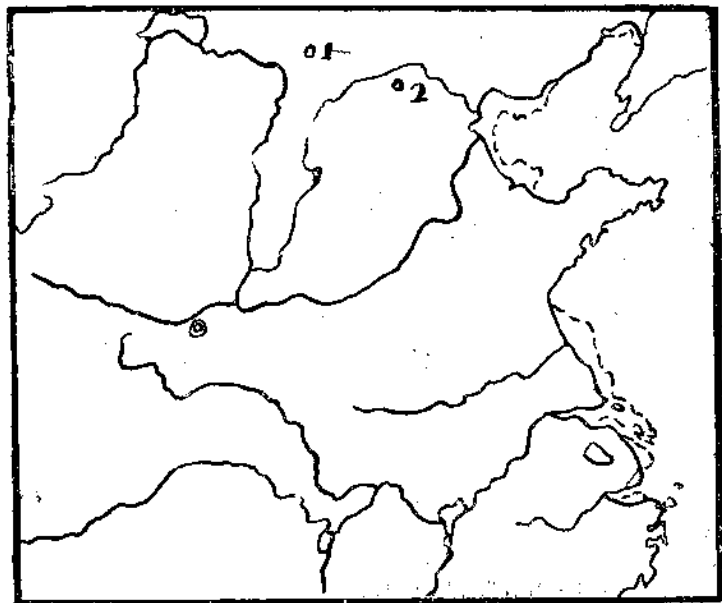


图9: 西汉同匈奴的战争

填出:

西汉都城_____。

公元前119年卫青从②_____出发, 霍去病
从③_____出发抗击匈奴。



图10: 张骞出使西域

填出: 在图上填出: 西城、大宛、安县、匈奴的位置。

西汉时我国①____, 和②____以西, ③____以东新疆天山南北等地区叫西域。

画出张骞第一次出使西域路线示意方向及其年代。

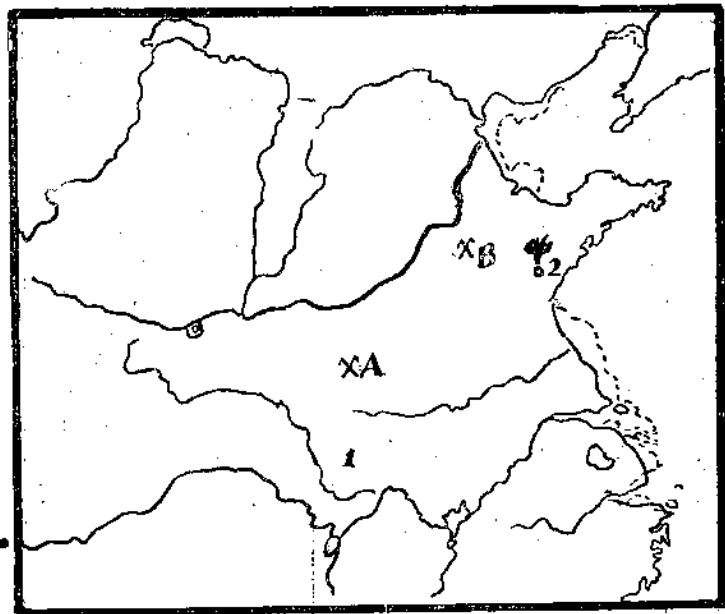


图11: 绿林赤眉起义

填出:

绿林起义地点1____和主要作战地点

A_____。

赤眉起义地点2____和主要作战地点

B_____。

图12: 黄巾起义形势

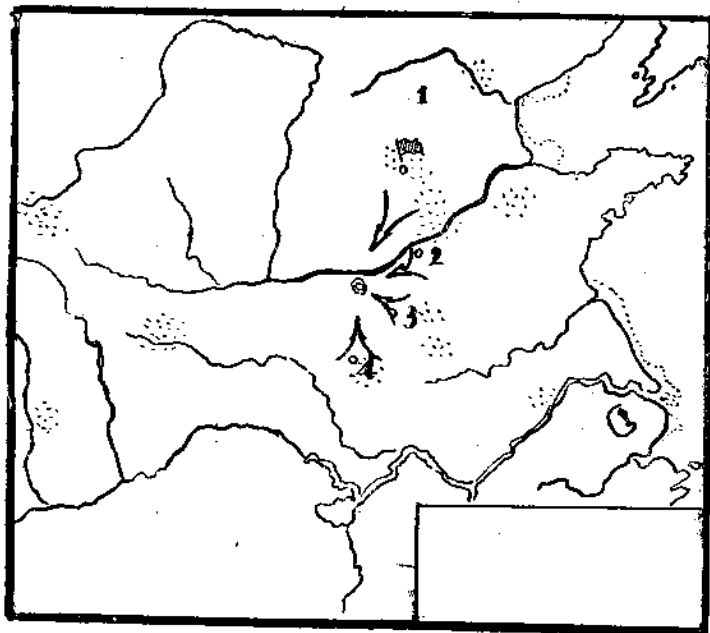
填出:

东汉都城_____。

张角是_____人。

黄巾起义主要集中地: ①_____, ②_____

③_____, ④_____。



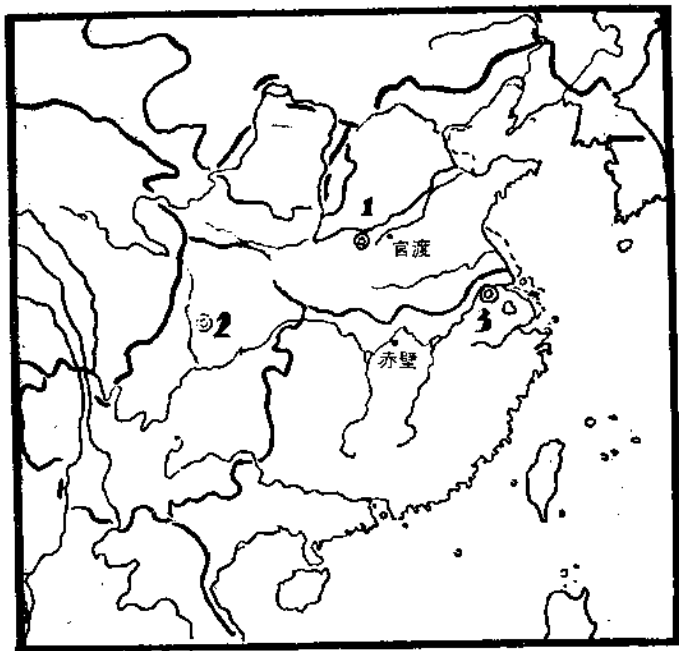


图13: 三国鼎立形势

填出。

①__国,都城____,势力局限在____

②__国,都城____,占据____、____大部进占____。

③__国,都城____,在____。